



MINHAS ATIVIDADES



NOME:

PROFESSORA: GABRIELA

4º ANO A

QUERIDA FAMÍLIA , SEGUIMOS COM NOSSOS ESTUDOS EM CASA .

- SEMPRE ACOMPANHE O GRUPO DA SALA NO WHATSAPP;
- ESTAREI A DISPOSIÇÃO PARA ESCLARECER QUALQUER DÚVIDA QUE VENHA A SURGIR E AJUDAR NO QUE FOR PRECISO;
- SEGUIR O CRONOGRAMA ABAIXO COM OS DIAS INDICADOS;
- CUIDAR PARA QUE TODAS AS ATIVIDADES SEJAM REALIZADAS E RETORNEM PARA CORREÇÃO NO DIA ESTIPULADO.

CRONOGRAMA

ATIVIDADES DE 21/06 À 02/07

DIA	SEMANA 21 À 25/06	DIA	SEMANA 28/06 À 02/07
21/06	<ul style="list-style-type: none">• FESTA JUNINA;• CALCULANDO.	28/06	<ul style="list-style-type: none">• FESTA JUNINA;• ARGOLAS POSICIONAIS.
22/06	<ul style="list-style-type: none">• CAÇA – JUNINO;• OPERAÇÕES.	29/06	<ul style="list-style-type: none">• CRUZADINHA JUNINA;• MAPA DO ARRAIÁ.
23/06	<ul style="list-style-type: none">• ADIVINHA JUNINA;• PROBLEMINHAS JUNINOS.	30/06	<ul style="list-style-type: none">• PALAVRA SECRETA;• CAIXAS SURPRESA.
24/06	<ul style="list-style-type: none">• FESTA JUNINA;• PINTURA DIRIGIDA.	01/07	<ul style="list-style-type: none">• PESCARIA;• CORREIO ELEGANTE.
25/06	<ul style="list-style-type: none">• ORTOGRAFIA;• DIFERENTES FESTAS JUNINAS.	02/07	<ul style="list-style-type: none">• JOGO DA ARGOLA;• CORRIDA DO SACO.



ATÉ LOGO!

OBRIGADA PELA PARCERIA! PROFESSORA GABRIELA

NOME: _____ DATA ____/____/____

FESTA JUNINA

A festa de São João é comemorada no dia 24 de junho e é típico da Região Nordeste. A canjica e a pamonha são exemplos de comidas tradicionais, devido à época propícia para a colheita de milho, não podendo deixar também o amendoim, o pé de moleque, a mandioca, a batata doce assada, o quentão, o pinhão, a pipoca, etc. Em 13 de junho comemoramos o dia de Santo Antônio e 29 dia de São Pedro.

O lugar onde ocorrem os festejos juninos é chamado de arraial, um espaço livre cercado ou não, onde há barracas ou um galpão adaptado para a festa. O simbolismo da festa é de fertilidade do solo, sendo a fogueira o elemento principal. As bandeirinhas enfeitam o local, a sanfona, a música sertaneja, a quadrilha e o forró alegam as pessoas que dançam e se balançam a noite toda.

Após a leitura, responda as perguntas:

1- Comemora-se no dia de 24 de junho a festa de:

() São Pedro () São João () Santo Antônio

2- Comemoramos o seu dia em 13 de junho:

() São Pedro () São João () Santo Antônio

3- A festa de São João é típica da região: _____

4- As comidas típicas da festa junina são: _____

5- Complete com as palavras faltosas:

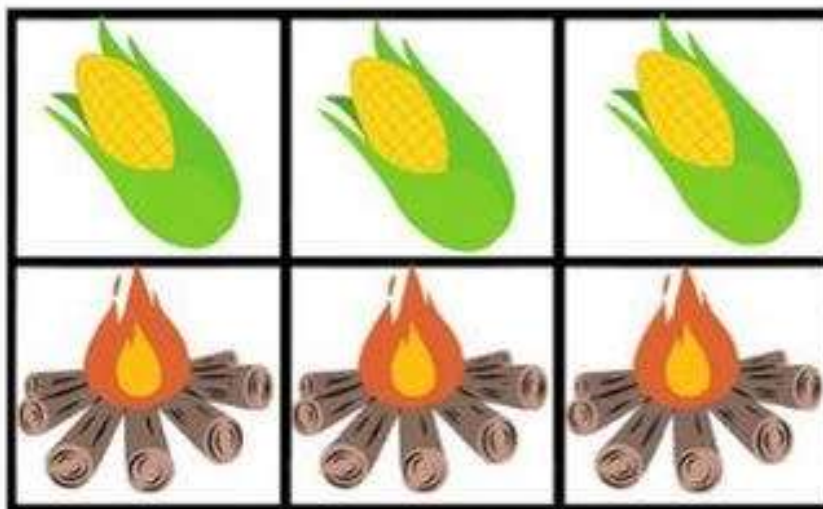

“O simbolismo da festa é de fertilidade do solo, sendo a _____

o elemento principal. As _____ enfeitam o local, a sanfona,

a música sertaneja, a _____ e o forró alegam as pessoas que

dançam e se balançam a noite toda.”

NOME: _____ DATA ____/____/____



NOME: _____ DATA ____/____/____

CAÇA-PALAVRAS

ENCONTRE NO CAÇA-PALAVRAS O NOME DAS FIGURAS INDICADAS NA CENA. PINTE UMA PALAVRA DE CADA COR E ESCREVA O NOME DAS FIGURAS NO RETÂNGULO CORRESPONDENTE:

S	B	A	N	D	E	I	R	I	N	H	A	V
A	L	J	T	F	U	J	T	F	U	J	O	L
N	F	F	G	O	E	I	R	A	N	H	D	T
F	N	O	L	G	U	T	E	T	P	G	N	H
J	N	L	A	U	P	I	R	A	I	V	E	G
N	H	A	K	E	R	T	E	C	P	B	Y	O
E	B	I	R	I	M	I	L	H	O	C	A	R
P	B	O	L	R	I	U	D	G	C	Ã	O	G
R	R	C	H	A	P	É	U	I	A	M	Y	R
O	V	E	U	K	O	Ç	K	E	T	I	Y	T



BANDEIRINHA – PIPOCA – MILHO – CHAPÉU – FOGUEIRA

NOME: _____ DATA ____/____/____

OPERAÇÕES

1. RESOLVA AS OPERAÇÕES ABAIXO OBSERVANDO ATENTAMENTE OS SINAIS:

90 -85	68 -14	72 -09	41 -17	100 -52	391 -25
---------------	---------------	---------------	---------------	----------------	----------------

93 $+62$	42 $+35$	93 $+28$	61 $+84$	141 $+39$	281 $+56$
---------------	---------------	---------------	---------------	----------------	----------------


9 $\times 5$	8 $\times 4$	1 $\times 2$	4 $\times 3$	6 $\times 2$	3 $\times 2$
-------------------	-------------------	-------------------	-------------------	-------------------	-------------------



2. CALCULE MENTALMENTE. VEJA O EXEMPLO:



Número	+10	-10	+100	-1
61	71	51	161	60
199				
252				
73				
4				



NOME: _____ DATA ____/____/____

ADIVINHA JUNINA

ADIVINHAS TAMBÉM CONHECIDAS COMO “O QUE É O QUE É”, SÃO PRGUNTAS EM FORMATO DE CHARADAS QUE FAZEM AS PESSOAS PENSAM E SE DIVERTEM.

DESCUBRA AS ADIVINHAS ABAIXO, ESCREVA A RESPOSTA, DEPOIS FAÇA UM LINDO DESENHO E PINTE COM CAPRICHOS!

NAS NOITES DE SÃO JOÃO, FICO
ACESA NO QUINTAL. SOU DE
LENHA, SOU DE FOGO, EU AQUEÇO
O POVO TODO! SOU A...

--	--	--	--	--	--	--	--

COM MUITAS CORES SORTIDAS,
ALEGRO A FESTA INTEIRINHA.
FICO BALANÇANDO AO VENTO
E ME CHAMAM DE...

--	--	--	--	--	--	--	--	--	--

23/06 – MATEMÁTICA

PROBLEMINHAS JUNINOS

1. DONA CARMEM FAZ COPINHOS COM CURAU PARA VENDER NA FESTA JUNINA. ELA PRODUZIU 385 COPINHOS DE DOCE E SOBRARAM APENAS 18. QUANTOS COPINHOS DE CURAU DONA CARMEM CONSEGUIU VENDER?

CÁLCULO

RESPOSTA: _____

2. ROSELINA DECOROU SEU VESTIDO COM FLORZINHAS DE TECIDO. SEU VESTIDO TINHA 4 FITAS, EM CADA FITA 7 FLORZINHAS. QUANTAS FLORZINHAS ELA USOU NO TOTAL?

CÁLCULO

RESPOSTA: _____

24/06 – LÍNGUA PORTUGUESA

FESTA JUNINA

Luiza precisa de um par para dançar a quadrilha. Leia o bilhete que ela mandou para Rafael:

Rafael,

Venha dançar comigo na quadrilha. A festa será sábado, na minha casa.

Ficarei muito feliz se você aceitar dançar comigo.

Te espero!

Luiza

12/06/21

Como medida de prevenção contra a COVID-19, Rafael não irá à casa de Luiza. Ajude-o a escrever um bilhete explicando o motivo no espaço abaixo:

NOME: _____ DATA ____/____/____

PINTURA DIRIGIDA

PINTE DE ACORDO COM A LEGENDA

2 X 1 = MARROM

2 X 2 = AMARELO

2 X 3 = AZUL

2 X 4 = PRETO


2 X 5 = SUA COR DE PREFERÊNCIA



NOME: _____ DATA ____/____/____

ORTOGRAFIA

1. CIRCULE AS SÍLABAS COM **LH**, **NH**, OU **CH** NAS PALAVRAS ABAIXO:



BANDEIRINHA

CHAPÉU

MILHO

ESPANTALHO

FARINHA

CAIPIRINHA

PALHA

BOLINHO

CHAVE

CAMINHO

CHUVA

BOLHA

2. ORGANIZE AS PALAVRAS ACIMA EM ORDEM ALFABÉTICA:

1- _____

7- _____

2- _____

8- _____

3- _____

9- _____

4- _____

10- _____

5- _____

11- _____

6- _____

12- _____

NOME: _____ DATA ____/____/____

DIFERENTES FESTAS JUNINAS

AS FESTAS JUNINAS COSTUMAM SER DIFERENTES, DEPENDENDO DA REGIÃO DO BRASIL. AS OBRAS DE ARTE A SEGUIR MOSTRAM DOIS TIPOS DE FESTA JUNINA, OBSERVE DEPOIS RESPONDA:

1



2



(Obras do artista Edison da Silva Araújo)

1. QUAL OBRA DE ARTE VOCÊ GOSTOU MAIS? () 1 () 2



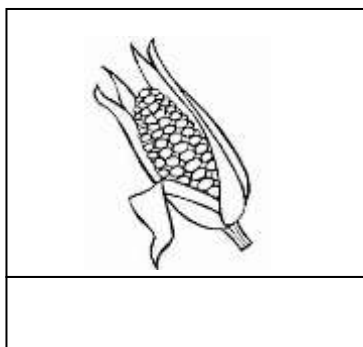
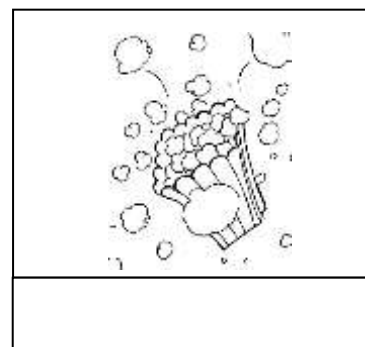


2. AGORA VOCÊ É O ARTISTA. FAÇA UM DESENHO DA FESTA JUNINA QUE VOCÊ CONHECE. CAPRICHE E NÃO ESQUEÇA DE PINTAR BEM BONITO.

NOME: _____ DATA ____/____/____

FESTA JUNINA

1. OBSERVE AS FIGURAS ATENTAMENTE E ENCONTRE SEUS NOMES NOS QUADRINHOS. ESCREVA OS NOMES NAS FIGURAS CORRETAS. NÃO SE ESQUEÇA DE PINTAR AS IMAGENS COM CAPRICO!

QUADRILHA – BALÃO – MILHO – PIPOCA – CAPIRA – FOGUEIRA



2. ESCOLHA 2 IMAGENS ACIMA E CRIE FRASES:

a) _____

b) _____

NOME: _____ DATA ____/____/____

ARGOLAS POSICIONAIS

DEPENDENDO DO LUGAR EM QUE O NÚMERO ESTÁ, ELE TEM UM VALOR POSICIONAL DIFERENTE. VEJA QUANTO VALE O NÚMERO 5 EM CADA SITUAÇÃO A SEGUIR:

11<u>5</u> 5	2<u>5</u>6 50	<u>5</u>32 500
------------------------	-------------------------	--------------------------

1. OBSERVE OS VALORES DENTRO DAS ARGOLAS E ANOTE QUAL É O VALOR DE CADA ALGARISMO EM DESTAQUE, CONSIDERANDO SEU VALOR POSICIONAL. SIGA OS EXEMPLOS:

135

218

276

195

234

316

521

413

469

347

263

412

390

294

503

654

NOME: _____ DATA ____/____/____

CRUZADINHA JUNINA

Responda as perguntas e complete a cruzadinha:

1. O _____ usa chapéu.
2. A _____ esquenta a festa junina.
3. A _____ é uma dança típica da festa junina.
4. O bolo é feito de _____.
5. A _____ estoura na panela.
6. Soltaram o _____ no céu.

1

2

3

4

5


6

- BALÃO
- FOGUEIRA
- QUADRILHA
- MILHO
- CAPIRA
- PIPOCA





NOME: _____ DATA ____/____/____

JOGO CAMINHO DA ROÇA

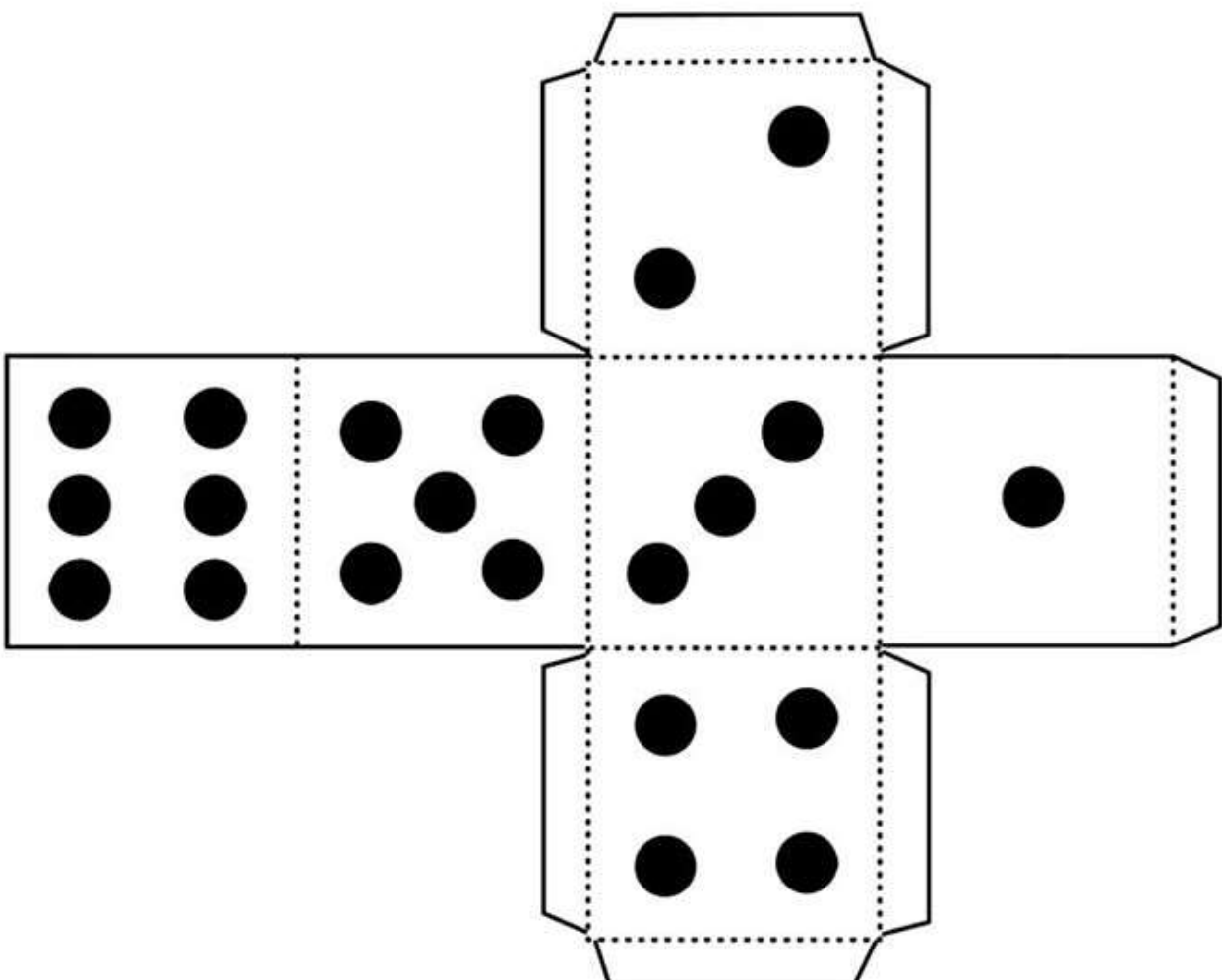
RECORTE AS PEÇAS DA FOLHA SEGUINTE, MONTE O DADO E BOA DIVERSÃO!



CAMINHO DA ROÇA
www.profrfaelak.blogspot.com



CAMINHO
DA ROÇA



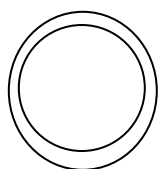
NOME: _____ DATA ____/____/____

PALAVRA SECRETA

EM CADA QUADRO, HÁ DOIS DESENHOS JUNINOS, MAS APENAS O NOME DE UM DELES. OS NOMES ESTÃO BAGUNÇADOS. DESEMBARALHE, ESCREVA O NOME CORRETAMENTE DEPOIS PINTÉ SOMENTE A FIGURA DO NOME DESCOBERTO.



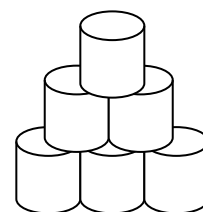
DOAIMMEN



LAARGO



TASLA



LÃOBA



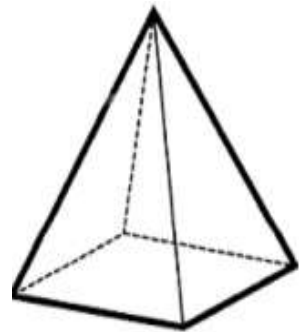
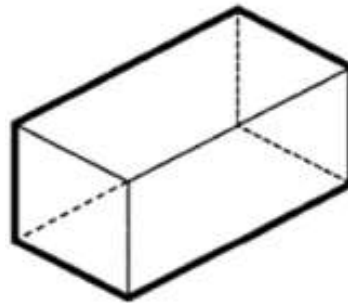
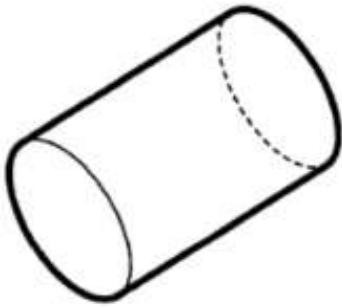
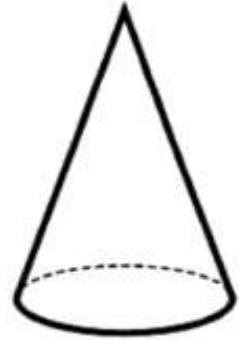
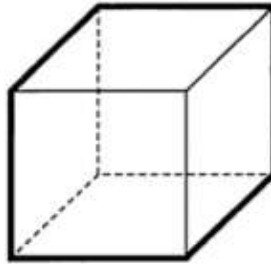
PIICARA



NOME: _____ DATA ____/____/____

CAIXAS SURPRESA

1 ESTE ANO, AS CAIXAS SURPRESA DO "ARRAIÁ" TERÃO FORMAS BEM INTERESSANTES. OBSERVE OS FORMATOS DAS CAIXAS E ANOTE O NOME DO SÓLIDO GEOMÉTRICO CORRESPONDENTE.



PIRÂMIDE - ESFERA - PARALELEPÍPEDO

CILINDRO - CONE - CUBO

01/07 – ARTE / LÍNGUA PORTUGUESA

MESMO EM CASA, PODEMOS NOS DIVERTIR E REPRODUZIR BRINCADEIRAS JUNINAS. CONVIDE SUA FAMÍLIA E BOA DIVERSÃO! NÃO ESQUEÇA DE ENVIAR FOTO E/OU VÍDEO PARA PROFESSORA!

CORREIO ELEGANTE (RECADINHOS DO CORAÇÃO)



Modo de Fazer:

Escreva recadinhos ou mensagens de amor em um papel e decore como quiser. Você pode recortar o papel no formato de um coração, uma flor, ou como a sua imaginação mandar.

Objetivo:

Desenvolver a criatividade, a afetividade e vínculo familiar.

Materiais:

Papéis coloridos para fazer os recadinhos
Canetinha e lápis colorido para decorar



Desenvolvimento:

Depois é só espalhar os recadinhos pela casa, vale colar na parede, no espelho, colocar embaixo do travesseiro, dentro da gaveta, para surpreender as pessoas. Convide todos que estão na sua casa para escrever recadinhos também, assim a atividade ficará muito mais divertida, criativa e todos receberão mensagens de amor!

02/07 – ARTE

Materiais:

CORRIDA DO SACO

1 saco de lixo para cada participante

Desenvolvimento:

Primeiramente é necessário definir o ponto de partida e o ponto de chegada. A seguir os participantes deverão ficar em pé dentro do saco. Ao sinal de comando todos deverão sair pulando. Vence a brincadeira quem conseguir chegar primeiro.



FONTES:

- <https://atividadespedagogicasuzano.com.br/atividades-matematicao-5/>
- <https://www.ideiaesaberes.com.br/2020/06/diversas-atividades-festa-junina.html>
- Adaptada do texto disponível em: <https://i2.wp.com/miriamveiga.com.br/wp-content/uploads/2019/06/13.06-festa-junina-texto-musica-e-interpreta%C3%A7%C3%A3o.jpg?ssl=1>
- <https://miriamveiga.com.br/avaliacao-junina-lista-cantiga-leitura-receita-bilhete/>
- <https://acaoediversaooficial.blogspot.com/>
- <https://janainasolidorio.com.br/catalogsearch/result/?q=FESTA+JUNINA>
- @uma.professora
- @profroginha
- www.atividadespedagogicasuzano.com.br
- www.profnoely.blogspot.com