

EM TEREZA FALCI

UNIDADE 28

ROD. JÚLIO DAL FABRO, KM 08 - Bº CUPIM

Email: escolaterezafalci@gmail.com



PREFEITURA DA ESTÂNCIA TURÍSTICA DE
IBIUNA
Por uma Ibiuna próspera. Investindo no presente, gerando o futuro.
SECRETARIA DE EDUCAÇÃO



Rua Raimundo Santiago, nº 27 - Centro
Telefone: (15) 3248-1292 / e-mail: apoiopedagogicosmeibiuna@hotmail.com

7ª APOSTILA 2º ANO

ATIVIDADES REFERENTES AOS DIAS 21,22,23,24,25,28,29,30 DE JUNHO, 01 E 02 DE JULHO.

NOME _____

PROFESSORA MARA

W



Escola e Família “UNIÃO QUE FAZ A DIFERENÇA”

Agradeço a participação nas atividades propostas! A nossa parceria é fundamental neste momento em que estamos sendo desafiados a nos reinventar a cada dia! Continuo contando com seu apoio!

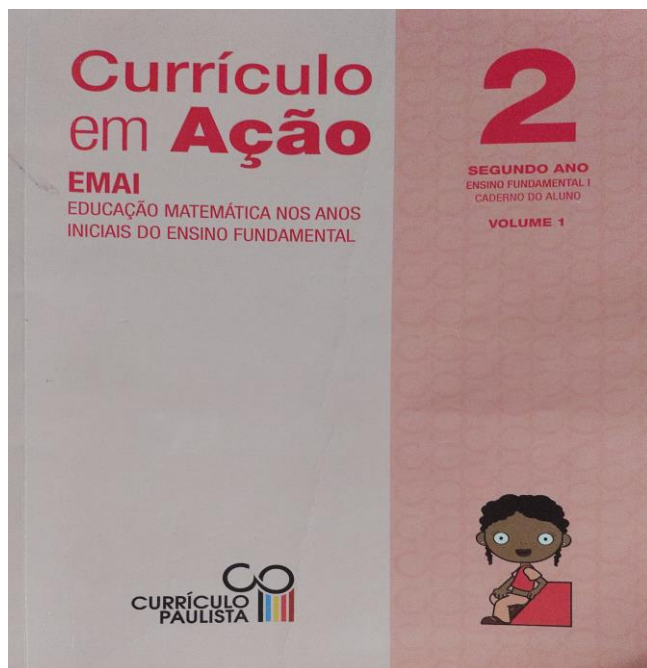
- Reforço a importância na participação e a devolução das atividades. A frequência do estudante é validada através do envio das atividades!
- Orientando que é de extrema importância, estejam se organizando, realizar duas atividades por dia .
- Envie as atividades ao professor de acordo com as orientações. Caso seja solicitado o envio de fotos, precisam estar legíveis, podendo ser enviado assim que possível, mas não deixe de enviar.
- Não acumule atividades, caso não consiga realizar no dia, tente realizá-la o quanto antes.
- Oriente o estudante na realização das atividades – quando estiver com dúvidas, entre em contato com o professor para solicitar explicação / ajuda.
- Mantenha o professor informado e comunique-o quando acontecer algo, pois para nós é muito importante saber o que passa com o aluno, já que ainda não podemos estar na escola.
- Se for necessário, e estiver dentro de suas possibilidades, pode ajudar a criança. Mas **NUNCA** faça por ela!
- Sempre conte com o apoio do Professor!
- Não deixe de retirarem a apostila, pois os alunos que não estiverem participando – sem justificativa – e não retirarem ou derem devolutivas de atividades estarão sendo encaminhados ao Conselho Tutelar (por isso é importante manter contato com o professor da sala).
- Quando solicitados no grupo de whats app, não deixem de enviar as atividades propostas, são de extrema importância no processo de ensino aprendizagem.

- 2º Bimestre, teve início no dia 17/04/2021 e se estende até o fim de junho. Não deixe de se manter em dia nas tarefas!
- Problemas de saúde: comunicar a professora, e se tiver laudo médico – atestado, entregar na secretaria da escola;

- Retorno presencial: não temos uma previsão definitiva, por isso é importante que continuem se esforçando para acompanhar as atividades e caso tenham dúvidas, favor nos avisar para esclarecimentos e não causar maiores prejuízos às nossas crianças! Apesar da escola estar fechada, nossas aulas não pararam.

ROTEIRO DE REALIZAÇÃO DAS ATIVIDADES RETIRADAS DO LIVRO DIDÁTICO:

CURRÍCULO EM AÇÃO – EMAI EDUCAÇÃO MATEMÁTICA NOS ANOS INICIAIS DO ENSINO FUNDAMENTAL 2º ANO



✓ **LÍNGUA PORTUGUESA (TRILHAS DA APRENDIZAGEM)**

- **PÁGINAS 165,166,167 A 77**

LEITURA: TEXTO INFORMATIVO E FÁBULA

PREENCHER A FICHA DO ANIMAL QUE ESTÁ RELACIONADO NO TEXTO/ELABORAR UM DESENHO SOBRE O MESMO/PRÁTICA DA ORALIDADE E PRODUÇÃO DE TEXTO

PRÁTICA DE ESCRITA E PRODUÇÃO DE TEXTO: REALIZAR AS ATIVIDADES RETIRADAS DA INTERNET (DE ACORDO COM AS FONTES BIBLIOGRÁFICAS INDICADAS NO FINAL DO DOCUMENTO)

- **DESEMBARALHAR AS LETRAS E CONSTRUIR PALAVRAS**

CONHECIMENTOS LINGÜÍSTICOS E GRAMÁTICAIS: REALIZAR ATIVIDADES RETIRADAS DA INTERNET (DE ACORDO COM AS FONTES BIBLIOGRÁFICAS INDICADAS NO FINAL DO DOCUMENTO)

- **LIGAR MASCULINO E FEMININO**
- **DISTINÇÃO ENTRE LETRAS E SONS/FONEMAS – LETRA R**
- **SISTEMATIZAÇÃO DO USO DA LETRA R INTROMETIDA – CORRESPONDENCIA CONTEXTUAL**
- **SEPARAÇÃO DE SÍLABAS**
- **SINÔNIMOS E ANTÔNIMOS**

NOME: _____ DATA ___/___/2021.
E.M.TEREZA FALCI.

- ✓ **COMPONENTE CURRICULAR: MATEMÁTICA (TRILHAS DA APRENDIZAGEM)**
- **PÁGINAS 139, 142, 143,146,147, 151,152,153,154 E 155**

ATIVIDADE 1 –RESOLUÇÃO DE PROBLEMAS (REALIZAR A ATIVIDADE 1)

ATIVIDADE 3 – FORMAS E MARCAS (REALIZAR AS ATIVIDADES 1,2,3,4,E 5)

ATIVIDADE 4 - OPERAÇÕES (REALIZAR AS ATIVIDADES 1,7,8,9,10 E 11)

PARA OS DIAS 01 E 02 DE JULHO, ESTAREI ENVIANDO ATIVIDADE ONLINE (GINCANA DE FESTA JUNINA /01-07 SE VESTIR DE CAPIRA E ENVIAR UMA FOTO NO GRUPO/

02-07ENFEITAR COM BANDEIRINHAS UM ESPAÇO EM CASA, TIRAR FOTO, FAZER UM VÍDEO E ENVIAR NO GRUPO) FIQUEM ATENTOS AO GRUPO DO WHATS APP, E AS DATAS PARA REALIZAÇÃO E ENTREGA DAS ATIVIDADES ONLINE.


ATIVIDADE 1 – ANIMAIS MARINHOS

TRILHA DE CONHECIMENTOS ▶▶▶

NAS ATIVIDADES A SEGUIR VAMOS APRENDER CURIOSIDADES SOBRE ANIMAIS E ESCREVER FICHAS SOBRE ELES. PEÇA AJUDA A UM FAMILIAR PARA A LEITURA DOS TEXTOS, LER JUNTOS É UMA ATIVIDADE MUITO AGRADÁVEL!

VAMOS PRATICAR!

SAIBA TUDO SOBRE O GOLFINHO



TODO MUNDO PENSA QUE O GOLFINHO É UM PEIXE, MAS NÃO É. ELE É UM MAMÍFERO, ASSIM COMO A BALEIA. [...] VIVE NOS OCEANOS E MARES DE TODO O MUNDO, PERTO OU LONGE DOS CONTINENTES. NO BRASIL, [...] PODE SER VISTO AO LONGO DE TODO O LITORAL, DO NORDESTE AO RIO GRANDE DO SUL.

SUA ALIMENTAÇÃO CONSISTE PRINCIPALMENTE DE PEIXES E LULAS. [...] MEDE DE 1,5 A 3,5 METROS DE COMPRIMENTO E PODE PESAR ATÉ

110 KG. O PERÍODO DE GESTAÇÃO É DE 10 A 11 MESES. OS FILHOTES NASCEM COM POUCO MENOS DE 1 METRO E SÃO AMAMENTADOS DURANTE CERCA DE 14 MESES. A FÊMEA TEM UM FILHOTE A CADA DOIS OU TRÊS ANOS. ESSE ANIMAL VIVE EM MÉDIA 20 A 35 ANOS.

[...] VIVEM EM GRUPOS QUE PODEM CHEGAR A MILHARES DE ANIMAIS, ENTRE OS QUE VIVEM NO OCEANO. NA COSTA, É POSSÍVEL VER ATÉ 500 GOLFINHOS JUNTOS. [...] SÃO ÁGEIS, VELOZES E ACROBATAS. [] SALTAM E NADAM NA PROA DE EMBARCAÇÕES. AS VOCALIZAÇÕES INCLUEM VÁRIOS ESTALOS E ASSOBIOS. SABE-SE QUE O GOLFINHO-COMUM PODE MERGULHAR ATÉ 280 METROS, FICANDO EMBAIXO D'ÁGUA POR CERCA DE 8 MINUTOS. DEPOIS ELE TEM DE SUBIR PARA RESPIRAR.

1. APÓS A LEITURA DO TEXTO, PREENCHA A FICHA ABAIXO COM AS INFORMAÇÕES QUE OUVIU. SE NECESSÁRIO, LEIA-O NOVAMENTE.

FICHA DO ANIMAL MARINHO

NOME: _____

PESO: _____ COMPRIMENTO: _____ ONDE VIVE:

ALIMENTAÇÃO: _____

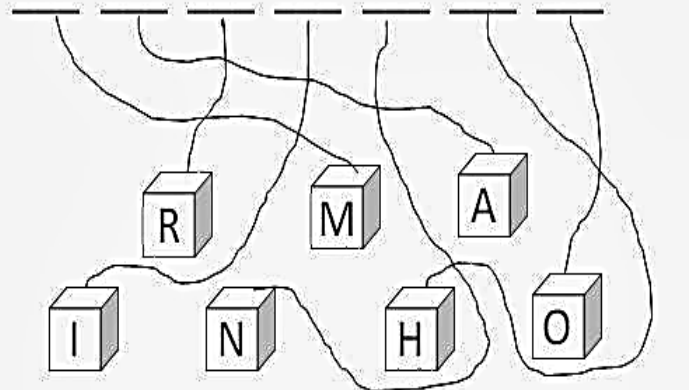
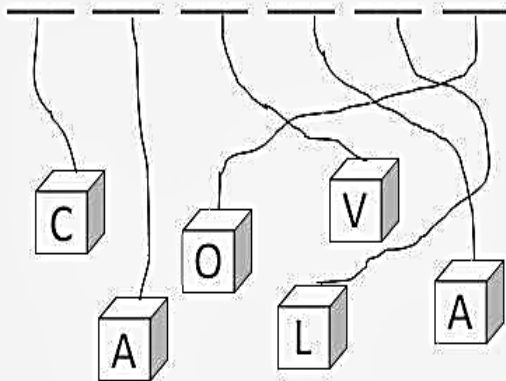

FILHOTES: _____

NOME: _____ DATA ___/___/2021.
E.M.TEREZA FALCI.

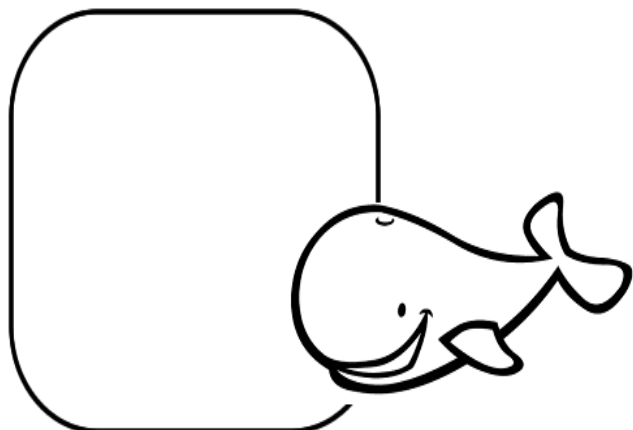
DESENHO DO ANIMAL MARINHO

1- LEIA O TEXTO ABAIXO, DESEMBARALHE AS LETRAS E DESCUBRA O NOME DE OUTRO ANIMAL MARINHO

SOU UM PEIXE, SEI NADAR
MAS TENHO NOME DE MAMÍFERO
BOTO OVOS E VIVO NO FUNDO DO MAR
SOU MEIGO E BONITINHO
E COMO MINHA COMIDA COM O FOCINHO
QUEM SOU EU?




2 CIRCULE A LETRA INICIAL DE CADA ANIMAL MARINHO ABAIXO E DEPOIS COPIE NO QUADRO CORRESPONDENTE.




BALEIA




PEIXE




ESTRELA DO MAR



TARTARUGA



ÁGUA - VIVA



CAVALO MARINHO

3

LIGUE O MASCULINO E O FEMININO:

VACA

MULHER

LINDA

FEIA

RAINHA

GORDA

CADELA

ÉGUA

LINDO

REI

CAVALO

BOI

CACHORRO

FEIO

HOMEM

GORDO

NOME: _____
E.M.TEREZA FALCI.

DATA ___/___/2021.

4 – ENCONTRE E PINTE NO CAÇA – PALAVRAS ABAIXO AS PALAVRAS INICIADAS COM A LETRA R.

C	F	H	K	N	P	R	A	B	O
R	Á	D	I	O	Q	O	S	R	Ã
E	B	R	E	M	O	B	U	I	V
L	D	I	G	L	T	Ô	W	F	X
Ó	J	C	A	D	F	H	Y	A	Z
G	B	O	R	O	D	O	J	L	A
I	R	U	A	R	E	I	R	I	O
O	A	C	L	O	K	P	U	V	Z
E	T	G	O	D	M	S	T	W	B
N	O	Q	X	A	Y	Z	E	K	I


RIO	RALO	REMO	RATO
RÁDIO	RIFA	RUA	RÃ
RODO	RELÓGIO	RICO	RUTE
REI	RABO	RODA	ROBÔ


7-COMPLETE AS PALAVRAS DA SEGUNDA COLUNA COM A LETRA R, DEPOIS COPIE AS PALAVRAS COMO NO MODELO.


CAVO	<u>C</u> RAVO	CRAVO
FACA	F__ACA	
GUDE	G__UDE	
PATA	P__ATA	
TOCA	T__OCA	
BOCA	B__OCA	
DAMA	D__AMA	
TEM	T__EM	



8 - SEPRE AS PALAVRAS EM SÍLABAS:

	
CRAVO	

	
ZEBRA	

	
DRAGÃO	

	
TIGRE	

9 - ESCOLHA DUAS PALAVRAS QUE VOCÊ SEPAROU E ESCREVA UMA FRASE COM ELAS

FÁBULA

O CÃO E A CARNE

ERA UMA VEZ UM CÃO, QUE IA ATRAVESSANDO UM RIO; LEVAVA NA BOCA UM SUCULENTO PEDAÇO DE CARNE.

PORÉM, VIU NA ÁGUA DO RIO A SOMBRA DA CARNE, QUE ERA MUITO MAIOR.

PRONTAMENTE ELE LARGOU SEU PEDAÇO DE CARNE E MERGULHOU NO RIO PARA PEGAR O MAIOR. NADOU, NADOU E NÃO ACHOU NADA, E AINDA PERDEU O PEDAÇO QUE LEVAVA.

MORAL DA HISTÓRIA: NUNCA DEIXES O CERTO PELO DUVIDOSO.



NOME: _____
E.M.TEREZA FALCI.

DATA ___/___/2021.

INTERPRETAÇÃO DO TEXTO

1-FAÇA UM X NA FRASE QUE COMPLETA A FRASE ABAIXO:

ERA UMA VEZ UM.....

PÁSSARO QUE GOSTAVA DE VOAR MUITO ALTO

CÃO QUE TINHA MEDO DE ÁGUA

CÃO QUE IA ATRAVESSANDO UM RIO,LEVAVA NA BOCA UM

SUCULENTO PEDAÇO DE CARNE

ELEFANTE MUITO PESADO

2 – PINTE NA FÁBULA OS ESPAÇOS QUE CORRESPONDEM AOS PARÁGRAFOS.

DEPOIS CONTE QUANTOS SÃO, E ANOTE NO ESPAÇO ABAIXO.

ESSE TEXTO TEM _____ PARÁGRAFOS.

3 – POR QUE O CÃO LARGOU SEU PEDAÇO DE CARNE?

PARA PEGAR UM GATO QUE IA PASSANDO

PORQUE ESTAVA COM GOSTO RUIM

PARA PEGAR O MAIOR

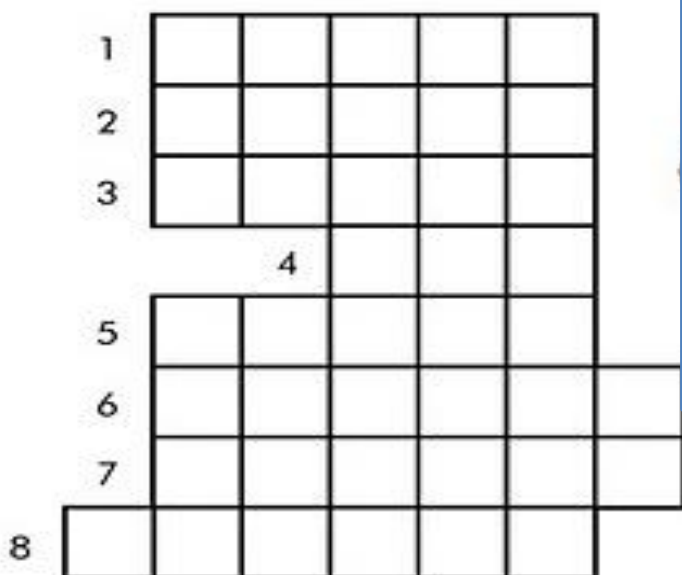
PORQUE SENTIU SONO

4 – NUMERE AS FRASES DE ACORDO COM A ORDEM DOS FATOS NA HISTÓRIA.

- E AINDA PERDEU O PEDAÇO QUE LEVAVA
- NADOU, NADOU E NÃO ACHOU NADA.
- LEVAVA NA BOCA UM SUCULENTO PEDAÇO DE CARNE
- LARGOU SEU PEDAÇO DE CARNE E MERGULHOU PARA PEGAR O MAIOR

5- COMPLETE O DIAGRAMA RESPONDENDO COM O ANTÔNIMO DAS PALAVRAS ABAIXO. (ANTÔNIMO É A PALAVRA COM O SIGNIFICADO CONTRÁRIO)

- 1. CONTRÁRIO DE CHEIO.
- 2. CONTRÁRIO DE INFELIZ
- 3. CONTRÁRIO DE MAGRO
- 4. CONTRÁRIO DE BOM
- 5. CONTRÁRIO DE ALTO
- 6. CONTRÁRIO DE ALEGRE
- 7. CONTRÁRIO DE FRIO
- 8. CONTRÁRIO DE FECHADO



NOME: _____
E.M.TEREZA FALCI.

DATA ___/___/2021.

6 –LIGUE AS PALAVRAS ABAIXO AOS SEUS SINÔNIMO :(SINÔNIMO É A PALAVRA QUE TEM SENTIDO SEMELHANTE)

ALEGRE

MEDO

PAVOR

BONITO

ESPERTA

GRANDE

BELO

CONTENTE

INFELIZ

TRISTE

ENORME

SABIDA



NOME: _____
E.M.TEREZA FALCI.

DATA ___/___/2021.

7 – COMPLETE COM OS ANTÔNIMOS: (SE NECESSÁRIO USE O QUADRO DE PALAVRAS)

LENTA VELOZ APRESSADA NERVOSA
INFELIZ INCERTO COMPLETO
IMPERFEITO


- A) A TARTARUGA NÃO É RÁPIDA, ELA É _____
- B) O COELHO NÃO É UM ANIMAL VAGAROSO, ELE É _____
- C) MINHA MÃE NÃO É DEMORADA, ELA É _____
- D) EU NÃO SOU CALMA, EU SOU _____
- E) QUEM NÃO É FELIZ É _____
- F) O QUE NÃO ESTÁ CERTO PODE ESTAR _____
- G) O COPO DE ÁGUA NÃO ESTÁ INCOMPLETO, ESTÁ _____
- H) O TRABALHO NÃO FICOU PERFEITO, ELE FICOU _____



8 –COPIE DO TEXTO APENAS AS PALAVRAS INICIADAS COM A LETRA **R**

O RATO ROEU A ROUPA DO REI DE ROMA.
O REI DE ROMA RUMA A MADRI.
O RATO ROEU O RABO DA RAPOSA.
ROSA VAI DIZER PARA RITA QUE O
RATO ROEU A ROUPA DA RAINHA.
O RATO A ROER ROÍA E A ROSA
RITA RAMALHO DO RATO A
ROER SE RIA!
O RATO ROEU A ROLHA DA
GARRAFA DA RAINHA.

Domínio Público





NOME: _____
E.M.TEREZA FALCI.

DATA ___/___/2021.

MATEMÁTICA

PENSANDO E RESOLVENDO: BRINCANDO

1. RESOLVA OS PROBLEMAS

- A) SEU GASPAR ESTÁ LEVANDO UMA CAIXA COM 39 LIVROS DOADOS À BIBLIOTECA DA ESCOLA: SÃO 14 LIVROS DE AVENTURA E OS DE MAIS DE POESIA. QUANTOS LIVROS DE POESIA ESTÃO DENTRO DA CAIXA?



- B) PAULO E GISELA ESTÃO COLECIONANDO FIGURINHAS. PAULO TEM 26 E GISELA, 15. QUANTAS FIGURINHAS GISELA DEVE CONSEGUIR PARA TER O MESMO NÚMERO QUE PAULO?



NOME: _____

DATA ___/___/2021.

E.M.TEREZA FALCI.

ATIVIDADE 2 – FORMAS E MARCAS

TRILHA DE CONHECIMENTOS ►►►

BRINQUEDOS E FORMAS

1. A PROFESSORA DÉBORA DITOU PARA SEUS ESTUDANTES O NÚMERO CENTO E SESENTA E NOVE E O NÚMERO DUZENTOS E SEIS. FABRÍCIO ACERTOU A ESCRITA DOS DOIS NÚMEROS. ELE ESCREVEU:

- A) 169 E 206
- B) 1609 E 206
- C) 10069 E 2006
- D) 100609 E 2006

2. MARIA EDUARDA ESTAVA ANDANDO PELA CALÇADA E VIU EM UMA CASA O NÚMERO 245. COMO SE LÊ ESSE NÚMERO?

- A) DOIS, QUATRO, CINCO
- B) VINTE E QUATRO, CINCO
- C) DUZENTOS E QUARENTA E CINCO
- D) DOIS, QUARENTA E CINCO

3. ISABELA E SEUS AMIGOS DECIDIRAM FORMAR UMA RODA



NOME: _____ DATA ___/___/2021.

E.M.TEREZA FALCI.

QUANTAS CRIANÇAS ESTÃO PARTICIPANDO DESSA RODA?

A) 108

B) 18

C) 16

D) 14

4 - MARIA JOSÉ FEZ UMA PESQUISA COM SEUS ALUNOS PARA SABER O JOGO PREFERIDO DA TURMA. ELA MARCOU OS VOTOS EM UM QUADRO:

JOGO	VOTOS
BASQUETEBOL	IIII
FUTEBOL	IIIIIIII
VOLEIBOL	IIII

SABENDO QUE CADA ALUNO VOTOU UMA ÚNICA VEZ, QUAL O TOTAL DE ALUNOS DESSA TURMA?

A)19

B) 17

C)16

D)8

ATIVIDADE 3 – OPERAÇÕES TRILHA DE

CONHECIMENTOS ►►►

CONTANDO, CALCULANDO E PENSANDO

A FÁBRICA DE BRINQUEDOS E MATERIAIS

1. OLHEM A TABELA ABAIXO E PROCUREM QUAIS NÚMEROS SERVEM PARA COMPLETÁ-LA, IDENTIFICANDO AS OPERAÇÕES QUE DEVEM SER FEITAS.

REGISTRE NO CADERNO SEUS PROCEDIMENTOS DE CÁLCULO.

PARA CONTROLAR AS VENDAS DE SUA PRODUÇÃO DIÁRIA, UMA PEQUENA FÁBRICA DE BRINQUEDOS ANOTA OS DADOS EM UMA TABELA COMO ESTA.

NOME: _____ DATA ___/___/2021.

E.M.TEREZA FALCI.

PRODUÇÃO DA FÁBRICA EM 15 DE FEVEREIRO

BRINQUEDOS	PRODUÇÃO DE DIA	VENDIDOS	EM ESTOQUE
BONECAS DE PANO	70	27	
PETECAS	50		37
BOLAS		45	18
CARRINHOS	44		26
AVIÃOZINHOS		36	29

COMPLETE OS NÚMEROS QUE FALTAM NA TABELA.

FAÇA AS OPERAÇÕES DO SEU JEITO



BRINCANDO COM DINHEIRO E COMPRAS

7. COMPLETE O QUADRO DAS CÉDULAS E MOEDAS DO REAL QUE ESTÃO EM CIRCULAÇÃO NO BRASIL:


VALOR	MOEDA/CÉDULA SÃO ASSIM:	QUANTAS MOEDAS/CÉDULAS SÃO NECESSÁRIAS PARA OBTER 100 REAIS
		
		
		
		
		
		
		

8. O QUE POSSO COMPRAR COM UMA NOTA DE CADA UMA DAS MOEDAS/CÉDULAS ABAIXO? FAÇA UMA LISTA COM DOIS PRODUTOS PARA CADA CÉDULA.

A MOEDA/ CÉDULA SÃO ASSIM:	O QUE POSSO COMPRAR
	
	
	
	

NOME: _____
E.M.TEREZA FALCI.

DATA ___/___/2021.



9. COLOQUE OS PREÇOS NOS BRINQUEDOS, DE ACORDO COM A QUANTIDADE DE NOTAS NECESSÁRIAS PARA PAGAR CADA UM.

DONA CLARA TEM UMA VENDINHA DE BALAS, CHOCOLATES E MUITAS GULOSEIMAS EM FRENTE A UMA ESCOLA. A MAIORIA DAS CRIANÇAS QUE COMPRA NA VENDINHA PAGA EM MOEDAS.



NOME: _____
E.M.TEREZA FALCI.





DATA ___/___/2021.

INDIQUE AS MOEDAS QUE VOCÊ USARIA PARA PAGAR.

UMA BALA COM R\$0,50		UMA PASTILHA COM R\$ 1,00	
COM TROCO	SEM TROCO	COM TROCO	SEM TROCO
UM CHOCOLATE R\$1,00		UMA PIRULITO R\$5,00	
COM TROCO	SEM TROCO	COM TROCO	SEM TROCO

10 - SÍLVIA, LUÍS, SANDRA E BEATRIZ COMPRARAM GULOSEIMAS NA VENDINHA DE DONA CLARA.

COMPLETE A TABELA INDICANDO A QUANTIDADE DE MOEDAS QUE ELES USARAM NA COMPRA.

	GASTOS				
SÍLVIA	35 CENTAVOS				
LUÍS	56 CENTAVOS				
SANDRA	70 CENTAVOS				
BEATRIZ	1 REAL				

NOME: _____ DATA ___/___/2021.
E.M.TEREZA FALCI.

FONTES BIBLIOGRÁFICAS:

WWW.GOOGLE.COM

LIVRO CURRÍCULO EM AÇÃO/EMAI/EDUCAÇÃO MATEMÁTICA NOS ANOS INICIAIS DO ENSINO FUNDAMENTAL (2º ANO / VOLUME 1)

PINTEREST

WWW.ENSINARCOMAMOR.COM

EDUCAÇÃOETRANSFORMAÇÃO.COM.BR

<https://www.google.com/>

PEDAGOGIAAOPEDALETTRA.COM

Acessasaber.com.br