

ATIVIDADES NÃO PRESENCIAIS

Apostila 7



Fonte da imagem: <https://br.freepik.com/>

Escola Municipal: “BAIRRO MORRO GRANDE”

Professora: Rosana Maria Nunes de Oliveira

4º Ano A

Nome: _____

Referente aos dias: 21,22,23,24,25,28,29,30/06 e 01 e 02/07

Total de 10 dias

Conforme orientação pedagógica nº 10 de 07/06/2021 da Secretaria Municipal de Educação de Ibiúna

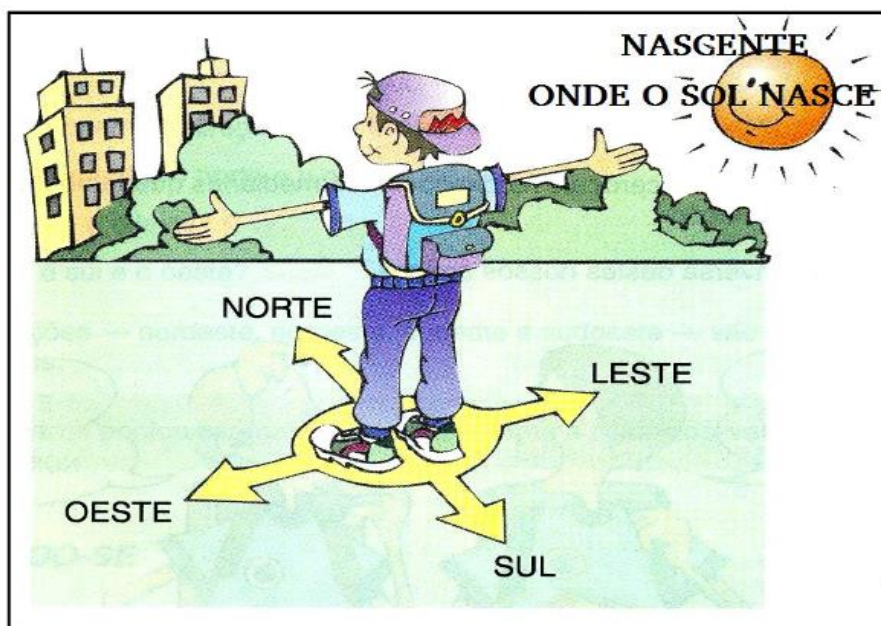
GEOGRAFIA

ORIENTAÇÃO -PONTOS CARDEAIS

Norte, Sul, Leste e Oeste são os quatro pontos cardeais



OBSERVE ATENTAMENTE A IMAGEM A SEGUIR:



<https://www.todoestudo.com.br/geografia/pontos-cardeais>

AGORA RESPONDA:

- 1) O QUE APARECE NA IMAGEM PARA ONDE APONTA A SETA NO PONTO CARDEAL NORTE?

- 2) ONDE FICA O PONTO CARDEAL **SUL** EM RELAÇÃO AO MENINO, FRENTE, ATRÁS, LADO ESQUERDO OU LADO DIREITO?

- 3) O NASCENTE (ONDE O SOL NASCE) FICA EM QUE PONTO CARDEAL?

LÍNGUA PORTUGUESA

FESTAS JUNINAS
A ORIGEM

A típica Festa Junina, foi inicialmente chamada de “Festa Joanina”. Teve origem , segundo alguns historiadores nos países católicos europeus, no século IV, e era realizada a fim de prestar homenagem a São João, motivo pelo qual recebia este nome.

Chegando ao Brasil, trazida pelos portugueses, teve o nome modificado para “Festa Junina”, e logo foi incorporada aos costumes dos povos indígenas e negros.

A influência brasileira na tradição da festa pode ser percebida na alimentação, quando foram introduzidos o aipim (mandioca), milho, jenipapo, o leite de coco e também nos costumes, como o forró, o boi-bumbá, a quadrilha e o tambor-de-crioula. Mas não foi somente a influência brasileira que permaneceu nas comemorações juninas. Os franceses, por exemplo, acrescentaram à quadrilha, passos e marcações inspirados na dança da nobreza européia. Já os fogos de artifício, que tanto embelezam a festa, foram trazidos pelos chineses.

Adaptado de: www.brasilcultura.com.br LIPITIPi.org

DE OLHO NO TEXTO



1- Preencha as lacunas:

A típica _____, foi inicialmente chamada de _____.
Teve origem, segundo alguns _____ nos países católicos _____,
no século ____, e era realizada a fim de prestar homenagem a _____,
motivo pelo qual recebia este nome.

2- O texto informa que as Festas Juninas receberam influência de outros países. Quais foram estes países?

3- Em relação à alimentação, qual foi a influência do Brasil nas Festas Juninas?

4- De qual país foram trazidos os fogos de artifício que tanto embelezam as Festas Juninas?

5- Você sabe o que é um historiador? Responda com suas palavras.

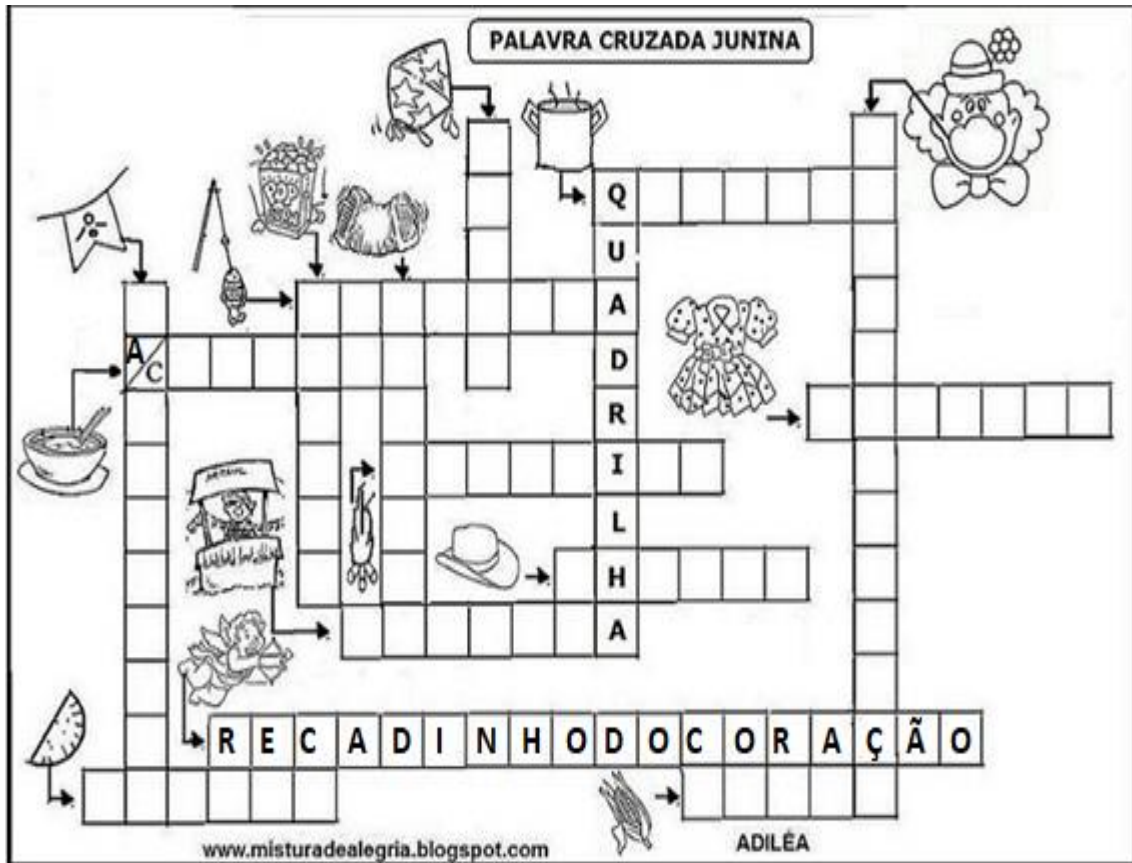
CONTINUE DE OLHO

1- Responda com atenção....

Típica é o mesmo que _____

Origem diz respeito a _____

Tradição é _____



<https://misturadealegria.blogspot.com/2012/05/festa-junina-cruzadinha.html>

CAÇA PALAVRAS JUNINAS

B	A	R	R	A	C	A	S	V	T	R	G	A	S	A	N	F	O
Q	A	M	E	N	D	O	I	M	A	P	C	N	P	A	M	L	M
S	D	N	C	X	E	S	M	H	M	I	H	O	F	O	G	U	N
Q	U	A	D	R	I	L	H	A	E	P	U	F	D	R	S	B	A
U	H	J	V	E	M	I	K	L	N	O	T	N	H	J	L	M	C
A	C	O	H	L	I	M	V	B	T	C	R	A	X	R	A	S	I
S	G	U	E	I	A	R	G	O	L	A	A	S	F	G	I	Y	A
O	B	R	A	R	F	G	I	U	O	J	S	E	C	L	R	U	C
T	J	K	L	N	M	B	V	N	L	R	C	L	H	Ç	A	J	I
N	C	H	Á	P	I	L	D	C	H	U	R	R	A	S	C	O	J
A	R	I	E	U	G	O	F	B	Ç	A	O	F	P	N	S	L	N
S	M	N	H	A	S	D	U	I	É	G	S	U	É	J	E	Ç	A
N	H	N	G	I	C	A	R	F	U	G	L	H	U	K	P	N	C

AMENDOIM ARGOLA
BANDEIRINHAS
BARRACAS CANJICA
CHAPÉU CHURRASCO FOGUEIRA
MILHO PESCARIA PIPOCA
QUADRILHA SANFONA SANTOS

<https://www.danieducar.com.br/search/label/festa%20junina>



Avaliação de Leitura

São João

Noite de São João

Que noite linda!
Que animação!
Hoje é noite, de São João.

Hoje tem festa,
Que animação!
Pula fogueira bate o pé, bate a mão
Pois tem pipoca, canjica e feijão.

Hoje tem festa,
Que animação!
Tem quadrilha e forrozão.

Viva São Pedro! Viva São João!
Só não pode, soltar balão.

Cantando e interpretando!



1.Responda: (0,7)

- a) Qual é o título da música? _____
- b) Quais os nomes das pessoas que aparecem na música?

- c) Quais as comidas típicas aparecem na música?

- d) O que não pode soltar em noite de São João? _____

FAÇA A LEITURA DO TEXTO ACIMA, GRAVE EM VIDEO OU AUDIO E ENVIE PARA A PROFESSORA.



PRODUÇÃO DE TEXTO

PORQUE É PROIBIDO SOLTAR BALÕES?

DEIXE UMA MENSAGEM PARA AS PESSOAS NÃO SOLTAREM BALÕES NO MÊS DE FESTA JUNINA.

MATEMÁTICA

QUESTÃO 07

A diretora da escola comprou **48** ovos para a brincadeira do ovo na colher.

No número 48, o valor posicional do algarismo **4** é:

- () 4.000
- () 4
- () 400
- () 40

QUESTÃO 08

Para enfeitar a escola, as crianças do 3º ano fizeram bandeirinhas e lanterninhas.



48 bandeirinhas



12 lanterninhas

A quantidade de enfeites confeccionados foi de:

- () 57 enfeites
- () 40 enfeites
- () 60 enfeites
- () 62 enfeites

QUESTÃO 09

Para a pescaria, as professoras tiveram que confeccionar 50 peixes, em dois dias. Ao final do primeiro dia, fizeram 32 peixes.

Quantos peixes foram feitos no segundo dia?

- () 10 peixes
- () 18 peixes
- () 27 peixes





Complete as seqüências:

a)

104	106	108		189			
-----	-----	-----	--	-----	--	--	--

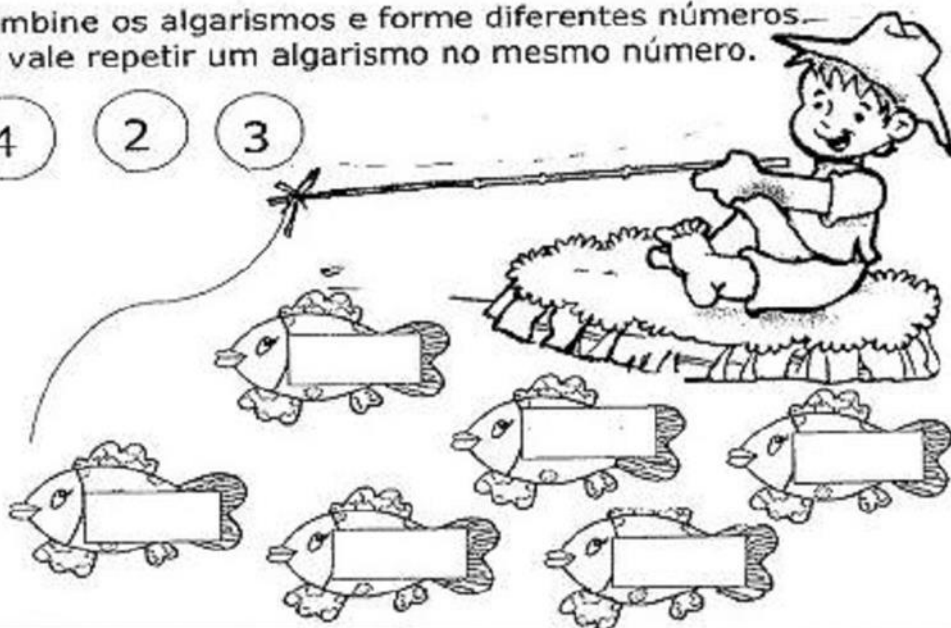
b)

189	188	187				
-----	-----	-----	--	--	--	--

c)

300	310	320			
-----	-----	-----	--	--	--

Combine os algarismos e forme diferentes números. Não vale repetir um algarismo no mesmo número.



Observe a tabela de preços da Barraquinha de Festa Junina:

TABELA DE PREÇOS	
Refrigerante	R\$2,00
Pipoca	R\$0,50
Canjica	R\$1,50
Pastel	R\$1,00

a) Davi Comprou um pastel, um refrigerante e uma pipoca. Quanto ele gastou?

R: _____

NOME: _____ DATA: _____

❖ Decomponha os numerais como no modelo:

189 → 100 + 80 + 9 → 1 centena - 8 dezenas e 9 unidades

154

295

177

300

270

315

160

❖ Represente os numerais no Q.P.

	Centenas	Dezenas	Unidades
260			
123			
189			
247			
384			
421			



❖ Componha os numerais como no modelo:

* 4 centenas + 5 dezenas + 3 unidades = 400 + 50 + 3 = 453

* 2 centenas + 9 dezenas + 9 unidades = _____

* 5 centenas + 8 dezenas + 4 unidades = _____

* 3 centenas + 3 dezenas + 1 unidade = _____

* 2 centenas + 7 dezenas + 7 unidades = _____

* 3 centenas + 2 dezenas + 5 unidades = _____


999... MIL



USE SEUS CONHECIMENTOS E PREENCHA A TABELA

1.000	1.001		1.003		1.005	1.006		1.008	1.009
1.010		1.012		1.014		1.016	1.017	1.018	
1.020	1.021		1.023		1.025				1.029
		1.032	1.033	1.034	1.035	1.036		1.038	
1.040	1.041	1.042		1.044			1.047		1.049
1.050		1.052	1.053		1.055	1.056	1.057		
	1.061	1.062		1.064	1.065		1.067	1.068	1.069
1.070			1.073					1.078	
		1.082			1.085		1.087		1.089
1.090	1.091			1.094		1.096			1.099

COMPLETE ESCRIVENDO O ANTECESSOR E O SUCESSOR DOS NÚMEROS



ARTES E RECREAÇÃO



<https://www.google.com/url?sa=i&url=https%3A%2F%2Fwww.youtube.com%2Fwatch%3Fv%3DANnJSyivAXI&psig=AOvVaw3siKNYkU-4XctPVTcYX70P&ust=1624126405516000&source=images&cd=vfe&ved=0CAoQjRxqFwoTCLCipb3kofECFQAAAAAdAAAAABAJ>

AO LONGO DAS ATIVIDADES DA APOSTILA A PROFESSORA ENVIARÁ NO GRUPO DE WHATSAPP OS DESAFIOS!

BONS ESTUDOS!