

E.M “ALICE VIEIRA DE CAMARGO”

NOME: \_\_\_\_\_ 3º ANO A

7ª APOSTILA

## MINHAS ATIVIDADES



REFERENTES AOS DIAS: 21,22,23,24,25, 28,29 e 30/06, 01 e 02 DE JULHO.

DATA DE ENTREGA: 18/06

DATA DE DEVOLUÇÃO: 01/07

PROFESSORA: BIANCA MIRANDA

NOME: \_\_\_\_\_

ESCOLA: \_\_\_\_\_ TURMA: \_\_\_\_\_

DATA: IBIÚNA, 21 DE JUNHO DE 2021


DISCIPLINA: LÍNGUA PORTUGUESA

#### ATIVIDADE 04: LÍNGUA PORTUGUESA

BILHETE É UMA MENSAGEM CURTA QUE TRAZ ALGUMA INFORMAÇÃO.

MARCELINHO,  
FUI AO SHOPPING TROCAR A SANDÁLIA.  
AO SE LEVANTAR, POR FAVOR ARRUME O SEU QUARTO.  
BEIJÃO...

MAMÃE  
20/05/2021



MARQUE A RESPOSTA CORRETA:

QUEM ESCREVEU O BILHETE ACIMA?

- A) ( ) MARCELINHO                      C) ( ) VOVÓ  
B) ( ) MAMÃE                              D) ( ) COLEGUINHA

PARA QUEM FOI O BILHETE?

- A) ( ) MARCELINHO                      C) ( ) MAMÃE  
B) ( ) FILHA                                D) ( ) PAPAÍ

EM QUE DIA FOI ESCRITO O BILHETE?

- A) ( ) 22/05/2021                      C) ( ) 02/05/2021  
B) ( ) 05/05/2021                      D) ( ) 20/05/2021

NOME: \_\_\_\_\_

ESCOLA: \_\_\_\_\_ TURMA: \_\_\_\_\_

DATA: IBIÚNA, 22 DE JUNHO DE 2021

DISCIPLINA: MATEMÁTICA

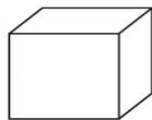
**ATIVIDADE 05: MATEMÁTICA**

**05.1 – VEJA AS CAIXAS ONDE MARCELA GUARDA OS SEUS BRINQUEDOS:**




QUAIS DAS FIGURAS A SEGUIR REPRESENTAM O FORMATO DAS CAIXAS ONDE MARCELA GUARDA SEUS BRINQUEDOS?

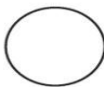
A. ( )



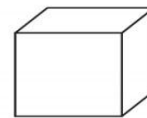

B. ( )



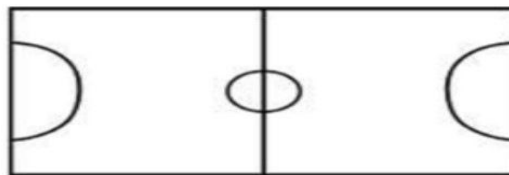
C. ( )



D. ( )



**05.2 – OBSERVE O CAMPO DE FUTEBOL DE BOTÃO QUE JUCA GANHOU DE PRESENTE DE ANIVERSÁRIO.**



A FORMA DESSE CAMPO É:

A. ( ) QUADRADO

B. ( ) RETÂNGULO

C. ( ) TRIÂNGULO

D. ( ) LOSANGO

**05.3 – (SEDUC-RJ).**



ESTE FOI O CONVITE DA FESTA JUNINA QUE A ESCOLA LUGAR DE APRENDER FEZ PARA ESTE ANO.

NO CONVITE, A FORMA DO VESTIDO DA MENINA LEMBRA:

A. ( ) UM CÍRCULO.

B. ( ) UM RETÂNGULO.

C. ( ) UM QUADRADO.

D. ( ) UM TRIÂNGULO.

NOME: \_\_\_\_\_


ESCOLA: \_\_\_\_\_ TURMA: \_\_\_\_\_

DATA: IBIÚNA, 23 DE JUNHO DE 2021

DISCIPLINA: GEOGRAFIA

## RECURSOS NATURAIS

OS RECURSOS NATURAIS SÃO ENCONTRADOS NA NATUREZA E SERVEM DE MATÉRIA PRIMA PARA A INDÚSTRIA.



ESCREVA O NOME DE ALGUNS RECURSOS NATURAIS QUE VOCÊ VÊ NA IMAGEM.

1-	2-
3-	4-
5-	6-

NOME: \_\_\_\_\_

ESCOLA: \_\_\_\_\_ TURMA: \_\_\_\_\_

DATA: IBIÚNA, 24 DE JUNHO DE 2021

DISCIPLINA: RECREAÇÃO

OBSERVE AS FIGURAS E RESPONDA.



AS FIGURAS ACIMA SÃO ESPORTES DE:

- A. ( ) ESPORTE DE PAREDE E ESPORTE DE CONTATO
- B. ( ) ESPORTE DE CHUTE E ESPORTE DE BOLA
- C. ( ) ESPORTE DE REDE/PAREDE E ESPORTE DE INVASÃO
- D. ( ) ESPORTE DE REDE E ESPORTE DE CHUTE

NOME: \_\_\_\_\_

ESCOLA: \_\_\_\_\_ TURMA: \_\_\_\_\_

DATA: IBIÚNA, 25 DE JUNHO DE 2021 \_\_\_\_\_

DISCIPLINA: LÍNGUA PORTUGUESA \_\_\_\_\_

#### ATIVIDADE 07: LÍNGUA PORTUGUESA

FRASE É UMA PALAVRA OU UM GRUPO DE PALAVRAS QUE TEM SENTIDO COMPLETO.

LEIA COM ATENÇÃO A FRASE ABAIXO E RESOLVA AS ATIVIDADES.

JOÃO PEDRO, RAFAEL E JÚLIA FIZERAM AS BANDEIRINHAS PARA ENFEITAR A FESTA DA ESCOLA.



ESSA É UMA FRASE:

A ( ) NEGATIVA

C ( ) AFIRMATIVA

B ( ) EXCLAMATIVA

D ( ) INTERROGATIVA

A FRASE TERMINA COM:

A ( ) PONTO DE INTERROGAÇÃO ?

C) ( ) PONTO EXCLAMAÇÃO !

B ( ) PONTO FINAL .

D) ( ) DOIS PONTOS :

NOME: \_\_\_\_\_

ESCOLA: \_\_\_\_\_ TURMA: \_\_\_\_\_

DATA: IBIÚNA, 28 DE JUNHO DE 2021

DISCIPLINA: MATEMÁTICA

**ATIVIDADE 08: MATEMÁTICA**

LEIA COM BASTANTE ATENÇÃO E REGISTRE OS CÁLCULOS.

**08.1** – A FIGURA A SEGUIR MOSTRA A DISTÂNCIA EM METROS DA CASA DE PALOMA ATÉ A ESCOLA ONDE ELA ESTUDA, PASSANDO PELA CASA DE SUA AMIGA MALU.




QUAL A DISTÂNCIA, EM METROS, DA CASA DE PALOMA ATÉ A ESCOLA ONDE ELA ESTUDA?

- A. ( ) 50 METROS
- B. ( ) 60 METROS
- C. ( ) 110 METROS
- D. ( ) 160 METROS

**08.2** – (SEDUC-GO) MARCOS, PEDRO, LUCIANO E GABRIEL ESTÃO DISPUTANDO O MELHOR TEMPO PARA DEFINIR A POSIÇÃO DE LARGADA NA CORRIDA ANUAL DE BICICLETA. MARCOS FEZ O TEMPO DE 56 MINUTOS, PEDRO OBTVEU 30 MINUTOS, LUCIANO 42 MINUTOS E GABRIEL 37 MINUTOS. CONSIDERANDO QUE O MENOR TEMPO SERÁ O PRIMEIRO DA FILA, A ORDEM CORRETA DA POSIÇÃO DA LARGADA É:

- A. ( ) 1º MARCOS, 2º PEDRO, 3º LUCIANO E 4º GABRIEL.
- B. ( ) 1º PEDRO, 2º GABRIEL, 3º LUCIANO E 4º MARCOS.
- C. ( ) 1º GABRIEL, 2º PEDRO, 3º LUCIANO E 4º MARCOS.
- D. ( ) 1º PEDRO, 2º GABRIEL, 3º MARCOS E 4º LUCIANO.



**08.3** – EM UM CLUBE, HÁ TURMAS DE NATAÇÃO NO PERÍODO DA MANHÃ E NO PERÍODO DA TARDE. ESTÃO MATRICULADOS 301 ALUNOS NAS TURMAS DA MANHÃ E 211 ALUNOS NAS TURMAS DA TARDE. AO TODO, QUANTOS ALUNOS PRATICAM NATAÇÃO NESSE CLUBE?

- A. ( ) 215
- B. ( ) 512
- C. ( ) 125
- D. ( ) 251



NOME: \_\_\_\_\_

ESCOLA: \_\_\_\_\_ TURMA: \_\_\_\_\_

DATA: IBIÚNA, 29 DE JUNHO DE 2021

DISCIPLINA: HISTÓRIA

**ATIVIDADE 14: CIÊNCIAS HUMANAS E DA NATUREZA**

OBSERVE A IMAGEM E RESPONDA:



QUAL É O LUGAR REPRESENTADO NESTA IMAGEM?

- A - ( ) UMA PRAÇA
- B - ( ) UMA CASA
- C - ( ) UM JARDIM
- D - ( ) UMA PRAIA

**ATIVIDADE 15: CIÊNCIAS HUMANAS E DA NATUREZA**

OBSERVE AS DUAS IMAGENS DA PRAÇA DO PAPA EM BELO HORIZONTE - MG:

IMAGEM 1 – ANTIGAMENTE



IMAGEM 2 - ATUAL



MARQUE UM X NA MUDANÇA QUE OCORREU NESTA PRAÇA ATUALMENTE:

- A - ( ) MENOS PESSOAS
- B - ( ) MAIS ARBORIZADAS E ILUMINAÇÃO PÚBLICA
- C - ( ) MENOS MOVIMENTADA
- D - ( ) SEM LAZER



NOME: \_\_\_\_\_

ESCOLA: \_\_\_\_\_ TURMA: \_\_\_\_\_

DATA: IBIÚNA, 30 DE JUNHO DE 2021 \_\_\_\_\_

DISCIPLINA: ARTES \_\_\_\_\_

48

## ARTES

- Agora é a vez dos caipiras. Enfeite-os com bastante criatividade.
- Colar palha, fita, pedaços de tecido, papéis coloridos, lã, etc.



## REFERÊNCIAS

<https://educacaoetransformacaooficial.blogspot.com>.

<trocatrocadesaberes.blogspot.com>

<https://br.pinterest.com/>