

E.M “ALICE VIEIRA DE CAMARGO”

NOME: _____ 4º ANO A

7ª APOSTILA

MINHAS ATIVIDADES



REFERENTES AOS DIAS: 21,22,23,24,25, 28,29 e 30/06, 01 e 02 DE JULHO.

DATA DE ENTREGA: 18/06

DATA DE DEVOLUÇÃO: 01/07

PROFESSORA: BIANCA MIRANDA

NOME: _____

ESCOLA: _____ TURMA: _____

DATA: IBIÚNA, 21 DE JUNHO DE 2021 _____

DISCIPLINA: LÍNGUA PORTUGUESA _____

3.3 – Observe a tirinha e responda:



Esse texto tem a finalidade de:

- A () Divulgar um produto.
- B () Divertir o leitor.
- C () Apresentar uma personagem.
- D () Dar uma instrução.

3.4 Qual é a ideia principal do texto?

- A () Chico Bento resolveu plantar uma muda de árvore, porque adora frutas.
- B () O amigo de Chico Bento sugere que ele plante flores ao invés de árvores.
- C () A tirinha nos faz refletir sobre a questão do desmatamento.
- D () Chico Bento chamou sua plantinha de esperança.

NOME: _____

ESCOLA: _____ TURMA: _____

DATA: IBIÚNA, 22 DE JUNHO DE 2021

DISCIPLINA: MATEMÁTICA

Resolvam os problemas matemáticos e façam as operações com atenção.

5.1 Luciana está separando 48 bombons em algumas caixas. Ela dividiu em 6 caixas. Quantos bombons colocará em cada caixa?

Operação

Resposta



A () 4 bombons. B () 8 bombons. C () 6 bombons. D () 7 bombons.

5.2 Seu João cria cavalos. Por algum tempo ele separou 8 pastos. Colocou 4 cavalos em cada pasto. Quantos cavalos ele tem?

Operação

Resposta



A () 64 cavalos B () 32 cavalos C () 46 cavalos D () 62 cavalos

5.3 Pedro é pedreiro e está construindo uma casa na praia. Ele recebeu um carregamento de piso, com 2.500 pisos. Pedro já colocou 2.380 pisos. Quantos pisos ainda faltam para Pedro colocar?

Operação

Resposta



A () 180 pisos B () 160 pisos C () 150 pisos D () 120 pisos

5.4 Para a festa de aniversário Camila encomendou 3 centenas de empada, 3 centenas e meia de coxinhas e 4 centenas de pastéis. Qual foi o total de salgados que Camila encomendou para o seu aniversário?

Operação

Resposta



A () 1.000 salgados B () 1.050 salgados C () 1.100 salgados D () 1.150 salgados


NOME: _____

ESCOLA: _____ TURMA: _____

DATA: IBIÚNA, 24 DE JUNHO DE 2021

DISCIPLINA: RECREAÇÃO

OBSERVE AS FIGURAS E RESPONDA.



AS FIGURAS ACIMA SÃO ESPORTES DE:

- A. () ESPORTE DE PAREDE E ESPORTE DE CONTATO
- B. () ESPORTE DE CHUTE E ESPORTE DE BOLA
- C. () ESPORTE DE REDE/PAREDE E ESPORTE DE INVASÃO
- D. () ESPORTE DE REDE E ESPORTE DE CHUTE

NOME: _____

ESCOLA: _____ TURMA: _____

DATA: IBIÚNA, 25 DE JUNHO DE 2021

DISCIPLINA: LÍNGUA PORTUGUESA

ATIVIDADE 07: LÍNGUA PORTUGUESA

FRASE É UMA PALAVRA OU UM GRUPO DE PALAVRAS QUE TEM SENTIDO COMPLETO.

LEIA COM ATENÇÃO A FRASE ABAIXO E RESOLVA AS ATIVIDADES.

JOÃO PEDRO, RAFAEL E JÚLIA FIZERAM AS BANDEIRINHAS PARA ENFEITAR A FESTA DA ESCOLA.



ESSA É UMA FRASE:

A () NEGATIVA

C () AFIRMATIVA

B () EXCLAMATIVA

D () INTERROGATIVA

A FRASE TERMINA COM:

A () PONTO DE INTERROGAÇÃO ?

C () PONTO EXCLAMAÇÃO !

B () PONTO FINAL .

D () DOIS PONTOS :

NOME: _____

ESCOLA: _____ TURMA: _____

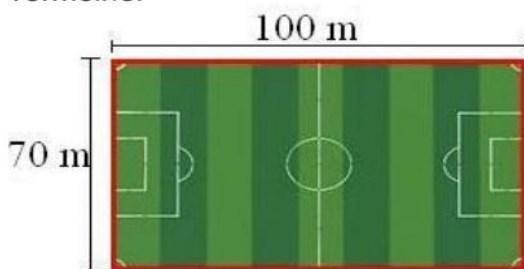
DATA: IBIÚNA, 28 DE JUNHO DE 2021 _____

DISCIPLINA: MATEMÁTICA _____

O que é perímetro? E como o calculamos?

Perímetro é a medida do comprimento de um contorno.

Observe um campo de futebol, o perímetro dele é a soma do seu contorno que está de vermelho.

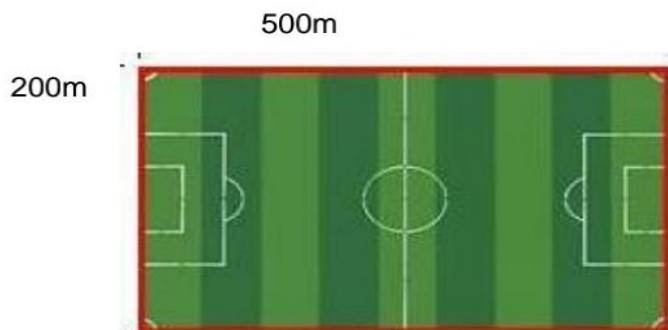


Pra fazemos o cálculo do perímetro devemos somar todos os seus lados

$$P = 100 + 70 + 100 + 70$$
$$P = 340 \text{ m}$$

O perímetro da figura é a soma de todos os seus lados:

7.1 Calcule o perímetro do campo de futebol e marque com um X a resposta



- A () 1.500m
- B () 1.200m
- C () 1.300m
- D () 1.400m

NOME: _____


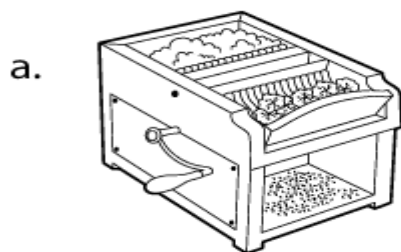
ESCOLA: _____ TURMA: _____

DATA: IBIÚNA, 29 DE JUNHO DE 2021

DISCIPLINA: HISTÓRIA

RELACIONE

Relacione a coluna da direita com a coluna da esquerda:



1. Tear mecânico

2. Descaroçador de algodão

3. Iluminação elétrica

4. Ponte de ferro fundido

NOME: _____

ESCOLA: _____ TURMA: _____

DATA: IBIÚNA, 30 DE JUNHO DE 2021 _____

DISCIPLINA: ARTES _____

48

ARTES

- Agora é a vez dos caipiras. Enfeite-os com bastante criatividade.
- Colar palha, fita, pedaços de tecido, papéis coloridos, lã, etc.



REFERÊNCIAS

<https://educacaoetransformacaooficial.blogspot.com>.

<trocatrocadesaberes.blogspot.com>

<https://br.pinterest.com/>

www.smartkids.com.br