



Prefeitura da Estância Turística de
IBIÚNA



**E.M “JOSÉ GABRIEL MACHADO”
E.M “JOAQUIM MACHADO DE OLIVEIRA”**

2º ANO B

PROFESSORA:

PATRÍCIA MACHADO.



APOSTILA DE ATIVIDADES REMOTAS Nº 6

PERÍODO DE: 21/06 A 02/07

NOME:



CAIPIRINHA ELEGANTE

MEU VESTIDO DE CHITÃO
FOI PRESENTE DA VOVÓ
RENDA, BABADO E FITA...
VEJA SÓ! ESTOU BONITA?

SOU CAIPIRA ELEGANTE
ANDO SEMPRE BEM TRAJADA.
ATÉ LOGO, MINHA GENTE,
QUE A FESTA JUNINA
ESTÁ ANIMADA!

GILDA FIGUEIREDO PADILHA



RESPONDA:

1. COMO É O VESTIDO DA CAIPIRINHA?

2. QUEM DEU O VESTIDO DE PRESENTE PARA A CAIPIRINHA?

2. PARA ONDE VAI A CAIPIRINHA??

4. QUEM ESCREVEU ESSE TEXTO?

ISRAELA KOTONA

ESCOLA _____

NOME: _____

DATA: ____/____/____



MATEMÁTICA NA FESTA JUNINA

CEBOLINHA E MAGALI FORAM COMPRAR PIPOCAS NA
BARRAQUINHA DA FESTA JUNINA.



1) QUANTOS SAQUINHOS DE PIPOCAS TEM ACIMA?

() 1 DÚZIA () 1 DEZENA

2) DISTRIBUA IGUALMENTE OS SAQUINHOS DE PIPOCAS ENTRE
MAGALI E CEBOLINHA. FAÇA UMA LINHA LIGANDO.

3) QUANTOS SAQUINHOS DE PIPOCAS GANHOU CADA?

() 5 SAQUINHOS () 4 SAQUINHOS () 6 SAQUINHOS

4) CEBOLINHA DEU 3 SAQUINHOS DE PIPOCAS PARA CASCÃO.
QUANTOS SAQUINHOS SOBRARAM?

5) MAGALI COMEU TODOS OS SAQUINHOS DE PIPOCAS DELA E MAIS 2
DO CEBOLINHA. QUANTOS ELA COMEU AO TODO?

6) NO FINAL, CEBOLINHA FICOU COM SAQUINHO DE PIPOCAS.



CAÇA PALAVRAS

ENCONTRE NO CAÇA PALAVRAS O NOME DAS FIGURAS JUNINAS E ESCREVA O NOME.

F	H	J	U	Y	T	R	D	E	S	A	C	V	G
T	R	F	O	G	U	E	I	R	A	P	L	M	N
H	N	B	V	C	S	D	E	F	H	J	U	Y	T
K	U	Y	A	M	E	N	D	O	I	M	D	B	N
F	H	J	U	Y	T	S	R	T	Y	I	J	K	L
S	N	B	E	R	E	D	I	N	O	I	V	A	O
Z	P	A	M	O	N	H	A	X	I	M	K	M	R
M	I	L	H	O	I	K	R	P	I	P	O	C	A
R	J	O	C	G	H	J	K	O	P	W	E	R	T



<input type="text"/>	<input type="text"/>	<input type="text"/>
----------------------	----------------------	----------------------



<input type="text"/>	<input type="text"/>	<input type="text"/>
----------------------	----------------------	----------------------

ISRAELA KOTONA

Nome: _____
 Data: ___/___/___

Complete as sequências numéricas.


5		15		30				55		
10		30		50		70		90		
2		8	10		14	16		20		
4		12		20	24		32		44	
3		9		15				27		33
1				5			8			11



O QUE TEM NA FESTA JUNINA

RELACIONE:

- | |
|--------------------|
| 1- PIPOCA |
| 2- CACHORRO QUENTE |
| 3- FOGUEIRA |
| 4- SANFONA |
| 5- FOGOS |
| 6- MAÇÃ DO AMOR |
| 7- MILHO |
| 8- BALÃO |
| 9- CHAPÉU |
| 10- AMENDOIM |
| 11- BARRACA |
| 12- ALGODÃO DOCE |
| 13- BANDEIRINHAS |
| 14- PÉ DE MOLEQUE |
| 15- PAÇOCA |
| 16- QUADRILHA |



ISRAELA KOTONA

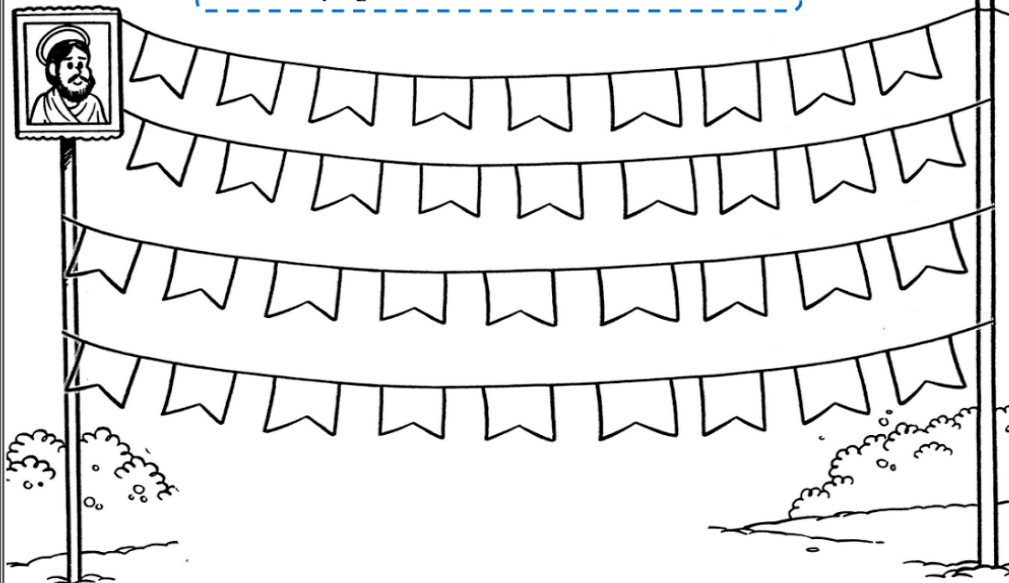
ESCOLA _____

NOME: _____

DATA: ____/____/____



UAU, QUANTAS BANDEIROLAS!



- 1- QUANTAS BANDEIROLAS?
- 2- PINTA UMA DEZENA DE AMARELO.
- 3- PINTA UMA DÚZIA DE AZUL.
- 4- CIRCULE DE DUAS EM DUAS E ANOTE QUANTOS PARES FORAM FORMADOS.
- 5 – SE EU TIRAR 12 BANDEIROLAS, QUANTAS FICARÃO?
- 6 – QUANTAS FALTAM PARA COMPLETAR 4 DEZENAS?

NOME: _____ DATA: ____ / ____ / ____

LIGUE CADA OPERAÇÃO DE ADIÇÃO AO SEU RESULTADO.

$7 + 1 =$

9

$5 + 2 =$

6

$4 + 2 =$

8


$9 + 0 =$

7

Desenvolvido Por: Blog Cantinho do Saber -
<http://cantinhodosaber.buscasulfluminense.com/>



ESCREVA OS NOMES DE ACORDO COM AS INDICAÇÕES DA SETA.



O CHICO BENTO ESTÁ TOCANDO NA FESTA JUNINA UM INSTRUMENTO MUSICAL. QUAIS OUTROS INSTRUMENTOS VOCÊ CONHECE?



ISRAELA KOTONA



1- COMPLETE OS NOMES DAS FIGURAS.



_____ GUEIRA



_____ LÃO



_____ FONA



_____ LHO



_____ FONA



_____ FONA

2- ESCREVA OS NOMES DAS FIGURAS.



ISRAELA KOTONA



Mistura de Alegria

MATEMÁTICA JUNINA

Observe o desenho e complete:



- São bandeirolas na parte de cima.
- São bandeirolas na parte de baixo.
- Ao todo são bandeirolas.
- São peixinhos.
- São meninos.
- São chapéus.
- São anzóis.

PINTE OS QUADRADINHOS DAS PALAVRAS ABAIXO DE ACORDO COM A LEGENDA:

 COMIDAS	 BEBIDAS	 BRINCADEIRAS
 INSTRUMENTOS MUSICAIS	 TEM NA FESTA JUNINA	

<input type="checkbox"/> BARRACA	<input type="checkbox"/> QUENTÃO
<input type="checkbox"/> ARGOLA	<input type="checkbox"/> QUADRILHA
<input type="checkbox"/> PAÇOCA	<input type="checkbox"/> PAMONHA
<input type="checkbox"/> BOCA DO PALHAÇO	<input type="checkbox"/> PESCARIA
<input type="checkbox"/> SANFONA	<input type="checkbox"/> PANDEIRO
<input type="checkbox"/> CACHORRO QUENTE	<input type="checkbox"/> PULA FOGUEIRA
<input type="checkbox"/> CANJICA	<input type="checkbox"/> REFRIGERANTE
<input type="checkbox"/> FOGUEIRA	<input type="checkbox"/> TOMBA LATA
<input type="checkbox"/> MAÇÃ-DO-AMOR	<input type="checkbox"/> VINHO QUENTE
<input type="checkbox"/> MILHO	<input type="checkbox"/> PAMONHA
<input type="checkbox"/> PÉ DE MOLEQUE	
<input type="checkbox"/> BALÃO	
<input type="checkbox"/> VIOLÃO	
<input type="checkbox"/> PIPOCA	







ISRAELA KOTONA

COMPLETE

Cada bandeirinha com seu lugar



COMPLETE A SEQUÊNCIA CORRETAMENTE:



Escola: _____

Data: _____ Turma: _____

Aluno: _____

CACA - RESULTAÇOS

Resolva os fatos e procure os resultados no quadro abaixo.



$$\begin{array}{r} 8 \\ - 4 \\ \hline \end{array}$$

$$\begin{array}{r} 6 \\ - 3 \\ \hline \end{array}$$

$$\begin{array}{r} 9 \\ - 3 \\ \hline \end{array}$$

$$\begin{array}{r} 5 \\ - 4 \\ \hline \end{array}$$

$$\begin{array}{r} 7 \\ - 2 \\ \hline \end{array}$$

$$\begin{array}{r} 5 \\ - 3 \\ \hline \end{array}$$

$$\begin{array}{r} 9 \\ - 2 \\ \hline \end{array}$$





$$\begin{array}{r} 9 \\ - 1 \\ \hline \end{array}$$

C	F	T	R	Ê	S	N	W	U	M	K	G	N	K
Q	W	P	G	R	E	V	S	B	D	F	H	J	N
U	R	P	R	W	I	R	S	D	O	I	S	Q	C
A	Q	S	L	G	S	X	M	P	S	R	T	D	O
T	Z	W	Q	R	F	Z	R	B	R	S	V	B	I
R	F	T	Q	F	P	M	C	I	N	C	O	K	T
O	R	P	T	S	E	T	E	C	W	Y	P	M	O

Respostas: quatro, três, seis, um, cinco, dois, sete, oito.



LEIA E PINTE DE ACORDO COM DESENHO

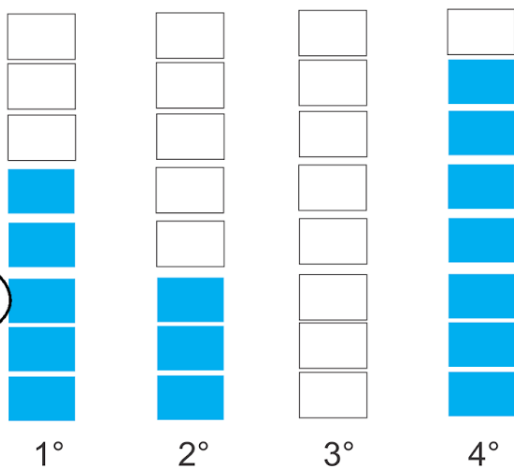

	MILHO MICO MINA		PIA PIPOCA PINÓQUIO
	FOGUEIRA FIGUEIRA FORNO		BALEIA BALA BALÃO
	PATO PANELA PAÇOCA		CANJICA CANJA CAMA
	BARCO BARRACA BARRO		CHAPÉU CHAPA CHÁCARA

ISRAELA KOTONA

Educador _____
 Aluno(a) _____

Ideias Matemáticas

Observe a legenda e responda:
 Cada quadrinho pintado representa um gol marcado por Gisele em cada partida do torneio feminino de futebol na escola.



Quantos gols Gisele marcou na ...

1° partida _____

3° partida _____

2° partida _____

4° partida _____

Escreva os números acima por extenso.

NAS BARRAQUINHAS DAS FESTAS JUNINAS VENDEM MUITAS GOSTOSURAS. ESCREVA UMA LISTA DELAS.

ISRAELA KOTONA

História, tradição e comidas típicas da festa junina.

Sugestões de brincadeiras Junina para fazer em família.

<https://youtu.be/vdB13musa5M>

<https://youtu.be/UCIVEjjYg4A>



REFERENCIAS BIBLIOGRAFICAS:

www.atividadeparaimprimir.com.brz

www.amorensina.com.br

BLOG.cantinhodosaber.com

www.misturadaalegria.com.br

www.ideiacriativa.com.br

SUGESTÕES DE VÍDEOS:

História, tradição e comidas típicas da festa junina.

Sugestões de brincadeiras Junina para fazer em família.

<https://youtu.be/vdB13musa5M>

<https://youtu.be/UCIVEjjYg4A>