



E.M. PREFEITO SEME ISSA

Aluno(a): _____

Ano: 4º ano A

Bairro: Piaí

Professor(a): Amanda

Fone: _____

6ª e 7ª APOSTILA 2021

Querida família,

*Logo estaremos encerrando nosso
2º Bimestre e iniciando nosso 2º semestre!*

*É muito importante que mantenham
a realização das atividades. Todo trabalho
feito até agora foi essencial e o processo de
aprendizagem não pode parar.*

*Agradeço pela parceria, dedicação e
paciência. Que possamos encerrar esse pe-
ríodo com saúde ao lado de quem amamos.*



*Com carinho e gratidão,
Professor(a):*

- **A 6ª apostila é referente aos dias 07, 08, 09, 10, 11, 14, 15, 16, 17, 18 e 19/06 (11 dias) e a 7ª apostila é referente aos dias 21, 22, 23, 24, 25, 28, 29, 30/06, 01/07 e 02/07.**
- **Estas APOSTILAS deverão ser devolvidas para correção no dia 01/07 (QUINTA-FEIRA):**

Atenciosamente

Equipe E.M “Prefeito Seme Issa”

- Sequência Didática - Festa Junina.



Origem da Festa Junina no Brasil

A quadrilha foi criada na Inglaterra, para comemorar as boas colheitas com fartura de comidas e festas. Em pares, os dançarinos faziam uma sequência coreografada de movimentos alegres. O estilo chegou ao Brasil no século 19, trazido pelas mães portuguesas, e foi sendo adaptado até fazer sucesso nas festas juninas.

O simbolismo da festa é a fertilidade da semente e a fogueira é o elemento principal.

As festas juninas homenageiam três santos em destaque: Santo Antônio (no dia 13 de junho), São João Batista (dia 24) e São Pedro (dia 29).

Na culinária temos comidas típicas: a canjica, o pé-de-moleque, bola de fubá, a batata assada, milho cozido, o queijo, a pipoca, etc.

Os fogos enfeitam o céu, e a música sertaneja e o forró alegrem as pessoas que dançam quadrilha e se balançam sorridentes a noite toda.

Compreendendo o Texto

01. O texto é:

uma poesia.

uma fábula.

texto informativo.


uma carta.

02. Qual o título do texto? _____

03. A dança da quadrilha foi trazida ao Brasil por quem?

04. Qual é o simbolismo da festa?

05. É o elemento principal? Represente desenhando.



MATEMÁTICA JUNINA

1) RESOLVA AS OPERAÇÕES COM ATENÇÃO:

$$\begin{array}{r} 237 \\ +114 \\ \hline \end{array}$$

$$\begin{array}{r} 819 \\ +179 \\ \hline \end{array}$$

$$\begin{array}{r} 215 \\ +365 \\ \hline \end{array}$$

$$\begin{array}{r} 239 \\ +418 \\ \hline \end{array}$$

$$\begin{array}{r} 247 \\ +217 \\ \hline \end{array}$$

$$\begin{array}{r} 209 \\ +564 \\ \hline \end{array}$$

$$\begin{array}{r} 866 \\ +116 \\ \hline \end{array}$$

$$\begin{array}{r} 458 \\ +328 \\ \hline \end{array}$$

$$\begin{array}{r} 239 \\ +141 \\ \hline \end{array}$$

$$\begin{array}{r} 137 \\ +736 \\ \hline \end{array}$$

$$\begin{array}{r} 328 \\ +335 \\ \hline \end{array}$$

$$\begin{array}{r} 535 \\ +119 \\ \hline \end{array}$$

$$\begin{array}{r} 230 \\ -114 \\ \hline \end{array}$$

$$\begin{array}{r} 861 \\ -424 \\ \hline \end{array}$$

$$\begin{array}{r} 773 \\ -316 \\ \hline \end{array}$$

$$\begin{array}{r} 534 \\ -209 \\ \hline \end{array}$$

$$\begin{array}{r} 932 \\ -514 \\ \hline \end{array}$$

$$\begin{array}{r} 864 \\ -235 \\ \hline \end{array}$$

$$\begin{array}{r} 982 \\ -756 \\ \hline \end{array}$$



$$\begin{array}{r} 571 \\ -169 \\ \hline \end{array}$$

$$\begin{array}{r} 530 \\ -305 \\ \hline \end{array}$$

$$\begin{array}{r} 347 \\ -228 \\ \hline \end{array}$$

$$\begin{array}{r} 876 \\ -257 \\ \hline \end{array}$$

$$\begin{array}{r} 693 \\ -154 \\ \hline \end{array}$$

$$\begin{array}{r} 962 \\ -313 \\ \hline \end{array}$$

$$\begin{array}{r} 281 \\ -112 \\ \hline \end{array}$$

$$\begin{array}{r} 430 \\ -221 \\ \hline \end{array}$$

$$\begin{array}{r} 746 \\ -217 \\ \hline \end{array}$$

NOME _____

06. Você conhece comidas típicas da Festa Junina? Cite algumas que já experimentou.

07. Prepare uma receita de uma comida típica da Festa Junina e escreva-a aqui. De preferir, com a ajuda da família faça uma foto em grupo de estudos ou a videar com sua receita finalizada.







Geografia

Faça uma pesquisa e descubra quais regiões de Brasil a Festa Junina é mais comemorada e pinte no mapa.





Ortografia e Gramática

01. Como ficaria as frases no plural? Escreva abaixo.

a) Na Festa Junina existe fogueira, bandeirinha, balão e dança típica.

b) Na dança de quadrilha a dançarino faz uma sequência de coreografia e movimentos.

02. Reescreva as palavras em ordem alfabética.

barraca - pipoca - queijos - pascoa - dança - fogueira - canjicada

03. Separe as sílabas das palavras e classifique-as em monossílaba, dissílaba, trissílaba ou polissílaba.

quadrilha		
dança		
pipoca		
barraca		
bandeirinha		
fogueira		
canjicada		

$993 \overline{) 3}$		$695 \overline{) 6}$
$692 \overline{) 9}$		$265 \overline{) 7}$

$$\begin{array}{r} 58 \\ \times 3 \\ \hline \end{array}$$

$$\begin{array}{r} 46 \\ \times 6 \\ \hline \end{array}$$

$$\begin{array}{r} 57 \\ \times 4 \\ \hline \end{array}$$

$$\begin{array}{r} 38 \\ \times 5 \\ \hline \end{array}$$

$$\begin{array}{r} 96 \\ \times 7 \\ \hline \end{array}$$

$$\begin{array}{r} 59 \\ \times 8 \\ \hline \end{array}$$

$$\begin{array}{r} 78 \\ \times 8 \\ \hline \end{array}$$

$$\begin{array}{r} 49 \\ \times 5 \\ \hline \end{array}$$

$$\begin{array}{r} 94 \\ \times 4 \\ \hline \end{array}$$

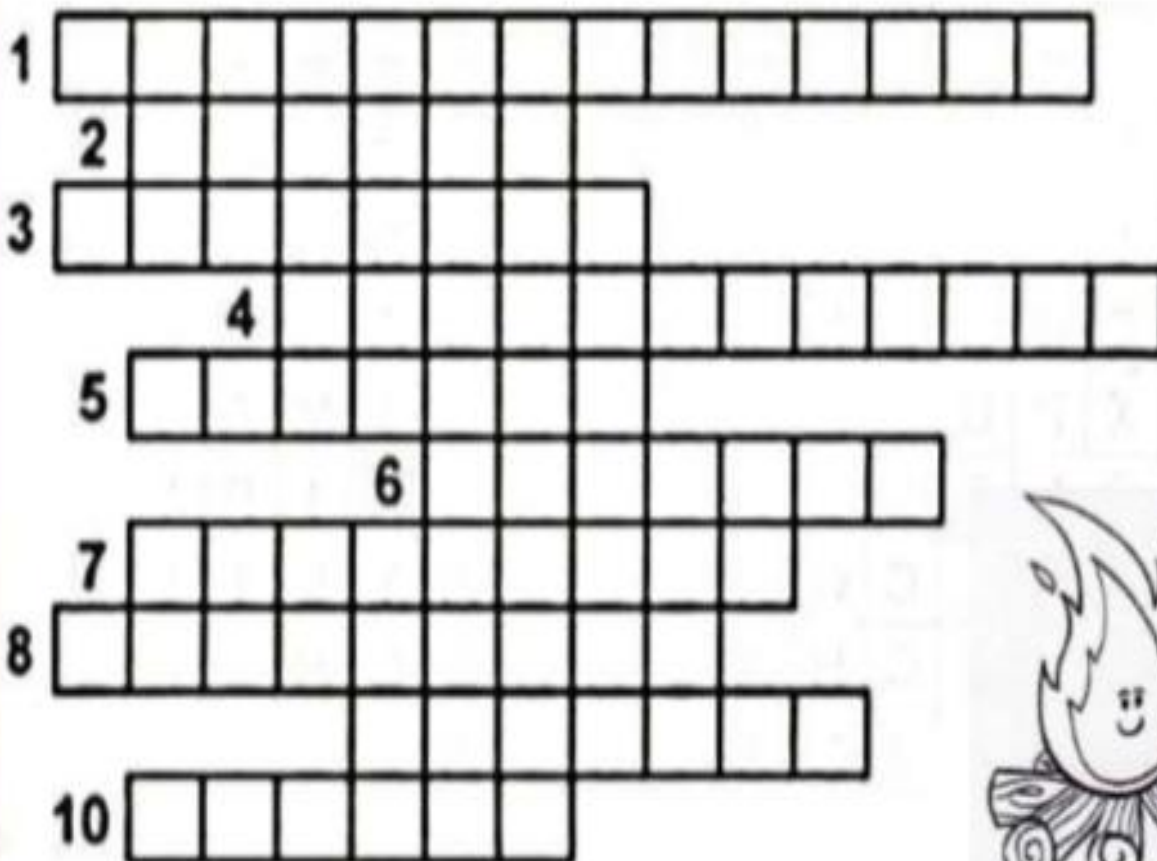
$$\begin{array}{r} 87 \\ \times 7 \\ \hline \end{array}$$





Ortografia e Gramática - Cruzadinha Junina

1. Roupa usada pelas mulheres.
2. Os homens usam na cabeça.
3. Colocamos fogo para esquentar a noite fria.
4. Enfeite usado na festança.
5. Comida feita com grãos, leite, coco e amendoim.
6. Instrumento muito usado na festa.
7. Dança que predomina.
8. Brincadeira em que todos escorregam.
9. Bebida feita com gengibre.
10. É branquinha, pode ser doce ou salgada.



Resolva os problemas.

a) Para ir a quadrilha Cebolinha saiu de casa as 19:50 levou 30 minutos para chegar a festa.

Que horas o Cebolinha chegou?


b) A Magali leva 50 minutos de sua casa ao local da festa, para chegar as 20:30, que horas ela precisará sair de casa?

c) Chico Bento para ir a festa, saiu de casa as 19:00, levou 5 minutos para chegar a casa do Cascão, onde ficou por 9 minutos, da casa do cascão até a festa são 20 minutos. A que horas Chico Bento chegou ao local da quadrilha?

Cálculos:



a)
b)
c)

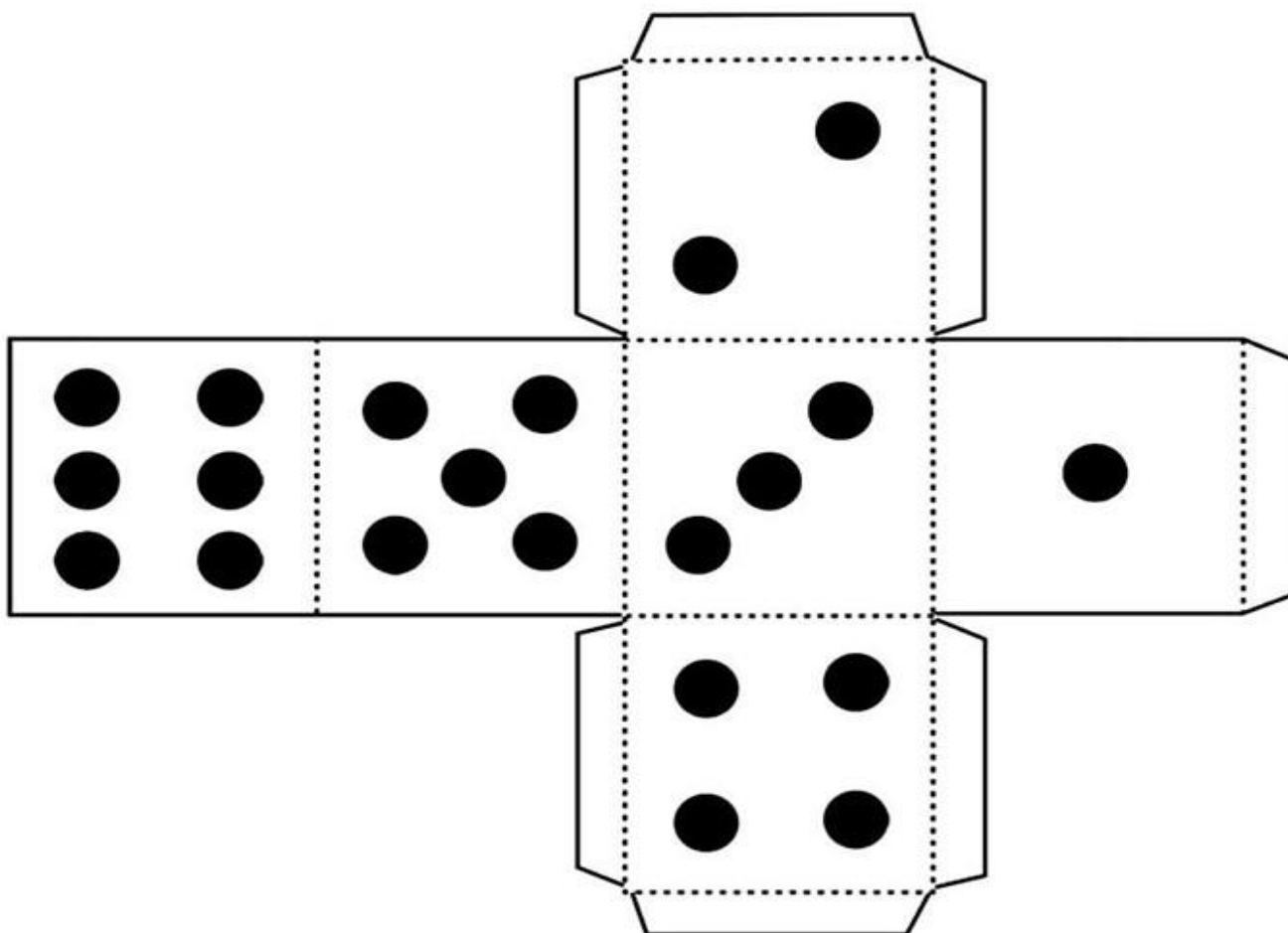





E.M PREFEITO SEME ISSA

NOME _____

Cole no papel durinho, recorte, monte, cole e brinque!

CAMINHO
DA ROÇA





DESAFIO 3

RECEITAS CAIPIRAS

Olá meu amor!!!

→ Pesquise uma **receita de uma comida típica** que você adore! Copie com a letra bem linda, tire uma foto e envie para a professora.

Beijos da profe!




DESAFIO 5

DANÇAS CAIPIRAS

Olá meu amor!!!

→ Para encerrarmos a semana de forma bem divertida! Você irá colocar uma **música junina**, gravar um vídeo fazendo uma **dança** bem animada e enviar para a professora.

Beijos da profe!



Referências bibliográficas

<file:///C:/Users/User/Downloads/APOSTILA%20FESTA%20JUNINA.pdf>

www.profrafaelak.blogspot.com

<file:///C:/Users/User/Downloads/APOSTILA%20FESTA%20JUNINA.pdf>

<http://miriamveiga.com/festa-junina-matematica-junina/>

<https://www.pinterest.it/pin/84020349283589434/>

<http://pedagogasdapaz.blogspot.com/2018/05/atividade-de-dividir-festa-junina.html>

Acesso em 12 de junho de 2021

CRONOGRAMA 6ª e 7ª APOSTILA**4ºano - A**

DATA	PÁGINAS
07/06	Livro de Português pág.68 e 69 / Livro EMAI pág. 35
08/06	Livro de Português pág. 70/Livro EMAI pág. 36
09/06	Livro de Matemática pág. 77 e 78/ e exercícios de horas em vídeos
10/06	Atividade impressa de horas e Artes
11/06	Livro de Ciências pág. 64 e 65
14/06	Livro de História pág. 111 e 112
15/06	Livro de Geografia pág. 59 e 60 / Português; caça palavras de Festa Junina.
16/06	Atividade em folha impressa de subtração com prova real/Artes Arraia de fotos divertidas
17/06	Atividade em folha impressa de divisão com prova real/ Educação Física
18/06	Produção escrita e atividade de horas
19/06	Reescrita de texto/ escrita do números correto /

Obs. Fica na contracapa da apostila

DATA	PÁGINAS
21/06	Atividade em folha pág, 02 e 03
22/06	Atividade em folha pág, 04
23/06	Atividade em folha pág, 05
24/06	Atividade em folha pág, 06
25/06	Atividade em folha pág, 07
28/06	Atividade em folha pág, 08
29/06	Atividade em folha pág, 09 e 10
30/06	Atividade em folha pág, 11 e 12
01/07	Atividade em folha pág, 13 Desafio 3
02/07	Atividade em folha pág, 13 Desafio 5

Obs. Fica na contracapa da apostila

E.M PREFEITO SEME ISSA

NOME _____
