



## **E.M. PREFEITO SEME ISSA**

Aluno(a): \_\_\_\_\_

Ano: 3º ano A

Bairro: Piaí

Professor(a): Salma Dias Ferrel Aranha Fone: (15) 998410395

### **6ª e 7ª APOSTILA 2021**

*Querida família,*

*Logo estaremos encerrando nosso  
2º Bimestre e iniciando nosso 2º semestre!*

*É muito importante que mantenham  
a realização das atividades. Todo trabalho  
feito até agora foi essencial e o processo de  
aprendizagem não pode parar.*

*Agradeço pela parceria, dedicação e  
paciência. Que possamos encerrar esse pe-  
ríodo com saúde ao lado de quem amamos.*



*Com carinho e gratidão,  
Professor(a):*

- **A 6ª apostila é referente aos dias 07, 08, 09, 10, 11, 14, 15, 16, 17, 18 e 19/06 (11 dias) e a 7ª apostila é referente aos dias 21, 22 23, 24, 25, 28, 29, 30/06, 01/07 e 02/07.**
- **Estas APOSTILAS deverão ser devolvidas para correção no dia 01/07 ( QUINTA-FEIRA):**

Atenciosamente

Equipe E.M “Prefeito Seme Issa”

E.M. PREFEITO SEME ISSA

ALUNO: \_\_\_\_\_

3º ANO A PROFESSORA SALMA

DATA: 21/06

SEQUÊNCIA DIDÁTICA: FESTA JUNINA


LEIA O TEXTO ABAIXO E RESPONDA ÀS QUESTÕES DO 1 AO 5.



"AS FESTAS JUNINAS SÃO COMEMORADAS HA' MUITO TEMPO! MAS... COMO ELAS COMEÇARAM?"



"VAMOS PEDIR UMA AJUDA AO CHICO BENTO PRA CONTAR ESTA HISTÓRIA..."



"ANTES DA ERA CRISTÃ, POVOS ANTIGOS FAZIAM UMA GRANDE FESTA NO MÊS DE JUNHO PARA TÊREM UMA BOA PLANTACÃO O ANO TODO..."



**E.M. PREFEITO SEME ISSA**

**ALUNO:** \_\_\_\_\_

**3º ANO A PROFESSORA SALMA**

**DATA: 21/06**

**SEQUÊNCIA DIDÁTICA: FESTA JUNINA**

1) O QUE SÃO FESTAS JUNINAS PARA VOCÊ? DESENHE.

2) O TEXTO QUE VOCÊ LEU É:

- A) UMA FÁBULA.
- B) UM POEMA.
- C) UMA HISTÓRIA EM QUADRINHOS.



3) DE ACORDO COM A HISTÓRIA EM QUADRINHOS, O QUE TEM EM JUNHO PARA COMEMORAR AS FESTAS JUNINAS?

---

---

---

4) VOCÊ CONHECE AS COMIDAS TÍPICAS DA FESTA JUNINA? FAÇA UMA LISTA.

5) EM QUE MÊS SÃO COMEMORADAS AS FESTAS JUNINAS?

- A) JUNHO
- B) JULHO
- C) AGOSTO

**FESTA JUNINA**



E.M. PREFEITO SEME ISSA

ALUNO: \_\_\_\_\_

3º ANO A PROFESSORA SALMA

DATA: 22/06

SEQUÊNCIA DIDÁTICA: FESTA JUNINA

Chico Bento escreveu várias coisas que aparecem na festa junina. Leia as palavras e escreva cada uma no lugar adequado:

BOCA DO PALHAÇO

QUENTÃO

MILHO COZIDO

PIPOCA

PÉ-DE-MOLEQUE

QUADRILHA

CUSCUZ

COCADA

BOLA NA LATA

CANJICA

PESCARIA

REFRIGERANTE

COMIDA	BEBIDA	BRINCADEIRA / DANÇA



E.M. PREFEITO SEME ISSA

ALUNO: \_\_\_\_\_

3º ANO A PROFESSORA SALMA

DATA: 22/06

SEQUÊNCIA DIDÁTICA: FESTA JUNINA

LISTA DE PALAVRAS:  
O QUE TEM NA FESTA JUNINA:



AGORA, AGRUPE CONSIDERANDO O NÚMERO DE SÍLABAS

DISSÍLABA \_\_\_\_\_

TRISSÍLABA \_\_\_\_\_

POLISSÍLABA \_\_\_\_\_



UTILIZE AS LETRAS DA PALAVRA PIPOCA  
PARA FORMAR OUTRAS PALVRS. VALE REPETIR LETRAS.

SIGA O EXEMPLO: **CAPA**

---

---

---

---

Leitura, interpretação e ortografia.

- Leia atentamente o texto a seguir:

FESTA JUNINA

A fogueira está queimando,  
toda noite se ilumina.  
Alegria, minha gente,  
vamos à festa junina!

O Zeca e a Maricota  
na quadrilha estão dançando,  
enquanto o Manuel Banguela  
a sanfona vai tocando...



1- Marque um X na opção que mostra sobre que festa a poesia trata:


- ( ) Carnaval ( ) Festa dos pais  
( ) Dia das mães ( ) Festa junina

2- Faça um X na opção onde as palavras rimam com **BALÃO**:

- ( ) Roupa, festa e pipoca. ( ) Turma, fogueira e cocada.  
( ) Pinhão, quentão e montão. ( ) Pipoca, amendoim e bandeirinha.

3- Marque com um X a opção onde está escrita a última sílaba do nome do desenho abaixo:

- ( ) NHA  
( ) BAN  
( ) RI  
( ) DEI



4- Faça um X na opção que apresenta o número de sílabas da palavra **PIPOCA**:

- ( ) 6  
( ) 3  
( ) 5  
( ) 4



5- Marque com um X a opção onde está escrita a mesma palavra quatro vezes:

A) 

Canela
CAMA
Cocada
<b>Camila</b>

B) 

PIPOCA
pipoca
Pipoca
<b>pipoca</b>

C) 

MILHO
<b>Mesa</b>
<b>Mingau</b>
milharal

D) 

<b>peixe</b>
Barraca
<b>Bandeirinha</b>
BALÃO

## **ATIVIDADE**

**1-FAÇA UMA LISTA DE BRINCADEIRAS JUNINAS.**

---

---

---

---

---

---

---

---

---

---

---

---

---

---

---

---

---

---

---

---

---

---

---



**2-QUAL SUA BRINCADEIRA JUNINA FAVORITA?**

---

**EXPLIQUE COMO SE BRINCA.**

---

---

---

---

---

---

---

---

---

---

---



## MATEMÁTICA JUNINA

1) RESOLVA AS OPERAÇÕES COM ATENÇÃO:

$$\begin{array}{r} 237 \\ +114 \\ \hline \end{array}$$

$$\begin{array}{r} 819 \\ +179 \\ \hline \end{array}$$

$$\begin{array}{r} 215 \\ +365 \\ \hline \end{array}$$

$$\begin{array}{r} 239 \\ +418 \\ \hline \end{array}$$

$$\begin{array}{r} 247 \\ +217 \\ \hline \end{array}$$

$$\begin{array}{r} 209 \\ +564 \\ \hline \end{array}$$

$$\begin{array}{r} 866 \\ +116 \\ \hline \end{array}$$

$$\begin{array}{r} 458 \\ +328 \\ \hline \end{array}$$

$$\begin{array}{r} 239 \\ +141 \\ \hline \end{array}$$

$$\begin{array}{r} 137 \\ +736 \\ \hline \end{array}$$

$$\begin{array}{r} 328 \\ +335 \\ \hline \end{array}$$

$$\begin{array}{r} 535 \\ +119 \\ \hline \end{array}$$

$$\begin{array}{r} 230 \\ -114 \\ \hline \end{array}$$

$$\begin{array}{r} 861 \\ -424 \\ \hline \end{array}$$

$$\begin{array}{r} 773 \\ -316 \\ \hline \end{array}$$

$$\begin{array}{r} 534 \\ -209 \\ \hline \end{array}$$

$$\begin{array}{r} 932 \\ -514 \\ \hline \end{array}$$

$$\begin{array}{r} 864 \\ -235 \\ \hline \end{array}$$

$$\begin{array}{r} 982 \\ -756 \\ \hline \end{array}$$

$$\begin{array}{r} 530 \\ -305 \\ \hline \end{array}$$

$$\begin{array}{r} 876 \\ -257 \\ \hline \end{array}$$

$$\begin{array}{r} 962 \\ -313 \\ \hline \end{array}$$

$$\begin{array}{r} 430 \\ -221 \\ \hline \end{array}$$

$$\begin{array}{r} 571 \\ -169 \\ \hline \end{array}$$

$$\begin{array}{r} 347 \\ -228 \\ \hline \end{array}$$

$$\begin{array}{r} 693 \\ -154 \\ \hline \end{array}$$

$$\begin{array}{r} 281 \\ -112 \\ \hline \end{array}$$

$$\begin{array}{r} 746 \\ -217 \\ \hline \end{array}$$



OBSERVE ATENTAMENTE A TABELA DE PREÇOS DA FESTA JUNINA E RESOLVA OS PROBLEMAS ABAIXO:

TABELA DE PREÇOS	
CHURRASCO.....	3 REAIS
REFRIGERANTE.....	2 REAIS
ÁGUA .....	1 REAL
PIPOCA .....	2 REAIS
BOLO DE FUBÁ.....	3 REAIS
DOCES TÍPICOS.....	2 REAIS
MILHO .....	2 REAIS
BRINCADEIRAS.....	2 REAIS
CARTELA DE BINGO.....	1 REAL



1. ROSINHA QUER COMPRAR 2 REFRIGERANTES, 1 CHURRASCO E 1 PEDAÇO DO DELICIOSO BOLO DE FUBÁ. QUANTO ELA DEVERÁ PAGAR?



RESPOSTA: \_\_\_\_\_

2. CHICO QUER COMPRAR 2 CHURRASCOS, 1 ÁGUA, 3 FICHAS DE BRINCADEIRAS E 1 DOCE TÍPICO. PARA PAGAR, ELE USARÁ UMA NOTA DE 20 REAIS. DE QUANTO SERÁ SEU TROCO?



RESPOSTA: \_\_\_\_\_

3. ZÉ LELÉ TEM 10 REAIS PARA GASTAR NA FESTA. ELE QUER GASTAR TUDO, COMENDO E SE DIVERTINDO. ESCREVA TRÊS SUGESTÕES DE FORMAS COM AS QUAIS ELE PODERÁ GASTAR SEUS 10 REAIS NA FESTA:

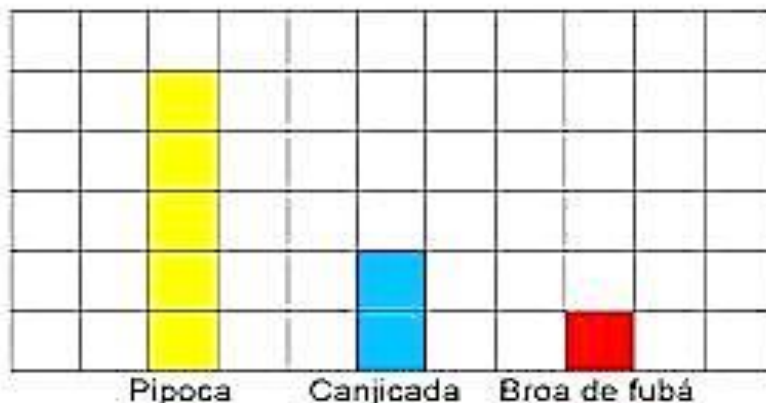


- A. \_\_\_\_\_  
B. \_\_\_\_\_  
C. \_\_\_\_\_

## ATIVIDADES

- 1) Tia Vitória fez uma pesquisa sobre as preferências de seus alunos em relação as comidas típicas de festa junina. Depois, ela registrou o resultado em um gráfico de colunas:

Cada quadrinho corresponde a 2 votos.



- a) Quantos alunos participaram desta pesquisa? \_\_\_\_\_
- b) Qual comida foi menos votada? \_\_\_\_\_
- c) Quantos votos ela teve? \_\_\_\_\_
- d) Qual foi mais votada? \_\_\_\_\_
- e) Quantos votos ela teve? \_\_\_\_\_
- f) Quantos votos teve a canjicada? \_\_\_\_\_



- 2) Resolva as adições, decompondo os números:

Dezenas	Unidades	=	D	U
		=	4	2
		=	+ 1	1
		=		

Dezenas	Unidades	=	D	U
		=	2	8
		=	+ 3	1
		=		

Dezenas	Unidades	=	D	U
		=	5	4
		=	+ 1	0
		=		

Dezenas	Unidades	=	D	U
		=	3	6
		=	+ 2	3
		=		

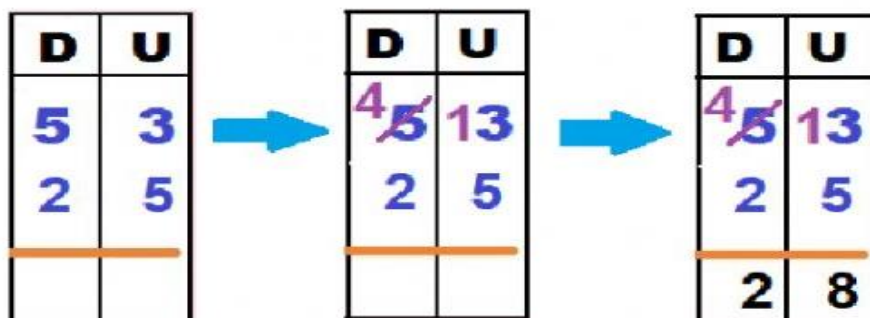
Dezenas	Unidades	=	D	U
		=	4	4
		=	+ 1	4
		=		

Dezenas	Unidades	=	D	U
		=	3	2
		=	+ 1	6
		=		

## SUBTRAÇÃO COM RESERVA

VAMOS RECORDAR PASSO A PASSO:

$$53 - 25 = 28$$



AGORA, É COM VOCÊ:

$35 - 18 =$

D	U

$27 - 19 =$

D	U

$40 - 15 =$

D	U

$87 - 38 =$

D	U

$20 - 11 =$

D	U

$49 - 36 =$

D	U

$91 - 18 =$

D	U

$77 - 58 =$

D	U

$90 - 32 =$

D	U

E.M. PREFEITO SEME ISSA

ALUNO: \_\_\_\_\_

3º ANO A PROFESSORA SALMA

DATA: 28/06

SEQUÊNCIA DIDÁTICA: FESTA JUNINA

# Jogo dos 7 ERROS



## OLHO VIVO JUNINO

OBSERVE A CENA ATENTAMENTE.



### LEIA AS AFIRMAÇÕES E RESPONDA SIM OU NÃO:

1. HÁ DEZESSETE BANDEIRINHAS NA FIGURA. \_\_\_\_\_
2. UM CASAL ESTÁ DANÇANDO. \_\_\_\_\_
3. O SOL BRILHA NO CÉU. \_\_\_\_\_
4. TODOS USAM CHAPÉUS DE PALHA. \_\_\_\_\_
5. HÁ UMA SANFONA E UMA BATERIA NA FIGURA. \_\_\_\_\_
6. PODEMOS VER UMA IGREJA AO FUNDO. \_\_\_\_\_
7. TODOS ESTÃO FELIZES. \_\_\_\_\_
8. TODOS OS MENINOS USAM BOTAS. \_\_\_\_\_
9. A MENINA USA UM VESTIDO. \_\_\_\_\_
10. TRÊS CRIANÇAS ESTÃO COM OS OLHOS FECHADOS. \_\_\_\_\_






# passatempos


1 - Complete os números das bandeirinhas seguindo a sequência correta:



2 - Complete a cruzadinha abaixo com coisas legais da festa junina:



3 - Escreva a quantidade de cada item abaixo, no espaço das linhas:





**E.M. PREFEITO SEME ISSA**

**ALUNO:** \_\_\_\_\_

**3º ANO A PROFESSORA SALMA**

**DATA: 01 e 02/06**

**SEQUÊNCIA DIDÁTICA: FESTA JUNINA**

REALIZE AS ATIVIDADES ABAIXO COM A SUA FAMÍLIA.

1º ATIVIDADE- DECORE O AMBIENTE COM TEMA JUNINO E ENVIE FOTO NO GRUPO DA ESCOLA. OBSERVE UM EXEMPLO;



2º ATIVIDADE – ORGANIZE UM ARRAIÁ VIRTUAL COM SUA FAMÍLIA, COM DIREITO A COMILANÇA: PIPOCA, ARROZ –DOCE, BOLO DE FUBÁ...



ORGANIZE UM ARRAIÁ VIRTUAL EM SUA CASA, COM A SUA FAMÍLIA ,  
GRAVE O SEU VÍDEO E COMPARTILHE NO GRUPO DA ESCOLA!