



E.M.BAIRRO MANUEL CLEMENTE

PROFESSORA: ANTONIA

1º ANO: A

ALUNO: _____

ATIVIDADES



ATIVIDADES DO PERÍODO DE 21/06 A 02/07

ROTEIRO E REFERÊNCIAS ANEXOS

Roteiro de atividades

DIA	DESCRIÇÃO	PÁGINA
	CAPA	01
	ROTEIRO DE ATIVIDADES	02
21/06	COMPLETAR O ALFABETO E AS VOGAIS	03
21/06	DESCOBRINDO O NUMERAL	04
22/06	ENCONTRE NO CAÇA-PALAVRAS SILÁBICO AS PALAVRAS QUE ESTÃO NO QUADRO.	05
22/06	OBSERVE CADA CENA E PINTE O NÚMERO CERTO, RESOLVA AS ADIÇÕES E ESCREVA OS VIZINHOS DOS NÚMEROS.	06
23/06	COMPLETE AS PALAVRAS COM A LETRA "H" E, DEPOIS PINTE SOMENTE OS DESENHOS INICIADOS PELA MESMA LETRA.	07
23/06	VAMOS RESOLVER O QUE SE PEDE.	08
24/06	1- LEIA E DEPOIS CIRCULE A LETRA "H"; 2- COMPLETE O NOME DAS FIGURAS ABAIXO; 3- JUNTE AS SÍLABAS E FORME AS PALAVRAS, E 4- COMPLETE COM A LETRA "H" E LEIA AS PALAVRAS.	09
24/06	COMPLETE O GRÁFICO DAS FRUTAS.	10
25/06	OBSERVE A CENA E RESOLVA.	11
25/06	CIRCULE A PALAVRA DE ACORDO COM O NOME DE CADA FIGURA.	12
28/06	TEMAS ORTOGRÁFICOS- LEIA PARA RESPONDER.	13
28/06	FIGURA GEOMETRICAS- RECORTE E COLE.	14
29/06	ESCREVA AS PALAVRAS NOS DESENHOS	15
29/06	PINTE A QUANTIDADE DE QUADRADINHOS REFERENTE A IDADE DAS CRIANÇAS.	16
29/06	SOMENTE LEITURA- FESTA JUNINA.	17
30/06	CAMINHO DA ROÇA- JOGO.	18/19
01/07	PESQUISE UMA BRINCADEIRA CAIPIRA BEM LEGAL E APÓS MANDE PARA A PROFESSORA.	
02/07	ENVIE UMA FOTO VESTIDA COM TRAJE CAIPIRA E MANDE A FOTO PARA A PROFESSORA.	



E.M. BAIRRO MANUEL CLEMENTE

IBIÚNA, 21 DE JUNHO DE 2021.

ALUNO (A): _____

PROFESSORA: ANTONIA

1º ANO: A

LÍNGUA PORTUGUESA

LINGUAGEM
ALFABETO

→ OBSERVE O ALFABETO:

A B C D E F G H I
J K L M N O P Q R
S T U V W X Y Z

→ REESCREVA SOMENTE AS VOGAIS

→ REESCREVA SOMENTE AS CONSOANTES

ensinoregular.com

https://www.google.com/search?q=atividades+de+lingua+portuguesa+1+ano&sxsrf=ALeKk00MkUOd_s nWyjCZ_Y0OR3ZdvwpZnQ:1623430321184&tbm=isch&source=iu&ictx=1&fir=VAwunmPnVb2lyM%252C AJVg9dmi6whTyM%252C_&vet=1&usg=AI4_- kSTaNXFmh2A7vXTg4SGxWSdo2x99Q&sa=X&ved=2ahUKewiBj_KchZDxAhXPE7kGHf8GCwgQ9QF6BAgG EAE&biw=1353&bih=640#imgsrc=YBpYYTa_h6SIYM&imgdii=r8fkHD3RpxnQEM



E.M.BAIRRO MANUEL CLEMENTE

IBIÚNA, 21 DE JUNHO DE 2021.

ALUNO (A): _____

PROFESSORA: ANTONIA

1º ANO: A

MATEMÁTICA

DESCOBRINDO O NUMERAL

1. DESCUBRA, NO QUADRO, OS NUMERAIS QUE ESTARIAM NO LUGAR DOS SÍMBOLOS E ESCREVA-OS ABAIXO.

1	2	3		5	6	7	
9	10	11	12		14	15	16
	18	19		21	22	23	
25		27	28	29		31	32
33	34		36	37	38		40



Disponível em:

https://www.google.com/url?sa=i&url=https%3A%2F%2Fdecompartilharensino.blogspot.com%2F2019%2F08%2Fatividades-com-numeros-para-o-1-ano-do.html&psig=AOvVaw3gMvs61Ts7qJaJA_RGL7KI&ust=1623525268807000&source=images&cd=vfe&ved=0CAIQjRxqFwoTCNjb2ZqIkPECFQAAAAAdAAAAABAD



E.M.BAIRRO MANUEL CLEMENTE

IBIÚNA, 22 DE JUNHO DE 2021.

ALUNO (A): _____

PROFESSORA: ANTONIA

1º ANO: A


LÍNGUA PORTUGUESA

ALUNO: _____

ENCONTRE NO CAÇA-PALAVRAS SILÁBICO AS PALAVRAS QUE ESTÃO NO QUADRO A SEGUIR.

HORTA - HOTEL - HÉLICE - HOMEM - HOSPITAL
HORA - HELENA - HELICÓPTERO

FE	HÉ	LI	CE	HU	RE	LO	HO
LI	GA	BRA	JU	CE	PO	MEM	RA
HO	XE	HE	LI	COP	TE	RO	VA
MEM	DI	LU	VER	TE	MU	ZA	BU
RE	HOR	FE	ME	XU	HOS	PI	TAL
SI	PO	CLI	GRA	NHA	ZI	TA	LE
GE	HOR	TA	DA	FU	BRA	NHO	CHO
JO	LHA	HE	LE	NA	LHO	HO	TEL

 Educação & Transformação

Disponível em:

<https://www.google.com/url?sa=i&url=https%3A%2F%2Fwww.educacaoetransformacao.com.br%2Fatividades-com-a-letra-h%2Fatividades-com-a-letra-h-caca-palavras%2F&psig=AOvVaw2SHsLGtnJipURTJWAwKsWh&ust=1623518064268000&source=images&cd=vfe&ved=0CAIQjRqxqFwoTCJck6amKkPECFQAAAAAdAAAAABAD>



E.M. BAIRRO MANUEL CLEMENTE

IBIÚNA, 22 DE JUNHO DE 2021.

ALUNO (A): _____
















PROFESSORA: ANTONIA
















1º ANO: A
















MATEMÁTICA
















ATIVIDADES
















- Observe cada cena e pinte o número certo:
















														
1	2	3	4	5	6	7	8	9	10	11	12	13	14	15

														
1	2	3	4	5	6	7	8	9	10	11	12	13	14	15

														
1	2	3	4	5	6	7	8	9	10	11	12	13	14	15

														
1	2	3	4	5	6	7	8	9	10	11	12	13	14	15









														
1	2	3	4	5	6	7	8	9	10	11	12	13	14	15

														
1	2	3	4	5	6	7	8	9	10	11	12	13	14	15

- Resolva as adições:

$\square + 2 = 8$	$\square + 3 = 8$	$\square + 4 = 8$	$\square + 5 = 8$	$\square + 8 = 8$	$\square + 6 = 8$
-------------------	-------------------	-------------------	-------------------	-------------------	-------------------

- Escreva os vizinhos dos números que indicam a quantidade de votos de cada brincadeira:

	3			9			7			10	
---	----------	---	---	----------	---	---	----------	---	---	-----------	---

Disponível em:

https://www.google.com/url?sa=i&url=https%3A%2F%2Fbr.pinterest.com%2Fpin%2F313140980332550470%2F&psig=AOvVaw3gMvS61Ts7qJaJa_RGL7KI&ust=1623525268807000&source=images&cd=vfe&ved=0CAIQjRxfwoTCNjb2ZqkPECFQAAAAAdAAAAABAO



E.M.BAIRRO MANUEL CLEMENTE

IBIÚNA, 23 DE JUNHO DE 2021.

ALUNO (A): _____

PROFESSORA: ANTONIA

1º ANO: A

LÍNGUA PORTUGUESA

COMPLETE AS PALAVRAS COM A LETRA H E.
DEPOIS, PINTE SOMENTE OS DESENHOS QUE
COMEÇAM COM A LETRA H .



___ ORTA



C ___ AVE



GALIN ___ A



___ ELICÓPTERO



___ OSPITAL



___ OMEM

PINTE OS QUADROS QUE TENHAM PALAVRAS
ESCRITAS COM A LETRA H .

BOCA

FLOR

HIENA

AGULHA

NINHO

GATO

COELHO

HOMEM

H

07

disponível em:

<https://www.google.com/url?sa=i&url=https%3A%2F%2Ffoliversil.blogspot.com%2F2016%2F07%2Fatividades-letra->

<h.html&psig=AOvVaw3WurHFee2poZEnuQV71DLU&ust=1623519054533000&source=images&cd=vfe&ved=0CAIQjRxqFwoTCKjU7qOOkPECFQAAAAAdAAAAABAa>



E.M. BAIRRO MANUEL CLEMENTE

IBIÚNA, 23 DE JUNHO DE 2021.


ALUNO (A): _____

PROFESSORA: ANTONIA

1º ANO: A

MATEMÁTICA

VAMOS RESOLVER O QUE SE PEDE?



✎ QUANTAS FRUTAS TEM?

a) NA PRIMEIRA CESTA:

b) NA SEGUNDA CESTA:

c) NA TERCEIRA CESTA:

✎ NA PRIMEIRA CESTA TEM:



✎ NA SEGUNDA CESTA TEM:



✎ NA TERCEIRA CESTA TEM:



✎ AO TODO, AS CESTAS TÊM: FRUTAS.

Disponível em:

[https://www.google.com/url?sa=i&url=https%3A%2F%2Fwww.pinterest.se%2Fpin%2F596093700648574704%2F%3Famp_client_id%3DCLIENT_ID\(%26mweb_unauth_id%3D%7B%7Bdefault.session%7D%7D%26amp_url%3Dhttps%253A%252F%252Fwww.pinterest.se%252Famp%252Fpin%252F596093700648574704%252F%26open_share%3Dt&psig=AOvVaw3JXJ1oqki7pOaDC9qL0z5T&ust=1623528268341000&source=images&cd=vfe&ved=0CAIQjRxqFwoTCPCz_-Wik_ECFQAAAAAdAAAAABAh](https://www.google.com/url?sa=i&url=https%3A%2F%2Fwww.pinterest.se%2Fpin%2F596093700648574704%2F%3Famp_client_id%3DCLIENT_ID(%26mweb_unauth_id%3D%7B%7Bdefault.session%7D%7D%26amp_url%3Dhttps%253A%252F%252Fwww.pinterest.se%252Famp%252Fpin%252F596093700648574704%252F%26open_share%3Dt&psig=AOvVaw3JXJ1oqki7pOaDC9qL0z5T&ust=1623528268341000&source=images&cd=vfe&ved=0CAIQjRxqFwoTCPCz_-Wik_ECFQAAAAAdAAAAABAh)



E.M. BAIRRO MANUEL CLEMENTE

IBIÚNA, 24 DE JUNHO DE 2021.

ALUNO (A): _____

PROFESSORA: ANTONIA

1º ANO: A

LÍNGUA PORTUGUESA

1. LEIA E DEPOIS CIRCULE A LETRA H:

HORA

HOJE

HAVIA

HÁBITO


HERÓI

HUMOR

HINO

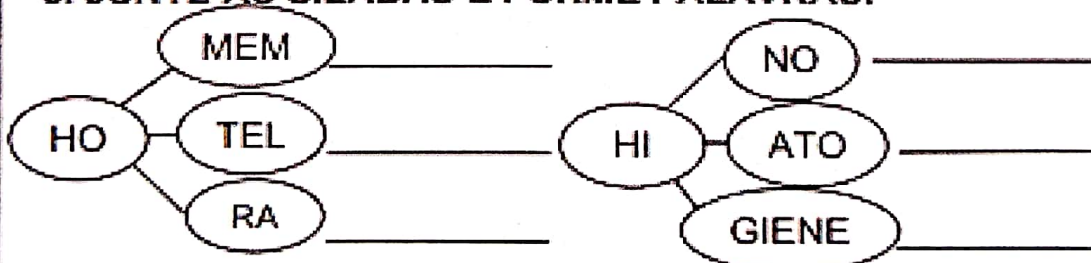
HOSPITAL

2. COMPLETE O NOME DAS FIGURAS ABAIXO:



HE ___ CÓP ___ RO HI ___ PÓ ___ MO HIE ___

3. JUNTE AS SÍLABAS E FORME PALAVRAS:



4. COMPLETE COM H E LEIA AS PALAVRAS:



GALIN__A GOLFIN__O CAMIN__ÃO DIN__EIRO

Tudo Sala de Aula

disponível em:

<https://www.google.com/url?sa=i&url=https%3A%2F%2Fwww.tudosaladeaula.com%2F2021%2F03%2Fatividade-educacao-fisica-letramento-letra-H.html&psig=AOvVaw3WurHFee2poZEnuQV71DlU&ust=1623519054533000&source=images&cd=vfe&ved=0CAIQjRxxqFwoTCKjU7qOOkPECFQAAAAAdAAAAABAe>



E.M. BAIRRO MANUEL CLEMENTE

IBIÚNA, 25 DE JUNHO DE 2021.

ALUNO (A): _____


PROFESSORA: ANTONIA

1º ANO: A

MATEMÁTICA

MATEMÁTICA

- OBSERVE A CENA E RESOLVA.



1 - QUANTAS CRIANÇAS ESTÃO BRINCANDO NO BALANÇO?

2 - QUANTAS BRINCAM NO ESCORREGADOR?

3 - QUANTAS BRINCAM COM AREIA?

4 - QUANTAS CRIANÇAS AO TODO?

5 - QUANTOS BALDINHOS HÁ NA CENA?



Alfakids.org

Educação Infantil e Ensino Fundamental I - Todos os direitos reservados

Disponível em:

https://www.google.com/url?sa=i&url=https%3A%2F%2Fbr.pinterest.com%2Fpin%2F473792823297922635%2F&psig=AOvVaw3JXJ1oqki7pOaDC9qL0zST&ust=1623528268341000&source=images&cd=vfe&ved=0CAIQjRxqFwoTCPCz_-Wik_ECFQAAAAAdAAAAABBL



E.M. BAIRRO MANUEL CLEMENTE

IBIÚNA, 25 DE JUNHO DE 2021.

ALUNO (A): _____

PROFESSORA: ANTONIA

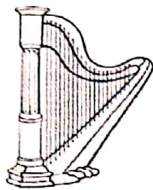
1º ANO: A

LÍNGUA PORTUGUESA

ATIVIDADE

1. CIRCULE A PALAVRA DE ACORDO COM O NOME DE CADA FIGURA.

LETRA H



HORA
HOJE
HARPA



HOMEM
HORTELÃ
HOJE



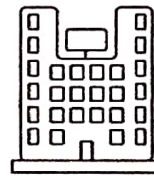
HOJE
HOMEM
HORA



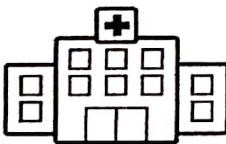
HÉLICE
HIENA
HINO



HIENA
HORA
HELICÓPTERO



HOTEL
HOMEM
HARPA



HINO
HOSPITAL
HORTA



HOTEL
HINO
HORTA



HÉLICE
HOMEM
HORA



HORA
HOMEM
HIENA

www.indagacao.com.br - Site Indagação

Disponível em:

https://www.google.com/url?sa=i&url=https%3A%2F%2Fbr.pinterest.com%2Fpin%2F754353006312754964%2F&psig=AOvVaw3U-aUok_Pg_yZXMdU3pW3&ust=1623523407425000&source=images&cd=vfe&ved=0CAIQjRxqFwoTClIQI6KekPECFQAAAAAdAAAAABAZ



E.M.BAIRRO MANUEL CLEMENTE

IBIÚNA, 28 DE JUNHO DE 2021.

ALUNO (A): _____

PROFESSORA: ANTONIA

1º ANO: A

LÍNGUA PORTUGUESA

H - TEMAS ORTOGRÁFICOS



L EIA PARA RESPONDER:

HERÓI	HINO	HARPA
HABILIDADE	HÓSPEDE	HOTEL
HELICÓPTERO	HÉLICE	HOMEM



Q UAL É A PALAVRA?

- A) TEM 5 LETRAS E TERMINA COM L.
- B) NESTA PALAVRA ESTÁ A PALAVRA IDADE.
- C) FAZ PARTE DO HELICÓPTERO, TEM ACENTO AGUDO E TEM 6 LETRAS.
- D) É UM INSTRUMENTO MUSICAL E TEM 5 LETRAS.
- E) É O NOME QUE SE DÁ A ALGUÉM CORAJOSO QUE SALVA E AJUDA AS PESSOAS.
- F) É UMA PALAVRA QUE ESTÁ RELACIONADA À MÚSICA E TEM 4 LETRAS.
- G) É A ÚLTIMA PALAVRA DOS NOMES ACIMA.
- H) É UM MEIO DE TRANSPORTE AÉREO.
- I) AQUELE QUE ESTÁ HOSPEDADO NO HOTEL.

Disponível em:

https://www.google.com/url?sa=i&url=https%3A%2F%2Fsoatividades.com%2Fatividades-de-ortografia-com-letra-h-alfabetizacao%2Fefai3027_alfabetizacao_ortografia_letra_h%2F&psig=AOvVaw3U-aUok_Pg_yZXMdU3pW3&ust=1623523407425000&source=images&cd=vfe&ved=0CAIQjRxqFwoTClIQI6KekPECFQAAAAAdAAAAABAU



E.M.BAIRRO MANUEL CLEMENTE

IBIÚNA, 28 DE JUNHO DE 2021.





ALUNO (A): _____

PROFESSORA: ANTONIA

1º ANO: A

MATEMÁTICA

- RECORTE AS CARINHAS E COLE-AS NO ANIMAL CORRESPONDENTE.



Disponível em:

https://www.google.com/url?sa=i&url=https%3A%2F%2Fwww.pinterest.com%2Fpin%2F771663717376401855%2F&psig=AOvVaw3JXJ1oqki7pOaDC9qL0zST&ust=1623528268341000&source=images&cd=vfe&ved=0CAIQjRxqFwoTCPCz_-Wik_ECFQAAAAAdAAAAABBo



E.M.BAIRRO MANUEL CLEMENTE

IBIÚNA, 29 DE JUNHO DE 2021.

ALUNO (A): _____

PROFESSORA: ANTONIA

1º ANO: A

LÍNGUA PORTUGUESA

ESCREVA AS PALAVRAS NOS DESENHOS

hélíce






Helena

helicóptero

horta

Hélio

harpa



Disponível em:

https://www.google.com/url?sa=i&url=https%3A%2F%2Fonlinecursosgratuitos.com%2F50-atividades-com-a-letra-h-para-imprimir-alfabetizacao-1o-ano%2F&psig=AOvVaw3UgP4bDCg1wVvQ-BvDFMOg&ust=1623768003271000&source=images&cd=vfe&ved=0CAIQjRxqFwoTCMiT5rutl_ECFQAAAAdAAAAABAJ



E.M.BAIRRO MANUEL CLEMENTE

IBIÚNA, 29 DE JUNHO DE 2021.

ALUNO (A): _____

PROFESSORA: ANTONIA

1º ANO: A

MATEMÁTICA

PINTE A QUANTIDADE DE QUADRADINHOS REFERENTE A IDADE DE CADA CRIANÇA.



CAROL

BETO

FABI

TIAGO

NINA

LUCA

8

10

7

9

6

5

Disponível em:

<https://www.google.com/url?sa=i&url=https%3A%2F%2Fwww.mestredosaber.com.br%2Fatividades-de-matematica-1->

[ano%2F&psig=AOvVaw14VZoTgM9yxDt3sMAQe_Qp&ust=1623767677684000&source=images&cd=vfe&ved=0CAIQjRxqFwoTCMijgpusl_ECFQAAAAAdAAAAABAD](https://www.google.com/url?sa=i&url=https%3A%2F%2Fwww.mestredosaber.com.br%2Fatividades-de-matematica-1-ano%2F&psig=AOvVaw14VZoTgM9yxDt3sMAQe_Qp&ust=1623767677684000&source=images&cd=vfe&ved=0CAIQjRxqFwoTCMijgpusl_ECFQAAAAAdAAAAABAD)



E.M. BAIRRO MANUEL CLEMENTE

IBIÚNA, 29 DE JUNHO DE 2021.

ALUNO (A): _____

PROFESSORA: ANTONIA

1º ANO: A

História/Geografia

FESTA JUNINA



A quadrilha foi criada, na Inglaterra, para comemorar as boas colheitas com fartura de comidas e festejos. Chegou ao Brasil trazida pelos portugueses.

O simbolismo da festa é de fertilidade do solo.

Os santos em destaque são: Santo Antônio, 13 de junho; São João, 24 de junho; e São Pedro, 29 de junho.

A fogueira é o elemento principal.

Na culinária, temos as comidas típicas: a canjica, o pé-de-moleque, a mandioca, a batata assada, o quentão, a pipoca, etc.

Os fogos enfeitam o céu, e a música sertaneja e o forró alegram as pessoas, que dançam e se balançam sorridentes a noite toda.

Disponível em:

https://www.google.com/url?sa=i&url=https%3A%2F%2Fbr.pinterest.com%2Fpin%2F11259067806872841%2F&psig=AOvVaw3r8ELjptRu7RtMVYQa83f&ust=1623761213263000&source=images&cd=vfe&ved=0CAIQjRxqFwoTCOC1pZqUI_ECFQAAAAAdAAAAABAd



E.M. BAIRRO MANUEL CLEMENTE

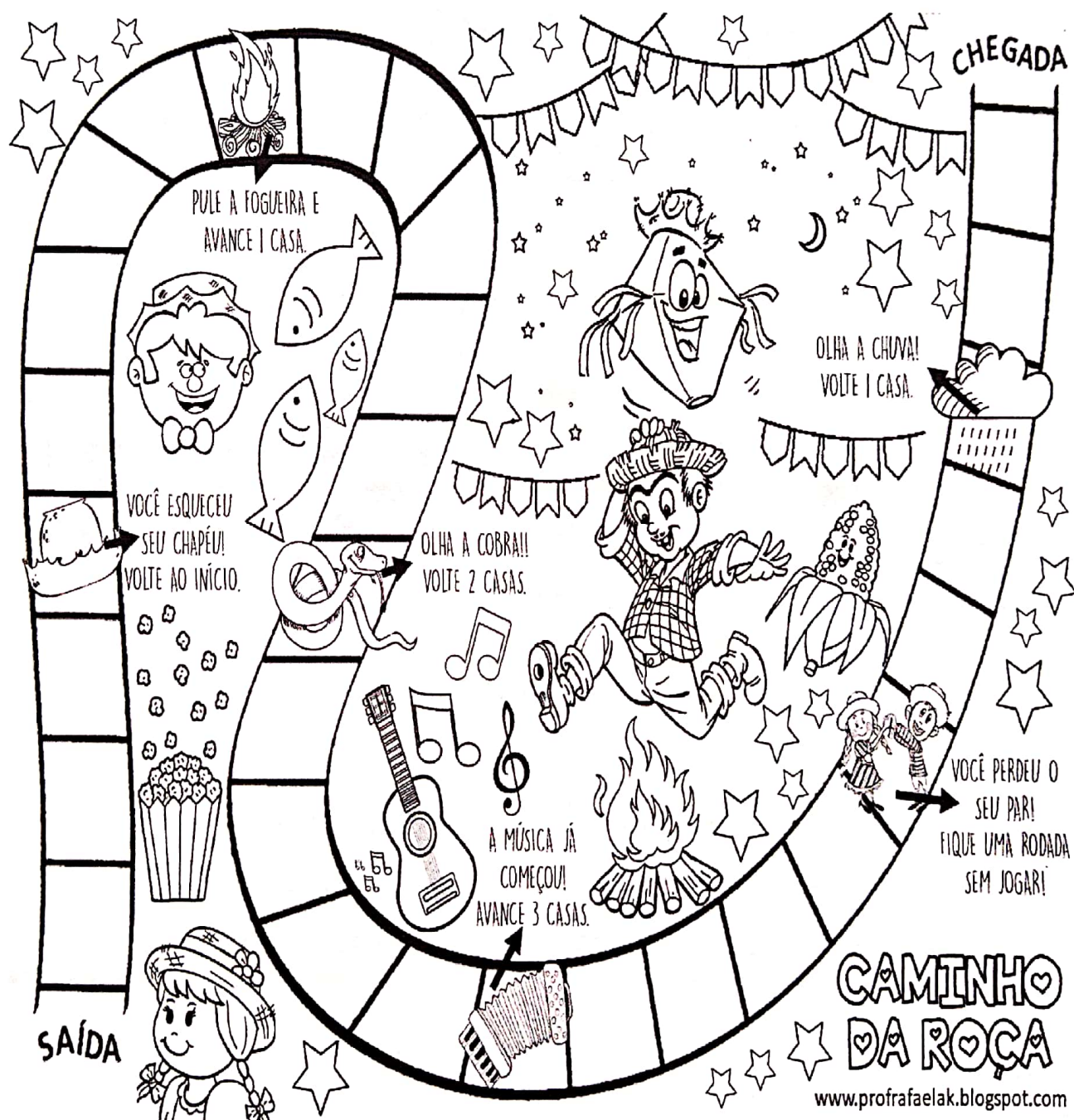
IBIÚNA, 30 DE JUNHO DE 2021.

ALUNO (A): _____

PROFESSORA: ANTONIA

1º ANO: A

MATEMÁTICA



Disponível em:

https://www.google.com/url?sa=i&url=https%3A%2F%2Fwww.criarrecriarensinar.com%2F2020%2F06%2F2ffesta-junina-jogo-trilha-para-imprimir.html&psig=AOvVaw3W-IMJFI3P4U231gHzN0Ze&ust=1623762145232000&source=images&cd=vfe&ved=0CAIQjRxqFwoTCLjHoc6XI_ECFQAAAAAdAAAAABAa



E.M.BAIRRO MANUEL CLEMENTE

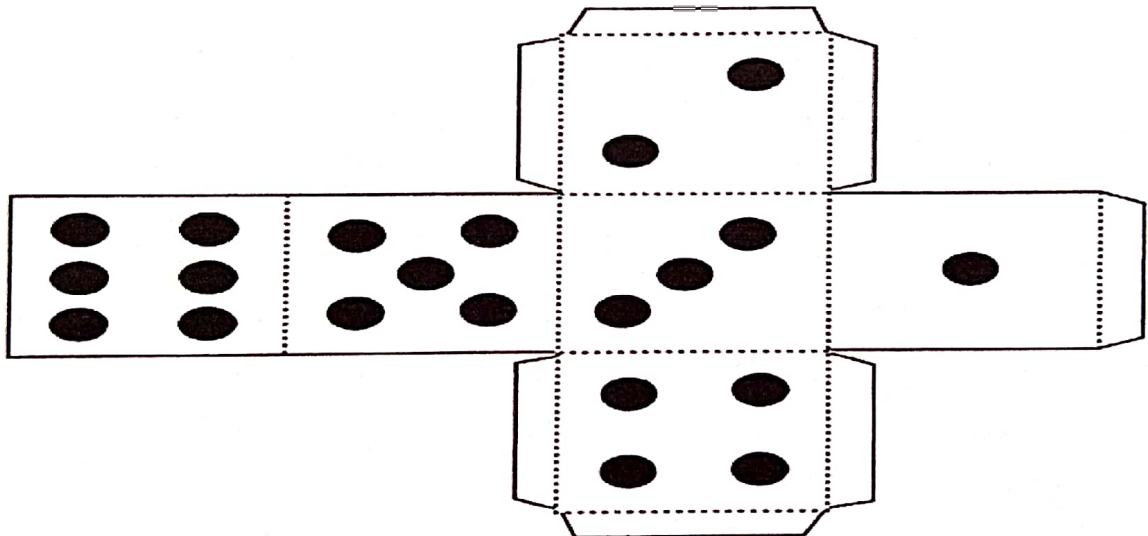
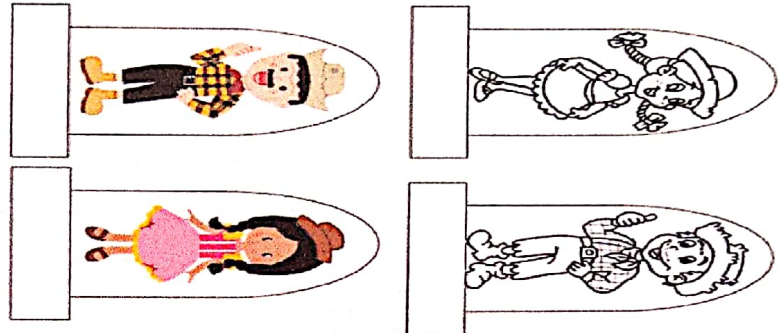
IBIÚNA, 30 DE JUNHO DE 2021.

ALUNO (A): _____

PROFESSORA: ANTONIA

1º ANO: A

CAMINHO
DA ROÇA



-RECORTAR O DADO ,DOBRAR E COLAR PARA BRINCAR;

-RECORTAR OS CAIPIRINHAS PARA JOGAR.

O JOGO COMEÇA JOGANDO O DADO, CONFORME O NÚMERO QUE PARAR É A CASA QUE VAI ANDAR NA TRILHA,...

Disponível em:

https://www.google.com/url?sa=i&url=https%3A%2F%2Fwww.criarrecriarensinar.com%2F2020%2F06%2F2ffesta-junina-jogo-trilha-para-imprimir.html&psig=AOvVaw3W-IMJFI3P4U231gHzNOZe&ust=1623762145232000&source=images&cd=vfe&ved=0CAIQjRxqFwoTCLjHoc6XI_ECFQAAAAAdAAAAABAa