



E.M. BAIRRO MANUEL CLEMENTE.
PROFESSORA: VIVIANE
ALUNO: _____

3º ANO A

ATIVIDADES DO PERÍODO DE 21/06 à 02/07

7ª APOSTILA



ROTEIRO E REFERÊNCIAS EM ANEXO



E.M. BAIRRO MANUEL CLEMENTE.

PROFESSORA: VIVIANE

ALUNO: _____

3º ANO A

Roteiro de atividades		
DIA	DESCRIÇÃO	PÁGINA
21/06	Respostas da cruzadinha: 1-tamanduá;2-bode;3-porco;4-cachorro;5-ovelha;6-sapo;7-tatu;8-girafa;9-coelho;10-escorpião.	3
21/06	Completar com os dias da semana, fases da lua, estações do ano e meses do ano.	4
22/06	Respostas da cruzadinha: 1-costa;2-comida;3-baralho;4-garrafa;5-janela;6-machado;7-aranha;8-barata;9-caju;10-piolho.	5
22/06	Ligar os pontos seguindo a sequência numérica, formando a figura e colorindo a seguir.	6
23/06	Respostas da cruzadinha: 1-cama;2-chão;3-material;4-plantas;5-mesa;6-brinquedos;7-roupa;8-louça.	7
23/06	Respostas da cruzadinha: trigésimo quarto; trigésimo; primeiro; vigésimo segundo; vigésimo; oitavo; nono; sétimo; décimo primeiro.	8
24/06	Respostas da cruzadinha: 1-urbana;2-centro;3-bairros;4-rural;5-natureza;6-terra;7-vender.	9
24/06	Respostas da cruzadinha: A-quatorze; B-quarenta e sete; C-oitenta e cinco; D-dezessete; E-sessenta; F-trinta; G-setenta; H-noventa	10
25/06	Encontrar os nomes dos animais herbívoros no caça-palavras.	11
25/06	Organizar os números em cada lado do triângulo de forma que a soma dos três números dê 10.	12
28/06	Encontrar as palavras do quadro no caça-palavras;	13
28/06	Respostas dos sete erros: 1-Chapéu do Cascão; 2-lenha do forno; 3-laço da Magali; 4-coraçãozinho; 5-bota do Cascão; 6-bigode do Cascão; 7-florzinha do vestido da Magali.	14
29/06	Ler o texto, responder as perguntas oralmente, separar as sílabas e classifica-las em: monossílabas, dissílabas, trissílabas e polissílabas.	15 e 16
29/06	Descobrir qual número substitui a figurinha para dar o resultado da conta.	17
30/06	Respostas da cruzadinha: 1-deliciosos; 2-cedo; 3-cestinha; 4-excelente; 5-macieira; 6-cinquenta; 7-fácil; 8-cenoura; 9-doceira.	18
30/06	Ligar as contas aos seus respectivos resultados.	19
01/07	Montar o dado ou usar um dado qualquer, recortar os marcadores e jogar conforme as regras de acordo com o tabuleiro.	20 e 21
02/07	Organizar uma corrida de saco com os seus familiares e divirta-se. Se possível, filmar para enviar no grupo de Whatsapp.	22

Para ter acesso aos vídeos das aulas acesse através do link da playlist da 7ª apostila no Youtube.

<https://www.youtube.com/playlist?list=PLLGAQKWkAw1GBSohvcAf-vG46YiKQKKN5>



21/06/2021

Língua Portuguesa

OS ANIMAIS TERRESTRES

Observe alguns dos animais terrestres e encaixe os nomes deles no diagrama abaixo.

10

9

4

7

6

3

2

1

2

1

8

5

10



Você sabia que o vôo do beija-flor chega a atingir até 100 km/h e que ele bate as asas 50 a 80 vezes por segundo?



21/06/2021

Matemática


DIVERTINDO COM AS SEQUÊNCIAS

✏ Complete de acordo com o que se pede.



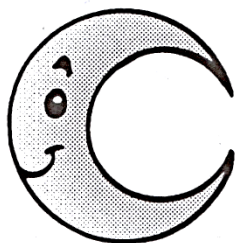
a) A seqüência dos dias da semana:

Domingo			Quarta-feira			Sábado
---------	--	--	--------------	--	--	--------

b) As seqüência das fases da lua:



lua nova



c) A seqüência das estações do ano:

primavera

inverno

d) As seqüências dos meses do ano:

março

junho

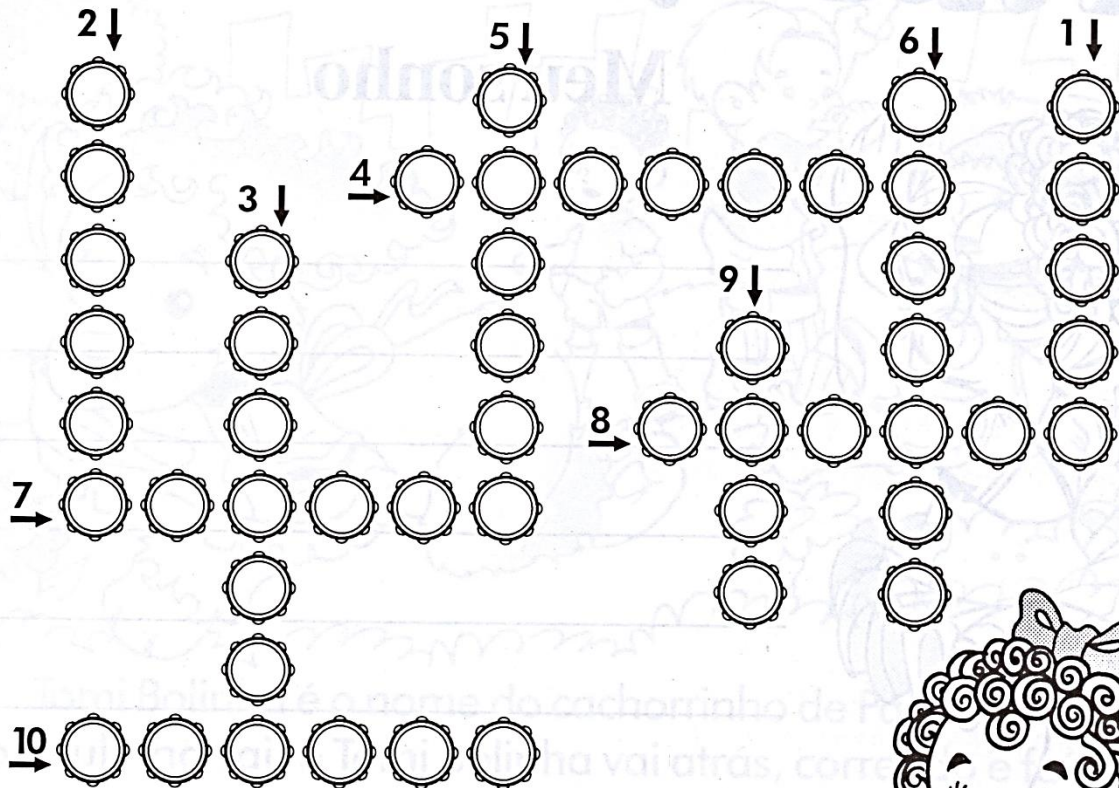
setembro



22/06/2021

Língua Portuguesa

ADIVINHE CRUZANDO



O que é, o que é...

- 1- Que toda pessoa tem e nunca vê?
- 2- Que o coelho quer, mas não quer ser?
- 3- A carta que nunca leva recado?
- 4- Que tem pescoço, mas não tem cabeça?
- 5- Que nos dá o poder de ver através da parede?
- 6- Em casa está calado, mas no mato está cortando?
- 7- Não tem carne nem osso, vive na teia e põe ovos como a galinha?
- 8- Uma coisa que não é cara?
- 9- A fruta que tem a semente fora da casca?
- 10- Que anda com os pés na cabeça?





22/06/2021

Matemática

LIGANDO OS NÚMEROS

Ligue certo e descubra o desenho.

30
29. 31 35. 36.
32. 34. 37.
28. 33. 38.
25. 26. 39. 41. 42.
27. 40. 43.
24. 44.
22. 23 48 47 46 45
21. 49 50
20. 19 18 17
16.
15.
14.
7.
8 13.
6. 9.
12.
5. 10.
11.
4.
3.
2.
1.



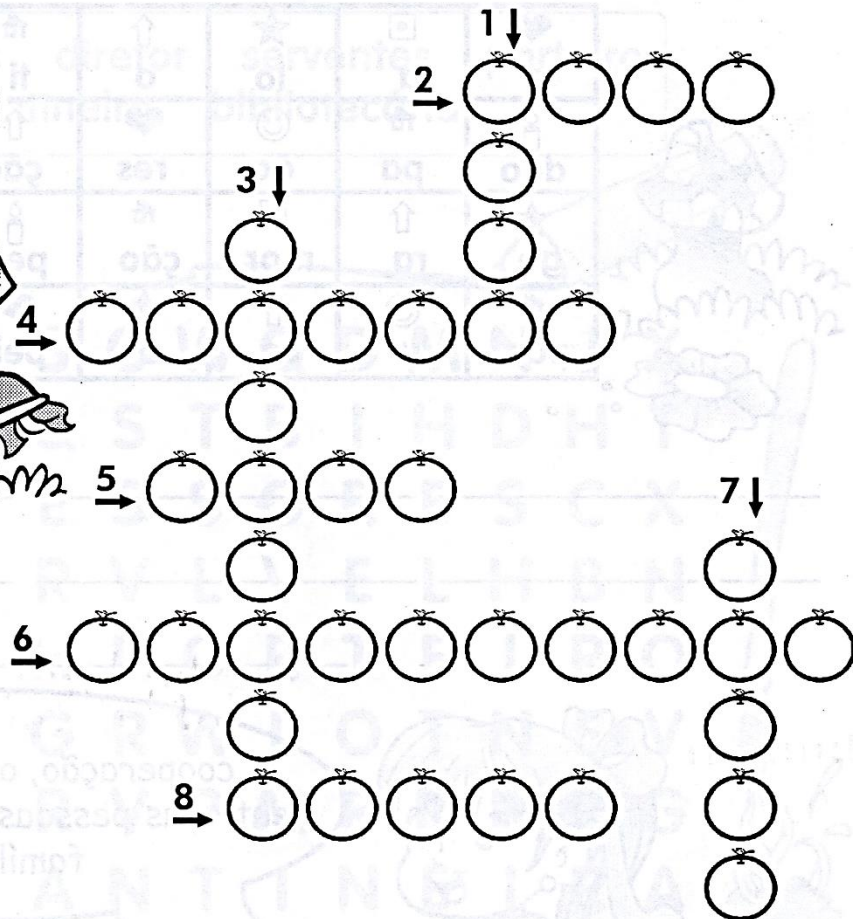
23/06/2021

Língua Portuguesa/História

ATIVIDADES DA FAMÍLIA



O que você pode fazer para ajudar sua família nas atividades domésticas?



- 1- Arrumar a _____.
- 2- Varrer o _____.
- 3- Organizar seu _____ escolar.
- 4- Regar as _____.
- 5- Arrumar a _____.
- 6- Recolher os _____.
- 7- Guardar a _____ no armário.
- 8- Lavar e guardar a _____.



23/06/2021

Matemática

GRUZA-NÚMEROS ORDINAIS

22º ↓

34º ↓

30º →

1º ↓

20º →

8 ↓

9º →

7º ↓


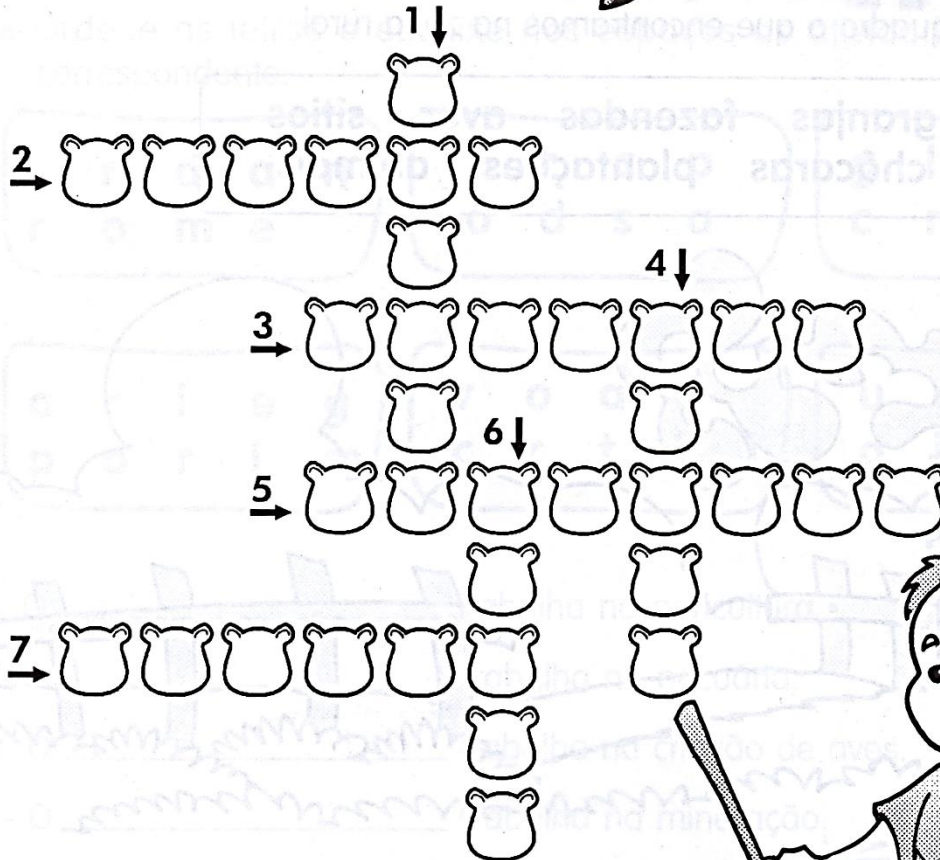
11º



24/06/2021

Língua Portuguesa/Geografia

INTERPRETAÇÃO CRUZADA



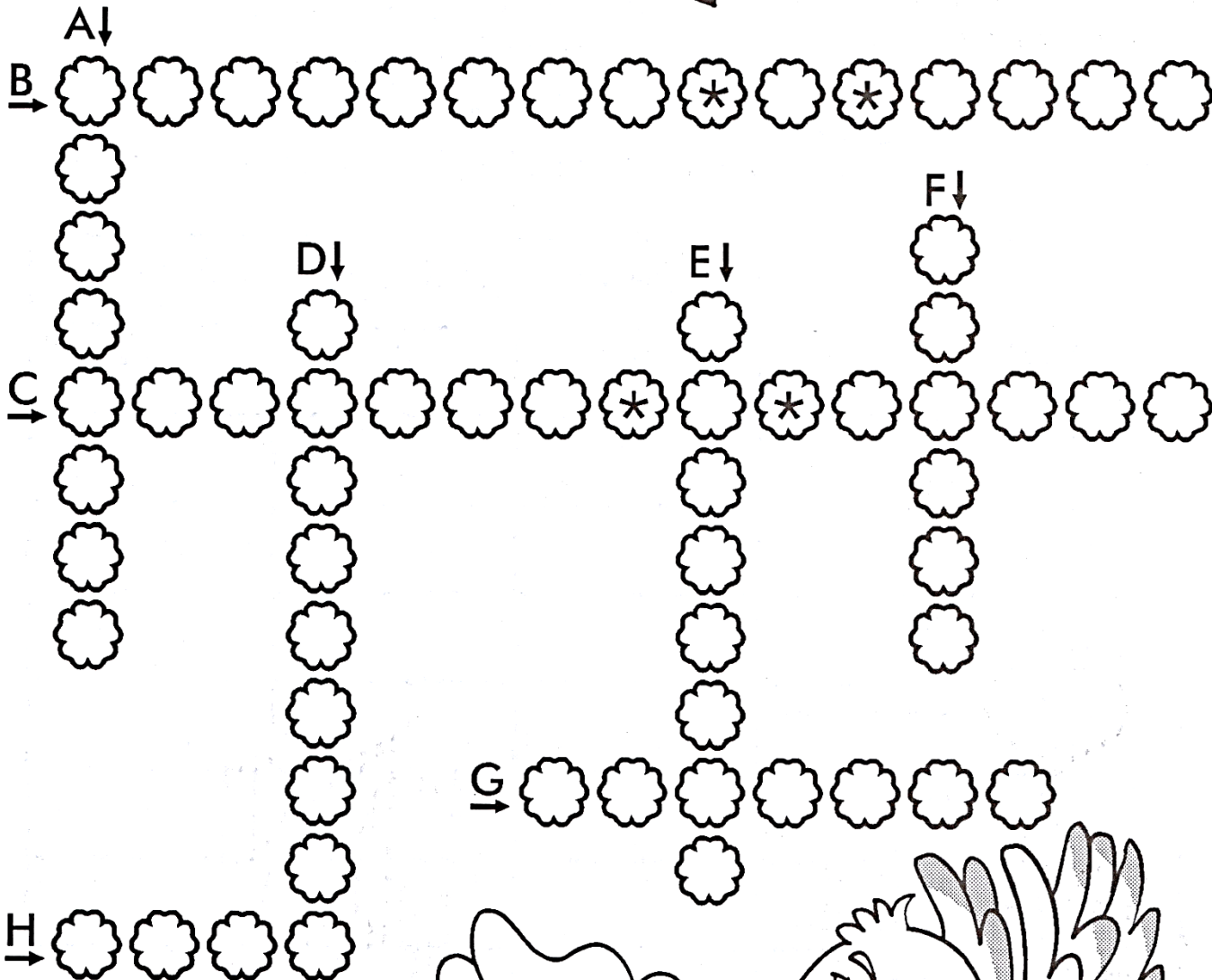
- 1- A cidade é chamada de zona _____.
- 2- O movimento é maior no _____ da cidade.
- 3- Numa cidade existem vários _____.
- 4- Sítios e fazendas ficam na zona _____.
- 5- Na zona rural as pessoas vivem em contato com a _____.
- 6- Eles cultivam a _____.
- 7- As pessoas da zona rural vão à cidade para _____ o que produzem.



24/06/2021

Matemática

GRUZA - NÚMEROS



- A) 1 dezena e 4 unidades
- B) 4 dezenas e 7 unidades
- C) 8 dezenas e 5 unidades
- D) 1 dezena e 7 unidades
- E) 6 dezenas
- F) 3 dezenas
- G) 7 dezenas
- H) 9 unidades





25/06/2021

Língua Portuguesa/Ciências

ANIMAIS HERBÍVOROS

☞ Encontre no caça-palavras os nomes de alguns animais herbívoros:

peixe-boi girafa vaca elefante

cavalo ovelha coelho zebra



Animais herbívoros são aqueles que só se alimentam de vegetais.




25/06/2021

Matemática

ENIGMA

Coloque os números 1, 2, 3, 4, 5 e 6 nos coraçõezinhos do triângulo abaixo de modo que a soma em cada lado seja 10.






28/06/2021

Língua Portuguesa

CATA-PALAVRAS

Identifique no quadro o que encontramos na zona rural.

granjas fazendas aves sítios
chácaras plantações animais



G D F A Z E N D A S J X
R H K L M R B V F Í R S
A N I M A I S J H T B A
N S J H R T L V M I H V
J T B X H S T F G O W E
A N C H Á C A R A S N S
S R G J R G P M H D N R
K P L A N T A Ç Õ E S V



E.M. BAIRRO MANUEL CLEMENTE.
PROFESSORA: VIVIANE
ALUNO: _____

3º ANO A

28/06/2021

Matemática

JOGO DOS 7 ERROS!



WWW.PEQUENOSGRANDESPENSANTES.COM.BR



29/06/2021

Língua Portuguesa

A CIGARRA DOCEIRA



Celina é uma cigarra que mora na cidade das macieiras, numa casa de cimento, no meio dos cipós.

Celina é uma excelente doceira. Ela faz docinhos de cereja, melancia e cenoura. Todos são macios e deliciosos.

Logo cedo, a cigarra voa para o alto da macieira para cantar anunciando o seu negócio.

– Venham todos ao entardecer
Comprar os docinhos que vou fazer
De cenoura, cereja e melancia
Para comer e nunca mais se esquecer.

Ao entardecer, Celina coloca os doces numa cestinha e sai para vendê-los na cidade.

Cinqüenta minutos depois, ela volta para casa dizendo:


– Que felicidade! Foi muito fácil vender os meus docinhos!

Solange Valadares



TRABALHANDO O TEXTO

- ✎ Quem é Celina?
 - ✎ O que a cigarra faz?
 - ✎ Quais são as qualidades dos docinhos?
 - ✎ Como Celina faz para vender os doces?
 - ✎ Por que a cigarra se sente feliz?
 - ✎ O que deixa você feliz?
-
- ✎ Separe as palavras em sílabas e classifique-as quanto ao número de sílabas, conforme modelo.



Palavras	Sílabas	Classificação
Celina	Ce - li - na	trissílaba
Cidade		
Delicioso		
Anunciando		
Cimento		
Esquecer		
Cipós		
Macieira		



29/06/2021

Matemática

CALCULE RÁPIDO

✏ Troque os desenhos por algarismos de 1 a 9 e complete.

$3 + \text{✱} = 10$

$4 + \text{✱} = 10$

$3 + \underline{\quad} = 10$

$4 + \underline{\quad} = 10$

$5 + \blacktriangle = 10$

$1 + \blacklozenge = 10$

$5 + \underline{\quad} = 10$

$1 + \underline{\quad} = 10$

$2 + \bullet = 10$

$8 + \text{☾} = 10$

$2 + \underline{\quad} = 10$

$8 + \underline{\quad} = 10$

$7 + \text{✌} = 10$


$6 + \text{✏} = 10$

$7 + \underline{\quad} = 10$

$6 + \underline{\quad} = 10$

$9 + \text{✚} = 10$

$9 + \underline{\quad} = 10$



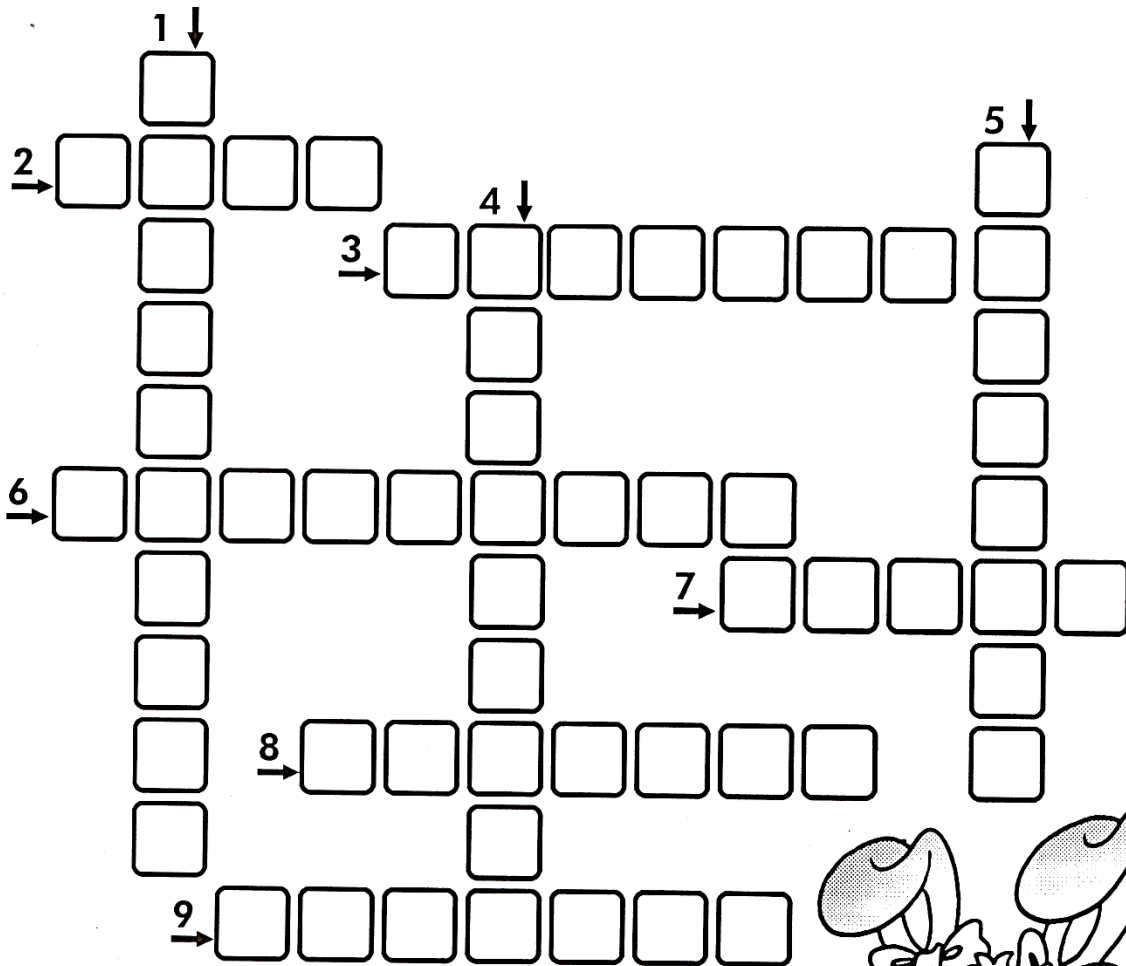
A Matemática não vem pronta.
Vai sendo construída passo a passo, enquanto se vive cada
aprendizado.




30/06/2021

Língua Portuguesa

CRUZA-FÁCIL



- 1- O mesmo que saborosos.
- 2- Antônimo de tarde.
- 3- Diminutivo de cesta.
- 4- Muito bom, ótimo.
- 5- Árvore frutífera que dá a maçã.
- 5- Cinco dezenas.
- 7- O que não é difícil.
- 8- O que o coelho gosta de comer.
- 9- Aquela que faz doces.





30/06/2021

Matemática

SOMANDO E LIGANDO

$29 + 21 =$

90

$52 + 18 =$

60

$37 + 3 =$

30

$46 + 14 =$

80

$21 + 9 =$


70

$68 + 22 =$

50

$73 + 7 =$

40






E.M. BAIRRO MANUEL CLEMENTE.

PROFESSORA: VIVIANE

ALUNO: _____

3º ANO A

01/07/2021



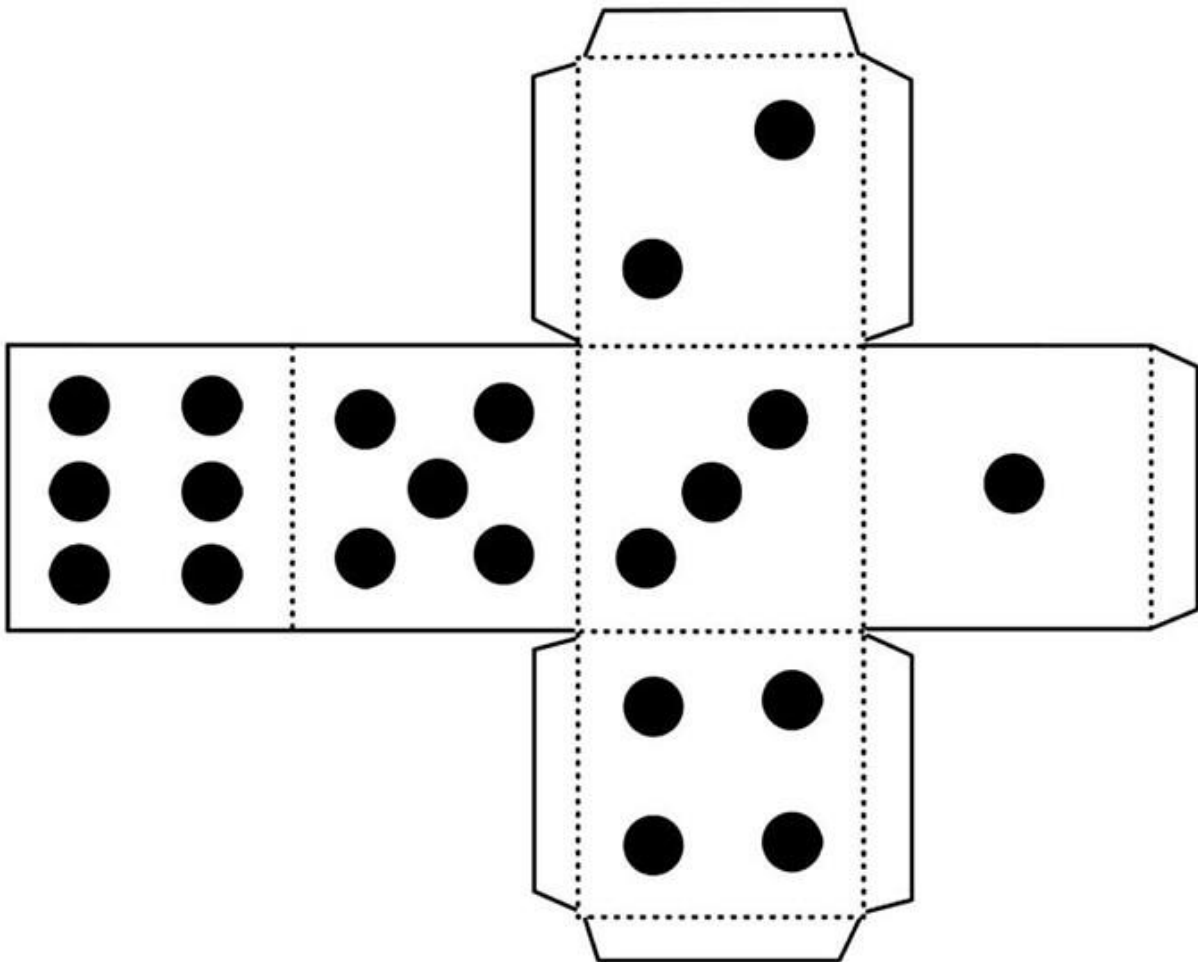


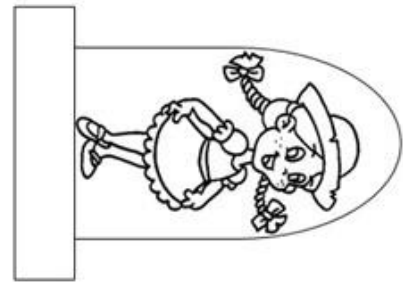

CAMINHO DA ROÇA
www.profrfaelak.blogspot.com



E.M. BAIRRO MANUEL CLEMENTE.
PROFESSORA: VIVIANE
ALUNO: _____

3º ANO A

CAMINHO
DA ROÇA





E.M. BAIRRO MANUEL CLEMENTE.
PROFESSORA: VIVIANE
ALUNO: _____

3º ANO A

02/07/2021



5. Corrida do Saco

Objetivo:

Desenvolver a agilidade, equilíbrio, coordenação motora.

Materiais:

1 saco de lixo para cada participante

Desenvolvimento:

Primeiramente é necessário definir o ponto de partida e o ponto de chegada. A seguir os participantes deverão ficar em pé dentro do saco. Ao sinal de comando todos deverão sair pulando. Vence a brincadeira quem conseguir chegar primeiro.

Acesse o link para assistir o vídeo:

<https://www.youtube.com/watch?v=WXXAfIX5oHg>



Referências

DIA		PÁGINA
21/06	Coleção “Aprendizagem Divertida” 8 anos - Livro 4	32
21/06	Coleção “Aprendizagem Divertida” 8 anos - Livro 5	14
22/06	Coleção “Aprendizagem Divertida” 8 anos - Livro 3	11
22/06	Coleção “Aprendizagem Divertida” 8 anos - Livro 5	15
23/06	Coleção “Aprendizagem Divertida” 8 anos - Livro 4	73
23/06	Coleção “Aprendizagem Divertida” 8 anos - Livro 5	27
24/06	Coleção “Aprendizagem Divertida” 8 anos - Livro 4	85
24/06	Coleção “Aprendizagem Divertida” 8 anos - Livro 5	30
25/06	Coleção “Aprendizagem Divertida” 8 anos - Livro 4	48
25/06	Coleção “Aprendizagem Divertida” 8 anos - Livro 5	31
28/06	Coleção “Aprendizagem Divertida” 8 anos - Livro 4	86
28/06	http://www.pequenosgrandespensantes.com.br/2014/05/atividades-ineditas-para-festas-juninas.html?spref=pi&m=1	-----
29/06	Coleção “Aprendizagem Divertida” 8 anos - Livro 3	24 e 25
29/06	Coleção “Aprendizagem Divertida” 8 anos - Livro 5	32
30/06	Coleção “Aprendizagem Divertida” 8 anos - Livro 3	26
30/06	Coleção “Aprendizagem Divertida” 8 anos - Livro 5	40
01/07	https://www.criarrecriarensinar.com/2020/06/festa-junina-jogo-trilha-para-imprimir.html	-----
02/07	20 Atividades para se divertir em casa- Camila Serezino, Fernando Nery e Rogério Barbosa.	8