



E.M. BAIRRO MANUEL CLEMENTE.  
PROFESSORA: IZABEL  
ALUNO: \_\_\_\_\_

4º ANO A

**ATIVIDADES DO PERÍODO DE 27/06/2021 a 02/07/2021**

**7ª APOSTILA**



**ROTEIRO E REFERÊNCIAS EM ANEXO**



E.M. BAIRRO MANUEL CLEMENTE.

PROFESSORA: IZABEL

4º ANO A

ALUNO: \_\_\_\_\_

<b>DIA</b>	<b>DESCRIÇÃO</b>	<b>PÁGINA</b>
21/06	Escrever os nomes conforme se pede, observando a necessidade do uso da letra maiúscula ou minúscula.	3
21/06	Completar a cruzadinha com os números como se leem.	4
22/06	Respostas do caça-palavras: Alagoas; São Paulo; Bahia; Rondônia; Amazonas; Roraima; Minas Gerais; Pará; Paraná; Santa Catarina; Rio de Janeiro; Mato Grosso; Ceará.	5
22/06	Respostas da cruzadinha: A- vinte mil; B- noventa mil; C- trinta mil; D- oitenta mil; E- cinquenta mil; F- dez mil.	6
23/06	Respostas da cruzadinha: 1-formiga; 2-minhoca; 3-polvo; 4-besouro; 5-caracol; 6-barata; 7-abelha; 8-borboleta; 9-aranha; 10-camarão; 11-bicho da seda; 12-escorpião; 13-mosquito.	7
23/06	Respostas da cruzadinha: 1-oitenta; 2-vinte; 3-sessenta; 4-vinte; 5-noventa; 6-cem; 7-quarenta; 8-setenta.	8
24/06	Respostas: 1-município; 2-campo; 3-Estado; 4-Brasil; 5-cidade; 6-país.	9
24/06	Responder as perguntas que se pede.	10
25/06	Respostas da cruzadinha: Verticais: 1-gargarejar; 2-furtar; 3-corpulento; 4-vermelho,5-urna. Horizontais: A-gargalo; B-armadura; C- perto; D- tartaruga; E- forte; F-colar.	11
25/06	Arredondar para a o número mais próximo de acordo com o critério pedido. (dezena, centena ou unidade de milhar).	12
28/06	Respostas da cruzadinha: Verticais: 1-surda; 2-votar; 3-repórter; 4-verdade,5-arborizar; 6-escamar; 7-bordar. Horizontais: A-escalar; B-verde; C- vergonha; D-sorteadada; E-devagar; F-cardume; G-berço.	13
28/06	Completar o quadro com os números propostos localizando-os conforme as ordens e classes.	14
29/06	Encontrar as palavras pedidas no caça-palavras.	15
29/06	Respostas dos sete erros:1-Chapéu do Cascão; 2-lenha do forno; 3-laço da Magali; 4-coraçãozinho; 5-bota do Cascão; 6-bigode do Cascão; 7-florzinha do vestido da Magali.	16
30/06	Juntar as sílabas formando palavras.	17
30/06	Efetuar as adições e completar os quadrinhos conforme o resultado.	18
01/06	Montar o dado ou usar um dado qualquer, recortar os marcadores e jogar conforme as regras de acordo com o tabuleiro.	19 e 20
02/06	Confeccionar os materiais com sucata e jogar com os seus familiares. Se possível enviar fotos ou filmes no grupo de WhatsApp.	21

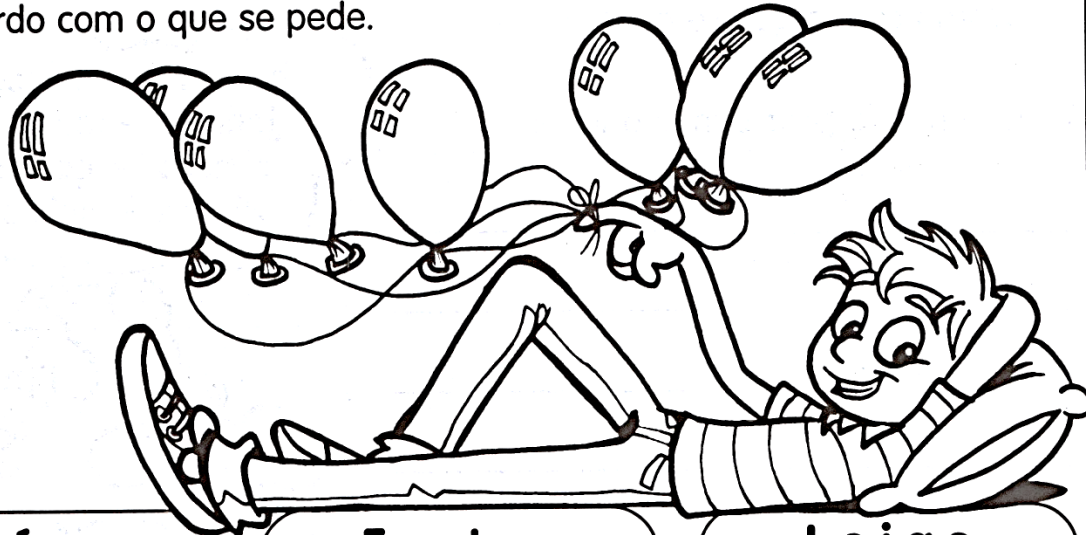


21/06/2021

Língua Portuguesa

# MOSSA LÍNGUA

✎ Para escrever as palavras, usamos letras maiúsculas ou minúsculas. Complete de acordo com o que se pede.



**Países**

---

---

**Frutas**

---

---

**Lojas**

---

---

**Pessoas**

---

---

**Ruas**

---

---

**Objetos**

---

---

**Animais**

---

---

**Bairros**

---

---

**Estados**

---

---




21/06/2021

Matemática

# NUMERAL CARDINAL

O numeral cardinal indica quantidade.



1 ↓

2 ↓

3 ↓

4 ↓

5 ↓

A →

6 ↓

B →

C →

7 ↓

D →

E →

8 ↓

F →

9 ↓

G →

H →

Verticais

- 1- 40
- 2- 17
- 3- 20
- 4- 11
- 5- 30
- 6- 60
- 7- 13
- 8- 2
- 9- 12

Horizontais

- A- 15
- B- 19
- C- 70
- D- 7
- E- 100
- F- 200
- G- 1 000
- H- 80





E.M. BAIRRO MANUEL CLEMENTE.

PROFESSORA: IZABEL

4º ANO A

ALUNO: \_\_\_\_\_

22/06/2021

Língua Portuguesa/História/Geografia

# CACA - ESTADOS!

✏ Procure, no caça-palavras, os nomes de alguns Estados brasileiros. Depois, no seu caderno, escreva os nomes dos Estados que você encontrou com suas respectivas capitais.

R	O	N	D	Ô	N	I	A	N	S	Q	M
O	R	X	C	H	P	K	L	G	A	R	A
R	S	C	L	D	R	S	D	R	N	I	T
A	M	A	Z	O	N	A	S	Z	T	O	O
I	I	R	R	A	N	R	L	V	A	*	*
M	N	W	G	G	P	L	V	N	*	D	G
A	A	J	T	Ã	A	M	C	R	C	E	R
T	S	K	P	L	R	R	E	J	A	*	O
R	*	H	P	L	A	M	A	G	T	J	S
P	G	Q	P	G	N	X	R	K	A	A	S
A	E	P	R	Y	Ã	L	Ã	D	R	N	O
R	R	T	G	J	P	H	M	N	I	E	P
Ã	A	X	C	H	P	K	L	G	N	I	K
J	I	C	B	A	H	I	A	R	A	R	D
F	S	R	F	R	F	T	B	Z	J	O	R
R	Z	A	L	A	G	O	A	S	L	S	J
S	Ã	O	*	P	A	U	L	O	M	X	N





22/06/2021

Matemática

# CRUZA DEZENAS DE MILHAR

Encaixe na cruzadilha as dezenas de milhar pedidas e depois escreva os numerais nos respectivos balões.

A

A ↓

B

C

D ↓

E

F

- A- 2 dezenas de milhar.
- B- 9 dezenas de milhar.
- C- 3 dezenas de milhar.
- D- 8 dezenas de milhar.
- E- 5 dezenas de milhar.
- F- 1 dezena de milhar.



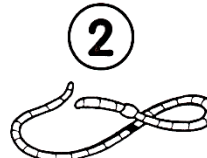




23/06/2021

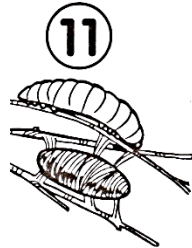

Língua Portuguesa/Ciências





# CRUZA-INVERTEBRADOS






Encaixe no diagrama os nomes dos animais de acordo com a numeração:

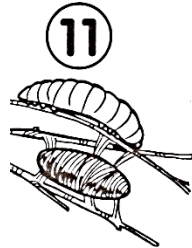


13  1  2 

12  3 

11  4 

10  5  6  7 

10  8  9  6  5 

11  12  13 



23/06/2021


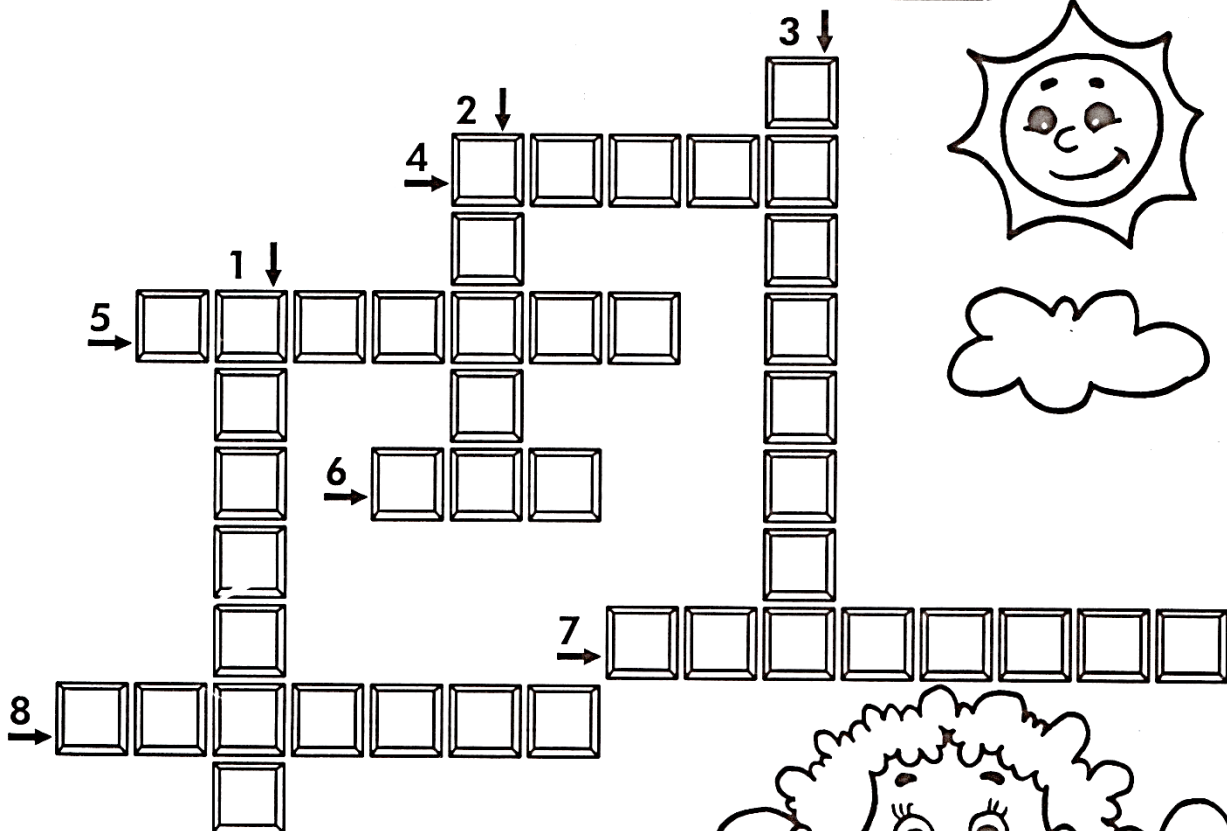
Matemática

# PEGADINHA

1 dezena = 10 unidades

1 centena = 10 dezenas

1 milhar = 10 centenas



- 1- Quantas unidades há em 8 dezenas?
- 2- Quantas dezenas há em 2 centenas?
- 3- Quantas centenas há em 6 milhares?
- 4- Quantas centenas há em 2 milhares?
- 5- Quantas unidades há em 9 dezenas?
- 6- Quantas dezenas há em 10 centenas?
- 7- Quantas unidades há em 4 dezenas?
- 8- Quantas centenas há em 7 milhares?



Você sabia que os olhos piscam aproximadamente 25 000 vezes por dia?






24/06/2021

Língua Portuguesa/geografia

# CAÇADA GEOMÉTRICA

✎ Encontre, no caça-palavras, as respostas das perguntas abaixo.



- 1- É administrado pelo prefeito e formado pelas zonas rural e urbana: \_\_\_\_\_
- 2- É também chamado zona rural: \_\_\_\_\_
- 3- Reunião de vários municípios: \_\_\_\_\_
- 4- O nome do nosso país: \_\_\_\_\_
- 5- É formada pelo centro e pelos bairros: \_\_\_\_\_
- 6- Reunião de vários Estados: \_\_\_\_\_



Você sabia que o Brasil é formado por Estados? Os Estados são divididos em municípios, que compreendem uma área urbana e uma área rural.



E.M. BAIRRO MANUEL CLEMENTE.

PROFESSORA: IZABEL

4º ANO A

ALUNO: \_\_\_\_\_

24/06/2021

Matemática

# PEGADINHAS MATEMÁTICAS

✎ O que vale mais?

1- 1 unidade de milhar ou 5 centenas? \_\_\_\_\_

2- 2 centenas ou 40 dezenas? \_\_\_\_\_

3- 3 dezenas de milhar ou 30 dezenas? \_\_\_\_\_

4- 2 unidades de milhar ou 40 centenas? \_\_\_\_\_

✎ De acordo com a informação do quadro, responda:

**A maior rodovia do Brasil é a Transamazônica.  
Ela tem 4.962 quilômetros de extensão.**

A- Esse número tem quantas ordens? Quais são elas? \_\_\_\_\_

B- Como fica a decomposição do número de acordo com as ordens?

C- Quantas classes ele tem? \_\_\_\_\_

D- Escreva esse número por extenso.

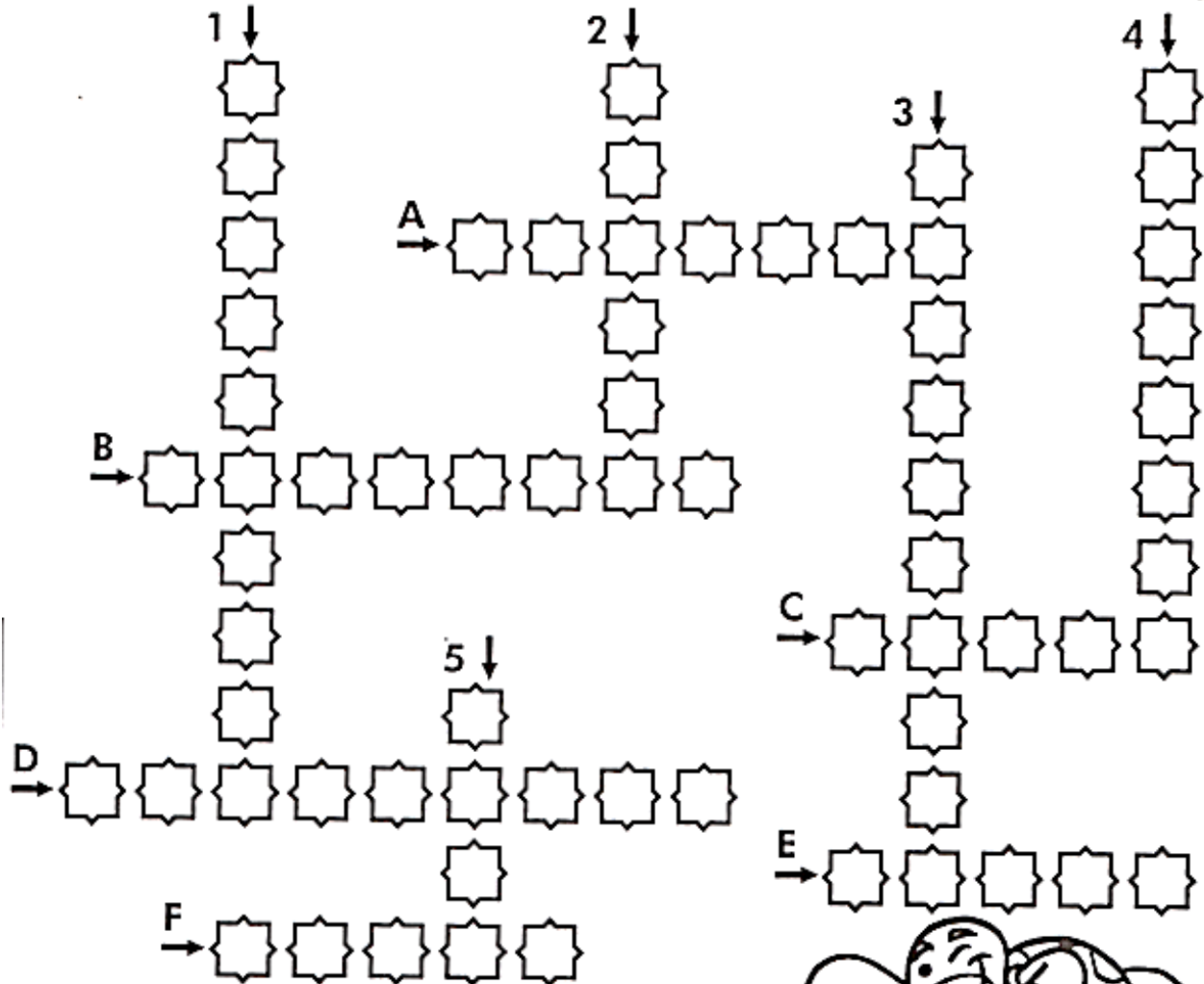

\_\_\_\_\_  
\_\_\_\_\_





25/06/2021

Língua Portuguesa



### Verticais

- 1- Fazer gargarejos.
- 2- Roubar.
- 3- Gordo; obeso.
- 4- Da cor do morango.
- 5- Local onde se colocam os votos.

### Horizontais

- A- Parte superior da garrafa.
- B- Vestimenta de proteção dos antigos guerreiros.
- C- Antônimo de longe.
- D- Réptil que tem carapaça.
- E- Que tem força, valente.
- F- Unir com cola, grudar.







25/06/2021

Matemática

# ARREDONDANDO

✎ Complete de acordo com o que se pede:


	Número	A dezena mais próxima	A centena mais próxima	A unidade de milhar mais próxima
1-  Quilômetros percorridos por um automóvel.	1.726	_____	_____	_____
2-  Brinquedos numa fábrica	17.644	_____	_____	_____
3-  Alunos numa escola	1.278	_____	_____	_____
4-  Frutas de um pomar	1.381	_____	_____	_____



28/06/2021

Língua Portuguesa

# CRUZA - CRUZA



## Verticais

- 1- Pessoa que não ouve.
- 2- Dar o voto.
- 3- Profissional que produz reportagens.
- 4- Antônimo de mentira.
- 5- Local cheio de árvores.
- 6- Tirar as escamas.
- 7- Fazer um bordado.

## Horizontais

- A- Subir a montanha.
- B- A cor da folha.
- C- O mesmo que timidez, acanhamento.
- D- Pessoa que foi escolhida em sorteio.
- E- Lentamente, sem pressa.
- F- Coletivo de peixes.
- G- Cama de bebê.



E.M. BAIRRO MANUEL CLEMENTE.

PROFESSORA: IZABEL

4º ANO A

ALUNO: \_\_\_\_\_


28/06/2021

Matemática

# QUADRO POSICIONAL

✍ Complete o quadro posicional com atenção.

	MILHARES			UNIDADES SIMPLES		
	CENTENAS DE MILHAR	DEZENAS DE MILHAR	UNIDADES DE MILHAR	CENTENAS	DEZENAS	UNIDADES
85						
6129						
20412						
724119						
707						
4584						
10000						



Você sabia que um cisne tem cerca de 25 mil penas no corpo?



E.M. BAIRRO MANUEL CLEMENTE.

PROFESSORA: IZABEL

4º ANO A

ALUNO: \_\_\_\_\_

29/06/2021

Língua Portuguesa

**COMER... COMER...**

Encontre no caça-palavras o nome dos alimentos em destaque.



P	O	L	E	N	T	A	J	E	I	Q	S
A	R	O	F	I	S	S	H	O	N	A	A
N	V	E	G	H	J	C	L	A	T	W	N
Q	L	M	O	R	A	N	G	O	F	G	D
U	A	S	S	U	N	C	T	R	F	A	U
E	Q	X	D	Y	N	R	W	Q	R	J	Í
C	K	N	O	A	Y	T	H	T	A	G	C
A	A	P	L	O	G	R	O	S	N	O	H
K	P	E	J	C	B	T	L	A	G	B	E
P	R	E	S	U	N	T	O	O	O	K	S
B	Q	Q	W	P	E	O	S	O	A	Y	O
M	E	L	A	N	C	I	A	D	S	W	N



E.M. BAIRRO MANUEL CLEMENTE.

PROFESSORA: IZABEL



4º ANO A

ALUNO: \_\_\_\_\_

29/06/2021

Matemática

JOGO DOS 7 ERROS!



[WWW.PEQUENOSGRANDESPENSANTES.COM.BR](http://WWW.PEQUENOSGRANDESPENSANTES.COM.BR)





30/06/2021

Língua Portuguesa

# JUNTA-SILABAS

man du  
ta á

\_\_\_\_\_

ra cin  
tu

\_\_\_\_\_

a do  
pon tu

\_\_\_\_\_

cão  
plan ta

\_\_\_\_\_

en ta  
do fei

\_\_\_\_\_

do  
ta can en

\_\_\_\_\_

ve en  
ta do ga

\_\_\_\_\_

des do sa  
can

\_\_\_\_\_

tre ta  
en vis

\_\_\_\_\_

per go  
lon ni

\_\_\_\_\_

se quên  
cia con

\_\_\_\_\_

do  
en tran con

\_\_\_\_\_

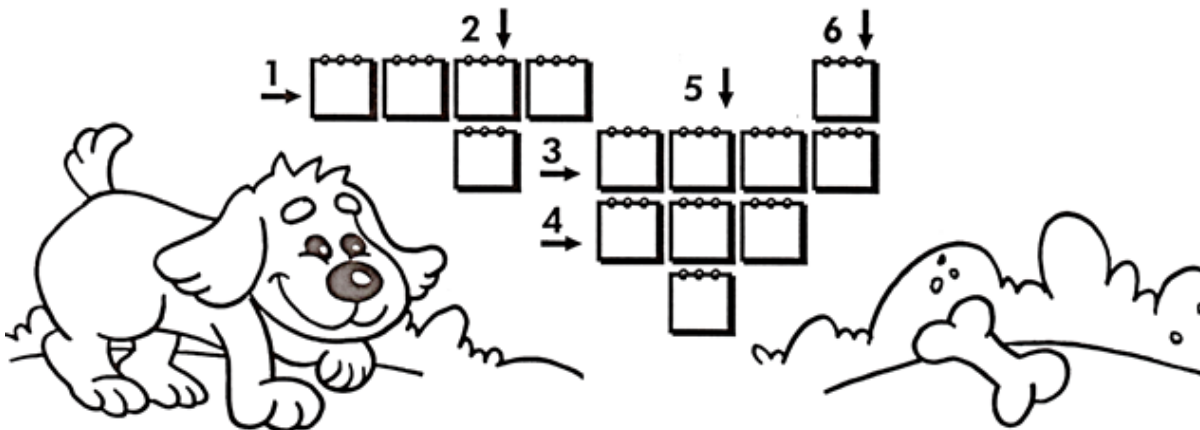


30/06/2021

Matemática

# ADIÇÃO CRUZADA

Resolva as adições abaixo e depois encaixe o resultado na cruzadinha.



①

$$\begin{array}{r} 1279 \\ +2293 \\ \hline \dots\dots \end{array}$$

②

$$\begin{array}{r} 36 \\ +37 \\ \hline \dots \end{array}$$

③

$$\begin{array}{r} 879 \\ +919 \\ \hline \dots\dots \end{array}$$

④

$$\begin{array}{r} 269 \\ +577 \\ \hline \dots\dots \end{array}$$

⑤

$$\begin{array}{r} 584 \\ +157 \\ \hline \dots\dots \end{array}$$

⑥

$$\begin{array}{r} 49 \\ +49 \\ \hline \dots\dots \end{array}$$






E.M. BAIRRO MANUEL CLEMENTE.

PROFESSORA: IZABEL

4º ANO A

ALUNO: \_\_\_\_\_

01/07/2021





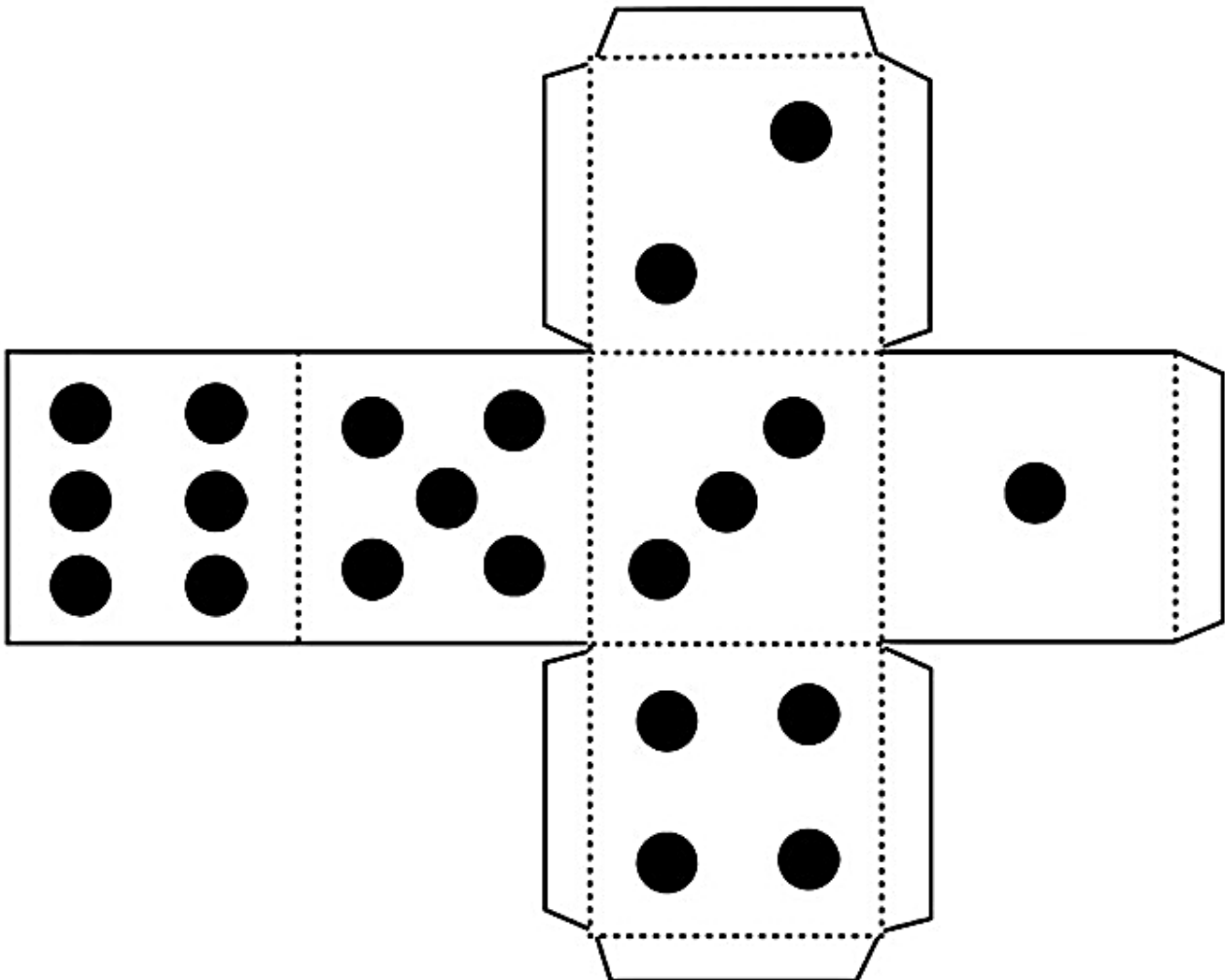
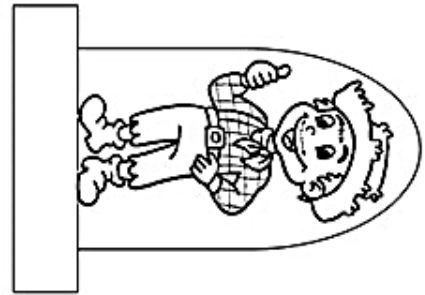

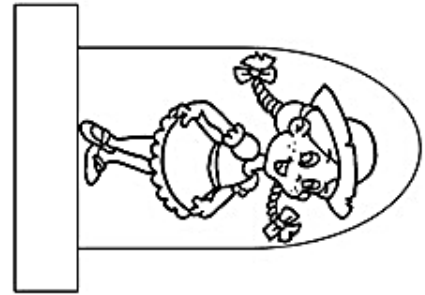
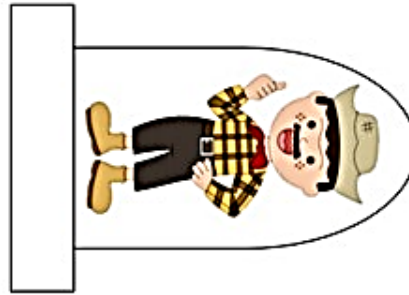
E.M. BAIRRO MANUEL CLEMENTE.

PROFESSORA: IZABEL

ALUNO:

4º ANO A

CAMINHO  
DA ROÇA





E.M. BAIRRO MANUEL CLEMENTE.

PROFESSORA: IZABEL

4º ANO A

ALUNO: \_\_\_\_\_

02/07/2021



## 4. Jogo da Argola



### Objetivo:

Desenvolver noções de espaço e tempo, força e percepção visual.

### Materiais:

6 folhas de papel sulfite  
Durex  
6 garrafinhas descartáveis

### Modo de Fazer:

**Garrafinhas:** Encha as garrafinhas com água. Se quiser pode deixá-las coloridas colocando tinta guache ou corante na água. Tampe bem as garrafinhas.

**Argolas:** Enrole a folha de sulfite na horizontal, fazendo um canudinho. Depois faça movimentos torcendo o canudo. Repita o mesmo movimento com todas as folhas. Agora pegue dois canudos torcidos e junte as pontas com o durex. Em seguida una as outras pontas, formando a argola. Faça o mesmo processo com as outras folhas, assim você terá 3 argolas.

### Desenvolvimento:

Coloque as garrafas no chão ou sobre uma mesa. Posicione-se a uma certa distancia das garrafas e arremesse as argolas uma a uma. Cada participante tem 3 chances de jogar. Vence o jogo quem acertar mais garrafas.

### Acesse o link para assistir o vídeo:

[https://www.youtube.com/watch?v=ZEOU5\\_2Kpmg](https://www.youtube.com/watch?v=ZEOU5_2Kpmg)



## Referências

DIA		PÁGINA
21/06	Coleção “Aprendizagem Divertida”9 anos-Livro 2	8
21/06	Coleção “Aprendizagem Divertida”9 anos-Livro 5	6
22/06	Coleção “Aprendizagem Divertida”9 anos-Livro 4	76
22/06	Coleção “Aprendizagem Divertida”9 anos-Livro 5	9
23/06	Coleção “Aprendizagem Divertida”9 anos-Livro 4	15
23/06	Coleção “Aprendizagem Divertida”9 anos-Livro 5	10
24/06	Coleção “Aprendizagem Divertida”9 anos-Livro 4	78
24/06	Coleção “Aprendizagem Divertida”9 anos-Livro 5	14
25/06	Coleção “Aprendizagem Divertida”9 anos-Livro 1	8
25/06	Coleção “Aprendizagem Divertida”9 anos-Livro 5	15
28/06	Coleção “Aprendizagem Divertida”9 anos-Livro 1	10
28/06	Coleção “Aprendizagem Divertida”9 anos-Livro 5	18
29/06	Coleção “Aprendizagem Divertida”9 anos-Livro 1	17
29/06	<a href="http://www.pequenosgrandespensantes.com.br/2014/05/atividades-ineditas-para-festas-juninas.html?sref=pi&amp;m=1">http://www.pequenosgrandespensantes.com.br/2014/05/atividades-ineditas-para-festas-juninas.html?sref=pi&amp;m=1</a>	-----
30/06	Coleção “Aprendizagem Divertida”9 anos-Livro 1	18
30/06	Coleção “Aprendizagem Divertida”9 anos-Livro 5	19
01/07	<a href="https://www.criarrecriarensinar.com/2020/06/festa-junina-jogo-trilha-para-imprimir.html">https://www.criarrecriarensinar.com/2020/06/festa-junina-jogo-trilha-para-imprimir.html</a>	-----
02/07	20 Atividades para se divertir em casa- Camila Serezino, Fernando Nery e Rogério Barbosa.	7