



E.M. BAIRRO MANUEL CLEMENTE.
PROFESSORA: VIVIANE
ALUNO: _____

4º ANO B

ATIVIDADES DO PERÍODO DE 27/06/2021 a 02/07/2021

7ª APOSTILA



ROTEIRO E REFERÊNCIAS EM ANEXO



E.M. BAIRRO MANUEL CLEMENTE.

PROFESSORA: VIVIANE

4º ANO B

ALUNO: _____

DIA	DESCRIÇÃO	PÁGINA
21/06	Escrever os nomes conforme se pede, observando a necessidade do uso da letra maiúscula ou minúscula.	3
21/06	Completar a cruzadinha com os números como se leem.	4
22/06	Respostas do caça-palavras: Alagoas; São Paulo; Bahia; Rondônia; Amazonas; Roraima; Minas Gerais; Pará; Paraná; Santa Catarina; Rio de Janeiro; Mato Grosso; Ceará.	5
22/06	Respostas da cruzadinha: A- vinte mil; B- noventa mil; C- trinta mil; D- oitenta mil; E- cinquenta mil; F- dez mil.	6
23/06	Respostas da cruzadinha: 1-formiga; 2-minhoca; 3-polvo; 4-besouro; 5-caracol; 6-barata; 7-abelha; 8-borboleta; 9-aranha; 10-camarão; 11-bicho da seda; 12-escorpião; 13-mosquito.	7
23/06	Respostas da cruzadinha: 1-oitenta; 2-vinte; 3-sessenta; 4-vinte; 5-noventa; 6-cem; 7-quarenta; 8-setenta.	8
24/06	Respostas: 1-município; 2-campo; 3-Estado; 4-Brasil; 5-cidade; 6-país.	9
24/06	Responder as perguntas que se pede.	10
25/06	Respostas da cruzadinha: Verticais: 1-gargarejar; 2-furtar; 3-corpulento; 4-vermelho,5-urna. Horizontais: A-gargalo; B-armadura; C- perto; D- tartaruga; E- forte; F-colar.	11
25/06	Arredondar para a o número mais próximo de acordo com o critério pedido. (dezena, centena ou unidade de milhar).	12
28/06	Respostas da cruzadinha: Verticais: 1-surda; 2-votar; 3-repórter; 4-verdade,5-arborizar; 6-escamar; 7-bordar. Horizontais: A-escalar; B-verde; C- vergonha; D-sorteadada; E-devagar; F-cardume; G-berço.	13
28/06	Completar o quadro com os números propostos localizando-os conforme as ordens e classes.	14
29/06	Encontrar as palavras pedidas no caça-palavras.	15
29/06	Respostas dos sete erros:1-Chapéu do Cascão; 2-lenha do forno; 3-laço da Magali; 4-coraçãozinho; 5-bota do Cascão; 6-bigode do Cascão; 7-florzinha do vestido da Magali.	16
30/06	Juntar as sílabas formando palavras.	17
30/06	Efetuar as adições e completar os quadrinhos conforme o resultado.	18
01/06	Montar o dado ou usar um dado qualquer, recortar os marcadores e jogar conforme as regras de acordo com o tabuleiro.	19 e 20
02/06	Confeccionar os materiais com sucata e jogar com os seus familiares. Se possível enviar fotos ou filmes no grupo de WhatsApp.	21

Para ter acesso aos vídeos das aulas acesse através do link da playlist da 7ª apostila no Youtube.

<https://www.youtube.com/playlist?list=PLLGAQKWkAw1FbO7RFPYqE3cNhiOLnepFp>

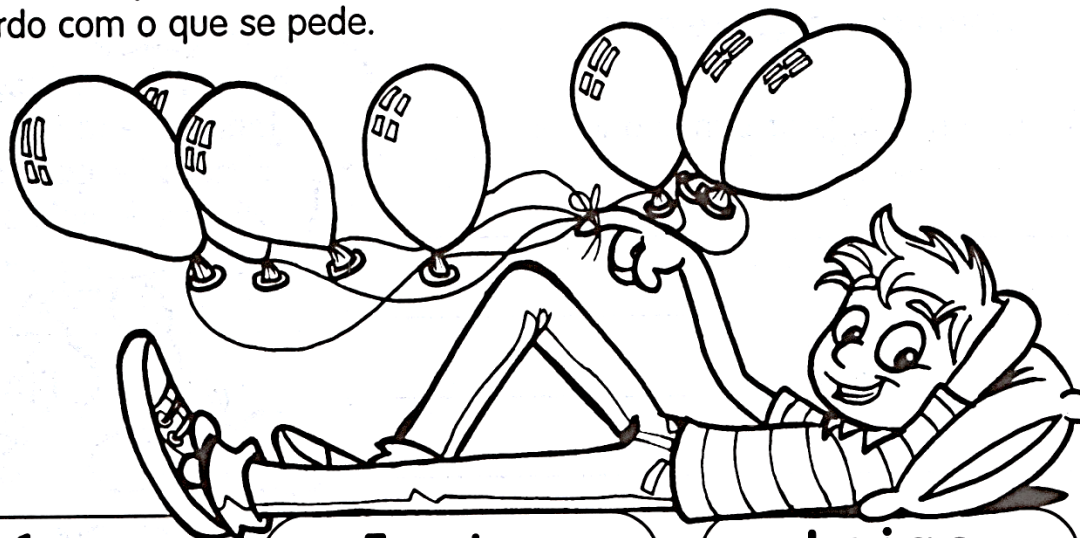


21/06/2021

Língua Portuguesa

MOSSA LÍNGUA

✎ Para escrever as palavras, usamos letras maiúsculas ou minúsculas. Complete de acordo com o que se pede.



Países

Frutas

Lojas

Pessoas

Ruas

Objetos

Animais

Bairros

Estados




21/06/2021

Matemática

NUMERAL CARDINAL

O numeral cardinal indica quantidade.



1 ↓
2 ↓
3 ↓
4 ↓
5 ↓
6 ↓
7 ↓
8 ↓
9 ↓

A →
B →
C →
D →
E →
F →
G →
H →

Verticais

- 1- 40
- 2- 17
- 3- 20
- 4- 11
- 5- 30
- 6- 60
- 7- 13
- 8- 2
- 9- 12

Horizontais

- A- 15
- B- 19
- C- 70
- D- 7
- E- 100
- F- 200
- G- 1 000
- H- 80





E.M. BAIRRO MANUEL CLEMENTE.

PROFESSORA: VIVIANE

4º ANO B

ALUNO: _____

22/06/2021

Língua Portuguesa/História/Geografia

CACA - ESTADOS!

✏ Procure, no caça-palavras, os nomes de alguns Estados brasileiros. Depois, no seu caderno, escreva os nomes dos Estados que você encontrou com suas respectivas capitais.

R	O	N	D	Ô	N	I	A	N	S	Q	M
O	R	X	C	H	P	K	L	G	A	R	A
R	S	C	L	D	R	S	D	R	N	I	T
A	M	A	Z	O	N	A	S	Z	T	O	O
I	I	R	R	A	N	R	L	V	A	*	*
M	N	W	G	G	P	L	V	N	*	D	G
A	A	J	T	Ã	A	M	C	R	C	E	R
T	S	K	P	L	R	R	E	J	A	*	O
R	*	H	P	L	A	M	A	G	T	J	S
P	G	Q	P	G	N	X	R	K	A	A	S
A	E	P	R	Y	Ã	L	Ã	D	R	N	O
R	R	T	G	J	P	H	M	N	I	E	P
Ã	A	X	C	H	P	K	L	G	N	I	K
J	I	C	B	A	H	I	A	R	A	R	D
F	S	R	F	R	F	T	B	Z	J	O	R
R	Z	A	L	A	G	O	A	S	L	S	J
S	Ã	O	*	P	A	U	L	O	M	X	N





22/06/2021

Matemática

CRUZA DEZENAS DE MILHAR

Encaixe na cruzadinha as dezenas de milhar pedidas e depois escreva os numerais nos respectivos balões.

A crossword puzzle grid with the following clues:

- A** (Horizontal, 2 digits):
- B** (Horizontal, 10 digits):
- C** (Horizontal, 10 digits):
- D** (Horizontal, 13 digits):
- E** (Horizontal, 13 digits):
- F** (Vertical, 10 digits):

- A- 2 dezenas de milhar.
- B- 9 dezenas de milhar.
- C- 3 dezenas de milhar.
- D- 8 dezenas de milhar.
- E- 5 dezenas de milhar.
- F- 1 dezena de milhar.







23/06/2021

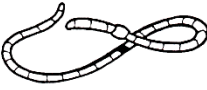
Língua Portuguesa/Ciências


CRUZA-INVERTEBRADOS


Encaixe no diagrama os nomes dos animais de acordo com a numeração:

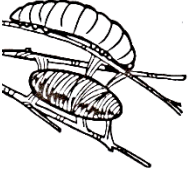
13 

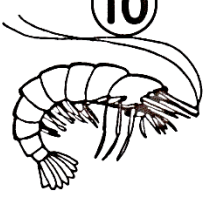
1 


2 


12 


3 


11 


10 


9 


8 

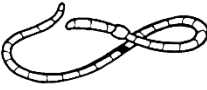
6 


4 


7 


5 


1 


2 


3 


4 

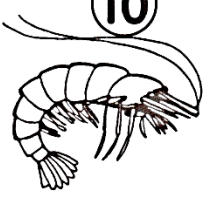
5 

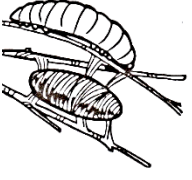
6 


7 


8 

9 

10 

11 

12 

13 



23/06/2021


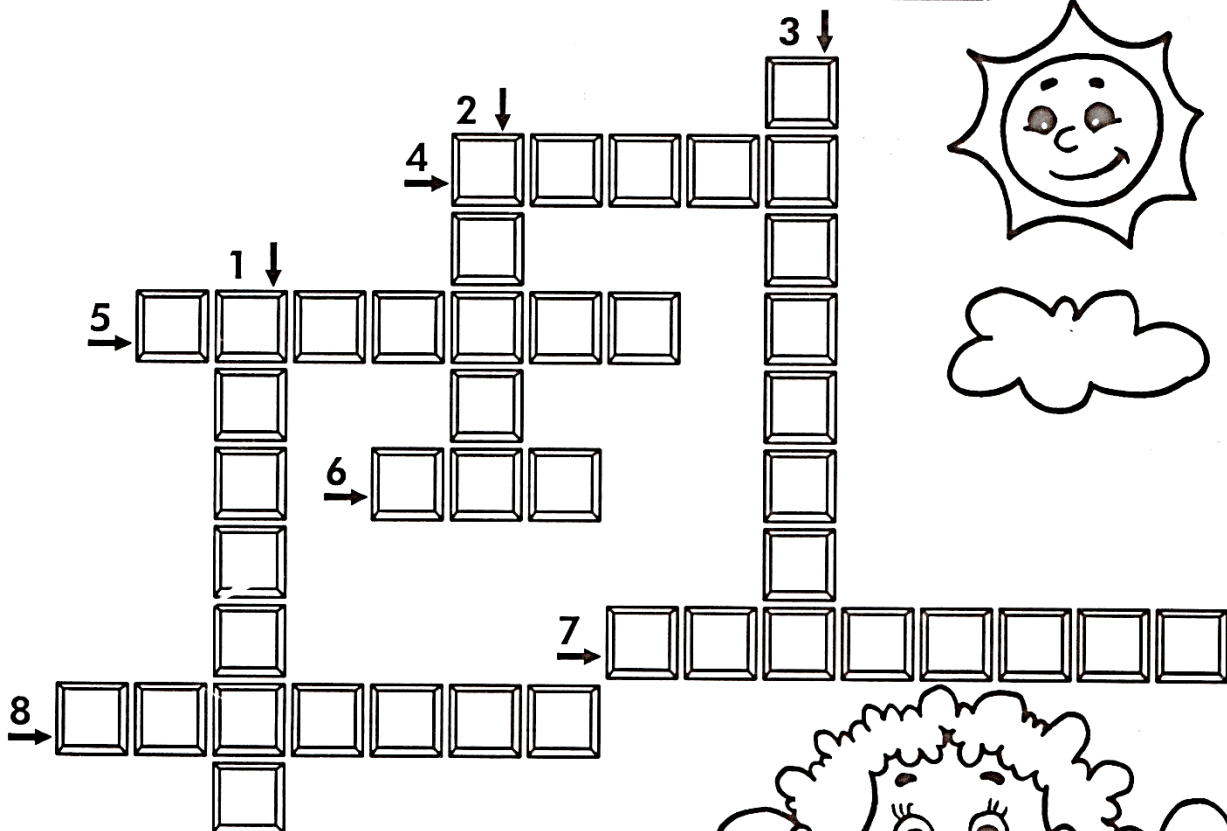
Matemática

PEGADINHA

1 dezena = 10 unidades

1 centena = 10 dezenas

1 milhar = 10 centenas



- 1- Quantas unidades há em 8 dezenas?
- 2- Quantas dezenas há em 2 centenas?
- 3- Quantas centenas há em 6 milhares?
- 4- Quantas centenas há em 2 milhares?
- 5- Quantas unidades há em 9 dezenas?
- 6- Quantas dezenas há em 10 centenas?
- 7- Quantas unidades há em 4 dezenas?
- 8- Quantas centenas há em 7 milhares?



Você sabia que os olhos piscam aproximadamente 25 000 vezes por dia?




24/06/2021

Língua Portuguesa/geografia

CAÇADA GEOMÉTRICA

✎ Encontre, no caça-palavras, as respostas das perguntas abaixo.



- 1- É administrado pelo prefeito e formado pelas zonas rural e urbana: _____
- 2- É também chamado zona rural: _____
- 3- Reunião de vários municípios: _____
- 4- O nome do nosso país: _____
- 5- É formada pelo centro e pelos bairros: _____
- 6- Reunião de vários Estados: _____



Você sabia que o Brasil é formado por Estados? Os Estados são divididos em municípios, que compreendem uma área urbana e uma área rural.



E.M. BAIRRO MANUEL CLEMENTE.

PROFESSORA: VIVIANE

4º ANO B

ALUNO: _____

24/06/2021

Matemática

PEGADINHAS MATEMÁTICAS

✎ O que vale mais?

1- 1 unidade de milhar ou 5 centenas? _____

2- 2 centenas ou 40 dezenas? _____

3- 3 dezenas de milhar ou 30 dezenas? _____

4- 2 unidades de milhar ou 40 centenas? _____

✎ De acordo com a informação do quadro, responda:

**A maior rodovia do Brasil é a Transamazônica.
Ela tem 4.962 quilômetros de extensão.**

A- Esse número tem quantas ordens? Quais são elas? _____

B- Como fica a decomposição do número de acordo com as ordens?

C- Quantas classes ele tem? _____

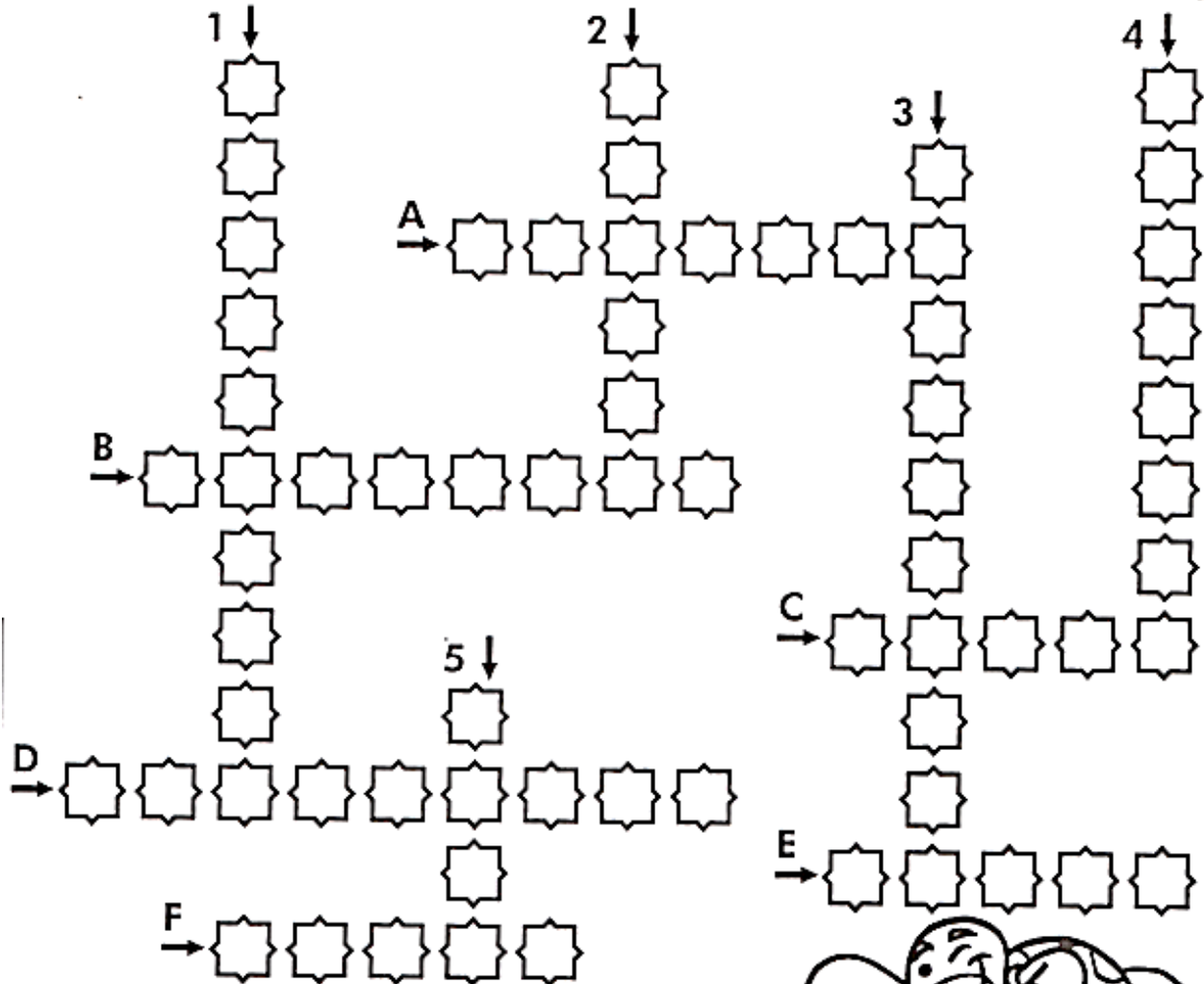
D- Escreva esse número por extenso.





25/06/2021

Língua Portuguesa



Verticais

- 1- Fazer gargarejos.
- 2- Roubar.
- 3- Gordo; obeso.
- 4- Da cor do morango.
- 5- Local onde se colocam os votos.

Horizontais

- A- Parte superior da garrafa.
- B- Vestimenta de proteção dos antigos guerreiros.
- C- Antônimo de longe.
- D- Réptil que tem carapaça.
- E- Que tem força, valente.
- F- Unir com cola, grudar.







25/06/2021

Matemática

ARREDONDANDO

✎ Complete de acordo com o que se pede:

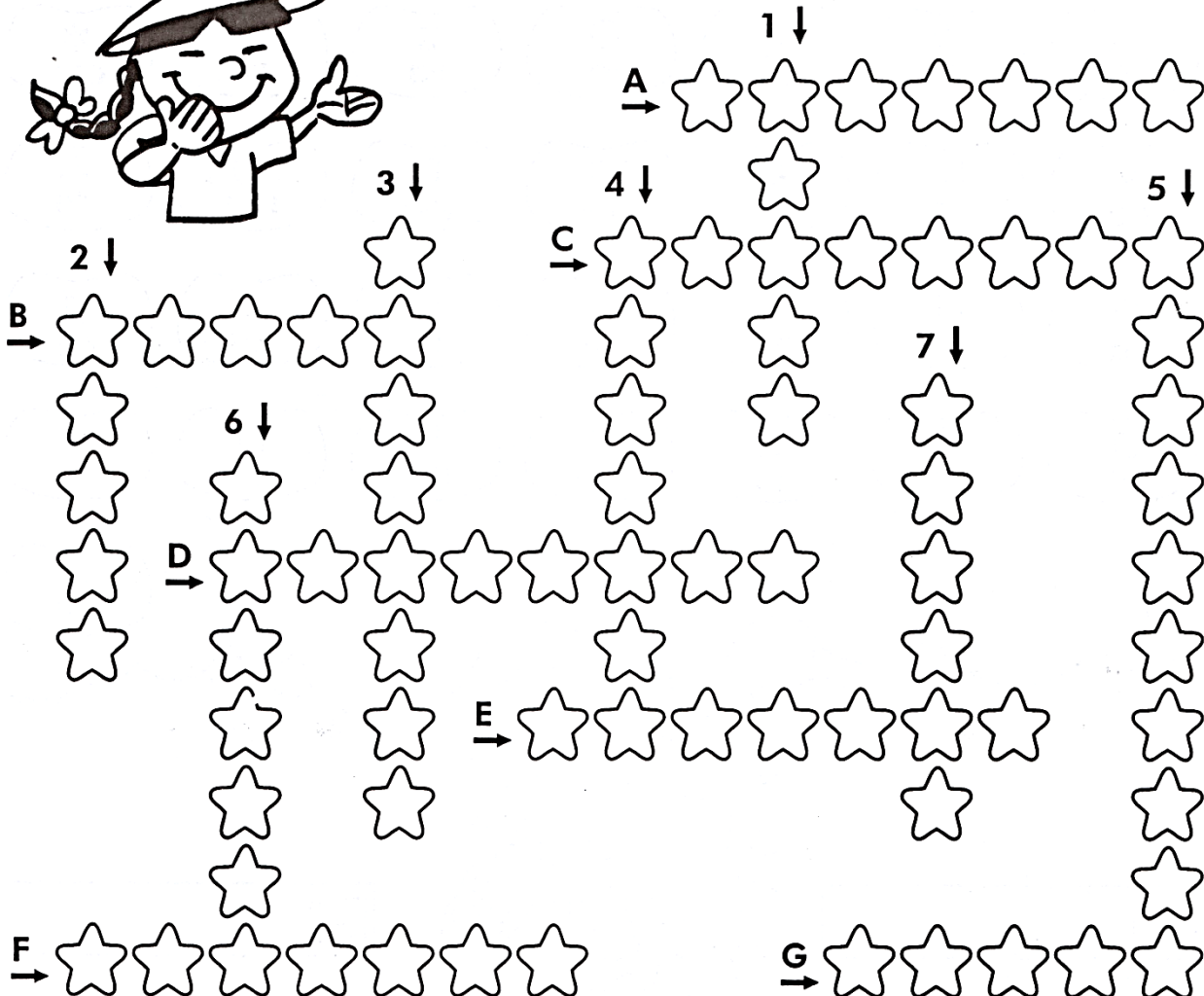
	Número	A dezena mais próxima	A centena mais próxima	A unidade de milhar mais próxima
1-  Quilômetros percorridos por um automóvel.	1.726	_____	_____	_____
2-  Brinquedos numa fábrica	17.644	_____	_____	_____
3-  Alunos numa escola	1.278	_____	_____	_____
4-  Frutas de um pomar	1.381	_____	_____	_____



28/06/2021

Língua Portuguesa

CRUZA - CRUZA



Verticais

- 1- Pessoa que não ouve.
- 2- Dar o voto.
- 3- Profissional que produz reportagens.
- 4- Antônimo de mentira.
- 5- Local cheio de árvores.
- 6- Tirar as escamas.
- 7- Fazer um bordado.

Horizontais

- A- Subir a montanha.
- B- A cor da folha.
- C- O mesmo que timidez, acanhamento.
- D- Pessoa que foi escolhida em sorteio.
- E- Lentamente, sem pressa.
- F- Coletivo de peixes.
- G- Cama de bebê.



E.M. BAIRRO MANUEL CLEMENTE.

PROFESSORA: VIVIANE

4º ANO B

ALUNO: _____

28/06/2021

Matemática

QUADRO POSICIONAL

✍ Complete o quadro posicional com atenção.

	MILHARES			UNIDADES SIMPLES		
	CENTENAS DE MILHAR	DEZENAS DE MILHAR	UNIDADES DE MILHAR	CENTENAS	DEZENAS	UNIDADES
85						
6129						
20412						
724119						
707						
4584						
10000						



Você sabia que um cisne tem cerca de 25 mil penas no corpo?



E.M. BAIRRO MANUEL CLEMENTE.

PROFESSORA: VIVIANE

4º ANO B

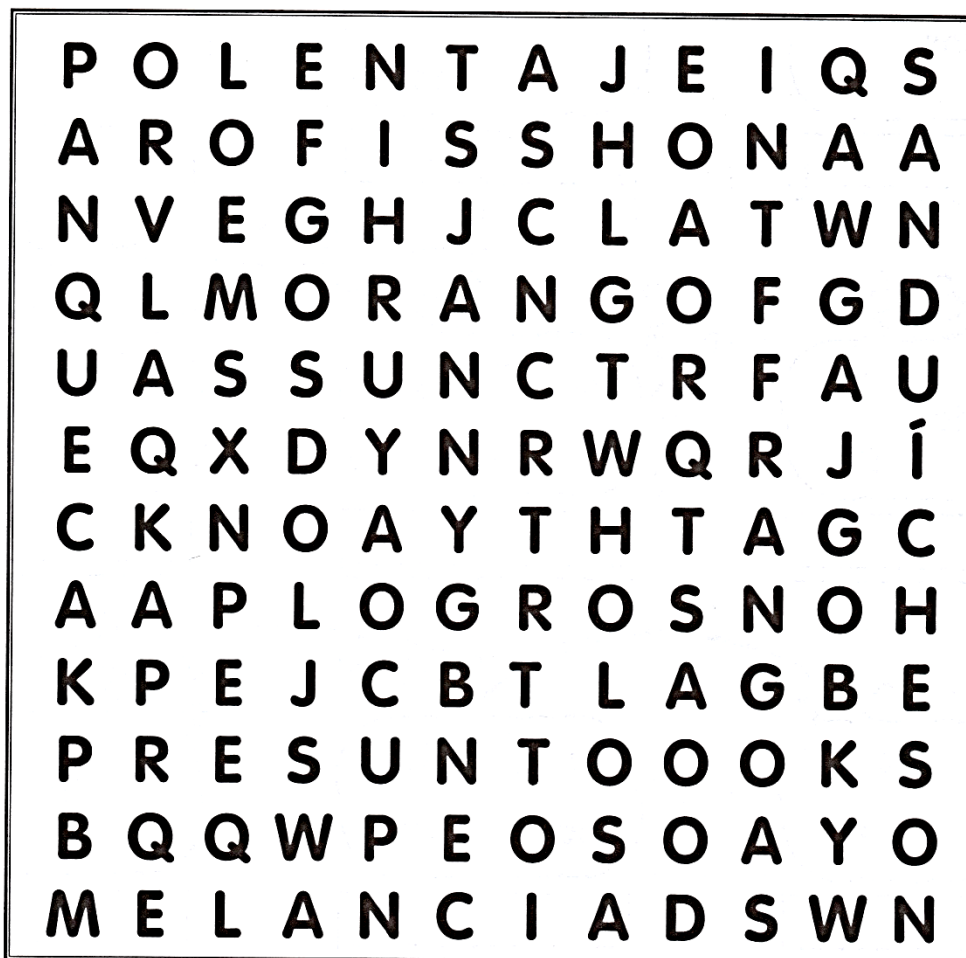
ALUNO: _____

29/06/2021

Língua Portuguesa

COMER... COMER...

Encontre no caça-palavras o nome dos alimentos em destaque.





E.M. BAIRRO MANUEL CLEMENTE.

PROFESSORA: VIVIANE



4º ANO B

ALUNO: _____

29/06/2021

Matemática

JOGO DOS 7 ERROS!




WWW.PEQUENOSGRANDESPENSANTES.COM.BR




30/06/2021

Língua Portuguesa


JUNTA-SILABAS




man du
ta á



ra cin
tu




a do
pon tu



cão
plan ta




en ta
do fei




do
ta can en




ve en
ta do ga




des do sa
can



tre ta
en vis



per go
lon ni



se quên
cia con



do
en tran con

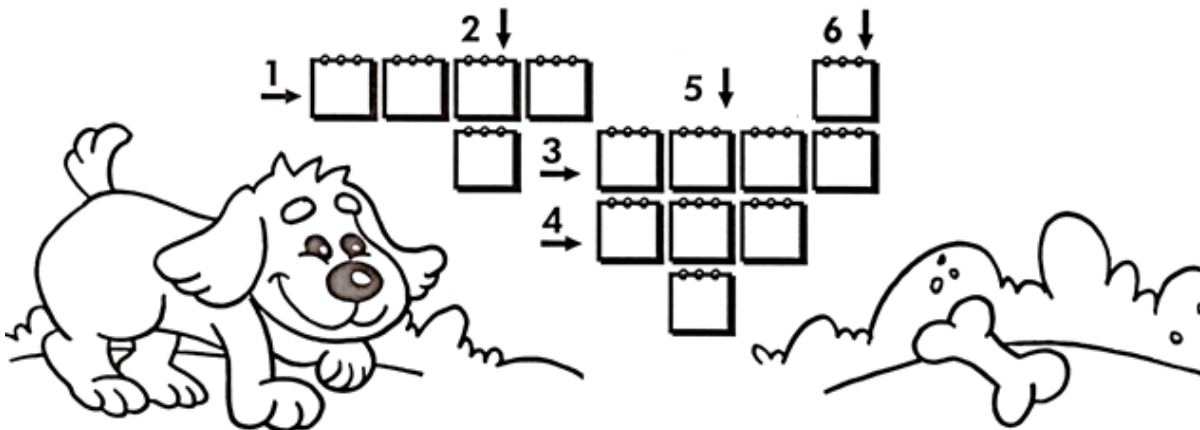


30/06/2021

Matemática

ADIÇÃO CRUZADA

Resolva as adições abaixo e depois encaixe o resultado na cruzadinha.



①

$$\begin{array}{r} 1279 \\ +2293 \\ \hline \end{array}$$

.....

②

$$\begin{array}{r} 36 \\ +37 \\ \hline \end{array}$$

.....

③

$$\begin{array}{r} 879 \\ +919 \\ \hline \end{array}$$

.....

④

$$\begin{array}{r} 269 \\ +577 \\ \hline \end{array}$$

.....

⑤

$$\begin{array}{r} 584 \\ +157 \\ \hline \end{array}$$

.....

⑥

$$\begin{array}{r} 49 \\ +49 \\ \hline \end{array}$$

.....






E.M. BAIRRO MANUEL CLEMENTE.

PROFESSORA: VIVIANE

4º ANO B

ALUNO: _____

01/07/2021





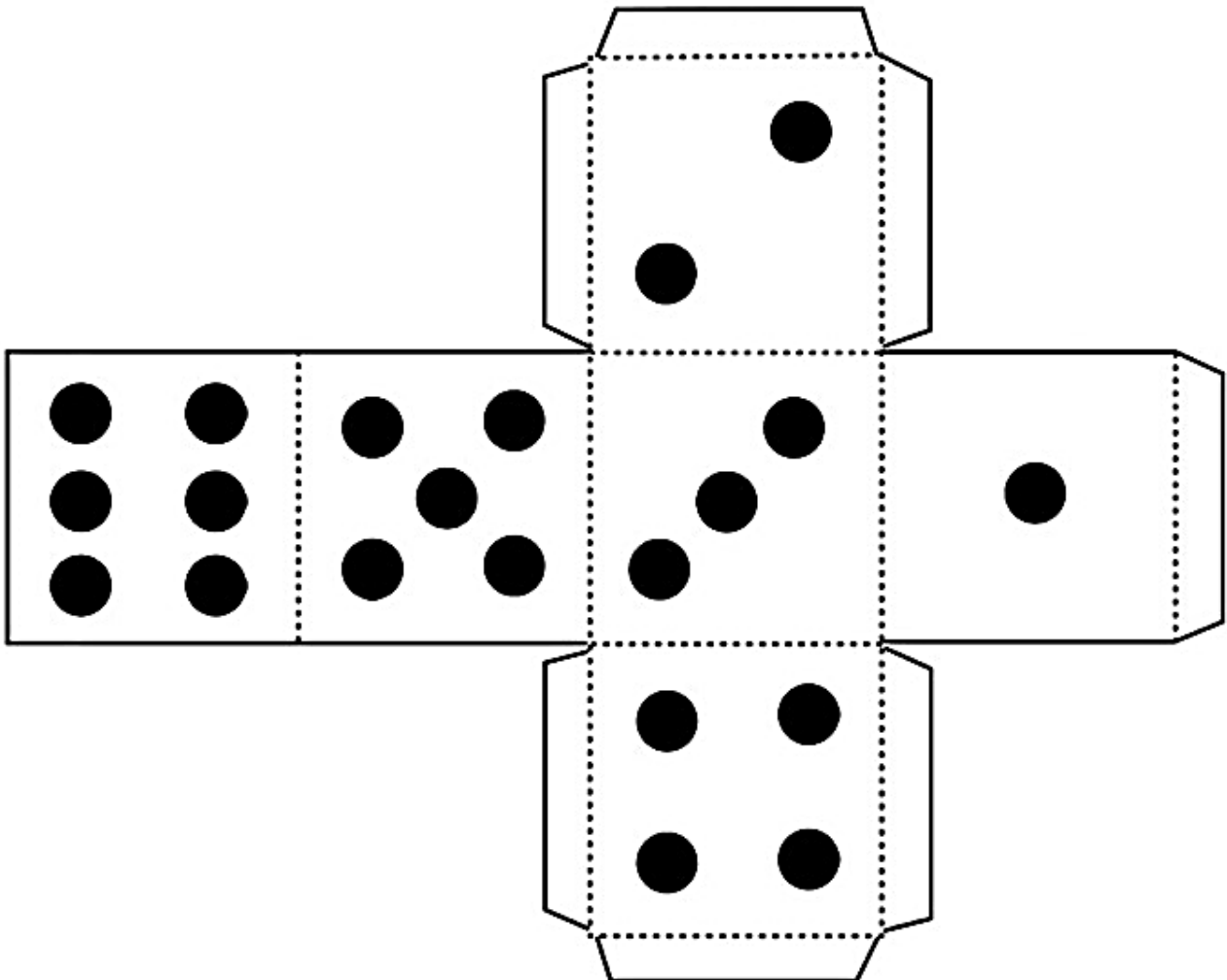
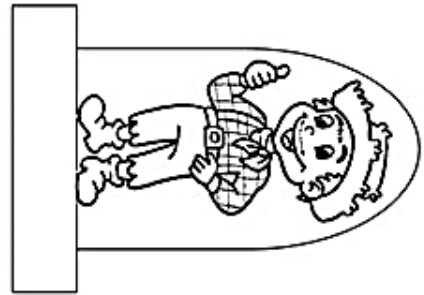

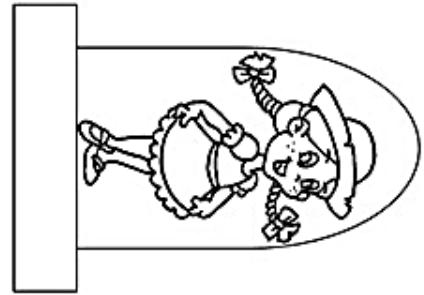

E.M. BAIRRO MANUEL CLEMENTE.

PROFESSORA: VIVIANE

ALUNO:

4º ANO B

CAMINHO
DA ROÇA





E.M. BAIRRO MANUEL CLEMENTE.

PROFESSORA: VIVIANE

4º ANO B

ALUNO: _____

02/07/2021



4. Jogo da Argola



Objetivo:

Desenvolver noções de espaço e tempo, força e percepção visual.

Materiais:

6 folhas de papel sulfite
Durex
6 garrafinhas descartáveis

Modo de Fazer:

Garrafinhas: Encha as garrafinhas com água. Se quiser pode deixá-las coloridas colocando tinta guache ou corante na água. Tampe bem as garrafinhas.

Argolas: Enrole a folha de sulfite na horizontal, fazendo um canudinho. Depois faça movimentos torcendo o canudo. Repita o mesmo movimento com todas as folhas. Agora pegue dois canudos torcidos e junte as pontas com o durex. Em seguida una as outras pontas, formando a argola. Faça o mesmo processo com as outras folhas, assim você terá 3 argolas.

Desenvolvimento:

Coloque as garrafas no chão ou sobre uma mesa. Posicione-se a uma certa distância das garrafas e arremesse as argolas uma a uma. Cada participante tem 3 chances de jogar. Vence o jogo quem acertar mais garrafas.

Acesse o link para assistir o vídeo:

https://www.youtube.com/watch?v=ZEOU5_2Kpmg



Referências

DIA		PÁGINA
21/06	Coleção “Aprendizagem Divertida”9 anos-Livro 2	8
21/06	Coleção “Aprendizagem Divertida”9 anos-Livro 5	6
22/06	Coleção “Aprendizagem Divertida”9 anos-Livro 4	76
22/06	Coleção “Aprendizagem Divertida”9 anos-Livro 5	9
23/06	Coleção “Aprendizagem Divertida”9 anos-Livro 4	15
23/06	Coleção “Aprendizagem Divertida”9 anos-Livro 5	10
24/06	Coleção “Aprendizagem Divertida”9 anos-Livro 4	78
24/06	Coleção “Aprendizagem Divertida”9 anos-Livro 5	14
25/06	Coleção “Aprendizagem Divertida”9 anos-Livro 1	8
25/06	Coleção “Aprendizagem Divertida”9 anos-Livro 5	15
28/06	Coleção “Aprendizagem Divertida”9 anos-Livro 1	10
28/06	Coleção “Aprendizagem Divertida”9 anos-Livro 5	18
29/06	Coleção “Aprendizagem Divertida”9 anos-Livro 1	17
29/06	http://www.pequenosgrandespensantes.com.br/2014/05/atividades-ineditas-para-festas-juninas.html?sref=pi&m=1	-----
30/06	Coleção “Aprendizagem Divertida”9 anos-Livro 1	18
30/06	Coleção “Aprendizagem Divertida”9 anos-Livro 5	19
01/07	https://www.criarrecriarensinar.com/2020/06/festa-junina-jogo-trilha-para-imprimir.html	-----
02/07	20 Atividades para se divertir em casa- Camila Serezino, Fernando Nery e Rogério Barbosa.	7