



E.M. “MAFALDA DALPRA MATIUSSO”

ALUNO(A): _____

PROFESSORA: ROSELI FERREIRA RAMALHO

4º ANO – A

7ª REMESSA DE ATIVIDADES

21/06 À 02/07/2021

Devolução em 01/07/2021



NOME: _____ DATA: 21 / 06 /2021

PROFESSORA: ROSELI FERREIRA RAMALHO

TURMA: 4º ANO – A

LÍNGUA PORTUGUESA




[://i.pinimg.com/236x/4f/4c/4f/4cfd3f67d5778beb4d1e61f4745cfa.jpg](http://i.pinimg.com/236x/4f/4c/4f/4cfd3f67d5778beb4d1e61f4745cfa.jpg)

1 – PROCURE NO CAÇA-PALAVRAS, PALAVRAS RELACIONADAS A FESTA JUNINA!!!

CAÇA PALAVRAS JUNINAS

B	A	R	R	A	C	A	S	V	T	R	G	A	S	A	N	F	O
Q	A	M	E	N	D	O	I	M	A	P	C	N	P	A	M	L	M
S	D	N	C	X	E	S	M	H	M	I	H	O	F	O	G	U	N
Q	U	A	D	R	I	L	H	A	E	P	U	F	D	R	S	B	A
U	H	J	V	E	M	I	K	L	N	O	T	N	H	J	L	M	C
A	C	O	H	L	I	M	V	B	T	C	R	A	X	R	A	S	I
S	G	U	E	I	A	R	G	O	L	A	A	S	F	G	I	Y	A
O	B	R	A	R	F	G	I	U	O	J	S	E	C	L	R	U	C
T	J	K	L	N	M	B	V	N	L	R	C	L	H	Ç	A	J	I
N	C	H	Á	P	I	L	D	C	H	U	R	R	A	S	C	O	J
A	R	I	E	U	G	O	F	B	Ç	A	O	F	P	N	S	L	N
S	M	N	H	A	S	D	U	I	É	G	S	U	É	J	E	Ç	A
N	H	N	G	I	C	A	R	F	U	G	L	H	U	K	P	N	C



AMENDOIM ARGOLA
BANDEIRINHAS
BARRACAS CANJICA
CHAPÉU CHURRASCO FOGUEIRA
MILHO PESCARIA PIPOCA
QUADRILHA SANFONA SANTOS



NOME: _____ DATA: 21 / 06 /2021

PROFESSORA: ROSELI FERREIRA RAMALHO

TURMA: 4º ANO – A

MATEMÁTICA

2 – ENCONTRE OS 7 ERROS NO DESENHO ABAIXO

DESCUBRA OS 7 ERROS



Copyright © 2019. Todos os direitos reservados. Este trabalho é propriedade da autora. É proibida a reprodução sem autorização prévia da autora.



NOME: _____ DATA: 22 / 06 /2021

PROFESSORA: ROSELI FERREIRA RAMALHO

TURMA: 4º ANO – A

LÍNGUA PORTUGUESA

3 – LEIA O TEXTO E SE SOUBER CANTE A MÚSICA. DEPOIS COMPLETE AS QUESTÕES.



CAPELINHA DE MELÃO

AUTORES: JOÃO DE BARRO E ADALBERTO RIBEIRO

CAPELINHA DE MELÃO

É DE SÃO JOÃO.

É CRAVO, É DE ROSA,

É DE MANJERICÃO.

SÃO JOÃO ESTÁ DORMINDO,

NÃO ME OUVENÃO.

ACORDAI, ACORDAI, ACORDAI JOÃO.

NÃO ME OUVENÃO.

ATIREI ROSAS PELO CAMINHO.

A VENTANIA VEIO E LEVOU

TU ME FIZESTE COM SEUS MOINHOS,

UMA COROA DE FLOR.

RESPONDA:

A) QUAL É O NOME DA MÚSICA?

2 – QUAL É O NOME DOS AUTORES DA MÚSICA?

3 – COPIE DO TEXTO PALAVRAS TODAS AS PALAVRAS QUE RIMAM COM MELÃO.



NOME: _____ DATA: 22 / 06 /2021

PROFESSORA: ROSELI FERREIRA RAMALHO

TURMA: 4º ANO – A

MATEMÁTICA

4 – COM ATENÇÃO RESOLVA AS SUBTRAÇÕES. LEMBRE-SE QUE, QUANDO O NÚMERO DE CIMA (MINUENDO) FOR MENOR QUE O DE BAIXO (SUBTRAENDO), É PRECISO EMPRESTAR.

OBSERVE COM BASTANTE ATENÇÃO O EXEMPLO.

EXEMPLO



C	D	U
5	13	0
6	4	0 ¹⁰
-0	4	2
	9	8

$$\begin{array}{r|l} \text{D} & \text{U} \\ 4 & 0 \\ -2 & 4 \\ \hline \end{array} \quad \begin{array}{r|l} \text{D} & \text{U} \\ 9 & 7 \\ -6 & 9 \\ \hline \end{array} \quad \begin{array}{r|l} \text{D} & \text{U} \\ 8 & 3 \\ -8 & 0 \\ \hline \end{array}$$

$$\begin{array}{r|l} \text{D} & \text{U} \\ 7 & 2 \\ -3 & 8 \\ \hline \end{array} \quad \begin{array}{r|l} \text{D} & \text{U} \\ 6 & 4 \\ -4 & 2 \\ \hline \end{array} \quad \begin{array}{r|l} \text{D} & \text{U} \\ 1 & 8 \\ -1 & 0 \\ \hline \end{array}$$



NOME: _____ DATA: 23 / 06 /2021

PROFESSORA: ROSELI FERREIRA RAMALHO

TURMA: 4º ANO – A


LÍNGUA PORTUGUESA

5 – LEIA COM ATENÇÃO E FAÇA O QUE PEDE OS EXERCÍCIOS.

FESTA JUNINA - RECEITA CULINÁRIA

OS **INGREDIENTES** PARA FAZER PIPOCA E BRIGADEIRO FORAM MISTURADOS. LEIA E SEPRE COPIANDO NO LUGAR CERTO.

MILHO DE PIPOCA	CHOCOLATE EM PÓ
LEITE CONDENSADO	CHOCOLATE GRANULADO
SAL	OLÉO
MARGARINA	



LEIA E DEPOIS PINTE APENAS AS COMIDAS TÍPICAS DE FESTA JUNINA

PEPINO	QUENTÃO
MILHO COZIDO	QUEIJO
MACARRÃO	ARROZ DOCE
PAMONHA	PÓ DE CAFÉ
CAQUI	CANJICA
PÉ DE MOLEQUE	PAÇOCA
BOLO DE FUBÁ	FEIJÃO
MAÇÃ DO AMOR	BANANA



NOME: _____ DATA: 23 / 06 /2021

PROFESSORA: ROSELI FERREIRA RAMALHO

TURMA: 4º ANO – A

MATEMÁTICA

6 – RESOLVA AS ADIÇÕES.

ARME E RESOLVA

$83 + 5 =$

D	U

$94 + 8 =$

D	U

$31 + 5 =$

D	U

$58 + 2 =$

D	U

$11 + 2 =$

D	U

$93 + 9 =$

D	U

$24 + 33 =$

D	U

$58 + 12 =$

D	U

$18 + 26 =$

D	U

$19 + 11 =$

D	U

$30 + 38 =$

D	U

$34 + 31 =$

D	U



<https://pedagogasdapaz.blogspot.com.br/>



NOME: _____ DATA: 24 / 06 /2021

PROFESSORA: ROSELI FERREIRA RAMALHO

TURMA: 4º ANO – A

LÍNGUA PORTUGUESA

7 – LEIA O TEXTO E SE SOUBER CANTE A MÚSICA. COMPLETE AS QUESTÕES.

TRABALHANDO COM MÚSICA JUNINA

PEDRO, ANTÔNIO E JOÃO

Benedito Lacerda e Oswaldo Santiago

Com a filha de João
Antônio ia se casar,
mas Pedro fugiu com a noiva
na hora de ir pro altar.

A fogueira está queimando,
o balão está subindo,
Antônio estava chorando
e Pedro estava fugindo.

E no fim dessa história,
ao apagar-se a fogueira,
João consolava Antônio, que caiu na bebedeira.



1- Nome da música:.....

2- Nome do autor:.....

3- Escreva os 3 nomes próprios da música:



NOME: _____ DATA: 24 / 06 /2021

PROFESSORA: ROSELI FERREIRA RAMALHO

TURMA: 4º ANO – A

MATÉMATICA

8 – OBSERVE COM MUITA ATENÇÃO OS NÚMEROS QUE ESTÃO NO QUADRADO COLORIDO. ENCONTRE NESSE QUADRADO OS RESULTADOS DA TABUADA E DEPOIS COLOQUE A RESPOSTA.

NESSE QUADRADO **O RESULTADO DA TABUADA ESTÁ NO CRUZAMENTO** ENTRE AS LINHAS E AS COLUNAS.

LINHA É CADA UMA DAS SEQUÊNCIAS NUMÉRICA DA ESQUERDA PARA DIREITA.

COLUNA É CADA UMA DAS SEQUÊNCIAS NUMÉRICAS DE CIMA PARA BAIXO.

SENDO ASSIM, TEMOS O NÚMERO 1 NA LINHA E 1 NA COLUNA E NO CRUZAMENTO TEMOS 1 TAMBÉM, OU SEJA $1 \times 1 = 1$, OUTRO EXEMPLO: 5 NA LINHA E 6 NA COLUNA, NO CRUZAMENTO TEMOS 30, OU SEJA, $5 \times 6 = 30$.

x	1	2	3	4	5	6	7	8	9	10
1	1	2	3	4	5	6	7	8	9	10
2	2	4	6	8	10	12	14	16	18	20
3	3	6	9	12	15	18	21	24	27	30
4	4	8	12	16	20	24	28	32	36	40
5	5	10	15	20	25	30	35	40	45	50
6	6	12	18	24	30	36	42	48	54	60
7	7	14	21	28	35	42	49	56	63	70
8	8	16	24	32	40	48	56	64	72	80
9	9	18	27	36	45	54	63	72	81	90
10	10	20	30	40	50	60	70	80	90	100

<https://static.preparaenem.com/2020/09/tabela-de-mu>

PREENCHA COM OS NÚMEROS CORRETOS.

1 x 1 =	2 x 1 =	3 x 1 =
1 x 2 =	2 x 2 =	3 x 2 =
1 x 3 =	2 x 3 =	3 x 3 =
1 x 4 =	2 x 4 =	3 x 4 =
1 x 5 =	2 x 5 =	3 x 5 =
1 x 6 =	2 x 6 =	3 x 6 =
1 x 7 =	2 x 7 =	3 x 7 =
1 x 8 =	2 x 8 =	3 x 8 =
1 x 9 =	2 x 9 =	3 x 9 =
1 x 10 =	2 x 10 =	3 x 10 =
4 x 1 =	5 x 1 =	6 x 1 =
4 x 2 =	5 x 2 =	6 x 2 =
4 x 3 =	5 x 3 =	6 x 3 =
4 x 4 =	5 x 4 =	6 x 4 =
4 x 5 =	5 x 5 =	6 x 5 =
4 x 6 =	5 x 6 =	6 x 6 =
4 x 7 =	5 x 7 =	6 x 7 =
4 x 8 =	5 x 8 =	6 x 8 =
4 x 9 =	5 x 9 =	6 x 9 =
4 x 10 =	5 x 10 =	6 x 10 =
7 x 1 =	8 x 1 =	9 x 1 =
7 x 2 =	8 x 2 =	9 x 2 =
7 x 3 =	8 x 3 =	9 x 3 =
7 x 4 =	8 x 4 =	9 x 4 =
7 x 5 =	8 x 5 =	9 x 5 =
7 x 6 =	8 x 6 =	9 x 6 =
7 x 7 =	8 x 7 =	9 x 7 =
7 x 8 =	8 x 8 =	9 x 8 =
7 x 9 =	8 x 9 =	9 x 9 =
7 x 10 =	8 x 10 =	9 x 10 =



NOME: _____ DATA: 25 / 06 /2021

PROFESSORA: ROSELI FERREIRA RAMALHO

TURMA: 4º ANO – A

LÍNGUA PORTUGUESA

9 – ESCREVA NAS COLUNAS AS PALAVRAS DE ACORDO COM SUA CLASSIFICAÇÃO.

Chico Bento escreveu várias coisas que aparecem na festa junina. Leia as palavras e escreva cada uma no lugar adequado:

BOCA DO PALHAÇO

QUENTÃO

MILHO COZIDO

PIPOCA

PÉ-DE-MOLEQUE

QUADRILHA

CUSCUZ

COCADA

BOLA NA LATA

CANJICA

PESCARIA

REFRIGERANTE

COMIDA	BEBIDA	BRINCADEIRA / DANÇA





NOME: _____ DATA: 25 / 06 /2021

PROFESSORA: ROSELI FERREIRA RAMALHO

TURMA: 4º ANO – A

MATEMÁTICA

10 – LEIA COM ATENÇÃO TODAS AS INFORMAÇÕES E RESOLVA AS SITUAÇÕES-PROBLEMAS.

OBSERVE ATENTAMENTE A TABELA DE PREÇOS DA FESTA JUNINA E RESOLVA OS PROBLEMAS ABAIXO:

TABELA DE PREÇOS	
CHURRASCO.....	3 REAIS
REFRIGERANTE.....	2 REAIS
ÁGUA	1 REAL
PIPOCA	2 REAIS
BOLO DE FUBÁ.....	3 REAIS
DOCES TÍPICOS.....	2 REAIS
MILHO	2 REAIS
BRINCADEIRAS.....	2 REAIS
CARTELA DE BINGO.....	1 REAL



1. ROSINHA QUER COMPRAR 2 REFRIGERANTES, 1 CHURRASCO E 1 PEDAÇO DO DELICIOSO BOLO DE FUBÁ. QUANTO ELA DEVERÁ PAGAR?

RESPOSTA: _____



2. CHICO QUER COMPRAR 2 CHURRASCOS, 1 ÁGUA, 3 FICHAS DE BRINCADEIRAS E 1 DOCE TÍPICO. PARA PAGAR, ELE USARÁ UMA NOTA DE 20 REAIS. DE QUANTO SERÁ SEU TROCO?

RESPOSTA: _____



3. ZÉ LELÉ TEM 10 REAIS PARA GASTAR NA FESTA. ELE QUER GASTAR TUDO, COMENDO E SE DIVERTINDO. ESCREVA TRÊS SUGESTÕES DE FORMAS COM AS QUAIS ELE PODERÁ GASTAR SEUS 10 REAIS NA FESTA:



- A. _____
B. _____
C. _____



NOME: _____ DATA: 28 / 06 /2021

PROFESSORA: ROSELI FERREIRA RAMALHO

TURMA: 4º ANO – A

LÍNGUA PORTUGUESA

11 - ESCREVA NAS COLUNAS AS PALAVRAS DE ACORDO COM SUA CLASSIFICAÇÃO.

ARRAIÁ DO CHICO BENTO

CHICO BENTO VAI FAZER UMA BAITA FESTA JUNINA NO SÍTIO, VAMOS AJUDAR O CHICO ORGANIZAR A FESTA ORGANIZANDO AS LISTAS.

PESCARIA – BOLO DE FUBÁ - PIPOCA – CACHORRO-QUENTE – CANJICA - ARGOLA -
BOCA DO PALHAÇO – PASTEL - AMENDOIM – TOMBA LATA – CADEIA – PAÇOCA –
MILHO VERDE – PÉ DE MOLEQUE – DOCINHOS -



BRINCADEIRAS



SALGADOS



DOCES

MIRIAMVEIGA



NOME: _____

DATA: 28 / 06 /2021

PROFESSORA: ROSELI FERREIRA RAMALHO

TURMA: 4º ANO – A

MATEMÁTICA

12 - LEIA COM ATENÇÃO TODAS AS INFORMAÇÕES E RESOLVA AS SITUAÇÕES-PROBLEMAS.

FESTA JUNINA

Preços:
Pipoca: R\$2,00
Bolo: R\$ 4,00
Milho: R\$5,00
Macã: R\$3,00

CAIXA

@professoranayarah

Agora, resolva os problemas abaixo:

- 1- José comprou 3 maçãs, 2 bolos e 1 milho. Quanto José gastou?
- 2- José pagou com uma nota de 50 reais, quanto ele receberá de troco?
- 3 - A mãe de José queria comprar 5 milhos, mas só tinha uma nota de 20 reais, quanto faltará para ela conseguir comprar?
- 4 - O cachorro quente que não foi colocado no caixa, custa R\$6,00 a unidade. Se Isabela comprasse 4 cachorros quentes, quanto ela gastaria?



NOME: _____ DATA: 29 / 06 /2021

PROFESSORA: ROSELI FERREIRA RAMALHO

TURMA: 4º ANO – A

LÍNGUA PORTUGUESA

13 – LEIA O TEXTO E RESPONDA AS QUESTÕES.

TIÃO E O SEU BALÃO

TIÃO ERA UM CAPIRA MUITO DESAJETADO, QUE QUERIA FAZER DE TUDO QUE VIA DO SEU JEITO DESENGONÇADO.

NO DIA DE SÃO JOÃO, TIÃO RESOLVEU HOMENAGEÁ-LO, SOLTANDO UM BALÃO.

FEZ ENTÃO UM ENORME BALÃO COM CORES BEM VARIADAS

À NOITE, TIÃO SOLTOU O ENORME BALÃO, QUE FOI SUBINDO, SUBINDO, MAS PARA SEU ESPANTO, DE REPENTE DESCEU, DESCEU, E O FOGAREU APARECEU.

O BALÃO DO TIÃO VIROU CINZAS NO CHÃO.

E O TIÃO APRENDEU QUE NÃO SE DEVE SOLTAR BALÕES. ELES CAUSAM INCÊNDIOS E DESTRUIÇÕES.

1 – DESCREVA COMO VOCÊ IMAGINA O BALÃO DO TIÃO.

2 –O QUE ACONTECEU COM O BALÃO QUE TIO?

3 - POR QUE NÃO DEVEMOS SOLTAR BALÕES?



NOME: _____

DATA: 29 / 06 /2021

PROFESSORA: ROSELI FERREIRA RAMALHO

TURMA: 4º ANO – A

MATEMÁTICA

14 – OBSERVE COM BASTANTE ATENÇÃO AOS SINAIS E RESOLVA AS OPERAÇÕES DE ADIÇÃO E SUBTRAÇÃO.

MATEMÁTICA JUNINA

1) RESOLVA AS OPERAÇÕES COM ATENÇÃO:

$$\begin{array}{r} 237 \\ +114 \\ \hline \end{array} \quad \begin{array}{r} 819 \\ +179 \\ \hline \end{array} \quad \begin{array}{r} 215 \\ +365 \\ \hline \end{array} \quad \begin{array}{r} 239 \\ +418 \\ \hline \end{array} \quad \begin{array}{r} 247 \\ +217 \\ \hline \end{array} \quad \begin{array}{r} 209 \\ +564 \\ \hline \end{array}$$

$$\begin{array}{r} 866 \\ +116 \\ \hline \end{array} \quad \begin{array}{r} 458 \\ +328 \\ \hline \end{array} \quad \begin{array}{r} 239 \\ +141 \\ \hline \end{array} \quad \begin{array}{r} 137 \\ +736 \\ \hline \end{array} \quad \begin{array}{r} 328 \\ +335 \\ \hline \end{array} \quad \begin{array}{r} 535 \\ +119 \\ \hline \end{array}$$

$$\begin{array}{r} 230 \\ -114 \\ \hline \end{array} \quad \begin{array}{r} 861 \\ -424 \\ \hline \end{array} \quad \begin{array}{r} 773 \\ -316 \\ \hline \end{array} \quad \begin{array}{r} 534 \\ -209 \\ \hline \end{array} \quad \begin{array}{r} 932 \\ -514 \\ \hline \end{array} \quad \begin{array}{r} 864 \\ -235 \\ \hline \end{array}$$

$$\begin{array}{r} 982 \\ -756 \\ \hline \end{array}$$

$$\begin{array}{r} 530 \\ -305 \\ \hline \end{array}$$

$$\begin{array}{r} 876 \\ -257 \\ \hline \end{array}$$

$$\begin{array}{r} 962 \\ -313 \\ \hline \end{array}$$

$$\begin{array}{r} 430 \\ -221 \\ \hline \end{array}$$



$$\begin{array}{r} 571 \\ -169 \\ \hline \end{array}$$

$$\begin{array}{r} 347 \\ -228 \\ \hline \end{array}$$

$$\begin{array}{r} 693 \\ -154 \\ \hline \end{array}$$

$$\begin{array}{r} 281 \\ -112 \\ \hline \end{array}$$

$$\begin{array}{r} 746 \\ -217 \\ \hline \end{array}$$



NOME: _____ DATA: 30 / 06 /2021

PROFESSORA: ROSELI FERREIRA RAMALHO

TURMA: 4º ANO – A

LÍNGUA PORTUGUESA

15 – LEIA AS PALAVRINHAS QUE ESTÃO NA FRENTE DAS ESTRELINHAS, EM SEGUIDA LEIA AS FRASES E ENCAIXE AS PALAVRAS DE FORMA QUE AS FRASES COMPLETEM OS SENTIDO. DEPOIS AS ENCAIXE NA CRUZADINHA.

★ São Pedro
★ Terreiro
★ Balões

★ Barraquinhas
★ Santo Antônio
★ Bambus

★ São João
★ Amendoim
★ Pipocas

★ Quadriilha
★ Festaça

1) Mês de festa no arraial: _____
2) Mamãe prepara _____ torrado para a festaça.
3) A _____ será muito animada.
4) Vamos soltar _____ coloridos no céu.
5) O pessoal ensaia _____ no terreiro.
6) O _____ está todo enfeitado com barraquinhas.
7) Dia 24 de junho é dia de _____.
8) A criança fez arcos com _____ para decorar o terreiro.
9) Dia 13 de junho é dia de _____.
10) Nas _____ tem quentão e milho verde cozido.
11) As _____ pulam na panela.
12) Dia 29 de junho é dia de _____.



NOME: _____ DATA: 30 / 06 /2021

PROFESSORA: ROSELI FERREIRA RAMALHO

TURMA: 4º ANO – A

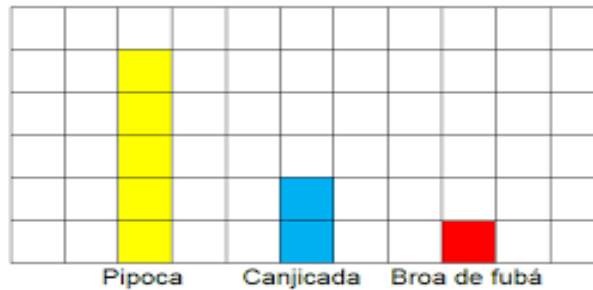
MATEMÁTICA

16 – LEIA TODAS AS INFORMAÇÕES. OBSERVE A TABELA E RESPONDA AS QUESTÕES. EM SEGUIDA RESOLVA AS ADIÇÕES.

ATIVIDADES

1) Tia Vitória fez uma pesquisa sobre as preferências de seus alunos em relação as comidas típicas de festa junina. Depois, ela registrou o resultado em um gráfico de colunas:

Cada quadrinho corresponde a 2 votos.



- Quantos alunos participaram desta pesquisa? _____
- Qual comida foi menos votada? _____
- Quantos votos ela teve? _____
- Qual foi mais votada? _____
- Quantos votos ela teve? _____
- Quantos votos teve a canjicada? _____



2) Resolva as adições, decompondo os números:

Dezenas	Unidades

D	U
4	2
+ 1	1

Dezenas	Unidades

D	U
2	8
+ 3	1

Dezenas	Unidades

D	U
5	4
+ 1	0

Dezenas	Unidades

D	U
3	6
+ 2	3

Dezenas	Unidades

D	U
4	4
+ 1	4

Dezenas	Unidades

D	U
3	2
+ 1	6



NOME: _____ DATA: 01 / 07 /2021

PROFESSORA: ROSELI FERREIRA RAMALHO TURMA: 4º ANO – A

ARTE E RECREAÇÃO

NOS DIAS 01 E 02 DE JULHO AS ATIVIDADES NÃO SERÃO EM FOLHAS.

AS TAREFAS ÀS SEREM CUMPRIDAS NESSES DOIS DIAS, DEVEM SER POSTADAS NO GRUPO DE WHATSAPP DA ESCOLA.

17 - COMIDAS TÍPICAS DE FESTAS JUNINAS

EM NOSSA REGIÃO TEMOS UMA VARIEDADE DE COMIDAS TÍPICAS DE FESTA JUNINA. PESQUISE NA INTERNET OU PERGUNTANDO PARA SEUS FAMILIARES UMA DELAS. ESCREVA A RECEITA E NOS ENVIE UMA FOTO NO GRUPO DA NOSSA TURMA.

Hummmmm! Que Delícia!





NOME: _____ DATA: 02 / 07 /2021

PROFESSORA: ROSELI FERREIRA RAMALHO

TURMA: 4º ANO – A

ARTE E RECREAÇÃO

NESTA ÉPOCA DO ANO COMEMORAMOS UMA DAS FESTAS MAIS POPULARES NO BRASIL - AS FESTAS JUNINAS!

18 - TRAJES TÍPICOS.

É HORA DE TIRAR A ROUPA COLORIDA DO ARMÁRIO E SOLTAR A IMAGINAÇÃO!

A) COM AJUDA DE SEUS FAMILIARES, SE VISTA COM UM LOOK BEM COLORIDO, MISTURE TUDO! DEPOIS DA PRODUÇÃO TIRE UMA FOTO, SE SENTIR A VONTADE POSTE NO NOSSO GRUPO.

;B) FAÇA UM DESENHO BEM CAPRICHADO DE FESTA JUNINA E PINTE BEM COLORIDO!!!

