



Prefeitura da Estância Turística de  
**IBIÚNA**  
TRANSFORMAÇÃO RESPONSÁVEL. CUIDANDO DE PESSOAS.



**E.M “ZENI SOARES RAMALHO”**

**APOSTILA 07**

**Atividades para estudo em Casa**

**21/06 a 02/07/2021**

**Aluno (a):**

**Professora: Rosana Ramalho Ferreira**

**5 ° ano A**

## E. M. "ZENI SOARES RAMALHO"

### ROTEIRO DE ESTUDO - APOSTILA 07 - 5º ANO A

PROFESSORA: ROSANA RAMALHO FERREIRA

Siga o roteiro para a realização das atividades:

- Realizar uma atividades por dia;
- Realizar as atividades com muita atenção na leitura para ter maior compreensão;
- É muito importante que os pais continuem auxiliando seus filhos na realização das atividades;
- Qualquer dúvida a professora está à disposição via Whatsapp, para esclarecer as dúvidas existentes;
- Data de devolução da 6ª e 7ª apostilas: Dia 01/07 (quinta-feira).

DO DIA 21 DE JUNHO ATÉ DIA 02 DE JULHO DE 2021:

DIA	ATIVIDADES	
21/06	Artes	<a href="https://www.artesanatopassoapassoja.com.br/desenhos-para-colorir-festa-junina/">https://www.artesanatopassoapassoja.com.br/desenhos-para-colorir-festa-junina/</a>
22/06	Linguagem	<a href="https://www.danieducar.com.br/search/label/festa%20junina">https://www.danieducar.com.br/search/label/festa%20junina</a>
23/06	Matemática	<a href="https://escolaeducacao.com.br/atividades-para-festa-junina-para-o-2o-ano/atividades-festa-junina-2-ano-ajude-a-monica-a-chegar-ao-cascao/">https://escolaeducacao.com.br/atividades-para-festa-junina-para-o-2o-ano/atividades-festa-junina-2-ano-ajude-a-monica-a-chegar-ao-cascao/</a>
24/06	História	<a href="https://educacaoetransformacaooficial.blogspot.com/2019/06/sao-joao-turma-da-monica.html">https://educacaoetransformacaooficial.blogspot.com/2019/06/sao-joao-turma-da-monica.html</a>
25/06	Geografia	<a href="https://lereaprender.com.br/atividades-para-festa-junina-para-o-4o-ano/atividades-de-festa-junina-para-3-ano-ajude-a-monica/">https://lereaprender.com.br/atividades-para-festa-junina-para-o-4o-ano/atividades-de-festa-junina-para-3-ano-ajude-a-monica/</a>
28/06	Matemática	<a href="https://miriamveiga.com.br/festa-junina-matematica-junina/">https://miriamveiga.com.br/festa-junina-matematica-junina/</a>
29/06	Artes	<a href="http://nossavamoscolorirdesenhos.blogspot.com/2011/10/desenho-de-festa-junina-para-colorir.html">http://nossavamoscolorirdesenhos.blogspot.com/2011/10/desenho-de-festa-junina-para-colorir.html</a>
30/06	Ciências	<a href="https://www.slideshare.net/cristinarbrandao/lp-1-bim">https://www.slideshare.net/cristinarbrandao/lp-1-bim</a>
01/07	Matemática	Trava Língua – <a href="http://www.bolachapedagogica.com">www.bolachapedagogica.com</a>
02/07	Artes	Vídeo sobre Origem da festa junina



## CAÇA PALAVRAS JUNINAS

B	A	R	R	A	C	A	S	V	T	R	G	A	S	A	N	F	O
Q	A	M	E	N	D	O	I	M	A	P	C	N	P	A	M	L	M
S	D	N	C	X	E	S	M	H	M	I	H	O	F	O	G	U	N
Q	U	A	D	R	I	L	H	A	E	P	U	F	D	R	S	B	A
U	H	J	V	E	M	I	K	L	N	O	T	N	H	J	L	M	C
A	C	O	H	L	I	M	V	B	T	C	R	A	X	R	A	S	I
S	G	U	E	I	A	R	G	O	L	A	A	S	F	G	I	Y	A
O	B	R	A	R	F	G	I	U	O	J	S	E	C	L	R	U	C
T	J	K	L	N	M	B	V	N	L	R	C	L	H	Ç	A	J	I
N	C	H	Á	P	I	L	D	C	H	U	R	R	A	S	C	O	J
A	R	I	E	U	G	O	F	B	Ç	A	O	F	P	N	S	L	N
S	M	N	H	A	S	D	U	I	É	G	S	U	É	J	E	Ç	A
N	H	N	G	I	C	A	R	F	U	G	L	H	U	K	P	N	C



AMENDOIM    ARGOLA  
 BANDEIRINHAS  
 BARRACAS    CANJICA  
 CHAPÉU    CHURRASCO    FOGUEIRA  
 MILHO            PESCARIA            PIPOCA  
 QUADRILHA    SANFONA            SANTOS

A Mônica precisa ir até a música para dançar a quadrilha, ajude-a a chegar ao cascão.



83	84	85	86	97	98	99			
82	89	88	87	96	95	100			
81	90	91	92	93	94				
80	79	72	71	70	63	62	61	54	53
77	78	73	68	69	64	59	60	55	52
76	75	74	67	66	65	58	57	56	51
5	6	7	10	11	12	45	46	47	50
4	3	8	9	14	13	44	43	48	49
1	2		16	15	24	25	42	41	40
			17	22	23	26	33	34	39
			18	21	28	27	32	35	38
			19	20	29	30	31	36	37



## Festa caipira

Oba! Junho é o mês de muitos santos. Santo Antônio, São João e São Pedro recebem homenagens e ganham festas. A mais legal é a de são-joão. Meninos e meninas se vestem de caipira e caem na farra:



- . dançam a quadrilha
- . pulam a fogueira
- . pescam surpresas
- . participam do casamento na roça
- . comem delícias: canjica, pipoca, churrasquinho, cachorro-quente, pé de moleque.

Que tentação! A gente come tanto que vem a reclamação:  
\_ Criança, não tenha o olho maior que a barriga.

Dad Squarisi

### Veja só

O nome do santo é substantivo próprio. Escreve-se São João.

O nome da festa é substantivo comum. Escreve-se são-joão.

### Desafio

Escreva uma frase com os dois nomes - o próprio e o comum:

---


---

### Caça-resposta

Busque a palavra que completa a frase: As festas juninas se chamam juninas porque derivam de:

M Ê S J U L H O F E S T A  
J U N I O R E S S A N T O  
J A N E I R O J U N H O S  
J U L I E T A J O ã O D O

AJUDE A MÔNICA A REALIZAR  
O CASAMENTO NA ROÇA  
LEVE-A ATÉ O CEBOLINHA.



# MATEMÁTICA JUNINA

1) RESOLVA AS OPERAÇÕES COM ATENÇÃO:

$$\begin{array}{r} 237 \\ +114 \\ \hline \end{array}$$

$$\begin{array}{r} 819 \\ +179 \\ \hline \end{array}$$

$$\begin{array}{r} 215 \\ +365 \\ \hline \end{array}$$

$$\begin{array}{r} 239 \\ +418 \\ \hline \end{array}$$

$$\begin{array}{r} 247 \\ +217 \\ \hline \end{array}$$

$$\begin{array}{r} 209 \\ +564 \\ \hline \end{array}$$

$$\begin{array}{r} 866 \\ +116 \\ \hline \end{array}$$

$$\begin{array}{r} 458 \\ +328 \\ \hline \end{array}$$

$$\begin{array}{r} 239 \\ +141 \\ \hline \end{array}$$

$$\begin{array}{r} 137 \\ +736 \\ \hline \end{array}$$

$$\begin{array}{r} 328 \\ +335 \\ \hline \end{array}$$

$$\begin{array}{r} 535 \\ +119 \\ \hline \end{array}$$

$$\begin{array}{r} 230 \\ -114 \\ \hline \end{array}$$

$$\begin{array}{r} 861 \\ -424 \\ \hline \end{array}$$

$$\begin{array}{r} 773 \\ -316 \\ \hline \end{array}$$

$$\begin{array}{r} 534 \\ -209 \\ \hline \end{array}$$

$$\begin{array}{r} 932 \\ -514 \\ \hline \end{array}$$

$$\begin{array}{r} 864 \\ -235 \\ \hline \end{array}$$

$$\begin{array}{r} 982 \\ -756 \\ \hline \end{array}$$

$$\begin{array}{r} 530 \\ -305 \\ \hline \end{array}$$

$$\begin{array}{r} 876 \\ -257 \\ \hline \end{array}$$

$$\begin{array}{r} 962 \\ -313 \\ \hline \end{array}$$

$$\begin{array}{r} 430 \\ -221 \\ \hline \end{array}$$

$$\begin{array}{r} 571 \\ -169 \\ \hline \end{array}$$

$$\begin{array}{r} 347 \\ -228 \\ \hline \end{array}$$

$$\begin{array}{r} 693 \\ -154 \\ \hline \end{array}$$

$$\begin{array}{r} 281 \\ -112 \\ \hline \end{array}$$

$$\begin{array}{r} 746 \\ -217 \\ \hline \end{array}$$







Convite.  
(José Paulo Paes)

Poesia  
é brincar com as palavras  
como se brinca  
com bola, papagaio, pião.

Só que  
bola, papagaio, pião  
de tanto brincar  
se gastam

As palavras não:  
quanto mais se brinca com elas  
mais novas ficam.



Como a água do rio  
que é água sempre nova.

Como cada dia  
que é sempre um novo dia.

Vamos brincar de  
poesia?



1. O texto que você leu é um texto:  
( ) literário ( ) poético ( ) jornalístico

2. A intenção do texto é:  
(A) brincar com as palavras.  
(B) falar sobre os tipos de brinquedos.  
(C) mostrar como se brinca fora de casa.

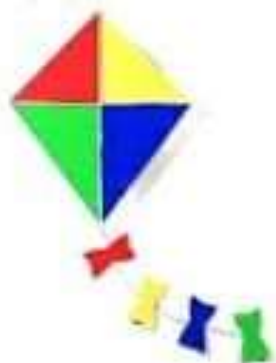
3. O texto mostra que a poesia:  
(A) é um texto muito longo.  
(B) pode deixar as crianças desanimadas.  
(C) pode ser uma brincadeira.

4. O poema possui:  
( ) 17 versos e 4 estrofes.  
( ) 17 estrofes e 4 versos.

5. A ideia central da poesia é:  
(A) os brinquedos são poucos, mas as palavras são muitas.  
(B) os brinquedos acabam, mas as palavras se renovam.  
(C) os brinquedos podem ser guardados, mas as palavras não podem.

6. A palavra "elas" em destaque na terceira estrofe se refere:  
(A) às palavras.  
(B) às brincadeiras.  
(C) às águas.

7. Podemos encontrar esse tipo de texto em:  
(A) livros de receita.  
(B) manual de instrução.  
(C) livros de leitura.










# Atividade

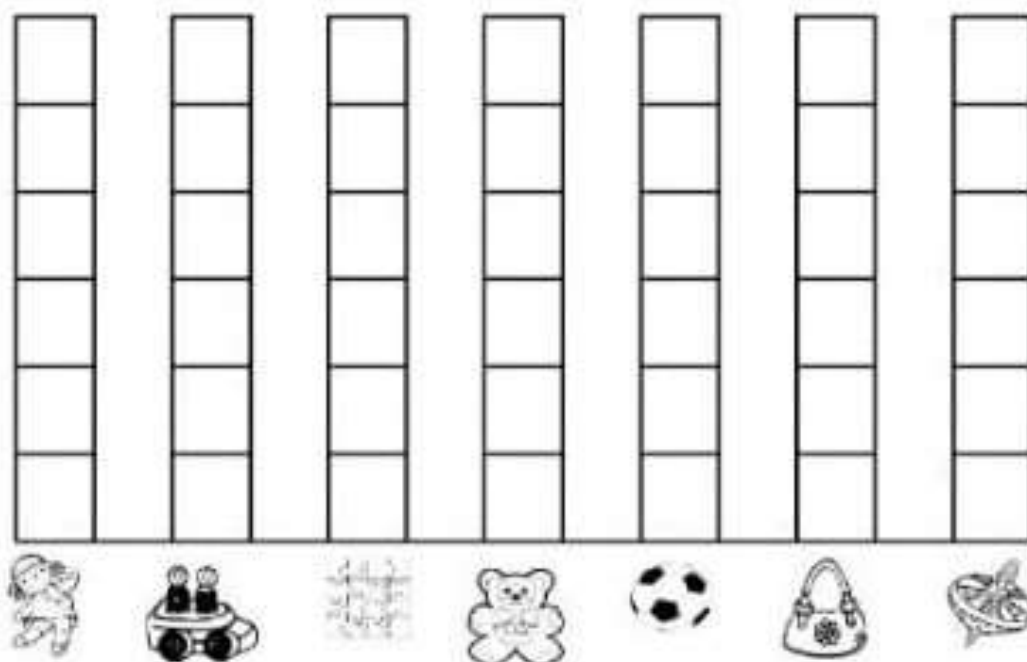
A ROSINHA GANHOU ALGUMAS PRENDAS PARA A BARRACA DA PESCARIA DE UMA FESTA JUNINA.  
ELA PRECISA CONTAR QUANTAS PRENDAS RECEBEU, AJUDE-A COMPLETANDO A TABELA E DEPOIS O GRÁFICO:



-COMPLETE A TABELA COM OS NUMERAIS REFERENTES À QUANTIDADE DAS PRENDAS:

- AGORA MARQUE AS QUANTIDADES NO GRÁFICO:



QUANTAS PRENDAS ELA RECEBEU AO TODO ? \_\_\_\_\_