

E.M. "JOSÉ GABRIEL MACHADO"  
APOSTILA DE ESTUDOS REMOTOS

Nº 08

CONTEÚDOS DO 3º BIMESTRE

**PERÍODO DE 05,06 E 19 DE JULHO A 06 DE AGOSTO**

5º ANO B

2021

PROFESSOR: MARCELO DE ALMEIDA ALVES

*ELABORADA DE ACORDO COM AS ORIENTAÇÕES PEDAGÓGICAS Nº11 DA SME DE 14/07/2021*



PREFEITURA DA ESTÂNCIA TURÍSTICA DE  
**IBIÚNA**  
Por uma cidade próspera, inovadora e próspera, grande à frente  
SECRETARIA DE EDUCAÇÃO



## ORIENTAÇÕES APOSTILA 08

Ibiúna, 05 de julho de 2021

OLÁ, VOCÊ ESTÁ RECEBENDO A APOSTILA DE ATIVIDADES REMOTA NÚMERO 8 COM ATIVIDADES DOS DIAS 05 E 06 DE JULHO E DE 23 DE JULHO A 06 DE AGOSTO, AS PRIMEIRAS ATIVIDADES VO- E IPRA REALIZAR COM DATAS RETROATIVAS AO RECEBIMENTO DA APOSTILA, POR ISSO TERÁ QUE DEDICAR UM TEMPO MAIOR PARA REALIZAR ESSAS ATIVIDADES. ASSISTA AOS VÍDEOS EXPLICATIVOS ENVIADOS DIARIAMENTE NO GRUPO DA SALA. ABAIXO SEGUIE O QUADRO DE ENVIO DOS VÍDEOS. E AO LADO OS RELATÓRIOS DE CORREÇÃO DAS APOSTILAS 5, 6 E 7. BONS ESTUDOS.

### Atividade 01 Arte

ATIVIDADE	ENVIO DO VÍDEO	HORÁRIO DO ENVIO
01, 02, 03, 04, 05 06 e 07	23/07	16h
08 e 09	26/07	10h
10 e 11	27/07	10h
12 e 13	28/07	10h
14 e 15	29/07	10h
16 e 17	30/08	10h
18 e 19	02/08	10h
20 e 21	03/08	10h
22 e 23	04/08	10h
24 e 25	05/08	10h
26 e 27	06/08	10h

ASSINATURA DO RESPONSÁVEL PELO(A) ALUNO(A)





Ibiúna, 06 de julho de 2021

### Atividade 02 Língua portuguesa

Leia o texto e responda as questões.

## Um pouco da história das Olimpíadas

Quando a cidade de Olímpia, na Grécia, foi restaurada por um arqueólogo alemão, em 1852, ninguém imaginou que aquelas ruínas serviriam de inspiração para um educador francês criar um evento esportivo mundial.



Esse educador foi incumbido de fazer uma reforma no ensino de seu país. Ele viajava pelo mundo em busca de experiências, quando imaginou o globo terrestre como um grande pátio de colégio, com as "classe-países" se reunindo regularmente para medir forças e habilidades.

Com essa ideia na cabeça ele conheceu um educador inglês que defendia a prática sistemática de esportes como forma de melhorar o rendimento escolar e estimular o espírito de equipe entre as crianças e os adolescentes.

Estavam criados os Jogos Olímpicos, que acontecem de 4 em 4 anos e que em 2012 tiveram sua 30ª edição. No século XX deixaram de acontecer três edições dos jogos – 1916, 1940 e 1944 – por causa das guerras mundiais, mas para efeito de contagem foram mantidas como 6ª, 12ª e 13ª edições.

Adaptado de Revista Nova Escola, Nº 125

1- Responda:

a) Em que ano aconteceu sétima Olimpíada? E a décima?


b) Em que século aconteceu a primeira Olimpíada? Em que ano aconteceram as duas últimas?

c) Onde acontecerá a próxima Olimpíada?

Ibiúna, 19 de julho de 2021

### Atividade 03 Matemática

Resolva o desafio matemático abaixo.



7 + 2 - 4 + 8 - 2 + 3 - 5 = 5

Ibiúna, 20 de julho de 2021

### Atividade 04 Língua portuguesa

Leia o poema e faça a atividade

#### ESPORTE É VIDA!

VIDA E ESPORTE  
ESTÃO MUITO LIGADOS  
PARA JOVENS E ADULTOS  
EM QUALQUER IDADE.

ESPORTE COM BOLA É SENSACIONAL!  
VÔLEI, BASQUETE, TÊNIS,  
HANDEBOL E FUTEBOL.

JUDÔ E KARATÊ  
SÃO ESPORTES DE LUTA.  
MUSCULAÇÃO E NATAÇÃO  
MELHORAM NOSSA RESPIRAÇÃO.

NÃO PRECISA SER ATLETA  
PARA DELES PARTICIPAR.  
BASTA APENAS SER ESPERTO  
PARA UM DELES PRATICAR!

Regina C. Vilhoça Lima



LIGUE-SE NESTA!

- 1) Circule, no poema, palavras com a letra **E** no início e no meio delas.
- 2) Escreva, no quadro correspondente, três palavras que você circuleu.


DISSÍLABA	TRISSÍLABA	POLISSÍLABA

Ibiúna, 21 de julho de 2021

### Atividade 05 Matemática

#### ATIVIDADE

1- AGRUPE EM DEZENAS E COMPLETE AS FRASES.



HÁ \_\_\_\_\_ DEZENAS E \_\_\_\_\_ UNIDADES.

\_\_\_\_\_ + \_\_\_\_\_ = \_\_\_\_\_

TEMOS UM TOTAL DE \_\_\_\_\_ UNIDADES

2- LEIA E RESPONDA A QUESTÃO.

CADA CAIXA COM BOLAS DE BASQUETE TEM 10 BOLAS.  
PARA AS OLIMPÍADAS FORAM COMPRADAS 3 DESSAS CAIXAS E 5 BOLAS AVULSAS.  
QUANTAS BOLAS FORAM COMPRADAS?

FORAM COMPRADAS \_\_\_\_\_ BOLAS..

3- DECOMPONHA OS NUMERAIS ABAIXO EM DEZENAS  
E UNIDADES.



58		
35		
29		
81		
52		



Ibiúna, 23 de julho de 2021

**Atividade 07 Matemática**

Faça como no modelo a seguir

**VALOR POSICIONAL**

<b>123</b>	C	D	U	1 CENTENA 2 DEZENAS 3 UNIDADES	100 + 20 + 3
	1	2	3		
<b>238</b>	C	D	U	_____	_____
	_____	_____	_____	_____	
<b>357</b>	C	D	U	_____	_____
	_____	_____	_____	_____	
<b>426</b>	C	D	U	_____	_____
	_____	_____	_____	_____	
<b>579</b>	C	D	U	_____	_____
	_____	_____	_____	_____	
<b>692</b>	C	D	U	_____	_____
	_____	_____	_____	_____	
<b>781</b>	C	D	U	_____	_____
	_____	_____	_____	_____	

Ibiúna, 26 de julho de 2021

**Atividade 08 Língua portuguesa**

**CRUZADINHA**



www.smartkids.com.br

Complete a Cruzadinha com os esportes aquáticos representados:

1

2

3

4

5

© SMARTKIDS

resp. 1. ESQUI AQUÁTICO, 2. VELA, 3. CANOAGEM, 4. NATAÇÃO, 5. REMO



### Atividade 09 ciências

Vamos lembrar um pouco sobre como cuidar do nosso corpo

## CUIDANDO DO CORPO



PARA CUIDAR DO NOSSO CORPO, É PRECISO ALIMENTAÇÃO SAUDÁVEL, HIGIENE PESSOAL, LAZER, DORMIR BEM E FAZER ATIVIDADE FÍSICA.

1. QUANTAS HORAS VOCÊ DORME POR DIA? \_\_\_\_\_

2. CITE UMA ATIVIDADE DE LAZER QUE VOCÊ PRÁTICA.

\_\_\_\_\_

3. VOCÊ PRÁTICA ALGUMA ATIVIDADE FÍSICA? ONDE?

\_\_\_\_\_

4. VOCÊ PRÁTICA ALGUM DESTES ESPORTES? QUAL?

NATAÇÃO     FUTEBOL     VÔLEI

CAPOEIRA     BASQUETE     JUDÔ

CICLISMO    OUTRO. QUAL? \_\_\_\_\_

5. CITE UMA BRINCADEIRA QUE PRECISAMOS MOVIMENTAR O CORPO PARA PRATICÁ-LA.

\_\_\_\_\_

Ibiúna, 27 de julho de 2021

### Atividade 10 Matemática

Pinte as frações de acordo com o seu valor



Pinte as partes de acordo com cada fração:



## Atividade 11 história

Leia o texto e conheça a história das olimpíadas.

### A HISTÓRIA DAS OLIMPÍADAS

As Olimpíadas constituem o momento mais importante do esporte em todo o mundo.

As Olimpíadas surgiram na Grécia há 776 anos antes de Cristo. Era uma grande festa, um momento especial. Tão especial que, três meses antes de iniciar os jogos, todas as guerras eram suspensas. Era um momento de paz para que todos os gregos se organizassem e fossem para a cidade olímpica, onde acontecia o evento.

Os jogos eram realizados em homenagem aos deuses gregos e usados pelos gregos para marcar a passagem do tempo. Já naquela época, os jogos aconteciam de quatro em quatro anos, e o vencedor era coroado com uma grinalda de ramos de oliveira.

Quando a Grécia foi invadida pelos romanos, a Olimpíada foi extinta e só voltou a ser realizada novamente 1500 anos depois. Assim, em 1896, na cidade de Atenas, na Grécia, recomeçaram os Jogos Olímpicos da era moderna.

De 1896 a 2004, foram realizadas 25 Olimpíadas. Na verdade, deveriam ter acontecido 28 jogos, porém, em 1916, em Berlim (Alemanha), o jogo precisou ser cancelado por causa da Primeira Guerra Mundial, e depois em 1940 e 1944, desta vez por causa da Segunda Guerra Mundial.

Eliminando esse triste episódio de guerras, os jogos sempre foram uma das mais belas festas do mundo. Neles, todos os povos se encontram e se integram num só objetivo: o esporte.

---

**CURIOSIDADES**

**Símbolo olímpico**  
Constitui-se de cinco anéis entrelaçados, que representam os cinco continentes: Europa, Ásia, África, Oceania e América.

**Pira olímpica**  
A chama simboliza a luta do atleta pela perfeição. Corredores se alternam para transportar uma tocha desde a Grécia (berço da Olimpíada) até o estádio em que os jogos serão realizados.

Ibiúna 20 de julho de 2021

## Atividade 12 Língua portuguesa

Numere as frases de acordo com as imagens.

**Relacione uma frase para cada imagem:**

1 	2 	3 
4 	5 	6 
7 	8 	9 


<input type="checkbox"/> O CASCÃO E A MAGALI ESTÃO BRINCANDO NA GANGORRA.
<input type="checkbox"/> A MÔNICA E O CEBOLINHA PLANTARAM UMA ÁRVORE.
<input type="checkbox"/> QUE SURPRESA! O CASCÃO TOMOU BANHO HOJE.
<input type="checkbox"/> A MAGALI COMPROU UM SORVETE ENORME.
<input type="checkbox"/> CASCÃO ADORA SOLTAR PIPA.
<input type="checkbox"/> A MÔNICA FOI A NOIVA DA FESTA JUNINA.
<input type="checkbox"/> O CEBOLINHA E O CASCÃO CORRERAM DA MÔNICA.
<input type="checkbox"/> A MÔNICA LÊ REVISTINHA TODOS OS DIAS.
<input type="checkbox"/> O CASCÃO É UM ÓTIMO JOGADOR DE FUTEBOL.










# GINÁSTICA RÍTMICA


"JOGAR TUDO PARA O ALTO... E PEGAR DE VOLTA."








SÃO CINCO OS APARATOS UTILIZADOS PELAS GINASTAS NESTA MODALIDADE. A MAGALI ESTÁ USANDO A MAÇA. VAMOS COLOCAR A LETRA INICIAL DE CADA DESENHO PARA DESCOBRIR O NOME DOS OUTROS APARATOS!









			















			

## POEMA EM CÓDIGO

1 Complete o poema abaixo, substituindo os desenhos pelas palavras.


 noite	 Cheguei	 caía	 fina	 sonhos	 sol	 amigos
 escura	 janela	 chuva	 dormir	 dia	 brincar	 feliz

A  \_\_\_\_\_ estava  \_\_\_\_\_.


 \_\_\_\_\_ até a  \_\_\_\_\_.

Para ver a  \_\_\_\_\_.


Que  \_\_\_\_\_ de mansinho.

Fui  \_\_\_\_\_ tristonho,

Mas tive belos  \_\_\_\_\_.

Amanheceu um novo  \_\_\_\_\_.

Com o  \_\_\_\_\_ a brilhar!

Então, muito  \_\_\_\_\_,

Chamei os meus  \_\_\_\_\_,

E no parque fomos  \_\_\_\_\_.

Até a  \_\_\_\_\_ chegar.



### Atividade 17 Matemática

Preencha o quadro fazendo os cálculos mentalmente

## Cálculo mental



Número	mais 10	menos 10	mais 100	menos 100
476				
261				
852				
758				
663				
329				
165				

Ibiúna, 02 de agosto de 2021

### Atividade 18 Língua portuguesa

Preencha a cruzadinha como os nomes dos jogos olímpicos

#### CRUZADINHA ESPORTIVA

RESOLVA A CRUZADINHA ABAIXO COM NOMES DE ESPORTES OLÍMPICOS:

The crossword puzzle grid is composed of white squares for letters and grey squares for empty space. The grid is intersected by several words related to sports. The illustrations are placed around the grid, with arrows pointing to the corresponding crossword clues.



## Atividade 19 Ciências

Vamos lembrar o que aprendemos sobre alimentação saudável

### HIGIENE ALIMENTAR

1. ANTES DE COMER UMA FRUTA, O QUE PRECISAMOS FAZER?

- LAVAR BEM AS MÃOS E AS FRUTAS.
- LAVAR APENAS AS MÃOS.
- LAVAR APENAS A FRUTA.



2. ALÉM DE BEM LAVADAS, A CARNE QUE COMEMOS DEVE SER:

- MAL COZIDA OU MAL PASSADA.
- BEM COZIDA E BEM ASSADA.

3. ANTES DE CONSUMIR ALIMENTOS INDUSTRIALIZADOS

- DEVEMOS OBSERVAR A DATA DE VALIDADE.
- NÃO É PRECISO OBSERVAR A DATA DE VALIDADE.

4. ANTES DE NOS ALIMENTARMOS, DEVEMOS:

- TOMAR BANHO.
- LAVAR AS MÃOS.
- ESCOVAR OS DENTES.
- TROCAR DE ROUPA.



Ibiúna 03 de agosto de 2021

## Atividade 20 Matemática


Observe a tabela de dos sólidos geométricos

 <b>CUBO</b> Faces <b>6</b> Arestas <b>12</b> Vértices <b>8</b>	 <b>ESFERA</b> Faces <b>0</b> Arestas <b>0</b> Vértices <b>0</b>	 <b>CONE</b> Faces <b>0</b> Arestas <b>0</b> Vértices <b>1</b>	 <b>CILINDRO</b> Faces <b>2</b> Arestas <b>0</b> Vértices <b>0</b>
 <b>ICOSAEDRO</b> Faces <b>20</b> Arestas <b>30</b> Vértices <b>12</b>	 <b>DODECAEDRO</b> Faces <b>12</b> Arestas <b>30</b> Vértices <b>20</b>	 <b>FORMA QUADRANGULAR</b> Faces <b>6</b> Arestas <b>12</b> Vértices <b>8</b>	 <b>FORMA HEXAGONAL</b> Faces <b>8</b> Arestas <b>18</b> Vértices <b>12</b>
 <b>ICOSAEDRO</b> Faces <b>20</b> Arestas <b>30</b> Vértices <b>12</b>	 <b>HEXAEDRO</b> Faces <b>6</b> Arestas <b>12</b> Vértices <b>8</b>	 <b>ICOSAEDRO TRUNCADO</b> Faces <b>32</b> Arestas <b>90</b> Vértices <b>60</b>	 <b>PRISMA QUADRANGULAR</b> Faces <b>5</b> Arestas <b>8</b> Vértices <b>5</b>
 <b>PRISMA TRIANGULAR</b> Faces <b>4</b> Arestas <b>6</b> Vértices <b>4</b>	 <b>FORMA TRIANGULAR</b> Faces <b>5</b> Arestas <b>9</b> Vértices <b>6</b>	 <b>FORMA PENTAGONAL</b> Faces <b>7</b> Arestas <b>15</b> Vértices <b>10</b>	 <b>PARALELEPÍPEDO</b> Faces <b>6</b> Arestas <b>12</b> Vértices <b>8</b>

### Atividade 21 História

Leia o texto:

## ANÉIS OLÍMPICOS



O símbolo dos Jogos Olímpicos é composto por cinco anéis entrelaçados, com as cores azul, amarelo, preto, verde e vermelho sobre um fundo branco. Esses cinco anéis representam as cinco partes do mundo, que agora são conquistados para Olimpismo e dispostas a aceitar uma concorrência saudável, dessa forma, além de simbolizar a união dos cinco continentes, integra todos os países, fornecendo um sentido universal para as Olimpíadas. Cada anel representa um continente, sendo o anel azul correspondente a Europa, o anel amarelo a Ásia, o preto a África, o verde a Oceania e o vermelho a América.

Ibiúna, 04 de agosto de 2021

### Atividade 22 Língua portuguesa



## CAÇA-PALAVRAS



Q	A	W	F	I	B	E	T	E	U	Q	S	A	B
N	T	O	U	V	G	B	Ê	Ç	L	P	H	Z	C
A	R	A	T	H	A	U	N	X	K	R	O	M	B
X	I	X	E	L	E	J	I	F	A	E	E	H	S
H	A	I	B	K	I	A	S	W	B	G	B	M	A
A	T	E	O	B	W	Z	R	I	A	O	A	U	O
N	L	Y	L	W	U	O	M	O	R	L	D	E	M
D	O	T	Ç	Y	N	R	N	V	T	F	M	T	S
E	S	G	R	I	M	A	R	D	I	E	I	Y	I
B	F	B	P	Y	C	P	T	B	O	N	N	U	L
O	A	O	B	O	K	E	A	A	G	A	T	B	C
L	Q	G	W	B	X	O	Z	N	Ç	S	O	N	I
J	U	D	Ô	O	M	L	X	M	F	Ã	N	X	C
R	X	Z	B	K	H	I	P	I	S	M	O	E	X

BASQUETE - HIPISMO - NATAÇÃO - TÊNIS - ESGRIMA -  
TAEKWONDO - CICLISMO - GOLFE - FUTEBOL - REMO -  
CANOAGEM - RUGBY - HANDEBOL - JUDÔ - TRIATLO -  
BOXE - BADMINTON -





### Atividade 23 Geografia

Ibiúna, 05 de agosto de 2021

Faça essa atividade usando o quadro da atividade 13

### Atividade 24 Matemática









Realize a atividade usando o quadro da atividade 20

1- LIGUE CADA BANDEIRA AO SEU RESPECTIVO PAÍS E PINTE-AS:

	AUSTRÁLIA	
	BRASIL	
	COSTA RICA	
	RÚSSIA	
	COLÔMBIA	
	COREIA DO SUL	
	FRANÇA	
	ARGENTINA	

### FACE, VÉRTICE E ARESTA

Escreva o nome de cada forma. Além disso, a número de faces, aresta e vértice.


 FACE <input type="checkbox"/> VÉRTICE <input type="checkbox"/> ARESTA <input type="checkbox"/> NOME: _____	 FACE <input type="checkbox"/> VÉRTICE <input type="checkbox"/> ARESTA <input type="checkbox"/> NOME: _____
3)  FACE <input type="checkbox"/> VÉRTICE <input type="checkbox"/> ARESTA <input type="checkbox"/> NOME: _____	4)  FACE <input type="checkbox"/> VÉRTICE <input type="checkbox"/> ARESTA <input type="checkbox"/> NOME: _____
5)  FACE <input type="checkbox"/> VÉRTICE <input type="checkbox"/> ARESTA <input type="checkbox"/> NOME: _____	6)  FACE <input type="checkbox"/> VÉRTICE <input type="checkbox"/> ARESTA <input type="checkbox"/> NOME: _____
7)  FACE <input type="checkbox"/> VÉRTICE <input type="checkbox"/> ARESTA <input type="checkbox"/> NOME: _____	8)  FACE <input type="checkbox"/> VÉRTICE <input type="checkbox"/> ARESTA <input type="checkbox"/> NOME: _____



### Atividade 25 Arte

Leia o texto da atividade 21 para completar essa atividade

## VAMOS COLORIR OS ANÉIS OLÍMPICOS



SÃO CINCO ANÉIS DE CORES DIFERENTES:  
 (AZUL, VERMELHO, PRETO, AMARELO E VERDE)

**LIGUE DE ACORDO COM A COR QUE  
 REPRESENTA CADA CONTINENTE**

AMARELO

AMÉRICA

VERDE

ÁSIA

PRETO

EUROPA

VERMELHO

ÁFRICA

AZUL

OCEÂNIA

Ibiúna, 06 de agosto de 2021

### Atividade 26 Língua portuguesa

## ATLETISMO



O atletismo é um conjunto de esportes constituído por três modalidades: Corrida, lançamentos e saltos. Ele é também a forma organizada mais antiga de competição. As primeiras reuniões organizadas da história foram os Jogos Olímpicos, que os gregos iniciaram no ano 776 a.C.

FONTES: Wikipédia

## Atividade

1- De acordo com o texto o atletismo é composto por 3 modalidades de esporte. Cite-as abaixo:

2- Qual modalidade deste esporte olímpico foi utilizado para ilustrar o texto?

**Você sabia, que... Apesar de ser a forma organizada mais antiga de competição as mulheres só puderam participar nas Olimpíadas de Amsterdã em 1928?**

3- O que você achou deste fato curioso?

4- Faça uma pesquisa sobre a participação das mulheres nas Olimpíadas e com base em suas descobertas elabore um texto informativo.

## Atividade 27 Matemática

Mostre que você é um campeão olímpico e resolva esse desafio.



# DESAFIO

Responda as perguntas  
e vença o desafio!



1. QUANTAS DEZENAS TEM NO NÚMERO 231? \_\_\_\_\_
2. O NÚMERO 632 TEM 3 CENTENAS? \_\_\_\_\_
3. QUANTAS CENTENAS TEM O NÚMERO 324? \_\_\_\_\_
4. QUAL VALOR DO 9 NO NÚMERO 592? \_\_\_\_\_
5. QUANTAS UNIDADES TEM O NÚMERO 627? \_\_\_\_\_
6. QUANTAS DEZENAS TEM O NÚMERO 498? \_\_\_\_\_
7. O NÚMERO 987 TEM 8 DEZENAS? \_\_\_\_\_
8. QUANTAS CENTENAS TEM O NÚMERO 129? \_\_\_\_\_
9. QUAL VALOR DO 7 NO NÚMERO 721? \_\_\_\_\_
10. QUANTAS UNIDADES TEM O NÚMERO 345? \_\_\_\_\_

## REFERÊNCIAS

- <https://educacaoetransformacaooficial.blogspot.com/2018/05/apostila-de-ciencias.html?m=1>
- <https://br.pinterest.com/pin/442197257170447427/>
- <https://br.pinterest.com/pin/616148792739117907/>
- <https://www.espacoeducar.net/2018/11/200-atividades-para-eja-educacao-de.html>
- <https://sosprofessor-atividades.blogspot.com/>
- <https://pedagogiaaopedaletra.com/eja-atividades-variadas/>
- [https://mungfali.com/page/31D901C68F7E375C700BEF9528566765D623798C/atividades\\_turma\\_da\\_monica\\_olimpiadas\\_do\\_rio\\_pesquisa](https://mungfali.com/page/31D901C68F7E375C700BEF9528566765D623798C/atividades_turma_da_monica_olimpiadas_do_rio_pesquisa)
- [https://mungfali.com/page/4B3F93D47AFE73CAD474D1DA11F8B7D6B635813A/ca%C3%87a-palavras\\_sobre\\_jogos\\_ol%C3%8Dmpicos\\_imprimir\\_mistura\\_de](https://mungfali.com/page/4B3F93D47AFE73CAD474D1DA11F8B7D6B635813A/ca%C3%87a-palavras_sobre_jogos_ol%C3%8Dmpicos_imprimir_mistura_de)
- <https://br.pinterest.com/pin/405183297733336881/>
- [https://mungfali.com/page/8DADC2E7940780ED6ECC5FC0BE956EB05BA4EA77/atividade\\_esportes\\_aqu%C3%A1ticos\\_cruzadinha\\_atividades](https://mungfali.com/page/8DADC2E7940780ED6ECC5FC0BE956EB05BA4EA77/atividade_esportes_aqu%C3%A1ticos_cruzadinha_atividades)
- [https://mungfali.com/page/C876A5E765AD7A552C1E13D72A2D0FD02C0667B5/atividade\\_esportes\\_relacione\\_atividades\\_smartkids](https://mungfali.com/page/C876A5E765AD7A552C1E13D72A2D0FD02C0667B5/atividade_esportes_relacione_atividades_smartkids)
- <https://cursos.aprofem.com.br/>
- [https://mungfali.com/page/413A4C6D383499CBD9B1E651271F3154C096A27E/pin\\_em\\_atividades\\_para\\_educa%C3%A7%C3%A3o\\_infantil](https://mungfali.com/page/413A4C6D383499CBD9B1E651271F3154C096A27E/pin_em_atividades_para_educa%C3%A7%C3%A3o_infantil)
- <https://www.liveworksheets.com/xa1303836xb>
- <https://aprendendocomtiadebora.blogspot.com/2017/12/letramento-divertido-vol-4.html?m=1>
- [https://mungfali.com/page/057DC010696B914B260AB533ED0AB0F615F16109/50\\_folhas\\_de\\_ditado\\_para\\_imprimir\\_%E2%86%92\\_confira!](https://mungfali.com/page/057DC010696B914B260AB533ED0AB0F615F16109/50_folhas_de_ditado_para_imprimir_%E2%86%92_confira!)

[https://mungfali.com/page/C23BD70654C6B2389A8B50C2E2B06B35D907A825/atividade - desafio matem%C3%A1tico %7C desafios de matem%C3%A1tica](https://mungfali.com/page/C23BD70654C6B2389A8B50C2E2B06B35D907A825/atividade%20-%20desafio%20matem%C3%A1tico%20-%20desafios%20de%20matem%C3%A1tica)

[https://mungfali.com/page/D92F1FDC7A7A4512E011FD09FEB68A4A6A568967/atividades para educadores %7C atividades de matem%C3%A1tica 3ano](https://mungfali.com/page/D92F1FDC7A7A4512E011FD09FEB68A4A6A568967/atividades%20para%20educadores%20-%20atividades%20de%20matem%C3%A1tica%203ano)

[https://mungfali.com/page/250AE47AF125B056F11E78A2B28E296A0C68A89B/atividades para educa%C3%A7%C3%A3o infantil e s%C3%A9ries iniciais: jogo](https://mungfali.com/page/250AE47AF125B056F11E78A2B28E296A0C68A89B/atividades%20para%20educa%C3%A7%C3%A3o%20infantil%20e%20s%C3%A9ries%20iniciais%20-%20jogo)

<http://pedagogasdapaz.blogspot.com/>

[https://mungfali.com/page/E39E03F39A0822AFD1944301D72D84BA71BEA0C3/atividade - valor posicional - revis%C3%A3o %7C valores de lugar](https://mungfali.com/page/E39E03F39A0822AFD1944301D72D84BA71BEA0C3/atividade%20-%20valor%20posicional%20-%20revis%C3%A3o%20-%20valores%20de%20lugar)

<https://br.pinterest.com/pin/534309943274534559/>