


E. M. SALVADOR FERREIRA DE CAMPOS

APOSTILA - 8

PERÍODO: 05/07 A 06/08/2021

ENSINO FUNDAMENTAL



4º ANO - A

Prof.^a
Sandra

NOME: _____

IBIÚNA - SP

E. M. SALVADOR FERREIRA DE CAMPOS

4º ANO - A

COMUNICADO Nº 8 – 23/07/2021

Senhores Pais e Responsáveis,

Após renovarmos nossas energias, iniciaremos o 2º semestre escolar, espero mais uma vez poder contar com a sua parceria, dedicação e comprometimento. Agradeço imensamente a todos pela confiança e apoio no desenvolvimento das atividades, visto que tem feito toda a diferença no processo de aprendizagem. Parabéns por ser tão presente e participativo!!!

ORIENTAÇÕES AOS ALUNOS:

- ✓ Mantenha uma rotina de estudos, procure um ambiente tranquilo para realizar as atividades, leia com atenção, volte ao texto ou enunciado quantas vezes for necessário;
- ✓ Seja protagonista, peça ajuda somente quando sentir-se inseguro, seja um aluno pesquisador, utilize o Google para pesquisar palavras desconhecidas, vídeos, ou até outras atividades que esteja relacionado ao assunto que esteja estudando;
- ✓ Faça rascunho da produção textual, não tenha medo de escrever, seja criativo;
- ✓ Monte suas próprias estratégias para resolver as situações-problemas;
- ✓ Seja autônomo, não espere seus pais mandarem você estudar. Seja orgulho para eles e para sua professora. Você é muito importante para nós e sabemos da sua capacidade;
- ✓ Faça as atividades com carinho, capricho e dedicação, envie fotos/vídeos no grupo da sala, seguindo o cronograma da semana;
- ✓ Devolver a apostila no dia **10 de agosto/2021**.

QUERIDOS ALUNOS,

"A escola é apenas o primeiro degrau de uma longa escada que o levará ao sucesso."

(Desconhecido)



Sejam bem-vindos a mais um semestre, um abençoado retorno a todos!!!

PROF.ª SANDRA

ATIVIDADE 1 - 05/07/21

NOME: _____ **TURMA:** _____

LEITURA, INTERPRETAÇÃO TEXTUAL E ANÁLISE LINGUÍSTICA, A PARTIR DA LETRA DE MÚSICA.

O CADERNO

Sou eu quem vou seguir você
do primeiro rabisco até o bê-a-bá
em todos os desenhos coloridos vou estar
a casa, a montanha, duas nuvens no céu
e um sol a sorrir no papel.



Sou eu que vou ser seu colega,
seus problemas ajudar a resolver
lhe acompanhar nas provas bimestrais, você vai ver
Serei de você confidente fiel,
se seu pranto molhar meu papel.

Sou eu que vou ser seu amigo,
Vou lhe dar abrigo, se você quiser
Quando surgirem seus primeiros raios de mulher
A vida se abrirá num feroz carrossel
E você vai rasgar meu papel.

O que está escrito em mim comigo
Ficará guardado, se lhe dá prazer
A vida segue sempre em frente, o que se há de fazer
Só peço a você um favor, se puder
Não me esqueça num canto qualquer.

Toquinho, CD Casa de Brinquedos, Polygran, 1995

Vídeo e música disponível em: <https://www.youtube.com/watch?v=y-ZaQkPnf4>

1) A letra dessa música está se dirigindo a uma menina ou a um menino?

2) Que verso comprova sua resposta?

3) Que é a personagem principal do texto?

4) A letra desta música está dividida em _____ estrofes e _____ versos.

ATIVIDADE 2 - 06/07/21

NOME: _____ **TURMA:** _____

LEITURA, INTERPRETAÇÃO TEXTUAL E ANÁLISE LINGUÍSTICA, A PARTIR DA LETRA DE MÚSICA.

5) Encontre no texto trechos que revelam os seguintes sentimentos ou atitudes: **companheirismo, solidariedade, tristeza, amizade e fidelidade.**

6) Se o seu caderno pudesse falar, o que você acha que ele lhe diria?

7) E você, o que responderia para ele?

8) Separar as sílabas das seguintes palavras:

- a) caderno _____
b) desenho _____
c) mulher _____
d) carrossel _____
e) primeiras _____
f) música _____

9) Circular a sílaba tônica das palavras da atividade anterior e classificá-las em:
Oxítonas; paroxítonas; proparoxítonas.

10) Acentue as palavras abaixo com acento agudo ou circunflexo:
Ficara – voce - esta – numero - lampada – medico – silaba –

11) Escreva as palavras no plural:

- Amigo _____ colega _____
abrigo _____ problema _____
Prazer _____ papel _____

12) Escreva o aumentativo e o diminutivo das palavras no quadro:

PALAVRA	AUMENTATIVO	DIMINUTIVO
CADERNO		
AMIGO		
PAPEL		
CASA		

ATIVIDADE 3 - 19/07/21

NOME: _____ **TURMA:** _____

13) LEIA, OUÇA OU CANTE NOVAMENTE A MÚSICA E FAÇA UMA ILUSTRAÇÃO PARA CADA ESTROFE, NO ESPAÇO ABAIXO.

14). Pense em algo que goste muito. Pode ser um objeto, um animal de estimação, uma flor, um jogo ou um brinquedo. Faça um desenho dele e escreva como ele é importante para você, como ganhou ou comprou, quem lhe deu e quando. Escreva também todos os sentimentos e ideias que ele desperta em você.

Utilize uma folha avulsa para realizar esta atividade, coloque seu nome e compartilhe com os colegas da sala.

ATIVIDADE 4 - 20/07/21

NOME: _____ TURMA: _____

LEIA COM ATENÇÃO E RESOLVA AS SITUAÇÕES-PROBLEMAS**QUESTÃO 01**

Jussara tem 108 figurinhas, Luciana tem 46 a mais que Jussara e Adriana tem 230. Quantas figurinhas elas têm juntas?

Faça aqui a sua operação

 A 154 figurinhas B 200 figurinhas C 696 figurinhas D 492 figurinhas**QUESTÃO 02**

Em uma subtração, o minuendo é 527 e o subtraendo é 342. Qual é o resto?

Faça aqui a sua operação

 A 185 B 195 C 205 D 95**QUESTÃO 03**

Um livro tem 356 páginas. Quantas páginas haverá em 7 livros iguais?

Faça aqui a sua operação

 A 2 294 B 2 429 C 2 092 D 2 492**QUESTÃO 04**

Uma costureira comprou 96 metros de fita para serem colocadas igualmente em 6 toalhas. Quantos metros de fita terá cada toalha?

Faça aqui a sua operação

- A 12 metros.
- B 16 metros
- C 14metros.
- D 19 metros

QUESTÃO 05

Quero comprar três brinquedos: um carrinho de R\$ 52,00, uma boneca de R\$ 85,00 e um avião de R\$ 37,00. Tendo somente R\$ 150,00 quanto me falta em dinheiro?

Faça aqui a sua operação

- A R\$ 14,00.
- B R\$ 42,00.
- C R\$ 24,00.
- D R\$ 34,00

QUESTÃO 06

Numa caixa há 250 bombons. Deles, 86 são de morango, 39 de brigadeiro e o restante de amendoim. Quantos bombons de amendoim há na caixa?

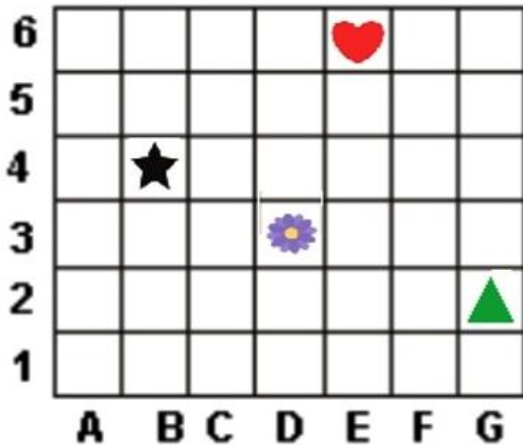
Faça aqui a sua operação

- A 93
- B 68
- C 125
- D 59

ATIVIDADE 5 - 21/07/21

NOME: _____ TURMA: _____

Observe a imagem e marque a opção que indica a localização do coração.



(A) G2

(B) E6

(C) D3

(D) B4

QUESTÃO 08

Marque a opção que indica a escrita correta por extenso do número

347

(A) Trezentos e setenta e quatro

(B) Trezentos e trinta e quatro

(C) Trezentos e sete

(D) Trezentos e quarenta e sete.

QUESTÃO 09

Contando de dúzia em dúzia, Luísa pulava corda. Descubra qual será o próximo número que ela irá contar?



46

58

70

?

(A) 72

(B) 82

(C) 84

(D) 92

QUESTÃO 10

Observe a sequência abaixo e marque a opção que indica os números que faltam para que ela fique completa.

250	300	?	400	450	?
-----	-----	---	-----	-----	---

(A) 350 e 500.

(B) 450 e 550.

(C) 350 e 500.

(D) 250 e 350.

ATIVIDADE 6 - 22/07/21

NOME: _____ **TURMA:** _____

FICHA DE LEITURA

LEIA O LIVRO QUE ESTÁ RECEBENDO, PREENCHA A FICHA DE LEITURA E SE POSSÍVEL, APRESENTE AO GRUPO DA SALA.


Capa

Nome do livro: _____

Nome do autor(es): _____

Ilustrador: _____

Editora: _____




Assunto da história:

Há quantas personagens na história e quais são elas?

Descreva a sua personagem preferida (personalidade, detalhes da roupa, coisas que ela gosta, coisas que ela não gosta e etc.):

Pesquise e escreva sobre a vida do (a) autor (a). Lembre-se de escrever onde e em qual ano nasceu, em qual cidade mora, qual é a sua obra mais famosa e outros aspectos gerais de sua vida.



NOME: _____ **TURMA:** _____

1. LEIA O TEXTO E RESPONDA AS QUESTÕES A SEGUIR.

Ruth Rocha nasceu em 2 de março de 1931, em São Paulo. Segunda filha do doutor Álvaro e da dona Esther, ouviu da mãe as primeiras histórias, em geral anedotas de família. Depois foi a vez de Vovô Ioiô incendiar a cabeça da neta com os contos clássicos, adaptados oralmente ao universo popular brasileiro. Mas foi a leitura de *As reinações de Narizinho e Memórias de Emília*, de Monteiro Lobato, que influenciou a escritora e escancarou de vez as portas da literatura.



Palavras, muitas palavras, seu primeiro livro, saiu em 1976. Mas o seu maior sucesso editorial do país foi o livro *Marcelo, Marmelo, Martelo*, com mais de setenta edições e vinte milhões de exemplares.

Em mais de cinquenta anos dedicados à literatura, a escritora tem mais duzentos títulos publicados e já foi traduzida para vinte e cinco idiomas. Defensora dos direitos das crianças, sua versão para a *Declaração Universal dos Direitos Humanos* teve lançamento na sede da Organização das Nações Unidas em Nova York, em 1988.

Recebeu prêmios da Academia Brasileira de Letras, da Associação Paulista dos Críticos de Arte, da Fundação Nacional do Livro Infantil e Juvenil, além do prêmio Santista, da Fundação Bunge, o prêmio de Cultura da Fundação Conrad Wessel, a Comenda da Ordem do Mérito Cultural e oito prêmios Jabuti, da Câmara Brasileira de Letras.

A menina que um dia decidiu ler todos os livros hoje tem várias bibliotecas com seu nome. Em 2008, Ruth Rocha foi eleita membro da Academia Paulista de Letras.

a) A quem se refere essa biografia?

b) Onde e quando ela nasceu?

c) Quem influenciou Ruth Rocha a iniciar a carreira de escritora?

d) Qual foi o livro de maior sucesso?

2. A livraria “Mundo da Imaginação” recebeu uma entrega dos livros de Ruth Rocha. Observe:

Nome do livro	Quantidade
Marcelo, Marmelo, Martelo	26
Palavras, Muitas palavras	18

a) Quantos livros da Ruth Rocha chegaram no total?

b) Já foram vendidos 15 livros “Marcelo, Marmelo, Martelo”. Quantos deste ainda restam?

c) Do livro “Palavras, Muitas palavras” foram vendidos 13. Quantos ainda restam?

ATIVIDADE 8 - 26/07/21

NOME: _____ TURMA: _____

LEIA O TEXTO E RESPONDA AS QUESTÕES A SEGUIR.

Maria da Graça Meneghel nasceu em Santa Rosa, no Rio Grande do Sul, dia 27 de março de 1963. O pai, Luiz Floriano Meneghel, ao saber que mãe e bebê corriam risco de vida durante o parto, optou pela vida da mãe, rezou para Nossa Senhora das Graças e fez uma promessa: prometeu colocar o nome da santa na filha se tudo desse certo. Mas o "nome" com o qual a caçula da família Meneghel ficou conhecida foi dado pelo irmão Bladimir, que até então era o caçula. Ao chegar em casa com o bebê, Dona Alda disse ao filho: "olha o neném que eu comprei para brincar com você" e ele respondeu: "eu sei, é a minha Xuxa". Só em 1988, a apresentadora passou a se chamar oficialmente Maria da Graça Xuxa Meneghel.



a) Que tipo de texto é esse?

b) A quem ele se refere?

c) Onde e quando nasceu a pessoa citada no texto?

d) Quem deu o apelido de Xuxa à ela?

e) Na frase **“Olha o neném que eu comprei para brincar com você”**, que sinal é usado para indicar essa fala?

ATIVIDADE 9 - 27/07/21

NOME: _____ TURMA: _____

DESVENDE O MISTÉRIO DOS NÚMEROS!

Muitos números estão faltando! Descubra a sequência correta e complete:

10	20		40		60		80	90	
----	----	--	----	--	----	--	----	----	--

25		45			75			105	
----	--	----	--	--	----	--	--	-----	--

15	20		30				50	55	
----	----	--	----	--	--	--	----	----	--

100	102		106			112			118
-----	-----	--	-----	--	--	-----	--	--	-----

	219	222		228		234	237		243
--	-----	-----	--	-----	--	-----	-----	--	-----



O que é, o que é? O primeiro já está feito!

Número par;
Formado por 3 centenas;
Possui 2 dezenas;
E 8 unidades.
Resposta: **328**

Número ímpar;
Formado por 5 centenas;
Possui 3 dezenas;
E 1 unidade.
Resposta: _____

Número par;
Formado por 6 centenas;
Possui 9 dezenas;
Resposta: _____

Número ímpar;
Formado por 4 dezenas;
E 7 unidades.
Resposta: _____

Número par;
Formado por 2 centenas;
Possui 8 dezenas;
E 2 unidades.
Resposta: _____

Número par;
Formado por 1 centena;
Menor que 108;
Maior que 104.
Resposta: _____

Pense bem!

◆ O pai de Pedro chegou tarde no trabalho porque seu relógio estava atrasado 10 minutos. Se ele chegou às 7h 10min, que horas deveria ter chegado?

◆ Ana mora entre a casa de Paulo que possui o número 57 e a de Ricardo cujo número é 61. Qual é o número da casa de Ana?

ATIVIDADE 11 - 29/07/21

NOME: _____ TURMA: _____

A LUTA CONTRA O CORONAVÍRUS CONTINUA...

Veja a charge abaixo e marque um X na resposta certa:



a) O quadrinho tem relação com:

() o Coronavírus. () a Dengue. () a Zica.

b) Quem está do lado de fora do quarto?

() são pessoas. () são planetas do Sistema Solar. () são animais.

c) Os planetas estão:

- () desejando feliz aniversário.
- () desejando boas férias.
- () desejando que a pandemia de Coronavírus no planeta Terra passe logo.

d) Você tem seguido as recomendações para evitar o contágio do Coronavírus?

() Sim, o tempo todo. () Não, não preciso. () Só lembro às vezes.

Lembre-se: seguir as recomendações é a melhor maneira de se evitar o contágio pelo Coronavírus! 🤔❤️

NOME: _____ TURMA: _____

GÊNERO TEXTUAL CARDÁPIO

FIQUE LIGADO!!!

Em época de Pandemia de Coronavírus, precisamos higienizar muito bem todas embalagens de mercados, lojas, lavarmos bem as frutas e verduras antes de sua ingestão.



Você sabia que o Cardápio também é um Gênero Textual? Pois é, sua finalidade é orientar o consumidor sobre os preços e produtos oferecidos no estabelecimento. São utilizados em bares, restaurantes, lanchonetes, etc...

MENU

HOTDOG
Nome do prato R\$ 9,00
Nome do prato R\$ 9,00
Nome do prato R\$ 9,00
Nome do prato R\$ 9,00
Nome do prato R\$ 9,00
Nome do prato R\$ 9,00

BURGER
REGULAR 9.99^{RS}
DOBRO 15.99^{RS}
Nome do prato R\$ 9,00
Nome do prato R\$ 9,00
Nome do prato R\$ 9,00

COMBO
R\$15.99

PIZZA
INTEIRA 29.99^{RS}
FATIA 9.99^{RS}
Nome do prato R\$ 9,00
Nome do prato R\$ 9,00
Nome do prato R\$ 9,00
Nome do prato R\$ 9,00

BEBIDAS FRITAS
Nome da bebida R\$ 9,00
Nome da bebida R\$ 9,00
Nome da bebida R\$ 9,00
Nome da bebida R\$ 9,00
PEQUENA 9.99^{RS}
GRANDE 19.99^{RS}

TELEFONE PARA DELIVERY

1) VAMOS VER SE VOCÊ PRESTOU ATENÇÃO! OBSERVE O CARDÁPIO AO LADO E RESPONDA:

a) QUAL É A FINALIDADE DE UM CARDÁPIO NO MEIO DA COMUNICAÇÃO?

b) EXPLIQUE COM SUAS PALAVRAS PORQUE OS CARDÁPIOS GERALMENTE SÃO DIVIDIDOS POR SEÇÕES DE ALIMENTOS?

c) QUAL COMIDA É A MAIS CARA NESSE CARDÁPIO?

2) COM UMA NOTA DE 50,00 SE VOCÊ PEDIR O COMBO DE 15,99. QUAL SERÁ O VALOR DO TROCO?

ATIVIDADE 13 - 30/07/21

NOME: _____ TURMA: _____

VAMOS APRENDER UM POUCO MAIS SOBRE O CORONAVÍRUS?

COVID19 é uma doença respiratória nova que foi identificada pela primeira vez em Wuhan, na China. Atualmente a transmissão se dá principalmente de pessoa a pessoa.



*Os sintomas podem aparecer entre 1 e 12 dias após a exposição ao vírus.

Fonte: https://www.paho.org/bra/index.php?option=com_content&view=article&id=6101:covid19&Itemid=875

Caso o paciente esteja sentindo os **SINTOMAS GRAVES** da doença ele deverá ser encaminhado para um centro médico o mais rápido possível para atendimento. Por isso, precisamos conhecer bem os sintomas! Circule os **SINTOMAS GRAVES** desta doença.



Tosse



Cansaço



Febre alta



Dificuldade para respirar



Pneumonia

ATIVIDADE 14 - 30/07/21

NOME: _____ TURMA: _____

VOCÊ SE ALIMENTA NA HORA CERTA?

Quando você fica resfriado e com febre, significa que seu **sistema imunológico** foi invadido. Dentro do corpo, existem células, tecidos e órgãos que defendem o nosso organismo: eles formam o sistema imunológico. Esse sistema é responsável por nos proteger contra substâncias estranhas ao corpo. São os casos dos invasores externos, como microrganismos (bactérias, fungos, protozoários e vírus), que podem causar doenças.

Alguns alimentos ajudam a fortalecer o nosso sistema imunológico:

Frutas cítricas, como laranja, acerola, kiwi.

Vegetais verdes escuros, como brócolis, couve, espinafre.

Alimentos como carne, cereais integrais, castanhas, sementes e leguminosas (feijão, lentilha, ervilha, grão de bico).

Para proteger o nosso sistema imunológico além de uma boa alimentação, como vimos ao lado, é preciso estar atento ao horário das refeições!

Lembrando:

Ponteiro menor: indica hora

Ponteiro maior: indica minutos

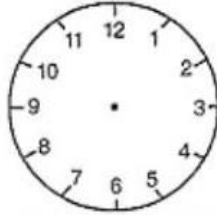


O relógio está marcando 3 h 40 min ou 15 horas e 40 minutos da tarde.

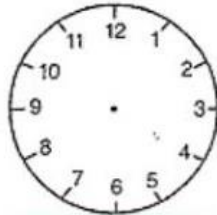
Não se atrase para as suas refeições e coloque o ponteiro nos relógios!



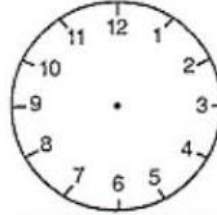
CAFÉ DA MANHÃ
8h



ALMOÇO
12h



LANCHE
15h 30min



JANTAR
18h 30min



LANCHE
21h

Ligue o relógio digital ao relógio analógico que marcam o mesmo horário:



12:45 15:45 22:30 11:45 18:15 13:15 19:15



NOME: _____ TURMA: _____

JUNTOS VAMOS ENFRENTAR O CORONAVÍRUS!

Para cuidar da sua saúde,
lave as mãos com água e sabão!
A máscara também auxilia
na sua proteção!



Acento	Sílaba
SABÃO ↑	última
SAÚDE ↑ ↓	penúltima
MÁSCARA ↑ ↓ ↓	antepenúltima

As 10 palavras embaralhadas abaixo são proparoxítonas (tem acento na antepenúltima sílaba).
Desafio: você deve escrevê-las corretamente:

DESAFIO



tri lé e co	go re pa lâm	mi ca rã ce	mãn co ti ro	lô qui tro me
a ti co quá	si be mo lís	cí ve tro lo me	go ar qui la pé	cu lo mi nús

- 1.....
- 2.....
- 3.....
- 4.....
- 5.....
- 6.....
- 7.....
- 8.....
- 9.....
- 10.....

Outro desafio:

Complete com algumas das palavras que você encontrou acima:

- a) Conjunto de ilhas:
- b) Clarão que se produz com o choque de duas nuvens:
- c) Extremamente belo:
- d) Que vive na água:

NOME: _____ **TURMA:** _____

PESQUISA

SOUBE DA FAÇANHA DAS NOSSAS CIENTISTAS?



Quando o primeiro caso de Coronavírus chegou ao Brasil, duas cientistas brasileiras conseguiram sequenciar o genoma do vírus em apenas 48 horas – em outros países, essa análise levou em média duas semanas. Esse estudo é importante para que cientistas possam entender a origem e a evolução do vírus, e desenvolver possíveis vacinas e curas.

Fonte: <https://www.dentrodahistoria.com.br/blog/educacao/turma-da-monica-contra-o-coronavirus/>

1- Quais foram as duas cientistas brasileiras que decifraram o genoma do Coronavírus?

.....

2- Em quanto tempo elas fizeram essa análise?

.....

3- Por que entender a origem e a evolução do Coronavírus é tão importante?

- () Para desenvolver possíveis vacinas e curas.
- () Para desenvolver mais vírus no ambiente.
- () Para propagar o Covid-19 nas pessoas.

4- Quanto tempo os outros países levaram para fazer a análise do genoma do Coronavírus?

.....

Estamos enfrentando um inimigo perigoso, por isso estamos em casa.

OLÁ!
Sou um **VÍRUS**,
primo da gripe e do
resfriado...



Meu nome é Coronavírus

Pode ficar tranquilo!
Os adultos que cuidam de você:
Vão mantê-lo seguro



E você também tem feito a sua parte? Escreva 2 coisas que você tem feito em casa para se prevenir contra o Coronavírus:

.....
.....
.....
.....

*Figura retirada do aplicativo Whatsapp.

ATIVIDADE 17 - 04/08/21

NOME: _____ TURMA: _____

LEIA COM ATENÇÃO E RESOLVA AS SITUAÇÕES- PROBLEMAS

Uma farmácia possuía em seu estoque 250 frascos de álcool gel. Comprou o triplo da quantidade que já tinha para atender seus clientes. Com quantos frascos de álcool gel a farmácia ficou?

Na farmácia, um cliente comprou 1 frasco de álcool gel por R\$12,50. Ele pagou com uma nota de R\$ 50,00. Quanto o cliente recebeu de troco?

No estoque da farmácia havia 150 máscaras, foram vendidas 30 máscaras pela manhã, 40 durante a tarde e 15 no turno da noite. Quantas máscaras sobraram no estoque para serem vendidas no dia seguinte?

Um pacote com 5 máscaras está sendo vendido em uma farmácia por R\$ 5,00. Um cliente está comprando dois pacotes de máscaras. Então, quantas máscaras estão sendo compradas? E quanto ele receberá de troco se está pagando com uma nota de R\$ 20,00?

NOME: _____ TURMA: _____



VALORES UNIVERSAIS

Fraternidade

Cada povo possui a sua CULTURA, ou seja, sua forma própria de ver e viver no mundo. No entanto, alguns VALORES são UNIVERSAIS.

Honestidade

Os chamados VALORES UNIVERSAIS são os alicerces para a convivência entre cidadãos de todo o mundo. Eles foram definidos em um famoso documento: a Declaração Universal dos Direitos Humanos (DUDH), em 10 de dezembro de 1948.

Amor

Respeito

Solidariedade

Os VALORES UNIVERSAIS têm como objetivo principal nos **ajudar a construir uma cultura de paz na sociedade**. Foram pensados para mostrar a cada um de nós a **melhor maneira de agir para uma boa convivência entre as pessoas**.

União

Tolerância

Adaptado de <http://www.brasil.gov.br/sobre/cidadania/gentileza-urbana/valores-universais>

1)Quais os VALORES que você considera representados nessa imagem ao lado? Por quê?

2)Quais são seus conselhos para um mundo melhor?



ATIVIDADE 19 - 02 a 05/08/21

ATIVIDADES NO LIVRO EMAI

SEQUÊNCIA 22

- ✓ ATIVIDADE 22.1- INTERPRETAÇÃO DE TABELA COM TEMPO DE MÉDIO DE VIDA DOS ANIMAIS (**PÁGINAS 42/43**);
- ✓ ATIVIDADE 22.2- CÁLCULOS ENVOLVENDO O TEMPO MÉDIO DE VIDA DOS ANIMAIS (**PÁGINA 44**);
- ✓ ATIVIDADE 22.3 – FORMULAÇÃO DE SITUAÇÕES-PROBLEMAS (**PÁGINA 45**);
- ✓ ATIVIDADE 22.5 – CÁLCULOS E OPERAÇÕES DO CAMPO ADITIVO (**PÁGINA 47**);
- ✓ ATIVIDADE 25.3 – BRINCADEIRA ENVOLVENDO MULTIPLICAÇÃO (**PÁGINAS 65/66**)

ATIVIDADE 20 - 06/08/21

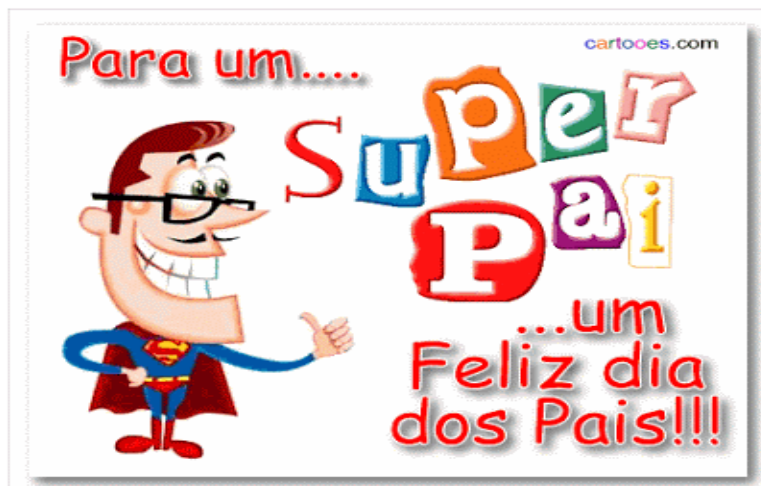
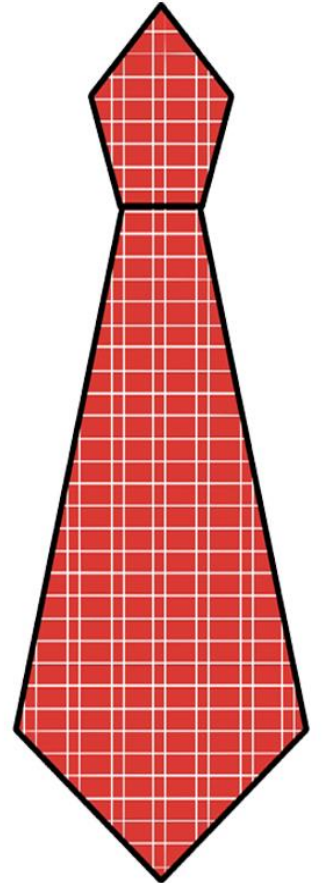
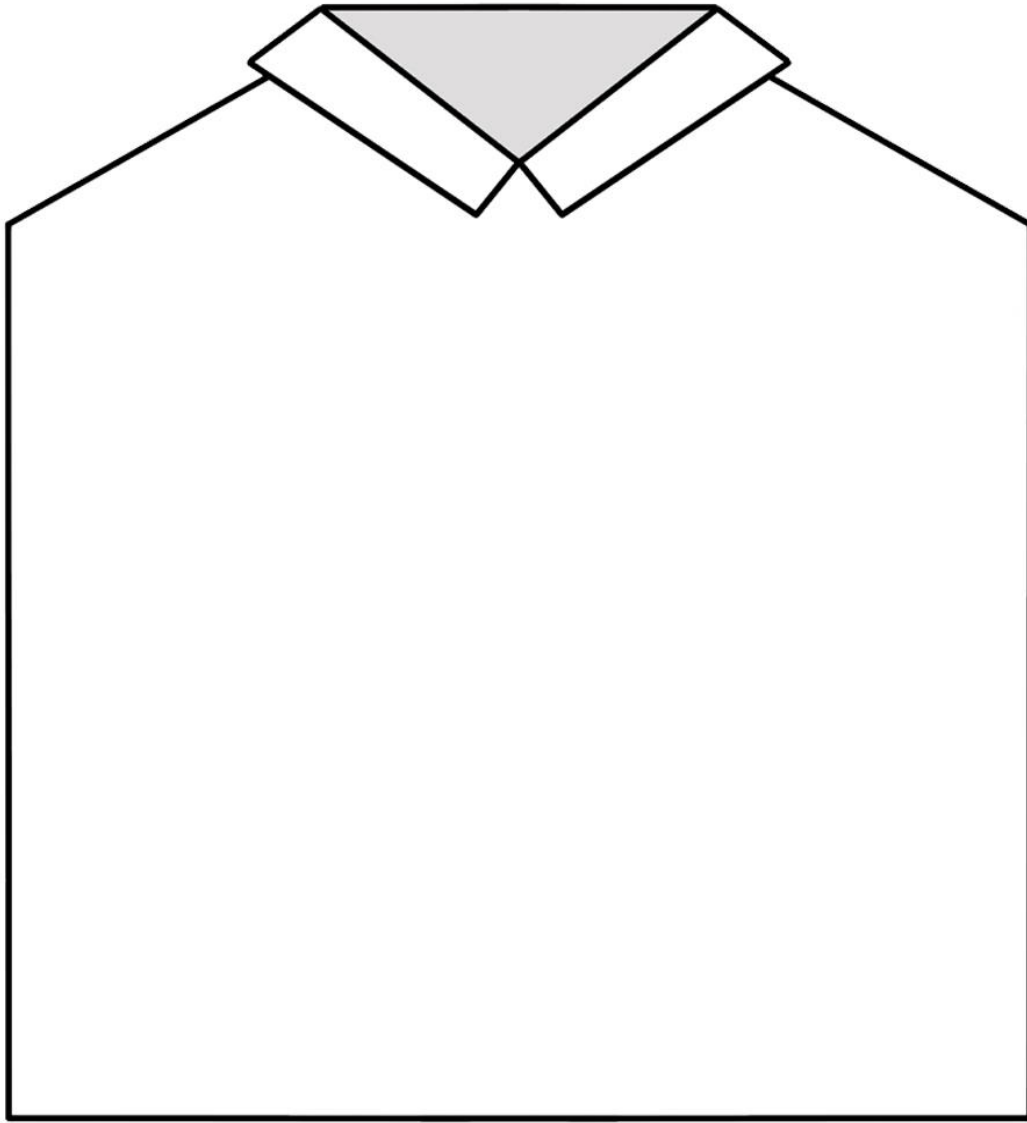
DESTAQUE A PÁGINA A SEGUIR E FAÇA UM LINDO CARTÃO PARA O PAPAÍ, OU PARA A PESSOA QUE CUIDA DE VOCÊ. NÃO ESQUEÇA DE USAR A CRIATIVIDADE, ESCREVER UMA LINDA MENSAGEM, SEU NOME E O NOME DE QUEM ESTARÁ RECEBENDO O CARTÃO. SE POSSÍVEL, FOTOGRAFE O MOMENTO E COMPARTILHE NO GRUPO DA SALA.

SUGESTÃO DE ATIVIDADE EM FAMÍLIA

REALIZAR UMA BRINCADEIRA, UMA RECEITA CULINÁRIA, UM JOGO, OU QUALQUER OUTRA ATIVIDADE COM O PAPAÍ, OU COM A PESSOA QUE CUIDA DE VOCÊ. NÃO ESQUEÇA DE COMPARTILHAR FOTOS OU VÍDEOS DESTE MOMENTO EM FAMÍLIA.

CAPRICHE NAS ATIVIDADES E BONS ESTUDOS!!!

Prof.^a Sandra



REFERÊNCIAS

<https://www.pinterest.pt/pin/738449670145722500>

<https://www.esoterikha.com/coaching-pnl/frases-para-inicio-das-aulas-frases-inicio-ano-letivo-dinpro.php>

<https://oespacoeducar.com.br/2020/07/22/aulas-remotas-recado-para-os-alunos-2/>

<https://atividadespedagogicasuzano.com.br/ficha-de-leitura-para-ensino-fundamental-download-gratuito/>

<https://educacaoetransformacaooficial.blogspot.com/2020/06/atividades-o-caderno-toquinho.html>

https://educacaoetransformacaooficial.blogspot.com/2019/11/matematica-4-ano_23.html

<https://educacaoetransformacaooficial.blogspot.com/2020/04/biografia.html>

<https://educacaoetransformacaooficial.blogspot.com/2020/06/quarentena-atividades-remotas-3-ano.html>

<https://educacaoetransformacaooficial.blogspot.com/2020/05/quarentena-4-ano.html>

<https://educacaoetransformacaooficial.blogspot.com/2020/05/quarentena-3-ano.html>

<https://educacaoetransformacaooficial.blogspot.com/2020/02/caderno-de-producao-textual-5-ano.html>

<https://www.jesuskidsbrasil.com.br/material/gratuito-cartao-dia-dos-pais-01/>

<http://naatyzinha.blogspot.com/2015/08/dia-dos-pais.html>