

E.M. "BENEDITA CORDEIRO MEDELOS"

NOME: _____

TURMA: 2º ANO A

PROFESSORA: ELIANE

MINHAS ATIVIDADES



ATIVIDADES: 05/07/2021 a 06/08/2021

DATA DE DEVOLUÇÃO: 10/08/2021

ROTEIRO DE ATIVIDADES:

- 05/07 – LÍNGUA PORTUGUESA/HISTÓRIA/GEOGRAFIA/MATEMÁTICA – ANÉIS OLÍMPICOS
- 06/07 – LÍNGUA PORTUGUESA/HISTÓRIA/GEOGRAFIA/MATEMÁTICA - JOGOS OLÍMPICOS, NÚMERO MAIOR/MENOR, NÚMEROS PARES E ÍMPARES
- 19/07 - LÍNGUA PORTUGUESA/HISTÓRIA/GEOGRAFIA/MATEMÁTICA - JOGOS OLÍMPICOS – SEPARAÇÃO DE SÍLABAS E ADIÇÃO
- 20/07 - LÍNGUA PORTUGUESA/HISTÓRIA/GEOGRAFIA/MATEMÁTICA - JOGOS OLÍMPICOS – ANÁLISE DE PALAVRAS E SUBTRAÇÃO
- 21/07 - LÍNGUA PORTUGUESA/HISTÓRIA/GEOGRAFIA/MATEMÁTICA - JOGOS OLÍMPICOS – CAÇA-PALAVRAS E GRÁFICO
- 22/07 - LÍNGUA PORTUGUESA/HISTÓRIA/GEOGRAFIA/MATEMÁTICA - JOGOS OLÍMPICOS – AUTODITADO, NÚMEROS PARES E ÍMPARES
- 23/07 - LÍNGUA PORTUGUESA/HISTÓRIA/GEOGRAFIA/MATEMÁTICA/ARTE - JOGOS OLÍMPICOS – SEPARAR SÍLABAS E SEQUÊNCIA NUMÉRICA
- 26/07 – LÍNGUA PORTUGUESA - SEQUÊNCIA DIDÁTICA “ERA UMA BRUXA” – ANÁLISE DE TEXTO / MATEMÁTICA – SISTEMA MONETÁRIO
- 27/07 – LÍNGUA PORTUGUESA - SEQUÊNCIA DIDÁTICA “ERA UMA BRUXA” – AUTODITADO / MATEMÁTICA – SÓLIDOS GEOMÉTRICOS
- 28/07 – LÍNGUA PORTUGUESA - SEQUÊNCIA DIDÁTICA “ERA UMA BRUXA” – CAÇA-PALAVRAS / MATEMÁTICA – SEQUÊNCIA NUMÉRICA
- 29/07 – LÍNGUA PORTUGUESA - SEQUÊNCIA DIDÁTICA “ERA UMA BRUXA” – TEXTO FATIADO / MATEMÁTICA – NÚMERO ANTECESSOR E SUCESSOR
- 30/07 – LÍNGUA PORTUGUESA – POEMA – INTERPRETAÇÃO - -APIS P.116 E 117 / MATEMÁTICA – NÚMEROS ANTECESSORES, SUCESSORES, PARES E ÍMPARES
- 02/08 – LÍNGUA PORTUGUESA – INTERPRETAÇÃO POEMA – ÁPIS P.118 / MATEMÁTICA - CALENDÁRIO
- 03/08 – LÍNGUA PORTUGUESA – SÍLABAS – ÁPIS P.122 E 123 / MATEMÁTICA - NÚMEROS ANTECESSORES, SUCESSORES, PARES E ÍMPARES, DÚZIA, MEIA DÚZIA, UNIDADE E DEZENA
- 04/08 – LÍNGUA PORTUGUESA – RIMA – ÁPIS P. 124 / MATEMÁTICA - GRÁFICO
- 05/08 – LÍNGUA PORTUGUESA – LETRA H – ÁPIS P.125 / MATEMÁTICA – MATERIAL DOURADO
- 06/08 – LÍNGUA PORTUGUESA – LETRAS LH – ÁPIS P.126 E 127 / MATEMÁTICA – JOGO DA MEMÓRIA – REVISÃO CUIDADOS COVID

IBIÚNA, 05 DE JULHO DE 2021.

ESCOLA: _____
IBIÚNA, _____
NOME: _____

LÍNGUA PORTUGUESA/GEOGRAFIA/HISTÓRIA/MATEMÁTICA

OS ANÉIS OLÍMPICOS



OS AROS - NAS CORES AZUL, AMARELO, PRETO, VERDE E VERMELHO, INTERLIGADOS SOBRE UM FUNDO BRANCO, OS AROS OLÍMPICOS FORAM IDEALIZADOS EM 1914, PELO BARÃO PIERRE DE COUBERTIN. OS AROS REPRESENTAM A UNIÃO DOS CINCO CONTINENTES E PELO MENOS UMA DE SUAS CINCO CORES, ESTÁ PRESENTE NA BANDEIRA DE CADA UM DOS COMITÊS OLÍMPICOS NACIONAIS VINCULADOS AO COI. É A PRINCIPAL REPRESENTAÇÃO GRÁFICA DOS JOGOS OLÍMPICOS E A MARCA DO PRÓPRIO COMITÊ OLÍMPICO INTERNACIONAL.

O SÍMBOLO DO COMITÊ OLÍMPICO BRASILEIRO UNE OS AROS OLÍMPICOS A UMA REPRESENTAÇÃO DA BANDEIRA NACIONAL DO BRASIL.




<https://www.soescola.com/2021/06/atividades-olimpiadas-2021.html>

CIRCULE AS CORES DOS AROS
PINTE DE VERDE O ANO EM QUE FORAM IDEALIZADOS OS AROS OLÍMPICOS
PINTE DE VERMELHO O NOME DO IDEALIZADOR DOS AROS OLÍMPICOS
PINTE DE AZUL OS ESPAÇOS ENTRE AS PALAVRAS

COM A AJUDA DA FAMÍLIA PESQUISE SOBRE AS CORES DOS AROS DE CADA CONTINENTE:

VAMOS COLORIR OS ANÉIS OLÍMPICOS



SÃO CINCO ANÉIS DE CORES DIFERENTES:
(AZUL, VERMELHO, PRETO, AMARELO E VERDE)

LIGUE DE ACORDO COM A COR QUE
REPRESENTA CADA CONTINENTE

AMARELO

VERDE

PRETO

VERMELHO

AZUL

AMÉRICA

ÁSIA

EUROPA

ÁFRICA

OCEÂNIA

IBIÚNA, 06 DE JULHO DE 2021.

ESCOLA: _____
IBIÚNA, _____
NOME: _____

LÍNGUA PORTUGUESA/GEOGRAFIA/HISTÓRIA/MATEMÁTICA

COM A AJUDA DA FAMÍLIA PESQUISE SOBRE AS CORES DOS AROS DE CADA CONTINENTE:

Responda das perguntas utilizando o banco de palavras:

- 1 – A PRIMEIRA OLIMPÍADA ACONTECEU NA _____.
- 2 – O PRIMEIRO COLOCADO RECEBE A MEDALHA DE _____.
- 3 – A _____ FICA ACESA DURANTE TODA A DISPUTA DAS OLIMPÍADAS.
- 4 – O TERCEIRO COLOCADO RECEBE A MEDALHA DE _____.
- 5 – A OLIMPÍADA DE 2021 ACONTECERÁ NO _____.
- 6 – O ESPORTE EM QUE OS ATLETAS UTILIZAM UMA BICICLETA É O _____.
- 7 – O SEGUNDO COLOCADO RECEBE A MEDALHA DE _____.
- 8 – O ESPORTE EM QUE OS ATLETAS UTILIZAM UMA RAQUETE É O _____.
- 9 – A DISPUTA DA MARATONA FAZ PARTE DO _____.
- 10 – O ESPORTE EM QUE UMA REDE DIVIDE AS EQUIPES É O _____.

JAPÃO
TÊNIS
TOCHA
GRÉCIA
CICLISMO



ATLETISMO
VOLEIBOL
OURO
PRATA
BRONZE

<https://www.educacaoetransformacao.com.br/atividades-sobre-as-olimpiadas-2021/>

MATEMÁTICA

PINTE A QUANTIDADE INDICADA EM CADA TABELA

6

12

18



22

<https://www.educacaoetransformacao.com.br/atividades-sobre-as-olimpiadas-2021/atividades-sobre-as-olimpiadas-2021-1/>

CIRCULE DE AZUL O MAIOR NÚMERO

CIRCULE DE VERDE O MENOR NÚMERO

OS NÚMEROS ACIMA SÃO:

() PARES

() ÍMPARES

IBIÚNA, 19 DE JULHO DE 2021.

ESCOLA: _____
IBIÚNA, _____
NOME: _____

LÍNGUA PORTUGUESA/GEOGRAFIA/HISTÓRIA/MATEMÁTICA

SEPARE AS SÍLABAS DAS PALAVRAS
RELACIONADAS AOS JOGOS OLIMPÍCOS:

FUTEBOL =

FLECHA =

FRANÇA =

FAIXA =

FOGO =

FITAS =



ARME E EFETUE AS ADIÇÕES:

$30 + 8 = \underline{\quad}$

D	U

$23 + 15 = \underline{\quad}$

D	U

$12 + 14 = \underline{\quad}$

D	U

$54 + 25 = \underline{\quad}$

D	U

$63 + 33 = \underline{\quad}$

D	U

$67 + 21 = \underline{\quad}$

D	U

$81 + 18 = \underline{\quad}$

D	U



IBIÚNA, 20 DE JULHO DE 2021.

ESCOLA: _____
IBIÚNA, _____
NOME: _____

LÍNGUA PORTUGUESA/GEOGRAFIA/HISTÓRIA/MATEMÁTICA

VEJA A PALAVRA ABAIXO E COMPLETE

MEDALHAS

ESSA PALAVRA TEM QUANTAS LETRAS?

QUANTAS VOGAIS TEM ESSA PALAVRA?

QUAL É A LETRA INICIAL?

QUANTAS CONSOANTES?

AGORA PINTÉ AS **VOGAIS DE VERDE** E AS
CONSOANTES DE ROXO

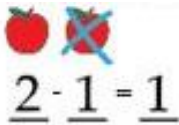










MEDALHAS



<https://www.soescola.com/2021/06/atividades-olimpiadas-2021.html>

MATEMÁTICA

RESOLVA AS SUBTRAÇÕES COMO O EXEMPLO ABAIXO:

 $2 - 1 = 1$	
 $9 - 1 = \underline{\quad}$	 $8 - 2 = \underline{\quad}$
 $10 - 3 = \underline{\quad}$	 $9 - 3 = \underline{\quad}$
 $7 - 2 = \underline{\quad}$	 $8 - 3 = \underline{\quad}$
 $6 - 0 = \underline{\quad}$	 $10 - 1 = \underline{\quad}$
 $10 - 4 = \underline{\quad}$	 $9 - 2 = \underline{\quad}$

IBIÚNA, 21 DE JULHO DE 2021.

ESCOLA: _____
IBIÚNA, _____
NOME: _____

LÍNGUA PORTUGUESA/GEOGRAFIA/HISTÓRIA/MATEMÁTICA

CAÇA-PALAVRAS DAS OLIMPÍADAS 2021


A	E	E	A	E	E	T	C	N	T	D	H
W	I	S	O	E	N	K	E	N	F	U	S
R	D	G	Y	O	O	I	G	E	L	E	G
N	C	R	A	I	A	U	I	E	P	S	H
O	R	I	N	S	H	B	T	C	A	T	U
R	L	M	C	T	I	S	N	L	L	H	A
H	H	A	O	L	P	P	T	E	O	C	A
E	R	E	I	O	I	O	N	I	N	D	E
R	D	L	S	T	S	S	S	I	R	T	L
U	H	L	O	E	M	Y	M	E	T	I	L
D	H	A	P	O	O	U	S	O	E	O	I
W	E	H	I	N	I	A	N	C	E	B	D

CICLISMO - SALTOS - HIPISMO - ESGRIMA




MATEMÁTICA

1) AS CRIANÇAS FIZERAM UMA DELICIOSA SALADA DE FRUTAS E CONSTRUÍRAM O GRÁFICO A SEGUIR COM A QUANTIDADE DE FRUTAS QUE USARAM.



RESOLVA DE ACORDO COM AS INFORMAÇÕES DO GRÁFICO.

A) ESCREVA A QUANTIDADE DE CADA FRUTA USADA NA SALADA.



IBIÚNA, 22 DE JULHO DE 2021.

ESCOLA: _____
IBIÚNA, _____
NOME: _____

LÍNGUA PORTUGUESA/GEOGRAFIA/HISTÓRIA/MATEMÁTICA

ESCREVA OS NOMES DOS ESPORTES












MATEMÁTICA

1 - Complete com os números faltosos e em seguida, pinte as maçãs de acordo com a legenda abaixo.

pares

números

ímpares



IBIÚNA, 23 DE JULHO DE 2021.

ESCOLA: _____
IBIÚNA, _____
NOME: _____

LÍNGUA PORTUGUESA/GEOGRAFIA/HISTÓRIA/MATEMÁTICA

SEPARE AS SÍLABAS DAS PALAVRAS
RELACIONADAS AOS JOGOS OLIMPÍCOS:

FUTEBOL =

FLECHA =

FRANÇA =

FAIXA =

FOGO =

FITAS =



VAMOS CONHECER OS MASCOTES DAS OLIMPIADAS E COLORIR:



SOMEITY



MIRAITOWA

AGORA PINTA NO QUADRO ABAIXO O MÊS QUE ESTÁ ACONTECENDO OS JOGOS OLÍMPICOS ESTE ANO:

JANEIRO	MAIO	SETEMBRO
FEVEREIRO	JUNHO	OUTUBRO
MARÇO	JULHO	NOVEMBRO
ABRIL	AGOSTO	DEZEMBRO

<https://www.soescola.com/2021/07/atividades-olimpiadas.html>

COMPLETE A SEQUÊNCIA NUMÉRICA

1									10
11									20
21									30
31									40
41									50

<https://br.pinterest.com/pin/549439223290807540/>

IBIÚNA, 26 DE JULHO DE 2021.

ESCOLA: _____

IBIÚNA, _____

NOME: _____

LÍNGUA PORTUGUESA

ACOMPANHE A LEITURA DO TEXTO COM SUA PROFESSORA.

ERA UMA BRUXA
À MEIA-NOITE
EM UM CASTELO
MAL – ASSOMBRADO
COM UMA FACA NA MÃO
PASSANDO MANTEIGA
NO PÃO.



1. PINTE OS ESPAÇOS ENTRE AS PALAVRAS NO TEXTO.
2. PRIMEIRA PALAVRA DO TEXTO: _____
3. ÚLTIMA PALAVRA DO TEXTO: _____
4. QUANTAS PALAVRAS TEM NO TEXTO: _____
5. PERSONAGEM PRINCIPAL: _____

MATEMÁTICA

SISTEMA MONETÁRIO BRASILEIRO

1. OBSERVE OS VALORES ABAIXO PARA RESOLUÇÃO DE CONTINHAS:



TESOURA
8 REAIS



LIVRO
12 REAIS



MOCHILA
25 REAIS

2. COM BASE NAS INFORMAÇÕES ACIMA, RESPONDA:

A) QUAIS PRODUTOS ESTÃO SENDO VENDIDOS?

B) QUANTO CUSTA A MOCHILA?

C) QUANTO CUSTA A TESOURA?

D) QUANTO CUSTA O LIVRO?

E) SE EU COMPRAR A TESOURA E O LIVRO, QUANTOS REAIS GASTAREI?

DEZENA

UNIDADE

<https://www.clickseducativos.com.br/sistema-monetario/>

IBIÚNA, 27 DE JULHO DE 2021.

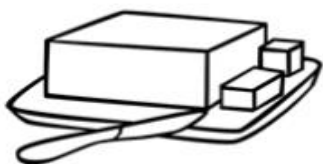

ESCOLA: _____

IBIÚNA, _____

NOME: _____

LÍNGUA PORTUGUESA

ESCREVA OS NOMES DOS DESENHOS.

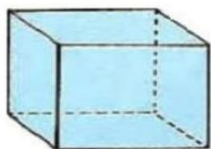


MATEMÁTICA

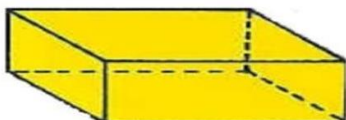
SÓLIDOS GEOMÉTRICOS.

As figuras abaixo são sólidos geométricos. Tratam-se do cubo, do cilindro, do cone, da esfera, da pirâmide e do paralelepípedo.


Sólidos Geométricos



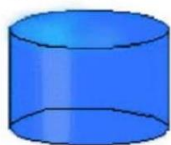
cubo



paralelepípedo



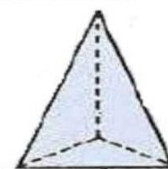
esfera



cilindro



cone



pirâmide

Os sólidos que tem superfície curva são chamados de **corpos redondos**.
Os sólidos que tem superfície plana são chamados de **poliedros**

1) Com qual sólido geométrico se parece?



a) se parece com:.....



b) se parece com:.....



c) se parece com:.....



d) se parece com:.....



e) se parece com:.....



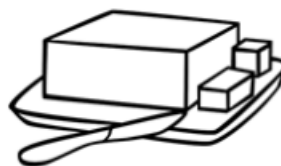
f) se parece com:.....

IBIÚNA, 28 DE JULHO DE 2021.

ESCOLA: _____
IBIÚNA, _____
NOME: _____

LÍNGUA PORTUGUESA

ENCONTRE OS NOMES DOS DESENHOS.



B	R	U	N	A	G	U	I	O	P
M	G	B	R	U	X	A	U	E	S
M	A	T	E	P	Ã	O	O	A	E
N	T	M	A	N	T	E	I	G	A
C	A	S	T	E	L	O	U	L	A
P	A	T	F	A	C	A	V	A	C
M	Ã	O	M	A	M	A	E	G	H



IBIÚNA, 29 DE JULHO DE 2021.

ESCOLA: _____
IBIÚNA, _____
NOME: _____

LÍNGUA PORTUGUESA

Substitua as figuras pela palavras correspondentes:

ERA UMA  _____

À MEIA-NOITE

EM UM  _____

MAL-ASSOMBRADO

COM UMA  _____ NA  _____

PASSANDO MANTEIGA NO  _____

cantinhopreferidodamah.blogspot.com

<https://br.pinterest.com/pin/459507968221095153/>

ESCREVA OS NÚMEROS ANTECESSORES E SUCESSORES:

20	21	22
----	----	----

	14	
--	----	--

	17	
--	----	--

	24	
--	----	--

	22	
--	----	--

	19	
--	----	--

	11	
--	----	--

	28	
--	----	--

<https://br.pinterest.com/pin/557250153886261255/>

IBIÚNA, 30 DE JULHO DE 2021.

ESCOLA: _____


IBIÚNA, _____

NOME: _____

MATEMÁTICA



Veja os números nesta reta.



Qual é o:

a) menor número da reta? _____

b) maior número da reta? _____

c) número par que vem depois do 1? _____


d) número entre o 4 e o 6? _____

e) maior número par da reta? _____

f) maior número ímpar da reta? _____

Faça como no exemplo.

Antes	Número	Depois				
2	<table border="1"><tr><td>•</td><td>•</td></tr></table>	•	•	4		
•	•					
	<table border="1"><tr><td>•</td><td>•</td></tr><tr><td>•</td><td>•</td></tr></table>	•	•	•	•	
•	•					
•	•					
	<table border="1"><tr><td>•</td><td>•</td></tr></table>	•	•			
•	•					
	<table border="1"><tr><td>•</td><td>•</td></tr><tr><td>•</td><td>•</td></tr></table>	•	•	•	•	
•	•					
•	•					
	<table border="1"><tr><td>•</td><td>•</td></tr></table>	•	•			
•	•					



IBIÚNA, 02 DE AGOSTO DE 2021.

ESCOLA: _____

IBIÚNA, _____

NOME: _____

MATEMÁTICA




O CALENDÁRIO

- COM A ORIENTAÇÃO DO(A) PROFESSOR(A), PREENCHA O CALENDÁRIO DO MÊS EM QUE ESTAMOS PARA, DEPOIS, RESPONDER ÀS PERGUNTAS ABAIXO.

ANO: _____

MÊS: _____



DOMINGO	SEGUNDA- FEIRA	TERÇA- FEIRA	QUARTA- FEIRA	QUINTA- FEIRA	SEXTA- FEIRA	SÁBADO

- A) EM QUAL ANO ESTAMOS? _____
- B) EM QUAL MÊS? _____
- C) PINTE DE VERMELHO O QUADRINHO QUE INDICA O DIA DE HOJE.
- D) QUAL É O NOME DO PRIMEIRO DIA DA SEMANA? _____
- E) QUAL É O NOME DO ÚLTIMO DIA DA SEMANA? _____
- F) QUANTOS DOMINGOS TEM ESTE MÊS? _____
- G) QUANTOS DIAS TEM UMA SEMANA? _____



IBIÚNA, 03 DE AGOSTO DE 2021.

ESCOLA: _____

IBIÚNA, _____

NOME: _____

MATEMÁTICA

Pintando seguindo as cores!



Azul

Número que representa 1 dezena.

Rosa

Antecessor de 41 e sucessor de 39.

Verde

O resultado da soma de 20 e 36.

Vermelho

Representa 1 dúzia.

Amarelo

Sete dezenas e nove unidades.

Roxo

Meia dúzia.

Laranja

Três dezenas.

www.amorensina.com.br

IBIÚNA, 04 DE AGOSTO DE 2021.

ESCOLA: _____


IBIÚNA, _____

NOME: _____

MATEMÁTICA

Gráfico ANIMAL PREFERIDO

- Os alunos do 2º Ano fizeram uma votação para escolher o animal preferido da história *Tatu bobo*. Com os votos obtidos, foi montado um gráfico. Observe-o e faça o que se pede:



- Qual é o animal preferido pelos alunos do 2º Ano?
- Qual foi o animal que teve menos votos?
- Quantos votos teve o tucano?
- Quantos votos teve o macaco?
- Colorir os quadrinhos de acordo com a quantidade de votos de cada animal:

IBIÚNA, 05 DE AGOSTO DE 2021.


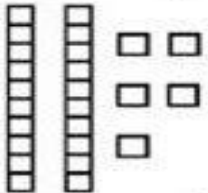
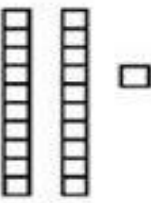
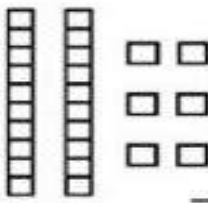
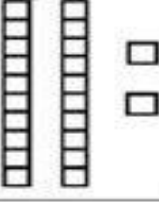
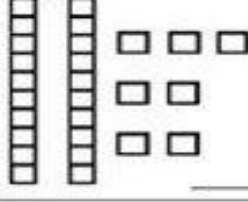
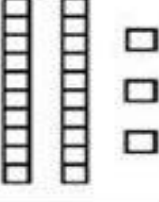
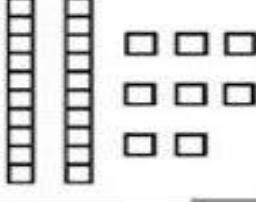
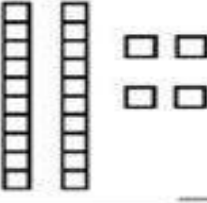
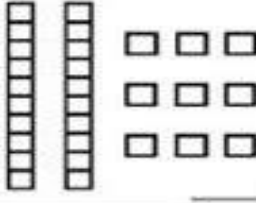
ESCOLA: _____

IBIÚNA, _____

NOME: _____

MATEMÁTICA

Siga o exemplo:

	<table border="1"><tr><td>D</td><td>U</td></tr><tr><td>2</td><td>0</td></tr></table> $20 + 0 = 20$	D	U	2	0		<table border="1"><tr><td>D</td><td>U</td></tr><tr><td></td><td></td></tr></table> _____ + _____ = _____	D	U		
D	U										
2	0										
D	U										
	<table border="1"><tr><td>D</td><td>U</td></tr><tr><td></td><td></td></tr></table> _____ + _____ = _____	D	U				<table border="1"><tr><td>D</td><td>U</td></tr><tr><td></td><td></td></tr></table> _____ + _____ = _____	D	U		
D	U										
D	U										
	<table border="1"><tr><td>D</td><td>U</td></tr><tr><td></td><td></td></tr></table> _____ + _____ = _____	D	U				<table border="1"><tr><td>D</td><td>U</td></tr><tr><td></td><td></td></tr></table> _____ + _____ = _____	D	U		
D	U										
D	U										
	<table border="1"><tr><td>D</td><td>U</td></tr><tr><td></td><td></td></tr></table> _____ + _____ = _____	D	U				<table border="1"><tr><td>D</td><td>U</td></tr><tr><td></td><td></td></tr></table> _____ + _____ = _____	D	U		
D	U										
D	U										
	<table border="1"><tr><td>D</td><td>U</td></tr><tr><td></td><td></td></tr></table> _____ + _____ = _____	D	U				<table border="1"><tr><td>D</td><td>U</td></tr><tr><td></td><td></td></tr></table> _____ + _____ = _____	D	U		
D	U										
D	U										

Jogo da memória

