


E. M. "Padre Elídio Mantovani"




APOSTILA 8

Atividades

Escolares

Ensino Remoto



**DIA DOS
PAIS**

2º domingo de agosto

Embasada nos Art. 24 Inciso I,
Art. 32 § 4º e Art. 80 § 3º da Lei
de Diretrizes e Bases nº
9394/96

Nome completo: _____

- Professora Melina - 3º ano B

ATIVIDADES REFERENTES AO PERÍODO DE 05 e 06/07; 19/07 à 06/08/2021 - DATA DE ENTREGA: 23/07/2021 - DATA DE DEVOLUÇÃO: 10/08/2021

Aos Pais ou Responsáveis

Orientações para as atividades que serão realizadas em casa

POR FAVOR, LEIA TUDO COM ATENÇÃO!

A paralisação das aulas presenciais diante da atual situação global requer esforços contínuos para que possamos garantir da melhor forma possível a qualidade educacional. Certamente o estudo a distância somente alcançará seus objetivos se for bem articulado com a família. Precisamos nos unir nesse momento pelo bem dos alunos.

O objetivo dessas atividades é garantir o direito do aluno de aprender e ter acesso aos conteúdos programados para a sua série, até que a situação se normalize.

Para que os alunos possam fazer bom proveito dessas atividades, aqui vão algumas dicas:


- Ajude a criança a criar laços de responsabilidade.
- Organize uma rotina de estudos. Os horários de execução das atividades devem ser sempre os mesmos (dentro do possível). O local deve ser arejado e claro.
- Evite que a criança faça as atividades diante da televisão ou com o som ligado, pois isso pode lhe tirar a concentração.
- O incentivo à criança na execução das atividades é muito importante.
- Promova a independência da criança gradativamente até que ela seja capaz de executar as atividades sozinha.
- O adulto deve interferir como agente esclarecedor da atividade em caso de dificuldade, mas NUNCA fazer as atividades para a criança.
- Caso haja dúvidas, podem me enviar mensagem no privado do WhatsApp a qualquer momento. Estarei à disposição para esclarecimentos das dúvidas das atividades de segunda à sexta das 13h às 17h.
- Serão levados em consideração na correção das atividades a responsabilidade, o capricho, o recorte e a colagem, sem deixar, contudo, de serem observadas as diferenças individuais, respeitando e valorizando o crescimento pessoal de cada aluno(a).

Atenciosamente,
Professora Melina

Orientações para os alunos:

Querido(a) Aluno(a)

- ❖ Junto com os pais, escolha o melhor horário de estudo e siga-o todos os dias.
- ❖ Escolha um lugar ventilado, bem iluminado, sossegado, longe da televisão ou do som e concentre-se na atividade que estiver fazendo.
- ❖ Organize-se, colocando sobre a mesa todo o material de que vai precisar: lápis de escrever, lápis de cor, borracha, cola, tesoura, apontador.
- ❖ Não esqueça de colocar o seu nome completo na apostila.
- ❖ Faça as atividades com atenção e capricho.
- ❖ Antes de executar as atividades, sempre leia o enunciado com atenção.
- ❖ Faça sempre uma letra caprichada e legível.
- ❖ Pinte com capricho as ilustrações.
- ❖ Faça tudo com boa vontade. Se houver alguma dificuldade, peça ajuda de um adulto, e se mesmo assim a dificuldade e dúvida persistir, envie uma mensagem para a professora.
- ❖ Ao terminar as atividades do dia, organize seu material e o local de estudo, deixando tudo arrumado.
- ❖ Cuide bem da sua apostila. Não suje, nem amasse. Lembre-se que esse material foi preparado com muito esforço e carinho para você e deverá ser devolvido para correção e intervenção da professora.
- ❖ Quero ver você brilhar sempre!



Um abraço,
Professora Melina

DATA: 05/07/2021

CALENDÁRIO



JULHO

DOM	SEG	TER	QUA	QUI	SEX	SAB
				1	2	3
4	5	6	7	8	9	10
11	12	13	14	15	16	17
18	19	20	21	22	23	24
25	26	27	28	29	30	31

01- DIA DA VACINA
23-ABERTURA DOS JOGOS OLÍMPICOS DE VERÃO
26- DIA DOS AVÓS

www.espacoeducar.net

RESPONDA:

1-) QUAL É O MÊS QUE APARECE NO CALENDÁRIO?

2-) QUANTOS DIAS TEM O MÊS DE JULHO?

3-) QUANTAS SEMANAS COMPLETAS DE DOMINGO A SÁBADO TEM O MÊS DE JULHO?

4-) DIA 23 SERÁ A ABERTURA DOS JOGOS OLÍMPICOS DE VERÃO. PESQUISE E RESPONDA: EM QUE PAÍS ACONTECERÁ ESTE EVENTO?

5-) NO DIA 26 DE JULHO, COMEMORA-SE O DIA DOS AVÓS ESCREVA ABAIXO O NOME DOS SEUS AVÓS.

DATA: 06/07/2021

Nem só de futebol vive o torcedor brasileiro

Os atletas brasileiros são conhecidos pela sua garra, pela força com que conquistam seu espaço no cenário mundial, mesmo sem estrutura para treinar, mesmo sem sermos uma potência em muitos esportes em que medalhas são conquistadas surpreendentemente.

Ginástica artística, atletismo, judô, natação, entre outros, são esportes que normalmente nos destacamos através de poucos atletas, e que normalmente o torcedor brasileiro não possui o conhecimento sobre as regras, táticas, da mesma forma que os esportes mais tradicionais.

Com o histórico de uma torcida que vibra por cada vitória, a cada ponto conquistado por atletas que estão ali representando nosso país e que, por vezes, nem são conhecidos da torcida brasileira, que temos esta apostila como um passo para tornar os esportes praticados por estes atletas mais conhecido dos nossos alunos, um público que convive, em seu dia-a-dia, com esportes escolares e mais tradicionais, como o futsal, voleibol, basquetebol e handebol.



NESTE TEXTO, PUDEMOS SABER UM POUQUINHO SOBRE O PERFIL DOS ATLETAS BRASILEIROS E A TORCIDA DO POVO BRASILEIRO. PESQUISE O NOME DE TRÊS ATLETAS BRASILEIROS QUE PARTICIPARÃO DAS OLIMPIADAS DO JAPÃO E O ESPORTE QUE ELES PRATICAM.

ATLETAS	ESPORTES

VOCÊ PRATICA ALGUM ESPORTE? PINTE A RESPOSTA :

SIM	NÃO
-----	-----


SE SIM, ESCREVA QUAL ESPORTE VOCÊ PRATICA. SE NÃO ESCREVA QUAL ESPORTE VC GOSTARIA DE PRATICAR?

--




Mistura de Alegria

ANÉIS OLÍMPICOS



O símbolo dos Jogos Olímpicos é composto por cinco anéis entrelaçados, com as cores azul, amarelo, preto, verde e vermelho sobre um fundo branco. Esses cinco anéis representam as cinco partes do mundo, que agora são conquistados para Olimpismo e dispostas a aceitar uma concorrência saudável, dessa forma, além de simbolizar a união dos cinco continentes, integra todos os países, fornecendo um sentido universal para as Olimpíadas. Cada anel representa um continente, sendo o anel azul correspondente a Europa, o anel amarelo a Ásia, o preto a África, o verde a Oceania e o vermelho a América.

VAMOS COLORIR OS ANÉIS OLÍMPICOS



SÃO CINCO ANÉIS DE CORES DIFERENTES:
(AZUL, VERMELHO, PRETO, AMARELO E VERDE)

LIGUE DE ACORDO COM A COR QUE
REPRESENTA CADA CONTINENTE

AMARELO

AMÉRICA

VERDE

ÁSIA

PRETO

EUROPA

VERMELHO

ÁFRICA

AZUL

OCEÂNIA

DATA: 20/07/2021

CAÇA PALAVRAS

ESPORTES OLÍMPICOS

ENCONTRE AS PALAVRAS ESCRITAS ABAIXO E CONHEÇA
ALGUMAS MODALIDADES DE ESPORTE DAS OLIMPIADAS.

A	N	M	N	A	T	T	Ê	N	I	S	C
T	H	A	W	F	U	T	E	B	O	L	A
T	A	W	T	E	I	I	B	C	E	H	N
R	R	E	E	A	H	I	P	I	S	M	O
E	M	I	K	S	Ç	R	E	C	R	D	A
M	A	S	A	W	G	Ã	O	L	A	S	G
O	F	A	O	T	O	R	O	I	A	R	E
J	U	D	Ô	O	L	N	I	S	E	U	M
S	N	O	J	A	F	O	D	M	R	G	D
E	C	T	E	A	E	R	N	O	A	B	F
H	A	N	D	E	B	O	L	B	N	Y	U
T	E	B	A	S	Q	U	E	T	E	I	A



BASQUETE
CANOAGEM
CICLISMO
ESGRIMA
FUTEBOL
GOLFE
HANDEBOL
HIPISMO
JUDÔ
TAEKWONDO
TRIATLO
TÊNIS
NATAÇÃO
REMO
RUGBY

DATA: 21/07/2021

SOMANDO PONTOS

1. Mauro, André e Cibele brincaram de lançar os dados. Veja quantos pontos cada um fez por jogada.



jogadas	Mauro	André	Cibele
1ª	5	6	4
2ª	2	4	5
3ª	1	3	2
4ª	6	2	6
total			



2. Quem foi o vencedor nesta outra rodada? Some os pontos e descubra.

jogadas	Mauro	André	Cibele
1ª	5	6	3
2ª	5	4	5
3ª	2	5	2
4ª	6	2	6
total			

3. Em uma partida de basquete na escola, apenas três jogadores de cada equipe pontuaram. Veja quantos pontos cada um fez.




a) Some quantos pontos cada um fez no total de quatro jogadas e anote na última linha da ficha acima.

b) Quem foi o participante que fez:

mais pontos	
menos pontos	

c) Pinte a figura que representa o resultado do jogo.



a) Quantos pontos o time A marcou? _____

b) Quantos pontos o time B marcou? _____

c) Qual time fez mais pontos? _____

d) Qual jogador mais pontuou? A que time ele pertence?

e) Qual jogador menos pontuou? A que time ele pertence?

DATA: 22/07/2021

CUIDANDO DO CORPO



PARA CUIDAR DO NOSSO CORPO, É PRECISO ALIMENTAÇÃO SAUDÁVEL, HIGIENE PESSOAL, LAZER, DORMIR BEM E FAZER ATIVIDADE FÍSICA.

1. QUANTAS HORAS VOCÊ DORME POR DIA?

VOCÊ SABIA?

DEVEMOS DORMIR PELO MENOS 8 HORAS POR DIA.

2. CITE UMA ATIVIDADE DE LAZER QUE VOCÊ PRÁTICA.

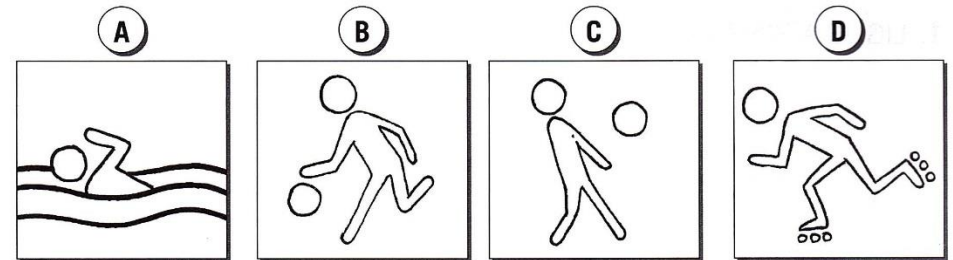
3. VOCÊ PRÁTICA ATIVIDADE FÍSICA? ONDE?

4. VOCÊ PRÁTICA ALGUM DESTES ESPORTES? QUAL?

- | | | |
|-----------------------------------|---|--------------------------------|
| <input type="checkbox"/> NATAÇÃO | <input type="checkbox"/> FUTEBOL | <input type="checkbox"/> VÔLEI |
| <input type="checkbox"/> CAPOEIRA | <input type="checkbox"/> BASQUETE | <input type="checkbox"/> JUDÔ |
| <input type="checkbox"/> CICLISMO | <input type="checkbox"/> OUTRO. QUAL? _____ | |

5. CITE UMA BRINCADEIRA QUE PRECISAMOS MOVIMENTAR O CORPO PARA PRATICÁ-LA.

6. PRATICAR ESPORTE É CUIDAR DO CORPO. LIGUE O SÍMBOLO AO ESPORTE CORRESPONDENTE.



- | | | | |
|-------|-----------|---------|----------|
| VÔLEI | PATINAÇÃO | NATAÇÃO | BASQUETE |
|-------|-----------|---------|----------|

7. DESENHE UM SÍMBOLO PARA ESTES ESPORTES.

<p>CICLISMO</p>	<p>FUTEBOL</p>
------------------------	-----------------------

DATA: 23/07/2021

FAMÍLIA SILÁBICA DA LETRA M

LEIA O TEXTO E DEPOIS CIRCULE AS PALAVRAS QUE COMEÇAM COM M:




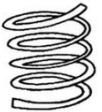

A MÔNICA, NERVOSINHA,
NÃO QUERIA BRINCADEIRA:
- QUEM PÔS AS MEIAS NA MALA?
DERRUBOU A MAMADEIRA?



A MAGALI, COMILONA,
FALOU COM VOZ BEM MACIA:
- VAMOS COMER FRUTAS. TEM MANGA,
MAMÃO, MELÃO, MELANCIA!













MA - ME - MI - MO - MU

VAMOS LIGAR:

	•	• MELANCIA
	•	• MOLA
	•	• MALA
	•	• MURO
	•	• MILHO



VAMOS COMPLETAR AS PALAVRAS:
MA - ME - MI - MO - MU

 __LANCIA	 __DICO	 __LHO
 __RO	 __CACO	 __TO
 __SICA	 __SA	 __EDA
 __CROFONE	 __LETA	 __CÃ



Sistema de numeração decimal Dezenas

9 unidades + 1 unidade = 1 dezena
Dezenas → grupos de 10

1. Responda.
Quantas dezenas? Quantas unidades?



dezena ou unidades.



dezenas ou unidades.




dezenas ou unidades.



dezenas ou unidades.



dezenas ou unidades.



dezenas ou unidades.



dezenas ou unidades.




dezenas ou unidades.



dezenas ou unidades.

CACA- PALAVRAS


M A C A C O P M I M
E M A G W C B M J U
L A M A R P Q O H L
A F A B O K G T G A
D W N S A O Q O F P
O T S W P M Q C L Q
M Y P M E A X A L M
T P Q O W L Y X K O
C R V L R A Z R D L
A S W A M T T W R E
M T X K L W R V K T
A P O W J W M A T O




MACACO
LAMA
CAMA
EMA
MATO
MULA

MALA
MELADO
MOTOCICA
MOLA
MOLE

CRUZA-AM

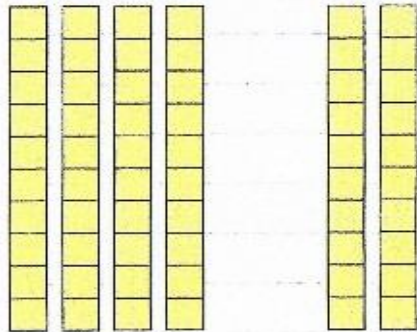


2. Resolva.

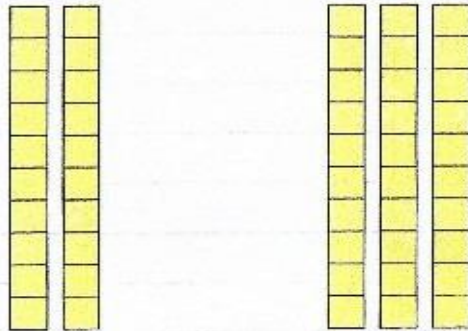


1 dezena

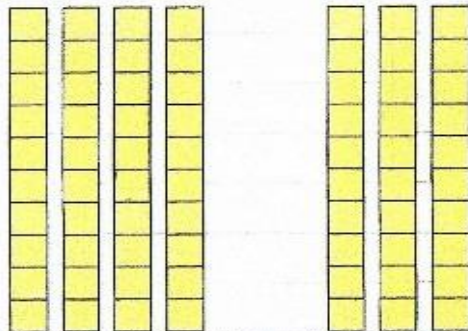
$$\begin{array}{r} 40 \\ + 20 \\ \hline \square \end{array}$$



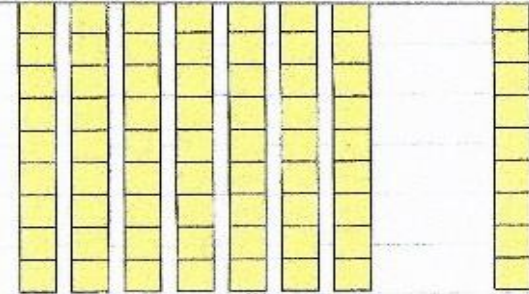
$$\begin{array}{r} 20 \\ + 30 \\ \hline \square \end{array}$$



$$\begin{array}{r} 40 \\ + 30 \\ \hline \square \end{array}$$









$$\begin{array}{r} 70 \\ + 10 \\ \hline \square \end{array}$$



3. Ligue cada figura às unidades correspondentes.

1 dezena
10 unidades
10 (dez)

	<input type="text" value="60"/>
	<input type="text" value="40"/>
	<input type="text" value="80"/>
	<input type="text" value="20"/>
	<input type="text" value="70"/>
	<input type="text" value="30"/>

OS TRANSPORTES


OS SERES HUMANOS TÊM A NECESSIDADE DE SE LOCOMOVER DE UM LUGAR PARA O OUTRO.

NO INÍCIO, O HOMEM SE DESLOCAVA A PÉ DE UM LADO PARA O OUTRO. DEPOIS, COMEÇOU A UTILIZAR ANIMAIS.

COM O PASSAR DOS TEMPOS, FORAM CRIADOS MEIOS PARA AJUDAR A LOCOMOÇÃO E O TRANSPORTE, COMO CARROÇAS, BICICLETAS, BONDES, ÔNIBUS, TRENS, AVIÕES E OUTROS.

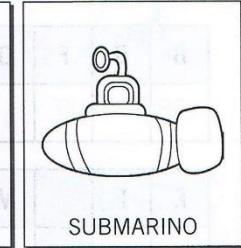

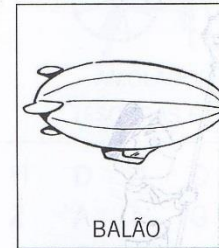
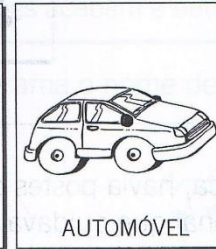
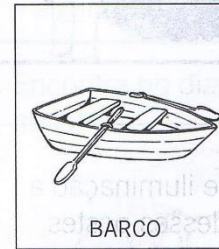
NOS DIAS DE HOJE, OS TRANSPORTES SÃO CLASSIFICADOS EM:

- **TERRESTRES:** MEIOS DE TRANSPORTE QUE TRAFEGAM NA TERRA. CARRO, BICICLETA, AVIÃO, METRÔS E OUTROS.
- **AÉREOS:** SÃO OS MEIOS DE TRANSPORTE QUE TRAFEGAM NO AR. AVIÃO, HELICÓPTERO, TECO-TECO.
- **AQUÁTICOS:** SÃO OS MEIOS DE TRANSPORTE QUE TRAFEGAM NOS MARES E RIOS. NAVIO, BARCO, BOTE.



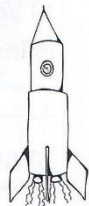
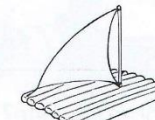
MEIOS DE TRANSPORTE

1. Anote o nome de cada meio de transporte na coluna adequada.



Meios de transporte		
Aéreo	Aquático	Terrestre

2. Pinte o meio de transporte aquático.



LINGUAGEM

FAMÍLIA SILÁBICA

M

PINTE A PALAVRA QUE REPRESENTA A FIGURA:



MAÇÃ

MACA

MALA



MEIA

MESA

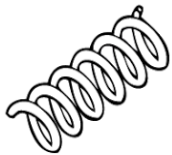
MEL



MISTO

MILHO

MICO



MOLA

MOTO


MOÇA



MOLA

MOTO

MOÇA



MÚSICA

MÚMIA

MURO



M



VAMOS FAZER UMA LISTA DE PALAVRAS QUE INICIEM COM A LETRA M.

1. _____
2. _____
3. _____
4. _____
5. _____
6. _____
7. _____

4. Pinte o grupo que representa 2 dezenas.



2 dezenas
20 unidades
(vinte)



5. Represente os números correspondentes a:

2 dezenas e 4 unidades →

2 dezenas e 1 unidade →

2 dezenas e 6 unidades →

2 dezenas e 8 unidades →

2 dezenas e 5 unidades →

2 dezenas e 3 unidades →

2 dezenas e 9 unidades →

2 dezenas e 7 unidades →

2 dezenas e 2 unidades →

2 dezenas →

6. Observe o exemplo e complete.

2 dezenas e
6 unidades



26 vinte e seis

2 dezenas e
9 unidades



2 dezenas e
7 unidades



2 dezenas e
3 unidades



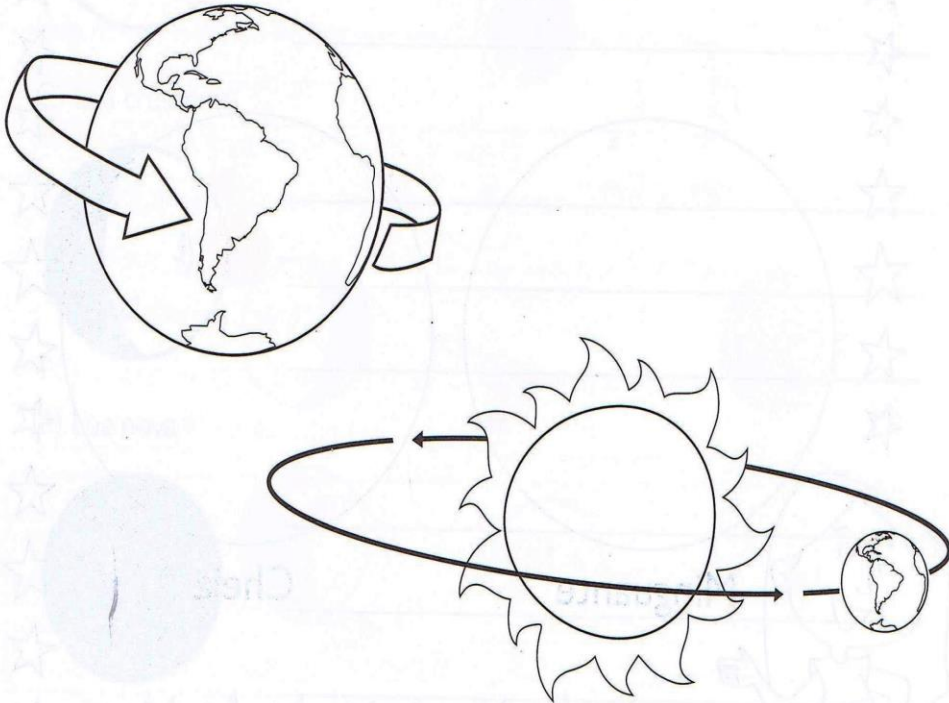
DATA: 03/08/2021

MOVIMENTOS DA TERRA

A Terra faz dois movimentos no espaço: o de **rotação** e o de **translação**.

No movimento de rotação, a Terra gira em torno de si mesma, produzindo os dias e as noites. Ele dura 24 horas. Ao girar, uma parte da Terra é iluminada pelo Sol, enquanto a outra permanece no escuro. Na parte iluminada é dia, na outra é noite.

No movimento de translação, a Terra dá uma volta completa ao redor do Sol. É uma volta muito grande, que demora 365 dias e 6 horas, ou seja, um ano. Esse movimento também dá origem às estações do ano: primavera, verão, outono e inverno.



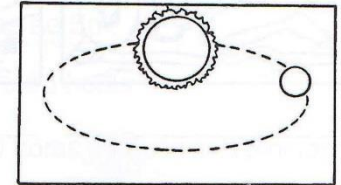
A TERRA SE MOVE

1. A Terra se move em torno do Sol.

a) Como se chama o movimento que a Terra faz em torno do Sol?

b) Em quanto tempo a Terra dá uma volta completa em torno do Sol?

- 365 dias e 8 horas
 365 dias e 6 horas
 364 dias e 6 horas



2. A Terra gira em torno de si mesma.

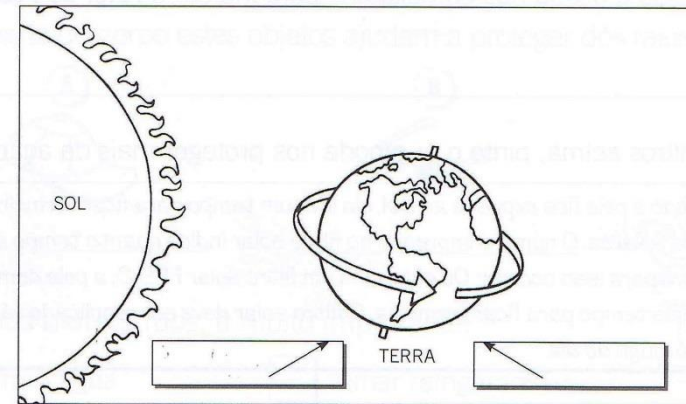
a) Como se chama o movimento que a Terra faz em torno de si mesma?

b) Em quanto tempo a Terra dá uma volta completa em torno de si mesma?

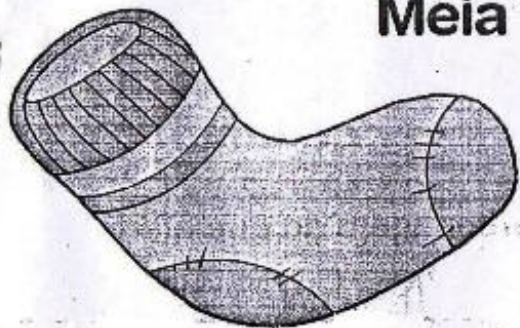
- 24 horas 6 meses 1 ano



c) Observe a ilustração e indique em qual lado da Terra é dia e em qual é noite.



Meia



meia

ma me mi mo mu

ma me mi mo mu

Ma Me Mi Mo Mu

Ma Me Mi Mo Mu

☐ Cubra, copie e leia:

ma me mi mo mu

Ma Me Mi Mo Mu

☐ Leia e circule o nome do desenho:



mamão
macaco
mamada
mala



mimado
moeda
mamão
mamãe



mola
mala
meia
mão

☐ Forme palavras:

mo → le _____

mu → la _____

ma → ma _____

me → do _____

mo → da _____

mé → di → co _____

mi → mi _____

me → la → do _____

☐ Pesquise, em jornais ou revistas, palavras com ma, me, mi, mo e mu e cole-as aqui.

Blank box for pasting words.

7. Complete de acordo com o exemplo.

$24 = 2 \text{ dezenas} + 4 \text{ unidades} = 10 + 10 + 4$

$22 =$ _____

$28 =$ _____

$26 =$ _____

$20 =$ _____

$23 =$ _____

8. Escreva por extenso.

15 quinze 17 _____

10 _____ 29 _____

28 _____ 7 _____

12 _____ 20 _____

9 _____ 22 _____

36 19

6

9. Decomponha os números e represente-os no quadro.

26 2 dezenas e 6 unidades

D	U
2	6

20

D	U

25

D	U

22

D	U

21

D	U

10. Represente os algarismos no quadro.

20

D	U
2	0

 27

D	U

 22

D	U

29

D	U

 25

D	U

 28

D	U

DATA: 06/08/2021

Faça uma entrevista com o papai ou com alguém que também seja especial e que cuida de você.

SEU NOME É: _____

SUA PROFISSÃO: _____

SUA COMIDA FAVORITA: _____

SUA COR PREDILETA: _____

SEU TIME DE FUTEBOL: _____

QUALIDADES: _____

DEFEITOS: _____

ELE CARREGA NA CARTEIRA: _____

SUA MÚSICA PREFERIDA: _____


O QUE ELE MAIS AMA NA VIDA: _____

SEU MAIOR SONHO: _____



A ARTE DE ENSINAR E APRENDER

No segundo domingo de agosto, comemora-se o dia dos pais. Escreva uma mensagem para o papai ou para uma pessoa especial que cuida de você. Depois pinte, recorte e de presente para ele.



tuttodisegni.com

