



Prefeitura da Estância Turística de
IBIÚNA
TRANSFORMAÇÃO RESPONSÁVEL. CUIDANDO DE PESSOAS.



E.M “ZENI SOARES RAMALHO”

Atividades para estudo em Casa

8 º apostila

Período das atividades:05/07 a 06/08/2021

Data da devolução:10/08/2021

Aluno (a): _____

Professora: Lucila Helena S.C. Germano

3º ano B

Roteiro para realização das atividades

Siga o roteiro para a realização das atividades:

Dia 23/07	1 Língua Portuguesa e 2 Matemática
Dia 26/07	Geografia, Língua Portuguesa e Matemática
Dia 28/07	Matemática, geografia e Língua Portuguesa
Dia 29/07	História, Matemática e Ciências
Dia 30/07	2 Língua Portuguesa e 1 Artes
Dia 02/08	2 Matemática e 1 Geografia
Dia 03/08	Língua Portuguesa ,História e Matemática
Dia 04/08	Ciências, Língua Portuguesa e Artes
Dia 05/08	Língua Portuguesa , Matemática e geografia
Dia 06/08	Língua Portuguesa , Matemática e História
Dia 09/08	Matemática, Ciências, Língua Portuguesa e Artes

Combinados das lições

- Lavar as mãos para fazer as lições;
- Escolher um lugar tranquilo e adequado para realizar as atividades;
- Ler com atenção;
- Seguir o roteiro das datas e fazer as atividades ,evitando assim o acúmulo;
- Fazer as tarefas com capricho e dedicação;
- Não amassar, não sujar e rasgar as atividades;
- Assistir aos links enviados pela professora no grupo de whatsApp;
- Se tiver dúvidas perguntar para a professora.

Lembre-se:

Você é capaz!!!




Eu acredito em você!!!

E.M “ZENI SOARES RAMALHO”

LÍNGUA PORTUGUESA

LEIA A HISTÓRIA EM QUADRINHOS ABAIXO

A TURMA DA **Mônica**



RESPONDA AS QUESTÕES

1) QUEM SÃO OS PERSONAGENS?

2) QUAL FOI O PRESENTE QUE O PAPAÍ NOEL DEIXOU PARA A MÔNICA?

3) O CEBOLINHA ESTAVA SONHANDO. POR QUE ELE ESTAVA FELIZ COM O SONHO?

4) QUAL FOI O PRESENTE QUE O PAPAÍ NOEL DEIXOU PARA O CEBOLINHA?

5) POR QUE O PAPAÍ NOEL DEIXOU ESSE PRESENTE PARA O CEBOLINHA?

E. M "ZENI SOARES RAMALHO"

MATEMÁTICA

SISTEMA MONETÁRIO

1 - Ligue cada nota de dinheiro ao seu valor correspondente e escreva a quantidade por extenso como no modelo.



R\$ 5,00

Cinco reais

R\$ 10,00

R\$ 2,00

R\$ 20,00

R\$ 50,00

R\$ 100,00

<https://1.bp.blogspot.com/-0AyycRanZ8U/Wt4LpoOOvhI/AAAAAAAAAib0/ivdezi8dnn85ITSxg7stpYLZpEPyYBWZwCLcBGAs/s1600/SISTEMA%2BMONET%25C3%2581RIO.png>

E. M "ZENI SOARES RAMALHO"

MATEMÁTICA

SITUAÇÃO-PROBLEMA

A MÃE DA CHAPEUZINHO COMPROU UNS PRESENTINHOS. VEJA OS PREÇOS:



ANEL



COLAR



TIARA



BATOM



MARQUE A RESPOSTA CERTA:

1-QUAL FOI O PRESENTE MAIS CARO?

() ANEL () TIARA () BATOM () COLAR


2- ESCREVA O NOME DO PRESENTE MAIS BARATO:

3-QUANTO ELA GASTARIA, SE TIVESSE COMPRADO 2 TIARAS?

() 2 REAIS () 4 REAIS () 3 REAIS

4-QUANTOS REAIS MAMÃE GASTOU AO TODO?

() 20 REAIS () 30 REAIS () 35 REAIS



E.M “ZENI SOARES RAMALHO”

GEOGRAFIA

O que é paisagem?


Paisagem é tudo o que podemos ver e perceber no espaço. Uma paisagem apresenta elementos naturais e culturais.

Elemento natural é aquele formado pela natureza. Exemplos: rio, vegetação original, solo, montanha, mar entre outros.


Elemento cultural é aquele criado pelo ser humano. Exemplos: casa, prédio, rua, estrada, ponte, fábrica, vegetação cultivada entre outros.

Em algumas paisagens predominam os elementos naturais. Em outras paisagens predominam os elementos culturais.

1. CIRCULE O QUE NÃO É NATURAL NESTA PAISAGEM, OU SEJA, FOI CONSTRUÍDO PELAS PESSOAS.



2. PINTe APENAS OS ELEMENTOS NATURAIS.



<https://1.bp.blogspot.com/-o6yH-Y-vrac/WM8VISzNGYI/AAAAAAAAIiw/yARTQTRYZ0luSMwBCJgIf4A0WQvSuVwCLcB/s1600/as-paisagens-e-seus-elementos-1-638.jpg>

<https://s-media-cache-ak0.pinning.com/originals/13/c5/6c/13c56c17e3c9dc33724189adb22768b4.png>

E. M “ZENI SOARES RAMALHO”

LÍNGUA PORTUGUESA

OBSERVE A TIRINHA EM QUADRINHO:




AGORA RESPONDA:

1. QUE TÍTULO VOCÊ DARIA PARA ESTA HISTÓRIA?

2. QUAIS SÃO OS PERSONAGENS QUE APARECEM?

3. O QUE ELES ESTÃO FAZENDO?

4. CIRCULE O PERSONAGEM QUE ESTÁ LIGANDO PARA ELES:



<https://i.pinimg.com/originals/89/10/4e/89104e69a2d8e4e1ec2ce953ec45e541.jpg>

MULTIPLICAÇÃO

Multiplicação – Adição de parcelas iguais

Nasceram 4 flores em cada vaso.

Quantas flores há nos 3 vasos?


No total há 12 flores.

Adição $4 + 4 + 4 = 12$

Multiplicação $3 \times 4 = 12$

Lê-se 3 vezes 4 é igual a 12

COMPLETE OBSERVANDO OS DESENHOS:



$1 + \square + \square + \square = \square$

4 vezes _____ é igual a _____

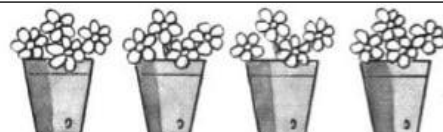
$\square \times \square = \square$



$\square + \square + \square = \square$

_____ vezes _____ é igual a _____

$\square \times \square = \square$



$4 + \square + \square + \square = \square$

4 vezes _____ é igual a _____

$4 \times 4 = \square$



$\square + \square + \square = \square$

_____ vezes _____ é igual a _____

$\square \times \square = \square$

E. M "ZENI SOARES RAMALHO"


MATEMÁTICA

A multiplicação é uma forma mais rápida de somar várias vezes o mesmo número. Para você entender melhor, veja os exemplos abaixo e complete as operações.



$$2+2+2+2+2= \square$$

$$2 \times 5= \square$$



$$4+4+4+4= \square$$

$$4 \times 4= \square$$



$$3+3+3+3+3+3= \square$$

$$6 \times 3= \square$$



$$6+6= \square$$

$$2 \times 6= \square$$

E. M “ZENI SOARES RAMALHO”

GEOGRAFIA

PAISAGEM NATURAL E MODIFICADA

ESCREVA NAS LINHAS ABAIXO OS ELEMENTOS NATURAIS QUE
PODEM SER OBSERVADOS NESTA IMAGEM:




- 1 _____
- 2 _____
- 3 _____
- 4 _____
- 5 _____
- 6 _____
- 7 _____
- 8 _____

E. M "ZENI SOARES RAMALHO"

LÍNGUA PORTUGUESA

SÍLABA TÔNICA É A SÍLABA MAIS FORTE DE UMA PALAVRA.

Sílaba Tônica



BA LÃO

Sílaba forte
Sílaba tônica

♦ Encaixe as palavras nos quadros, destacando a sílaba tônica, no quadrinho elevado:

ABACAXI MÉDICO
AMEIXA BONÉ
PEIXE SAÚDE

The activity consists of a grid of empty boxes for word placement. The grid is composed of several rows of boxes of varying lengths, with some boxes containing small horizontal lines indicating where to place the words. The words to be placed are ABACAXI, AMEIXA, PEIXE, MÉDICO, BONÉ, and SAÚDE. The instruction asks to place the words in the boxes, highlighting the stressed syllable in the raised box.

<https://3.bp.blogspot.com/>

[mKhnmWz67bE/WKrW5rGTqkl/AAAAAAAk7E/N418u3xLILQtavmP_6h9afRbPp7KR4Q7wCLcB/s1600/st.](https://3.bp.blogspot.com/mKhnmWz67bE/WKrW5rGTqkl/AAAAAAAk7E/N418u3xLILQtavmP_6h9afRbPp7KR4Q7wCLcB/s1600/st.png)

png

E.M “ZENI SOARES RAMALHO”

HISTÓRIA

Um pouco da história das Olimpíadas

Quando a cidade de Olímpia, na Grécia, foi restaurada por um arqueólogo alemão, em 1852, ninguém imaginou que aquelas ruínas serviriam de inspiração para um educador francês criar um evento esportivo mundial.



Esse educador foi incumbido de fazer uma reforma no ensino de seu país. Ele viajava pelo mundo em busca de experiências, quando imaginou o globo terrestre como um grande pátio de colégio, com as “classe-países” se reunindo regularmente para medir forças e habilidades.

Com essa ideia na cabeça ele conheceu um educador inglês que defendia a prática sistemática de esportes como forma de melhorar o rendimento escolar e estimular o espírito de equipe entre as crianças e os adolescentes.

Estavam criados os Jogos Olímpicos, que acontecem de 4 em 4 anos e que em 2012 tiveram sua 30ª edição. No século XX deixaram de acontecer três edições dos jogos – 1916, 1940 e 1944 – por causa das guerras mundiais, mas para efeito de contagem foram mantidas como 6ª, 12ª e 13ª edições.

Adaptado de Revista Nova Escola. Nº 129

A edição de 2020 foi adiada para o ano de 2021. Por conta da pandemia do coronavírus .Os jogos acontecerão em Tóquio , de 23 de julho até 08 de Agosto.

Os mascotes dos jogos olímpicos de Tóquio são MIRAITOWA e SOMEITY.

RESPONDA:

1)DE CADA QUANTOS ANOS ACONTECEM OS JOGOS OLÍMPICOS?

2)POR QUE A EDIÇÃO DE 2020 FOI ADIADA?

3)ONDE ACONTECERÃO OS JOGOS OLÍMPICOS DE 2021?

<https://4.bp.blogspot.com/->


[P2iJORqM1Ws/VtyoJDMR8AI/AAAAAAAAiw0/MggmcNpXvPE/s1600/olimpiadas4.png](https://4.bp.blogspot.com/-P2iJORqM1Ws/VtyoJDMR8AI/AAAAAAAAiw0/MggmcNpXvPE/s1600/olimpiadas4.png)

E. M "ZENI SOARES RAMALHO"

MATEMÁTICA

DOBRO

Para achar o **DOBRO** de um número, basta você multiplicar esse número por **2**.



Agora é com você:

O dobro de 6 é $6 \times 2 = 12$

a) O dobro de 7 é $\underline{\quad} \times \underline{\quad} = \underline{\quad}$

b) O dobro de 9 é $\underline{\quad} \times \underline{\quad} = \underline{\quad}$

c) O dobro de 4 é $\underline{\quad} \times \underline{\quad} = \underline{\quad}$

d) O dobro de 1 é $\underline{\quad} \times \underline{\quad} = \underline{\quad}$

e) O dobro de 2 é $\underline{\quad} \times \underline{\quad} = \underline{\quad}$

f) O dobro de 5 é $\underline{\quad} \times \underline{\quad} = \underline{\quad}$

g) O dobro de 6 é $\underline{\quad} \times \underline{\quad} = \underline{\quad}$

h) O dobro de 3 é $\underline{\quad} \times \underline{\quad} = \underline{\quad}$

i) O dobro de 8 é $\underline{\quad} \times \underline{\quad} = \underline{\quad}$

E.M "ZENI SOARES RAMALHO"

CIÊNCIAS

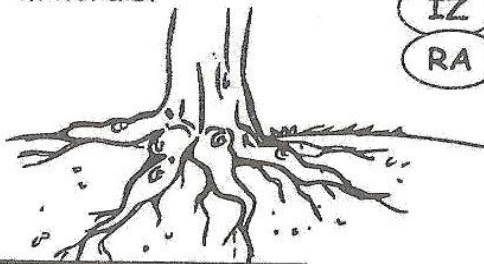
AS PLANTAS

► Partes das plantas

► Descubra as partes e escreva.



❖ Fixa a planta no solo. Também retira da terra água e sais minerais.



IZ
RA

.....


❖ Sustenta os galhos com as folhas, flores e os frutos.



LE
CAU

.....


❖ São responsáveis pela reprodução de muitas plantas. São elas que originam os frutos.



RES
FLO

.....

❖ Contêm as sementes, que darão origem a outras plantas.



TOS
FRU

.....

❖ Por elas as plantas respiram.



LHAS
FO

.....

<https://2.bp.blogspot.com/>

[YcEsiH6LWNk/WtI8B20KBxI/AAAAAAAAAKTc/dwTxZNIh2mclmB0UgC4ExiSYFCHkIV4wCEwYBhgL/s1600/](https://2.bp.blogspot.com/-YcEsiH6LWNk/WtI8B20KBxI/AAAAAAAAAKTc/dwTxZNIh2mclmB0UgC4ExiSYFCHkIV4wCEwYBhgL/s1600/)


[7.bmp](#)




Língua Portuguesa

Aprendendo Gramática



► Acentuação gráfica

 Este sinal chama-se **acento agudo**.
O **acento agudo** indica que a vogal é **tônica**.
Também indica **som aberto** nas vogais **e - o**.

 Este sinal chama-se **acento circunflexo**.
O **acento circunflexo** indica que a vogal é **tônica**. Também indica **som fechado** nas vogais **e - o**.




❖ **Forme palavras:**

 acento agudo	 acento circunflexo
bri fá ca	pis lá
<input type="text"/>	<input type="text"/>
mi nó do	ré ja ca
<input type="text"/>	<input type="text"/>
na pá gi	pê la ta
<input type="text"/>	<input type="text"/>
fé ca	gi co má
<input type="text"/>	<input type="text"/>
	trô me
	<input type="text"/>
	lâm da pa
	<input type="text"/>
	lên cio si
	<input type="text"/>
	ni co pâ
	<input type="text"/>
	pês go se
	<input type="text"/>
	cô tri
	<input type="text"/>
	nis tê
	<input type="text"/>
	mio pré
	<input type="text"/>

E.M “ZENI SOARES RAMALHO”

ARTES

VAMOS COLORIR OS MASCOTES DAS OLIMPÍADAS.



MIRATOWA

SOMEITY



<https://i.pinimg.com/736x/6d/0d/f3/6d0df37401984849cb67d40a07e34f8c.jpg>

<https://1.bp.blogspot.com/-S-RJR7MnQM/XhT-dDIrDBI/AAAAAAAAgSE/bM6Fy3uKHJ88JXZ5Ox79sdnndmIinLThgCLcBGAsYHQ/s1600/Tokyo%2B2020%2BOlympics%2BMascot%2BColoring%2BPages.jpeg>

E. M “ZENI SOARES RAMALHO”

LÍNGUA PORTUGUESA


ORTOGRAFIA : C OU Ç




TROCANDO O C PELO Ç

1) Troque o c pelo ç, descubra outras palavras e, depois, separe-as em sílabas. Já comecei.

louca	louça	lou – ça
faca		
peco		
roca		
taca		
coca		
caco		



2) Escreva as frases substituindo os desenhos pelos nomes deles.

a) Papai tomou uma  de vinho.

b) A  estava uma delícia!

c) O  vai ficar no pescoço do .

E. M “ZENI SOARES RAMALHO”

MATEMÁTICA

O DOBRO

Desenhe a quantidade referente ao dobro dos brinquedos:

a) O dobro de 5 carrinhos:

b) O dobro de 6 bolas:

c) O dobro de 4 patins:

d) O dobro do dobro de 2 bonecas:

<https://i.pinimg.com/originals/cf/d8/f8/cfd8f8a971f934b7754483e8c9f93c39.jpg>


E. M "ZENI SOARES RAMALHO"

MATEMÁTICA

O TRIPLO

TRIPLO

Para achar o **TRIPLO** de um número, basta você multiplicar esse número por **3**.



Agora é com você:

O triplo de 2 é $2 \times 3 = 6$

a) O triplo de 4 é $\underline{\quad} \times \underline{\quad} = \underline{\quad}$

b) O triplo de 7 é $\underline{\quad} \times \underline{\quad} = \underline{\quad}$

c) O triplo de 9 é $\underline{\quad} \times \underline{\quad} = \underline{\quad}$

d) O triplo de 1 é $\underline{\quad} \times \underline{\quad} = \underline{\quad}$

e) O triplo de 6 é $\underline{\quad} \times \underline{\quad} = \underline{\quad}$

Ligue os números ao seu triplo:

5

27

8

24

1

3

9

15



<http://3.bp.blogspot.com/>

[uVqqTmD6TO4/T7JVhQJWUqj/AAAAAAAAALg/uPQAMxPq78/s1600/TRIP.jpg](http://3.bp.blogspot.com/uVqqTmD6TO4/T7JVhQJWUqj/AAAAAAAAALg/uPQAMxPq78/s1600/TRIP.jpg)

E.M "ZENI SOARES RAMALHO"

GEOGRAFIA

PAISAGEM NATURAL E PAISAGEM MODIFICADA

1 O QUE FAZ PARTE DA PAISAGEM DO LUGAR ONDE VOCÊ MORA?
PINTE OS QUADRINHOS:

RUAS

PONTE

LOJAS

TÚNEL

RIO

ESTRADA

MONTANHA

ANIMAIS

EDIFÍCIOS

CASAS

LAGO

ÁRVORES

MAR

PRAÇA

PASTO

O QUE TEM MAIS?

() ELEMENTOS DA PAISAGEM NATURAL.

() ELEMENTOS CONSTRUÍDOS PELO HOMEM.

2 PINTA A PAISAGEM:



<https://1.bp.blogspot.com/->

[OqwpmMckBBQ/XhkhVQDKPzI/AAAAAACsHA/CVZsrNcxWlcy_ZMsFiubMm4sSmXQEAgHQLcBGAsYH](https://1.bp.blogspot.com/-OqwpmMckBBQ/XhkhVQDKPzI/AAAAAACsHA/CVZsrNcxWlcy_ZMsFiubMm4sSmXQEAgHQLcBGAsYH)

[Q/s1600/PicsArt_01-10-10.08.48.jpg](https://1.bp.blogspot.com/-OqwpmMckBBQ/XhkhVQDKPzI/AAAAAACsHA/CVZsrNcxWlcy_ZMsFiubMm4sSmXQEAgHQLcBGAsYH/Q/s1600/PicsArt_01-10-10.08.48.jpg)

E.M "ZENI SOARES RAMALHO"

LÍNGUA PORTUGUESA

ORTOGRAFIA :C OU Ç

C OU Ç?

COMPLETE AS PALAVRAS USANDO C OU Ç.

BER__O

__INEMA

DAN__ETERIA

PA__IÊN__IA

OURI__O

BA__IA

__EBOLA

PREGUI__A

A__OUGUE

__EDO

DAN__ARINA

CARRO__A

CAL__ADA

CA__ADOR

COI__E

RE__IBO

PA__OCA

__IDADE

__EVADA

CORA__ÃO

MA__IEIRA

PAR__ERIA

ALMO__O

PO__A

MA__IO

__IPÓ

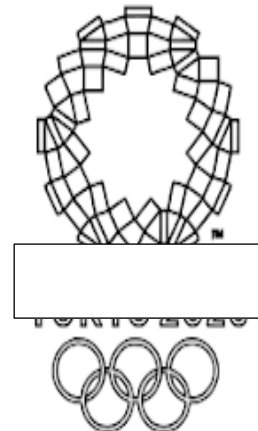
E. M "ZENI SOARES RAMALHO"

HISTÓRIA

CAÇA PALAVRAS

ESPORTES OLÍMPICOS

ENCONTRE AS PALAVRAS ESCRITAS ABAIXO E CONHEÇA
ALGUMAS MODALIDADES DE ESPORTE DAS OLIMPIADAS.



A N M N A T T Ê N I S C
T H A W F U T E B O L A
T A W T E I I B C E H N
R R E E A H I P I S M O
E M I K S Ç R E C R D A
M A S A W G Ã O L A S G
O F A O T O R O I A R E
J U D Ô O L N I S E U M
S N O J A F O D M R G D
E C T E A E R N O A B F
H A N D E B O L B N Y U
T E B A S Q U E T E I A

BASQUETE
CANOAGEM
CICLISMO

ESGRIMA
FUTEBOL
GOLFE

HANDEBOL
HIPISMO
JUDÔ

TAEKWONDO
TRIATLO
TÊNIS

NATAÇÃO
REMO
RUGBY

E.M "ZENI SOARES RAMALHO"

MATEMÁTICA

DOBRO E TRIPLO

Lucinha e Pedro vão fazer brigadeiro, mas acham que uma receita é pouco, então, vão "dobrar" as medidas e fazer duas receitas. Ajude-os a calcular as quantidades de ingredientes que irão precisar para fazer duas ou se preferirem 3 receitas.

BRIGADEIRO

Ingredientes:

- 1 lata de leite condensado
- 2 colheres (sopa) de margarina
- 2 colheres (sopa) de chocolate em pó
- Chocolate granulado para enfeitar



Preparo

Misture os ingredientes (menos o chocolate granulado) numa panela e leve ao fogo baixo mexendo sempre até aparecer o fundo da panela. Espere esfriar. Faça as bolinhas do tamanho que desejar, passe no chocolate granulado e arrume nas forminhas.

Anote na tabela quanto eles vão precisar para fazer as quantidades pedidas.

INGREDIENTES	1 RECEITA	DOBRO	TRIPLO
leite condensado	1 lata		
chocolate em pó	2 colheres (sopa)		
margarina	2 colheres (sopa)		

<http://2.bp.blogspot.com/-4weO6tCdiD4/T4wvWPT7Srl/AAAAAAAAADsg/Knxvm-RaZug/s1600/receita%2B-%2Bdobro%2Be%2Btriplo.JPG>

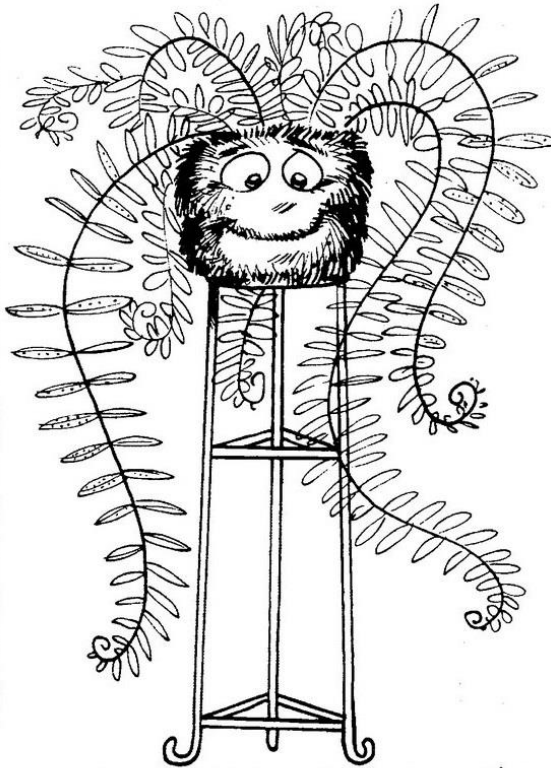
E. M "ZENI SOARES RAMALHO "

CIÊNCIAS

CAÇA-PLANTAS

1) Encontre, no caça-palavras abaixo, o nome de 6 plantas

A	L	F	A	C	E	R	B
V	P	S	F	T	Q	P	E
D	I	Ç	H	P	T	Ç	T
S	N	M	B	Ç	O	X	E
A	H	J	O	R	M	T	R
M	E	G	Q	F	A	L	R
A	I	H	T	L	T	P	A
M	R	L	A	Ç	E	Z	B
B	O	Ç	S	X	I	Ç	A
A	J	P	O	S	R	P	K
I	H	T	P	Z	O	Q	R
A	T	G	R	A	M	A	Ç



2) Agora, coloque as plantas que você encontrou acima em ordem alfabética:

① _____ ④ _____
② _____ ⑤ _____
③ _____ ⑥ _____

3) De acordo com os seus conhecimentos, do que as plantas necessitam para sobreviver?

BETERRABA - TOMATEIRO - GRAMA- ALFACE-
SAMAMBAIA - PINHEIRO

<http://3.bp.blogspot.com/>

[QDkWyTc2608/VhxGeeFEBcl/AAAAAAADno/YNxNPWE66m8/s1600/Digitalizar0183.jpg](http://3.bp.blogspot.com/QDkWyTc2608/VhxGeeFEBcl/AAAAAAADno/YNxNPWE66m8/s1600/Digitalizar0183.jpg)

E. M "ZENI SOARES RAMALHO"

LÍNGUA PORTUGUESA

► **Adjetivo** é a palavra que dá qualidade ao substantivo.



Flávio você é um menino carinhoso, bonito e alegre.



Você Aninha, é linda, elegante e amiga.

- ❖ As palavras: **carinhoso, bonito, alegre, linda elegante e amiga** são adjetivos.
- ❖ O **adjetivo acompanha o substantivo** e nos informa como ele é, podendo vir antes ou depois dele.

Atividades

► As palavras que você irá formar são adjetivos.



NHO RI
CA SO

NI BO TO

GRE LE A



PI DO RÁ

DE GRAN

MI A GA


Marque com um 'x' os adjetivos correspondentes às figuras.



() madura
() feliz
() alto




() gelada
() feliz
() feroz



() nova
() engraçada
() esperta



() feliz
() madura
() antiga



() comprido
() grosso
() maduro



() bonito
() brilhante
() gelado

<https://i2.wp.com/onlinecursosgratuitos.sfo2.digitaloceanspaces.com/2020/01/atividades-com-adjetivos-15.jpg?ssl=1>

<https://www.mundinhodacrianca.net/wp-content/uploads/2018/06/Atividades-sobre-Adjetivos-1.png>

E.M "ZENI SOARES RAMALHO"

ARTES

VAMOS COLORIR?



<https://i.pinimg.com/originals/43/9f/f7/439ff799a30ef5d036253be898f3c8ac.jpg>

E.M "ZENI SOARES RAMALHO"

LÍNGUA PORTUGUESA

PINTE OS ADJETIVOS



www.smartkids.com.br

Pinte o adjetivo mais adequado para cada figura:




CHEIO

BAIXO

CHEIROSA

CHATA

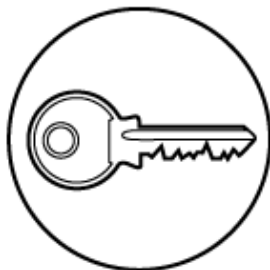


BONITA

VELOZ

GELADO

FINO



PEQUENA

DOCE

© SMARTKIDS

E.M "ZENI SOARES RAMALHO"

MATEMÁTICA

DOBRO E TRIPLO

1. Calcule o que se pede: SIGA O EXEMPLO

O Dobro de:

4 = + =

9 = _____ + _____ = _____

5 = _____ + _____ = _____


7 = _____ + _____ = _____

11 = _____ + _____ = _____

10 = _____ + _____ = _____

15 = _____ + _____ = _____

12 = _____ + _____ = _____



O Triplo de:

3 = _____ + _____ + _____ = _____

6 = _____ + _____ + _____ = _____

8 = _____ + _____ + _____ = _____

5 = _____ + _____ + _____ = _____

9 = _____ + _____ + _____ = _____

10 = _____ + _____ + _____ = _____

12 = _____ + _____ + _____ = _____

20 = _____ + _____ + _____ = _____



2. Preencha os círculos com o dobro do número anterior.

→ → → →

→ → → →

3. Preencha os triângulos com o triplo do anterior.

→ → → →

→ → → →

E. M “ZENI SOARES RAMALHO”

MATEMÁTICA

1) Estou pensando em um numeral...

➤ Procure no quadro os numerais que as crianças estão pensando e escreva-os nos quadros ao lado de cada uma: (1)

999 100
538
327 455

É o **menor** numeral formado por três algarismos.

Fica **entre** o 326 e o 328.

É um número **par** e vem **depois** do 537.

É um número **ímpar** e vem **antes** do 456.

É o **maior** numeral formado por três algarismos.

E. M “ZENI SOARES RAMALHO”


GEOGRAFIA

PAISAGEM NATURAL E PAISAGEM CULTURAL

PAISAGEM NATURAL É AQUELA QUE AINDA NÃO FOI MODIFICADA PELO HOMEM.

PAISAGEM CULTURAL É AQUELA QUE FOI MODIFICADA PELO HOMEM.

1 - Marque um X na paisagem que foi transformada pelo homem para construir uma cidade.



2 - Observe as imagens e marque um X na resposta certa.



Esta paisagem foi feita pela natureza e ela não foi modificada pelo homem. Trata-se de uma paisagem:

- Paisagem Natural
 Paisagem Cultural



Esta paisagem foi modificada pelo homem. Ele derrubou árvores e construiu casas, ruas e prédios. Trata-se de uma paisagem:

- Paisagem Natural
 Paisagem Cultural


<https://image.slidesharecdn.com/avaliaodegeografia-170910233846/95/avaliacao-de-geografia-2-638.jpg?cb=1512000149>

E.M "ZENI SOARES RAMALHO"

LÍNGUA PORTUGUESA

FORMANDO FRASES

PINTE AS IMAGENS E FORME FRASES COM CADA UM DOS DESENHOS:



a	
b	
c	
d	
e	
f	
g	
h	
i	
j	

NÃO ESQUEÇA DO PARÁGRAFO E DA LETRA MAIÚSCULA NO ÍNCIO DE CADA FRASE.

<https://i.pinimg.com/originals/b8/2a/19/b82a1977b353dc44d691c9be3616daf8.jpg>

E.M "ZENI SOARES RAMALHO"

HISTÓRIA

ATIVIDADE SOBRE OLIMPÍADAS

Ligue os desenhos de acordo com os esportes:



NATAÇÃO

BOXE

HIPISMO

REMO

TÊNIS

FUTEBOL

CICLISMO

E.M “ZENI SOARES RAMALHO”

MATEMÁTICA

Complete a tabela escrevendo **1 a menos** e **1 a mais** para cada número em destaque.

1 a menos	número	1 a mais
240	241	242
	216	
	297	
	231	
	259	
	200	
	268	
	272	
	205	
	224	
	283	
	212	

E.M "ZENI SOARES RAMALHO"

CIÊNCIAS

AS PLANTAS COMO ALIMENTO

- ① Cada uma das partes da planta pode nos servir de alimento. Complete o quadro com o que se pede.



Raízes que nos servem de alimentos	CENOURA, _____ _____
Caules que nos servem de alimentos	PALMITO, _____ _____
Folhas que nos servem de alimentos	ALFACE, _____ _____
Flores que nos servem de alimentos	ALCACHOFRA, _____ _____
Frutos que nos servem de alimentos	CAQUI, _____ _____
Sementes que nos servem de alimentos	ARROZ, _____ _____

<https://3.bp.blogspot.com/-YgNzFhdYGcY/WXuhF54UgMI/AAAAAAAAADoU/zFoZRJYnju0UT-ckAV2DnCd6qyZdzm3qwCLcBGAs/s1600/159%2B%252851%2529.jpg>

E. M “ZENI SOARES RAMALHO”

LÍNGUA PORTUGUESA

ERA UMA VEZ...

Complete a história abaixo da maneira que quiser. Seja criativo(a) e abuse da sua imaginação.

Era uma vez _____


que vivia _____

Todos achavam _____

Até que um dia _____

Então, _____

E, assim, todos _____




E. M “ZENI SOARES RAMALHO”

ARTES

CARTÃO PARA O PAPAI

PINTE, DOBRE AO MEIO ESCREVA UMA MENSAGEM E ENTREGUE AO PAPAI.



http://1.bp.blogspot.com/-UJqW0BxaF8/T_4j-mnBxll/AAAAAAAAEOM/TheS-4nnKvs/s1600/PAI+CART%C3%83O.jpg