



Prefeitura da Estância Turística de  
**IBIÚNA**  
TRANSFORMAÇÃO RESPONSÁVEL. CUIDANDO DE PESSOAS.

**SECRETARIA DE EDUCAÇÃO**



E.M. CLÉLIA CARMELO DA SILVA

PROFESSORA MÔNICA

1º ANO B



Mesmo longe, eu  
sei que você  
brilha!!!

ATIVIDADES REFERENTES AOS DIAS

05,06,19,20,21,22,23,26,27,28,29,30/07 E 02,03,04,05,06/08

## LÍNGUA PORTUGUESA

MAMÃE/PAPAI REALIZEM A LEITURA DO POEMA COM SEU FILHO (A) E RESPONDAM AS QUESTÕES.

### **BORBOLETINHAS**

(JOE SILVA)

TRÊS BORBOLETINHAS  
TRISTES QUE DAVAM DÓ  
VOAVAM LIVRES PELO CÉU  
SEMPRE JUNTAS, NUNCA SÓ



NUNCA PUDERAM IR AO MAR  
E ISSO NÃO ERA LEGAL  
POR MAIS QUE BATESSEM AS ASINHAS  
SEMPRE SE DAVAM MAL.

NUMA MANHÃ ENSOLARADA  
SUAS ASAS BATERAM ATÉ CANSAR  
UM SORRISO ELAS ABRIRAM,  
POR NÃO ACREDITAR  
QUE DIANTE DE SEUS OLHOS  
ELAS CONSEGUIAM VER O MAR.



Apenâmio do Professor

COM AJUDA DE UM ADULTO RESPONDA AS QUESTÕES ABAIXO:

1º- PINTE O TÍTULO DO TEXTO?

LARGATIXAS	BORBOLETINHAS	JOANINHAS
------------	---------------	-----------

2º- QUANTAS BORBOLETAS TEM NO TEXTO?

- ( ) UMA BORBOLETA
- ( ) DUAS BORBOLETAS
- ( ) TRÊS BORBOLETAS


3º- COMO ERAM AS BORBOLETAS DO POEMA? PINTE A RESPOSTA CERTA.

FELIZES	TRISTES	CHORONAS
---------	---------	----------

4º- QUAL ERA O SONHO DAS BORBOLETAS?

- ( ) QUERIAM CONHECER O MAR.
- ( ) QUERIAM VOAR.

PINTE AS ASINHAS DA BORBOLETA COM AS CORES PEDIDAS.



VERMELHO



AMARELO



AZUL



LARANJA



VERDE




ROSA



CINZA



ROXO



MARROM

PINTE AS PALAVRAS QUE COMECEM COM A LETRA INICIAL DA PALAVRA **BORBOLETA**.


CAMA	BALA	BOLO	CELULAR	CAVALO
PORTA	PIRULITO	BRINCADEIRA	BEIJO	LÁPIS
CAFÉ	BANANA	AZUL	MACACO	BOLA
BOMBOM	LIVRO	COLORIDO	JOANINHA	BONECA

PINTE O NUMERAL QUE CORRESPONDE A QUANTIDADE DE LETRAS DA PALAVRA ABAIXO.

**BORBOLETA**

8	9	6	7
---	---	---	---

PINTE A LETRA QUE ESTÁ ESCONDIDA NA IMAGEM ABAIXO




QUE LETRA VOCÊ ENCONTROU?

- D    B    G    H    C

FONTE: BLOG ARMÁRIO DO PROFESSOR

## MATEMÁTICA

OBSERVE A IMAGEM A BAIXO E COMPLETE:



A-) QUANTAS FLORES? \_\_\_\_\_


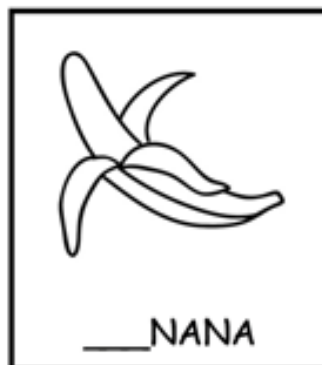
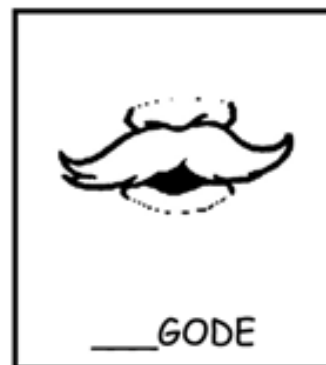

B-) QUANTAS BORBOLETAS? \_\_\_\_\_

C-) QUANTAS FOLHAS? \_\_\_\_\_

# LÍNGUA PORTUGUESA

COMPLETE AS PALAVRAS ABAIXO COM AS SÍLABAS QUE ESTÃO FALTANDO.

BA- BE- BI- BO- BU





## ARTES

DESENHE UMA BORBOLETA, VOCÊ PODERÁ ENFEITÁ-LA IGUAL A DA FIGURA, USE A CRIATIVIDADE E OS MATERIAS QUE PREFERIR. NÃO ESQUEÇA DE TIRAR UMA FOTO E POSTAR EM NOSSO GRUPO NO WHATSAPP.



## MATEMÁTICA

RESOLVA AS SUBTRAÇÕES:

$$\begin{array}{r} 6 \\ - 3 \\ \hline \end{array}$$

$$\begin{array}{r} 8 \\ - 4 \\ \hline \end{array}$$

$$\begin{array}{r} 3 \\ - 2 \\ \hline \end{array}$$

$$\begin{array}{r} 7 \\ - 1 \\ \hline \end{array}$$

$$\begin{array}{r} 9 \\ - 2 \\ \hline \end{array}$$

$$\begin{array}{r} 8 \\ - 3 \\ \hline \end{array}$$

$$\begin{array}{r} 5 \\ - 1 \\ \hline \end{array}$$

$$\begin{array}{r} 9 \\ - 8 \\ \hline \end{array}$$

$$\begin{array}{r} 8 \\ - 7 \\ \hline \end{array}$$

$$\begin{array}{r} 6 \\ - 4 \\ \hline \end{array}$$

$$\begin{array}{r} 6 \\ - 1 \\ \hline \end{array}$$

$$\begin{array}{r} 9 \\ - 5 \\ \hline \end{array}$$



RESOLVA AS ADIÇÕES:

$$\begin{array}{r} 6 \\ + 1 \\ \hline \end{array}$$

$$\begin{array}{r} 2 \\ + 8 \\ \hline \end{array}$$

$$\begin{array}{r} 5 \\ + 5 \\ \hline \end{array}$$

$$\begin{array}{r} 1 \\ + 1 \\ \hline \end{array}$$

$$\begin{array}{r} 9 \\ + 4 \\ \hline \end{array}$$

$$\begin{array}{r} 5 \\ + 9 \\ \hline \end{array}$$

$$\begin{array}{r} 2 \\ + 3 \\ \hline \end{array}$$

$$\begin{array}{r} 1 \\ + 7 \\ \hline \end{array}$$

$$\begin{array}{r} 1 \\ + 4 \\ \hline \end{array}$$

$$\begin{array}{r} 5 \\ + 6 \\ \hline \end{array}$$


$$\begin{array}{r} 2 \\ + 1 \\ \hline \end{array}$$

$$\begin{array}{r} 1 \\ + 3 \\ \hline \end{array}$$



## GEOGRAFIA

# VOCÊS CONHECEM ESSES ESPAÇOS?



TODA CIDADE ESTÁ DIVIDIDA EM ESPAÇOS PÚBLICOS E PRIVADOS.

**ESPAÇOS PÚBLICOS** SÃO AQUELES DE USO COMUM E QUE PERTENCEM A TODA POPULAÇÃO. SÃO EXEMPLOS DE ESPAÇOS PÚBLICOS, PRAÇAS, PRÉDIOS PÚBLICOS, HOSPITAL PÚBLICO, RUAS E ETC.

**ESPAÇOS PRIVADOS** SÃO AQUELES ADMINISTRADOS, MANTIDOS, PRESERVADOS E ORGANIZADO PELOS SEUS PROPRIETÁRIOS. SÃO EXEMPLOS DE ESPAÇOS PRIVADOS, BANCO, CINEMA, SHOPPING CENTER, ESTABELECIMENTOS COMERCIAIS E ETC.

AGORA É COM VOCÊ! OBSERVE OS ESPAÇOS QUE APARECEM ABAIXO E MARQUE COM UM X DE ACORDO COM A CARACTERÍSTICA **ESPAÇO PÚBLICO OU ESPAÇO PRIVADO**. EU FIZ O PRIMEIRO E VOCÊ CONTINUA.

 <p><input checked="" type="checkbox"/> PÚBLICO      <input type="checkbox"/> PRIVADO</p>	 <p><input type="checkbox"/> PÚBLICO      <input type="checkbox"/> PRIVADO</p>
 <p><input type="checkbox"/> PÚBLICO      <input type="checkbox"/> PRIVADO</p>	 <p><input type="checkbox"/> PÚBLICO      <input type="checkbox"/> PRIVADO</p>
 <p><input type="checkbox"/> PÚBLICO      <input type="checkbox"/> PRIVADO</p>	 <p><input type="checkbox"/> PÚBLICO      <input type="checkbox"/> PRIVADO</p>
 <p><input type="checkbox"/> PÚBLICO      <input type="checkbox"/> PRIVADO</p>	 <p><input type="checkbox"/> PÚBLICO      <input type="checkbox"/> PRIVADO</p>

## HISTÓRIA

ASSISTA O VÍDEO DA TURMA DA MÔNICA BRINCANDO DE CASINHA DISPONÍVEL NO YOUTUBE <https://youtu.be/deIRZNV3X8>



GRAVE UM ÁUDIO NO GRUPO DO WHATSAPP FALANDO O QUE ACHOU DO VÍDEO.

RESPONDA:

1º- VOCÊ ACHA IMPORTANTE A AJUDA DE TODOS NAS ATIVIDADES DE CASA?

( ) SIM

( ) NÃO

2º- VOCÊ AJUDA SEUS PAIS REALIZANDO ALGUM TIPO DE ATIVIDADE EM CASA?

( ) SIM

( ) NÃO

## CIÊNCIAS

O DIA PODE SER DIVIDIDO EM DIFERENTES PERÍODOS:



OBSERVE AS ILUSTRAÇÕES ACIMA, DEPOIS MARQUE COM UM X A ALTERNATIVA CORRETA.

A-) NO PERÍODO DA MANHÃ, O MENINO:

- ( ) ACORDOU
- ( ) BRINCOU
- ( ) TOMOU BANHO

B-) NO PERÍODO DA TARDE, O MENINO:


- ( ) ESTUDOU
- ( ) ACORDOU
- ( ) ALMOÇOU

C-) NO PERÍODO DA NOITE, O MENINO:

- ( ) ALMOÇOU
- ( ) FOI DORMIR
- ( ) TOMOU BANHO

# MATEMÁTICA

## FAMÍLIA NUMÉRICA 80 E 90



80+0=

80+1=

80+2=

80+3=

80+4=


80+5=

80+6=

80+7=

80+8=

80+9=



90+0=

90+1=

90+2=

90+3=

90+4=

90+5=

90+6=

90+7=

90+8=

90+9=



## LÍNGUA PORTUGUESA

1) Escreva, nos círculos, os numerais de 1 a 4 de acordo com os acontecimentos da história.




## MATEMÁTICA

AS QUATRO FORMAS GEOMÉTRICAS BÁSICAS SÃO:



CÍRCULO



QUADRADO




RETÂNGULO



TRIÂNGULO

NA PRÓXIMA FOLHA FAÇA UM DESENHO USANDO AS FORMAS GEOMÉTRICAS E PINTE BEM COLORIDO.

EXEMPLOS:



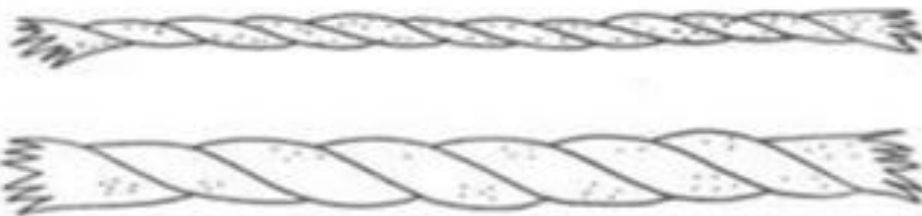
FAÇA O SEU DESENHO NESTE ESPAÇO UTILIZANDO AS FORMAS GEOMÉTRICAS. NÃO ESQUEÇA DE COLORIR.

## MATEMÁTICA

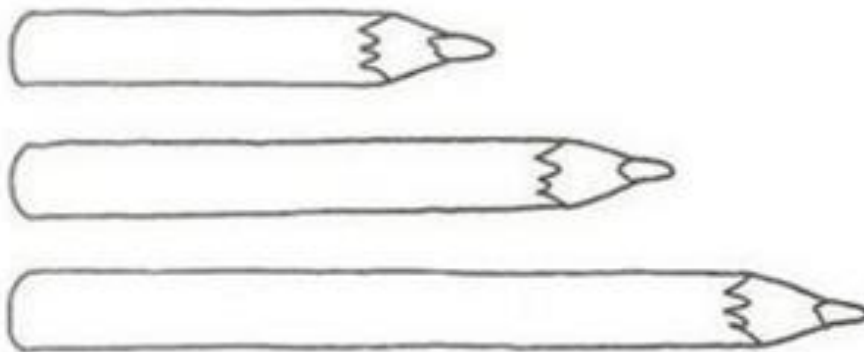
- PINTE DE AZUL A VELA FINA.



- PINTE DE MARROM A CORDA GROSSA.




- PINTE DE AMARELO O LÁPIS CURTO
- PINTE DE VERDE O LÁPIS COMPRIDO.



## LÍNGUA PORTUGUESA

LEIA E PINTE A FIGURA DE ACORDO COM A FRASE:


**EU SOU A MAÇÃ.**



**EU SOU O SINO.**



**EU SOU A TOMADA.**

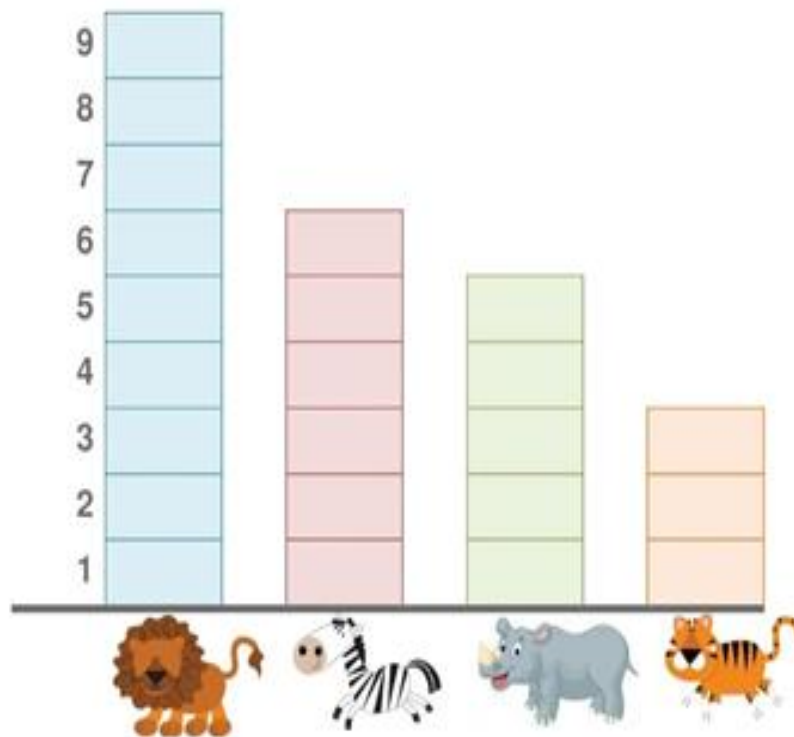


**EU SOU A PIPA.**



# MATEMÁTICA

- OBSERVE O GRÁFICO QUE MOSTRA OS VOTOS QUE ALGUNS ANIMAIS SELVAGENS RECEBERAM E FAÇA O QUE SE PEDE:



1) QUAL ANIMAL TEVE MAIS VOTOS?



2) QUAL ANIMAL TEVE MENOS VOTOS?



3) QUAL ANIMAL TEVE 6 VOTOS?



4) QUAL ANIMAL VOCÊ MAIS GOSTA?



## LÍNGUA PORTUGUESA

COM AJUDA DE UM ADULTO LEIA A PARLENDIA ABAIXO, COM UM LÁPIS COLORIDO CIRCULE TODAS AS PALAVRAS QUE COMEÇAM COM A LETRA C.

# CORRE CUTIA

CORRE CUTIA  
NA CASA DA TIA  
CORRE CIPÓ  
NA CASA DA VÓ  
LENCINHO BRANCO  
CAIU NO CHÃO  
MOÇA BONITA  
DO MEU CORAÇÃO



ESCREVA O NOME DAS FIGURAS E PROCURE AS NO CAÇA PALAVRAS.



CAÇA-PALAVRAS

H	C	U	T	I	A	Y	R	D	S
X	S	R	C	A	S	A	X	W	T
T	I	A	S	D	F	G	O	Q	X
Y	H	Q	A	V	Ó	H	V	F	Y
R	D	F	X	S	R	C	I	P	Ó



# MATEMÁTICA



**VAMOS RESOLVER AS SUBTRAÇÕES.**

$$\begin{array}{r} 4 \\ - 3 \\ \hline \end{array}$$

$$\begin{array}{r} 7 \\ - 2 \\ \hline \end{array}$$

$$\begin{array}{r} 9 \\ - 6 \\ \hline \end{array}$$

$$\begin{array}{r} 8 \\ - 4 \\ \hline \end{array}$$

$$\begin{array}{r} 6 \\ - 2 \\ \hline \end{array}$$

$$\begin{array}{r} 7 \\ - 6 \\ \hline \end{array}$$

$$\begin{array}{r} 3 \\ - 1 \\ \hline \end{array}$$

$$\begin{array}{r} 5 \\ - 4 \\ \hline \end{array}$$

$$\begin{array}{r} 8 \\ - 1 \\ \hline \end{array}$$

$$\begin{array}{r} 6 \\ - 4 \\ \hline \end{array}$$

$$\begin{array}{r} 7 \\ - 3 \\ \hline \end{array}$$

$$\begin{array}{r} 9 \\ - 5 \\ \hline \end{array}$$



## LÍNGUA PORTUGUESA

FAÇA UM X NO NOME DA FIGURA:



- CUTIA
- COTA
- CUECA



- CAMA
- CASACO
- CASA



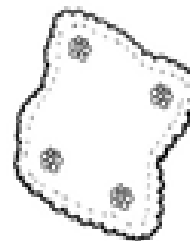
- TEIA
- TICO
- TIA



- CINEMA
- CIPÓ
- CAFÉ



- AVÓ
- AVE
- ANEL



- LENCINHO
- LACINHO
- LANCHE



- CÃO
- CHÃO
- ANÃO



- COLCHÃO
- CORAL
- CORAÇÃO

## MATEMÁTICA

RESOLVA AS ADIÇÕES.

$$\begin{array}{r} 2 \\ + 7 \\ \hline \end{array}$$

$$\begin{array}{r} 7 \\ + 4 \\ \hline \end{array}$$

$$\begin{array}{r} 5 \\ + 7 \\ \hline \end{array}$$

$$\begin{array}{r} 9 \\ + 1 \\ \hline \end{array}$$

$$\begin{array}{r} 3 \\ + 4 \\ \hline \end{array}$$

$$\begin{array}{r} 5 \\ + 3 \\ \hline \end{array}$$

$$\begin{array}{r} 7 \\ + 5 \\ \hline \end{array}$$

$$\begin{array}{r} 5 \\ + 7 \\ \hline \end{array}$$

$$\begin{array}{r} 4 \\ + 6 \\ \hline \end{array}$$

$$\begin{array}{r} 6 \\ + 6 \\ \hline \end{array}$$

$$\begin{array}{r} 6 \\ + 5 \\ \hline \end{array}$$

$$\begin{array}{r} 3 \\ + 6 \\ \hline \end{array}$$



## CIÊNCIAS

EM QUE PERÍODO DO DIA VOCÊ REALIZA ESSAS ATIVIDADES?



BRINCAR

MANHÃ.

TARDE.

NOITE.



DORMIR

MANHÃ.

TARDE.

NOITE.



ESTUDAR





MANHÃ.

TARDE.

NOITE.

## GEOGRAFIA

FAÇA UM X NAS CENAS QUE MOSTRAM PESSOAS UTILIZANDO O ESPAÇO PÚBLICO.



## HISTÓRIA

PINTE AS CENAS QUE MOSTRAM COMO VOCÊ AJUDA EM CASA.



# MATEMÁTICA

COMPLETE O CALENDÁRIO DO MÊS DE AGOSTO

## AGOSTO - 2021




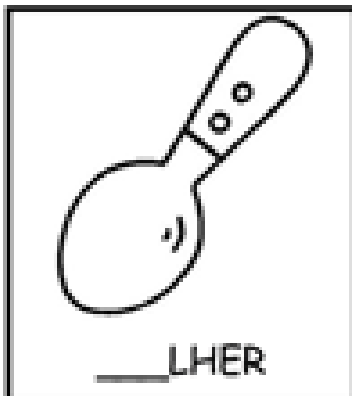






22/08 - DIA DO FOLCLORE

D	S	T	Q	Q	S	S
1	2	3		5	6	7
	9	10		12	13	
15	16		18		20	21
	23	24	25		27	28
29		31				

## LÍNGUA PORTUGUESA

COMPLETE COM AS SÍLABAS QUE ESTÃO FALTANDO.

CA- CO- CU





# MATEMÁTICA

1. TEMOS DUAS MÃOS, A ESQUERDA E A DIREITA. A MÃO ESQUERDA FICA DO LADO DO CORAÇÃO E A MÃO DIREITA DO LADO OPOSTO. OBSERVE E PINTE-AS UTILIZANDO A COR QUE MAIS SE PARECE COM A DA SUA PELE.



ESQUERDA



DIREITA

2. OBSERVE A CARTEIRA DO MARCELO. FIQUE NA MESMA POSIÇÃO QUE ELE, E ESCREVA ADEQUADAMENTE NOS ESPAÇOS EM BRANCO **DIREITA** E **ESQUERDA**.



3. AGORA RESPONDA:

- QUANTOS OBJETOS ESTÃO NO LADO ESQUERDO?
- QUANTOS OBJETOS ESTÃO NO LADO DIREITO?
- PINTE DE AZUL O MATERIAL QUE ESTÁ NA FRENTE.

# LÍNGUA PORTUGUESA




VAMOS BRINCAR DE CAÇA-PALAVRAS?



BALÃO

BEBÊ



BICICLETA

BONECA

BURRINHO

A	T	D	B	A	L	Ã	O	E	U
G	V	I	J	W	L	B	E	B	Ê
B	I	C	I	C	L	E	T	A	M
N	X	B	O	N	E	C	A	P	Y
R	B	U	R	R	I	N	H	O	Z




VAMOS BRINCAR DE CAÇA-PALAVRAS?



CAVALO



CELULAR



CINEMA



COELHO



CUECA

B	Z	C	A	V	A	L	O	E	U
G	V	I	C	E	L	U	L	A	R
C	I	N	E	M	A	R	K	D	M
N	C	O	E	L	H	O	V	P	Y
R	A	G	I	C	U	E	C	A	L