



Prefeitura da Estância Turística de
IBIÚNA



E.M “JOSÉ GABRIEL MACHADO”

2º ANO B

PROFESSORA:

PATRÍCIA MACHADO.



APOSTILA DE ATIVIDADES REMOTAS Nº 8

PERÍODO DE: 05/07 A 06/08

NOME:

NOME: _____

DOMINGO	SEGUNDA - FEIRA	TERÇA - FEIRA	QUARTA - FEIRA	QUINTA - FEIRA	SEXTA - FEIRA	SÁBADO					
JANEIRO	FEVEREIRO	MARÇO	ABRIL	MAIO	JUNHO	JULHO	AGOSTO	SETEMBRO	OUTUBRO	NOVEMBRO	DEZEMBRO

 Vamos treinar a letra cursiva.

Alfabeto cursivo maiúsculo.

A B C D E F G H I

J K L M N O P Q


R S T U V W X Y Z

Vogais maiúsculas.

A E I O U

www.amazonsina.com.br




Nome: _____



MATEMÁTICA

- Complete de acordo com o indicado em cada coluna.

ANTES	ENTRE	DEPOIS
<input type="text"/> 40	10 <input type="text"/> 12	20 <input type="text"/>
<input type="text"/> 12	19 <input type="text"/> 21	13 <input type="text"/>
<input type="text"/> 32	51 <input type="text"/> 53	41 <input type="text"/>
<input type="text"/> 51	9 <input type="text"/> 11	30 <input type="text"/>
<input type="text"/> 19	60 <input type="text"/> 62	17 <input type="text"/>
<input type="text"/> 23	59 <input type="text"/> 61	59 <input type="text"/>

NOME: _____

DOMINGO	SEGUNDA-FEIRA	TERÇA-FEIRA	QUARTA-FEIRA	QUINTA-FEIRA	SEXTA-FEIRA	SÁBADO					
JANEIRO	FEVEREIRO	MARÇO	ABRIL	MAIO	JUNHO	JULHO	AGOSTO	SETEMBRO	OUTUBRO	NOVEMBRO	DEZEMBRO

 Vamos treinar a letra cursiva.
Alfabeto cursivo minúsculo.
a b c d e f g h i

j k l m n o p q

r s t u v w x y z

vogais minúsculas.
a e i o u

31

ALUNO: _____

DATA ___/___/___



VAMOS RESOLVER AS SUBTRAÇÕES.

$\begin{array}{r} 2 \\ - 1 \\ \hline \end{array}$	$\begin{array}{r} 9 \\ - 4 \\ \hline \end{array}$	$\begin{array}{r} 5 \\ - 2 \\ \hline \end{array}$	$\begin{array}{r} 6 \\ - 4 \\ \hline \end{array}$
$\begin{array}{r} 8 \\ - 2 \\ \hline \end{array}$	$\begin{array}{r} 9 \\ - 6 \\ \hline \end{array}$	$\begin{array}{r} 4 \\ - 3 \\ \hline \end{array}$	$\begin{array}{r} 7 \\ - 1 \\ \hline \end{array}$
$\begin{array}{r} 9 \\ - 1 \\ \hline \end{array}$	$\begin{array}{r} 8 \\ - 6 \\ \hline \end{array}$		
$\begin{array}{r} 7 \\ - 5 \\ \hline \end{array}$	$\begin{array}{r} 9 \\ - 3 \\ \hline \end{array}$		



TÁ NA HORA DE DORMIR.

TÁ NA HORA DE DORMIR
NÃO ESPERE MAMÃE MANDAR.
UM BOM SONO PRA VOCÊ
E UM ALEGRE DESPERTAR.



(CD. CANTIGAS DE RODA.
GRANDA CULTURAL, pág. 150)

LEIA, CIRCULE E COPIE DO TEXTO A PALAVRA **ALEGRE**.

gra gre gri gro gru

grta grre grri grro grru

GRA GRE GRI GRO GRU

Grta Grre Grri Grro Grru

CIRCULE NAS PALAVRAS AS SÍLABAS COM **GR**.

greve grama gravata grasso

gravata grama GRAMADO

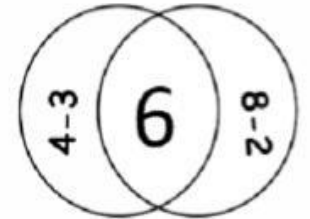
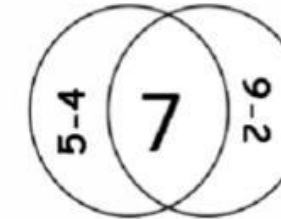
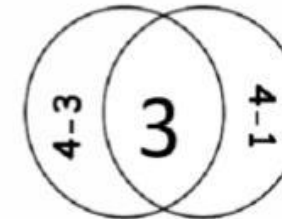
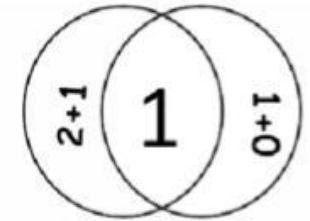
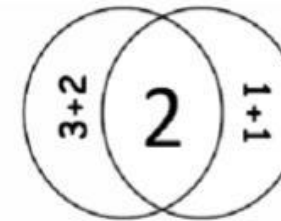
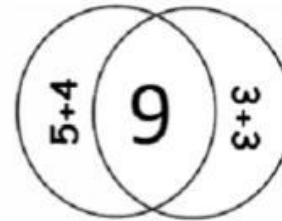
GRÉCIA IGREJA GRUTA

grande grilo GRÊMIO grude

alegria agrião grávida

MATEMÁTICA

PINTE A OPERAÇÃO QUE CORRESPONDE AO RESULTADO.



REALIZE A SOMA E COLOQUE O RESULTADO.

+

$5 + 4 = \square$

+

$6 + 4 = \square$

ALFABETIZAÇÃO

COMPLETE AS FRASES COM OS DESENHOS:

• VOVÓ COMPROU UMA



• PAULO GALOPA NO SEU



• NO AQUÁRIO TEM UM LINDO



• TINA SABE TOCAR

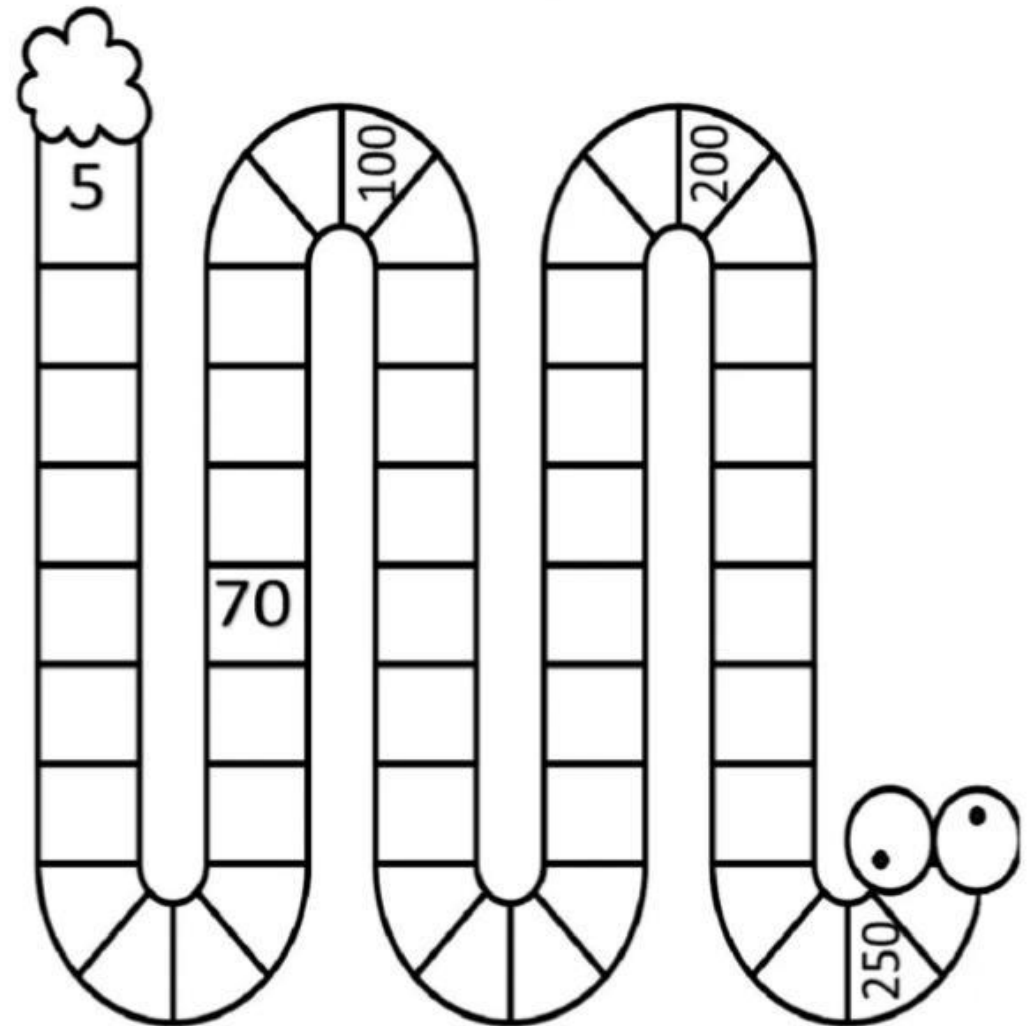


• O NADA NA LAGOA AZUL.



Matemática

Escreva de 5 em 5 até completar a sequência numérica.



CIÊNCIAS

OS ÓRGÃOS DOS SENTIDOS

ATRAVÉS DOS ÓRGÃOS DOS SENTIDOS, DESCOBRIMOS O MUNDO: VENDO, OUVINDO, APALPANDO, CHEIRANDO E PROVANDO.

OUVIDOS - PELE - NARIZ - LÍNGUA - OLHOS

COM OS _____, PAULO ESCUTOU UM BARULHÃO QUE VINHA DA CASA AO LADO.

COM O _____ LIANA SENTIU O CHEIRINHO GOSTOSO QUE VINHA DA COZINHA.

COM A _____ DE SEU CORPO, BRUNO SENTIU O CALOR DO SOL.

COM OS _____, ANA VIU SEUS COLEGAS ENTRAREM NA SALA.

COM A _____, TADEU SENTIU O SABOR DO SORVETE.

QUESTÃO LIGUE CADA ÓRGÃO DO SENTIDO AO QUE ELE NOS PERMITE FAZER:



POSSO TOCAR.



POSSO SENTIR O SABOR.



VISÃO



OLFATO



GUSTAÇÃO



AUDIÇÃO



TATO



POSSO OUVIR.



POSSO VER.



POSSO SENTIR O CHEIRO.

ALFABETIZAÇÃO

COMPLETE AS FRASES:

BELA TEM UMA



1



2



3



4

ESCREVA AS FRASES COMPLETAS:

1 _____

2 _____

3 _____

4 _____

TRAVA-LÍNGUA

"PEDRO TEM O PEITO PRETO,
O PEITO DE PEDRO É PRETO.
QUEM DISSE QUE O PEITO
DE PEDRO NÃO É PRETO
TEM O PEITO MAIS PRETO
DO QUE O PEITO DE PEDRO".



RA - RÉ - RI - RÓ - RUAI LENICE GOMES.
ESTORA BAGAÇO.

CIRCULE NO TRAVA-LÍNGUA AS PALAVRAS
QUE TÊM AS SÍLABAS COM **PR**.

COPIE AS PALAVRAS QUE VOCÊ CIRCULOU.

COPIE.

pra - pre - pri - pro - pru
pra - pre - pri - pro - pru
PRA - PRE - PRI - PRO - PRU
pra - pre - pri - pro - pru




www.onacrescine.com.br

Nome: _____




MATEMÁTICA

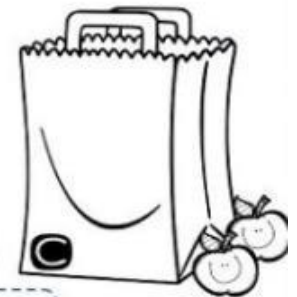
1 - Dentro de cada sacola tem 1 dezena de maçãs.
Somando com as maçãs que estão fora, quantas
ficarão em cada sacola?



MAÇÃS



MAÇÃS




MAÇÃS



MAÇÃS



MAÇÃS




MAÇÃS

ALFABETIZAÇÃO

COMPLETE AS FRASES:

NA FAZENDA TEM



ESCREVA AS FRASES COMPLETAS:

1 _____

2 _____


3 _____





4 _____

NOME _____

SUCCESSOR E ANTECESSOR

1 - COMPLETE O QUADRO COM AS QUANTIDADES.



ANTES	QUANTIDADE	DEPOIS
		
		
		
		

2 - COMPLETE O QUADRO COM OS NÚMEROS.

ANTECESSOR	NÚMERO	SUCCESSOR
	19	
	8	
		15
28		
	40	
49		



ESCOLA: _____ DATA: / /

NOME: _____


tra tre tri tro tru

tra tre tri tro tru

Tra Tre Tri Tro Tru

Tra Tre Tri Tro Tru

três



TRA

TRE

TRI

TRO

TRU

tr

triufo	trator	trave	trambique
tremido	trabalho	trombone	
trompa	três	trufa	tristeza
TRAPÉZIO	trigo	trave	
	trabalhador	atrevida	atrato
trapézio	estrela	TREINAMENTO	

tr

trai _____

tre _____

tri _____

tro _____

tru _____

47

VAMOS RESOLVER AS SUBTRAÇÕES.

6	8	3	7
$- 3$	$- 4$	$- 2$	$- 1$
<hr/>	<hr/>	<hr/>	<hr/>

9	8	5	9
$- 2$	$- 3$	$- 1$	$- 8$
<hr/>	<hr/>	<hr/>	<hr/>

8	6
$- 7$	$- 4$
<hr/>	<hr/>


6	9
$- 1$	$- 5$
<hr/>	<hr/>



GEOGRAFIA

VAMOS LER OS VERSOS ABAIXO:

HÁ DIVERSAS PROFISSÕES
TODAS TÊM O SEU VALOR
O TRABALHO RENDE MUITO
QUANDO É FEITO COM AMOR.




1º) COM A AJUDA DE UM ADULTO FAÇA UMA LISTA DE PROFISSÕES QUE VOCÊ CONHECE E QUE TRABALHAM NO LUGAR ONDE VOCÊ MORA:

2º) E VOCÊ? O QUE QUER SER QUANDO CRESCER?

DESENHE NO ESPAÇO
AO LADO.



- Observe os desenhos do retângulo abaixo e resolva o que se pede:



- Quantos desenhos no retângulo?

- Quantas girafas?


- Quantos pares de patins ao todo?

- Quantos desenhos estão sem par?

- Quantos pares de patins usa a girafa?

* Circule os patins de dois em dois e escreva o número de pares formados.





RECORTE AS FRESES E COLE NAS IMAGENS.

O RATO COME QUEIJO.
A FADA É BONDOSA.
MAGALI ADORA MELANCIA.
O REI USA COROA.

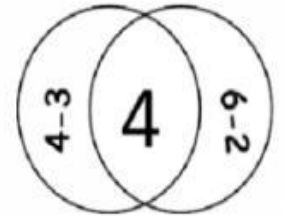
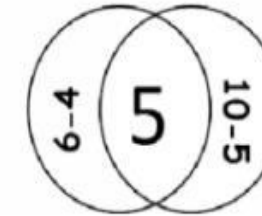
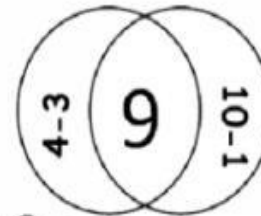
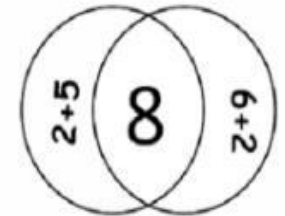
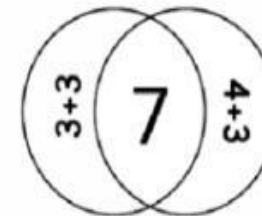
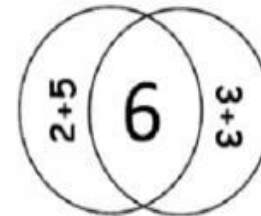
Direitos reservados a página Diário da Tia Mari. Não comercializar.

@diariodatiamari

MATEMÁTICA



PINTE A OPERAÇÃO QUE CORRESPONDE AO RESULTADO.




REALIZE A SOMA E COLOQUE O RESULTADO.

Nome _____

RIMAS

LIGUE ABAIXO AS PALAVRAS QUE RIMAM.

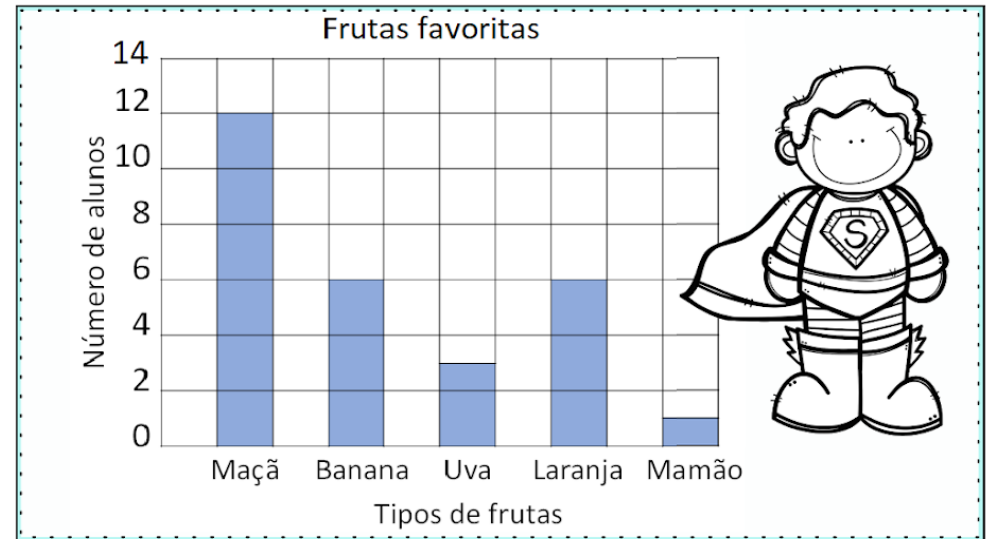
BAÚ	PETECA
BONECA	CARRETEL
SOMBRINHA	NOTAS
LOVAS	MAR
ANEL	UVAS
COLAR	URUBU
BOTAS	JOANINHA



@Atividades Suzaninho

Trabalhando com gráfico

Um gráfico de colunas usa colunas para mostrar dados. Observe as informações no gráfico e em seguida circule as respostas corretas.



1 - Quantas crianças gostam mais de maçãs do que de uvas?

12 4 9

2 - Quantas crianças gostam de maçãs e bananas?

20 18 8

3 - Quantas crianças gostam de laranjas?


1 6 3

4 - Qual fruta é a favorita de apenas uma criança?

Uva Mamão Maçã

FESTA DO PAPAÍ

Elly Liras



PARA O MEU PAPAÍ AMADO,
UM PRESENTE FUI COMPRAR.
MAS, NA LOJA NÃO HAVIA
O AMOR QUE QUERO DAR!

_ ESCUTE PAPAÍ DO CÉU
O PEDIDO QUE LHE FIZ:
AO MEU PAPAÍ DÊ SAÚDE
E UMA VIDA FELIZ!

1- ESTA É A FAMÍLIA DO JOÃO, ELE ESTÁ MUITO FELIZ COM A CHEGADA DA SUA IRMÃZINHA.

2- A FAMÍLIA DO JOÃO
TEM QUANTOS MEMBROS?



2- E VOCÊ, COMO É A SUA FAMÍLIA? QUEREMOS CONHECÊ-LA.

NOME DO SEU PAI: _____

NOME DA SUA MÃE: _____

VOCÊ TEM IRMÃOS? _____ QUANTOS? _____

OS NOMES DELES: _____


SUA FAMÍLIA É COMPOSTA POR QUANTOS MEMBROS?

ATIVIDADES

1- COMPLETE:

- NOME DA POESIA:.....

- O PRESENTE ERA PARA O



2- MARQUE A RESPOSTA CORRETA:
ESTA POESIA TEM QUANTAS ESTROFES?


3 1 2

- ELA TEM QUANTOS VERSOS?


6 8 7





3- CIRCULE TODAS AS RIMAS DA POESIA.

AGORA COMPLETE:

COMPRAR → 

FELIZ →




			
<input type="text"/>	<input type="text"/>	<input type="text"/>	<input type="text"/>

QUAL PEÇA DE ROUPA O PAPAI TEM MAIS? _____

QUAL PEÇA DE ROUPA O PAPAI TEM MENOS? _____

NOME: _____

DATA: ____/____/____

 @damieducar


BILHETE


LEIA O BILHETE E DEPOIS ESCREVA OUTRO PARA O PAPAÍ.

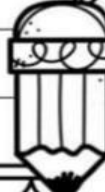
FILHO

FUI AO TRABALHO MAIS CEDO HOJE. SÓ VENHO PARA O JANTAR. QUALQUER COISA ME LIGA!

BEIJOS
PAPAI CARLOS
02/07/2016








NOME: _____


DATA: ____/____/____

 @damieducar

BUSCANDO INFORMAÇÕES

LEITURA:

MEU PAI



MEU PAI CHAMA JOSÉ ANTÔNIO . ELE TEM 30 ANOS DE IDADE E FAZ ANIVERSÁRIO DIA 23 DE AGOSTO.


QUANDO ELE ERA PEQUENO APRENDEU A CONSERTAR MÓVEIS COM MEU AVÔ

HOJE ELE TRABALHA NA FÁBRICA DE MÓVEIS . E JÁ FAZ 10 ANOS.

TODOS OS DIAS ELE LEVANTA ÀS 6:00 H DA MANHÃ E VAI TRABALHAR E ME LEVA PARA A ESCOLA.

EU TENHO MUITO ORGULHO DELE, POIS QUANDO CRESCER QUERO SER IGUAL À ELE.

2. NO TEXTO PROCURE OS NÚMEROS REFERENTES E RESPONDA:

 IDADE	HORÁRIO	DATA DE ANIVERSARIO	TEMPO DE TRABALHO

© www.damieducar.com.br

AMOR! PREENCHA A CRUZADINHA COM OS NOMES DOS OBJETOS QUE O PAPAÍ USA.

CRUZADINHA DO PAPAÍ

- 1-ELE USA TODO O DIA NO PULSO.
- 2-É GRANDE, TEM 4 RODAS E SÓ FUNCIONA COM COMBUSTÍVEL.
- 3-LOCAL ONDE ELE GUARDA O DINHEIRO.
- 4-É FORMADO DE 2 E VIVE ANDANDO NO CHÃO.
- 5-LOCAL ONDE ELE GUARDA AS CHAVES.
- 6-ELE USA NOS DIAS DE MUITO SOL.




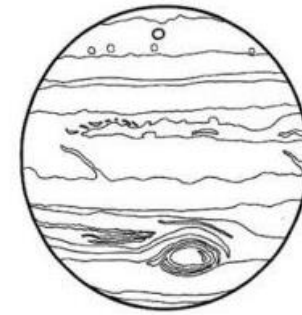
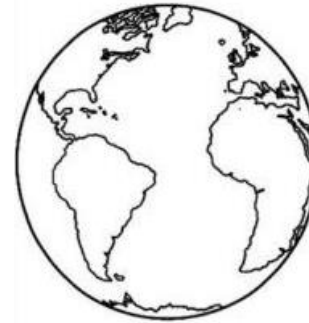
1-							
2-							
3-							
4-							
5-							
6-							

(RELÓGIO - CARRO - CARTEIRA - SAPATO - CHAVEIRO - ÓCULOS)

AGORA, ESCREVA TRÊS FRASES SOBRE O PAPAÍ COM PALAVRAS DA CRUZADINHA.

NOSSO PLANETA

1 - PINTO O DESENHO QUE REPRESENTA NOSSO PLANETA.



2 - OBSERVANDO OS PLANETAS ACIMA, VOCÊ PODE DIZER QUE TODOS ELES SÃO:


- TRIANGULARES
- QUADRADOS
- ARREDONDADOS
- RETANGULARES





**PAPAI,
VOCÊ É
MEU NÚMERO 1**

**EU TE AMO
PORQUE
VOCÊ...**



Four horizontal lines for writing a message.

**TE AMO
PAI**

A rectangular box for writing a name or message.



DIA DOS PAIS



REFERÊNCIA BIBLIOGRÁFICA:

DIARIODATIAMARI.COM.BR

EDUCAÇÃOETRANSFORMAÇÃO.COM.BR

DANIEDUCAR.COM.BR

AMORENSINA.COM

MISTURADAALEGRIA.COM.BR