



PREFEITURA DA ESTÂNCIA TURÍSTICA DE IBIÚNA
EM PROF. CALIL RAHAL NETO

Rua Projetada, 620 - Capim Azeedo - Ibiúna - SP - Telefone: 3241-5917



8ª. APOSTILA DE ESTUDOS
ATIVIDADES NÃO PRESENCIAIS
3º BIMESTRE



ENSINO FUNDAMENTAL

ALUNO:

PROFESSORA: GABRIELA

TURMA: 5º ANO A

DATA DE DEVOLUÇÃO: 10/08/2021

Nome: _____

Professora: Gabriela

Turma: 5º ano A

Data: 05/07/2021 –

ATIVIDADE

ORIENTAÇÃO PARA REALIZAÇÃO DA ATIVIDADE: O aluno poderá escrever no caderno o título da atividade e a data. Ler a comanda e responder no caderno.

Observe o mapa do Brasil e reponda as questões.



1. Quantos estados compõem a República Federativa do Brasil?

2. Escreva o nome dos Estados que compõem a Região Sul do Brasil.

3. Qual é o estado onde você mora?

Nome: _____

Professora: Gabriela

Turma: 5º ano A

Data: 06/07/2021 –

- LEIA O TEXTO ABAIXO E RESPONDA:

VOCÊ SABIA QUE...

**...É POSSÍVEL SABER SE UM TUCANO É MACHO OU FÊMEA PELO
FORMATO DE SEU BICO?**



É ISSO MESMO!

**O MACHO TEM O BICO MAIS ESTREITO E MENOS CURVO, E A FÊMEA
TEM O BICO MAIS LARGO E MAIS CURVO.**

**FONTE: CADERNOS DE APOIO E APRENDIZAGEM: LÍNGUA PORTUGUESA. SÃO PAULO:
FUNDAÇÃO PADRE ANCHIETA, 2010. SEGUNDO ANO, V. 2.**

1. NO TEXTO, "ESTREITO" QUER DIZER?

- () FINO
- () LONGO
- () CURVO
- () PEQUENO

2. O BICO DO TUCANO MACHO COMPARADO AO DA FÊMEA É MAIS:

- () LARGO
- () CURVO
- () LONGO
- () ESTREITO

EM "Prof. Calil Rahal Neto"

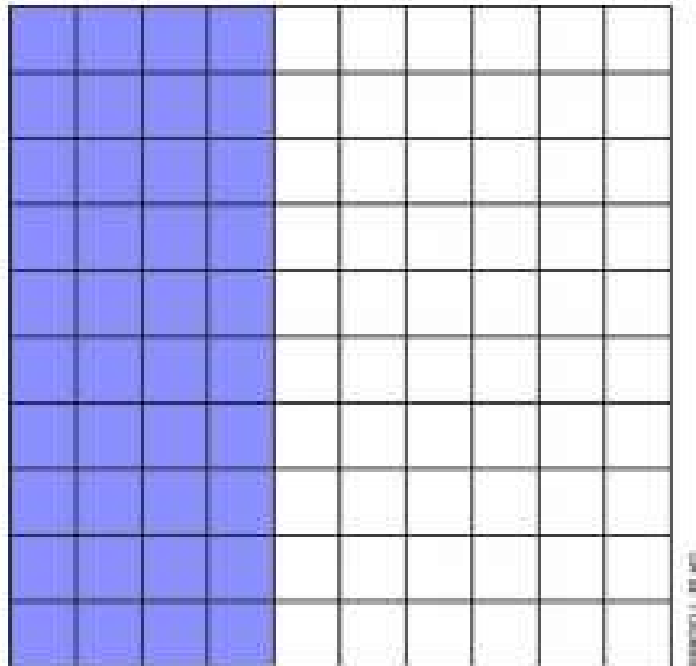
Nome: _____

Professora: Gabriela

Turma: 5º ano A

Data: 19/07/2021 –

A figura a seguir foi dividida em 100 partes iguais.



Marque com um X a alternativa que mostra a fração que representa a parte pintada na figura.

$\frac{40}{100}$

$\frac{100}{40}$

$\frac{50}{100}$

$\frac{40}{1000}$

Nome: _____

Professora: Gabriela

Turma: 5º ano A

Data: 20/07/2021 –

SEPARAÇÃO DE MISTURAS



A natureza, os produtos que adquirimos, os materiais confeccionados pelo ser humano, ou seja, de uma forma geral nós e tudo que nos cerca é formado por misturas (associação de substâncias). Para utilizarmos uma substância qualquer é fundamental realizar a separação de misturas.

Separação de misturas significa isolar um ou mais componentes (substâncias) que formam a mistura, seja ela homogênea (que apresenta apenas um aspecto visual, fase) ou heterogênea (que apresenta pelo menos dois aspectos visuais, fases).

<https://brasilescola.uol.com.br/quimica/separacao-misturas.htm> (fragmento)

O café é uma bebida típica no Brasil e os brasileiros têm o hábito de tomar essa bebida no café da manhã ou mesmo ao longo do dia. Muitas vezes é consumido puro, mas também pode ser consumido com leite.

Para preparar um cafezinho, basta adicionar água quente ao pó de café. Assim, temos pronto um delicioso e cheiroso café!



A bebida feita com café em pó e água quente é um(a):

- (A) substância pura.
- (B) mistura.
- (C) solvente.

Nome: _____

Professora: Gabriela

Turma: 5º ano A


Data: 21/07/2021 –

SITUAÇÃO-PROBLEMA

1. ARMANDO É SORVETEIRO. NO FINAL DO DIA ELE HAVIA VENDIDO 138 SORVETES E AINDA RESTAVAM 13 SORVETES. QANTOS SORVETES ELE TINHA NO INÍCIO DO DIA?



2. A MASSA DE UM URSO-POLAR MACHO É 529 QUILOGRAMAS, E A DE UMA FÊMEA É 297 QUILOGRAMAS. QUANTOS QUILOGRAMAS OS DOIS TÊM JUNTOS?



3. MARIA FOI AO SUPERMERCADO E GASTOU 18 REAIS NAS COMPRAS. DESENHE ABAIXO AS CÉDULAS E AS MOEDAS QUE ELA RECEBERÁ DE TROCO SE PAGAR ESSA QUANTIA COM:

- a) UMA CÉDULA DE 20 REAIS.
- b) UMA CÉDULA DE 50 REAIS.

Nome: _____

Professora: Gabriela

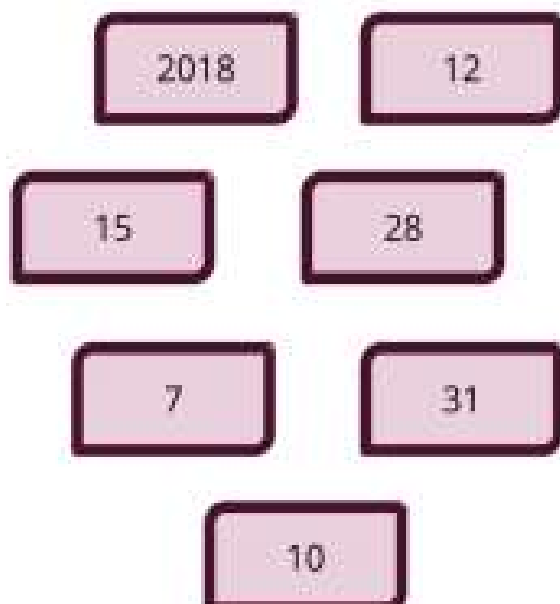
Turma: 5º ano A

Data: 22/07/2021 –

GRANDEZAS E MEDIDAS INTERVALO DE TEMPO/CALENDÁRIO

MEDIDA É A AÇÃO E O EFEITO DE MEDIR (COMPARAR UMA QUANTIDADE COM A SUA UNIDADE OU ALGO NÃO MATERIAL COM OUTRA COISA; MODERAR AS AÇÕES OU AS PALAVRAS). PODE-SE TRATAR, POR CONSEQUENTE, DO RESULTADO DE UMA MEDIÇÃO.

MARIA RECORTOU ALGUNS NÚMEROS PARA COMPLETAR O CARTAZ ABAIXO. AJUDE MARIA A FAZER ISSO.



CALENDÁRIO

- a) O ANO COMPLETO TEM ____ MESES.
- b) O MÊS PODE TER ENTRE ____ E ____ DIAS.
- c) O MÊS É DIVIDIDO EM SEMANAS E CADA SEMANA TEM ____ DIAS.

Nome: _____

Professora: Gabriela

Turma: 5º ano A

Data: 23/07/2021 –

JOGOS OLÍMPICOS

A QUATRO ANOS, ATLETAS DE CENTENAS DE PAÍSES SE REÚNEM NUM PAÍS SEDE PARA DISPUTAREM UM CONJUNTO DE MODALIDADES ESPORTIVAS. A PRÓPRIA BANDEIRA OLÍMPICA REPRESENTA ESSA UNIÃO DE POVOS E RAÇAS, POIS É FORMADA POR CINCO ANÉIS ENTRELAÇADOS, REPRESENTANDO OS CINCO CONTINENTES E SUAS CORES. A PAZ, A AMIZADE E O BOM RELACIONAMENTO ENTRE OS POVOS SÃO OS PRINCÍPIOS DOS JOGOS OLÍMPICOS.

ORIGEM DOS JOGOS OLÍMPICOS

FORAM OS GREGOS QUE CRIARAM OS JOGOS OLÍMPICOS. POR VOLTA DE 2500 A.C. OS GREGOS JÁ FAZIAM HOMENAGENS AOS DEUSES, PRINCIPALMENTE ZEUS, COM REALIZAÇÃO DE COMPETIÇÕES. PORÉM, FOI SOMENTE EM 776 A.C QUE OCORRERAM PELA PRIMEIRA VEZ OS JOGOS OLÍMPICOS, DE FORMA ORGANIZADA E COM PARTICIPAÇÃO DE ATLETAS DE VÁRIAS CIDADES-ESTADO.

JOGOS OLÍMPICOS DE TÓQUIO

A EDIÇÃO DE 2020 FOI ADIADA PARA O ANO DE 2021, POR CONTA DA PANDEMIA DE CORONAVÍRUS. OS JOGOS ACONTECERÃO EM TÓQUIO, NO JAPÃO, DE 23 DE JULHO À 08 DE AGOSTO.

MIRAITOWA É A MASCOTE OFICIAL DOS JOGOS OLÍMPICOS DE TÓQUIO E SOMEITY É A MASCOTE OFICIAL DOS JOGOS PARALÍMPICOS.



MIRAITOWA



SOMEITY

Nome: _____

Professora: Gabriela

Turma: 5º ano A

Data: 26/07/2021 –

Dia dos Avós - Entrevista

Escolha a Vovó ou o Vovô para ser entrevistada(o):

NOME: _____

DATA DE NASCIMENTO: _____

LOCAL DE NASCIMENTO: _____

ONDE MORA: _____

O QUE GOSTA DE FAZER: _____

O QUE NÃO GOSTA: _____

NO QUE TRABALHA OU JÁ TRABALHOU: _____

QUE LUGAR GOSTARIA DE CONHECER: _____

QUE TIPO DE MÚSICA GOSTA: _____

Nome: _____

Professora: Gabriela

Turma: 5º ano A

Data: 26/07/2021 –

Dia dos Avós - Problemas

Leia os problemas com muita atenção e resolva como preferir. Não se esqueça de dar a resposta completa.

1) No final de semana a vovó fez 262 biscoitinhos para seus netos, só que uma fornada com 136 queimou. Quantos biscoitinhos sobraram para a vovó e seus netinhos?

R: _____

2) A vovó fez deliciosos bolinhos, pela manhã ela assou 123 e à tarde mais 88. Quantos bolinhos ela assou no dia?

R: _____

3) Para fazer brigadeiros a vovó gastou R\$ 23,00. Ela pagou com uma nota de R\$ 50,00. Quanto a vovó recebeu de troco?

R: _____

Nome: _____

Professora: Gabriela

Turma: 5º ano A

Data: 27/07/2021 –

ESPORTES OLÍMPICOS

AO TODO SÃO MODALIDADES ESPORTIVAS QUE SERÃO DISPUTADAS NOS JOGOS OLÍMPICOS DE TÓQUIO. CARATÊ, ESCALADA ESPORTIVA, SKATE E SURFE SERÃO DISPUTADOS PELA PRIMEIRA VEZ NA HISTÓRIA DOS JOGOS. VAMOS CONHECER UM POUCO DAS MODALIDADES QUE FAZEM PARTE DA MAIOR COMPETIÇÃO ESPORTIVA DO MUNDO?

ENCONTRE OS 7 ERROS:



Nome: _____

Professora: Gabriela

Turma: 5º ano A

Data: 27/07/2021 –

ALGUMAS COMPETIÇÕES DE VÁRIOS ESPORTES ACONTECEM EM DIVERSAS PARTES DO MUNDO.



QUANDO UM ESPORTISTA VAI PARTICIPAR DE UMA COMPETIÇÃO QUE NÃO É NO SEU PAÍS, MUITAS VEZES PRECISA DE UM DOCUMENTO CHAMADO PASSAPORTE.

FAÇA O SEU PASSAPORTE:



<p>REPÚBLICA FEDERATIVA DO BRASIL.</p> 	 <p>SOU EU</p> <p>NOME COMPLETO: _____</p> <p>DATA DE NASCIMENTO: _____</p> <p>NACIONALIDADE: _____</p> <p>DATA DE EXPEDIÇÃO: _____</p> <p>ÓRGÃO EXPEDITOR: POLÍCIA FEDERAL.</p> <p>RESPONSÁVEL PELA EXPEDIÇÃO: _____</p>
--	--

AGORA ESCOLHA UM PAÍS QUE DESEJA IR E PREENCHA O TICKET DE VIAGEM ABAIXO:

VIAGENS PELO MUNDO

TICKET DE VIAGEM

NÚMERO DO TICKET	<input type="text"/>	DATA	<input type="text"/>
NÚMERO DO VÔO	<input type="text"/>	HORA DE PARTIDA	<input type="text"/>
NÚMERO DA POLTRONA	<input type="text"/>	TEMPO DE VIAGEM	<input type="text"/>
DE DESTINO	<input type="text"/>		



WORLD-04552-FLIGHT



Nome: _____

Professora: Gabriela

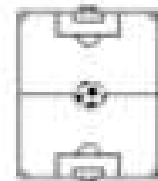
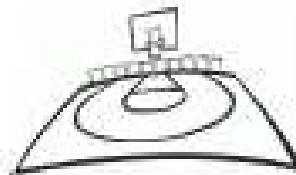
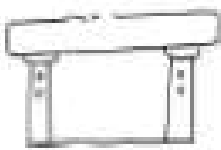
Turma: 5º ano A

Data: 28/07/2021 –

**OS ESPORTES SÃO REALIZADOS EM DIFERENTES
LOCAIS, DE ACORDO COM SUAS CARACTERÍSTICAS.**




LIGUE CADA ESPORTISTA AO LOCAL QUE REALIZA O ESPORTE QUE
PRÁTICA:




NAS RELIGIÕES TAMBÉM TEM VÁRIOS LOCAIS PARA AS PESSOAS SE
REUNIREM:




JUDAICO



ORTODOX



ISLÂMICO



CATÓLICO

EM QUAL LOCAL OCORRE CELEBRAÇÕES DA SUA RELIGIÃO OU ALGUMA
QUE CONHEÇA?



EM "Prof. Calil Rahal Neto"

Nome: _____

Professora: Gabriela

Turma: 5º ano A

Data: 28/07/2021 –

VÁRIOS JOGOS FAZEM PARTE DAS OLIMPIADAS. VAMOS LER O NOME DE ALGUNS DESSES JOGOS:

FUTEBOL

JUDÔ

VÔLEI

NATAÇÃO

1) AGORA COM OS NOMES DOS ESPORTES QUE VOCÊ LEU ACIMA, COMPLETE A CRUZADINHA NOS DESENHOS CORRESPONDENTES DE CADA ESPORTE:

The crossword puzzle grid consists of the following cells:

- Row 1: 6 empty cells.
- Row 2: 1 empty cell, 1 empty cell, 1 empty cell, 1 empty cell, 1 empty cell, 1 empty cell.
- Row 3: 1 empty cell, 1 empty cell, 1 empty cell, 1 empty cell, 1 empty cell, 1 empty cell.
- Row 4: 1 empty cell, 1 empty cell, 1 empty cell, 1 empty cell, 1 empty cell, 1 empty cell.
- Row 5: 1 empty cell, 1 empty cell, 1 empty cell, 1 empty cell, 1 empty cell, 1 empty cell.
- Row 6: 1 empty cell, 1 empty cell, 1 empty cell, 1 empty cell, 1 empty cell, 1 empty cell.
- Row 7: 1 empty cell, 1 empty cell, 1 empty cell, 1 empty cell, 1 empty cell, 1 empty cell.
- Row 8: 1 empty cell, 1 empty cell, 1 empty cell, 1 empty cell, 1 empty cell, 1 empty cell.
- Row 9: 1 empty cell, 1 empty cell, 1 empty cell, 1 empty cell, 1 empty cell, 1 empty cell.
- Row 10: 1 empty cell, 1 empty cell, 1 empty cell, 1 empty cell, 1 empty cell, 1 empty cell.

The illustrations and their corresponding word slots are:

- Judo:** Illustration of two people in a judo hold. An arrow points to the 3rd cell of Row 2.
- Soccer:** Illustration of a soccer player with a ball. An arrow points to the 3rd cell of Row 3.
- Volleyball:** Illustration of a volleyball player. An arrow points to the 3rd cell of Row 4.
- Swimming:** Illustration of a swimmer. An arrow points to the 3rd cell of Row 5.

Nome: _____

Professora: Gabriela

Turma: 5º ano A

Data: 29/07/2021 –

H O R A D A R E C E I T A

- 1 PACOTE DE MACARRÃO
- 5 FOLHAS DE ACELGA
- 1 CENOURA
- 1 CEBOLA
- 1 COUVE FLOR
- 200g DE CARNE DE BOI
- 200g DE FRANGO
- 1 PIMENTÃO
- 1 OVO
- 2 XÍCARAS DE SHOYO
- 1 COLHER DE AÇÚCAR
- SAL A GOSTO



1) NA SEQUÊNCIA NUMÉRICA ABAIXO, PINTE OS NUMERAIS QUE APARECEM NA RECEITA:

0	1	2	3	4	5	6	7	8	9
---	---	---	---	---	---	---	---	---	---

2) ESCREVA O NOME DO ALIMENTO QUE CORRESPONDE AO SUA QUANTIDADE:

01 COLHER _____

5 FOLHAS _____

1 PACOTE _____



VAMOS FAZER UMA PESQUISA DE PREÇOS?

3) PERGUNTE A ALGUM ADULTO QUAL O VALOR DOS ALIMENTOS ABAIXO E REGISTRE:

01 PACOTE DE MACARRÃO

01 PACOTE DE AÇÚCAR

Nome: _____

Professora: Gabriela

Turma: 5º ano A

Data: 29/07/2021 –

ALIMENTAÇÃO SAUDÁVEL

PARA CUIDAR DA NOSSA SAÚDE, PRECISAMOS NOS CUIDAR, E UM DESSSES CUIDADOS É A ALIMENTAÇÃO SAUDÁVEL.

DEVEMOS COMER MAIS ALIMENTOS NATURAIS E MENOS ALIMENTOS INDUSTRIALIZADOS



VAMOS ANALISAR OS ALIMENTOS SAUDÁVEIS E NÃO SAUDÁVEIS?

PREENCHA A TABELA ABAIXO COM A LETRA INICIAL DOS ALIMENTOS.

FAÇA COMO NO EXEMPLO:



NOME DO ALIMENTO
HAMBÚRGUER

NATURAL

INDUSTRIALIZADO
X



NOME DO ALIMENTO
____ ERA

NATURAL

INDUSTRIALIZADO



NOME DO ALIMENTO
____ ATATA FRITA

NATURAL

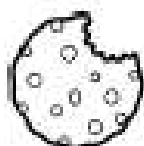
INDUSTRIALIZADO



NOME DO ALIMENTO
____ AÇÃ

NATURAL

INDUSTRIALIZADO



NOME DO ALIMENTO
____ ISCOITO

NATURAL

INDUSTRIALIZADO

EM "Prof. Calil Rahal Neto"

Nome: _____

Professora: Gabriela

Turma: 5º ano A

Data: 30/07/2021 –



ESSE É O MAPA MUNDI.

É O MAPA DE TODOS OS PAÍSES QUE EXISTEM NO PLANETA TERRA.

ENCONTRE O PAÍS ONDE HÁ A LETRA **B** DE **BRASIL** E PINTE-O DE VERDE.

ENCONTRE A LETRA **J** DE **JAPÃO** E PINTE O PAÍS DE VERMELHO.

EM “Prof. Calil Rahal Neto”

Nome: _____

Professora: Gabriela

Turma: 5º ano A

Data: 30/07/2021 –

MEU ESPORTE FAVORITO

FAÇA UM DESENHO DO SEU ESPORTE FAVORITO.
NÃO SE ESQUEÇA DE COLOCAR O NOME DO ESPORTE E O SEU NOME AO FINAL DO DESENHO.

NOME DO ESPORTE: _____

AUTOR DO DESENHO: _____

Nome: _____

Professora: Gabriela

Turma: 5º ano A


Data: 02/08/2021 –



PARALIMPIADAS

PARALIMPIADAS OU PARALIMPIADAS É UMA VERSÃO DOS JOGOS OLÍMPICOS ADAPTADA PARA ATLETAS PORTADORES DE DEFICIÊNCIA FÍSICA OU SENSORIAL.

VAAMOS CONHECER UM ATLETA PARALÍMPICO BRASILEIRO:



ESSE É DANIEL DIAS.

ELE É UM NADADOR PARALÍMPICO.

DANIEL JÁ GANHOU 24 MEDALHAS NAS PARALIMPIADAS.



1) QUAL O NOME DO ATLETA ACIMA? _____

2) QUANTAS MEDALHAS DANIEL JÁ GANHOU EM JOGOS PARALÍMPICOS? _____

3) CIRCULE ABAIXO QUAL O ESPORTE QUE DANIEL COMPETE:

FUTEBOL

NATAÇÃO

JUDÔ

BOXE


Nome: _____

Professora: Gabriela

Turma: 5º ano A

Data: 02/08/2021 –

VAMOS OBSERVAR ALGUNS ATLETAS DAS OLIMPIADAS OU PARALIMPIADAS ABAIXO:



ANALISE AS IMAGENS E RESPONDA AS QUESTÕES ABAIXO:

1) TODOS SÃO IGUAIS? () SIM () NÃO

2) TODOS MERECEM RESPEITO? () SIM () NÃO

3) VOCÊ ACHA CERTO ALGUÉM SER EXPULSO DE UM ESPORTE SOMENTE PELO SEU CORPO?

() SIM () NÃO

TODAS AS PESSOAS SÃO DIFERENTES.

TODAS MERECEM RESPEITO E POSSUEM OS MESMOS DIREITOS.

VAMOS ANALISAR AS SUAS CARACTERÍSTICAS:

MEU CORPO

MINHA ALTURA: _____

MEU PESO: _____

COR DA MINHA PELE: _____

COR DOS MEUS CABELOS: _____

TIPO DE CABELO: _____

COR DOS MEUS OLHOS: _____

Nome: _____

Professora: Gabriela

Turma: 5º ano A

Data: 03/08/2021 –

VAMOS CONHECER MAIS UM JOGADOR:



ESSE É BETO.

BETO É UM JOGADOR DE BASQUETE
MUITO BOM!

UM DIA, UMA PESSOA GRITOU PARA
BETO:

- VOCÊ É FEIO, PARECE UM MACACO!

1) QUAL O NOME DO JOGADOR? _____

2) QUAL ESPORTE ELE JOGA? _____

3) DE QUAL ANIMAL A PESSOA CHAMOU BETO? _____

4) COMO VOCÊ ACHA QUE BETO SE SENTIU? MARQUE A OPÇÃO:

() TRISTE

() FELIZ

5) VOCÊ ACHA QUE ESSA PESSOA QUE CHAMOU BETO DE MACACO FEZ:

() UMA COISA BOA

() UMA COISA RUIM

O QUE ESSA PESSOA FEZ CONTRA BETO É CHAMADO DE:

RACISMO

EM "Prof. Calil Rahal Neto"

Nome: _____


Professora: Gabriela

Turma: 5º ano A

Data: 03/08/2021 –

BETO RECEBEU VÁRIAS MENSAGENS NO WHATSAPP DE AMIGOS QUE DIZIAM O QUANTO ELE ERA ESPECIAL E UM BOM JOGADOR.

8) COMPLETE A MENSAGEM PARA O WHATSAPP DE BETO ABAIXO COM ALGUMA PALAVRA DE CARINHO.



Nome: _____

Professora: Gabriela

Turma: 5º ano A

Data: 04/08/2021 –

ÁGUA E A ENERGIA ELÉTRICA

Os rios são as principais fontes de obtenção de *água* para o abastecimento das sociedades e também dos animais. A utilização dos rios na *geração de energia* ocorre com a construção de usinas hidrelétricas em determinados trechos de seu curso.



Quanto de energia elétrica sua família consome em um mês?

Você já percebeu que todos os meses chega às casas um **conta de luz**? Na conta está descrito o quanto de energia elétrica foi consumido em uma casa no período de um mês, assim como o quanto esse consumo vai custar para a família.

- Analise uma conta de energia elétrica de sua casa. Observe o item **Descrição de consumo**.
- Quanto sua família consome em um mês?
- Quais atitudes podemos tomar para consumir menos energia elétrica?



Nome: _____

Professora: Gabriela

Turma: 5º ano A

Data: 04/08/2021 –

ATIVIDADE

- Leia o texto abaixo e responda as questões.

Jjubalândia



Era uma vez um reino chamado Jjubalândia. Um lugar onde as montanhas eram feitas de sorvetes de creme, as casas eram feitas de doces e os rios, de chocolate. Os carros eram carrinhos de supermercados. O sol era de ovo e a lua era de mel.

As avós de Jjubalândia estavam sendo raptadas por uma bruxa chamada Anoréxica. Ela foi transformada em bruxa por uma maldição que fez com que ela ficasse com ódio de comida e das avós cozinheiras do reino.

O plano de Anoréxica era derreter Jjubalândia e fritar as avós em azeite fervendo.

Após muito medo e confusão em

Jjubalândia, a bruxa Anoréxica foi derrotada. As avós conseguiram fazê-la engolir a receita mágica, que era feita de coisas que ela nunca havia experimentado: maçã-do-amor, beijinho e sonho.

E assim, depois de beber a receita mágica, a bruxa se transformou numa linda princesa e o reino voltou a ser um lugar feliz. Para comemorar a vitória do bem, o rei convidou a todos para uma grande festa em seu castelo.
<http://www.regipar a.com/20/08/09>

1) Do que era feita a Jjubalândia?

2) O que estava acontecendo com as avós de Jjubalândia?

3) Qual era o plano de Anoréxica?

4) Quais eram os ingredientes da poção mágica que derrotou a bruxa?

Nome: _____

Professora: Gabriela

Turma: 5º ano A

Data: 05/08/2021 –

MUDANÇA DO ESTADO DA ÁGUA

A água pode mudar de estado para o outro e essa passagem de um estado para o outro recebe o nome especial.




- Numere de acordo com a mudança do estado da água:

- (1) O espelho do banheiro fica embaçado, após o banho com água quente.
- (2) Ao destampar a panela de arroz cai água da parte interna da tampa.
- (3) Os cubos de gelo se derretem na limonada.
- (4) As forminhas, chelas de água ficam com gelo após algum tempo no congelados.



FUSÃO



VAPORIZAÇÃO



SOLIDIFICAÇÃO



CONDENSAÇÃO

EM “Prof. Calil Rahal Neto”


Nome: _____

Professora: Gabriela

Turma: 5º ano A

Data: 05/08/2021 –

Observe a figura e responda às perguntas:



- (A) Em quantas partes a figura foi dividida?
- (B) Quantas partes foram pintadas?
- (C) E quantas partes ficaram sem pintar?
- (D) Escreva a fração que representa a parte colorida à figura toda.
- (E) Escreva como se lê essa fração.

Nome: _____

Professora: Gabriela

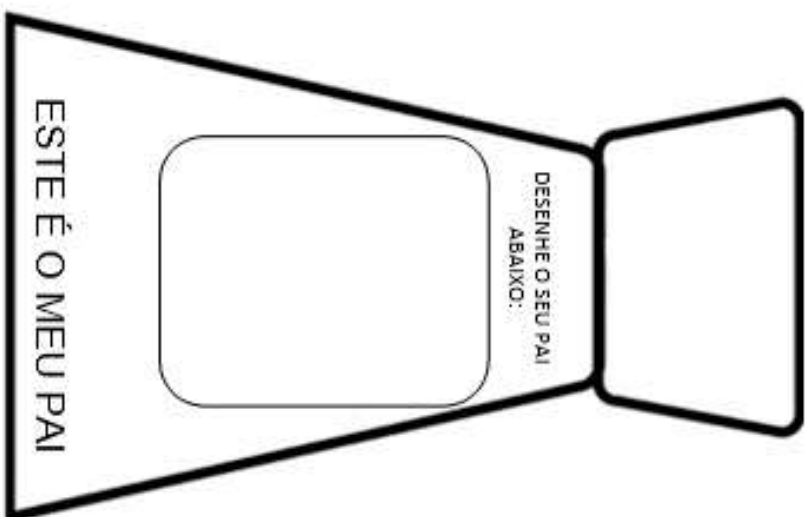
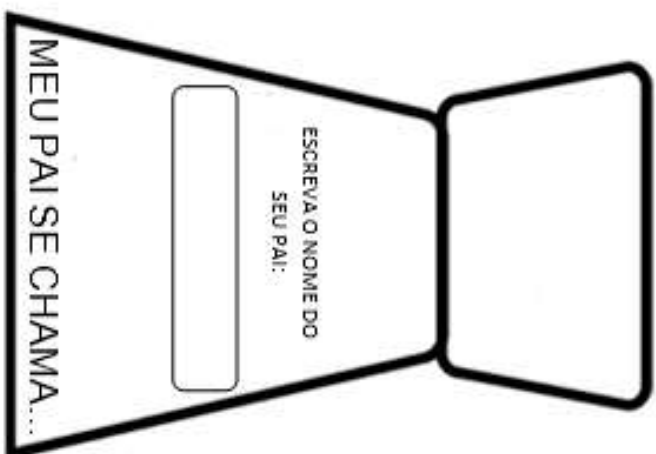
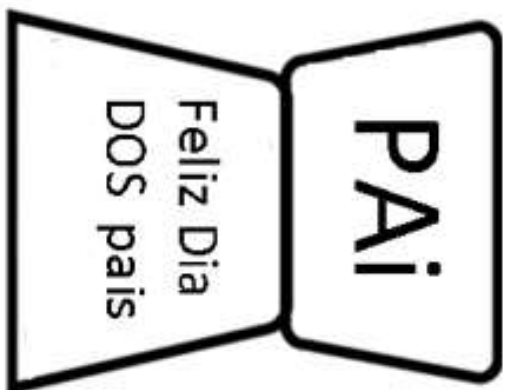
Turma: 5º ano A

Data: 06/08/2021 –

CARTÃO DIA DOS PAIS - FLIPBOOK DO PAPAI

Pinte e preencha as partes do cartão. Em seguida recorte e cole. Vídeo explicativo enviado via Whatsapp.

Exemplo:



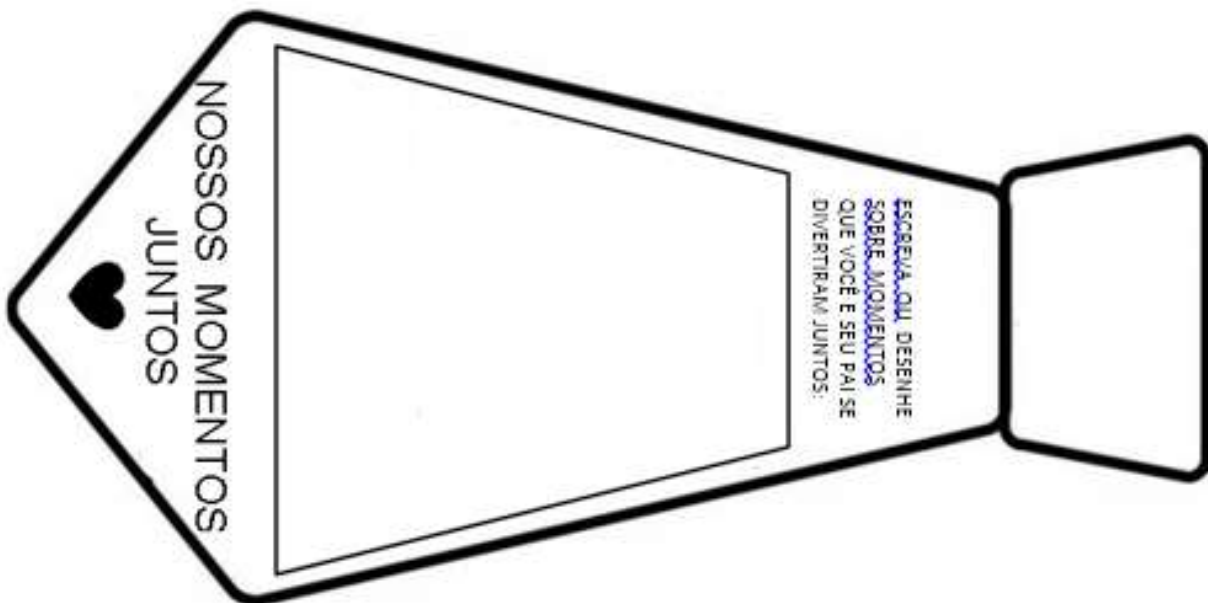
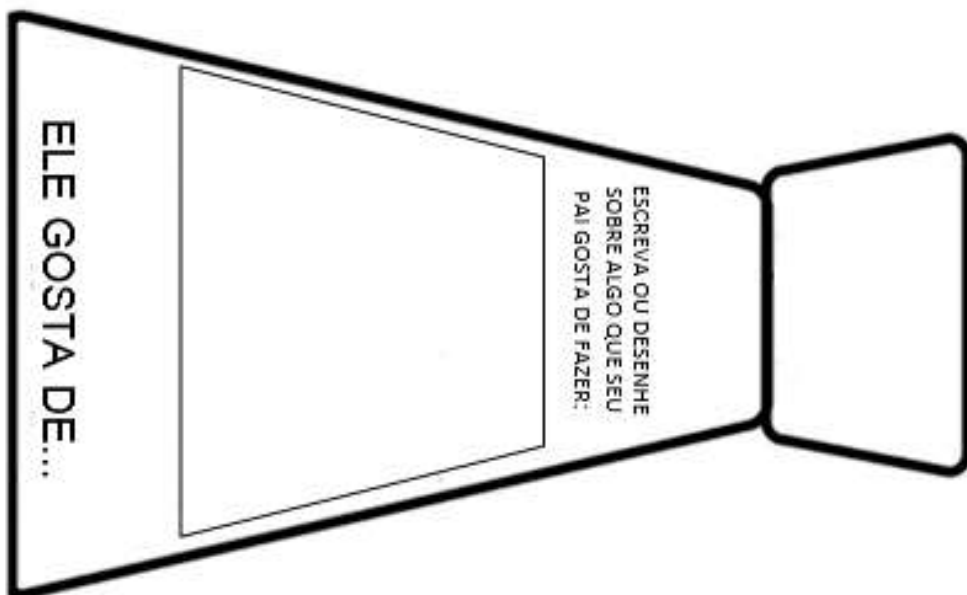
EM "Prof. Calil Rahal Neto"

Nome: _____

Professora: Gabriela

Turma: 5º ano A

Data: 06/08/2021 –



REFERÊNCIAS

<https://verfazercopiarerecriar.blogspot.com/2020/11/cadernos-completos-para-baixar-eja-fund.html>

<https://www.newfuntrip.com/atividades-de-datas-comemorativas/>

<https://saladatiaraafa.blogspot.com/>