



Prefeitura do Estância Turística de

**IBIUNA**



**E.M. "JOSÉ GABRIEL MACHADO"**

**APOSTILA DE ESTUDOS ATIVIDADES NÃO PRESENCIAIS**

**3º BIMESTRE**

**PROFESSORA:ALESSANDRA SOARES**

**NOME DO ALUNO (A):**

---


**ATIVIDADES REFERENTES AOS DIAS:05,06,19,20,21,22,23,26,27,28  
29,30/07 e 02,03,04,05,06/08/21.**

**4ºANO B**

**APOSTILA Nº 8**

**TURMA 2**

## Questão 01

 Leia o texto abaixo.

### **OS CACHORROS SÃO — MESMO — OS MELHORES AMIGOS DAS CRIANÇAS**

**PESQUISA CIENTÍFICA MOSTRA QUE, ALÉM DE FONTE DE AMOR, CÃES DE ESTIMAÇÃO SÃO ALIADOS NO DESENVOLVIMENTO EMOCIONAL DE JOVENS ENTRE 2 E 5 ANOS**

PAIS E MÃES, PREPAREM-SE: AS CRIANÇAS GANHARAM UM FORTE ALIADO DA CIÊNCIA PARA ARGUMENTAR QUE TER UM CACHORRO É, SIM, DE EXTREMA IMPORTÂNCIA PARA A FAMÍLIA — MAS, ACIMA DE TUDO, PARA ELAS PRÓPRIAS. [...] EM OUTRAS PALAVRAS: O CACHORRO DA FAMÍLIA PODE SER UM PARCEIRO INDISPENSÁVEL NA CRIAÇÃO DOS FILHOS. DE ACORDO COM A PESQUISA, CRIANÇAS DE 2 A 5 ANOS QUE MANTÊM FORTES CONEXÕES COM BICHOS DE ESTIMAÇÃO DEMONSTRAM MENOS PROBLEMAS DE COMPORTAMENTO DO QUE SEUS PARES. [...]

CACHORROS SÃO FOFOS, MAS DÃO TRABALHO, CONSOMEM RECURSOS, PRECISAM SER LEVADOS COM FREQUÊNCIA AO VETERINÁRIO. CRIANÇAS DEVEM ENTENDER DESDE CEDO QUE BRINCAR COM OS COMPANHEIROS DE QUATRO PATAS É BOM, MAS CUIDAR CORRETAMENTE DELES TAMBÉM É FUNDAMENTAL.

Disponível em: <<https://veja.abril.com.br/deias/os-cachorros-sao-mesmo-os-melhores-amigos-das-criancas/>>.  
Acesso em: 8 fev. de 2021. Fragmento. (SUP02017417)

ESSE TEXTO SERVE PARA

- DAR UM RECADO.
- ENSINAR UMA RECEITA.
- INFORMAR SOBRE UMA PESQUISA.
- INSTRUIR SOBRE UMA BRINCADEIRA.

## Questão 02

 Leia o texto abaixo.

### Quero carinho!

"Esses carinhos parecem tão bons!" – o ouriço Amauri pensou ao ver o cachorro Dudu acariciado pelo dono. "Eu também quero!"

Amauri resolveu pedir à ovelha Mila:

– Quero um carinho!

– De jeito nenhum! Você vai me espetar! [...]

– Quero um carinho! – ele pediu ao coelhinho Gabriel.

– Certo! [...]

– Mas, eu não estou sentindo nada! – disse o ouriço decepcionado.

– É normal! – disse Ísis, que estava observando tudo. – Para nós, ouriços, o carinho deve ser feito na barriga... Vou [...] mostrar como é!

Amauri ficou feliz e satisfeito por finalmente receber o carinho que tanto desejava, ainda mais vindo da bela Ísis!

VIDEU, Vlaérié. DUFOUR, Laure. 365 histórias da fazenda. Editora: Ciranda Cultural, 2011. Fragmento. (SUP01000317)

Qual é a personagem principal dessa história?

Amauri.


Dudu.

Ísis.

Mila.




### Questão 03

 Leia o texto abaixo.

#### Alecrim

Alecrim, alecrim dourado  
Que nasceu no campo  
Sem ser semeado [...]

Disponível em: <<https://unetas.com.br/45-cantigas-folcloricas-para-brincar-de-roda-com-as-criancas/>>. Acesso em: 7 out. 2020. Fragmento. (SUP02013117)

 Nesse texto, as palavras que rimam são

- alecrim – dourado.
- campo – semeado.
- sem – ser.
- semeado – dourado.

## Questão 04

 Leia o texto abaixo.




Disponível em: <<https://iguinho.com.br/lirinhas-m.htm>>. Acesso em: 20 mar. 2020. (SUP02005417)

Nesse texto, o menino chamou Estopa de volta porque

- não queria ficar sozinho.
- não sabia amarrar o tênis.
- precisava de ajuda para se levantar.
- prendeu o dedo no laço no cadarço.

## Questão 05

 Leia o texto abaixo.

### Chapeuzinho Vermelho e os Três Porquinhos

Certo dia, seis personagens de histórias infantis fizeram uma reunião secreta. Estavam lá, na casa de tijolos, Chapeuzinho Vermelho, a Vovózinha, o Caçador e os Três Porquinhos.

O motivo da reunião era descobrir se o lobo das duas histórias era o mesmo ou não. [...]

Cada um desenhou o seu lobo num pedaço de papel.

Mas, quando eles iam comparar os desenhos...

TUM! TUM! TUM!

Ouviram um barulho assustador!

– Ai, ai! O que vamos fazer? – Perguntou apavorada a Chapeuzinho Vermelho.

– Não esquenta! Ele nunca é capaz de derrubar esta casa de tijolos! –

Disse um porquinho.

– Mas o malvado pode entrar pela chaminé! – lembrou o outro.

Então, o único jeito foi queimar todos os desenhos na lareira. E o lobo nem tentou entrar porque já estava cansado de queimar o bumbum na fogueira. [...]

[...] No fim das contas, ninguém ficou sabendo se era um ou se eram dois!

HEINE, Evelyn. Disponível em: <<https://www.dlvertudo.com.br/historia34.html>>. Acesso em: 19 fev. 2021. Fragmento. (SUP03018517)

Esse texto é

- um conto.
- um poema.
- uma fábula.
- uma notícia.



## Questão 06

 Leia o texto abaixo.

### O MACAQUINHO MANDÃO

CACO ADORAVA MANDAR EM TODO MUNDO. [...]

– NÃO COMA ESSAS FOLHAS EMBORRACHADAS, GIRAFA, COMA ESSAS AQUI! – ELE DIZIA.

– ELEFANTE, NÃO DURMA DEBAIXO DO SOL, VOCÊ VAI FICAR TODO VERMELHO. [...]

OS ANIMAIS JÁ ESTAVAM CANSADOS DE TUDO AQUILO!

ATÉ QUE, CERTA MANHÃ, A TIA VERUSCA CHEGOU. [...]

– AH, NÃO! – RESMUNGOU O HIPOPÓTAMO.

A TIA DELE ERA MUITO MANDONA, ASSIM COMO O CACO, E NÃO IA DEMORAR MUITO PARA ALGUMA CONFUSÃO ACONTECER. [...].

ELES DISCUTIRAM O DIA TODO, ATÉ QUE A ZEBRA SUGERIU UM PIQUENIQUE.

– QUE IDEIA MARAVILHOSA! [...]

– UM PIQUENIQUE! BOA IDEIA! – CACO CONCORDOU.

A ZEBRA SORRIU. ATÉ QUE ENFIM CONCORDARAM... [...].

Minhas histórias especiais! [Ciranda Cultural]. – 1. ed. – Barueri [SP]: Ciranda Cultural, 2018. Fragmento. (SUP01012917)

QUAL É A PERSONAGEM PRINCIPAL DESSA HISTÓRIA?


A GIRAFA.

CACO.

O ELEFANTE.


VERUSCA.

## Questão 07

 Leia o texto abaixo.

Se essa rua, se essa rua fosse minha  
Eu mandava, eu mandava ladrilhar  
Com pedrinhas, com pedrinhas de brilhantes  
Para o meu, para o meu amor passar [...]


Disponível em: <<https://www.lettras.mus.br/cantigas-populares/134098/>>. Acesso em: 9 out. 2020. Fragmento. (SUP02013417)

 Nesse texto, as palavras que rimam são

- ladrilhar – passar.
- meu – amor.
- pedrinhas – brilhantes.
- rua – pedrinhas.



## Questão 08

 Leia o texto abaixo.




Disponível: < <https://bit.ly/3fxiFJT> >. Acesso: 23 abr. 2020. (SUP02008517)

Nesse texto, o menino coloca o brinquedo na cabeça para

- brincar de outra forma.
- debochar da menina.
- esconder o brinquedo.
- fingir ser um anjo.

## Questão 09

 Leia o texto abaixo.

### O catador de piolhos

Era uma vez um cientista que tinha uma missão especial: exterminar piolhos. Ele inventou o catador automático de piolhos, uma mão elétrica que catava os bichinhos da cabeça das crianças. No início, o catador foi um sucesso. Só no início, porque vocês sabem como os piolhos são piolhentos. A mão catava os piolhões, mas os piolhinhos... ficavam inteirinhos. Quando ele percebeu que o seu invento não estava acabando com todos os piolhos dos meninos, transformou o catador em coçador e fazedor de cafuné automático.

Foi um estouro. E os meninos, que adoram um carinho, passaram a dormir com um cafuné gostosinho.


Boa noite, piolhinhos!

FRATE, Dileia. *Histórias para Acordar*. São Paulo: Companhia das Letrinhas, 1996. (P030739E4\_SUP)

Esse texto é

- um conto.
- um poema.
- uma carta.
- uma notícia.

## Questão 10

 Leia o texto abaixo.

### Medo de quê?

O rato tinha medo do gato. O gato tinha medo do cachorro. O cachorro tinha medo do leão. O leão tinha medo do escuro.

O rato, por ter medo do gato, só saía para procurar comida à noite. Então, certa vez, em meio à escuridão, encontrou algo na mata e ...nhac!

Quando sentiu a mordida em sua cauda, o gato miou bem alto:

– Miaau!

O cachorro acordou assustado e começou a latir:

– Au, au, au!

Ao ouvir aquele barulho, o leão soltou um forte rugido:

– Roaaar!

Naquela noite, o rato, o gato, o cachorro e o leão não dormiram de tanto medo, mas não sabiam de quê.

VIGNATI, Reinaldo. *365 Histórias para Ler e Sonhar*. 1ª edição, 3ª impressão em 2017. Barueri: Ciranda Cultural, 2016. p. 44. (SUP01001617)

De acordo com esse texto, quem tinha medo do escuro?

O cachorro.


O gato.


O leão.


O rato.



Questão 11

 Veja a figura abaixo.



 Qual é o nome dessa figura?


BARATA

CAMADA

MANADA

PAPADA

## Questão 12

 Leia o texto abaixo.



Disponível em: <<https://deposito-de-lirinhas.tumblr.com/search/turma+da+m%C3%B4nica/page/5>>. Acesso em: 5 dez. 2019. (SUP03001917)

Nesse texto, a expressão "**FUUU!**" foi usada para indicar

- a piscada de olhos do menino.
- a surpresa da menina quando o menino chegou.
- o grito da menina ao ver o menino sem os olhos.
- o som do sopro da menina.

## Questão 13

 Leia o texto abaixo.

### PIPOCA

TEM QUE FICAR CROCANTE, TEM QUE FICAR SEQUINHA E, MAIS IMPORTANTE, TEM QUE ESTOURAR LINDAMENTE [...].

#### INGREDIENTES

½ XÍCARA (CHÁ) DE MILHO PARA PIPOCA

½ COLHER (SOPA) DE ÓLEO

SAL A GOSTO

#### MODO DE PREPARO

1. COLOQUE O ÓLEO NUMA CAÇAROLA MÉDIA, ADICIONE 3 GRÃOS DE MILHO E LEVE AO FOGO MÉDIO. O ÓLEO VAI ESTAR NA TEMPERATURA CERTA PARA FAZER A PIPOCA ASSIM QUE UM DOS GRÃOS ESTOURAR. ACRESCENTE O RESTANTE DO MILHO, TAMPE A PANELA E DIMINUA O FOGO.

2. MANTENHA A PANELA TAMPADA EM FOGO BAIXO E DEIXE COZINHAR POR CERCA DE 5 MINUTOS [...].

3. ASSIM QUE ESTIVER ESTOURADO, TRANSFIRA A PIPOCA PARA UMA ASSADEIRA GRANDE [...].

Disponível em: <<https://www.panelinha.com.br/receita/Pipoca/>>. Acesso em: 21 maio, 2020. Fragmento. (SUP02008017)

ESSE TEXTO SERVE PARA


- ANUNCIAR A VENDA DE UM PRODUTO.
- CONVIDAR PARA UM EVENTO.
- ENSINAR A FAZER UM ALIMENTO.
- ORGANIZAR OS ALIMENTOS.



## Questão 14

 Veja a figura abaixo.



 Qual é o nome dessa figura?


CAJADO


CASACO

GALEGO

GAZEBO

## Questão 15

 Leia o texto abaixo.




Disponível em: <<http://lirinhasdogarfield.blogspot.com/search?updated-max=2010-11-25T15:50:00-02:00&max-results=7&start=7&by-date=false>>.

Acesso em: 19 dez. 2019. (SLIP03006817)


No último quadrinho, o homem se irrita porque

- está muito perto do gato.
- leva um susto ao ser empurrado pelo gato.
- perde seu lugar embaixo do ventilador.
- sente o mau cheiro do gato.

### Questão 01

 Observe no quadro abaixo a escrita por extenso de um número.

DUZENTOS E CINQUENTA E SEIS

 Qual é esse número?

200

250


256

652



## Questão 02


Observe abaixo a quantia de dinheiro que quatro amigos levaram para uma pizzeria.




Quais desses amigos levaram a mesma quantia para a pizzeria?

- JOÃO E MARCOS.
- LUCAS E JOÃO.
- MARCOS E MATEUS.
- MATEUS E LUCAS.

### Questão 03

 Observe os números no quadro abaixo.

152 – 132 – 142 – 122

 Qual desses números é o menor?

152


132

142

122

### Questão 04

📢 Observe abaixo João e seu grupo de amigos posando para uma foto.




📢 Quem está à direita de João?


- DIEGO.
- DORA.
- MARCELA.
- TELMA.



### Questão 05

 Observe abaixo um modelo de convite para casamento.




 A forma desse convite lembra qual figura geométrica?

- CÍRCULO.
- LOSANGO.
- RETÂNGULO.
- TRIÂNGULO.

### Questão 06

 Observe os números no quadro abaixo.

68 – 69 – 67 – 66

 Qual desses números é o maior?


68


69


67

66

### Questão 07

 Observe abaixo Carlos assistindo à televisão na sala.





 Qual é o objeto que está à direita de Carlos?





### Questão 08

 Vitória comprou um lanche no valor de R\$20,00 e pagou com uma nota de R\$50,00.

 Quantos reais sobraram de troco para Vitória depois dessa compra?


20 REAIS.

30 REAIS.

50 REAIS.


70 REAIS.

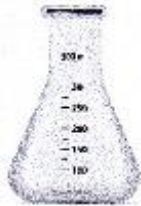
### Questão 09

 O número 149 pode ser decomposto em

- 100 CENTENAS, 40 DEZENAS E 9 UNIDADES.
- 10 CENTENAS, 49 DEZENAS.
- 1 CENTENA, 4 DEZENAS E 9 UNIDADES.
- 1 CENTENA , 409 UNIDADES.


### Questão 10


 Qual dos instrumentos de medida abaixo é utilizado para medir comprimento?





### Questão 11


 Observe abaixo o número que está escrito na placa que marca a distância do caminho para a casa de Valquíria.





 Qual é o número que está escrito na placa?

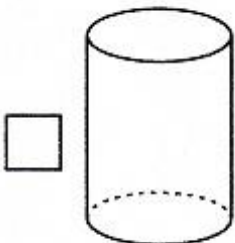
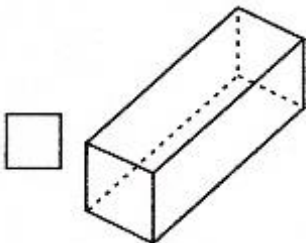
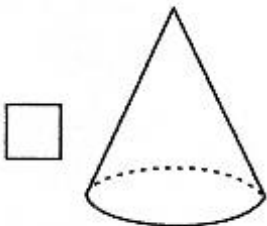
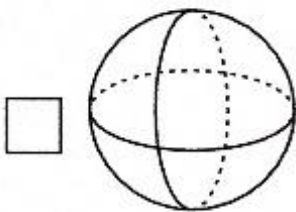
- CENTO E UM.
- ONZE.
- UM MIL CENTO E UM.
- UM MIL E ONZE.

### Questão 12

 Observe abaixo o desenho de uma lata de lixo.



 A forma dessa lata de lixo lembra qual figura geométrica?




### Questão 13

 O número 213 pode ser decomposto em


- 2 CENTENAS, 1 DEZENA E 3 UNIDADES.
- 2 CENTENAS, 10 DEZENAS E 3 UNIDADES.
- 3 CENTENAS, 1 DEZENA E 2 UNIDADES.
- 200 CENTENAS, 10 DEZENAS E 3 UNIDADES.



### Questão 14

 O gráfico abaixo apresenta o resultado de uma pesquisa realizada por um posto médico sobre a quantidade de pessoas atendidas, com dores em diferentes partes do corpo, durante uma semana.



 De acordo com esse gráfico, quantas pessoas foram atendidas, durante uma semana, por sentirem dores no joelho?

- 10
- 20
- 50
- 60

### Questão 15

🔊 Observe abaixo a quantia que quatro amigos gastaram em uma festa.



🔊 Quais desses amigos gastaram a mesma quantia nessa festa?

- FELIPE E LUCAS.
- JARDEL E NICOLAS.
- LUCAS E JARDEL.
- NICOLAS E FELIPE.

## REFERÊNCIAS

Livro Ápis geografia e história 4º Ano

<https://geographia.com.br/wp-content/uploads/2021/06/ENSINO-FUNDAMENTAL-4o-ANO-EF-LINGUA-PORTUGUESA-P0401.pdf>

<https://geographia.com.br/wp-content/uploads/2021/06/ENSINO-FUNDAMENTAL-4o-ANO-EF-MATEMATICA-M0401.pdf>