



E.M. "BAIRRO MANUEL CLEMENTE"


PROFESSORA: ANTONIA

1º ANO- A

ALUNO (A) _____

ATIVIDADES DO PERÍODO 05/07 À 06/08/2021

8ª APOSTILA



ROTEIRO E REFERÊNCIAS ANEXOS

Roteiro de atividades

DIA	DESCRIÇÃO	PÁGINA
	CAPA	01
	ROTEIRO DE ATIVIDADES	02
05/07	ORGANIZAR O ALFABETO E RESPONDER QUESTÃO 2	03
05/07	COMPLETAR A SEQUÊNCIA SOMANDO OS NÚMEROS	04
06/07	TEXTO E INTERPRETAÇÃO: O JACARÉ	05
06/07	1.QUAL O NÚMERO QUE ESTÁ ESCONDIDO? 2- ESCREVA O NÚMERO CORRESPONDENTE NO QUADRO AO LADO. 3-O QUE VEM ANTES E DEPOIS?	06
19/07	COMPLETE A FAMÍLIA SILÁBICA DO "J".	07
19/07	COLORINDO AS FORMAS GEOMÉTRICAS DE ACORDO COM A LEGENDA.	08
19/07	CUIDANDO DO CAMPO AGROPECUÁRIO.	09
20/07	COMPLETE COM A FAMÍLIA SILÁBICA.	10
20/07	OBSERVE O GRÁFICO E RESPONDA AS QUESTÕES.	11
21/07	1- COMPLETE OS NOMES DAS FIGURAS; 2-LEITURA. 3-CIRCULE E ESCREVA O NOME DOS ANIMAIS QUE APARECEM NO TEXTO.	12
21/07	SITUAÇÕES PROBLEMAS.	13
22/07	COMPLETE AS PALAVRAS COM O "J" FALTOSO E COPIE-AS.	14
22/07	COMPLETE COM O QUE SE PEDE.	15
23/07	1- COBRIR O PONTILHADO DA LETRA "J"; COMPLETE AS PALAVRAS, 2- PINTAR AS FICHAS INICIADAS COM A LETRA "J".	16
23/07	RESOLVA AS SUBTRAÇÕES.	17
26/07	COPIE AS FRASES SUBSTITUINDO AS IMAGENS POR PALAVRAS.	18
26/07	VAMOS SÔMAR.	19
26/07	JOGOS E BRINCADEIRAS.	20
27/07	CRUZADINHA DO "J".	21
27/07	ESCREVA O NOME DOS NUMERAIS USANDO O QUADRO ABAIXO PARA COPIAR.	22
28/07	PINTE A PALVRA QUE REPRESENTA A FIGURA.	23
28/08	NUMEROS ORDINAIS.	24
29/07	PREENCHA O QUADRO COM AS FAMÍLIAS SILÁBICAS.	25
29/07	TREZINHO DOS ORDINAIS- COMPLETE AS QUESTÕES.	26
30/07	ALFABETO PARA CONTAR- LETRA "K"	27
30/07	1-OBSERVE OS NOMES DOS NÚMEROS; 2-ESCREVA O NOME DOS NÚMEROS; 3-ESCREVA O SUCESSOR E O ANTECESSOR; 4-CALCULE. 5-ESCREVA OS NÚMEROS DE 30/40.	28
02/08	COMPLETE A FAMÍLIA DA LETRA "K".	29
02/08	COMPLETE O CALENDÁRIO DO MÊS DE AGOSTO.	30
03/08	COBRIR O NOME DOS PERSONAGENS; PINTAR OS DESENHOS E COPIAR AS PALAVRAS.	31
03/08	COMPLETE COM OS NÚMEROS VIZINHOS.	32
04/08	COMPLETE E COPIE AS PALAVRAS.	33
04/08	OBSERVE OS DESENHOS E COMPLETE AS QUESTÕES.	34
05/08	LIGUE CORRENTAMENTE FAZENDO CORRESPONDÊNCIA.	35
05/08	COMPLETE AS PERGUNTAS E A SEQUÊNCIA NUMERICA.	36
06/08	PINTE OS QUADROS QUE TENHAM PALAVRAS ESCRITAS COM LETRA "K".	37
06/08	BRINCANDO DE PESCARIA- RESPONDA AS QUESTÕES.	38

REFERÊNCIAS

DIA	REFERÊNCIA	PÁGINA
26/07	SIMIELLI, Maria Elena. Apis história, 1º ano: ensino fundamental, anos iniciais/Maria Elena Simielli, Anna Maria Charlier. 2. Ed.- São Paulo: Ática, 2017.	63



E.M. "BAIRRO MANUEL CLEMENTE"

IBIÚNA, 05 DE JULHO DE 2021.

ALUNO (A): _____

PROFESSORA: ANTONIA

1ª ANO- A

LÍNGUA PORTUGUESA

QUESTÃO: 1

COLOQUE AS LETRAS DO ALFABETO EM ORDEM, NOS QUADRINHOS.

J H B M Y K T P G
V N D R F X W A Z L
S U C Q I E O

QUESTÃO: 2

RISCA A SÍLABA QUE NÃO FAZ PARTE E ORDENA AS OUTRAS.



E DA MO LA

NE CA BO CA

NI NA ME DO



E.M. "BAIRRO MANUEL CLEMENTE"

IBIÚNA, 05 DE JULHO DE 2021.


ALUNO (A): _____

PROFESSORA: ANTONIA

1ª ANO- A


MATEMÁTICA

Familia de 50




$50+0=$
$50+1=$
$50+2=$
$50+3=$
$50+4=$
$50+5=$
$50+6=$
$50+7=$
$50+8=$
$50+9=$

Familia de 60




$60+0=$
$60+1=$
$60+2=$
$60+3=$
$60+4=$
$60+5=$
$60+6=$
$60+7=$
$60+8=$
$60+9=$

Familia de 70



$70+0=$
$70+1=$
$70+2=$
$70+3=$
$70+4=$
$70+5=$
$70+6=$
$70+7=$
$70+8=$
$70+9=$

Familia de 80



$80+0=$
$80+1=$
$80+2=$
$80+3=$
$80+4=$
$80+5=$
$80+6=$
$80+7=$
$80+8=$
$80+9=$



E.M. " BAIRRO MANUEL CLEMENTE"

IBIÚNA, 06 DE JULHO DE 2021.

ALUNO (A): _____

PROFESSORA: ANTONIA

1ª ANO- A

LÍNGUA PORTUGUESA

TEXTO E INTERPRETAÇÃO.

O JACARÉ


JORGE É O JACARÉ QUE MORA
NA VILA JAMELÃO. ELE ADORA
ESTUDAR.

TODOS OS DIAS JORGE SE
LEVANTA CEDO E VAI PARA A ESCOLA.

DONA JANE VÊ E LOGO FALA:

_ LÁ VAI O JORGE, TODO JANOTA PARA A ESCOLA!

ISABEL CRISTINA S. SOARES---



1 – MARQUE AS RESPOSTAS CORRETAS:

A) JORGE É UM:

JABUTI. JUMENTO. JACARÉ.

B) O NOME DA VILA ONDE JORGE MORA É:

JATAÍ. JANUÁRIA. JAMELÃO.

C) JORGE VAI TODOS OS DIAS PARA A:

LOJA. ESCOLA. RELOJOARIA.



E.M. "BAIRRO MANUEL CLEMENTE"

IBIÚNA, 06 DE JULHO DE 2021.

ALUNO (A): _____
















PROFESSORA: ANTONIA

1ª ANO- A
















MATEMÁTICA

NÚMERO ESCONDIDO

1. QUAL É O NÚMERO QUE ESTÁ ESCONDIDO ATRÁS DOS DESENHOS?

1	2	3	4	5	6		8		10
11		13	14	15		17		19	
	22	23		25	26	27	28	29	30
31		33	34		36	37	38		40
	42		44	45	46		48		50

2. ESCREVA O NÚMERO CORRESPONDENTE NO QUADRO AO LADO:

	7								
									
									

3. QUEM VEM ANTES ? QUEM VEM DEPOIS?

___	8	___	___	14	___	___	12	___
___	15	___	___	33	___	___	25	___
___	20	___	___	10	___	___	35	___
___	28	___	___	41	___	___	48	___

@professora.vul

https://1.bp.blogspot.com/-yUQeYDghXcM/X2n1uPz7xil/AAAAAAAAAT8w/R1v42_6yygovUHb3i0cmWoSGSyB2DUXgCLcBGAsYHQ/s960/N%25C3%25BAmero%2Bescondido.jpg

AsYHQ/s960/N%25C3%25BAmero%2Bescondido.jpg



E.M. "BAIRRO MANUEL CLEMENTE"

IBIÚNA, 19 DE JULHO DE 2021.

ALUNO (A): _____

PROFESSORA: ANTONIA

1ª ANO- A

FAMÍLIA SILÁBICA

J


UNA A LETRA J COM CADA VOGAL E FORME AS SÍLABAS:

	→		→	<input type="text"/>
	→		→	<input type="text"/>
	→		→	<input type="text"/>
	→		→	<input type="text"/>
	→		→	<input type="text"/>

www.atividadesparamprimir.com

JA JE JI JO JU

1- COMPLETE AS PALAVRAS COM O SOM INICIAL:



www.aartedeensinareaprender.com

<https://www.google.com/url?sa=i&url=https%3A%2F%2Fwww.aartedeensinareaprender.com%2F2018%2F06%2Fcurta-nossa-pagina->

https://www.html&psig=AOvVaw2TOjbobJvzR8NJL_Fr0ap1&ust=1626825439629000&source=images&cd=vfe&ved=0CAsQjRxqFwoTCNCtpbOr8PECFQAAAAAdAAAAABAX



E.M. "BAIRRO MANUEL CLEMENTE"

IBIÚNA, 19 DE JULHO DE 2021.

ALUNO (A): _____


PROFESSORA: ANTONIA

1ª ANO- A

MATEMÁTICA

COLORINDO FORMAS

1- PINTE SEGUINDO AS CORES INDICADAS NA LEGENDA:



www.artedeensinaraprender.com



E.M. "BAIRRO MANUEL CLEMENTE"

IBIÚNA, 19 DE JULHO DE 2021.

ALUNO (A): _____


PROFESSORA: ANTONIA

1ª ANO- A

CIÊNCIAS

CUIDANDO DO CAMPO AGROPECUÁRIO.

PINTE CADA CENA.



<https://encrypted-tbn0.gstatic.com/images?q=tbn:ANd9GcSBAkEeceB8-qZvMhHe80GNjmdhAo0J9AeXBA&usqp=CAU>



E.M. "BAIRRO MANUEL CLEMENTE"

IBIÚNA, 20 DE JULHO DE 2021.

ALUNO (A): _____










PROFESSORA: ANTONIA

1ª ANO- A

LÍNGUA PORTUGUESA

LINGUAGEM
FAMÍLIA SILÁBICA
J

COMPLETE COM: JA JE JI JO JU

 [] CARÉ	 [] NELA	 [] GUE
 [] PE	 [] BOIA	 [] RNAL
 [] IA	 [] JUBA	 [] IZ

notebookdaaprotf.blogspot.com

https://www.google.com/url?sa=i&url=https%3A%2F%2Fbr.pinterest.com%2Fpin%2F447756387939062533%2F&psig=AOvVaw2TOjbobJvzR8NjL_Fr0ap1&ust=1626825439629000&source=images&cd=vfe&ved=0CAAsQjRqxqFwoTCNCtpbOr8PECFQAAAAAdAAAAABAc



E.M. "BAIRRO MANUEL CLEMENTE"

IBIÚNA, 20 DE JULHO DE 2021.


ALUNO (A): _____

PROFESSORA: ANTONIA

1ª ANO- A

MATEMÁTICA


1. OBSERVE O GRÁFICO DE BRINQUEDOS DO EDU.



A) QUANTOS DINOSSAUROS?

B) QUANTOS ROBÔS?

C) QUANTOS AVIÕES?





E.M. "BAIRRO MANUEL CLEMENTE"

IBIÚNA, 21 DE JULHO DE 2021.

ALUNO (A): _____


PROFESSORA: ANTONIA

1ª ANO- A

LÍNGUA PORTUGUESA

DATA: _____

LINGUAGEM ORAL E ESCRITA



Escrit. Escrita

1. COMPLETE OS NOMES DAS FIGURAS COM AS SÍLABAS QUE FALTAM



____ CA



____ JU



____ ANINHA



IGRE ____



____ PE



____ ELHO



____ RNAL



____ MENTO

2. LEITURA



JACARÉ COM CATAPORA

TOMA BANHO DE HORA EM HORA

A CORUJA UMA SENHORA

TOMA SUCO DE AMORA

3. CIRCULE E ESCREVA OS NOMES DOS ANIMAIS QUE APARECEM NO TEXTO



E.M. "BAIRRO MANUEL CLEMENTE"

IBIÚNA, 21 DE JULHO DE 2021.

ALUNO (A): _____


PROFESSORA: ANTONIA


1ª ANO- A


MATEMÁTICA

1- LEIA OS PROBLEMINHAS E CALCULE:

	HAVIA NO CAMPOCACHORRINHOS. CHEGARAM MAIS CARNEIRINHOS. AGORA, EXISTEM ANIMAIS NO CAMPO.
---	---

	QUANTOS URSOS?..... QUANTOS PATOS?
	QUANTOS ANIMAIS VOCÊ ESTÁ VENDO?

	QUANTOS IOIÔS?..... QUANTAS BONECAS?
	QUANTOS BRINQUEDOS?

	QUANTAS BOLAS?..... QUANTOS ROBÔS?
	QUANTOS BRINQUEDOS?



E.M. "BAIRRO MANUEL CLEMENTE"




IBIÚNA, 22 DE JULHO DE 2021.

ALUNO (A): _____













PROFESSORA: ANTONIA

1ª ANO- A

LÍNGUA PORTUGUESA

 **LINGUAGEM** 


COMPLETE AS PALAVRAS COM O J FALTOSO E COPIE-AS:

 _ J _ ACA _ JACA _	 _ _ _ ARRA _ _ _ _	 _ _ _ EGUE _ _ _ _
 _ _ _ IPE _ _ _ _	 _ _ _ AULA _ _ _ _	 _ _ _ ANELA _ _ _ _
 _ _ _ OELHO _ _ _ _	 _ _ _ ORNAL _ _ _ _	 _ _ _ ACARÉ _ _ _ _
 _ _ _ UIZ _ _ _ _	 _ _ _ UDÔ _ _ _ _	 _ _ _ UJUBA _ _ _ _

notebookdaprof.blogspot.com

https://www.google.com/url?sa=i&url=https%3A%2F%2Fbr.pinterest.com%2Fpin%2F52284045655260886%2F&psig=AOvVaw0tG7k4230AdesaalYfVcaE&ust=1626827743552000&source=images&cd=vfe&ved=0CAsQjRxqFwoTClje0_iz8PECFQAAAAAdAAAAABAE



E.M. "BAIRRO MANUEL CLEMENTE"

IBIÚNA, 22 DE JULHO DE 2021.

ALUNO (A): _____


PROFESSORA: ANTONIA

1ª ANO- A

MATEMÁTICA

1. NAS FLORES DO JARDIM, AS ABELHAS FAZIAM A FESTA, ENTÃO COMPLETE ...

HAVIAM ABELHAS, MAS VOOU ...



QUANTAS ABELHAS SOBRARAM?


HISTORIA MATEMATICA

- NA FLOR DO JARDIM, AS JOANINHAS BRINCAM, ENTÃO COMPLETE ...

ERAM JOANINHAS.

MAS VOARAM.

FICARAM NA FLOR JOANINHAS.





E.M. "BAIRRO MANUEL CLEMENTE"

IBIÚNA, 23 DE JULHO DE 2021.

ALUNO (A): _____


PROFESSORA: ANTONIA

1ª ANO- A

LÍNGUA PORTUGUESA




JEREMIAS




JORNAL

VAMOS COBRIR O PONTILHADO:




VAMOS, AGORA, COMPLETAR AS PALAVRAS:



QUAIS PALAVRAS COMEÇAM COM A LETRA J?

VAMOS PINTAR AS FICHAS!





E.M. "BAIRRO MANUEL CLEMENTE"

IBIÚNA, 23 DE JULHO DE 2021.

ALUNO (A): _____

PROFESSORA: ANTONIA

1ª ANO- A

MATEMÁTICA

RESOLVA AS SUBTRAÇÕES:


A) Havia um grupo de 8 abelhas. Duas foram embora.

$$8 - 2 =$$



B) Um velhinho estava com 9 balões na mão
4 voaram.

$$9 - 4 =$$




C) Um menino tinha 7 bolinhas. Perdeu 2.

$$7 - 2 =$$



D) Havia 5 pipas no ar. 1 arreventou a linha.

$$5 - 1 =$$





E.M. "BAIRRO MANUEL CLEMENTE"

IBIÚNA, 26 DE JULHO DE 2021.

ALUNO (A): _____

PROFESSORA: ANTONIA



1ª ANO- A

LÍNGUA PORTUGUESA



COPIE AS FRASES SUBSTITUINDO AS IMAGENS
POR PALAVRAS.

A  ESTÁ MADURA.

O  SAIU NO 

A  ENTROU NO  .

https://www.pinterest.com/fcicalacerda12fportedinf2f&psig=AOvVaw0tG7k4230AdesaalYfVcaE&ust=1626827743552000&source=images&cd=vfe&ved=0CAsQjRxqFwoTClje0_iz8PECFQAAAAAdAAAAABBW

https://www.google.com/url?sa=i&url=https%3A%2F%2Fbr.pinterest.com%2Ffcicalacerda1%2Fportedinf%2F&psig=AOvVaw0tG7k4230AdesaalYfVcaE&ust=1626827743552000&source=images&cd=vfe&ved=0CAsQjRxqFwoTClje0_iz8PECFQAAAAAdAAAAABBW



E.M. "BAIRRO MANUEL CLEMENTE"

IBIÚNA, 26 DE JULHO DE 2021.

ALUNO (A): _____











PROFESSORA: ANTONIA

1ª ANO- A

MATEMÁTICA

VAMOS SOMAR

Depois de somar que tal pintar as figuras com suas cores prediletas?

HAVIAM	CHEGARAM	TOTAL
		$\begin{array}{r} 4 \\ + 3 \\ \hline 7 \end{array}$
		$\begin{array}{r} \dots \\ + \dots \\ \hline \dots \end{array}$
		$\begin{array}{r} \dots \\ + \dots \\ \hline \dots \end{array}$
		$\begin{array}{r} \dots \\ + \dots \\ \hline \dots \end{array}$
		$\begin{array}{r} \dots \\ + \dots \\ \hline \dots \end{array}$



E.M. "BAIRRO MANUEL CLEMENTE"

IBIÚNA, 26 DE JULHO DE 2021.

ALUNO (A): _____

PROFESSORA: ANTONIA

1ª ANO- A

HISTÓRIA/GEOGRAFIA

▶ JOGOS E BRINCADEIRAS

VOCÊ PASSA ALGUMAS HORAS DO DIA NA ESCOLA. QUANDO VOLTA, VOCÊ FAZ SUAS TAREFAS ESCOLARES, AJUDA EM CASA E BRINCA.

ENQUANTO BRINCA, VOCÊ DESENVOLVE A IMAGINAÇÃO, APRENDE A CONVIVER COM OUTRAS CRIANÇAS E A RESPEITAR REGRAS. E TEM MAIS: BRINCAR FAZ BEM À SAÚDE!

1 VEJA AS BRINCADEIRAS NAS ILUSTRAÇÕES ABAIXO E PINTO O QUADRINHO DE CADA UMA DE:

- **AZUL** SE FOR UMA BRINCADEIRA QUE VOCÊ BRINCA COM OUTRAS PESSOAS;
- **VERMELHO** SE FOR UMA BRINCADEIRA QUE VOCÊ PODE BRINCAR SOZINHO.



▶ BRINCAR DE ESCONDE-ESCONDE.



▶ JOGAR BOLINHA DE GUDE.



▶ BRINCAR COM ANIMAL DE ESTIMAÇÃO.



▶ JOGAR NO COMPUTADOR.



▶ JOGAR BOLA NO PARQUE.



▶ BRINCAR COM BLOQUINHOS.

2 CIRCULE AS BRINCADEIRAS DE QUE VOCÊ GOSTA.



E.M. "BAIRRO MANUEL CLEMENTE"

IBIÚNA, 27 DE JULHO DE 2021.

ALUNO (A): _____

PROFESSORA: ANTONIA

1ª ANO- A

MATEMÁTICA

1. ESCREVA OS NOMES DOS NÚMEROS EMBAIXO DE CADA UM, USE O QUADRO ABAIXO PARA COPIAR.

10

19

2

7

3

12

18

1

15

4

11

8

5

13

9

16

20

6

14

17

Três

Doze

Dois

Vinte

Dezessete

Quatro

Dezesseis

Quatorze

Onze

Seis

Dez

Dezenove

Um

Treze

Dezoito

Sete

Oito

Nove

Cinco

Quinze



E.M. "BAIRRO MANUEL CLEMENTE"

IBIÚNA, 28 DE JULHO DE 2021.

ALUNO (A): _____

PROFESSORA: ANTONIA

1ª ANO- A


LÍNGUA PORTUGUESA

LINGUAGEM

FAMÍLIA SILÁBICA

J


PINTE A PALAVRA QUE REPRESENTA A FIGURA:



FACA

JACA

JACARÉ



JANELA

PANELA

JAVALI



JEITO

JEGUE

LEQUE



JIPE

JILÓ

JIBOIA



JOGO

JOIA

JORNAL



JUIZ

JUDÓ

JUJUBA

[notebookdaaprov.blogspot.com](https://i.pinimg.com/originals/23/f5/02/23f502c87dc3e5290dc7ce4961fd2b5f.png)



E.M. "BAIRRO MANUEL CLEMENTE"

IBIÚNA, 28 DE JULHO DE 2021.

ALUNO (A): _____


PROFESSORA: ANTONIA

1ª ANO- A

MATEMÁTICA

Para indicar ordem, posição ou lugar,
usamos os numerais ordinais.
Conheça os numerais ordinais até 10º.

1º → primeiro	6º → sexto
2º → segundo	7º → sétimo
3º → terceiro	8º → oitavo
4º → quarto	9º → nono
5º → quinto	10º → décimo



- 1) Veja a posição das formiguinhas e continue a numerá-las segundo a ordem que ocupam.



- 2) Eu já liguei a 1ª formiga à 3ª. Continue ligando de acordo com o que se pede.
- A 5ª formiga à 7ª formiga.
 - A 7ª formiga à 9ª formiga.
- 3) Desenhe o que se pede nas formiguinhas:
- Uma folha na 6ª formiguinha;
 - Um chapéu na cabeça da 4ª formiguinha;
 - Um laço na cabeça da 9ª formiguinha.

Educação & Transformação



E.M. "BAIRRO MANUEL CLEMENTE"

IBIÚNA, 29 DE JULHO DE 2021.

ALUNO (A): _____

PROFESSORA: ANTONIA

1ª ANO- A

LÍNGUA PORTUGUESA

★PREENCHA O QUADRO COM AS FAMÍLIAS SILÁBICAS:

	A	E	i	O	U	ÃO
B						
C						
D						
F						
G						
H						
J						
K						
L						

www.atividadespara imprimir.com

https://1.bp.blogspot.com/-RA5G1xwJgcU/XPcRIINy4_I/AAAAAAAAEw20/yLL4tYSWzPAIPul6moTy2_ICi5YRQzqDwCEwYBhgL/s1600/FAM%25C3%258DLIAS-SIL%25C3%2581BICAS-319.jpg



E.M. "BAIRRO MANUEL CLEMENTE"

IBIÚNA, 29 DE JULHO DE 2021.

ALUNO (A): _____


PROFESSORA: ANTONIA

1ª ANO- A

MATEMÁTICA

TREZINHO DOS ORDINAIS

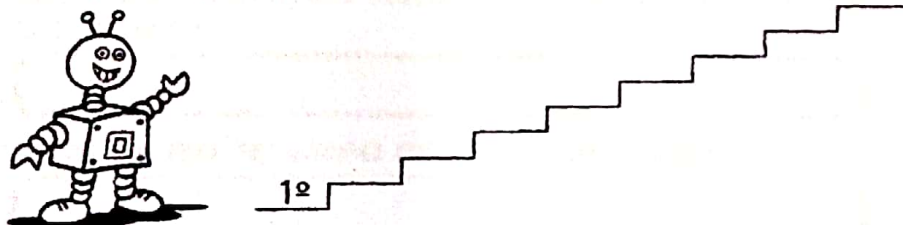
1) Numere os vagões do trenzinho com os numerais ordinais.



2) Agora, pinte os vagões de acordo com a legenda:

- a) 1º vagão de vermelho.
- b) 3º vagão de azul.
- c) 5º vagão de verde.
- d) 7º vagão de amarelo.
- e) 9º vagão de roxo.
- f) Os outros vagões de laranja.
- g) Quais são os vagões que você pintou de laranja?

2) Suba a escada escrevendo os numerais ordinais até o 9º degrau e, depois, faça o que se pede:



- a) Desenhe uma joaninha embaixo do 7º degrau.
- b) Circule o numeral ordinal que representa o degrau mais alto



E.M. "BAIRRO MANUEL CLEMENTE"

IBIÚNA, 30 DE JULHO DE 2021.

ALUNO (A): _____

PROFESSORA: ANTONIA

1ª ANO- A

LÍNGUA PORTUGUESA



ALFABETO PARA CONTAR

LETRA K

WENIDARC CINTRA

QUEM ESTÁ APAIXONADA?
É A LETRA... A LETRA **K**.
FOI CORRENDO COMPRAR
CALDO DE CARNE KNORR
VIU O KAIRO TOMANDO
SORVETE DA MARCA KIBON.
OLHOU, OLHOU E GAMOU!



ATIVIDADES:

⇒ RESPONDA DE ACORDO COM O TEXTO:

A) QUEM ESTÁ APAIXONADA?

B) QUAL É A MARCA DO CALDO DE CARNE QUE ELA FOI COMPRAR?

C) QUAL SORVETE KAIRO ESTAVA TOMANDO?

D) POR QUEM ELA SE APAIXONOU?



E.M. "BAIRRO MANUEL CLEMENTE"

IBIÚNA, 30 DE JULHO DE 2021.

ALUNO (A): _____

PROFESSORA: ANTONIA

1ª ANO- A

MATEMÁTICA

1. OBSERVE OS NOMES DOS NÚMEROS.

30 - TRINTA
31 - TRINTA E UM
32 - TRINTA E DOIS
33 - TRINTA E TRÊS
34 - TRINTA E QUATRO
35 - TRINTA E CINCO



36 - TRINTA E SEIS
37 - TRINTA E SETE
38 - TRINTA E OITO
39 - TRINTA E NOVE
40 - QUARENTA

2. ESCREVA OS NOMES DOS NÚMEROS.

35 _____


31 _____

38 _____

35 _____

30 _____

40 _____



3. ESCREVA O SUCESSOR E ANTECESSOR DOS NÚMEROS:

____ 32 ____ ____ 37 ____ ____ 34 ____ ____ 38 ____

4. CALCULE:

$30 + 2 =$ _____ $30 + 6 =$ _____ $30 + 9 =$ _____

$30 + 7 =$ _____ $30 + 8 =$ _____ $30 + 3 =$ _____

5. ESCREVA OS NÚMEROS DE 30 A 40.





E.M. "BAIRRO MANUEL CLEMENTE"

IBIÚNA, 02 DE AGOSTO DE 2021.


ALUNO (A): _____

PROFESSORA: ANTONIA

1ª ANO- A

LÍNGUA PORTUGUESA

EU SOU A LETRA K
PARA VOCÊ PEQUENINHO
VOU ENSINAR MEUS PEDACINHOS.



COMPLETE AS PALAVRAS ABAIXO COM AS SÍLABAS:

KA – KE – KI – KO – KU



_____ MBI



_____ TCHUP



_____ BON



_____ RAOKÊ



E.M. "BAIRRO MANUEL CLEMENTE"

IBIÚNA, 02 DE AGOSTO DE 2021.


ALUNO (A): _____

PROFESSORA: ANTONIA

1ª ANO- A

MATEMÁTICA

CALENDÁRIO AGOSTO -2021



DOMINGO	SEGUNDA -FEIRA	TERÇA- FEIRA	QUARTA- FEIRA	QUINTA- FEIRA	SEXTA- FEIRA	SÁBADO

[https://2.bp.blogspot.com/-](https://2.bp.blogspot.com/-ASxROQc85nM/XCOTvPliTDI/AAAAAAAAAddU/XHrYCmmb5UMGnGklf5TzNb4jFxuNfaKNgCLcBGAs/s1600/Capturar.PNG)

[ASxROQc85nM/XCOTvPliTDI/AAAAAAAAAddU/XHrYCmmb5UMGnGklf5TzNb4jFxuNfaKNgCLcBG](https://2.bp.blogspot.com/-ASxROQc85nM/XCOTvPliTDI/AAAAAAAAAddU/XHrYCmmb5UMGnGklf5TzNb4jFxuNfaKNgCLcBGAs/s1600/Capturar.PNG)

[As/s1600/Capturar.PNG](https://2.bp.blogspot.com/-ASxROQc85nM/XCOTvPliTDI/AAAAAAAAAddU/XHrYCmmb5UMGnGklf5TzNb4jFxuNfaKNgCLcBGAs/s1600/Capturar.PNG)



E.M. "BAIRRO MANUEL CLEMENTE"

IBIÚNA, 03 DE AGOSTO DE 2021.




ALUNO (A): _____

PROFESSORA: ANTONIA

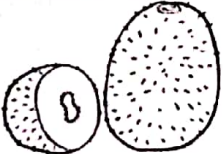

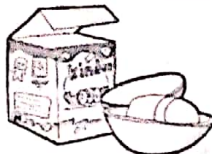



1ª ANO- A

LÍNGUA PORTUGUESA

COBRIR O NOME DOS PERSONAGENS:

		
KEIKA	KÁTIA	KEIKO

PINTAR OS DESENHOS E COPIAR AS PALAVRAS:

		
K I W I	K I B O N	K I N D E R
		
K A R T	K U A T	K O M B I



E.M. "BAIRRO MANUEL CLEMENTE"

IBIÚNA, 03 DE AGOSTO DE 2021.

ALUNO (A): _____

PROFESSORA: ANTONIA

1ª ANO- A

MATEMÁTICA

Complete com os números vizinhos.

	1			2	
	3			4	
	5			6	
	7			8	
	9			10	
	11			12	
	13			14	
	15			16	
	17			18	
	19			20	



E.M. "BAIRRO MANUEL CLEMENTE"

IBIÚNA, 04 DE AGOSTO DE 2021.

ALUNO (A): _____

PROFESSORA: ANTONIA

1ª ANO- A



LÍNGUA PORTUGUESA



Mistura de Alegria

ALFABETIZAÇÃO

LIGUE E FORME PALAVRAS:



COMPLETE E COPIE AS PALAVRAS: (K)

...K...ARTIWIUATIT
<input type="text" value="KART"/>	<input type="text"/>	<input type="text"/>	<input type="text"/>
....IBON	...INDER	MIL.....	HUL.....
<input type="text"/>	<input type="text"/>	<input type="text"/>	<input type="text"/>
LIN.....	FUN.....	NI....EOMBI
<input type="text"/>	<input type="text"/>	<input type="text"/>	<input type="text"/>
....ELIÁTIA	...ODAKNORR
<input type="text"/>	<input type="text"/>	<input type="text"/>	<input type="text"/>

<https://www.google.com/url?sa=i&url=https%3A%2F%2Fbr.pinterest.com%2Fpin%2F631066966537354252%2F&psig=AOvVaw3zbpDbStBwb0oEN-dFtacW&ust=1626866558235000&source=images&cd=vfe&ved=0CAsQjRxqFwoTCNClItE8fECFQAAAAAdAAAAABAK>



E.M. " BAIRRO MANUEL CLEMENTE"

IBIÚNA, 04 DE AGOSTO DE 2021.

ALUNO (A): _____


PROFESSORA: ANTONIA

1ª ANO- A

MATEMÁTICA

Matemática

1 - OBSERVE OS DESENHOS E COMPLETE.



A) QUANTAS BORBOLETAS NA CENA?

B) QUANTAS JOANINHAS?

C) QUANTAS JOANINHAS DO LADO ESQUERDO DA JARDINEIRA?

D) QUANTAS JOANINHAS DO LADO DIREITO DA JARDINEIRA?

E) QUANTAS FLORES?

F) QUANTAS JOANINHAS DO LADO DIREITO DA BORBOLETA?

G) QUANTAS JOANINHAS EM CIMA DA FLOR?

Alfakids.org

Educação Infantil e Ensino Fundamental I - Todos os direitos reservados©



E.M. "BAIRRO MANUEL CLEMENTE"


IBIÚNA, 05 DE AGOSTO DE 2021.

ALUNO (A): _____

PROFESSORA: ANTONIA







1ª ANO- A

LÍNGUA PORTUGUESA



Mistura de Alegria

LIGUE CORRETAMENTE FAZENDO A CORRESPONDÊNCIA:

	<div style="border: 1px solid black; padding: 5px; display: inline-block;">K</div>	
	KETCHUP	
	KARATÊ	
	KIMONO	
	KIBON	

www.misturadealegria.blogspot.com.br Adilêa

<https://www.google.com/url?sa=i&url=https%3A%2F%2Fbr.pinterest.com%2Ffelaineclarice%2Ffamilia-silabica-k%2F&psig=AOvVaw3zbpDbStBwb0oEN-dFtacW&ust=1626866558235000&source=images&cd=vfe&ved=0CAsQjRxqFwoTCNClItTE8fECFQAAAAAdAAAAABA8>



E.M. "BAIRRO MANUEL CLEMENTE"

IBIÚNA, 05 DE AGOSTO DE 2021.

ALUNO (A): _____

PROFESSORA: ANTONIA

1ª ANO- A

MATEMÁTICA

O NÚMERO DA MINHA CASA É:



NÚMERO DE PESSOAS QUE
COMPÕE A MINHA FAMÍLIA:



NÚMERO DE ANIMAIS DE
ESTIMAÇÃO:



NÚMERO DE COLEGAS DE
MINHA TURMA NA ESCOLA:



31

COMPLETE A SEQUÊNCIA NUMÉRICA.

1	2					8		
								20
					27			
		33						

www.amorensina.com.br



E.M. "BAIRRO MANUEL CLEMENTE"

IBIÚNA, 06 DE AGOSTO DE 2021.

ALUNO (A): _____

PROFESSORA: ANTONIA

1ª ANO- A

LÍNGUA PORTUGUESA

PINTE OS QUADROS QUE TENHAM PALAVRAS
ESCRITAS COM A LETRA **K**.



BOCA	KIWI	KARINA	CORAÇÃO
KETCHUP	KÁTIA	KARAOKE	COMETA
KART	KIBOM	CAIO	KLÉBER



K

58



E.M. "BAIRRO MANUEL CLEMENTE"

IBIÚNA, 06 DE AGOSTO DE 2021.


ALUNO (A): _____

PROFESSORA: ANTONIA

1ª ANO- A

MATEMÁTICA

BRINCANDO DE PESCARIA



1) QUEM ESTÁ PESCANDO? _____

2) QUEM PEGOU O PEIXE QUE ESTÁ SENDO PESCADO?

3) QUANTOS PEIXES AINDA TÊM NA ÁGUA? _____

4) QUANTOS PEIXES JÁ FORAM PESCADOS? _____

5) QUANTOS PEIXES TÊM AO TODO? _____

6) COMPLETAR:

$$\underline{\quad} \cdot \underline{\quad} = \underline{\quad}$$