



E.M. BAIRRO MANUEL CLEMENTE.

PROFESSORA: Marcia Aguiar

ANO: 2º A

ALUNO: _____

ATIVIDADES DE LÍNGUA PORTUGUESA E MATEMÁTICA



APOSTILA 8 -ATIVIDADES DO PERÍODO DE 05/07/21 A 06/08/21

ENTREGA AOS PAIS 23/07/21

DEVOLUÇÃO DA APOSTILA NA UNIDADE

ESCOLAR: 10/08/21



E.M. BAIRRO MANUEL CLEMENTE.

PROFESSORA: Marcia Aguiar

ANO: 2º A

ALUNO: _____

Roteiro de atividades

DIA	DESCRIÇÃO	PÁGINA
05/07	ATIVIDADE ESCRITA DO ALFABETO	03
05/07	COMPLETE OS QUADROS NUMÉRICOS	04
06/07	LEITURA E RESPONDA AS QUESTÕES	05
06/07	RESOLVA AS ADIÇÕES	06
19/07	LEITURA E RESPONDA AS QUESTÕES	07
19/07	RESPONDA OS PROBLEMAS	08
20/07	OBSERVE AS IMAGENS E RELACIONE AS COLUNAS	09
20/07	OBSERVE OS NÚMEROS E RESPONDA	10
21/07	LEITURA E RESPONDA OS EXERCÍCIOS	11
21/07	OBSERVE A SEQUÊNCIA DE NÚMEROS E RESPONDA	12
22/07	DESENHE OS COMÔDOS PEDIDOS	13
22/07	LEITURA E RESPONDA OS EXERCÍCIOS	14
23/07	RESOLVA OS EXERCÍCIOS DE MATEMÁTICA	15
23/07	LEITURA E RESPONDA AS QUESTÕES	16
26/07	LEITURA E RESPONDA AS QUESTÕES	17
26/07	RESOLVA AS CONTAS DE SUBTRAÇÃO	18
27/07	COMPLETE AS FRASES E SEPRE AS SÍLABAS	19
27/07	LEITURA E RESPONDA	20
28/07	RESPONDA AOS GRÁFICOS	21
28/07	RESOLVA O CAÇA-PALAVRAS	22
29/07	REGISTRE COM DESENHO O QUE SE PEDE E RESPONDA	23
29/07	OBSERVE O GRÁFICO E RESPONDA	24
30/07	OBSERVE E RESPONDA SOBRE OS DIAS DA SEMANA	25
30/07	LEITURA DA LISTA DE COMPRA E RESPONDA	26
02/08	COMPLETE O TEXTO COM AS PALAVRAS QUE FALTAM	27
02/08	OBSERVE A IMAGEM E NUMERE	28
03/08	LEITURA E RESPONDA –DIAS DA SEMANA	29
03/08	LEIA AS PALAVRAS E RESPONDA	30
04/08	OBSERVE AS FÍGURAS E ESCREVA OBJETOS DE HIGIENE PESSOAL	31
04/08	FAÇA A CORRESPONDENCIA ENTRE OS OBJETOS	32
05/08	FORME PALAVRAS E ESCREVA	33
05/08	ESCREVA OS NOMES DOS MEIOS DE TRANSPORTE	34
06/08	COLORIR TEMA FESTA JUNINA	35



E.M. BAIRRO MANUEL CLEMENTE.

PROFESSORA: Marcia Aguiar

ANO: 2º A

ALUNO: _____

DATA: 05/07

LÍNGUA PORTUGUESA

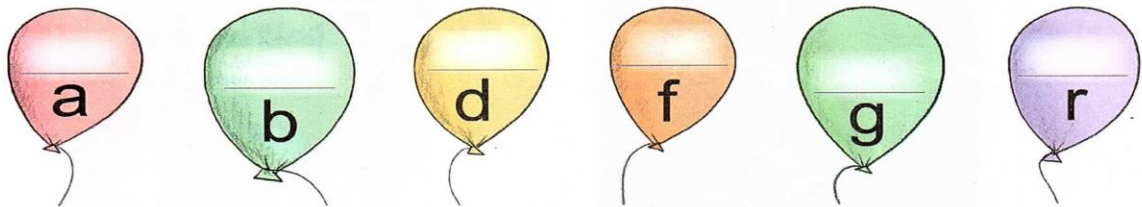
Alfabeto de letras maiúsculas e de letras minúsculas

Atividade oral e escrita

Na escrita, podemos empregar **letras maiúsculas** e **letras minúsculas**.
Observe.

MAIÚSCULAS	A	B	C	D	E	F	G	H	I	J	K	L	M
Minúsculas	a	b	c	d	e	f	g	h	i	j	k	l	m
MAIÚSCULAS	N	O	P	Q	R	S	T	U	V	W	X	Y	Z
Minúsculas	n	o	p	q	r	s	t	u	v	w	x	y	z

1 Complete os balões com as letras maiúsculas correspondentes.



Ilustrações: Shirena Bandini/Arquivo da editora

2 Ligue as palavras da lista 1 às palavras correspondentes da lista 2.

1

- MENINA
- PAULO
- PEIXE
- EDUARDO
- ELEFANTE
- DANIELA

2

- Paulo
- menina
- peixe
- Daniela
- Eduardo
- elefante



E.M. BAIRRO MANUEL CLEMENTE.

PROFESSORA: Marcia Aguiar

ANO: 2º A

ALUNO: _____

DATA: 05/07

MATEMÁTICA

Complete o percurso da galinha até seu pintinho escrevendo os números em ordem crescente:



1		3		6			10		
---	--	---	--	---	--	--	----	--	--

		25				20				15	
--	--	----	--	--	--	----	--	--	--	----	--

	30					35			38
--	----	--	--	--	--	----	--	--	----



Complete os quadrinhos abaixo, escrevendo o sucessor e antecessor dos números:

	2	
	5	
	8	

	11	
	14	
	17	

	20	
	23	
	26	

	29	
	32	
	35	





E.M. BAIRRO MANUEL CLEMENTE.

PROFESSORA: Marcia Aguiar

ANO: 2º A

ALUNO: _____

DATA: 06/07

LÍNGUA PORTUGUESA

01- Leia as palavras e diga quantas sílabas tem cada uma:

Carro

Corre

Arruma

Bezerro

Ferro

Berro

Correu

Garrafa

Terra

Burro

Sorriu

Barriga

02- Leia o texto e responda as questões abaixo:

Daniela vai de carro ao sítio de tio Zeca.
No sítio, Daniela ouve uma cigarra.
Ela corre toda animada:
_ Tio Zeca, eu ouvi uma cigarra.

a) Para onde Daniela vai?

(A) Praia

(B) Sorveteria

(C) Sítio

(D) Fazenda

b) Quem cantava no sítio?

(A) Zeca

(B) Cigarra

(C) Sabiá

(D) Daniela

c) Qual o nome do tio de Daniela?

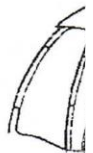
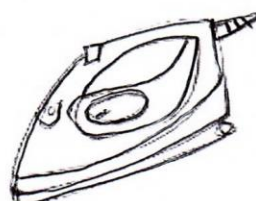
(A) João

(B) Zeca

(C) José

(D) Zezé

03- Escreva o nome das gravuras abaixo.





E.M. BAIRRO MANUEL CLEMENTE.

PROFESSORA: Marcia Aguiar

ANO: 2º A

ALUNO: _____

DATA : 06/07

MATEMÁTICA

RESOLVA AS ADIÇÕES. VOCÊ PODERÁ UTILIZAR OS DEDOS, PALITOS, LÁPIS DE COR, PARA REALIZAR A CONTAGEM.

$$\begin{array}{r} 5 \\ + 1 \\ \hline \end{array}$$

$$\begin{array}{r} 4 \\ + 3 \\ \hline \end{array}$$

$$\begin{array}{r} 6 \\ + 1 \\ \hline \end{array}$$

$$\begin{array}{r} 4 \\ + 2 \\ \hline \end{array}$$

$$\begin{array}{r} 2 \\ 2 \\ + 1 \\ \hline \end{array}$$

$$\begin{array}{r} 8 \\ 1 \\ + 1 \\ \hline \end{array}$$

$$\begin{array}{r} 5 \\ 3 \\ + 2 \\ \hline \end{array}$$

$$\begin{array}{r} 2 \\ 2 \\ + 2 \\ \hline \end{array}$$

$$\begin{array}{r} 5 \\ 3 \\ + 1 \\ \hline \end{array}$$

$$\begin{array}{r} 3 \\ 2 \\ + 2 \\ \hline \end{array}$$

$$\begin{array}{r} 4 \\ 2 \\ + 5 \\ \hline \end{array}$$

$$\begin{array}{r} 6 \\ 2 \\ + 2 \\ \hline \end{array}$$

$$\begin{array}{r} 3 \\ 2 \\ + 3 \\ \hline \end{array}$$

$$\begin{array}{r} 4 \\ 1 \\ + 1 \\ \hline \end{array}$$

$$\begin{array}{r} 4 \\ 3 \\ + 1 \\ \hline \end{array}$$

$$\begin{array}{r} 5 \\ 2 \\ + 1 \\ \hline \end{array}$$

$$\begin{array}{r} 3 \\ 1 \\ + 3 \\ \hline \end{array}$$

$$\begin{array}{r} 4 \\ 3 \\ + 3 \\ \hline \end{array}$$

$$\begin{array}{r} 2 \\ 3 \\ + 1 \\ \hline \end{array}$$

$$\begin{array}{r} 5 \\ 1 \\ + 1 \\ \hline \end{array}$$



E.M. BAIRRO MANUEL CLEMENTE.

PROFESSORA: Marcia Aguiar

ANO: 2º A

ALUNO: _____

DATA: 19/07

LÍNGUA PORTUGUESA

Leia o texto com atenção e responda as questões abaixo:

O Aniversário

Roberta está fazendo aniversário.
Ela ganhou de seu pai um ursinho de pelúcia.
Roberta adorou o ursinho e chamou-o de pimpão.
Como Roberta ficou contente!

01- Quem está aniversariando?

02- O que Roberta ganhou de seu pai?

(A) Boneca (B) Ursinho de pelúcia (C) Chocolates (D) Bicicleta

03- Que nome recebeu o ursinho?

(A) Pedro (B) Pimpão (C) Pimpolho (D) Paspalho

04- Ordene as sílabas e escreva as palavras.

2 - NEI	1 - CAR	3 - RO	_____	
1 - E	3 - VA	2 - LE	4 - DOR	_____
2 - DO	1 - GOR	_____	_____	
2 - VE	3 - TE	1 - SOR	_____	

05- Escreva o nome das gravuras com atenção:









E.M. BAIRRO MANUEL CLEMENTE.

PROFESSORA: Marcia Aguiar

ANO: 2º A

ALUNO: _____

DATA: 19/07


MATEMÁTICA

1. JOÃO GANHOU UM AQUÁRIO DE PRESENTE.

A. NO AQUÁRIO HAVIA 26 PEIXES AZUIS E 12 AMARELOS. QUAL É O TOTAL DE PEIXES NO AQUÁRIO?



B. DOS 26 PEIXES AZUIS, 11 ERAM BEM PEQUENOS E OS OUTROS, MAIORES. QUANTOS PEIXES AZUIS DOS MAIORES JOÃO GANHOU?





E.M. BAIRRO MANUEL CLEMENTE.

PROFESSORA: Marcia Aguiar

ANO: 2º A

ALUNO: _____

DATA: 20/07


CIÊNCIAS

HÁBITOS DO NOSSO DIA A DIA

1. Observe as imagens e relacione a segunda coluna de acordo com a primeira.



hora de dormir



hora de tomar banho



hora de orar



hora de fazer tarefa



hora de ir à escola





E.M. BAIRRO MANUEL CLEMENTE.

PROFESSORA: Marcia Aguiar


ANO: 2º A

ALUNO: _____

DATA: 20/07

MATEMÁTICA

OS NÚMEROS E FAÇA O QUE SE PEDE:



A) FORME 10 NÚMEROS DIFERENTES COM OS NÚMEROS ACIMA:

B) AGORA, COLOQUE-OS NAS ORDENS CRESCENTE E DECRESCENTE:



E.M. BAIRRO MANUEL CLEMENTE.

PROFESSORA: Marcia Aguiar

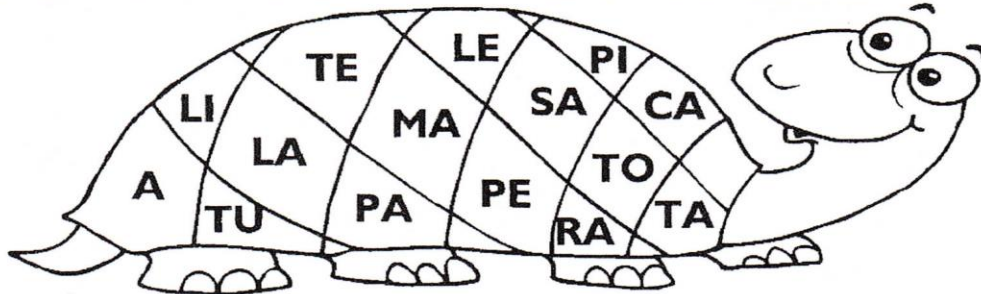
ANO: 2º A

ALUNO: _____

DATA: 21/07

LÍNGUA PORTUGUESA


1) FORME PALAVRAS COMBINANDO AS SÍLABAS ABAIXO.



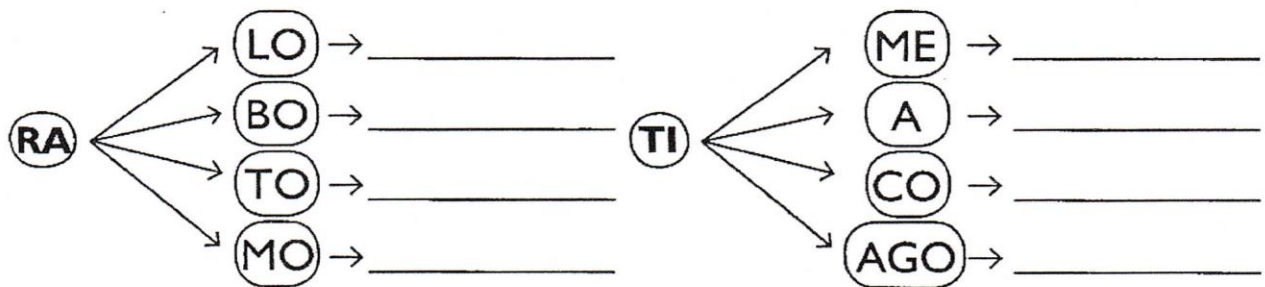
1 - _____	4 - _____	7 - _____
2 - _____	5 - _____	8 - _____
3 - _____	6 - _____	9 - _____

2) LEIA AS FRASES, MARQUE AS DUAS QUE ESTÃO DE ACORDO COM A FIGURA E ESCREVA-AS ABAIXO.

- O ROBÔ DE EDU DIZ:
- LULU É O MEU GATO.
- EU VOU AO SÍTIO.
- EU SOU O ROBOCÓ.



3) LIGUE AS SÍLABAS, FORME PALAVRAS E, DEPOIS, ESCREVA-AS.





E.M. BAIRRO MANUEL CLEMENTE.

PROFESSORA: Marcia Aguiar

ANO: 2º A

ALUNO: _____

DATA: 21/07

MATEMÁTICA

OBSERVE A SEQUÊNCIA DE NÚMEROS E FAÇA O QUE SE PEDE:

A) CRESCENTE

A) CRESCENTE

23 21 24 29 25 27 20 26 28 22

○ ○ ○ ○ ○ ○ ○ ○ ○ ○

B) DECRESCENTE

B) DECRESCENTE

40 60 100 80 20 50 90 10 70 30

○ ○ ○ ○ ○ ○ ○ ○ ○ ○

C) CRESCENTE

C) CRESCENTE

47 43 46 42 44 49 41 48 40 45

○ ○ ○ ○ ○ ○ ○ ○ ○ ○

D) DECRESCENTE

D) DECRESCENTE

97 94 92 98 93 91 96 90 99 95

○ ○ ○ ○ ○ ○ ○ ○ ○ ○



E.M. BAIRRO MANUEL CLEMENTE.

PROFESSORA: Marcia Aguiar

ANO: 2º A


ALUNO: _____

DATA: 22/07

LÍNGUA PORTUGUESA

O papagaio falador

Gugu é o apelido de Gustavo.
Ele tem um papagaio que fala muito.
O papagaio de Gugu é o Cacau.
O papagaio repete tudo o que Gugu fala.
Gugu pede à sua mãe:
— Dá comida, mãe!
Cacau repete:
— Dá comida, mãe!
Que papagaio falador!



Graça Boquet

Complete:

- 1) Que _____ falador!
- 2) _____ é o apelido de _____.
- 3) – Dá _____, mãe!
- 4) Ele tem um _____ que fala muito.
- 5) _____ repete.
- 6) O _____ repete tudo o que _____ fala.
- 7) _____ pede à sua _____.
- 8) O _____ de _____ é o _____.



E.M. BAIRRO MANUEL CLEMENTE.

PROFESSORA: Marcia Aguiar

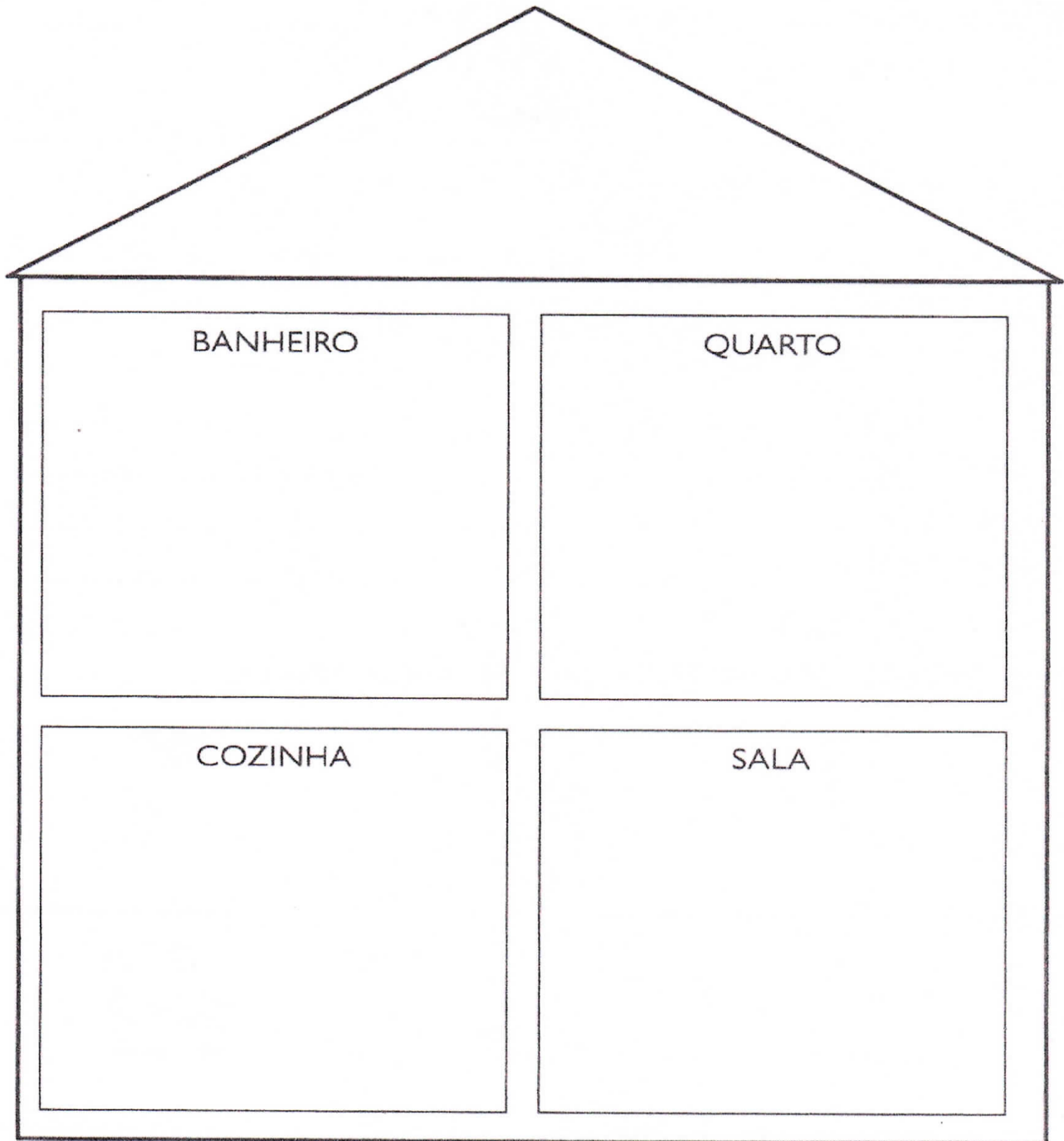
ANO: 2º A

ALUNO: _____

DATA: 22/07

GEOGRAFIA

DESENHE OS CÔMODOS DA CASA





E.M. BAIRRO MANUEL CLEMENTE.

PROFESSORA: Marcia Aguiar


ANO: 2º A

ALUNO: _____

DATA: 23/07

MATEMÁTICA

PINTE UMA DÚZIA DE SORVETE



RESPONDA.

1-) QUANTOS SORVETES VOCÊ PINTOU? _____

2) QUANTOS SORVETES FICARAM SEM PINTAR? _____

3) DESENHE QUANTOS SORVETES FALTAM PARA COMPLETAR 20? _____

COLOQUE O NÚMERO QUE VEM ANTES E DEPOIS.

	27	
	15	
	9	
	22	
	10	

	6	
	29	
	35	
	17	
	5	



E.M. BAIRRO MANUEL CLEMENTE.

PROFESSORA: Marcia Aguiar

ANO: 2º A

ALUNO: _____

DATA: 23/07

CIÊNCIAS

SAÚDE

1. Desembaralhe as palavras e descubra o que recebemos quando bebês.

mor a

nho ri ca

pro ção te

2. Marque um X em algumas formas de como podemos contrair doenças.

- Pela tosse.
- Por um livro.
- Por beijos.
- Por copos, xícaras ou pelo próprio ar.
- Por espirro.
- Por lençol mal lavado.
- Por sapato.
- Por contatos de pele.





E.M. BAIRRO MANUEL CLEMENTE.

PROFESSORA: Marcia Aguiar

ANO: 2º A

ALUNO: _____

DATA: 26/07

LÍNGUA PORTUGUESA

01- Leia o texto abaixo com atenção e a seguir responda as questões abaixo:

Leninha pegou o ovinho pertinho de um pinheiro.
Sua mãe disse baixinho:
_ É o ovo do passarinho.
Leve-o de novo ao ninho.

a) O que Leninha pegou?

- (A) Ovinho (B) Pão (C) Pinheiro (D) Ninho

b) De quem era o ovinho?

- (A) Galinha (B) Passarinho (C) Pato (D) Peru

c) Para onde foi levado o ovo?

- (A) Galinheiro (B) Ninho (B) Panela (D) Prato

02- Leia e ligue as palavras aos desenhos:




- galinha
- minhoca
- joaninha



- minha
- vinho
- caminhão

03- Escreva o nome das gravuras abaixo:





E.M. BAIRRO MANUEL CLEMENTE.

PROFESSORA: Marcia Aguiar

ANO: 2º A

ALUNO: _____

DATA: 26/07

MATEMÁTICA

RESOLVA AS SUBTRAÇÕES:

$$\begin{array}{r} 10 \\ - 8 \\ \hline \end{array}$$

$$\begin{array}{r} 10 \\ - 3 \\ \hline \end{array}$$

$$\begin{array}{r} 8 \\ - 4 \\ \hline \end{array}$$

$$\begin{array}{r} 7 \\ - 2 \\ \hline \end{array}$$

$$\begin{array}{r} 10 \\ - 2 \\ \hline \end{array}$$

$$\begin{array}{r} 10 \\ - 1 \\ \hline \end{array}$$

$$\begin{array}{r} 3 \\ - 1 \\ \hline \end{array}$$

$$\begin{array}{r} 7 \\ - 6 \\ \hline \end{array}$$

$$\begin{array}{r} 7 \\ - 3 \\ \hline \end{array}$$

$$\begin{array}{r} 6 \\ - 4 \\ \hline \end{array}$$

$$\begin{array}{r} 5 \\ - 3 \\ \hline \end{array}$$

$$\begin{array}{r} 4 \\ - 2 \\ \hline \end{array}$$

$$\begin{array}{r} 5 \\ - 2 \\ \hline \end{array}$$

$$\begin{array}{r} 4 \\ - 1 \\ \hline \end{array}$$

$$\begin{array}{r} 8 \\ - 2 \\ \hline \end{array}$$

$$\begin{array}{r} 7 \\ - 4 \\ \hline \end{array}$$

$$\begin{array}{r} 2 \\ - 1 \\ \hline \end{array}$$

$$\begin{array}{r} 8 \\ - 3 \\ \hline \end{array}$$

$$\begin{array}{r} 4 \\ - 4 \\ \hline \end{array}$$

$$\begin{array}{r} 8 \\ - 5 \\ \hline \end{array}$$

$$\begin{array}{r} 3 \\ - 2 \\ \hline \end{array}$$

$$\begin{array}{r} 9 \\ - 5 \\ \hline \end{array}$$

$$\begin{array}{r} 6 \\ - 3 \\ \hline \end{array}$$

$$\begin{array}{r} 9 \\ - 4 \\ \hline \end{array}$$





E.M. BAIRRO MANUEL CLEMENTE.

PROFESSORA: Marcia Aguiar ANO: 2º A

ALUNO: _____

DATA: 27/07

LÍNGUA PORTUGUESA

1) Complete as frases de acordo com os desenhos.




O menino _____ .



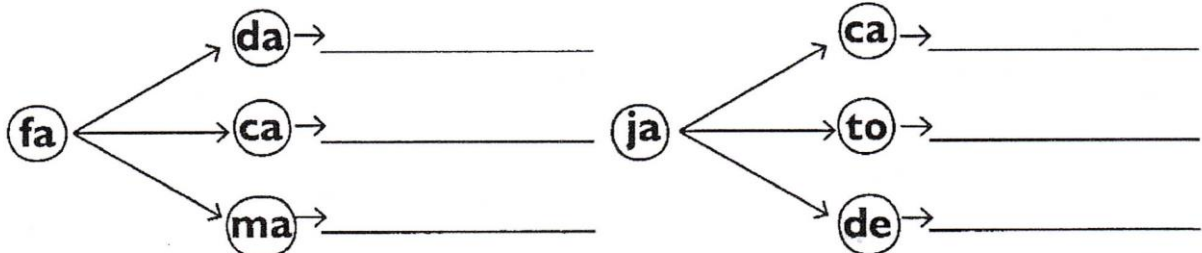
A _____ nada na _____ .

2) Leia a frase e ilustre-a com um desenho.

O pato puxou a saia de Camila.



3) Ligue as sílabas e forme palavras.





E.M. BAIRRO MANUEL CLEMENTE.

PROFESSORA: Marcia Aguiar ANO: 2º A

ALUNO: _____

DATA: 27/07

CIÊNCIAS

PREVENÇÃO DE ACIDENTES

1. Complete o título do assunto trabalhado com vogais.

P	R		V		N	Ç			D	
---	---	--	---	--	---	---	--	--	---	--

	C		D		N	T		S
--	---	--	---	--	---	---	--	---

2. Por que devemos nos prevenir contra acidentes?

3. Numere a segunda coluna de acordo com a primeira, relacionando os locais nos quais podemos nos acidentar desenvolvendo determinadas atividades.

- | | |
|--------------------------------------|---|
| <input type="checkbox"/> 1 Em casa | <input type="checkbox"/> Acendendo uma fogueira. |
| <input type="checkbox"/> 2 Na rua | <input type="checkbox"/> Subindo escadas correndo. |
| <input type="checkbox"/> 3 Na escola | <input type="checkbox"/> Correndo no chão molhado. |
| | <input type="checkbox"/> Brincando com objetos cortantes. |
| | <input type="checkbox"/> Eletricidade. |
| | <input type="checkbox"/> Empurrando o colega na fila do lanche. |



E.M. BAIRRO MANUEL CLEMENTE.

PROFESSORA: Marcia Aguiar

ANO: 2º A

ALUNO: _____








DATA 28/07

MATEMÁTICA

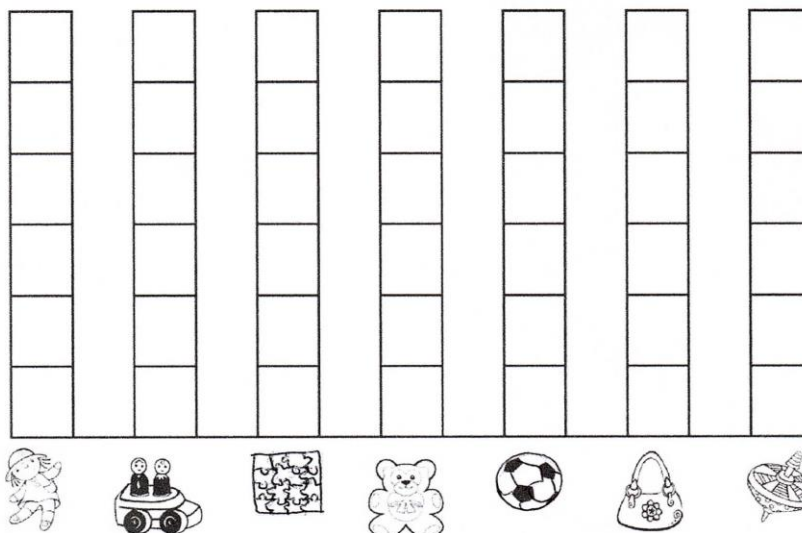
A ROSINHA GANHOU ALGUMAS PRENDAS PARA A BARRACA DA PESCARIA DE UMA FESTA JUNINA.
ELA PRECISA CONTAR QUANTAS PRENDAS RECEBEU, AJUDE-A COMPLETANDO A TABELA E DEPOIS O GRÁFICO:



- COMPLETE A TABELA COM OS NUMERAIS REFERENTES À QUANTIDADE DAS PRENDAS:

- AGORA MARQUE AS QUANTIDADES NO GRÁFICO:



QUANTAS PRENDAS ELA RECEBEU AO TODO ? _____



E.M. BAIRRO MANUEL CLEMENTE.

PROFESSORA: Marcia Aguiar

ANO: 2º A

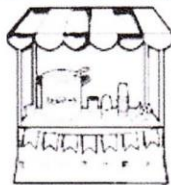
ALUNO: _____

DATA: 28/07

LÍNGUA PORTUGUESA

ENCONTRE NO CAÇA - PALAVRAS ALGUMAS PALAVRAS JUNINAS E DEPOIS
ESCREVA - AS NAS GRAVURAS CORRESPONDENTES :

B	A	N	D	E	I	R	A	F
A	M	B	U	S	C	B	P	O
L	E	A	X	K	H	R	I	G
Ã	N	R	T	H	A	N	P	U
O	D	R	R	P	P	P	O	E
C	O	A	H	X	É	U	C	I
B	I	C	Y	C	U	E	A	R
R	N	A	M	I	L	H	O	A





E.M. BAIRRO MANUEL CLEMENTE.

PROFESSORA: Marcia Aguiar

ANO: 2º A

ALUNO: _____

DATA: 29/07

GEOGRAFIA

PAISAGEM DA SUA CIDADE

1. OBSERVE O LOCAL ONDE VOCÊ MORA, ESCOLHA UMA PAISAGEM E DESENHE:

2. AGORA, RESPONDA CONFORME SEU DESENHO:

A) QUAL É O NOME DO LOCAL QUE VOCÊ DESENHOU?

B) ONDE FICA ESSE LOCAL?



E.M. BAIRRO MANUEL CLEMENTE.

PROFESSORA: Marcia Aguiar

ANO: 2º A

ALUNO: _____

DATA: 29/07

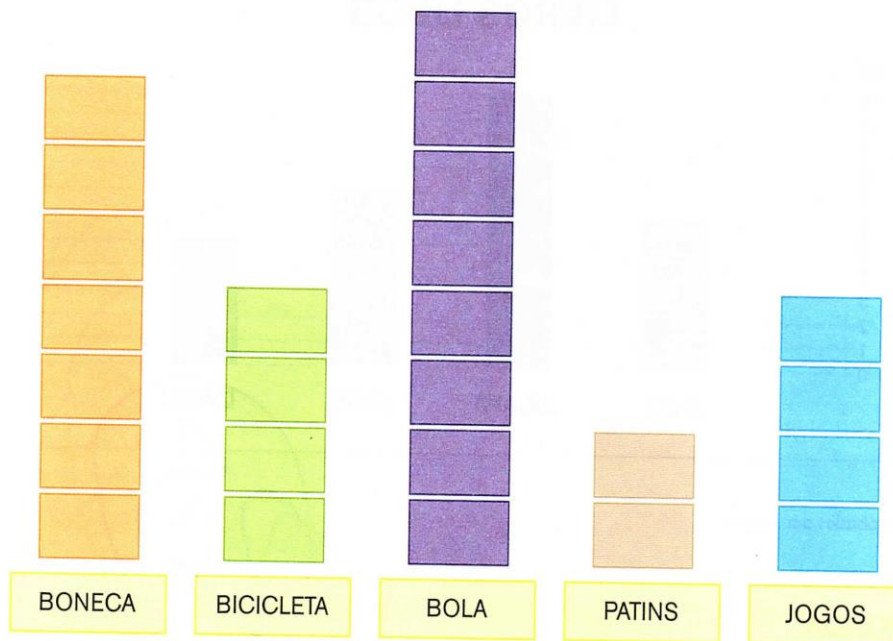
MATEMÁTICA

EDUCAÇÃO MATEMÁTICA NOS ANOS INICIAIS DO ENSINO FUNDAMENTAL – EMAI



ATIVIDADE 12.2

1. EM OUTRA TURMA, TAMBÉM FOI FEITA UMA VOTAÇÃO PARA SABER QUAIS SÃO OS BRINQUEDOS PREFERIDOS. OS RESULTADOS DESSA VOTAÇÃO ESTÃO APRESENTADOS A SEGUIR:



2. CADA CARTÃO REPRESENTA O VOTO DE UMA CRIANÇA. RESPONDA:

- A. QUANTAS CRIANÇAS VOTARAM EM BONECA? _____
- B. E EM BICICLETA? _____
- C. QUAL BRINQUEDO RECEBEU APENAS 2 VOTOS? _____
- D. QUANTAS CRIANÇAS PARTICIPARAM DA VOTAÇÃO? _____



E.M. BAIRRO MANUEL CLEMENTE.

PROFESSORA: Marcia Aguiar

ANO: 2º A

ALUNO: _____

DATA: 30/07

MATEMÁTICA

QUE DIA DA SEMANA É HOJE?

DOMINGO

SEGUNDA-FEIRA

TERÇA-FEIRA


QUARTA-FEIRA

QUINTA-FEIRA


SEXTA-FEIRA

SÁBADO


O PRIMEIRO DIA DA SEMANA É:




O ÚLTIMO DIA DA SEMANA É:



O DIA DA SEMANA QUE ESTÁ ENTRE TERÇA-FEIRA E QUINTA-FEIRA É:



O DIA DA SEMANA QUE MAIS GOSTO É:





E.M. BAIRRO MANUEL CLEMENTE.

PROFESSORA: Marcia Aguiar

ANO: 2º A

ALUNO: _____

DATA: 30/07

LÍNGUA PORTUGUESA

Leia com atenção a lista de compras abaixo e classifique na tabela abaixo

SAL	BOM BRIL	PASTA DE DENTE
ARROZ	LEITE	AÇUCAR
PÓ DE CAFÉ	SABONETE	COLORO
SABÃO EM PÓ	ARROZ	MACARRÃO
MARGARINA	PERFUME	DESINFETANTE
TRIGO	BOLACHA	FEIJÃO
CARNE	DETERGENTE	SALCICHA

Separe os produtos de higiene pessoal, limpeza e alimentícios.

Higiene pessoal	Alimentos	Limpeza

Escreva a sua lista de compras



E.M. BAIRRO MANUEL CLEMENTE.

PROFESSORA: Marcia Aguiar

ANO: 2º A

ALUNO: _____

DATA: 02/08

LÍNGUA PORTUGUESA

COMPLETE O TEXTO COM AS PALAVRAS QUE FALTAM

A CASA (VINÍCIUS DE MORAES)

ERA UMA

MUITO ENGRAÇADA

NÃO TINHA

NÃO TINHA NADA

NINGUÉM PODIA ENTRAR NELA NÃO

PORQUE NA CASA NÃO TINHA

NINGUÉM PODIA DORMIR NA

PORQUE NA CASA

NÃO TINHA

NINGUÉM PODIA

FAZER

PORQUE PENICO NÃO


TINHA ALI

MAS ERA FEITA

COM MUITO ESMERO

NA RUA DOS BOBOS

NÚMERO



TETO	ZERO	NADA
CASA	REDE	CHÃO
PAREDE		



E.M. BAIRRO MANUEL CLEMENTE.

PROFESSORA: Marcia Aguiar

ANO: 2º A


ALUNO: _____

DATA: 02/08

CIÊNCIAS

PARTES DA PLANTA

OBSERVE A IMAGEM DA ÁRVORE ABAIXO E NUMERE AS SUAS PARTES



- 1- RAIZ
- 2- CAULE
- 3- FOLHAS
- 4- FLORES
- 5- FRUTOS



E.M. BAIRRO MANUEL CLEMENTE.

PROFESSORA: Marcia Aguiar

ANO: 2º A

ALUNO: _____

DATA: 03/08

MATEMÁTICA

Circule os nome dos dias da semana.

FEVEREIRO

SEXTA-FEIRA

DOMINGO

SEGUNDA-FEIRA

QUARTA-FEIRA

ABRIL

MAIO

DEZEMBRO

Quais dias da semana faltaram?

Que dia da semana é hoje?

Que dia será amanhã?

Que dia foi ontem?

Daqui a dois dias, que dia será?



E.M. BAIRRO MANUEL CLEMENTE.

PROFESSORA: Marcia Aguiar


ANO: 2º A

ALUNO: _____

DATA: 03/08

LÍNGUA PORTUGUESA

1) Leia as palavras e faça o que se pede:



a) Escreva dois nomes de pessoas.

b) Escreva os nomes dos alimentos.

c) Escreva os nomes dos animais.

2) Forme frases com as seguintes palavras.

copo _____

cama _____



E.M. BAIRRO MANUEL CLEMENTE.

PROFESSORA: Marcia Aguiar

ANO: 2º A

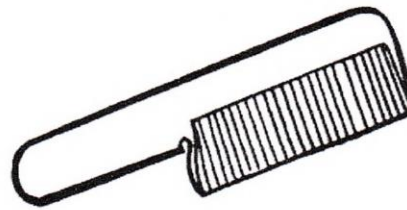
ALUNO: _____

DATA: 04/08

CIÊNCIAS

HÁBITOS DE HIGIENE

CIRCULE OS OBJETOS QUE FAZEM PARTE DA
HIGIENE PESSOAL



ESCREVA OS NOMES DOS OBJETOS DE HIGIENE QUE VOCÊ CIRCULOU:



E.M. BAIRRO MANUEL CLEMENTE.

PROFESSORA: Marcia Aguiar ANO: 2º A

ALUNO: _____

DATA: 04/08

LÍNGUA PORTUGUESA

FAÇA A CORRESPONDENCIA ENTRE OS OBJETOS E COMPLETE OS NOMES



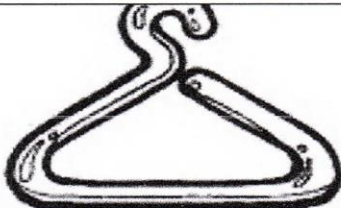
S _ MBR _ NH _



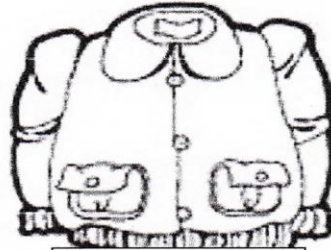
CH _ V _



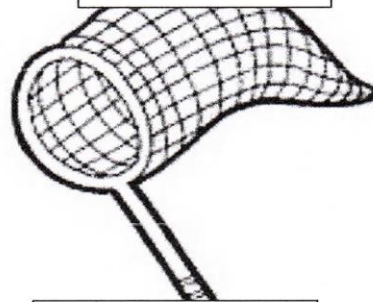
B _ RB _ L _ T _




C _ B _ D _




BL _ S _



R _ D _



C _ D _ D _



CH _ V _



E.M. BAIRRO MANUEL CLEMENTE.

PROFESSORA: Marcia Aguiar

ANO: 2º A

ALUNO: _____

DATA: 05/08

MATEMÁTICA

FORMANDO PALAVRAS

1 BA	2 BO	3 FU	4 DO	5 LA
6 CU	7 MA	8 PI	9 NE	10 TA
11 CE	12 PO	13 ÇA	14 VE	15 PE
16 FI	17 LA	18 TE	19 BA	20 CA

1-5

2-9-20

6-2

3-7-13

4-11

8-12-20

10-15-18

16-14-17



E.M. BAIRRO MANUEL CLEMENTE.

PROFESSORA: Marcia Aguiar

ANO: 2º A


ALUNO: _____


DATA: 05/08


GEOGRAFIA


MEIOS DE TRANSPORTE


ESCREVA OS NOMES DOS MEIOS DE TRANSPORTE ABAIXO, SE PRECISAR
CONSULTE O BANCO DE PALAVRAS.

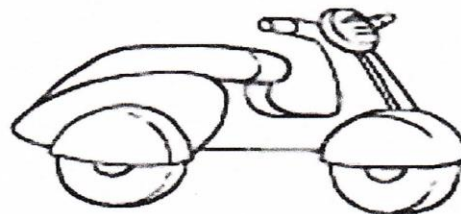












**TREM- BALÃO- NAVIO- BICICLETA-MOTOCICLETA-
AVIÃO**



E.M. BAIRRO MANUEL CLEMENTE.

PROFESSORA: Marcia Aguiar

ANO: 2º A

ALUNO: _____

DATA: 06/08

ARTE – VAMOS COLORIR BEM BONITO?

FESTA JUNINA





E.M. BAIRRO MANUEL CLEMENTE.

PROFESSORA: Marcia Aguiar

ANO: 2º A

ALUNO: _____

Referências

DIA		PÁGINA
05/07	Livro Ápis-língua portuguesa-2ano	142
05/07	https://www.mundopedagogico.net.br	*
06/07	https://novaescola.com.br	*
06/07	https://novaescola.com.br	*
19/07	https://atividadespedagogicasuzano.com.br	*
19/07	Emai-2ano	54
20/07	https://atividadespedagogicasuzano.com.br	*
20/07	https://www.mundopedagogico.br	*
21/07	https://www.mundopedagogico.br	*
21/07	https://www.soescola.com.br	*
22/07	https://www.soescola.com.br	*
22/07	https://www.soescola.com.br	*
23/07	https://www.soescola.com.br	*
23/07	https://espacoprofessor.com.br	*
26/07	https://www.espacoprofessor.com.br	*
26/07	https://www.espacoprofessor.com.br	*
27/07	https://www.espacoprofessor.com.br	*
27/07	https://www.espacoprofessor.com.br	*
28/07	https://www.soescola.com.br	*
28/07	https://www.soescola.com.br	*
29/07	https://www.soescola.com.br	*
29/07	Emai-2ano	70
30/07	https://www.espacoprofessor.com.br	*
30/07	https://www.espacoprofessor.com.br	*
02/08	https://www.soescola.com.br	*
02/08	https://www.soescola.com.br	*
03/08	https://www.soescola.com.br	*
03/08	https://www.escolaeducacao.com.br	*
04/08	https://www.escolaeducacao.com.br	*
04/08	https://www.escolaeducacao.com.br	*
05/08	https://www.soescola.com.br	*
05/08	https://www.soescola.com.br	*
06/08	https://www.soescola.com.br	*



E.M. BAIRRO MANUEL CLEMENTE.

PROFESSORA: Marcia Aguiar

ANO: 2º A

ALUNO: _____

Referências



DIA

PÁGINA

E.M. BAIRRO MANUEL CLEMENTE.

ALUNO: _____



E.M. BAIRRO MANUEL CLEMENTE.

PROFESSORA: Marcia Aguiar ANO: 2º A

ALUNO: _____



E.M. BAIRRO MANUEL CLEMENTE.

PROFESSORA: Marcia Aguiar

ANO: 2º A

ALUNO: _____



E.M. BAIRRO MANUEL CLEMENTE.

PROFESSORA: Marcia Aguiar ANO: 2º A

ALUNO: _____



E.M. BAIRRO MANUEL CLEMENTE.

PROFESSORA: Marcia Aguiar ANO: 2º A

ALUNO: _____



E.M. BAIRRO MANUEL CLEMENTE.

PROFESSORA: Marcia Aguiar

ANO: 2º A

ALUNO: _____



E.M. BAIRRO MANUEL CLEMENTE.

PROFESSORA: Marcia Aguiar ANO: 2º A

ALUNO: _____



E.M. BAIRRO MANUEL CLEMENTE.

PROFESSORA: Marcia Aguiar

ANO: 2º A

ALUNO: _____



E.M. BAIRRO MANUEL CLEMENTE.

PROFESSORA: Marcia Aguiar ANO: 2º A

ALUNO: _____



E.M. BAIRRO MANUEL CLEMENTE.

PROFESSORA: Marcia Aguiar ANO: 2º A

ALUNO: _____



E.M. BAIRRO MANUEL CLEMENTE.

PROFESSORA: Marcia Aguiar ANO: 2º A

ALUNO: _____



E.M. BAIRRO MANUEL CLEMENTE.

PROFESSORA: Marcia Aguiar

ANO: 2º A

ALUNO: _____



E.M. BAIRRO MANUEL CLEMENTE.

PROFESSORA: Marcia Aguiar ANO: 2º A

ALUNO: _____



E.M. BAIRRO MANUEL CLEMENTE.

PROFESSORA: Marcia Aguiar ANO: 2º A

ALUNO: _____



E.M. BAIRRO MANUEL CLEMENTE.

PROFESSORA: Marcia Aguiar ANO: 2º A

ALUNO: _____



E.M. BAIRRO MANUEL CLEMENTE.

PROFESSORA: Marcia Aguiar

ANO: 2º A

ALUNO: _____

Referências

DIA		PÁGINA
07/06	Livro "Ápis" Língua portuguesa "2º-E.F-Anos Iniciais	53-54-55
07/06	Livro "Emai" 2ano -vol.1	26
08/06	https://www.soescola.com	01
08/06	https://www.continhasfundamentais.com.br	02
09/06	https://www.atividadespedagogicasuzano.com.br	7-8
09/06	Livro "Emai" 2ano-vol.1	46
10/06	https://www.educacaoetransformacao.com.br	10
10/06	Livro "Ápis" -Ciências-2ano-E.F-Anos Iniciais	34-35
11/06	https://www.continhasfundamentais.com.br	03
11/06	https://www.soescola.com.br	09
14/06	Livro "Emai" 2ano-vol.1	47
14/06	https://www.educacaoetransformacao.com.br	15
15/06	Livro "Emai" 2ano-vol.1	30



E.M. BAIRRO MANUEL CLEMENTE.

PROFESSORA: Marcia Aguiar

ANO: 2º A

ALUNO: _____

15/06	https://www.escolaeducacao.com.br	11-12
16/06	Livro "Emai" 2ano-vol.1	62
16/06	Livro "Ápis" História-2ano-E.F-Anos Iniciais	42-43
17/06	Livro "Emai" 2ano-vol.1	28
17/06	https://www.escolaeducacao.com.br	18
18/06	Livro "Emai" 2ano-vol.1	52
18/06	https://www.soescola.com	17
19/06	https://www.soescola.com	24
19/06	https://www.soescola.com	25



E.M. BAIRRO MANUEL CLEMENTE.

PROFESSORA: Marcia Aguiar

ANO: 2º A

ALUNO: _____



E.M. BAIRRO MANUEL CLEMENTE.

PROFESSORA: Marcia Aguiar

ANO: 2º A

ALUNO: _____



E.M. BAIRRO MANUEL CLEMENTE.

PROFESSORA: Marcia Aguiar ANO: 2º A

ALUNO: _____



E.M. BAIRRO MANUEL CLEMENTE.

PROFESSORA: Marcia Aguiar ANO: 2º A

ALUNO: _____



E.M. BAIRRO MANUEL CLEMENTE.

PROFESSORA: Marcia Aguiar

ANO: 2º A

ALUNO: _____



E.M. BAIRRO MANUEL CLEMENTE.

PROFESSORA: Marcia Aguiar

ANO: 2º A

ALUNO: _____



E.M. BAIRRO MANUEL CLEMENTE.

PROFESSORA: Marcia Aguiar ANO: 2º A

ALUNO: _____



E.M. BAIRRO MANUEL CLEMENTE.

PROFESSORA: Marcia Aguiar

ANO: 2º A

ALUNO: _____



E.M. BAIRRO MANUEL CLEMENTE.

PROFESSORA: Marcia Aguiar ANO: 2º A

ALUNO: _____



E.M. BAIRRO MANUEL CLEMENTE.

PROFESSORA: Marcia Aguiar

ANO: 2º A

ALUNO: _____



E.M. BAIRRO MANUEL CLEMENTE.

PROFESSORA: Marcia Aguiar

ANO: 2º A

ALUNO: _____



E.M. BAIRRO MANUEL CLEMENTE.

PROFESSORA: Marcia Aguiar ANO: 2º A

ALUNO: _____



E.M. BAIRRO MANUEL CLEMENTE.

PROFESSORA: Marcia Aguiar ANO: 2º A

ALUNO: _____



E.M. BAIRRO MANUEL CLEMENTE.

PROFESSORA: Marcia Aguiar

ANO: 2º A

ALUNO: _____



E.M. BAIRRO MANUEL CLEMENTE.

PROFESSORA: Marcia Aguiar

ANO: 2º A

ALUNO: _____



E.M. BAIRRO MANUEL CLEMENTE.

PROFESSORA: Marcia Aguiar ANO: 2º A

ALUNO: _____



E.M. BAIRRO MANUEL CLEMENTE.

PROFESSORA: Marcia Aguiar

ANO: 2º A

ALUNO: _____



E.M. BAIRRO MANUEL CLEMENTE.

PROFESSORA: Marcia Aguiar

ANO: 2º A

ALUNO: _____



E.M. BAIRRO MANUEL CLEMENTE.

PROFESSORA: Marcia Aguiar

ANO: 2º A

ALUNO: _____



E.M. BAIRRO MANUEL CLEMENTE.

PROFESSORA: Marcia Aguiar

ANO: 2º A

ALUNO: _____

