



PREFEITURA DA ESTÂNCIA TURÍSTICA DE
IBIÚNA
Por uma Ibiúna próspera. Investindo no presente. gerando o futuro.
SECRETARIA DE EDUCAÇÃO



AValiação NO ENSINO FUNDAMENTAL - ANOS INICIAIS (EM TEMPOS DE PANDEMIA)



Nome da Escola: E.M. João Cardoso de Moraes

Professora Tatiane Clemente Machado Olanik 3º ano B

Atividades referentes aos dias: 19/07 à 06/08

3º BIMESTRE/ 2021

APRENDER SEMPRE

VOLUME 1

3º ANO - ENSINO FUNDAMENTAL
LÍNGUA PORTUGUESA E MATEMÁTICA
2021

Caro estudante,

Fizemos este material para você aprender cada vez mais e
ampliar seus saberes para que possa crescer e entender o mundo.

Desejamos a você ótimos estudos!

APRENDER SEMPRE

3º ANO
ENSINO FUNDAMENTAL

Língua Portuguesa

ROTEIRO DAS ATIVIDADES

(LÍNGUA PORTUGUESA)

1º DIA página... 11

2º DIA página... 12

3º DIA página... 13

4º DIA página... 18

5º DIA página... 24

6º DIA página... 25

(MATEMÁTICA)

1º DIA página... 86

2º DIA página... 87

3º DIA página... 88

4º DIA página... 89

5º DIA página... 90


6º DIA página... 91

OS MESES DO ANO

1. Continue a numerar os meses do ano.

Janeiro 1	Fevereiro	Março
Abril	Mai	Junho
Julho	Agosto	Setembro
Outubro	Novembro	Dezembro

2. Continue a indicar quantos dias tem cada mês do ano. Para isso, consulte um calendário.



Janeiro 31 dias	Fevereiro 28 ou 29 dias	Março	Abril
Mai	Junho	Julho	Agosto
Setembro	Outubro	Novembro	Dezembro

NOME: _____

DATA: ____/____/____

OS MESES DO ANO

1. Preencha com o nome dos meses de acordo com a quantidade de dias de cada um. Siga a ordem do calendário.

a) 28 ou 29 dias

--	--	--	--	--	--	--	--	--

b) 30 dias

--	--	--	--	--

--	--	--	--	--

--	--	--	--	--	--	--	--	--	--

--	--	--	--	--	--	--	--	--	--

c) 31 dias

--	--	--	--	--	--	--

--	--	--	--	--

--	--	--	--

--	--	--	--	--

--	--	--	--	--	--

--	--	--	--	--	--	--

--	--	--	--	--	--	--	--

2. Circule nesta lista o mês que está fora da ordem do calendário.

JANEIRO, FEVEREIRO, MARÇO, MAIO, JUNHO, JULHO, ABRIL, AGOSTO, SETEMBRO, OUTUBRO, NOVEMBRO, DEZEMBRO

3. O mês atual tem quantos dias?

4. Anote o mês do seu aniversário e quantos dias ele tem.

Mês do meu aniversário

Quantidade de dias

OS DIAS DA SEMANA

1. Os dias da semana estão dispostos de modo desordenado. Ligue as colunas para ordená-los.

Sexta-feira

Sábado

Quarta-feira

Quinta-feira

Terça-feira

Domingo

Segunda-feira

1º dia da semana

2º dia da semana

3º dia da semana

4º dia da semana

5º dia da semana

6º dia da semana

7º dia da semana

2. No total, quantos dias tem uma semana?

3. Indique qual é o primeiro e o último dia da semana.

PRIMEIRO DIA DA SEMANA

ÚLTIMO DIA DA SEMANA

4. Indique o dia da semana:


ONTEM

HOJE

AMANHÃ

USANDO O CALENDÁRIO

Consulte um calendário do mês atual para realizar estas atividades.



1. Em que dia da semana estamos?

2. Em que mês estamos?

3. Qual é a data completa de hoje?

4. Quantos dias terá este mês?

28

29

30

31

5. Em que dia da semana caiu o primeiro dia deste mês?

6. Em que dia da semana será o último dia deste mês?


7. Quantos dias ainda faltam para o mês terminar?

8. No total, quantos sábados há neste mês?

9. Há algum feriado neste mês? Qual? Em que dia?

O CAMPO E A CIDADE

Observe a ilustração e responda.



1. Nessa ilustração, o leite foi produzido na área urbana ou na área rural?

2. O leite foi usado como matéria-prima para a fabricação de qual produto?

3. O requeijão foi produzido na área urbana ou na área rural?


4. Que meio de transporte foi importante para o transporte do leite e do requeijão?

5. Depois de fabricado, o requeijão seguiu da fábrica para qual estabelecimento comercial?

6. Além do produto apresentado na ilustração, que outros produtos industrializados poderiam ser fabricados com o leite?

ÁREA URBANA E ÁREA RURAL

Observe atentamente esta cena



1. Anote área urbana ou área rural.

a) O trecho A é uma: _____

b) O trecho B é uma: _____

2. Anote área industrial, área comercial ou área residencial.

a) trecho 1: _____

b) trecho 2: _____

b) trecho 3: _____

3. Cite elementos presentes nas áreas.

a, rural: _____

b) urbana: _____

O MUNICÍPIO E SEU GOVERNO

1. Complete com as vogais adequadas.

Todo Estado está dividido em partes menores chamadas de

M N C P S

2. Os municípios são governados pelo:

- governador presidente
 prefeito rei



3. A câmara municipal é formada por:

- deputados senadores
 vereadores ministros

4. Quem escolhe o prefeito e os vereadores de um município? De que forma?

5. O que fazem os vereadores?

- Fazem as leis municipais e fiscalizam o governador do Estado.
 Governam e administram a cidade.
 Fazem as leis municipais e fiscalizam o prefeito.

6. Quanto tempo dura o mandato de prefeito e vereadores?

- 2 anos 4 anos 6 anos 8 anos

7. Como são chamados os assistentes nomeados pelo prefeito?

- ministros auxiliares secretários diretores

O MUNICÍPIO EM QUE MORO

1. Em qual município você mora? A qual Estado ele pertence?

2. Quem é o atual prefeito de seu município? E o vice-prefeito?

3. Você sabe a qual partido político o prefeito de sua cidade é filiado?



4. Em qual endereço fica:

a) a prefeitura de sua cidade?

b) a câmara de vereadores de sua cidade?

5. Há pontos turísticos em seu município? Quais?

6. Desenhe os dois lugares de seu município de que você mais gosta e anote quais são.



VERTEBRADOS OU INVERTEBRADOS?


1. A quem pertence cada esqueleto abaixo?



Protopisc



Core Professora Protopisc



Steve Mussey/Weston Kentucky University



Steve Mussey/Weston Kentucky University

2. Pinte os animais vertebrados e circule os invertebrados.



3. Ligue o modo de locomoção ao animal invertebrado.

- | | |
|------------|---------|
| a) pulga | caminha |
| b) mosca | nada |
| c) formiga | voa |
| d) polvo | salta |

A abelha é um animal invertebrado e passa a maior parte do tempo no ar, voando.



4. Onde estes animais invertebrados vivem ou passam a maior parte do tempo: no ar, na terra ou na água?

- | | |
|-------------------|------------------|
| a) camarão _____ | e) lesma _____ |
| b) mosquito _____ | f) lula _____ |
| c) vespa _____ | g) minhoca _____ |
| d) cupim _____ | h) cigarra _____ |

VERTEBRADOS OU INVERTEBRADOS?

Observe esta cena e responda ao que se pede.



1. Na cena acima, quais são os animais invertebrados?

2. Dentre os invertebrados acima, qual voa?

3. Na cena acima, quais animais são vertebrados?

4. Dentre os vertebrados acima, qual tem carapaça sobre o corpo?

5. Dentre os vertebrados acima, qual é uma ave?

CLASSIFICAÇÃO DOS ANIMAIS

1. Os animais que mamam quando filhotes são:

répteis peixes anfíbios mamíferos aves

2. Os animais que têm bico e também o corpo coberto por penas são:

répteis peixes anfíbios mamíferos aves

3. A cobra e a lagartixa são exemplos de:

répteis peixes anfíbios mamíferos aves


4. O periquito e o pavão são exemplos de:

répteis peixes anfíbios mamíferos aves


5. Que palavra completa o texto abaixo: répteis, peixes, aves, anfíbios ou mamíferos?

A maioria dos ★ nasce de ovos e cresce na água. Quando se tornam adultos, passam a viver na terra. Os ★ têm a pele úmida.

6. Classifique estes animais em: réptil, peixe, ave, anfíbio ou mamífero.



lagarto



salamandra

NOME: _____

DATA: / /

7. Os seres humanos são exemplos de:

répteis peixes anfíbios mamíferos aves.

8. Sapo, rã e perereca são exemplos de:

répteis peixes anfíbios mamíferos aves.

9. Indique se o réptil tem o corpo coberto por carapaça ou escama:


a) tartaruga _____

c) cobra _____

b) lagarto _____

d) jabuti _____

10. Qual destes animais mama quando filhote? Pinte-o.








11. Qual destes é o único mamífero que voa?

águia falcão mosquito morcego vespa

12. Pesquise o nome de alguns mamíferos que vivem na água, como o balaeno-marinho, por exemplo.



FICHA DO ANIMAL

Animal	Grupo a que pertence	Como nascem os filhotes	Revestimento do corpo
 CACHORRO	<input type="checkbox"/> mamífero <input type="checkbox"/> ave <input type="checkbox"/> réptil <input type="checkbox"/> anfíbio <input type="checkbox"/> peixe	<input type="checkbox"/> ovo <input type="checkbox"/> barriga da mãe	<input type="checkbox"/> pelos <input type="checkbox"/> pele úmida <input type="checkbox"/> escamas <input type="checkbox"/> penas <input type="checkbox"/> carapaça
 CORVINA	<input type="checkbox"/> mamífero <input type="checkbox"/> ave <input type="checkbox"/> réptil <input type="checkbox"/> anfíbio <input type="checkbox"/> peixe	<input type="checkbox"/> ovo <input type="checkbox"/> barriga da mãe	<input type="checkbox"/> pelos <input type="checkbox"/> pele úmida <input type="checkbox"/> escamas <input type="checkbox"/> penas <input type="checkbox"/> carapaça
 TARTARUGA	<input type="checkbox"/> mamífero <input type="checkbox"/> ave <input type="checkbox"/> réptil <input type="checkbox"/> anfíbio <input type="checkbox"/> peixe	<input type="checkbox"/> ovo <input type="checkbox"/> barriga da mãe	<input type="checkbox"/> pelos <input type="checkbox"/> pele úmida <input type="checkbox"/> escamas <input type="checkbox"/> penas <input type="checkbox"/> carapaça
 PATO	<input type="checkbox"/> mamífero <input type="checkbox"/> ave <input type="checkbox"/> réptil <input type="checkbox"/> anfíbio <input type="checkbox"/> peixe	<input type="checkbox"/> ovo <input type="checkbox"/> barriga da mãe	<input type="checkbox"/> pelos <input type="checkbox"/> pele úmida <input type="checkbox"/> escamas <input type="checkbox"/> penas <input type="checkbox"/> carapaça
 RÃ	<input type="checkbox"/> mamífero <input type="checkbox"/> ave <input type="checkbox"/> réptil <input type="checkbox"/> anfíbio <input type="checkbox"/> peixe	<input type="checkbox"/> ovo <input type="checkbox"/> barriga da mãe	<input type="checkbox"/> pelos <input type="checkbox"/> pele úmida <input type="checkbox"/> escamas <input type="checkbox"/> penas <input type="checkbox"/> carapaça

CALENDÁRIO



JULHO



DOM	SEG	TER	QUA	QUI	SEX	SAB
				1	2	3
4	5	6	7	8	9	10
11	12	13	14	15	16	17
18	19	20	21	22	23	24
25	26	27	28	29	30	31

01- DIA DA VACINA

23-ABERTURA DOS JOGOS OLÍMPICOS
DE VERÃO

26- DIA DOS AVÓS

APOSTILA DE ATIVIDADES



OLIMPIADAS E PARALIMPIADAS TÓQUIO 2021



TOKYO 2021



TOKYO 2021

PARALYMPIC GAMES



JOGOS OLÍMPICOS


A QUATRO ANOS, ATLETAS DE CENTENAS DE PAÍSES SE REÚNEM NUM PAÍS SEDE PARA DISPUTAREM UM CONJUNTO DE MODALIDADES ESPORTIVAS. A PRÓPRIA BANDEIRA OLÍMPICA REPRESENTA ESSA UNIÃO DE POVOS E RAÇAS, POIS É FORMADA POR CINCO ANÉIS ENTRELAÇADOS, REPRESENTANDO OS CINCO CONTINENTES E SUAS CORES. A PAZ, A AMIZADE E O BOM RELACIONAMENTO ENTRE OS POVOS SÃO OS PRINCÍPIOS DOS JOGOS OLÍMPICOS.

ORIGEM DOS JOGOS OLÍMPICOS

FORAM OS GREGOS QUE CRIARAM OS JOGOS OLÍMPICOS. POR VOLTA DE 2500 A.C. OS GREGOS JÁ FAZIAM HOMENAGENS AOS DEUSES, PRINCIPALMENTE ZEUS, COM REALIZAÇÃO DE COMPETIÇÕES. PORÉM, FOI SOMENTE EM 776 A.C QUE OCORRERAM PELA PRIMEIRA VEZ OS JOGOS OLÍMPICOS, DE FORMA ORGANIZADA E COM PARTICIPAÇÃO DE ATLETAS DE VÁRIAS CIDADES-ESTADO.

JOGOS OLÍMPICOS DE TÓQUIO

A EDIÇÃO DE 2020 FOI ADIADA PARA O ANO DE 2021, POR CONTA DA PANDEMIA DE CORONAVÍRUS. OS JOGOS ACONTECERÃO EM TÓQUIO, NO JAPÃO, DE 23 DE JULHO À 08 DE AGOSTO. MIRAITOWA É A MASCOTE OFICIAL DOS JOGOS OLÍMPICOS DE TÓQUIO E SOMEITY É A MASCOTE OFICIAL DOS JOGOS PARALÍMPICOS.



MIRAITOWA




SOMEITY

CICLISMO

"PEDALAR MUITO... USANDO UM CAPACETE SUPERDIFERENTE!"





VAMOS AJUDAR O CASÇÃO A
CHEGAR ATÉ O FINAL DA PROVA!



ESPORTES OLÍMPICOS

AO TODO SÃO MODALIDADES ESPORTIVAS QUE SERÃO DISPUTADAS NOS JOGOS OLÍMPICOS DE TÓQUIO. CARATÊ, ESCALADA ESPORTIVA, SKATE E SURFE SERÃO DISPUTADOS PELA PRIMEIRA VEZ NA HISTÓRIA DOS JOGOS VAMOS CONHECER UM POUCO DAS MODALIDADES QUE FAZEM PARTE DA MAIOR COMPETIÇÃO ESPORTIVA DO MUNDO?

ENCONTRE OS 7 ERROS!












RES: 1- LETRA 'B' NA PERNICHA; 2- DESENHO NA PERNICHA; 3- DEDO DA MÃO DO CEBOLINA; 4- DESENHO NO SINGO DO CEBOLINA; 5- OMBRO DA BUBUCO À DREITA; 6- BOLHA ACIMA DO CEBOLINA; 7- LESTA NA PERNICHA.

BASQUETE

"COM PRECISÃO, COLOCAR A BOLA NA CESTA."

VAMOS PINTAR AS BOLAS!



3	
5	
7	
9	
1	
4	
8	
6	
2	

TRIATLO


"NADAR... PEDALAR... E AINDA CORRER... UFAI!"

TRIATLO É UM ESPORTE QUE REÚNE TRÊS MODALIDADES ESPORTIVAS. VAMOS COMPLETAR O NOME DE CADA UMA DELAS, USANDO SOMENTE VOGAIS.

N _ T _ Ç ~
_ _ _ _

C _ C L _ S M
_ _ _ _


C _ R R _ D
_ _ _ _



A PARTIDA DE FUTEBOL

PAPAI CEBOLA, O CEBOLINHA E O VOVÔ JOGARAM UMA PARTIDA DE FUTEBOL

VEJA A QUANTIDADE DE GOLS QUE CADA UM MARCOU



- 1-QUEM MARCOU MAIS GOLS ? _____
- 2-QUEM MARCOU MENOS GOLS ? _____
- 3-QUAL FOI O TOTAL DE GOLS DESSA PARTIDA ? _____
- 4-REGISTRE NA TABELA A QUANTIDADE DE GOLS DE CADA UM REPRESENTANDO COM NÚMEROS E DESENHOS

PAPAI		
VOVÔ		
CEBOLINHA		

OS PARES DE SAPATOS


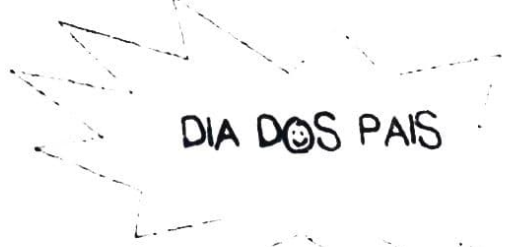

VEJA OS SAPATOS DO PAPAI DO CEBOLINHA



- 1-QUANTOS PARES SÃO ? _____
- 2-QUANTOS SÃO PRETOS ? _____

COMPLETE A SEQUÊNCIA:

1		3		5		7			10
	12			15			18		20
		23			26			29	30
31			34				38		40
	42		44			47			50



eu te amo

voce é o melhor

feliz dia dos pais

PAIS



PAIZÃO OBRIGADO POR TUDO

SUPER PAI

VOCE É DEMAIS

MELHOR DO MUNDO

Fontes:

- Pinterest;
- Coletâneas:
 - Atividade na sala de aula;
 - Plano de aula 40 semanas;