

E.M. Profª “ Inês Nunes Makiyama”

Apostila 8– 5º ano C

Referentes aos dias:05,06,19,20,21,22,23,26,27,28,29,30/07 e
02,03,04,05,06/08/2021

Data de entrega:10/ 08/ 2021

Aluno: _____

Professora: Edilene Aparecida Gonçalves



Escola: _____

Nome: _____

Data: _____



OI MEUS AMORES!!
ESSA SEMANA VAMOS REVER A COLETA SELETIVA DE **LIXO COMUM** E **LIXO RECICLÁVEL!**

NA SUA CASA, VOCÊS REALIZAM A **SEPARAÇÃO DO LIXO RECICLÁVEL DO LIXO ORGÂNICO!?**

LIXO RECICLÁVEL É FORMADO PELO PAPEL, PAPELÃO, VIDRO, ALGUNS TIPOS DE PLÁSTICOS E ALUMÍNIO!
ELE É SEPARADO E DEVOLVIDO AS FÁBRICAS PARA DAREM ORIGEM A UM NOVO PRODUTO!



O **LIXO ORGÂNICO** É FORMADO POR RESTOS DE CASCAS DE FRUTAS OU VERDURAS, CASCAS DE OVOS, BORRA DE CAFÉ, SEMENTES, RESTOS DE FOLHAS. SERVE PARA ADUBAR AS PLANTAS!

Escola: _____

Nome: _____

Data: _____



PAPEL



PLÁSTICO



VIDRO



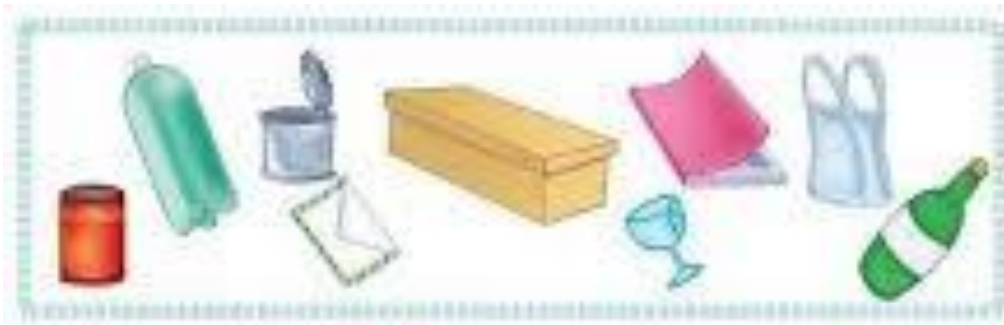
METAL



ORGÂNICO



**NÃO
RECICLÁVEL**





Escola: _____

Nome: _____

Data: _____

Acentuação: Acento agudo e circunflexo

1 Dê nomes aos desenhos, acentuando corretamente as palavras.

	acento agudo	acento circunflexo
 1.	1.	6.
 3.	2.	7.
 2.	3.	8.
 5.	4.	9.
 4.	5.	10.
 6.		
 7.		
 8.		
 10.		

2 Escolha uma palavra acentuada de cada quadro do exercício 1 e escreva duas frases.

--

.....
.....

--

.....
.....

3 Complete as frases com as palavras do quadro.



bebe — bebê
esta — está
e — é
sábia — sabia — sabiá

a) O no berço
todo o leite da mamadeira.

b) menina com
dor de cabeça.


c) Vera alta magra.

d) A menina já que o
..... é um pássaro cantor.

Escola: _____

Nome: _____

Data: _____



As atividades humanas em sociedade produzem resíduos de diferentes tipos, denominados **lixo**.

O aumento da população e da quantidade de produtos industrializados é a principal causa do aumento desses resíduos. Grande parte dele pode ser reciclada.

Materiais recicláveis, como plásticos, metais, vidros e papéis, deveriam ser separados, coletados por caminhões e levados para indústrias de reciclagem, mas isso ainda não acontece na maioria das cidades.

 Elimine as letras **K - W - Y** e encontre três atitudes para controlar a quantidade de lixo.

K	W	K	Y	W	K	Y	W	K	Y	W	Y	K	W	K
R	W	E	K	D	Y	U	Z	W	I	R	Y	W	K	W
Y	K	W	Y	W	K	W	Y	K	W	K	W	K	W	Y
W	R	E	K	U	T	I	Y	L	I	W	Z	K	A	R
Y	W	K	W	Y	K	Y	K	W	K	Y	W	Y	K	W
R	Y	E	K	C	I	W	C	W	L	W	A	K	R	Y

Respostas: _____, _____ e _____.

Respostas: *reduzir, reutilizar, reciclar.*

Escola: _____

Nome: _____

Data: _____

Acentuação – Proparoxítonas



NÃO PODEMOS DESCUIDAR DA NOSSA PROTEÇÃO!

Para cuidar da sua saúde,
lave as mãos com água e sabão!
A máscara também auxilia
na sua proteção!



Acento	Sílaba
SABÃO ↑	última
SAÚDE ↑ ↓	penúltima
MÁSCARA ↑ ↓ ↓	antepenúltima

Ordene as sílabas, descubra as palavras proparoxítonas e responda às questões abaixo:



- 1- Medida que corresponde a mil metros: _____
- 2- Conjunto de ilhas: _____
- 3- Muiíssimo pequeno: _____
- 4- Relativo ao romantismo: _____
- 5- Arte de fabricar objetos de argila: _____
- 6- Instrumento próprio para medir a velocidade: _____
- 7- Clarão que se produz entre duas nuvens: _____
- 8- Extremamente belo: _____
- 9- Que vive na água: _____
- 10- Movido a eletricidade: _____

Escola: _____

Nome: _____

Data: _____

CARTA ENIGMÁTICA

EU LAVO AS



COM



FÁBIO LIMPA O



COM



VITOR TAMPA A



COM O



O VÍRUS É TRANSMITIDO PELO



A



EVITA A CONTAMINAÇÃO.

Escola: _____


Nome: _____

Data: _____

ENCONTRE O NOME DAS FIGURAS NO CAÇA-PALAVRAS E ESCREVA NO LUGAR CORRETO.



S	O	R	V	E	T	E	S	W
Q	A	Z	O	P	I	U	F	D
I	X	Í	C	A	R	A	A	O
U	Y	O	P	L	K	J	S	P
T	R	E	W	Q	N	R	T	G
G	M	N	J	I	U	H	B	V



Y	E	D	C	V	F	B	H	Y
U	J	K	I	M	P	O	I	Y
S	W	E	D	C	V	F	R	T
G	B	N	H	Y	U	J	M	K
I	O	R	E	L	Ó	G	I	O
L	P	M	Q	U	E	I	J	O



N	B	V	C	X	Z	P	O	I
U	Y	T	R	E	M	A	Ç	Ã
W	Q	Y	N	T	R	E	W	A
S	D	F	G	H	J	K	L	M
A	Z	B	O	N	E	C	A	X
U	I	O	P	L	K	J	H	G



Escola: _____


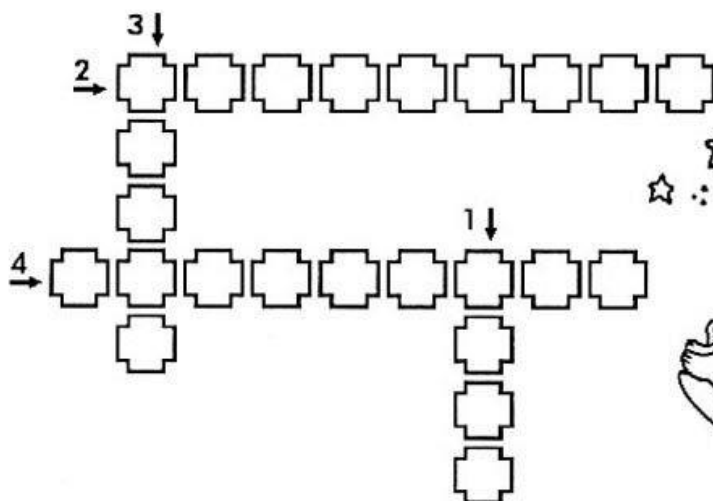
Nome: _____

Data: _____

A LUA



Observe as fases da Lua e encaixe na cruzadinha o nome de cada uma delas.



1 _____



2 _____



3 _____



4 _____



Você sabia que a Lua é um astro que recebe a luz do Sol e a reflete para a Terra? Ela gira ao redor da Terra e pode ser vista de formas diferentes.

Copie o alfabeto, bem caprichado.

a b c d e f g h i j l m

n o p q r s t u v x z

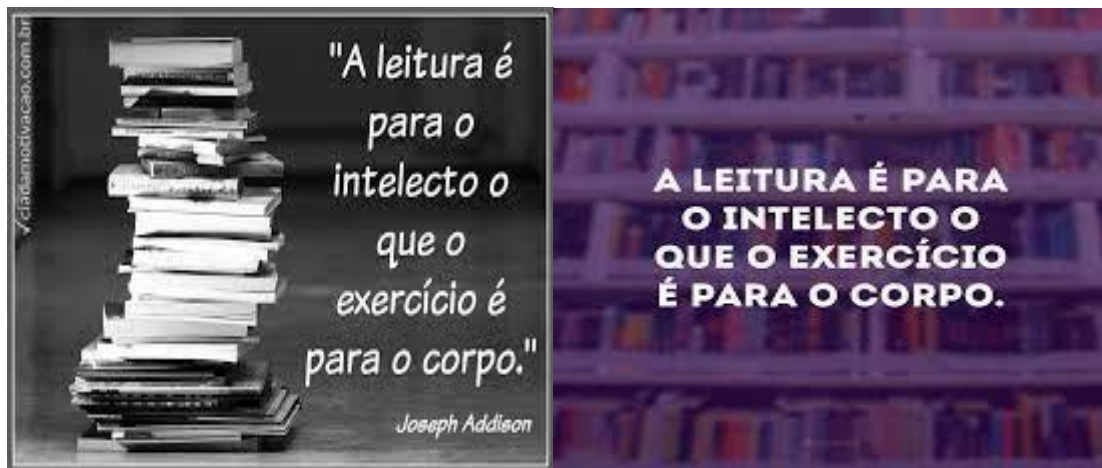
A B C D E F G H I J L M

N O P Q R S T U V X Z

Escola: _____

Nome: _____

Data:



CRIE UMA FRASE ILUSTRATIVA SOBRE A LEITURA!!!

Escola: _____

Nome: _____

Data:

TÍTULO _____

REALIZE UM DESENHO PARA INTERPRETAR A HISTÓRIA:



Nome: _____

Data: ___/___/___

RESOLVA AS DIVISÕES E LIGUE AO SEU QUOCIENTE:

$$244 \overline{) 2}$$

38

$$396 \overline{) 3}$$

112

$$448 \overline{) 4}$$

122

$$190 \overline{) 5}$$

132

$$366 \overline{) 6}$$

61



	1	5
-	1	2
	<input type="text"/>	<input type="text"/>

	1	3
-	1	1
	<input type="text"/>	<input type="text"/>

	2	4
-	1	0
	<input type="text"/>	<input type="text"/>

	2	3
-	1	0
	<input type="text"/>	<input type="text"/>

	2	7
-	1	5
	<input type="text"/>	<input type="text"/>

	2	6
-	1	3
	<input type="text"/>	<input type="text"/>

	3	4
-	3	2
	<input type="text"/>	<input type="text"/>

	2	5
-	1	4
	<input type="text"/>	<input type="text"/>



aprenderebrincar.com

BRUNA TEM 19 EXERCÍCIOS PARA RESOLVER. ELA JÁ RESOLVEU 7. QUANTOS AINDA FALTAM?

RESPOSTA: _____



aprenderebrincar.com

EM UM JARDIM, HÁ 10 FLORES VERMELHAS E 25 FLORES AMARELAS. QUANTAS FLORES HÁ NO TOTAL NO JARDIM?

RESPOSTA: _____



aprenderebrincar.com

O SORVETEIRO TINHA 34 SORVETES NO CARRINHO. CONSEGUIU VENDER 13. QUANTOS SORVETES FALTAM ELE VENDER?

RESPOSTA: _____



aprenderebrincar.com

NO JOGO DE BASQUETE, ALICE FEZ 8 PONTOS E BIA FEZ 2. QUANTOS PONTOS BIA PRECISA FAZER PARA ALCANÇAR ALICE?

RESPOSTA: _____

TABUADA

COMPLETA!!!

1 $1 \times 0 = 0$ $1 \times 1 = 1$ $1 \times 2 = 2$ $1 \times 3 = 3$ $1 \times 4 = 4$ $1 \times 5 = 5$ $1 \times 6 = 6$ $1 \times 7 = 7$ $1 \times 8 = 8$ $1 \times 9 = 9$ $1 \times 10 = 10$	2 $2 \times 0 = 0$ $2 \times 1 = 2$ $2 \times 2 = 4$ $2 \times 3 = 6$ $2 \times 4 = 8$ $2 \times 5 = 10$ $2 \times 6 = 12$ $2 \times 7 = 14$ $2 \times 8 = 16$ $2 \times 9 = 18$ $2 \times 10 = 20$	3 $3 \times 0 = 0$ $3 \times 1 = 3$ $3 \times 2 = 6$ $3 \times 3 = 9$ $3 \times 4 = 12$ $3 \times 5 = 15$ $3 \times 6 = 18$ $3 \times 7 = 21$ $3 \times 8 = 24$ $3 \times 9 = 27$ $3 \times 10 = 30$	4 $4 \times 0 = 0$ $4 \times 1 = 4$ $4 \times 2 = 8$ $4 \times 3 = 12$ $4 \times 4 = 16$ $4 \times 5 = 20$ $4 \times 6 = 24$ $4 \times 7 = 28$ $4 \times 8 = 32$ $4 \times 9 = 36$ $4 \times 10 = 40$	5 $5 \times 0 = 0$ $5 \times 1 = 5$ $5 \times 2 = 10$ $5 \times 3 = 15$ $5 \times 4 = 20$ $5 \times 5 = 25$ $5 \times 6 = 30$ $5 \times 7 = 35$ $5 \times 8 = 40$ $5 \times 9 = 45$ $5 \times 10 = 50$
6 $6 \times 0 = 0$ $6 \times 1 = 6$ $6 \times 2 = 12$ $6 \times 3 = 18$ $6 \times 4 = 24$ $6 \times 5 = 30$ $6 \times 6 = 36$ $6 \times 7 = 42$ $6 \times 8 = 48$ $6 \times 9 = 54$ $6 \times 10 = 60$	7 $7 \times 0 = 0$ $7 \times 1 = 7$ $7 \times 2 = 14$ $7 \times 3 = 21$ $7 \times 4 = 28$ $7 \times 5 = 35$ $7 \times 6 = 42$ $7 \times 7 = 49$ $7 \times 8 = 56$ $7 \times 9 = 63$ $7 \times 10 = 70$	8 $8 \times 0 = 0$ $8 \times 1 = 8$ $8 \times 2 = 16$ $8 \times 3 = 24$ $8 \times 4 = 32$ $8 \times 5 = 40$ $8 \times 6 = 48$ $8 \times 7 = 56$ $8 \times 8 = 64$ $8 \times 9 = 72$ $8 \times 10 = 80$	9 $9 \times 0 = 0$ $9 \times 1 = 9$ $9 \times 2 = 18$ $9 \times 3 = 27$ $9 \times 4 = 36$ $9 \times 5 = 45$ $9 \times 6 = 54$ $9 \times 7 = 63$ $9 \times 8 = 72$ $9 \times 9 = 81$ $9 \times 10 = 90$	10 $10 \times 0 = 0$ $10 \times 1 = 10$ $10 \times 2 = 20$ $10 \times 3 = 30$ $10 \times 4 = 40$ $10 \times 5 = 50$ $10 \times 6 = 60$ $10 \times 7 = 70$ $10 \times 8 = 80$ $10 \times 9 = 90$ $10 \times 10 = 100$



○

1	7
X	2

□	□
---	---

○

2	2
X	3

□	□
---	---

○

2	3
X	4

□	□
---	---

○

1	2
X	2

□	□
---	---

○

2	1
X	3

□	□
---	---

○

1	5
X	4

□	□
---	---

11 - ANA BEATRIZ FOI VISITAR SUA AVÓ QUE MORA NA RUA DAS FLORES, NÚMERO TRINTA E QUATRO.

QUAL É O NÚMERO DA CASA DA AVÓ DA ANA BEATRIZ?



- () 26
- () 24
- () 34
- () 33

12 - VEJA AS CRIANÇAS BRINCANDO NO RECREIO DE RODA.

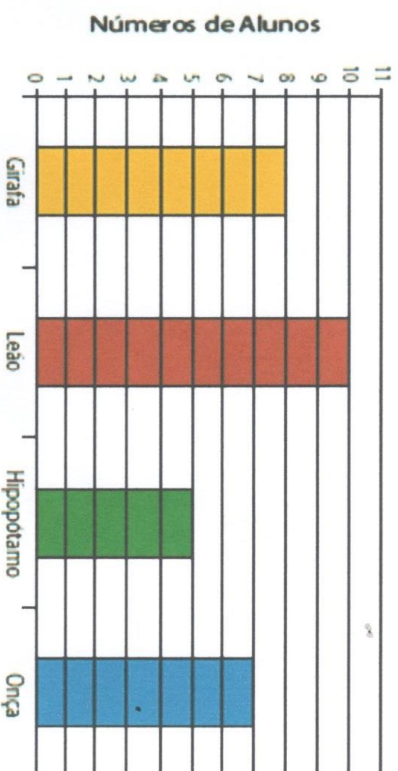


MARQUE UM X AO LADO DA FIGURA QUE LEMBRA ESSA BRINCADEIRA



13 - A PROFESSORA RENATA LEVOU SEUS ALUNOS AO ZOOLOGICO. ELA PEDIU QUE OS ALUNOS ESCOLHESEM SEUS ANIMAIS PREFERIDOS. AS ESCOLHAS DOS ALUNOS FORAM A PRESENTADAS NO GRÁFICO:

Animais preferidos dos alunos



QUANTOS ALUNOS ESCOLHERAM LEÃO?

QUANTOS ESCOLHERAM HIPOPÓTAMO?



Números até 100

Complete com os números faltantes



	2	3				7			
				15				19	
		23							30
					36				
41							48		
			54			57			
	62							69	
				75					80
81		83							
			94			97			100

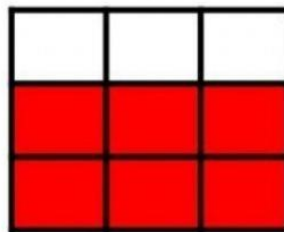
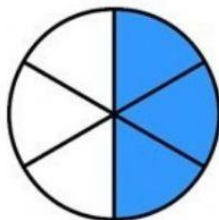
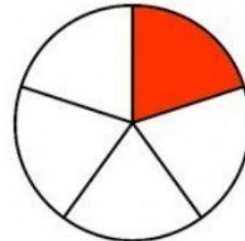

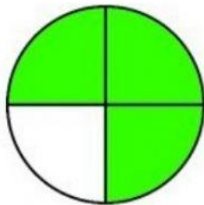
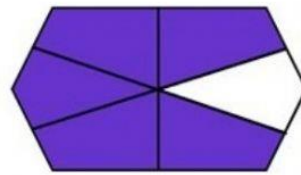
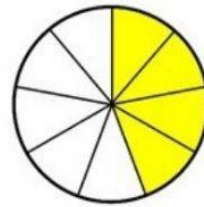



ESCOLA _____
DATA _____ SÉRIE _____
PRO _____
ALUNO(A) _____



Atividade

ESCREVA A FRAÇÃO CORRESPONDENTE:



Educação e Transformação

Escola:

Data: Turma: **ENSINOJA**

Aluno:

$$\begin{array}{r} 63 \\ + 24 \\ \hline \end{array}$$

$$\begin{array}{r} 42 \\ + 50 \\ \hline \end{array}$$

$$\begin{array}{r} 15 \\ + 63 \\ \hline \end{array}$$

$$\begin{array}{r} 71 \\ + 6 \\ \hline \end{array}$$

$$\begin{array}{r} 45 \\ + 32 \\ \hline \end{array}$$

$$\begin{array}{r} 86 \\ + 12 \\ \hline \end{array}$$

$$\begin{array}{r} 16 \\ + 52 \\ \hline \end{array}$$

$$\begin{array}{r} 45 \\ + 34 \\ \hline \end{array}$$

$$\begin{array}{r} 50 \\ + 19 \\ \hline \end{array}$$

$$\begin{array}{r} 61 \\ + 17 \\ \hline \end{array}$$

$$\begin{array}{r} 42 \\ + 36 \\ \hline \end{array}$$

$$\begin{array}{r} 54 \\ + 22 \\ \hline \end{array}$$

$$\begin{array}{r} 35 \\ + 41 \\ \hline \end{array}$$

$$\begin{array}{r} 27 \\ + 31 \\ \hline \end{array}$$

$$\begin{array}{r} 30 \\ + 49 \\ \hline \end{array}$$

$$\begin{array}{r} 15 \\ + 72 \\ \hline \end{array}$$

$$\begin{array}{r} 23 \\ + 54 \\ \hline \end{array}$$

$$\begin{array}{r} 41 \\ + 18 \\ \hline \end{array}$$

$$\begin{array}{r} 20 \\ + 59 \\ \hline \end{array}$$

$$\begin{array}{r} 62 \\ + 16 \\ \hline \end{array}$$

$$\begin{array}{r} 44 \\ + 33 \\ \hline \end{array}$$

$$\begin{array}{r} 51 \\ + 26 \\ \hline \end{array}$$

$$\begin{array}{r} 36 \\ + 61 \\ \hline \end{array}$$

$$\begin{array}{r} 25 \\ + 42 \\ \hline \end{array}$$

$$\begin{array}{r} 72 \\ + 12 \\ \hline \end{array}$$

<https://www.pmar.es.gov.br/uploads/files/atividades-pedagogicas-2021/5-e-6-semana---2ano.pdf>

<https://www.campograndenews.com.br/cidades/capital/prefeitura-disponibiliza-atividades-ludicas-durante-periodo-de-isolamento-social>

<https://onlinecursosgratuitos.com/24-atividades-com-fases-da-lua-para-imprimir/>

<https://atividadespedagogicas.net/2018/06/atividades-sobre-as-fases-da-lua.html>

<https://br.pinterest.com/pin/431923420503963755/>

<https://www.ensinandocomcarinho.com.br/2012/10/higiene-e-saude.html>

<https://br.pinterest.com/pin/695032154972090840/>

<https://ensinocominformatica.blogspot.com/2016/10/subtracao-com-reserva-03-e-0410.html?m=0>

<https://br.pinterest.com/pin/429108670745722593/>

<https://br.pinterest.com/pin/399272323201752615/>

<https://www.aprenderebrincar.com/2020/01/52-problemas-de-matematica-para-o-2-ano.html>

<https://amorensina.com.br/matematica-situacoes-problemas-e-valor-monetario/>

<https://miriamveiga.com.br/avaliacao-diagnostica-2-ano-matematica-parte-3/>

<https://pedagogiaaopedaleta.com/plano-de-aula-reciclando-o-lixo/>

<https://www.mestredosaber.com.br/atividades-de-caca-palavras/>

<https://atividadespedagogicas.net/2017/10/atividades-sobre-reciclagem-do-lixo.html>

<https://br.pinterest.com/pin/767863805206028656/>

<https://lagoaformosa.mg.gov.br/wp-content/uploads/2020/05/5%C2%BA-ANO-11%C2%AA-SEMANA.pdf>

<https://www.ferrovelhocoradin.com.br/cores-e-simbolos-da-reciclagem/>

<https://atividadesnotuxpaint.wordpress.com/matematica/>

<https://br.pinterest.com/mahelibrito/divis%C3%A3o/>

<https://br.pinterest.com/pin/312085449180270967/v>

<https://atividadesnotuxpaint.wordpress.com/matematica/>

https://www.liveworksheets.com/worksheets/pt/Matem%C3%A1tica/Fra%C3%A7%C3%B5es/Fra%C3%A7%C3%B5es_os1428517hy