



PREFEITURA DA ESTÂNCIA TURÍSTICA DE
IBIÚNA
Por uma Ibiúna próspera. Investindo no presente, gerando o futuro.



E.M. PREFEITO SEME ISSA


Aluno(a): _____

Ano: 1º ANO A Bairro: _____

Professor(a): NATHALIA Fone: _____

8ª APOSTILA 2021

dia da criança



Ser Criança

"Ser criança é acreditar que tudo é possível.
É ser inesquecivelmente feliz com muito pouco,
É se tornar gigante diante de gigantescos pequenos obstáculos.
Ser criança é fazer amigos antes mesmo de saber o nome deles.
É conseguir perdoar muito mais fácil do que brigar.
Ser criança é ter o dia mais feliz da vida, todos os dias.
Ser criança é o que a gente nunca deveria deixar de ser."
(Gilberto dos Reis)

www.mensagens.ws

- A apostila é referente aos dias (Referente aos dias: 05, 06, 19, 20, 21, 22, 23, 26, 27, 28, 29, 30/07 e 02, 03, 04, 05, 06/08 (17 dias);
- Esta APOSTILA deverá ser devolvida para correção **no dia 10/08 (TERÇA-FEIRA)**;

Atenciosamente

Equipe E.M "Prefeito Seme Issa"

NOME: _____ DATA: 05/07/2021



GALINHA

G



GATO

VAMOS COBRIR O PONTILHADO:

GA-GE-GI-GO-GU-GÃO

LIGUE A SÍLABA INICIAL À PALAVRA CORRESPONDENTE:

| | | | |
|--|--|----|-------------|
| | | GA | • GOLEIRO |
| | | GE | • GIRAFA |
| | | GI | • GATO |
| | | GO | • GUDE |
| | | GU | • GELADEIRA |

VAMOS PINTAR AS PALAVRAS COM A LETRA G?

| | | | |
|--|--------|--|--------|
| | GAIOLA | | GORILA |
| | MILHO | | BATATA |

HOJE EU ESTOU: 😊 😊 😐 ☹️

EFETUE E LIGUE A OPERAÇÃO AO RESULTADO:

| | |
|-----------|---|
| $4 + 3 =$ | 0 |
| $3 + 2 =$ | 8 |
| $3 + 1 =$ | 5 |
| $1 + 8 =$ | 3 |
| $6 + 2 =$ | 7 |
| $2 + 1 =$ | 4 |
| $0 + 0 =$ | 6 |
| $5 + 1 =$ | 9 |

– QUAL FOI O MENOR NÚMERO QUE APARECEU COMO RESULTADO?

R: _____

– QUAL SOMA TEVE O NÚMERO 6 COMO RESULTADO?

R: _____

– QUANTAS CRIANÇAS FALTAM PARA QUE HAJA 10 PESSOAS?

R: _____

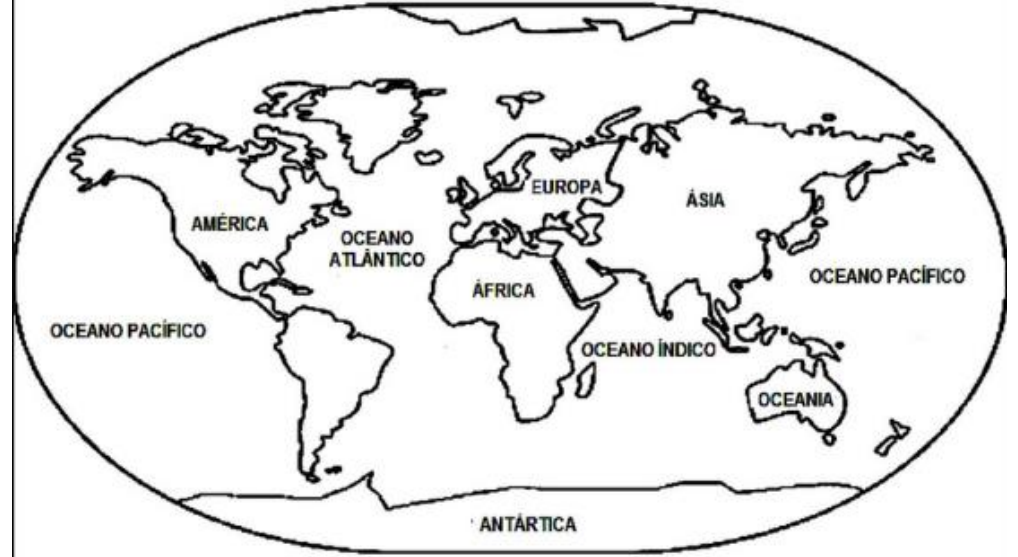
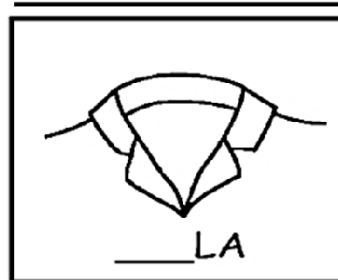


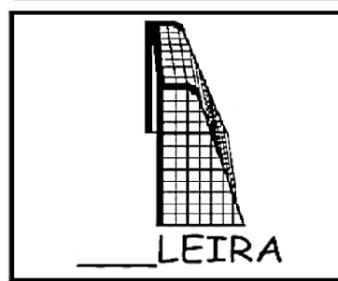
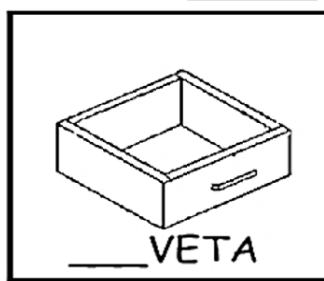
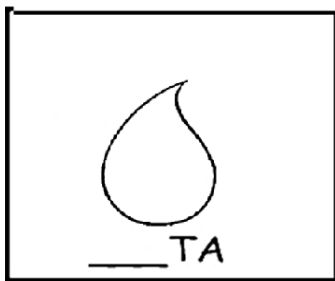





COMPLETE COM GA GO GU E COPIE:

DATA:06/07/2021

JOGOS OLÍMPICOS

GA - GE - GI - GO - GU - GÃO




DESDE A GRÉCIA ANTIGA, A CADA QUATRO ANOS, ATLETAS DE TODO O MUNDO SE REÚNEM PARA DISPUTAR NUM CONJUNTO DE MODALIDADES ESPORTIVAS, OS **JOGOS OLÍMPICOS!**

A BANDEIRA OLÍMPICA REPRESENTA A UNIÃO DOS PAÍSES, EM SUA IMAGEM DE CINCO ANÉIS ENTRELAÇADOS. A COR AZUL, AMARELO, VERDE E VERMELHO SIMBOLIZAM OS POVOS DE TODOS OS CONTINENTES E OS PRINCÍPIOS OLÍMPICOS: A PAZ, A AMIZADE, E O BOM RELACIONAMENTO ENTRE OS POVOS.

>>>> PESQUISE: QUAIS SÃO AS CORES DOS ANÉIS OLÍMPICOS E PINTE O DESENHO.

ANÉIS OLÍMPICOS



E AGORA, COMO FICA?

DATA:19/07/2021

RESOLVA COMO PREFERIR: ARMANDO A CONTINHA OU DESENHANDO.



PAULO TINHA 19 LENÇOS DE PAPEL. ELE USOU 5 LENÇOS.
COM QUANTOS LENÇOS ELE FICOU?

DESENHO

| OPERAÇÃO | |
|----------|---|
| D | U |
| | |

RESPOSTA: ELE FICOU COM _____ LENÇOS.



PAULO FOI À FARMÁCIA DO JOSÉ E COMPROU 13 MÁSCARAS.
DEPOIS FOI ATÉ A FARMÁCIA DA ANA E COMPROU MAIS 09 MÁSCARAS.

COM QUANTAS MÁSCARAS PAULO COMPROU AO TODO?

DESENHO

| OPERAÇÃO | |
|----------|---|
| D | U |
| | |

RESPOSTA: PAULO COMPROU _____ MÁSCARAS.

OLÍMPIADAS 2021

VOCÊ SABIA?

OS GREGOS CRIARAM OS JOGOS OLÍMPICOS POR VOLTA DE 2.500 ANOS A.C. (ANTES DE CRISTO). OS TORNEIOS ERAM REALIZADOS COMO HOMENAGEM AOS DEUSES GREGOS.

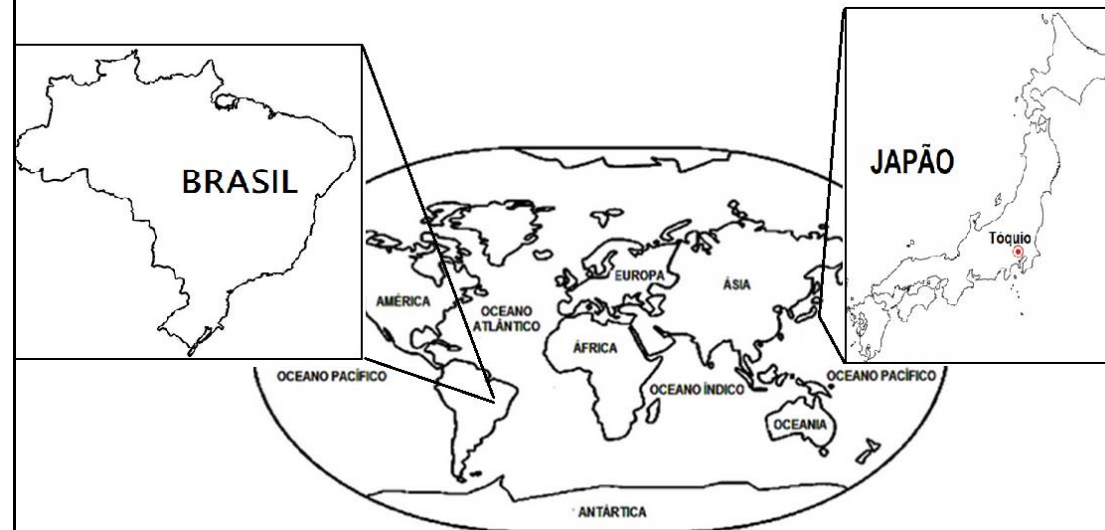
A TRADIÇÃO OLÍMPICA FOI PRESERVADA NA IDADE MODERNA E, ATUALMENTE, A CADA QUATRO ANOS OS JOGOS ACONTECEM EM UM LOCAL DIFERENTE, O CHAMADO PAIS SEDE.

AS OLÍMPIADAS ESTAVAM AGENDADAS PARA SEREM REALIZADAS EM 2020, MAS FOI ADIADA PARA 2021 DEVIDO À PANDEMIA POR COVID-19, O CORONAVÍRUS.

O PAÍS SEDE SERA O JAPÃO, E AS COMPETIÇÕES SERÃO ORGANIZADAS EM SUA CIDADE CAPITAL, TÓQUIO, INICIANDO-SE EM 23 DE JULHO E COM ENCERRAMENTO EM 08 DE AGOSTO.

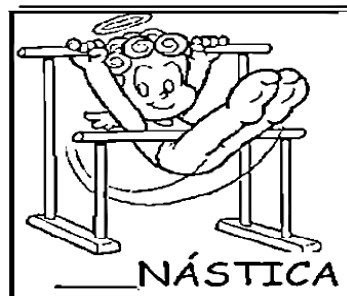
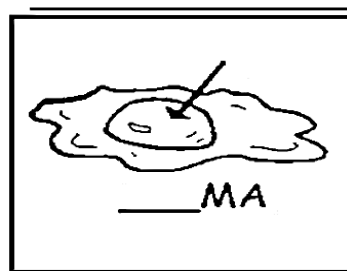

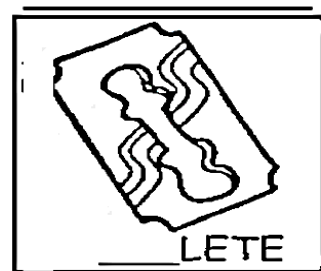





OBSERVE O MAPA MÚNDI ABAIXO E VEJA COMO O BRASIL E JAPÃO FICAM DISTANTES NO GLOBO TERRESTRE! A DIFERENÇA ENTRE ESTES PAÍSES É DE CERCA DE 12 HORAS, OU SEJA: QUANDO É MEIO DIA NO BRASIL. JÁ É MEIA NOITE NO JAPÃO!

O BRASIL POSSUI DIMENSÕES CONTINENTAIS, ENQUANTO O JAPÃO É FORMADO POR MUITAS ILHAS, GRANDES E PEQUENAS. OBSERVE:



AGORA, PINTE NO MAPA, O **BRASIL** DE VERDE E O JAPÃO, DE VERMELHO.

GA - GE - GI - GO - GU - GÃO



ANIMAIS DOMÉSTICOS E SELVAGENS

OS ANIMAIS DOMÉSTICOS SÃO AQUELES QUE VIVEM PERTO DE NÓS E SÃO UTILIZADOS PARA NOSSOS INTERESSES COMO ALIMENTAÇÃO, TRANSPORTE E TAMBÉM PARA BRINCAR E FAZER COMPANHIA.

OS ANIMAIS DOMÉSTICOS DEVEM SEMPRE SER BEM TRATADOS, DEVEM TER ACESSO À ÁGUA LIMPA E FRESCA, ALIMENTOS EM ABUNDÂNCIA, ABRIGO E PROTEÇÃO, RECEBER MUITO CARINHO E ATENÇÃO.



DOMÉSTICO OU SELVAGEM, DEVEMOS PROTEGER OS ANIMAIS!

ESCREVA O NOME DOS ANIMAIS E COLOQUE D PARA ANIMAIS DOMÉSTICOS E S PARA SELVAGENS:



T

G

C



G

C

C

CÃO – COELHO – GIRAFA – GATO – CAMELO – TIGRE

NAS COMPETIÇÕES OLÍMPICAS, OS PRIMEIROS COLOCADOS SOBEM AO PÓDIO PARA RECEBER UMA MEDALHA DE ACORDO COM A SUA COLOCAÇÃO. O ATLETA CLASSIFICADO EM 3º LUGAR RECEBE UMA MEDALHA DE **BRONZE**, O 2º COLOCADO RECEBE UMA MEDALHA DE **PRATA**, E O COMPETIDOR NO DEGRAU MAIS ELEVADO, O 1º LUGAR, É LAUREADO COM UMA MEDALHA DE **OURO**.

CADA EDIÇÃO DOS JOGOS OLÍMPICOS TEM SEU MASCOTE PRÓPRIO. DESTA VEZ, NOSSO PERSONAGEM É O SIMPÁTICO **MIRAITOWA**. SEU NOME VEM DA COMBINAÇÃO DAS PALAVRAS JAPONESAS “FUTURO” (MIRAI) E “ETERNIDADE” (TOWA), SIMBOLIZANDO A ESPERANÇA NUM FUTURO CHEIO DE ESPERANÇA ETERNA NO CORAÇÃO DE TODAS AS PESSOAS.

SEJA VOCÊ TAMBÉM UM CAMPEÃO E CAPRICHE NA PINTURA!



TEXTO FATIADO

DATA: 21/07/2021

RECORTE AS FRASES INDICADAS E COLE ABAIXO, MONTANDO NOVAMENTE O TEXTO:

A FOCA

QUER VER A FOCA FICAR FELIZ?

É POR UMA BOLA NO SEU NARIZ!

QUER VER A FOCA BATER PALMINHA?

É DAR A ELA UMA SARDINHA!

QUER VER A FOCA FAZER UMA BRIGA?

É ESPETAR ELA BEM NA BARRIGA!



| |
|--|
| |
| |
| |
| |
| |
| |
| |

----- ✂ ----- RECORTE ABAIXO ----- ✂ -----

| |
|----------------------------------|
| QUER VER A FOCA FICAR FELIZ? |
| É POR UMA BOLA NO SEU NARIZ! |
| QUER VER A FOCA BATER PALMINHA? |
| É DAR A ELA UMA SARDINHA! |
| QUER VER A FOCA FAZER UMA BRIGA? |
| É ESPETAR ELA BEM NA BARRIGA! |

PINTE OS ESPAÇOS ENTRE AS PALAVRAS E CIRCULE AS QUE SE INICIAM POR **G**

O GOLFINHO OLHA PRO CÉ
E DÁ UMA CAMBALHOTA.
ELE QUERIA VOAR
COMO AQUELA GAIVOTA.



A GIRAFA E O GATO OLHAM
CHICO BENTO, O CAIPIRINHA,
ABRAÇANDO COM CARINHO
GISELDA, A SUA GALINHA!

– QUANTOS ANIMAIS APARECEM NO TEXTO?

() 7 () 6 () 5

– O QUÊ O GOLFINHO QUERIA FAZER? _____


– QUEM O CHICO BENTO ABRAÇA?

() GATO () GIRAFA () GALINHA

– QUAL É O PÁSSARO MENCIONADO NO TEXTO?

() GAIVOTA () GAVIÃO () GALINHA

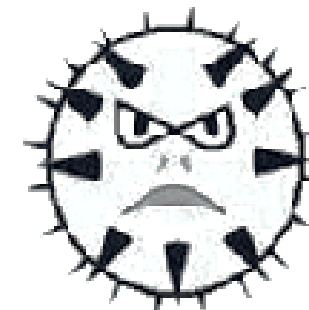
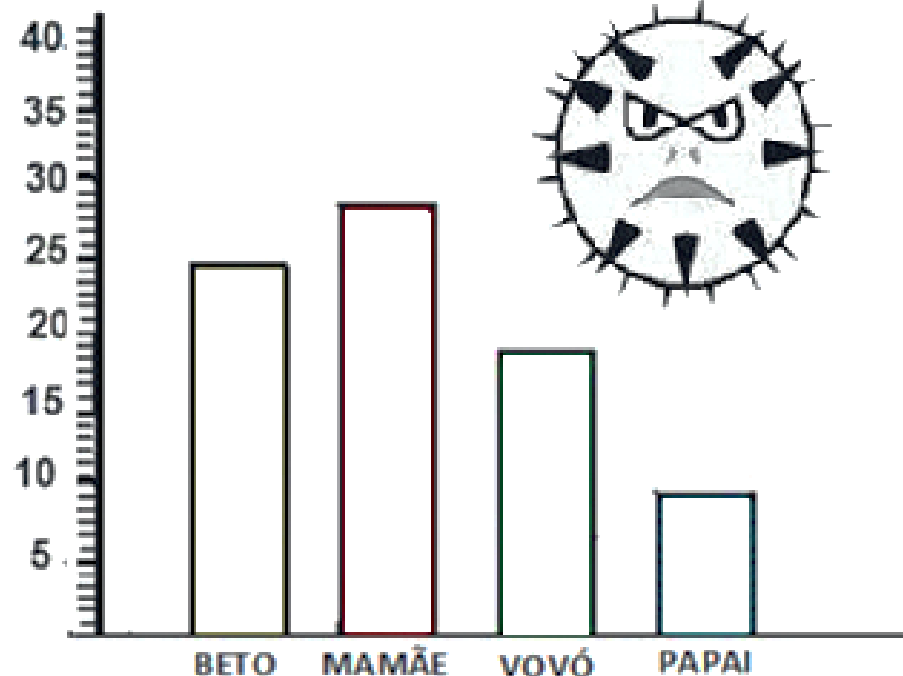
NUMERE AS FIGURAS IGUAL AO SEU NOME:



5 3 4 1 2
GUDE GIRAFA GOLEIRO GATO GELADEIRA

OBSERVE O GRÁFICO ABAIXO

DATA:22/07/2021



| | |
|-------|-------------|
| BETO | _____ VEZES |
| MAMÃE | _____ VEZES |
| VOVÓ | _____ VEZES |
| PAPAI | _____ VEZES |

ESSE GRÁFICO MOSTRA A QUANTIDADE DE VEZES QUE BETO E SUA FAMÍLIA LAVARAM AS MÃOS DURANTE O DIA. VAMOS ANALISAR O GRÁFICO E COMPLETAR A TABELA AO LADO.

AGORA RESPONDA

- QUEM LAVOU AS MÃOS MAIS VEZES? _____
- QUEM LAVOU AS MÃOS MENOS VEZES? _____
- QUANTAS VEZES A FAMÍLIA TODA LAVOU AS MÃOS DURANTE O DIA? _____

O GALO E O FIGO

DATA:23/07/2021

EFETUE AS ADIÇÕES, DE ACORDO COM OS DADINHOS:

O GALO ACORDOU COM FOME
E VIU UM GRÃO DE MILHO.
MAS O PATO PEGOU O GRÃO DE MILHO E DISSE:
- SAIA, GALO, O GRÃO DE MILHO É MEU...
E COMEU O MILHO.

O GALO VIU UM GRILO,
MAS O GRILO PULOU E DISSE:
- SAIA, GALO, EU NÃO SOU COMIDA NÃO...

O GALO VIU UM FIGO,
MAS GUTO APARECEU E DISSE:
- SAIA, GALO, O FIGO É MEU...
MAS O GALO NÃO OUVIU.
PEGOU O FIGO E O COMEU.



CIRCULE A RESPOSTA CERTA E ESCREVA-A NA LINHA:

1 - QUEM VÊ O FIGO?



PATO



SAPO



GALO

2 - QUAL A FRUTA QUE O GALO COMEU?



FIGO



MANGA



GOIABA

3 - QUEM GUTO MANDOU SAIR?



GATO



GALINHA



GALO

4 - QUEM DISSE "EU NÃO SOU COMIDA, NÃO"?



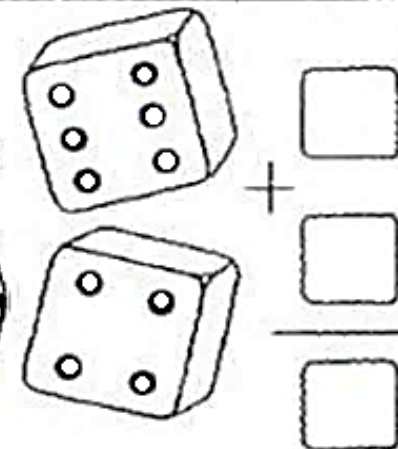
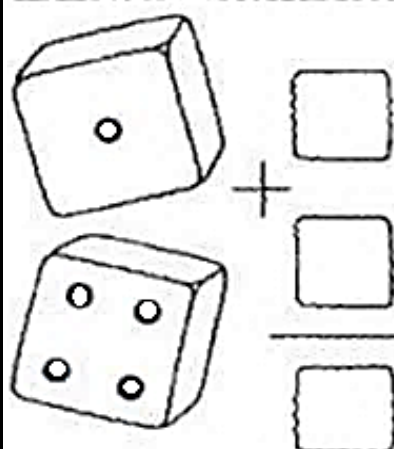
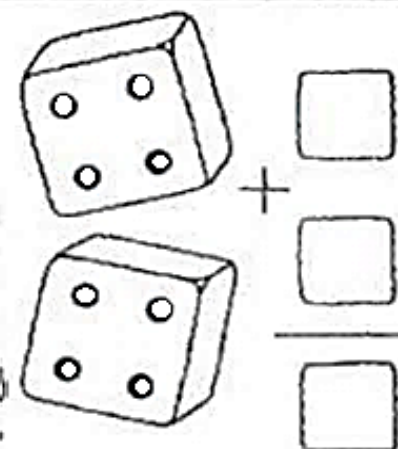

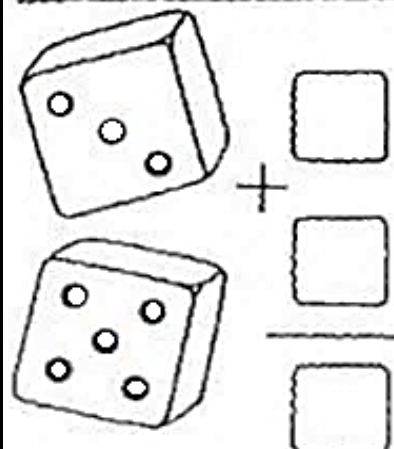
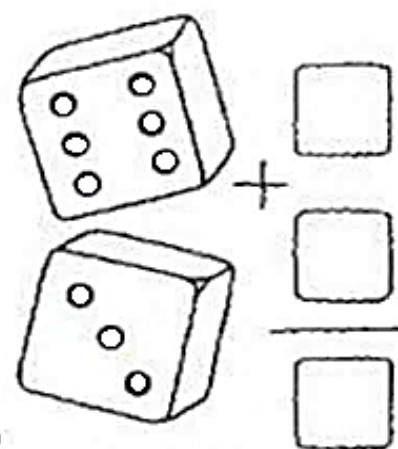

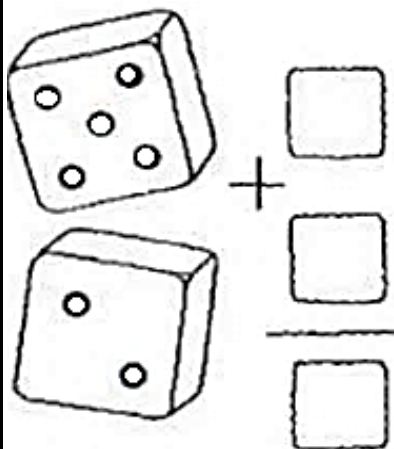
GATO



GRILO



PATO



LEIA E COPIE OS NÚMEROS POR EXTENSO:

| | | |
|----|-----------|--|
| 10 | DEZ | |
| 11 | ONZE | |
| 12 | DOZE | |
| 13 | TREZE | |
| 14 | QUATORZE | |
| 15 | QUINZE | |
| 16 | DEZESSEIS | |
| 17 | DEZESSETE | |
| 18 | DEZOITO | |
| 19 | DEZENOVE | |
| 20 | VINTE | |

AGORA, RESPONDA SOBRE OS NÚMEROS ACIMA:


- QUAL DOS NÚMEROS TEM O NOME COM MAIS LETRAS?

- E QUAL NÚMERO TEM O VALOR MAIS ALTO?


DEZENA E UNIDADE

DEZENA EQUIVALE A UM CONJUNTO DE 10 (DEZ) ELEMENTOS
UNIDADES SÃO AQUELES ELEMENTOS QUE CONTAMOS 1 (UM) CADA VEZ, E NÃO SOMAM 10 PARA FORMAR UMA DEZENA.

OU SEJA, DEZENA CONTÉM 10 E UNIDADE TEM MENOS QUE 10.



1 DEZENA de tomates



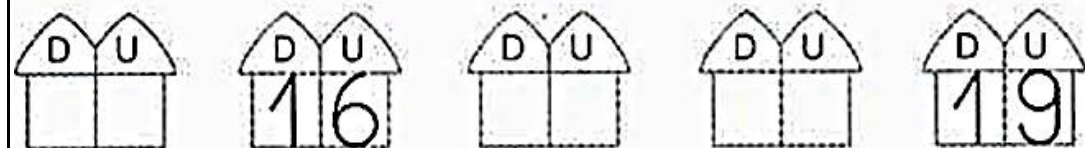
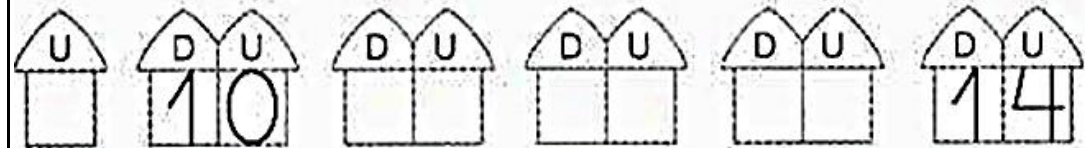
9 UNIDADES de tomates



TEMOS UMA DEZENA DE DEDOS. CINCO UNIDADES EM CADA MÃO.

Pinte as casinhas  de amarelo e as casinhas  de azul.

Escreva os numerais de 0 até 19 que estão faltando nas casinhas.




COMPLETE AS FRASES COM AS PALAVRAS : DATA:27/07/2021

| | | | |
|------|----------|--------|---------|
| GEMA | GIRASSOL | MÁGICO | PÁGINA |
| GELO | GILETE | GIRAFA | RELÓGIO |

TODO LIVRO TEM _____ .
 PARA FAZER A BARBA, PAPAÍ USA A _____ .
 O _____ É UMA FLOR AMARELA.
 MEU _____ ESTÁ SEM BATERIA.
 O OVO TEM CLARA E A _____ .
 O _____ DA GELADEIRA DERRETEU.
 O NOME DA _____ DO ZOOLOGICO É GIGI.
 QUEM FAZ MÁGICAS É O _____ .

CAÇA-PALAVRAS

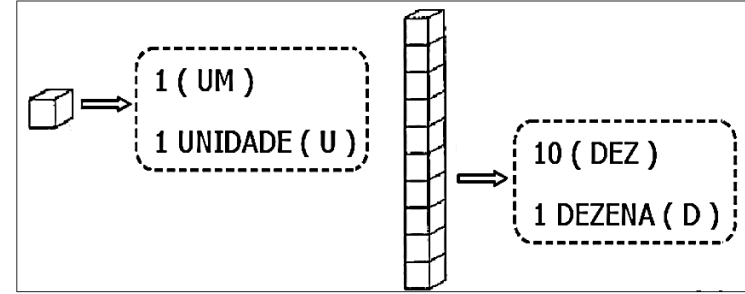


| | | | | | | | |
|---|---|---|---|---|---|---|---|
| W | Y | K | G | E | M | A | Q |
| T | Z | G | E | L | O | R | G |
| I | B | I | L | K | P | S | I |
| G | I | R | A | S | S | O | L |
| E | C | A | T | J | T | V | E |
| L | D | F | I | L | X | Z | T |
| A | H | A | N | W | K | K | E |
| F | M | N | A | Y | G | I | Z |
| A | E | B | F | C | G | D | H |

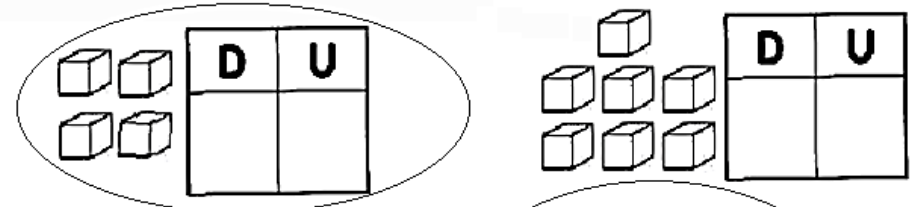


| | | | |
|--------|----------|----------|------|
| GEMA | GIRASSOL | GELATINA | GIZ |
| GILETE | TIGELA | GIRAFA | GELO |

DEZENA E UNIDADE

OBSERVE O "PALITO" QUE REPRESENTA A DEZENA: ELE POSSUI 10 PARTES, MAS CONTINUA SENDO 01 PEÇA. (ELE É COMO O SEU DEDINHO: TEM VÁRIOS PEDACINHOS MAS INDICA 01 DEDO SOMENTE.)




CONTE OS ELEMENTOS E PREENCHA AS TABELAS. (LEMBRE-SE: SE HOUVER MENOS DE 10, NÃO HÁ DEZENA, PORTANTO É 0 (ZERO))


APÓS COLORIR COM MUITO CAPRICHU, RECORTE OS ANIMAIS E COLE NO SEU LUGAR CORRETO:

SELVAGEM


DOMÉSTICOS



----- ✂ ----- RECORTE ABAIXO ----- ✂ -----



NOS JOGOS OLÍMPICOS SÃO PROMOVIDAS COMPETIÇÕES DE DIVERSOS ESPORTES COLETIVOS E INDIVIDUAIS COMO: BASQUETE, SALTOS ORNAMENTAIS, CICLISMO, GINÁSTICA RÍTMICA, CARATÊ, VÔLEI, SURFE, SKATE, BEISEBOL, NATAÇÃO, ATLETISMO E MUITO MAIS! SÃO **46 MODALIDADES!**



JOGOS PARALÍMPICOS

OS JOGOS PARALÍMPICOS (OU PARAOLÍMPICOS) ACONTECERÃO EM SEQUÊNCIA AOS JOGOS OLÍMPICOS, TAMBÉM EM TÓQUIO, DO DIA 24 DE AGOSTO ATÉ 05 DE SETEMBRO.

A PARALIMPIADA É A COMPETIÇÃO ESPORTIVA REALIZADA TAMBÉM A CADA QUATRO ANOS, E QUE ACOLHE DIVERSAS MODALIDADES ESPORTIVAS NAS QUAIS ATLETAS COM DEFICIÊNCIA COMPETEM.

ESTA COMPETIÇÃO É UM BOM EXEMPLO DE QUE AS DIFERENÇAS INDIVIDUAIS NÃO TÊM IMPORTÂNCIA, PORQUÊ TODOS OS SERES HUMANOS MERECEM RESPEITO E SÃO CAPAZES DE FEITOS EXTRAORDINÁRIOS, QUANDO TÊM IGUALDADE DE ACESSO E OPORTUNIDADE.




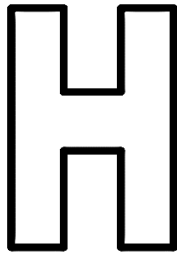
MASCOTE OFICIAL
JOGOS PARALÍMPICOS
TÓQUIO 2021



INDEPENDENTE DA MODALIDADE, COMPETIR EM NÍVEL OLÍMPICO POR UMA MEDALHA É UMA GRANDE REALIZAÇÃO, CONQUISTADA COM MUITO TREINO E DEDICAÇÃO!

A LETRA SEM SOM

DATA: 29/07/2021



HUMBERTO

HAMBÚRGUER

VAMOS COBRIR O PONTILHADO:

| | |
|--|--|
| | |
|--|--|

HA - HE - HI - HO - HU - HÃO

VAMOS, AGORA, COMPLETAR AS PALAVRAS:

| |
|------------|
| |
| HIPOPÓTAMO |
| HIPOPOTAMO |

| |
|-------|
| |
| HIENA |
| HIENA |

QUAIS PALAVRAS COMEÇAM COM A LETRA H?

VAMOS PINTAR AS FICHAS!

| | |
|--|--------|
| | COLHER |
|--|--------|

| | |
|--|---------|
| | FORMIGA |
|--|---------|

| | |
|--|-------------|
| | HELICÓPTERO |
|--|-------------|

| | |
|--|----------|
| | HOSPITAL |
|--|----------|


NÚMEROS EM ORDEM

NÚMEROS ORDINAIS SÃO AQUELES QUE ATRIBUÍMOS À ORDEM EM QUE OS ELEMENTOS ESTÃO DISPOSTOS, COMO NUMA FILA, POR EXEMPLO: PRIMEIRO, SEGUNDO, TERCEIRO...

PARA SIMBOLIZAR QUE O NÚMERO SIGNIFICA UMA ORDENAÇÃO, COLOCAMOS O SÍMBOLO ^o: 1^o, 2^o, 3^o, ETC...

RESPONDA:

- CIRCULE O 3^o, 5^o E 6^o URSINHO DA FILA.
- ANOTE COM NÚMEROS ORDINAIS AS POSIÇÕES DE CADA UM.




- O 1^o URSINHO USA UM _____ NA CABEÇA.
- O _____ USA UM CACHECOL NO _____.
- O URSINHO QUE USA ÓCULOS ESTÁ NO _____ LUGAR DA FILA.
- A URSINHA TEM UM _____ NA CABEÇA E ESTÁ NO _____ LUGAR.
- O _____ URSINHO TEM 3 FIOS DE CABELO NA CABEÇA.
- O ÚLTIMO URSINHO USA UM _____ E ESTÁ NO _____ LUGAR NA FILA.

LEIA O TEXTO E RESPONDA

DATA: 30/07/2021






A HEBE COLHEU NA HORTA
HORTALIÇAS BEM FRESQUINHAS.
AS PREFERIDAS DO HORÁCIO
SÃO AS ALFACES BEM VERDINHAS!

O HUMBERTO ADORA HISTÓRIAS
DE HERÓI VENCENDO O VILÃO.
QUANDO ELE LÊ OS QUADRINHOS,
NEM QUER SABER QUE HORAS SÃO.




- ONDE HEBE FEZ SUA COLHEITA? _____
- QUEM ADORA HISTÓRIAS? _____
- QUEM ADORA ALFACE VERDINHA? _____
- HUMBERTO GOSTA DE QUÊ? _____
- ONDE ELE LÊ ESSAS HISTÓRIAS? _____

VAMOS LIGAR:


| | | |
|---|---|------------|
|  | • | • HIENA |
|  | • | • HOSPITAL |
|  | • | • HUGO |
|  | • | • HARPA |
|  | • | • HÉLICE |

TIPOS DE FAMÍLIA

VEJA A FAMÍLIA DA MÔNICA E SEUS AMIGUINHOS E RESPONDA:




FAMÍLIA DA MÔNICA



FAMÍLIA DO HUMBERTO



FAMÍLIA DO CHICO BENTO




FAMÍLIA DO CASÇÃO



FAMÍLIA DO CEBOLINHA

QUANTOS TIPOS DE FAMÍLIA EXISTEM?
() 3 () VÁRIOS () 2




| FIGURAS | QUANTIDADE |
|---------|------------|
| | |
| | |
| | |
| | |

NA FILA DO CINEMA. PINTE APENAS A PRIMEIRA E A QUARTA PESSOAS:



PREENCHA A POSIÇÃO DE CADA PESSOA NA FILA:



COMPLETE AS SEQUÊNCIAS, ESCREVENDO DE 1 EM 1:

10 _____

20 _____

30 _____

MEU PAI, MEU HERÓI
ENTREVISTA COM O PAPAÍ

SEU NOME É: _____

SUA PROFISSÃO: _____

SUA COMIDA FAVORITA: _____

SUA COR PREDILETA: _____

SEU TIME DE FUTEBOL: _____

QUALIDADES: _____

DEFEITOS: _____

ELE CARREGA NA CARTEIRA: _____

SUA MÚSICA PREFERIDA: _____

O QUE ELE MAIS AMA NA VIDA: _____


SEU MAIOR SONHO: _____



TIPOS DE FAMÍLIA

DATA: 03/08/2021

TODA FAMÍLIA É FORMADA PELAS PESSOAS QUE MORAM NA NOSSA CASA E TAMBÉM POR AQUELAS QUE CUIDAM DA GENTE. UMA FAMÍLIA PODE TER PAIS, MÃE, IRMÃOS, AVÓS, TIOS OU OUTRAS PESSOAS QUE AMAMOS.



OBSERVE A CENA ACIMA E RESPONDA:

1) QUANTAS PESSOAS HÁ NESTA FAMÍLIA? _____

2) QUANTAS PESSOAS HÁ NA SUA FAMÍLIA? _____

3) FAÇA UM X NAS PESSOAS QUE MORAM COM VOCÊ:

- | | | |
|-------------------------------|--------------------------------|---------------------------------|
| <input type="checkbox"/> TIA | <input type="checkbox"/> VOVÔ | <input type="checkbox"/> MÃE |
| <input type="checkbox"/> TIO | <input type="checkbox"/> VOVÓ | <input type="checkbox"/> PAI |
| <input type="checkbox"/> IRMÃ | <input type="checkbox"/> IRMÃO | <input type="checkbox"/> PRIMOS |

SOMAR É LEGAL

PARA REALIZAR AS OPERAÇÕES DE ADIÇÃO COM NÚMEROS MAIORES DO QUE 10, PRECISAMOS ENCAIXAR OS NÚMEROS NAS "CASINHAS"

CERTAS: O QUARTINHO DAS DEZENAS E O DAS UNIDADES. **OBSERVE O MODELO E EFETUE AS ADIÇÕES:**

| | |
|--------------------|--------------------|
| 2° PASSO | 1° PASSO |
| D 2 + 3 5 | U 3 + 1 0 |

| | |
|-----|---|
| D | U |
| 2 | 2 |
| + 3 | 4 |
| 5 | 6 |

| | |
|-----|---|
| D | U |
| 4 | 5 |
| + 5 | 2 |
| | |

| | |
|-----|---|
| D | U |
| 7 | 9 |
| + 1 | 0 |
| | |

| | |
|-----|---|
| D | U |
| 6 | 5 |
| + 2 | 1 |
| | |

| | |
|-----|---|
| D | U |
| 8 | 6 |
| + 1 | 3 |
| | |

| | |
|-----|---|
| D | U |
| 7 | 0 |
| + 2 | 0 |
| | |

| | |
|-----|---|
| D | U |
| 6 | 4 |
| + 1 | 4 |
| | |

| | |
|-----|---|
| D | U |
| 2 | 9 |
| + 2 | 0 |
| | |

| | |
|-----|---|
| D | U |
| 5 | 6 |
| + 3 | 1 |
| | |

| | |
|-----|---|
| D | U |
| 4 | 2 |
| + 4 | 0 |
| | |

| | |
|-----|---|
| D | U |
| 7 | 2 |
| + 1 | 0 |
| | |

| | |
|-----|---|
| D | U |
| 3 | 8 |
| + 1 | 1 |
| | |

| | |
|-----|---|
| D | U |
| 6 | 0 |
| + 1 | 4 |
| | |

ENCAIXE PERFEITO

DATA: 04/08/2021

ESCREVA O NOME DOS NÚMEROS POR EXTENSO:



16 ↓

10 ↓

12 ↓

13 ↓

19 →

11 ↓

14 ↓

18 →

17 →

15 →

| | | | |
|-----------|----------|-----------|-----------|
| 10 | DEZ | 15 | QUINZE |
| 11 | ONZE | 16 | DEZESSEIS |
| 12 | DOZE | 17 | DEZESSETE |
| 13 | TREZE | 18 | DEZOITO |
| 14 | QUATORZE | 19 | DEZENOVE |

RESPONDA SOBRE OS MEMBROS DA FAMÍLIA:

OS FILHOS DOS MEUS AVÓS SÃO MEUS _____

OS FILHOS DOS MEUS PAIS SÃO MEUS _____

OS FILHOS DOS MEUS TIOS SÃO MEUS _____

OS IRMÃOS DOS MEUS PAIS SÃO MEUS _____

ENCONTRE NO CAÇA PALAVRAS:

| | | | | | | | | | | | | |
|---|---|---|---|---|---|---|---|---|---|---|---|---|
| L | O | P | O | S | M | Ã | E | O | S | Z | A | S |
| V | O | I | R | M | Ã | O | C | N | V | A | V | Ó |
| A | G | O | O | P | U | E | U | B | A | J | S | G |
| O | I | G | L | I | B | E | N | E | I | S | A | R |
| P | R | I | M | O | O | A | H | A | V | Ô | P | A |
| J | M | A | P | O | S | Z | A | L | P | A | I | N |
| J | Ã | A | P | O | B | A | D | J | O | B | R | P |
| R | V | E | G | E | N | R | O | L | S | T | I | A |











GENRO – SOGRA
 AVÓ – PRIMO
 CUNHADO – AVÔ
 MÃE – PAI
 IRMÃO – IRMÃ







A LETRA SEM SOM DATA: 05/08/2021
 COMPLETE E COPIE A PALAVRA FORMADA NA LINHA ABAIXO:

HA - HE - HI - HO - HU - HÃO

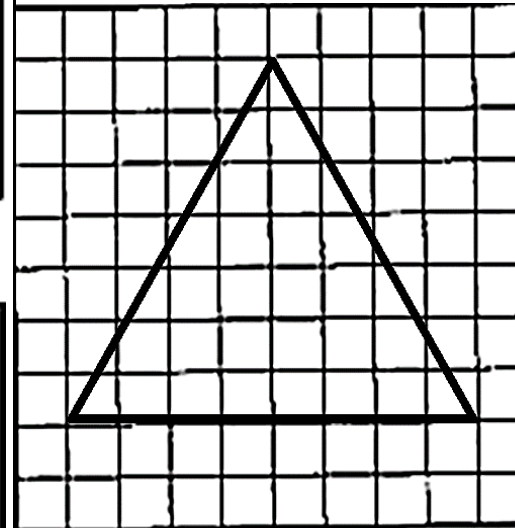

| | | | |
|---|---|--|---|
|  __ MBÚRGUER |  __ MEM |  __ SPITAL |  __ STÓRIA |
|---|---|--|---|

| | | | |
|---|---|--|---|
|  __ LICE |  __ LICÓPTERO |  __ LOFOTE |  __ POPÓTAMO |
|---|---|--|---|

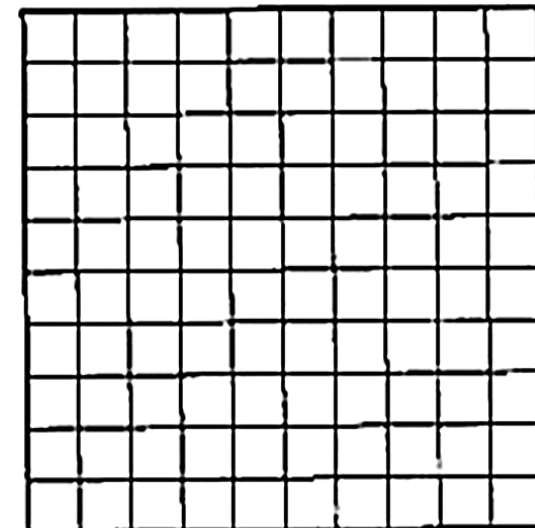
| | | | |
|---|--|---|--|
|  __ TEL |  __ RA |  __ RTA |  __ RTÊNSIA |
|---|--|---|--|

DESENHANDO COM FORMAS GEOMÉTRICAS


OBSERVE O MODELO E DSENHE A FORMA GEOMÉTRICA INDICADA:



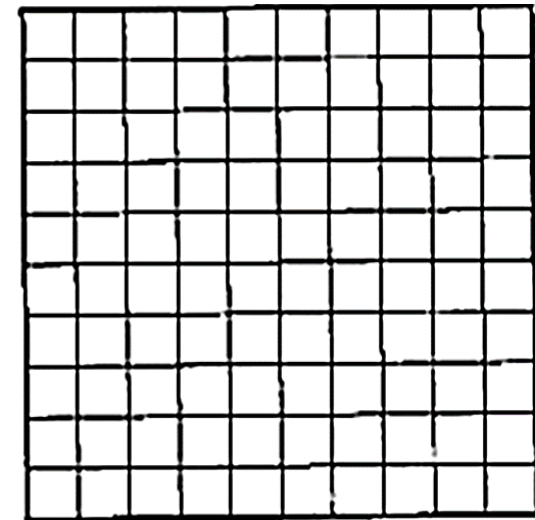
TRIÂNGULO



CÍRCULO



RETÂNGULO



QUADRADO

O HIPOPÓTAMO GULOSO

DATA: 06/08/2021

CIRCULE NO TEXTO AS PALAVRAS QUE CONTENHAM A FAMÍLIA SÍLABICA DA LETRA H:

HA – HE – HI – HO – HU – HÃO



O HIPOPÓTAMO HORÁCIO
UMA HORTA FOI ROUBAR
LÁ HAVIA UM HOMENZINHO
QUE COM ELE QUIS BRIGAR

CORREU DA HORTA
O HIPOPÓTAMO FUJÃO
ACABOU NO HOSPITAL
COM UMA GRANDE INDIGESTÃO.

REESCREVA AS PALAVRAS QUE VOCÊ DESTACOU:

| | |
|-------|-------|
| _____ | _____ |
| _____ | _____ |
| _____ | _____ |
| _____ | _____ |

EM AGOSTO COMEMORAMOS O DIA DOS PAIS!



PROCURAR NO DIAGRAMA ABAIXO A PALAVRA PAPAI:



| | | | | | | | | | | |
|---|---|---|---|---|---|---|---|---|---|---|
| Q | W | P | A | P | A | I | E | R | T | Y |
| P | A | P | A | I | U | I | O | A | S | D |
| F | G | H | J | P | A | P | A | I | K | L |
| Z | P | A | P | A | I | X | C | V | B | N |
| M | Q | V | Z | W | S | P | A | P | A | I |
| X | E | D | P | A | P | A | I | C | R | F |


QUANTAS VEZES A PALAVRA PAPAÍ APARECE NO DIAGRAMA?

AJUDE O CEBOLINHA A ENCONTRAR O SEU PAI!



MUITO ESPECIAL POR QUÊ EU QUE FIZ

PINTE BEM CAPRICHADO E, COM A AJUDA DE UM ADULTO, RECORTE EM VOLTA DO DESENHO DO CELULAR (NÃO SEPRE AS DUAS PARTES DO DESENHO), E DOBRE AO MEIO PARA FORMAR O CARTÃO. PREENCHA COM O NOME DA PESSOA QUE VAI RECEBER O CARTÃO, E COM O SEU NOME TAMBÉM. VOCÊ PODE ESCREVER UMA MENSAGEM OU FAZER UM DESENHO DENTRO DO CARTÃO.



OBSERVAÇÕES E ORIENTAÇÕES:

- JAMAIS FAÇA AS ATIVIDADES PELA CRIANÇA! O PROFESSOR JÁ SABE A RESPOSTA, MAS O PROCESSO DA ATIVIDADE E O REGISTRO DA RESPOSTA FAZEM PARTE IMPORTANTE DO PROCESSO DE APRENDIZADO DA CRIANÇA!


- QUALQUER DÚVIDA, ESTOU SEMPRE À DISPOSIÇÃO!

ATENCIOSAMENTE,

PROFESSORA NATHALIA ☆

COMO O CORONAVÍRUS É TRANSMITIDO?

Este vírus pode ser transmitido através:



PARA PREVENIR EVITE:



EVITE SAIR DE CASA, MAS QUANDO FOR,
UTILIZE SEMPRE A MÁSCARA!

REFERÊNCIAS

- 1 - <http://alfabetizandocomunicaeturma.blogspot.com/>
- 2 - [Método das Boquinhas – Renata Jardim \(metododasboquinhas.com.br\)](http://metododasboquinhas.com.br)
- 3 - <https://casaconstrucao.org/artesanato/dobradura-de-cachorro/>
- 4 – Coleção livros didáticos Ápis 1o ano, Editora Ática, 3a Edição, São Paulo. (distribuídos para toda a rede municipal)
- 5 – Mapa Múndi e informações Jogos Olímpicos - <https://suportegeografico77.blogspot.com/>
- 6 - <http://brcomunica.net.br/silabas-com-a-letra-g/>
- 7 - Possui propriedade deste material? Entre em contato para ser referenciado.
- 8 - No copyright infringement intended. Please, choose for reference me.
- 9 - Keine Absicht, das Urheberrecht zu verletzen. Senden Sie mir eine E-Mail und wir werden einen Link zu Ihrem Smart-Produkt erstellen. Bitte wählen Sie mich als Referenz.
- 10 - Нет намерения нарушать авторские права. Отправьте мне электронное письмо, и мы сошлемся на ваш интеллектуальный продукт. Пожалуйста, выберите для справки меня.
- 11 - Sin intenciones de infringir los derechos de autor. Por favor, elige como referencia mí.