

E.M. “PROFESSORA YOLANDA AGOSTINHO DE LIMA.”

MINHAS ATIVIDADES



PROFESSORA: TATIANE DE BARROS.

TURMA: 2º ANO B

ALUNO(A): _____

8ª APOSTILA: 05/07/2021 À 06/08/2021

ENTREGA: 23/07/2021 DEVOLUÇÃO NA ESCOLA:10/08/2021

SENHORES PAIS

ESTAMOS INICIANDO O 3º BIMESTRE, E À PARTIR DESTA, IREMOS COMEÇAR A USAR OS LIVROS DIDÁTICOS, PARA OS ALUNOS IREM SE HABITUANDO. ESPERAMOS VOLTAR À NOSSA ROTINA EM BREVE, POR ISSO, SE FAZ NECESSÁRIO TAL USO.

A PRINCÍPIO, IREI MANDAR O LIVRO ÁPIS LÍNGUA PORTUGUESA E O LIVRO CURRÍCULO EM AÇÃO- EMAI-VOLUME 1, PARA ATIVIDADES DE MATEMÁTICA.

ROTEIRO DE ESTUDOS

LIVRO: ÁPIS-LÍNGUA PORTUGUESA

<u>DATA</u>	<u>PÁGINA</u>
<u>19/07-20/07-21/07-22/07-23/07</u>	<u>APOSTILA</u>
26/07	10-SEU NOME
27/07	11-O QUE VOCÊ GOSTA
28//07	12-DIA DO SEU ANIVERSÁRIO
29/07	13-LEITURA:O MENINO E O MURO
30/07	14/15-DESENHO: MURO COLORIDO
02/08	16/17-MÚSICA: A GIRafa
<u>03/08 - 04/08 - 05/08 E 06/08</u>	<u>APOSTILA</u>


NOME: _____ DATA: 19/07/2021

LÍNGUA PORTUGUESA

PRESTE ATENÇÃO

Escreva as sentenças corretamente:

AONÇAÉTODAPINTADA



OJACARÉFICANALAGOA.

OLEÃOÉOREIDASELVA.

AGUITARRADOMENINOÉVERMELHA.

OPAPAIVIAJOUDETÁXI.

LUANASABETOCARFLAUTA.

ABONECALILIÉTODADEPANO

NOME: _____ DATA: 20/07/2021

LÍNGUA PORTUGUESA/CIÊNCIAS

O QUE É MEIO AMBIENTE?

O MEIO AMBIENTE É O LOCAL ONDE SE DESENVOLVE A VIDA NA TERRA, OU SEJA É A NATUREZA COM TODOS OS SERES VIVOS QUE NELA HABITAM E INTERAGEM.

EM RESUMO, O MEIO AMBIENTE ENGLOBA TUDO AQUILO QUE NOS CERCA, COMO ÁGUA, O SOLO, VEGETAÇÃO, CLIMA ANIMAIS, SERES HUMANOS DENTRE OUTROS.

RESPONDA

1- O QUE É MEIO AMBIENTE?



2-O QUE PODEMOS FAZER PARA PRESERVAR O MEIO AMBIENTE?

3-CITE EXEMPLOS DE:

ELEMENTOS VIVOS

ELEMENTOS NÃO VIVOS

<hr/>	<hr/>
<hr/>	<hr/>
<hr/>	<hr/>
<hr/>	<hr/>
<hr/>	<hr/>
<hr/>	<hr/>
<hr/>	<hr/>



NOME: _____ DATA: 21/07/2021

LÍNGUA PORTUGUESA/CIÊNCIAS

RECICLAGEM

RECICLAR É REAPROVEITAR MATERIAIS ORGÂNICOS E INORGÂNICOS PARA SEREM UTILIZADOS NOVAMENTE.

QUALQUER COISA DE ORIGEM ANIMAL E VEGETAL É CONSIDERADO ORGÂNICO. TUDO AQUILO QUE NÃO TEM ORIGEM ORGÂNICA É CONSIDERADO INORGÂNICO.

OS ALIMENTOS POR EXEMPLO SÃO CONSIDERADOS ORGÂNICOS. AS SOBRAS DE ALIMENTOS COMO CASCAS DE LEGUMES E FRUTAS TAMBÉM SÃO ORGÂNICOS E PODEM SER REAPROVEITADOS.

OS MATERIAIS INORGÂNICOS COMO GARRAFAS DE VIDRO E PLÁSTICAS, LATAS DE REFRIGERANTE, PAPÉIS ENTRE OUTROS TAMBÉM PODEM E DEVEM SER RECICLADOS. NESSES CASOS, É COMUM QUE SE REUTILIZE O PRÓPRIO MATERIAL. LATAS DE REFRIGERANTE POR EXEMPLO, SÃO PROCESSADOS E TRANSFORMADOS EM OUTRAS LATAS.

PARA COLABORAR NO PROCESSO DE RECICLAGEM O LIXO DEVE SER SEPARADO EM RECIPIENTES COM CORES DIFERENTES.

PAPEL
PLÁSTICO
VIDRO
METAL
MARROM

AZUL
VERMELHO
VERDE
AMARELO
ORGÂNICO



NOME: _____ DATA: 22/07/2021

LÍNGUA PORTUGUESA/CIÊNCIAS

INTERPRETAÇÃO TEXTUAL

1- QUAL O TÍTULO DO TEXTO?

2- O QUE É RECICLAR?

3- NA SUA OPINIÃO POR QUE É IMPORTANTE RECICLAR O LIXO?

4- GUSTAVO ESTÁ SEPARANDO O LIXO DE ACORDO COM AS CORES DAS LIXEIRAS. VAMOS AJUDA-LO COLOCANDO O NOME DO RESÍDUO EM CADA LIXEIRA



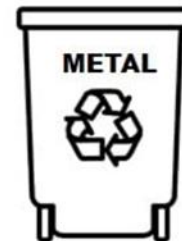
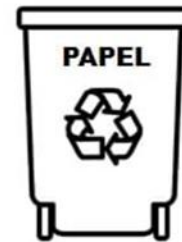

LÍNGUA PORTUGUESA/CIÊNCIAS

NEM TUDO É LIXO!

ALGUNS PRODUTOS SÃO REAPROVEITÁVEIS PARA FAZER NOVOS PRODUTOS. ESSE PROCESSO CHAMA-SE RECICLAGEM.



1- LIGUE CADA OBJETO À LATA DE LIXO PARA QUE ELES POSSAM SER RECICLADOS.



NOME: _____ DATA: 03/08/2021

LÍNGUA PORTUGUESA/ ED. FÍSICA.

VAMOS CONHECER UM POUCO MAIS SOBRE AS OLÍMPIADAS 2021 – TÓQUIO – JAPÃO

AS OLÍMPIADAS DE TÓQUIO, NO JAPÃO SERÃO REALIZADAS DE 23 DE JULHO A 8 DE AGOSTO DE 2021. ELAS FORAM ADIADAS POR 1 ANO DEVIDO A PANDEMIA DE COVID-19.

A 32ª EDIÇÃO DAS OLÍMPIADAS ACONTECERÁ COM 33 MODALIDADES ESPORTIVAS, COM PARTICIPAÇÃO DE MAIS DE 11 MIL ATLETAS, OS QUAIS REPRESENTARÃO MAIS DE 204 PAÍSES.

ESPORTES OLÍMPICOS:

ATLETISMO	KARATÊ
AQUÁTICOS	LUTAS
BADMINTON	PENTATLO MODERNO
BASQUETE	REMO
BEISEBOL/SOFTBALL	RUGBY
BOXE	SKATE
CANOAGEM	SURF
CICLISMO	TAEKWONDO
ESGRIMA	TÊNIS
ESCALADA	TÊNIS DE MESA
FUTEBOL	TIRO
GINÁSTICA	TIRO COM ARCO
GOLFE	TRIATLO
HALTEROFILISMO	VELA
HANDEBOL	VOLEIBOL
HIPISMO	
HÓQUEI SOBRE A GRAMA	
JUDÔ	

ALGUNS ESPORTES FORAM INCLUÍDOS AO HALL DE COMPETIÇÕES OLÍMPICAS ESSE ANO, E NESSA EDIÇÃO DESTACASSE O AUMENTO DA PARTICIPAÇÃO FEMININA NAS COMPETIÇÕES.



MASCOTES

OLÍMPICOS

NOME: _____ DATA: 04/08/2021

LÍNGUA PORTUGUESA/ ED. FÍSICA



João Pedro e seu irmão Simão estão na aula de natação.
O clube que eles freqüentam fica perto da casa deles, em frente à fábrica de botões.

Salomão é o professor. Ele nada tão bem como um tubarão.
Os meninos vestem seus calções e pulam na piscina. Salomão sempre elogia:

— Parabéns, crianças! Continuem assim que em breve serão campeões de natação.

Os meninos olham para ele com entusiasmo e satisfação.

Graça Batituci

1) Qual é o título do texto?

2) Quais são os nomes das crianças do texto?

3) Qual é o nome do professor de natação?

NOME: _____ DATA: 05/08/2021

LÍNGUA PORTUGUESA/HISTÓRIA

AMOR! PREENCHA A CRUZADINHA COM OS NOMES DOS OBJETOS QUE O PAPAI USA.

CRUZADINHA DO PAPAI

- 1-ELE USA TODO O DIA NO PULSO.
- 2-É GRANDE, TEM 4 RODAS E SÓ FUNCIONA COM COMBUSTÍVEL.
- 3-LOCAL ONDE ELE GUARDA O DINHEIRO.
- 4-É FORMADO DE 2 E VIVE ANDANDO NO CHÃO.
- 5-LOCAL ONDE ELE GUARDA AS CHAVES.
- 6-ELE USA NOS DIAS DE MUITO SOL.



1-								
2-								
3-								
4-								
5-								
6-								

AGORA, ESCREVA TRÊS FRASES SOBRE O PAPAI COM PALAVRAS DA CRUZADINHA.

NOME: _____ DATA: 06/08/2021

LÍNGUA PORTUGUESA/HISTÓRIA

MEU PAI, MEU HERÓI!

ENTREVISTA COM O PAPAÍ

SEU NOME É: _____

SUA PROFISSÃO: _____

SUA COMIDA FAVORITA: _____

SUA COR PREDILETA: _____

SEU TIME DE FUTEBOL: _____

QUALIDADES: _____

DEFEITOS: _____

ELE CARREGA NA CARTEIRA: _____

SUA MÚSICA PREFERIDA: _____

O QUE ELE MAIS AMA NA VIDA: _____

SEU MAIOR SONHO: _____




ROTEIRO DE ESTUDOS

LIVRO CURRÍCULO EM AÇÃO - EMAI VOL. 1 MATEMÁTICA

DATA	PÁGINA
05/07	11- VOCÊ E OS NÚMEROS
06/07	12- PREENCHER SEUS DADOS
19/07	13- PARABÉNS A VOCÊ
20/07	15- NOME DA SUA RUA
21/07	16- CENTOPÉIA
22/07	17- PLACAS DE CARRO
23/07	18- COLEÇÃO DE CARRINHOS
26/07	19- NÚMEROS
27/07	20- CALENDÁRIO
28/07	21- CALENDÁRIO
29/07	25- FILA/ORDEM
30/07	26- SEQUÊNCIA NUMÉRICA
02/08	APOSTILA
03/08	APOSTILA
04/08	APOSTILA
05/08	APOSTILA
06/08	APOSTILA

**BONS ESTUDOS!!
QUALQUER DÚVIDA
ESTOU A DISPOSIÇÃO.**



NOME: _____

DATA: 02/08/2021










MATEMÁTICA

BASQUETE

"COM PRECISÃO, COLOCAR A BOLA NA CESTA."

VAMOS PINTAR AS BOLAS!



3	
5	
7	
9	
1	
4	
8	
6	
2	

NOME: _____

DATA: 03/08/2021

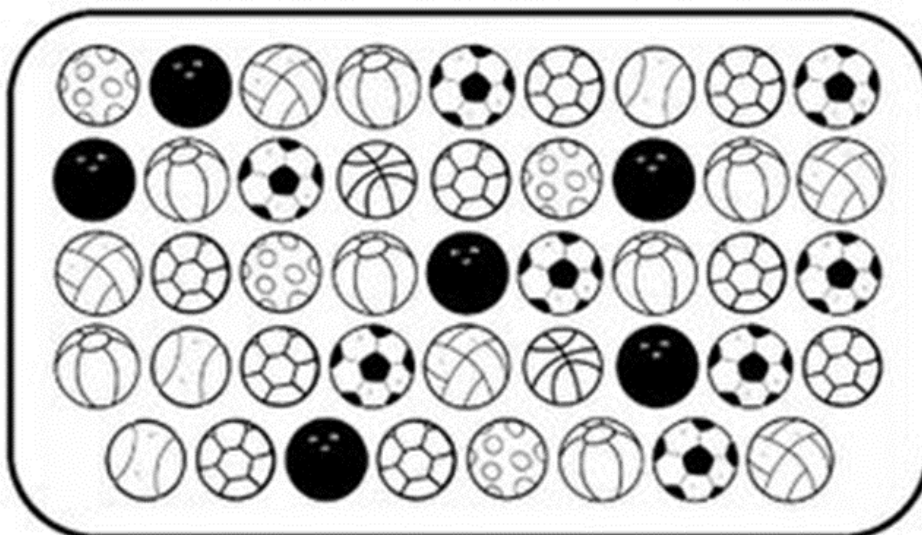
MATEMÁTICA/ ED. FÍSICA






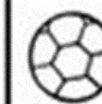


HANDEBOL

"SALTAR E FAZER GOL... COM A MÃO."



VAMOS CONTAR AS BOLAS!





							

NOME: _____

DATA: 04/08/2021




MATEMÁTICA


VAMOS RESOLVER AS OPERAÇÕES E LIGAR AO RESULTADO CORRETO:

 $\begin{array}{r} 9 \\ +6 \\ \hline \end{array}$
 $\begin{array}{r} 8 \\ +9 \\ \hline \end{array}$
 $\begin{array}{r} 2 \\ +8 \\ \hline \end{array}$
 $\begin{array}{r} 5 \\ +9 \\ \hline \end{array}$
 $\begin{array}{r} 7 \\ +5 \\ \hline \end{array}$




10
12
14
15
17




2) Observe os números e escreva o antecessor e o sucessor de:




		
	9	




		
	19	




		
	29	


		
	39	



		
	49	

		
	59	




		
	1	

		
	11	

		
	21	

		
	31	

		
	41	

		
	51	

NOME: _____

DATA: 05/08/2021

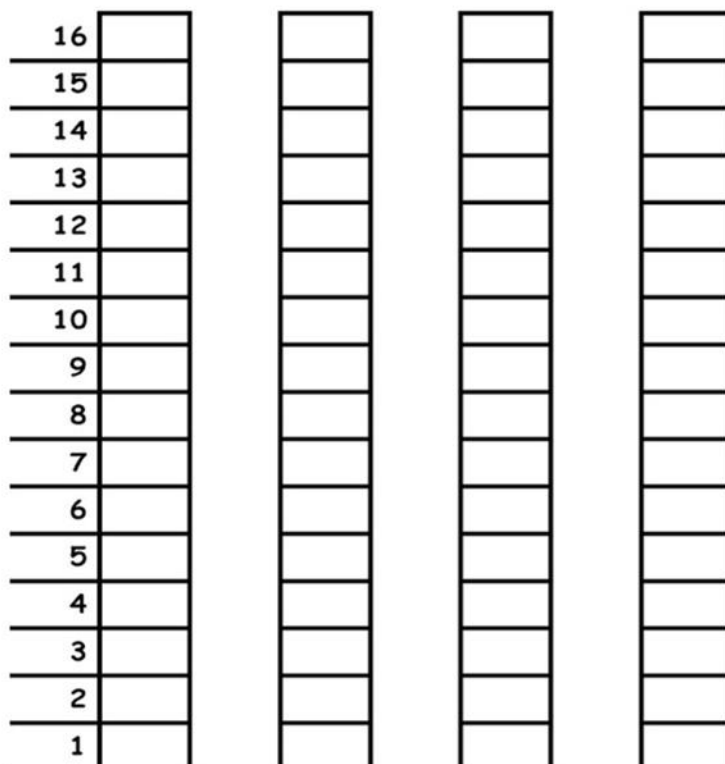
MATEMÁTICA

AS COISAS DO PAPAÍ

VEJA AS QUANTIDADES:

			
BONÉS 6	CAMISAS 12	CALÇAS 15	CINTOS 4

REPRESENTE NO GRÁFICO:



CINTOS **BONÉS** **CAMISAS** **CALÇAS**

NOME: _____

DATA: 06/08/2021

MATEMÁTICA

COMPLETE O CALENDÁRIO DO MÊS **AGOSTO**



D	S	T	Q	Q	S	S

DEPOIS DE COMPLETAR O CALENDÁRIO RESPONDA:

A) QUE MÊS COMEMORAMOS O DIA DOS PAIS?

B) QUAL O DIA DA SEMANA SERÁ O DIA DO PAPAÍ?

C) QUANTOS DIAS TEM O MÊS DE AGOSTO?

D) PINTE O DATA QUE SERÁ O DIA DOS PAIS.

E) QUAL O DIA DA SEMANA DE HOJE? PINTE A ESTRELA CORRESPONDENTE

