


IBIÚNA, 05 DE JULHO DE 2021

LEIA A CAPA DO LIVRO.



RESPONDA:

A) QUAL É O **TÍTULO** DO LIVRO?

B) NA CAPA DO LIVRO A GALINHA **DEMONSTRA**:

- () RAIVA
- () ALEGRIA
- () TRISTEZA
- () CANSAÇO

C) QUAL É O NOME DA EDITORA DO LIVRO?

IBIÚNA, 05 DE JULHO DE 2021

A GALINHA RUIVA



UM DIA A GALINHA RUIVA ENCONTROU SEMENTES DE MILHO E RESOLVEU PLANTAR.

ELA FOI ATÉ SEUS AMIGOS E FALOU:

- QUEM PODE ME AJUDAR A PLANTAR O MILHO PARA FAZER UM BOLO?



ELES FALARAM:

- NÓS ESTAMOS COM MUITO SONO!

ENTÃO A GALINHA RUIVA FOI E PLANTOU O MILHO SOZINHA.

O MILHO CRESCEU BONITO.

A GALINHA COLHEU O MILHO E PREPAROU UM DELICIOSO BOLO.



A) FAÇA COM ATENÇÃO O QUE SE PEDE:

CIRCULAR DE VERMELHO O TÍTULO.

COLORIR DE VERDE OS ESPAÇOS ENTRE AS PALAVRAS.

FAZER UM RETÂNGULO NA PALAVRA GALINHA.

B) A GALINHA ENCONTROU SEMENTES DE:

- () MILHO
- () PIMENTA
- () ALECRIM
- () MARGARIDA

C) A GALINHA RUIVA RESOLVEU _____ A SEMENTE.

IBIÚNA, 06 DE JULHO DE 2021

D) COMPLETE DE ACORDO COM O TEXTO.

O MILHO _____ BONITO.

A _____ COLHEU O MILHO E _____

UM _____ BOLO.

E) VAMOS AJUDAR A GALINHA RUIVA A PREPARAR UM BOLO DE FUBÁ? SEPRE OS INGREDIENTES DO BOLO E OS UTENSÍLIOS DOMÉSTICOS QUE ELA VAI USAR. RECORTE-OS E COLE-OS NO QUADRO ABAIXO.

INGREDIENTES	UTENSÍLIOS DOMÉSTICOS

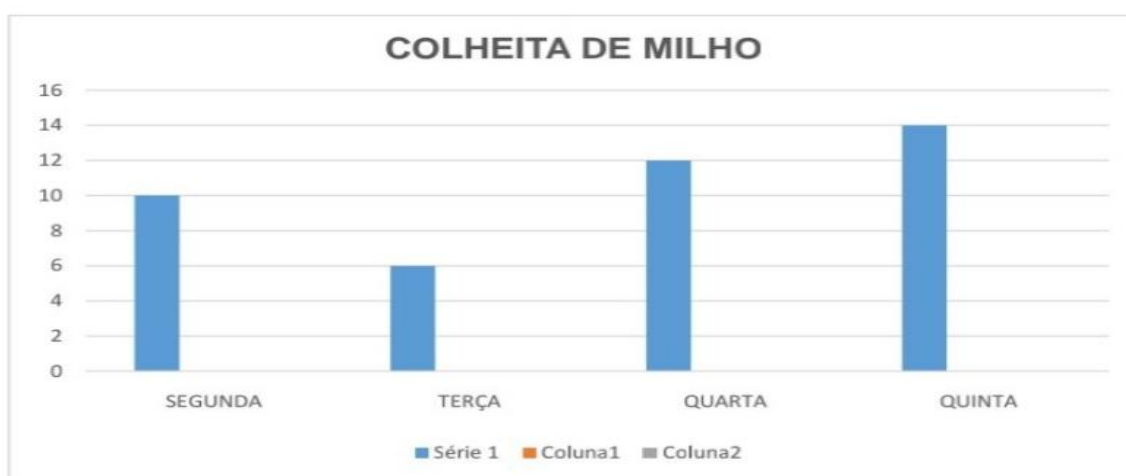
 FUBÁ	 FORMA	 AÇÚCAR	 COPO	 OVOS
 ÓLEO	 COLHER	 LEITE	 XÍCARA	 BATEDEIRA

IBIÚNA, 06 DE JULHO DE 2021

A GALINHA RUIVA FOI COLHER MILHO DURANTE 4 DIAS DA SEMANA.



OBSERVE O GRÁFICO.



A) O DIA DA SEMANA QUE A GALINHA COLHEU MENOS MILHO FOI:

- () TERÇA – FEIRA
- () QUARTA – FEIRA
- () QUINTA – FEIRA
- () SEGUNDA – FEIRA

B) QUANTOS MILHOS ELA COLHEU NA QUARTA – FEIRA?

C) QUANTOS MILHOS TERÁ JUNTANDO A COLHEITA DE SEGUNDA- FEIRA, TERÇA- FEIRA E QUINTA – FEIRA?

D) QUAL DIA A GALINHA COLHEU MAIS MILHO?

IBIÚNA, 19 DE JULHO DE 2021

RESOLVA AS ADIÇÕES:

$$\begin{array}{r} + \quad 452 \\ \quad 693 \\ \hline \end{array}$$

$$\begin{array}{r} + \quad 277 \\ \quad 998 \\ \hline \end{array}$$

$$\begin{array}{r} + \quad 604 \\ \quad 221 \\ \hline \end{array}$$

$$\begin{array}{r} + \quad 613 \\ \quad 850 \\ \hline \end{array}$$

$$\begin{array}{r} + \quad 533 \\ \quad 623 \\ \hline \end{array}$$

$$\begin{array}{r} + \quad 907 \\ \quad 754 \\ \hline \end{array}$$

$$\begin{array}{r} + \quad 338 \\ \quad 390 \\ \hline \end{array}$$

$$\begin{array}{r} + \quad 668 \\ \quad 500 \\ \hline \end{array}$$

$$\begin{array}{r} + \quad 810 \\ \quad 502 \\ \hline \end{array}$$

$$\begin{array}{r} + \quad 329 \\ \quad 339 \\ \hline \end{array}$$


$$\begin{array}{r} + \quad 426 \\ \quad 479 \\ \hline \end{array}$$

$$\begin{array}{r} + \quad 851 \\ \quad 982 \\ \hline \end{array}$$

IBIÚNA, 19 DE JULHO DE 2021

HISTÓRINHAS MATEMÁTICAS

A) ESTER ESTÁ LENDO O LIVRO “GALINHA RUIVA” QUE TEM 154 PÁGINAS. ELA JÁ LEU 62. QUAL É O TOTAL DE PÁGINAS QUE ESTER TEM QUE LER?



RESPOSTA: _____

B) ESTER FICOU COM VONTADE DE COMER O BOLO DE FUBÁ DA GALINHA, ENTÃO RESOLVEU IR AO MERCADO COMPRAR OS INGREDIENTES, ELA GASTOU NO TOTAL R\$ 28,50 E PAGOU COM UMA NOTA DE R\$ 50,00. QUAL FOI O TROCO DE ESTER?



RESPOSTA: _____

IBIÚNA, 20 DE JULHO DE 2021

AGORA, OBSERVE AS CÉDULAS.



PARA FAZER A RECEITA DO BOLO A GALINHA PRECISOU COMPRAR
ALGUNS INGREDIENTES. **OBSERVE** O VALOR DE CADA.



AÇÚCAR
2 REAIS



MANTEIGA
3 REAIS




OVO
1 REAL





LEITE
4 REAIS


1- AGORA FAÇA O QUE SE PEDE:

VEJA QUANTOS PRODUTOS A GALINHA RUIVA COMPROU E COLOQUE O VALOR QUE ELA PAGOU.

A) 

B) 

C) 

D) 

E) OBSERVE A QUANTIA DE DINHEIRO QUE A GALINHA RUIVA E O PATO TÊM, E **RESOLVA** AS QUESTÕES A SEGUIR.

			
---	---	---	---

- QUANTO O PATO TEM? _____
- QUANTO A GALINHA RUIVA TEM? _____
- QUEM TEM MAIS? _____

IBIÚNA, 21 DE JULHO DE 2021

LIXO E RECICLAGEM



A SOCIEDADE ATUAL PRODUZ MONTANHAS DE LIXO DIARIAMENTE, OS HOMENS CONSOMEM MAIS DO QUE NECESSITAM PARA VIVER, AGEM COMO SE OS RECURSOS NATURAIS FOSSEM INESGOTÁVEIS. PURO ENGANO, TUDO QUE A NATUREZA LEVOU MILHÕES DE ANOS PARA CONSTRUIR, O HOMEM ESTÁ DESTRUINDO RAPIDAMENTE.

O QUE É REUTILIZAÇÃO?

NA REUTILIZAÇÃO, AO CONTRÁRIO DA RECICLAGEM, O MATERIAL NÃO ENTRA EM UM NOVO CICLO DE PRODUÇÃO. ELE É USADO PARA OUTROS FINS COMO FORMA DE COMBATER O DESPERDÍCIO. SABE AQUELE PAPEL USADO? PODE VIRAR BLOCO DE RASCUNHO. A ROUPA OU O CALÇADO QUE VOCÊ NÃO USA MAIS? PODEM CAIR BEM EM OUTRA PESSOA.

AS VANTAGENS DISSO? AO REAPROVEITAR MATERIAIS, COLABORAMOS COM A GESTÃO DO LIXO, JÁ QUE DAREMOS OUTRA FUNÇÃO PARA OS RESÍDUOS EM VEZ DE DESCARTÁ-LOS, E NA REDUÇÃO DA EXPLORAÇÃO DE RECURSOS NATURAIS.

O QUE É RECICLAGEM?

A RECICLAGEM É O ATO DE TRANSFORMAR UM RESÍDUO EM ALGO NOVO. AO COLOCAR O MATERIAL NUM NOVO CICLO DE PRODUÇÃO, DÁ-SE NOVA VIDA A ELE. O QUE ERA CONSIDERADO LIXO, É TRANSFORMADO E VOLTA COMO UM NOVO PRODUTO PARA A CASA DAS PESSOAS. E NÃO FICA ALI, NA NATUREZA, DEMORANDO ANOS E ANOS PARA SE DECOMPOR. ESSA AÇÃO SIMPLES PODE TRAZER UMA SÉRIE DE BENEFÍCIOS, SABIA? SEPARANDO OS MATERIAIS RECICLÁVEIS (PLÁSTICOS E METAIS, POR EXEMPLO) DE NOSSO LIXO E ENVIANDO-OS ÀS COOPERATIVAS DE RECICLAGEM, AJUDAMOS A DIMINUIR A QUANTIDADE DE RESÍDUOS QUE VÃO PARAR NOS LIXÕES E GERAMOS RENDA PARA VÁRIAS PESSOAS, ALÉM DE CONTRIBUIRMOS PARA A DIMINUIÇÃO DA DEMANDA POR MATÉRIA-PRIMA.

A QUANTIDADE DE LIXO PRODUZIDO NOS ÚLTIMOS ANOS, NA MAIORIA DAS CIDADES É DEPOSITADA EM ÁREAS CHAMADAS “LIXÕES” CAUSANDO SÉRIOS PROBLEMAS: COMO CONTAMINAÇÃO DAS ÁGUAS, PROLIFERAÇÃO DE RATOS, MOSCAS, BARATAS, PRODUÇÃO DOS GASES QUE ALTERAM O CLIMA DA TERRA. É POR ISSO QUE OS ECOLOGISTAS, OS CIENTISTAS E MUITAS PESSOAS SE PREOCUPAM COM ESSE ASSUNTO, PARA RESOLVER ESSE PROBLEMA, SURTIU À IDEIA DA RECICLAGEM QUE SIGNIFICA REAPROVEITAMENTO, RECICLAGEM É UMA FORMA DE ECONOMIA.

COLETA SELETIVA



A COLETA SELETIVA É UM MECANISMO DE RECOLHA DOS RESÍDUOS, OS QUAIS SÃO CLASSIFICADOS DE ACORDO COM SUA ORIGEM E DEPOSITADOS EM CONTENTORES INDICADOS POR CORES.

EXEMPLOS DE RESÍDUOS QUE PODEM SER RECICLADOS E UTILIZADOS COMO MATÉRIA PRIMA:

- **VIDRO:** POTES DE ALIMENTOS (AZEITONAS, MILHO, REQUEIJÃO, ETC.), GARRAFAS, FRASCOS DE MEDICAMENTOS, CACOS DE VIDRO.
- **PAPEL:** JORNAIS, REVISTAS, FOLHETOS, CAIXAS DE PAPELÃO, EMBALAGENS DE PAPEL.
- **METAL:** LATAS DE ALUMÍNIO, LATAS DE AÇO, PREGOS, TAMPAS, TUDOS DE PASTA, COBRE, ALUMÍNIO.
- **PLÁSTICO:** POTES DE PLÁSTICO, GARRAFAS PET, SACOS PLÁSTICOS, EMBALAGENS E SACOLAS DE SUPERMERCADO.
- **EMBALAGENS LONGA VIDA:** DE LEITE, DE TOMATE, DE SUCOS, ETC.

RESPONDA:

1)O QUE É REUTILIZAÇÃO?

IBIÚNA, 22 DE JULHO DE 2021

2) O QUE É RECICLAGEM?

3) QUAIS SÃO OS RESÍDUOS QUE PODEM SER UTILIZADOS COMO MATÉRIA PRIMA NA RECICLAGEM?

4) PARA QUE SERVE AS CORES DAS LIXEIRAS DA COLETA SELETIVA?

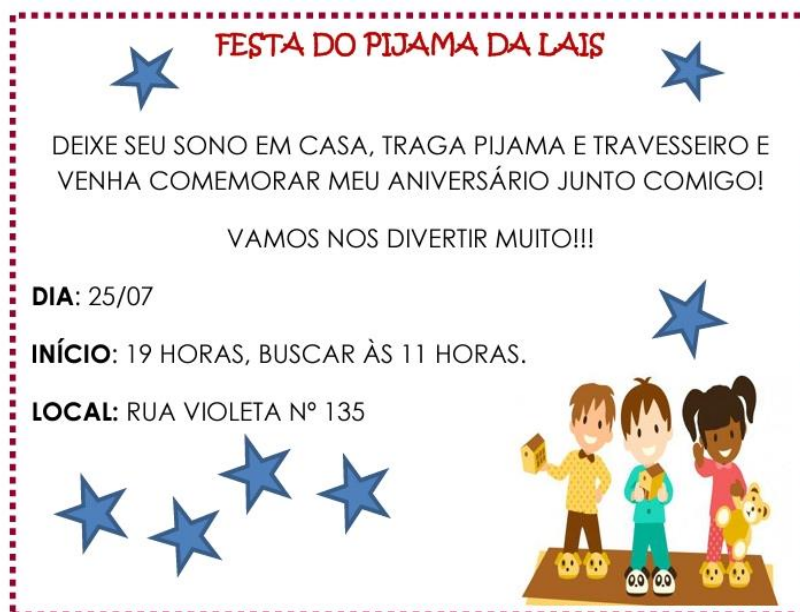
() PARA SEPARAR O LIXO PARA JOGAR FORA.

() PARA SEPARAR O LIXO DE FOLHAS DE VERDURAS, RESTOS DE MADEIRA E VIDRO.

() PARA SEPARAR O LIXO PARA SER RECICLADO.

() PARA SEPARAR O LIXO DE CASCAS DE FRUTAS, GARRAFAS PET, RESTOS DE MADEIRA.

IBIÚNA, 22 DE JULHO DE 2021



1) LEIA O CONVITE DE ANIVERSÁRIO E RESPONDA AS QUESTÕES ABAIXO.

A) QUAL É O TEMA DA FESTA DE LAÍS?

B) O QUE AS CRIANÇAS DEVEM LEVAR PARA ESSE ANIVERSÁRIO?

C) QUAL É O HORÁRIO DE INÍCIO DA FESTA DE LAÍS?

D) LAURA FOI CONVIDADA, MAS CHEGOU UMA HORA DEPOIS DO INÍCIO DA FESTA. QUE HORAS LAURA CHEGOU?

E) APÓS 3 HORAS DE FESTA CANTARAM PARABÉNS PARA LAÍS. QUE HORAS FOI O PARABÉNS DE LAÍS?

F) QUAL É O HORÁRIO DE TÉRMINO DA FESTA?

G) QUAL É A DURAÇÃO DA FESTA?

IBIÚNA, 23 DE JULHO DE 2021

AGORA É SUA VEZ! FAÇA UM CONVITE NO QUADRO AZUL ABAIXO, PARA A SUA FESTA DE ANIVERSÁRIO.

PARA FAZER UM CONVITE PENSE:

QUEM ESTÁ SENDO CONVIDADO?

QUAL É O MOTIVO DO CONVITE?

QUEM ESTÁ CONVIDADO?

QUAL O LOCAL DA FESTA?

QUAL A DATA?

QUAL O HORÁRIO?



O MOVIMENTO APARENTE DO SOL

O sol aparece todas manhãs do lado leste e parece caminhar no céu subindo e depois de um certo tempo descendo até desaparecer totalmente do lado oeste.

Quando olhamos para o céu temos a sensação de que o sol e as nuvens se movimentam, mas na verdade quem se movimenta é o planeta Terra.

O planeta Terra gira em torno de si mesma (**Rotação**). Esse movimento tem duração de 24h ou um dia. A Terra também realiza um movimento ao redor do Sol (**Translação**) que dura um ano.



Responda:

O Sol se movimenta no céu?

Quais são os movimentos do planeta Terra?


Características da Terra

A Terra é um planeta arredondado, ligeiramente achatado nos polos. Há dois polos: Polo Norte e Polo Sul.

Cerca de 71% da superfície da **Terra** é coberta por **água** em estado líquido. Do total desse volume, 97,4% aproximadamente, está nos oceanos, em estado líquido.

Ela faz movimentos muito importantes como:

- Movimento de Rotação - A Terra gira em volta de si mesma. Uma volta completa demora 24 horas, ou seja, um dia completo. Responsável pelo dia e pela noite.
- Movimento de Translação - A Terra gira em torno do sol. Esse movimento dura 365 dias e 6 horas, ou seja, um ano. Responsável pelas estações do ano.



<https://atividadespedagogicas.net/2019/04/atividades-sobre-o-movimento-de-rotacao-e-translacao.html>

1- Qual é a forma do planeta Terra? _____

2- Quantos polos existem no planeta Terra? E quais são eles?

3- Quais são os movimentos que o planeta Terra faz?

4- Qual é o movimento responsável pelo dia e pela noite?

5- Qual é o movimento responsável pelas estações do ano?

6- Qual é a porcentagem da superfície da Terra, coberta pela água?

Fontes Históricas

Os vestígios do passado estudados pelos historiadores são chamados de fontes históricas, que podem ser classificadas:

Fontes iconográficas: registros visuais, com pinturas, fotografias, desenhos, mapas e filmes.

Fontes escritas: cartas, as agendas, livros, jornais, revistas, documentos oficiais e qualquer outro tipo de documento.

Fontes orais: contadas pelas pessoas e que não tem registros escritos. Podem ser lendas, depoimentos, entrevistas, etc.

Observe as imagens abaixo:



Fonte:hemerotecafigital.cm-lisboa.pt



Explique quais são as fontes históricas das imagens **A** e **B**. Qual a classificação delas?


A

B

A Comunidade

A comunidade também pode ser formada por bairros, cidades, aldeias indígenas, conjunto de casas do campo entre outros.

Na comunidade, todos devem respeitar regras.



Fonte: Fernandoguifer.com.br

Na comunidade que você mora as pessoas respeitam algumas regras?

Cite algumas dessas regras.

Adjetivo

As palavras **maduro**, **amarelo**, **doce**, e **grande** são características do substantivo **mamão**.

As palavras que acompanham um substantivo dando-lhe qualidade ou defeito, chamam-se **ADJETIVOS**.

Marque um X nos adjetivos correspondentes a cada figura:

		
<input type="checkbox"/> madura	<input type="checkbox"/> gostoso	<input type="checkbox"/> maduro
<input type="checkbox"/> nova	<input type="checkbox"/> maduro	<input type="checkbox"/> feroz
<input type="checkbox"/> veloz	<input type="checkbox"/> veloz	<input type="checkbox"/> engraçado
<input type="checkbox"/> engraçada	<input type="checkbox"/> comprido	<input type="checkbox"/> atrapalhado

IBIÚNA, 28 DE JULHO DE 2021

2- Escolha dentro do quadro dois adjetivos para cada substantivo abaixo:

PELUDO	FEROZ	INTELIGENTE	BONITA
COMILÃO	ELEGANTE	ESPERTA	SABOROSA
ESTUDIOSO	ALEGRE	PERIGOSO	VERMELHA
PERFUMADA	ENGRAÇADO	COLORIDO	MADURA

















Observe a tirinha e responda.



a) Qual é o assunto do texto?

b) Como se chama a menina dos quadrinhos?


c) Escreva um título para história.

d) A menina sabia mesmo que as frutas eram de cera? Como você sabe disso?

IBIÚNA, 29 DE JULHO DE 2021

1- Complete a tabela, recortando as imagens e colando no lugar correto.

COMPRAMOS A:		
METRO	QUILO	LITRO




IBIÚNA, 30 DE JULHO DE 2021

➤ Complete a tabela com os números que estão faltando:

100			103				107	108	109
110			113	114					
120					125	126	127	128	129
130	131	132	133	134					
140									
150	151	152	153	154	155	156	157	158	159
160								168	169
170			173	174			177		
180	181	182							189
190				194	195	196	197	198	199

GEM OU CENTO



➤ Escreva os números em algarismos:

- a) Cem
- b) Cento e quatro
- c) Cento e trinta e um
- d) Cento e quarenta e dois
- e) Cento e cinquenta e quatro
- f) Cento e sessenta e cinco
- g) Cento e setenta e dois



IBIÚNA, 30 DE JULHO DE 2021

AS PESSOAS QUE TRABALHAM NA ÁREA DA SAÚDE

As pessoas que trabalham em hospitais, clínicas e policlínicas estão fazendo um trabalho muito importante nesse tempo de pandemia coronavírus, por isso temos que dá valor a esse pessoal. Entre os diversos profissionais da área da saúde, incluem-se nutricionistas, médicos, enfermeiros, psicólogos, biomédicos, técnicos e tecnólogos de rx entre outros.




Fonte: globo.globo.com/profissionais-de-saude acesso


1- Escreva uma mensagem de agradecimento aos profissionais da saúde.

IBIÚNA, 02 DE AGOSTO DE 2021

Complete a tabuada abaixo:



$$\begin{array}{l} 1 \times 1 = \underline{\quad} \\ 1 \times 2 = \underline{\quad} \\ 1 \times 3 = \underline{\quad} \\ 1 \times 4 = \underline{\quad} \\ 1 \times 5 = \underline{\quad} \\ 1 \times 6 = \underline{\quad} \\ 1 \times 7 = \underline{\quad} \\ 1 \times 8 = \underline{\quad} \\ 1 \times 9 = \underline{\quad} \\ 1 \times 10 = \underline{\quad} \end{array}$$




$$\begin{array}{l} 2 \times 1 = \underline{\quad} \\ 2 \times 2 = \underline{\quad} \\ 2 \times 3 = \underline{\quad} \\ 2 \times 4 = \underline{\quad} \\ 2 \times 5 = \underline{\quad} \\ 2 \times 6 = \underline{\quad} \\ 2 \times 7 = \underline{\quad} \\ 2 \times 8 = \underline{\quad} \\ 2 \times 9 = \underline{\quad} \\ 2 \times 10 = \underline{\quad} \end{array}$$

IBIÚNA, 02 DE AGOSTO DE 2021



$$\begin{array}{l} 3 \times 1 = \underline{\quad} \\ 3 \times 2 = \underline{\quad} \\ 3 \times 3 = \underline{\quad} \\ 3 \times 4 = \underline{\quad} \\ 3 \times 5 = \underline{\quad} \\ 3 \times 6 = \underline{\quad} \\ 3 \times 7 = \underline{\quad} \\ 3 \times 8 = \underline{\quad} \\ 3 \times 9 = \underline{\quad} \\ 3 \times 10 = \underline{\quad} \end{array}$$




$$\begin{array}{l} 4 \times 1 = \underline{\quad} \\ 4 \times 2 = \underline{\quad} \\ 4 \times 3 = \underline{\quad} \\ 4 \times 4 = \underline{\quad} \\ 4 \times 5 = \underline{\quad} \\ 4 \times 6 = \underline{\quad} \\ 4 \times 7 = \underline{\quad} \\ 4 \times 8 = \underline{\quad} \\ 4 \times 9 = \underline{\quad} \\ 4 \times 10 = \underline{\quad} \end{array}$$

IBIÚNA, 03 DE AGOSTO DE 2021

PROBLEMAS DE MULTIPLICAÇÃO


1- SE EU DER 3 BALAS PARA 3 CRIANÇAS, QUANTOS BALAS PRECISAREI?



2- SE EM UM PRATO TEM 7 BISCOITOS, QUANTOS BISCOITOS CABEM EM 2 PRATOS?


















3- SE UMA CAIXA TEM 8 OVOS. QUANTOS OVOS HÁ EM 2 CAIXAS?



IBIÚNA, 03 DE AGOSTO DE 2021

Calcule o valor total das cédulas abaixo.

	+		=	
	+		=	
	+		=	
	+		=	
	+		=	
	+		=	
	+		=	

	+		+		=	
	+		+		=	
	+		+		=	
	+		+		=	
	+		+		=	
	+		+		=	
	+		+		=	

IBIÚNA, 04 DE AGOSTO DE 2021

Leia as dicas e descubra qual o número escolhido em cada caso, como no exemplo:

Tem dois algarismos.
É menor que setenta.
Termina em cinco.
Está entre sessenta e setenta.

65

A

Tem dois algarismos.
É menor que trinta.
Termina em dois.
Está entre dez e vinte.

B

Tem dois algarismos.
É maior que cinquenta.
É menor que sessenta.
É composto por dois algarismos iguais.

C

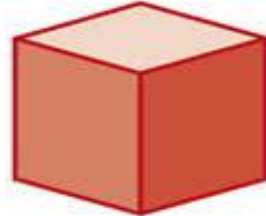
Tem três algarismos.
É menor que duzentos.
É maior que cem.
Termina em zero.
Está entre cento e cinco e cento e quinze.

D

Tem três algarismos.
Está entre duzentos e trezentos.
Está entre duzentos e oitenta e duzentos e noventa.
Termina em nove.

IBIÚNA, 04 DE AGOSTO DE 2021

2- ligue as figuras correspondentes.



cubo



esfera



cilindro



cone

IBIÚNA, 05 DE AGOSTO DE 2021

A RAPOSA E O GALO



Fugindo de uma raposa, as galinhas e o galo subiram na árvore. Como a raposa não poderia alcançá-los lá de baixo, cautelosamente disse ao galo:

- Vocês podem descer tranquilamente, que agora se decidiu fazer a paz universal entre todas as aves e animais; portanto, desçam aqui e vamos festejar juntos este dia!

O galo entendeu logo que se tratava de um ardil; mas com dissimulação respondeu:

- Esta novidade por certo é ótima e alegre, mas estou vendo três cães chegando. Vamos esperar por eles e então desceremos para comemorar todos juntos.

Porém a raposa, sem mais esperar, deu meia-volta dizendo:

- Bem, eu temo que eles ainda não saibam das novidades e me matem.

E assim a raposa foi embora bem depressa e as galinhas e o galo puderam descer, seguros.

Moral: Cuidado com amizades repentinas.

FONTAINE, Jean de La. Fábulas de Esopo. In: BRAGA, Teófilo. Contos tradicionais do povo português. Lisboa: Moderna Editora Laves. 1996.

Questões

1- Qual é o título do texto?

R:

2- Quantos parágrafos há no texto?

R: _____

IBIÚNA, 05 DE AGOSTO DE 2021

3- Quais são os personagens principais da história?

R:

4- Como as galinhas e o galo fizeram para fugir da raposa?

R:

5- O que a raposa fez para tentar fazer o galo e as galinhas descerem da árvore?

R:

6- Qual foi a reação do galo?

R:

7- Pesquise o significado das palavras abaixo e em seguida crie uma frase para cada palavra:

Cautelosamente:

R:

Ardil:


R:

Dissimulação:

R:

Complete o calendário abaixo e pinte os finais de semana de vermelho.

CALENDÁRIO AGOSTO DE 2021

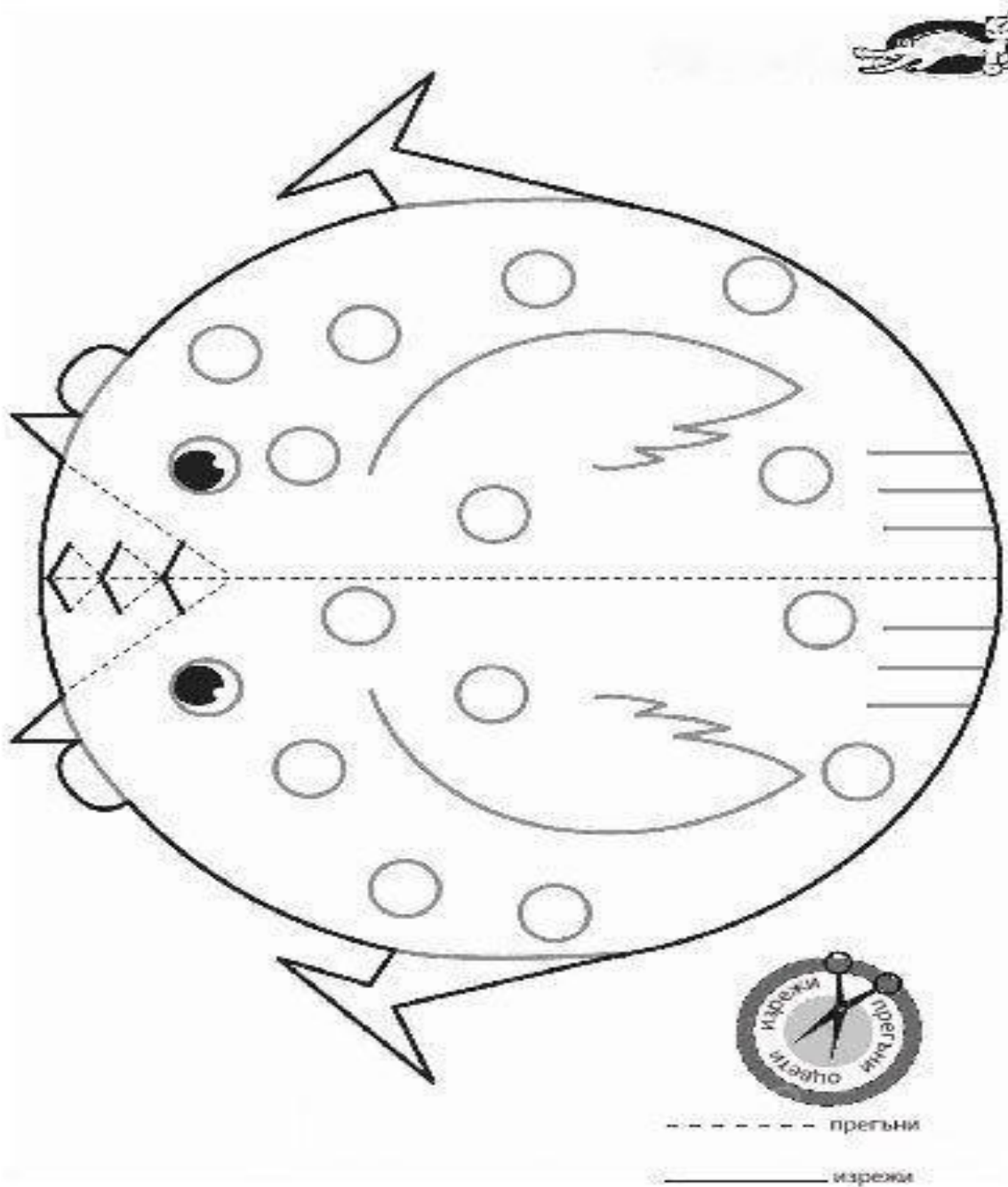
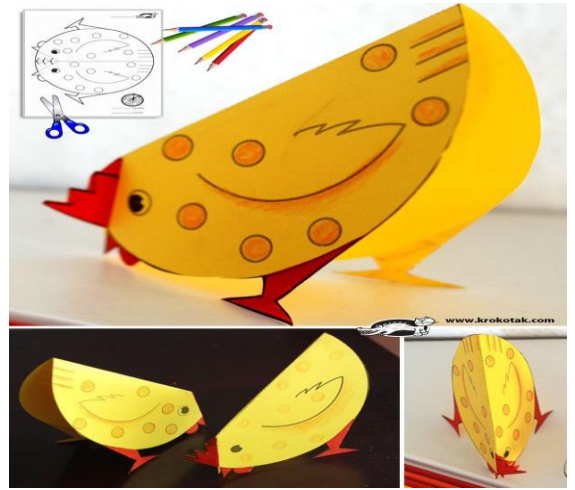


Dom	Seg	Ter	Qua	Qui	Sex	Sab

ARTES


Pinte o desenho abaixo, depois faça a dobradura para formar o galinho.

É so colorir, recortar e dobrar o desenho ao meio.



IBIÚNA, 06 DE AGOSTO DE 2021

COLAR O GALINHO AQUI:



REFERÊNCIAS

Sites:

<https://atividadesparaeducadores.blogspot.com/2017/01/livro-agalinha-ruiva.html>

<https://educacaoetransformacaooficial.blogspot.com/2021/03/sequencia-didatica-galinha-ruiva-andre.html>

materiaispedagogicos.com.br

<https://www.lipitipi.org/2011/07/tabuada-divertida-multiplicacao-1-9.html>

www.krokotak.com

<https://br.pinterest.com/pin/486599934740581904/>

<https://www.soescola.com/2016/12/nocoes-de-medidas-atividades-para-imprimir.html>

Apostilas em PDF:

- ✓ atividades 3ºano PDF prefeitura municipal de Fundão estado do espirito santo, secretária municipal de educação e sistema municipal de ensino 2021. 1º Bloco de atividades ensino fundamental I;
- ✓ atividades domiciliares PDF apostila II 3ºano- Ensino Fundamental- Prefeitura Municipal de São Vicente;
- ✓ atividades domiciliares PDF apostila III 3ºano- Ensino Fundamental- Prefeitura Municipal de São Vicente;
- ✓ atividades domiciliares PDF apostila IV 3ºano- Ensino Fundamental- Prefeitura Municipal de São Vicente;
- ✓ atividades domiciliares PDF apostila V 3ºano- Ensino Fundamental- Prefeitura Municipal de São Vicente;
- ✓ imagens: google imagens;
- ✓ caderno de atividades pedagógicas I PDF -3ºano- escola do campo;
- ✓ pdf– livro tindolê gramática 2º e 3º ano