

MATEMÁTICA

Leia as perguntas, resolva e assinale apenas a alternativa correta:

1) João participou do Jogo da Vida. Depois de jogar uma partida, ele somou suas notas e descobriu que tinha 4.020 reais. Como nesse jogo há somente notas de 100 reais, 10 reais e 1 real. João ganhou:

▶ 40 x 100 reais e 50 x 10 reais

▶ 40 x 100 reais e 2 x 10 reais

▶ 4 x 100 reais e 2 x 1 real

▶ 4 x 100 reais e 10 reais

2) No número 18. 673, o algarismo que se encontra na casa da dezena de milhar é:

▶ 1

▶ 8

▶ 6

▶ 7

3) O valor posicional do algarismo 5 no número 6540 é:

▶ 5

▶ 50

▶ 500

▶ 5000

4) O maior número com 4 algarismos que podemos formar é:

▶ 9000

▶ 9009

▶ 9099

▶ 9999

MATEMÁTICA

LEBRANDO

- Leia, com muita atenção, a situação problema para entender o que se pede. Se precisar leia mais de uma vez!
- Identifique as informações dadas nas situações problemas.
- Resolva com calma.
- Verifique e confira sempre suas respostas!



LÍNGUA PORTUGUESA

Observe a tirinha:



1 – Invente um título para essa história em quadrinhos.


2 – Quem é a personagem que está com o Calvin?

3 – Observe o rosto da mulher no último quadrinho: o que será que ela está sentindo e pensando?

LÍNGUA PORTUGUESA



Observe as imagens acima e escreva o que as crianças estão fazendo e em que ambiente?




Mistura de Alegria

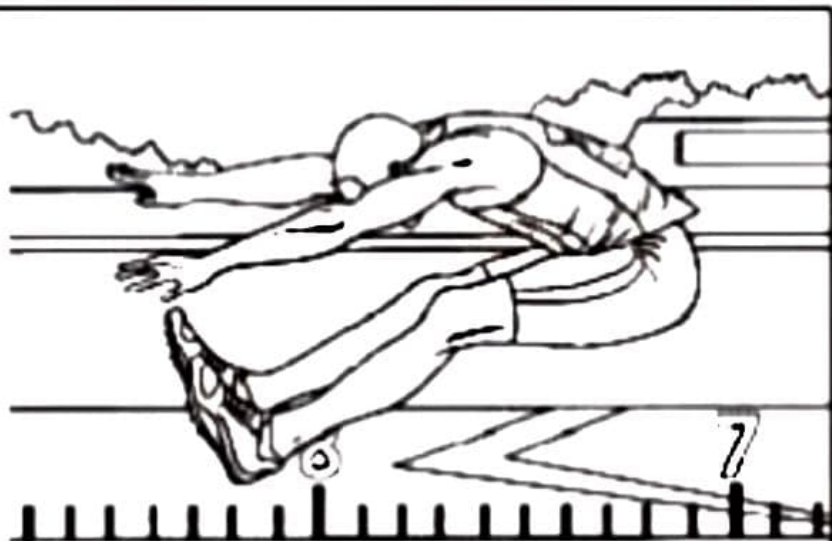
ESPORTES OLÍMPICOS



Salto com vara



Esgrima - Espada



Salto em distância

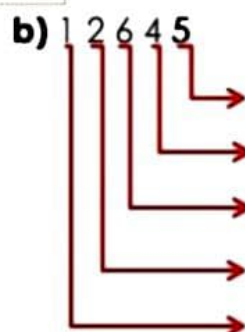
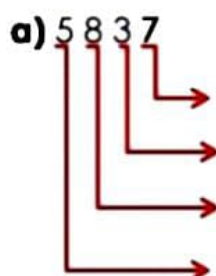


Corrida com obstáculos

MATEMÁTICA

1) Escreva o valor posicional de cada algarismo do número:

Exemplo:



2) Decomponha os números:

Exemplo: 12 654 – 10.000 + 2.000 + 600 + 50 + 4

a) 975 – _____

b) 8642 – _____

c) 32 785 – _____

d) 24 893 – _____

3) DESAFIO!!

O número de livros que foram doados para a biblioteca da escola tem quatro algarismos: dois deles são 5, outro vale 2 000 e outro vale 70. Que número é esse?

Dica: use o QVL (quadro valor lugar)



CAÇA-SOLO!

Encontre, no caça-palavras, os quatro tipos de solo e depois complete as frases.



- 1- O solo _____ consiste na decomposição de restos animais e vegetais no solo, que fornece os nutrientes necessários para o desenvolvimento das plantas.
- 2- O solo _____ não retém a água e é bem arejado.
- 3- O _____ tende a corrigir a acidez do solo e torna-o permeável.
- 4- O solo _____ é impermeável, quase não deixa a água passar e tem tendência de ser compacto.



Solo é a camada mais superficial da crosta terrestre. Ele recebe o nome do componente que contém em maior quantidade.

GEOGRAFIA

O MENINO E A ÁRVORE

ERA UMA VEZ UMA ÁRVORE
QUE AMAVA UM MENINO
E TODOS OS DIAS
O MENINO
VINHA,
JUNTAVA
SUAS
FOLHAS
E COM ELAS FAZIA
COROAS DE REI.
COM ELAS BRINCAVA
DE REI DA FLORESTA
SUBIA EM SEU GROSSO TRONCO,
BALANÇAVA-SE EM SEUS GALHOS,
COMIA SUAS MAÇAS
E BRINCAVAM
DE ESCONDER
QUANDO FICAVA CANSADO,
O MENINO REPOUSAVA
À SUA SOMBRA FRESQUINHA.
O MENINO AMAVA A ÁRVORE
PROFUNDAMENTE
E A ÁRVORE ERA FELIZ.



© Silverstein - tradução de Fernando Sabino

Responda de acordo com o texto:

Qual o título do texto?

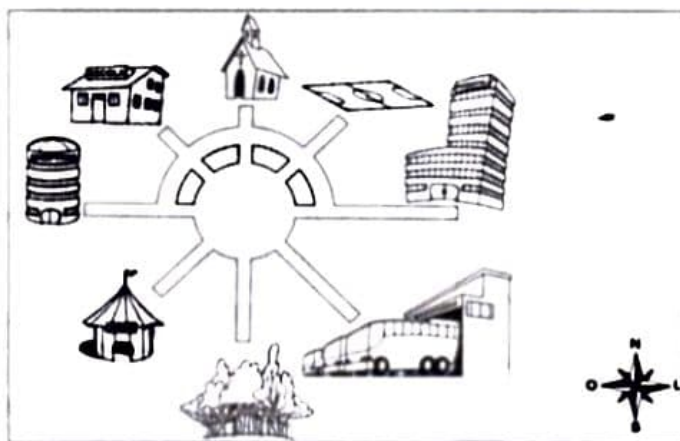
Qual o assunto?

O que o menino costumava fazer todos os dias?

GEOGRAFIA

ORIENTANDO-SE

Esta é a praça de uma pequena cidade do interior. Observando a rosa-dos-ventos, localize o que se pede de acordo com os pontos cardeais: **NORTE, SUL, LESTE E OESTE**.



1) A igreja está localizada no _____.

2) O parque está no _____.

3) O shopping está no _____.

4) O hospital está no _____.

HISTÓRIA

Os europeus

Dentre os diversos povos que formaram o Brasil, foram os europeus aqueles que exerceram maior influência na formação da cultura brasileira, principalmente os de origem portuguesa. Durante 322 anos o País foi colônia de Portugal, e houve uma transplantação da cultura da metrópole para as terras sul-americanas. Os colonos portugueses chegaram em maior número à colônia a partir do século XVIII, sendo já neste século o Brasil um país predominantemente católico e de língua dominante portuguesa.



Fonte: slideplayer.com

Pesquise o nome de dois pratos da culinária portuguesa.

HISTÓRIA

Influência dos portugueses na cultura brasileira



Festa Junina. Foto Artie

Fonte: Aprender Juntos-3 ano-Editora SM-autoras Mônica Langev

Festas populares

O calendário de festas populares brasileiras deve muito ao legado português. As duas festas mais difundidas no Brasil, o Carnaval e as festas juninas, só chegaram ao nosso país por conta dos portugueses.


Chamada inicialmente de 'joanina' por homenagear São João, as festas dos santos populares, como são conhecidas em Portugal, acabaram virando festa junina, incorporada aos costumes locais, aqui no Brasil. Outros exemplos de festas populares que tem o pé em Portugal são a Festa do Divino, a Farra do Boi e a Folia de Reis.

Relate como são as festas juninas no Brasil (vestimenta, alimentação, dança etc.).



Mistura de Alegria

ANÉIS OLÍMPICOS



O símbolo dos Jogos Olímpicos é composto por cinco anéis entrelaçados, com as cores azul, amarelo, preto, verde e vermelho sobre um fundo branco. Esses cinco anéis representam as cinco partes do mundo, que agora são conquistados para Olimpismo e dispostas a aceitar uma concorrência saudável, dessa forma, além de simbolizar a união dos cinco continentes, integra todos os países, fornecendo um sentido universal para as Olimpíadas. Cada anel representa um continente, sendo o anel azul correspondente a Europa, o anel amarelo a Ásia, o preto a África, o verde a Oceania e o vermelho a América.

MATEMÁTICA

Resolva os problemas abaixo e marque apenas a alternativa correta:

1) Qual o menor e maior número que podemos formar com os algarismos sem repeti-los:

() 179 - 791

9 - 1 - 7

() 179 - 971

() 197 - 971

() 197 - 917

2) Márcia fez para vender 3 centenas, 9 dezenas e 5 unidades de brigadeiro. Quantos brigadeiros Marcia fez?

() 39

() 300905

() 3950

() 395



3) No número 1.328, o algarismo que está na casa das dezenas é:

() 1

() 3

() 2

() 8

???

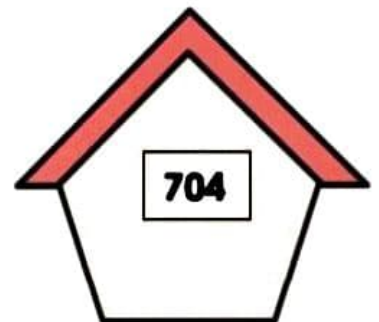
4) Como lemos o número dessa casa?

() Setenta e quatro

() Setenta

() Setecentos e quarenta

() Setecentos e quatro



LEIA COM ATENÇÃO:

O CAVALINHO BRANCO

À TARDE, O CAVALINHO BRANCO
ESTÁ MUITO CANSADO;
MAS HÁ UM PEDACINHO DO CAMPO
ONDE É SEMPRE FERIADO.
O CAVALO SACODE A CRINA
LOURA E COMPRIDA
E NAS VERDES ERVAS ATIRA
SUA BRANCA VIDA.
SEU RELINCHO ESTREMECE AS RAÍZES
E ELE ENSINA AOS VENTOS
A ALEGRIA DE SENTIR LIVRES
SEUS MOVIMENTOS.
TRABALHOU TODO O DIA TANTO!
DESDE A MADRUGADA!
DESCANSA ENTRA AS FLORES, CAVALINHO BRANCO, DE CRINA
DOURADA.



ESCREVA, NO QUADRO ABAIXO, AS PALAVRAS SUBLINHADAS NO TEXTO:





SUBSTANTIVOS	ADJETIVOS




Escola: _____
Nome: _____ Data: _____
Turma: _____ Série: _____ Prof.: _____

GINÁSTICA ARTÍSTICA

"PULAR, VOAR... TUDO COM GRANDE BELEZA"

VAMOS COMPLETAR O NOME DAS MODALIDADES ABAIXO,
COLOCANDO AS LETRAS QUE FALTAM.

			
__RGOLAS	__ARRA __IXA	__AVALO __OM __LÇA	__OLO

		
__ARRAS __SSIMÉTRICAS	__RAVE	__ARRAS __ARALELAS

MATEMÁTICA

Um grande centro comercial aqui da nossa cidade fez uma pesquisa para descobrir o número de pessoas que frequentam o local durante alguns dias da semana.

DIAS DA SEMANA	MANHÃ	TARDE	TOTAL
Domingo	407	1004	1.411
Sexta - feira	412	602	1.014
Sábado	555	1430	1.985
Quarta - feira	209	298	507

- 1) Qual o dia com **maior** movimento no centro comercial?
- 2) Qual o dia com **menor** movimento no centro comercial?
- 3) Qual a **diferença** do dia que teve mais movimento e o que teve menos?
- 4) Coloque em **ordem crescente** os números que indicam o movimento no centro comercial durante a tarde.
- 5) Preencha a tabela com o que se pede:

TOTAL DE PESSOAS QUE FREQUENTARAM O CENTRO COMERCIAL			
Quarta - feira	Sexta - feira	Sábado	Domingo

Com essas informações monte um gráfico.



GEOGRAFIA

Observe o desenho e complete as frases copiando-as em seu caderno:



- 1) O Sol nasce no _____ e se põe no _____.
- 2) O braço direito está indicando o _____ e o esquerdo está indicando o _____.
- 3) À frente do corpo está o _____ e atrás o _____.

GEOGRAFIA



- 1) Por que o homem ia derrubar a árvore?

- 2) Você acha correto o que ele ia fazer? Por quê?

- 3) Por que o amigo dele ficou verde?

- 4) O que você faz para proteger o meio ambiente?

VAMOS RESOLVER?

1) A biblioteca da escola possuía 684 livros. Após uma doação, passou a ter 904 livros. Quantos livros a biblioteca recebeu em doação?

2) Uma loja oferece, gratuitamente, balas para seus clientes. Na manhã de ontem foram dadas 96 balas. Sabendo que entraram na loja 8 clientes e que todos ganharam a mesma quantidade, quantas balas cada um ganhou?

3) Uma loja de ração vendeu 1.587 sacos de ração no mês de fevereiro e 1.903 sacos no mês de março.

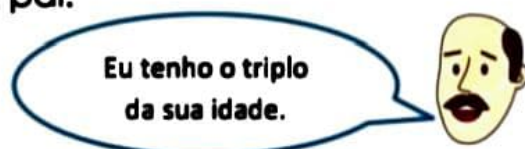
a) Quantos sacos de ração foram vendidos nesses dois meses?

b) Quantos sacos de ração foram vendidos a mais no mês de março?

4) Observe o diálogo de Felipe com seu pai:



Pai, qual a sua idade?



Eu tenho o triplo da sua idade.

Se Felipe tem 11 anos, qual a idade do seu pai?

5) Qual o menor e o maior número que podemos formar com os algarismos 328 sem repeti-los?

HISTÓRIA

A Cultura Indígena



Os indígenas são verdadeiros artesãos na confecção de suas armas, como: flecha, arco, tacape e lança, e de seus instrumentos musicais, como: chocalhos, maracás, flautas e tambores.

Nas festas, os índios têm vários rituais e, por isso, enfeitam-se com penas de aves e pintam-se com tinta extraída das árvores e plantas.

Nas aldeias, os mais velhos ensinam aos mais novos todas as artes. Os homens ensinam a caçar, a pescar, a guerrear, etc.

As mulheres ensinam a trabalhar com palha e junco, fazendo cestos e redes.

Eles vivem nas tribos e, hoje, lutam para defender seu espaço de terra — o que é justo, porque são representantes verdadeiros deste Imenso Brasil.

Atualmente, restam poucas tribos indígenas, e, por isso, devemos respeitá-las e preservá-las socialmente, como fizeram os pesquisadores chamados de **Indianistas**.

Foi do trabalho desses pesquisadores que surgiu a Fundação Nacional do Índio Funai, que é um órgão do Governo criado para defender todos os direitos do índio na sociedade brasileira.

Após a leitura vamos refletir e responder:

- 1) Por que nos dias de hoje restam poucas tribos indígenas?

- 2) Imagine que você é um indígena. O que faria para defender a sua tribo?

HISTÓRIA

Características dos povos indígenas no Brasil



Observe as fotos e descreva as características do povo indígena brasileiro.

Em sua opinião, existe possibilidade nos dias atuais do indígena se vestir como nas fotos?

LÍNGUA PORTUGUESA

Observe o cartaz:



1 - Quando começa essa campanha? _____

2 - Quando termina? _____

3 - A campanha fala sobre o quê? _____

4 - A vacina é para prevenir qual doença? _____

5 - Qual é o público alvo dessa campanha?

LÍNGUA PORTUGUESA

A capa de revista tem por finalidade informar o conteúdo nela descrito. Sendo assim, responda:



1 - Qual é o assunto principal da revista?

2 - Ao observar a capa da revista, o que mais lhe chamou a atenção?

3 - Qual é o nome da revista?

4 - Quais assuntos são tratados nessa revista?



Futebol

ATIVIDADE

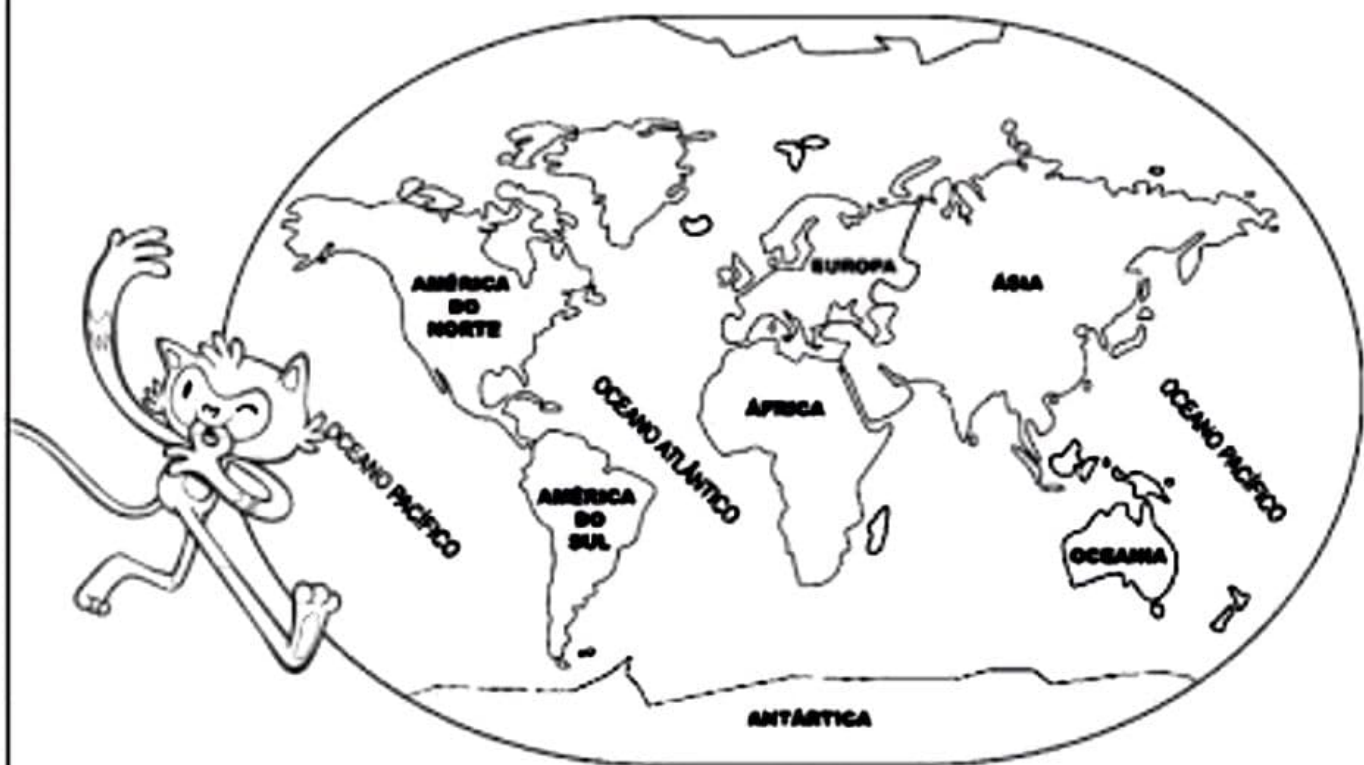
FIQUE POR DENTRO:

As Olimpíadas Antigas foram uma série de competições atléticas disputadas por atletas das cidades-estado que formavam a Grécia Antiga. De acordo com registros analisados por historiadores, os Jogos Olímpicos surgiram no ano de 776 a.C na cidade de Olímpia (região sudoeste da Grécia). Estes jogos foram celebrados até o ano de 393.

1- Observe o mapa-múndi e responda:

a- Localize no mapa abaixo o continente onde a Grécia está situada.

b- Pinte de azul no mapa o continente onde está situada a cidade sede das Olimpíadas 2016.



2- Escreva os nomes dos 6 continentes.

3- Escreva o nome de 2 países localizados no continente europeu.

4- Escreva o nome dos oceanos do planeta Terra.

E.M "PROF. YOLANDA AGOSTINHO DE LIMA"

MINHAS ATIVIDADES

NOME: _____

8ª REMESSA: 3º BIMESTRE

DIAS 05/07 ao 06/ 08/2021

ENTREGAR À ESCOLA DIA 10/08/21

PROF.: JANETE SOARES MENDES

TURMA: 4º ANO A



2021

BOM TRABALHO!