

MINHAS ATIVIDADES



8ª APOSTILA

REFERENTE AOS DIAS: 05, 06, 19, 20, 21, 22, 23, 26, 27, 28, 29, 30/07 E 02, 03, 04, 05, 06/08.

A DATA PARA ENTREGA DESSA 8ª APOSTILA SERÁ

NO DIA: **10/08**

BONS ESTUDOS!

NOME E SOBRENOME:

PROFESSORA VIVIANE

2º ANO B

NOME E SOBRENOME: _____ DATA ____/____/____

ATIVIDADE 1

REFERENTE AO DIA 05/07/2021

LÍNGUA PORTUGUESA LEITURA

PARA INICIAR

NA HISTÓRIA QUE VOCÊ VAI LER COM A PROFESSORA TAMBÉM HÁ MUITOS ANIMAIS.

ESSA HISTÓRIA É UMA LENGUA-LENGA.
VOCÊ JÁ OUVIU FALAR EM LENGUA-LENGA?

LEITURA: LENGUA-LENGA

A CASA DO SEU DAMIÃO

AQUI ESTÁ A CASA DO SEU DAMIÃO.

AQUI ESTÁ O SACO DE GRÃO DE FEIJÃO
QUE ESTAVA NA CASA DO SEU DAMIÃO.

AQUI ESTÁ O RATO
QUE FUROU O SACO DE GRÃO DE FEIJÃO
QUE ESTAVA NA CASA DO SEU DAMIÃO.

AQUI ESTÁ O GATO
QUE PEGOU O RATO
QUE FUROU O SACO DE GRÃO DE FEIJÃO
QUE ESTAVA NA CASA DO SEU DAMIÃO.

AQUI ESTÁ O CÃO
QUE MORDEU O GATO
QUE PEGOU O RATO
QUE FUROU O SACO DE GRÃO DE FEIJÃO
QUE ESTAVA NA CASA DO SEU DAMIÃO.




LÍNGUA PORTUGUESA LEITURA E INTERPRETAÇÃO

REFERENTE AO DIA 05/07/2021

AQUI ESTÁ A VACA
QUE PISOU NO CÃO
QUE MORDEU O GATO
QUE PEGOU O RATO
QUE FUROU O SACO DE GRÃO DE FEIJÃO
QUE ESTAVA NA CASA DO SEU DAMIÃO.

AQUI ESTÁ O TATU
QUE ARRANHOU A VACA
QUE PISOU NO CÃO
QUE MORDEU O GATO
QUE PEGOU O RATO
QUE FUROU O SACO DE GRÃO DE FEIJÃO
QUE ESTAVA NA CASA DO SEU DAMIÃO...

DOMÍNIO PÚBLICO.



➡ INTERPRETAÇÃO DO TEXTO

1- O QUE PODE SER UMA LENGUA-LENGA?

2- EM QUE LUGAR SEU DAMIÃO PARECE MORAR?
PINTE A RESPOSTA CORRETA:

GRANDE CIDADE

PRAIA

CAMPO

COMO VOCÊ DESCOBRIU A RESPOSTA?

NOME E SOBRENOME: _____ DATA ____/____/____

ATIVIDADE 3







REFERENTE AO DIA 06/07/2021 CONTINUAÇÃO

3 A LINGUA-LINGUA QUE VOCÊ LEU ESTÁ ORGANIZADA EM CONJUNTOS DE VERSOS CHAMADOS DE **ESTROFES**. QUANTAS SÃO AS ESTROFES DA LINGUA-LINGUA "A CASA DO SEU DAMIÃO"? SÃO _____ ESTROFES.

4 COMPARE A PRIMEIRA ESTROFE COM A ÚLTIMA. FAÇA UM X NO QUE VOCÊ NOTOU.

- OS VERSOS NÃO TÊM RIMAS.
- OS VERSOS TÊM REPETIÇÕES.
- AUMENTOU O NÚMERO DE VERSOS.
- O NÚMERO DE VERSOS NÃO MUDOU.

5 SEU DAMIÃO E OS BICHOS SÃO OS **PERSONAGENS** DESSA LINGUA-LINGUA. NUMERE OS PERSONAGENS NA ORDEM EM QUE APARECEM NO TEXTO.

	<input type="text"/>		<input type="text"/>
	<input type="text"/>		<input type="text"/>
	<input type="text"/>		<input type="text"/>

E.M. "VEREADOR LOURIVAL CORREIA DE ARAÚJO"
ATIVIDADE 4

REFERENTE AO DIA 06/07/2021

OBSERVE AS FIGURAS E ESCREVA O NOME DESTES PERSONAGENS DA LENGUA-LENGA
"A CASA DO SEU DAMIÃO"



PARA CONTINUAR A LENGUA-LENGA, QUE PERSONAGEM VOCÊ
COLOCARIA DEPOIS DO TATU? COMPLETE AS FRASES.

AQUI ESTÁ _____
QUE _____ O TATU
QUE ARRANHOU A VACA [...]

VOCÊ GOSTOU DA LENGUA-LENGA? MARQUE COM UM X.

 SIM. SÓ PARA LER. SÓ PARA BRINCAR. NÃO.

HORA DE ORGANIZAR O QUE ESTUDAMOS

LEIAM O ESQUEMA A SEGUIR COM A PROFESSORA.



NOME E SOBRENOME: _____ DATA ____/____/____

ATIVIDADE 5

REFERENTE AO DIA 19/07/2021

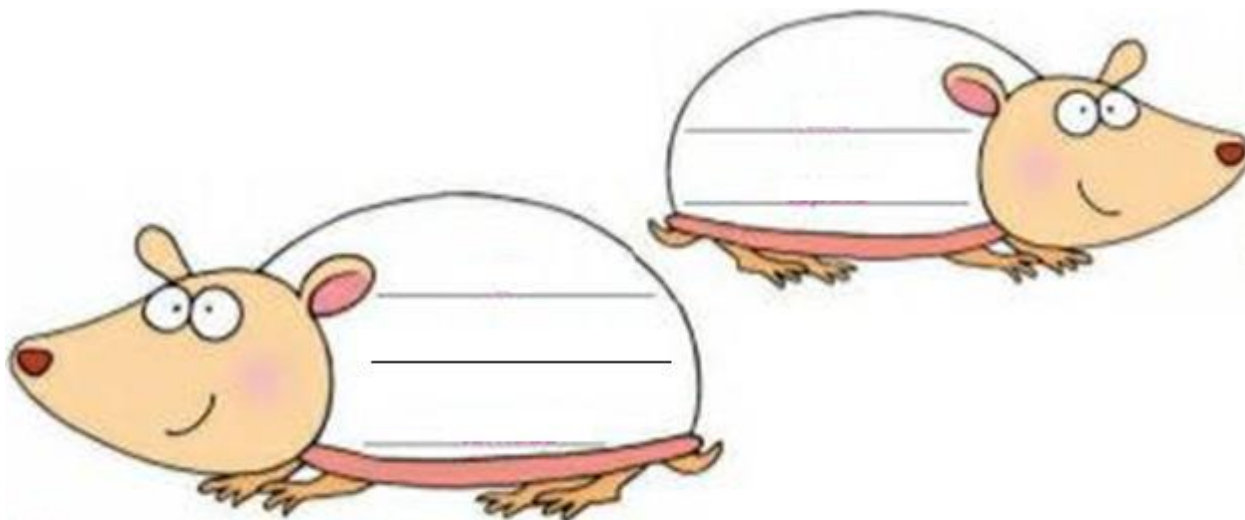
LÍNGUA PORTUGUESA

LETRAS D E T

1- LEIA AS PALAVRAS DO QUADRO EM VOZ ALTA.

TIA	DOMINÓ	TUBO	DEDAL	DADO
DEDO	TOMADA	TELA	TAPETE	DELEGADO

2- ESCREVA NOS TATUS APENAS AS PALAVRAS DO QUADRO QUE COMEÇAM COM A LETRA T.



3- AGORA ESCREVA ABAIXO AS PALAVRAS QUE COMEÇAM COM A MESMA LETRA DO NOME DE DAMIÃO.

A large green cloud-shaped box with three horizontal lines for writing.

ATIVIDADE 6

REFERENTE AO DIA 19/07/2021

MATEMÁTICA

CALENDÁRIO

- 1- VAMOS COMPLETAR O CALENDÁRIO DO MÊS EM QUE ESTAMOS, ESCREVA O NOME DO MÊS NA PRIMEIRA LINHA. VERIFIQUE EM QUAL DIA DA SEMANA O MÊS COMEÇOU E COLOQUE O NÚMERO 1. COMPLETE O CALENDÁRIO E RESPONDA ÀS QUESTÕES:

MÊS: _____

DOMINGO	SEGUNDA-FEIRA	TERÇA-FEIRA	QUARTA-FEIRA	QUINTA-FEIRA	SEXTA-FEIRA	SÁBADO

- 2- O ÚLTIMO SÁBADO DO MÊS OCORRERÁ EM QUE DIA?

- 3- O ÚLTIMO DIA DESSE MÊS OCORRERÁ EM QUE DIA DA SEMANA?

- 4- QUANTOS DIAS TEM ESSE MÊS? _____


NOME E SOBRENOME: _____ DATA ____/____/____

ATIVIDADE 7

REFERENTE AO DIA 20/07/2021

LÍNGUA PORTUGUESA SÍLABAS

CADA PEDAÇO OU IMPULSOS DA VOZ É UMA SÍLABA



- 1- EM QUANTOS PEDAÇOS OU IMPULSOS DA VOZ É FALADA A PALAVRA JOAQUIM? _____
- 2- PINTE, NO NOME DE SEU JOAQUIM, O PEDAÇO, ISTO É, A SÍLABA QUE SE REPETE NO VERSO.

SEU JOAQUIM, QUIM, QUIM

- 3- PINTE, EM CADA VERSO DA QUADRINHA, AS SÍLABAS QUE SE REPETEM.

AGORA VAMOS BRINCAR?

- 4- COMPLETE A BRINCADEIRA ESCRIVENDO A ÚLTIMA SÍLABA DE CADA VERSO, PARA QUE ELA SE REPITA.

LÁ VEM SEU JUCA

LÁ VEM SEU JUCA, _____, _____
DA PERNA TORTA, _____, _____
DANÇANDO A VALSA, _____, _____
COM A MARICOTA, _____, _____



REFERENTE AO DIA 20/07/2021 CONTINUAÇÃO

5- ESCREVA CADA SÍLABA DAS PALAVRAS EM UM QUADRADINHO.

JUCA

--	--

MARICOTA

--	--	--	--

6- JUNTE AS SÍLABAS ESCRITAS NO SACO DE FEIJÃO PARA FORMAR PALAVRAS.



ATIVIDADE PARA POSTAR NO GRUPO DO WHATSSAP

LEIA, PRATIQUE E MEMORIZE O TEXTO. NO DIA 10/08 POSTE UM VÍDEO OU UM ÁUDIO NO GRUPO PARA PROFESSORA OUVIR TAMBÉM.




NOME E SOBRENOME: _____ DATA ____/____/____

ATIVIDADE 9

REFERENTE AO DIA 21/07/2021

MATEMÁTICA

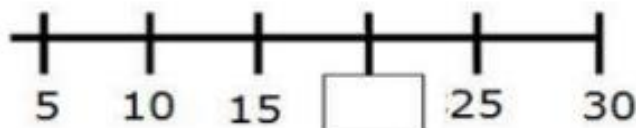
QUESTÃO 1: MARIANA SEPAROU SUA COLEÇÃO DE BONECAS EM GRUPINHOS DE 10.

A QUANTIDADE DE BONECAS DE MARIANA É:

- 1 DEZENA E 3 UNIDADES
 2 DEZENAS E 3 UNIDADES
 3 DEZENAS E 2 UNIDADES
 4 DEZENAS E 2 UNIDADES

QUESTÃO 2: ESCREVA OS NÚMEROS QUE VEM ANTES E DEPOIS:

_____ 5 _____ _____ 12 _____ _____ 20 _____ _____ 17 _____
 _____ 7 _____ _____ 44 _____ _____ 18 _____ _____ 36 _____






QUESTÃO 3: LARA ESTAVA BRINCANDO DE PULAR CORDA. ELA CONTAVA DE 5 EM 5. NA SUA CONTAGEM LARA ESQUECEU ALGUNS NÚMEROS. O NÚMERO ESQUECIDO FOI:

O NÚMERO ESQUECIDO FOI:

- 12 15 18 20

REFERENTE 21/07 CONTINUAÇÃO MATEMÁTICA UNIDADE E DEZENA

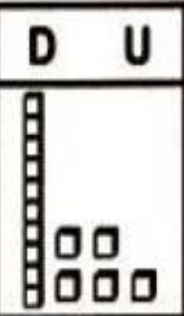
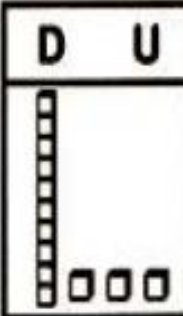
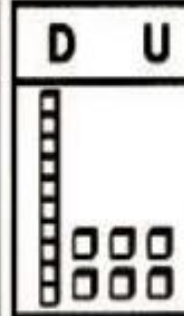
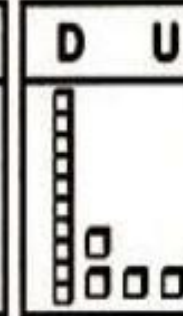
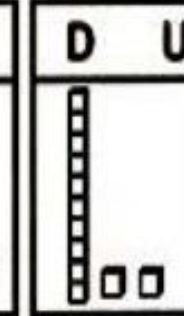

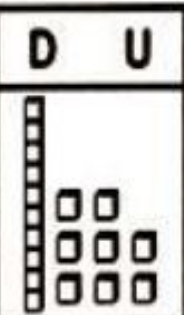
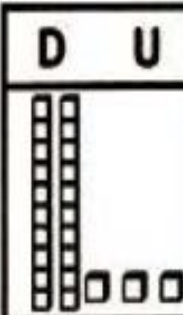

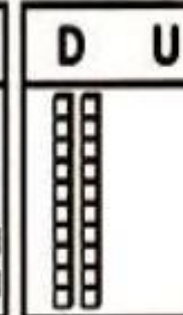
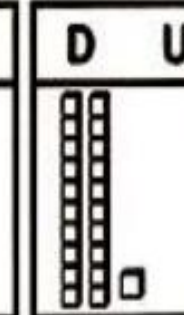
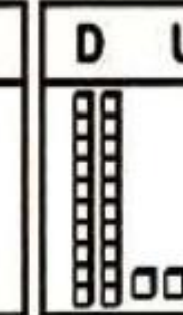
QUESTÃO 4: MARQUE UM X ABAIXO DOS CÍRCULOS QUE CONTÉM NÚMEROS PARES:

				
---	---	---	--	---

QUESTÃO 5: COLOQUE OS NÚMEROS ABAIXO EM ORDEM CRESCENTE.

17	24	6	11	18	8	20
----	----	---	----	----	---	----

QUESTÃO 6: DESCUBRA QUAIS SÃO OS NÚMEROS E ESCREVA:

D U  15	D U 	D U 	D U 	D U 	D U 
D U 	D U 	D U 	D U 	D U 	D U 

ATIVIDADE 11

REFERENTE AO DIA 22/07/2021

CIÊNCIAS (LER COM A FAMÍLIA)

SENTIR E PERCEBER

VAMOS EXPLORAR NOSSOS SENTIDOS.

QUAL A SUA OPINIÃO: AGORA QUE VOCÊ JÁ ESTÁ UM POUCO MAIS VELHO, CONSEGUE PERCEBER MELHOR O MUNDO A SUA VOLTA?

POR MEIO DOS NOSSOS SENTIDOS PERCEBEMOS O MUNDO QUE NOS CERCA. AQUILO QUE CHEIRAMOS COM O NARIZ SE REFERE AO SENTIDO DO OLFATO. O QUE VEMOS COM OS OLHOS SE REFERE AO SENTIDO DA VISÃO. JÁ O QUE PERCEBEMOS AO TOCAR EM ALGO SE REFERE AO TATO. AQUILO QUE AS ORELHAS OUVEM SE REFERE À AUDIÇÃO. E O QUE PROVAMOS COM A LÍNGUA SE REFERE À GUSTAÇÃO.

OS SENTIDOS NÃO FUNCIONAM SOZINHOS. POR EXEMPLO, SE VOCÊ ESTIVER DE NARIZ TAPADO E COLOCAR UM ALIMENTO NA BOCA, A PERCEPÇÃO DO GOSTO DO ALIMENTO FICARÁ ALTERADA.

CONFORME FICAMOS MAIS VELHOS, VAMOS APRENDENDO A USAR PALAVRAS MAIS ADEQUADAS PARA EXPLICAR E DESCREVER O QUE PERCEBEMOS. POR EXEMPLO, UMA COISA QUE NOS IMPRESSIONA PODE SER LISA E TER CHEIRO DE MADEIRA, OUTRA COISA PODE SER BRILHANTE E BARULHENTA, ALGO PODE SER AMARGO E VERDE, ETC.



E.M. "VEREADOR LOURIVAL CORREIA DE ARAÚJO"

ATIVIDADE 12

CONTINUAÇÃO CIÊNCIAS

A CRUZADINHA DOS SENTIDOS FOI FEITA COM BASE NO TEXTO DA PÁGINA ANTERIOR. COMPLETE AS FRASES ABAIXO E, DEPOIS, USE AS MESMAS PALAVRAS PARA PREENCHER A CRUZADINHA.

EXEMPLO:

- 1- AQUILO QUE "SINTO COM AS MINHAS MÃOS" SE REFERE AO SENTIDO DO TATO

AGORA É COM VOCÊ:

- 2- O QUE "VEJO COM OS MEUS OLHOS" SE REFERE AO SENTIDO DA

- 3- O QUE "CHEIRO COM MEU NARIZ" SE REFERE AO SENTIDO DO

- 4- O QUE "PROVO COM A MINHA LÍNGUA" SE REFERE AO SENTIDO DA

- 5- O QUE "AS ORELHAS OUVEM" SE REFERE AO SENTIDO DA



E.M. "VEREADOR LOURIVAL CORREIA DE ARAÚJO"
 NOME E SOBRENOME _____ DATA ____/____/____

ATIVIDADE 13

REFERENTE AO DIA 23/07/2021

GEOGRAFIA (REALIZAR COM AJUDA DA FAMÍLIA)

▶ A vida e o trabalho no bairro

Você viu que, em um bairro, podem existir diferentes construções, como casas, lojas, escolas, igrejas, entre outras. Nos bairros, as pessoas vivem e desenvolvem muitos tipos de trabalho.

As fotos abaixo são de diferentes bairros. Veja as construções que existem em cada um.



▶ Residências, em Porto Alegre, no estado do Rio Grande do Sul, 2014.



▶ Comércio, em Cabrobó, no estado de Pernambuco, 2016.



▶ Residências e comércio, em Goiânia, no estado de Goiás, 2015.



▶ Galpões industriais, em Contagem, no estado de Minas Gerais, 2014.

1 Algum desses bairros se parece com o bairro de sua escola? Qual?

2 Algum deles se parece com o bairro onde você mora? Qual?

3 Escolha um dos bairros e escreva uma frase sobre ele.

HISTÓRIA



OS DIAS PASSAM

VAMOS VER COMO CONTAMOS OS DIAS DA SEMANA?
LEIA O POEMA.

SETE DIAS DA SEMANA

SETE DIAS DA SEMANA
E O TEMPO VAI ANDANDO.

[..]

DOMINGO, DIA DE FOLGA.
SEGUNDA, DE VIDA NOVA, DIA DE COMEÇAR.
TERÇA, DE **PERSISTIR**.
QUARTA, DE CONTINUAR.
QUINTA, DE INSISTIR.
SEXTA, DE TIRAR PROVEITO DE TUDO QUE
A GENTE FEZ.
SÁBADO, DE DEVER CUMPRIDO E LÁ VEM
DOMINGO OUTRA VEZ.

SYLVIA SANTOS ALVARES **RIMAS COLORIDAS**
RIO DE JANEIRO: NOVA FRONTEIRA, 2006.

PERSISTIR:
ESFORÇAR-SE PARA CONTINUAR.



- VOCÊ CONHECE OS DIAS DA SEMANA? QUAIS SÃO?

NOME E SOBRENOME: _____ DATA ____ / ____ / ____

ATIVIDADE 15

REFERENTE 26/07/2021

LÍNGUA PORTUGUESA

LEITURA: TEXTO INFORMATIVO

POR QUE OS CROCODILOS FÊMEAS SÃO BOAS MÃES?

OS CROCODILOS FÊMEAS PROTEGEM SEUS NINHOS.
QUANDO OUVEM SEUS FILHOTES GRITANDO, AS MÃES ABREM O NINHO E OS AJUDAM A SAIR DO OVO.
DEPOIS LEVAM-NOS COM CUIDADO ATÉ O RIO, EM SUA BOCA. [...]



CAROLINA CAIRES COELHO (TRADUÇÃO) **COMO? ONDE? POR QUÊ?**
SÃO PAULO: GIRASSOL, 2007. P. 63.

INTERPRETAÇÃO DO TEXTO

ATIVIDADE ORAL E ESCRITA

- 1 QUAL INFORMAÇÃO SOBRE O CROCODILO VOCÊ ACHOU MAIS INTERESSANTE? POR QUÊ? _____
- 2 CIRCULE NO TEXTO A PALAVRA **MÃES**. QUANTAS VEZES ESSA PALAVRA APARECE? _____ VEZES.
- 3 ONDE FICAM OS OVOS DO CROCODILO? MARQUE COM UM X.
 NA BOCA. NO RIO. NO NINHO.

4 LIGUE AS FOTOGRAFIAS DOS ANIMAIS AO QUE CADA UM FAZ.



MÃE CROCODILO



FILHOTE DE CROCODILO

AS IMAGENS NÃO ESTÃO REPRESENTADAS EM PROPORÇÃO

GRITA.

LEVA AO RIO.

ABRE O NINHO.

5 MARQUE UM X NA RESPOSTA CORRETA. A INTENÇÃO DESSE TEXTO É:

DIVERTIR.

INFORMAR.

EMOCIONAR.

AGORA VAMOS SEPARAR A PALAVRA CROCODILO.

ESCREVA CADA SÍLABA EM UM QUADRADINHO

CROCODILO

--	--	--	--

HORA DE ORGANIZAR O QUE ESTUDAMOS

LEIAM O ESQUEMA A SEGUIR :

TEXTO INFORMATIVO



TRAZ INFORMAÇÕES E DADOS SOBRE UM ASSUNTO

E.M. "VEREADOR LOURIVAL CORREIA DE ARAÚJO"
NOME E SOBRENOME _____ DATA ____/____/____

ATIVIDADE 17
REFERENTE 27/07/2021
MATEMÁTICA
CONTINUAÇÃO UNIDADE E DEZENA

QUESTÃO 7: COMPLETE COM O QUE SE PEDE:





⇒ QUEM SOU EU?

- A) 1 DEZENA E 5 UNIDADES, SOU O
- B) 1 DEZENA E 3 UNIDADES, SOU O
- C) 2 DEZENAS E 8 UNIDADES, SOU O
- D) 2 DEZENAS E 0 UNIDADES, SOU O
- E) 1 DEZENA E 2 UNIDADES, SOU O

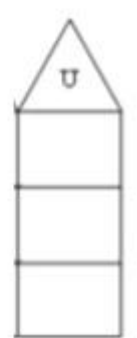
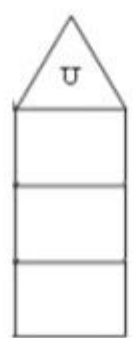
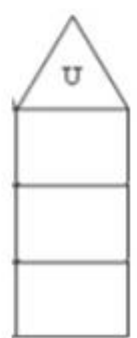
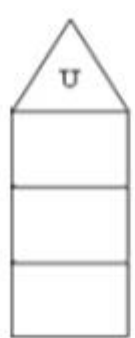


QUESTÃO 8: RESOLVA AS OPERAÇÕES:

$5 + 2 =$ $3 + 4 =$ $4 - 1 =$ $5 - 2 =$

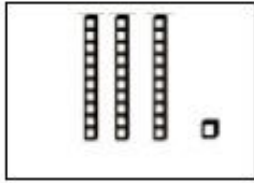


$5 + 1 =$ $3 + 2 =$ $4 - 3 =$ $5 - 3 =$



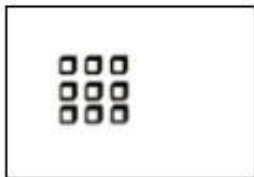
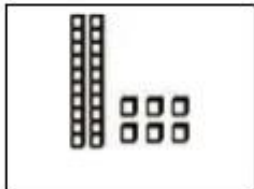

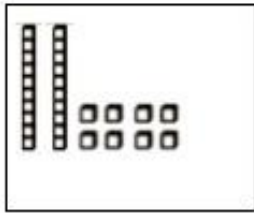
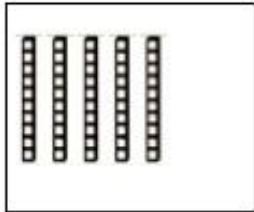
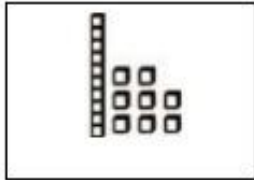
CONTINUAÇÃO MATEMÁTICA

QUESTÃO 9: DESCUBRA O NÚMERO E ESCREVA O SEU NOME



31

TRINTA E UM



ATIVIDADE 19

REFERENTE AO DIA 28/07/2021. LÍNGUA PORTUGUESA

LETRA R

DESAFIO

LEIAM AS PALAVRAS DO QUADRO.

RATO	RAMO	RÃ	RABANETE	REMO
CARETA	RIPA	PERA	RODA	RENA

AGORA COPIEM AS PALAVRAS QUE COMEÇAM COM R.

ATENÇÃO NÃO VALE NOME DE BICHO.

LETRA R INTROMETIDA

ATIVIDADE ORAL E ESCRITA

1 VAMOS OBSERVAR AS FIGURAS E FALAR AS PALAVRAS.



PATO



PRATO



BOTA



BROTA

2 COLOQUE A LETRA R ENTRE A CONSOANTE E A VOGAL DAS SÍLABAS DESTACADAS E LEIA EM VOZ ALTA A PALAVRA FORMADA. DEPOIS, ESCREVA-A.

TAÇA

TAPO

TIO

TOPA


ATIVIDADE 20

MATEMÁTICA


REPRESENTE NO GRÁFICO A IDADE DAS SEGUINTE CRIANÇAS



FELIPE
6 ANOS




RITA
10 ANOS




ANA
8 ANOS



IVO
9 ANOS



- A) QUEM É O MAIS VELHO? _____
- B) QUEM É O MAIS NOVO ? _____
- C) QUANTOS ANOS FELIPE TEM A MENOS QUE IVO ? _____
- D) QUANTOS ANOS RITA TEM A MAIS QUE ANA ? _____
- E) VAMOS JUNTAR AS IDADES:

 +  =

 +  =

 +  =

 +  =

ATIVIDADE 21

REFERENTE 29/07/2021. LÍNGUA PORTUGUESA CONTINUAÇÃO LETRA R

3 COMPLETE O NOME DE CADA BICHO. NÃO SE ESQUEÇA DA LETRA R INTROMETIDA.

AS IMAGENS NÃO ESTÃO REPRESENTADAS EM PROPORÇÃO.



TI _____



CO _____



_____ GUIÇA

5 LEIA O TRAVA-LÍNGUA E DIVIRTA-SE!

O GRILO GRITOU COM VOZ GROSSA: — GRISELDA, VOCÊ É UMA GRAÇA!

EVA FURNARI. TRAVADINHAS. SÃO PAULO: MODERNA, 2004. P. 11.



AGORA REPITA AS PALAVRAS ABAIXO EM VOZ ALTA. OBSERVE QUE EM CADA PALAVRA A LETRA R ESTÁ ENTRE A CONSOANTE G E UMA VOGAL.


GRAÇA

GRILO

GROSSA




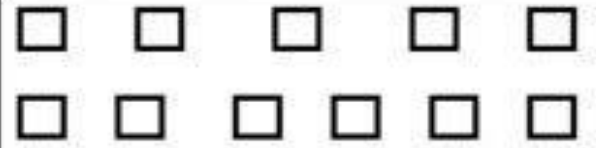



6 JUNTE AS SÍLABAS DO QUADRO E ESCREVA NO COFRE AS PALAVRAS FORMADAS.

DRA	CA
LI	
PRI	BRI
VRO	
MO	TO
GÃO	



CIRCULANDO GRUPOS

CONTE OS GRUPOS DE UMA DEZENA EM CADA QUADRO E CIRCULE DEPOIS, COMPLETE A TABELA CONFORME O MODELO

FIGURAS	QUANTOS GRUPOS DE 10?	QUANTOS ELEMENTOS SOBRARAM?
	1	5
		
		
		
		
		
		

E.M. "VEREADOR LOURIVAL CORREIA DE ARAÚJO"
ATIVIDADE 24

CIÊNCIAS
SENTIDOS

FAÇA UMA LEGENDA PARA CADA IMAGEM DESTA PÁGINA. EM SEU TEXTO DESCREVA QUE SENSações VOCÊ ASSOCIA AO QUE É MOSTRADO. USE OS TERMOS DO BANCO DE PALAVRAS.

SALGADO LISO ÁSPERA RUGOSO QUEIMADO FLORAL













NOME E SOBRENOME: _____ DATA ____/____/____

ATIVIDADE 25

REFERENTE AO DIA 02/08/2021

GEOGRAFIA

GERALMENTE, NOS BAIRROS SÃO DESENVOLVIDOS MUITOS TRABALHOS.

HÁ PROFISSIONAIS QUE PRODUZEM ALIMENTOS; OUTROS QUE FABRICAM ROUPAS; OUTROS QUE TRANSPORTAM MERCADORIAS E PESSOAS.



1- ESCREVA O NOME DE PROFISSÕES QUE VOCÊS CONHECEM QUE COMEÇAM COM AS LETRAS ABAIXO.

D

P

M

S

Blank box for writing professions starting with D

Blank box for writing professions starting with P

Blank box for writing professions starting with M

Blank box for writing professions starting with S

HISTÓRIA

ESCREVA OS NOMES DE DUAS PROFISSÕES QUE PODEM SER EXERCIDAS DURANTE O DIA E TAMBÉM A NOITE.

Four horizontal lines for writing professions.



ARTE

JOGO DA MEMÓRIA

PINTAR, RECORTAR, COLAR ATRÁS DA CARTOLINA E JOGAR.



NOME E SOBRENOME: _____ DATA ____/____/____

ATIVIDADE 27

REFERENTE AO DIA 03/08/2021

LÍNGUA PORTUGUESA/ MATEMÁTICA


PARLENDA A GALINHA DO VIZINHO


LEIA E CANTE A PARLENDA A GALINHA DO VIZINHO:

A GALINHA DO VIZINHO



BOTA OVO AMARELINHO

BOTA 1 UM 

BOTA 2 DOIS 


BOTA 3 TRÊS 

BOTA 4 QUATRO 

BOTA 5 CINCO 

BOTA 6 SEIS 

BOTA 7 SETE 

BOTA 8 OITO 

BOTA 9 NOVE 

BOTA 10 DEZ 

1- QUAL O TÍTULO DA PARLENDAS?




2- QUANTAS VEZES A PALAVRA BOTA APARECE NO TEXTO?




3- QUANTAS PALAVRAS TEM A FRASE? PINTE OS ESPAÇOS EM BRANCO.

A GALINHA DO VIZINHO



4- QUANTAS LETRAS TEM A FRASE?



5- VAMOS SEPARAR AS SÍLABAS?

GALINHA

--	--	--

VIZINHO

--	--	--

NOME E SOBRENOME: _____ DATA ____/____/____

ATIVIDADE 28

continuação

LÍNGUA PORTUGUESA/ MATEMÁTICA

1- RECORTE E MONTE A PARLEND A GALINHA DO VIZINHO NA PRÓXIMA PÁGINA.

A GALINHA DO VIZINHO

A GALINHA DO VIZINHO

BOTA OVO AMARELINHO

BOTA 1 UM

BOTA 2 DOIS

BOTA 3 TRÊS

BOTA 4 QUATRO

BOTA 5 CINCO

BOTA 6 SEIS

BOTA 7 SETE

BOTA 8 OITO

BOTA 9 NOVE

BOTA 10 DEZ

NOME E SOBRENOME _____ DATA ____ / ____ / ____

ATIVIDADE 29

REFERENTE 04/08/2021

MATEMÁTICA

O DIA DOS PAIS É COMEMORADO ANUALMENTE NO SEGUNDO DOMINGO DE AGOSTO NO BRASIL.

NESTA DATA, OS FILHOS HOMENAGEIAM E AGRADECEM AOS PAPAIS TODA A COMPANHIA, SUPORTE E CARINHO RECEBIDO AO LONGO DE SUAS VIDAS.

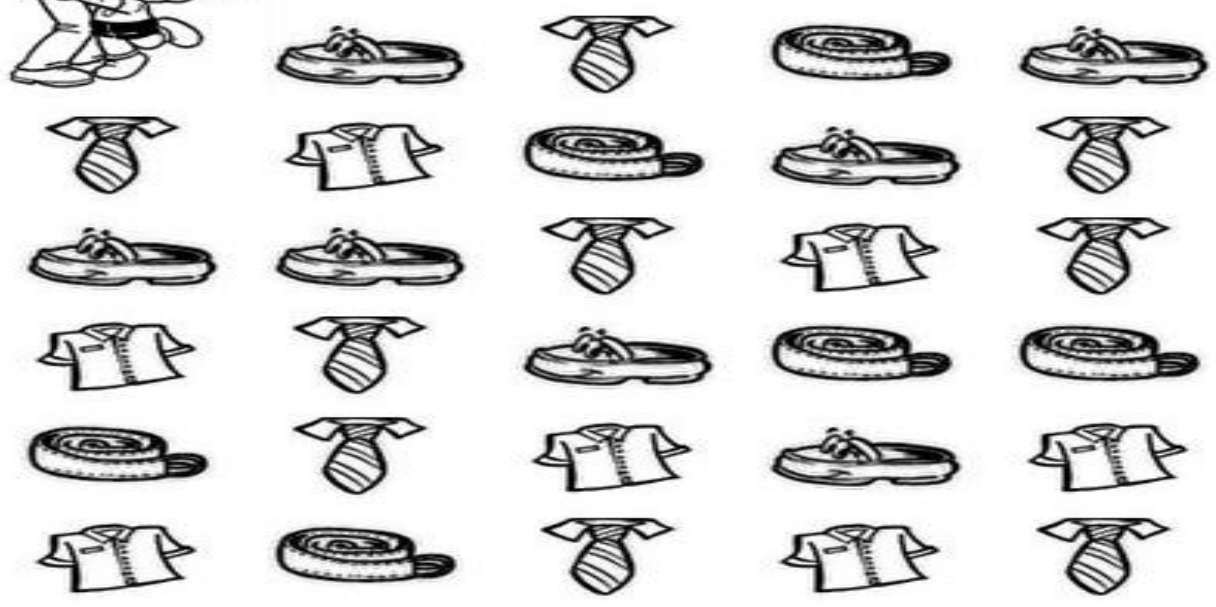


NORMALMENTE, NESTE DIA, COM PRESENTES, MENSAGENS, BEIJOS E ABRAÇOS, OS FILHOS E FILHAS PRESENTEIAM SEUS PAIS, DEMONSTRANDO TODO O AMOR QUE SENTEM POR ELES. LEMBRANDO SEMPRE QUE PAI É TAMBÉM AQUELE QUE ESTÁ DO LADO CUIDANDO SEMPRE DA CRIANÇA.

VAMOS ORGANIZAR OS PRESENTES DOS PAPAIS? CONTE E ANOTE NA TABELA.

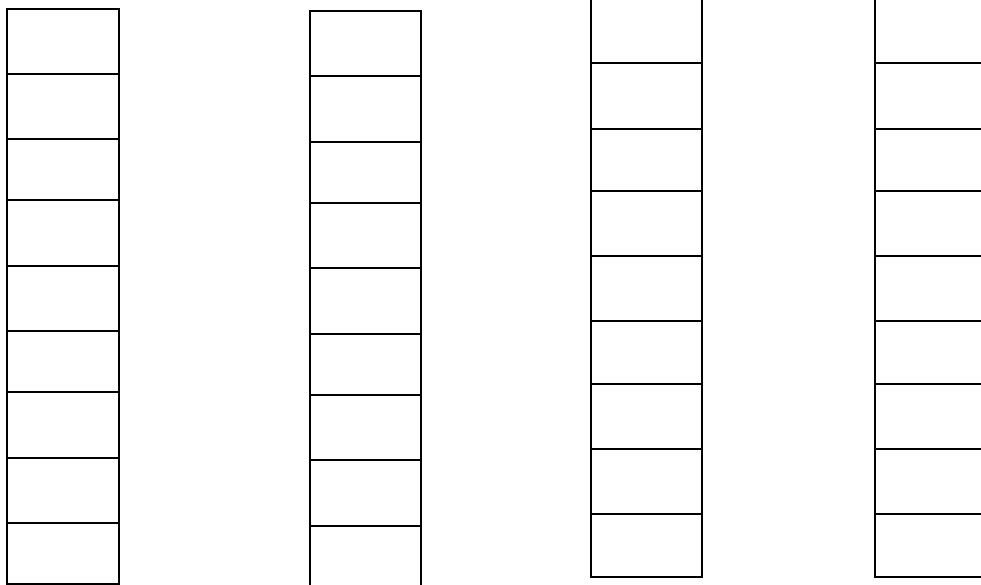


QUANTOS ?



ATIVIDADE 30

AGORA COM A TABELA PREENCHIDA, VAMOS PINTAR NO GRÁFICO OS QUADRADINHOS DE ACORDO COM CADA PRESENTE.



7	7	9	6

ATIVIDADE 31 REFERENTE AO DIA 05/08/2021

GEOGRAFIA

1- QUAL PROFISSÃO DO SEU PAI OU DA PESSOA QUE CUIDA DE VOCÊ? ESCREVA NO ESPAÇO ABAIXO:

2- AGORA DESENHE NO QUADRO ABAIXO A PROFISSÃO DELE:

HISTÓRIA

OS DIAS DA SEMANA

SÃO SETE OS DIAS DA SEMANA: DOMINGO, SEGUNDA-FEIRA, TERÇA-FEIRA, QUARTA-FEIRA, QUINTA-FEIRA, SEXTA-FEIRA E SÁBADO.

EM GERAL, AS PESSOAS TRABALHAM DURANTE A SEMANA. NO FIM DE SEMANA, MUITA GENTE TRABALHA TAMBÉM, MAS A MAIOR PARTE DAS PESSOAS DESCANSA.

OBSERVE A ILUSTRAÇÃO.



1- COMPLETE AS FRASES ABAIXO COM O NOME DOS DIAS DA SEMANA.

- A) ANTEONTEM FOI _____
- B) ONTEM FOI _____
- C) HOJE É _____
- D) AMANHÃ SERÁ _____
- E) DEPOIS DE AMANHÃ SERÁ _____

2- DESENHE ABAIXO COMO VOCÊ APROVEITA O TEMPO COM SEU PAI OU ALGUÉM QUE CUIDA DE VOCÊ:

CIÊNCIAS

SENTIDOS

4 A HISTÓRIA EM QUADRINHOS ABAIXO, SOBRE O TEMA "SENTIDOS", ESTÁ INCOMPLETA. TERMINE AS FRASES DOS QUADRINHOS 1, 2 E 3. DEPOIS, CRIE DESENHOS E FRASES PARA OS DOIS ÚLTIMOS QUADRINHOS.



1

PELA MANHÃ ACORDO COM O SOM DO

COMPARTILHE SUA HISTÓRIA COM OS COLEGAS.



2

NO CAFÉ DA MANHÃ, SINTO O CHEIRO

DE _____



3

SINTO NA BOCA O GOSTO DOCE DA

4 DESENHO


5 DESENHO

E.M. "VEREADOR LOURIVAL CORREIA DE ARAÚJO"

ATIVIDADE 34

ARTE

PINTE, RECORTE, E FAÇA SEU LINDO CARTÃO PARA ENTREGAR AO SEU PAI, OU A PESSOA QUE CUIDA DE VOCÊ.



E.M. "VEREADOR LOURIVAL CORREIA DE ARAÚJO"

Referências bibliográficas

Livro didático ápis, Língua Portuguesa, Ciências, História e Geografia. 2º ano.

<https://amandoparaeternidade.files.wordpress.com/2019/03/slide13.jpg?w=1400&h=>

<https://3.bp.blogspot.com/-RhGgWretYQg/VgQzkMx-UWI/AAAAAAAA1Mc/PjbaGLPAQ7U/s1600/avaliacao-de-matematica-2-ano-1.jpg>

https://1.bp.blogspot.com/-zAJR6CuDd_w/VgQ3HWbMgol/AAAAAAAA1Mo/q3IA8VOLQZs/s1600/avaliacao-de-matematica-2-ano-2.jpg

<https://1.bp.blogspot.com/-UNs46WtEah4/VgQ3UUCgcl/AAAAAAAA1Mw/9HKspOF7BfQ/s1600/avaliacao-de-matematica-2-ano-3.jpg>

<https://2.bp.blogspot.com/-NTvxijwplI0/VgQ3bnCt6ul/AAAAAAAA1M4/FnMEhXHloRs/s1600/avaliacao-de-matematica-2-ano-4.jpg>

<https://2.bp.blogspot.com/-pfWUiQyKlsE/VgQ3nKinBXI/AAAAAAAA1NA/hEtM6yUtTiY/s1600/avaliacao-de-matematica-2-ano-5.jpg>

<https://i.pinimg.com/564x/06/b0/1e/06b01e1b84978fdadde26f8dfd46ebbb.jpg>

<https://i.pinimg.com/474x/63/94/e5/6394e5f54e5a3dc71fb4c977ef681756.jpg>

<https://www.tudodesenhos.com/uploads/images/14482/criancas-como-trabalhadores.jpg>

https://2.bp.blogspot.com/-xO9h1fSRsLg/WyQ84TMbpFI/AAAAAAAAnxg/UXj0nnkWqKA8UzF0KHCB2jzfk8WUI9cMACEwYBhgL/s1600/PicsArt_06-15-07.14.48.jpg

Blog educação e transformação

<https://www.calendarr.com/brasil/dia-dos-pais/#:~:text=O%20Dia%20dos,sentem%20por%20eles.>

<https://i.pinimg.com/564x/85/d1/e8/85d1e8634716628f28ecb073eb2c6b88--pai.jpg>

https://images.twinkl.co.uk/tw1n/image/private/t_630_eco/image_repo/60/91/br-a-120-cartao-para-o-dia-dos-pais-para-imprimir_ver_1.jpg