



E.M. “Prof.^a Márcia Belmiro do Lago”

Educação Infantil e Ensino Fundamental

Estrada Municipal do Verava, Km05 - S/N. Ibiúna/SP

Professora: Márcia De Oliveira Martins

Ano/Turma: 2021/ 1º Ano A

Nome do Aluno: _____

Atividades para estudo em Casa 8º Apostila

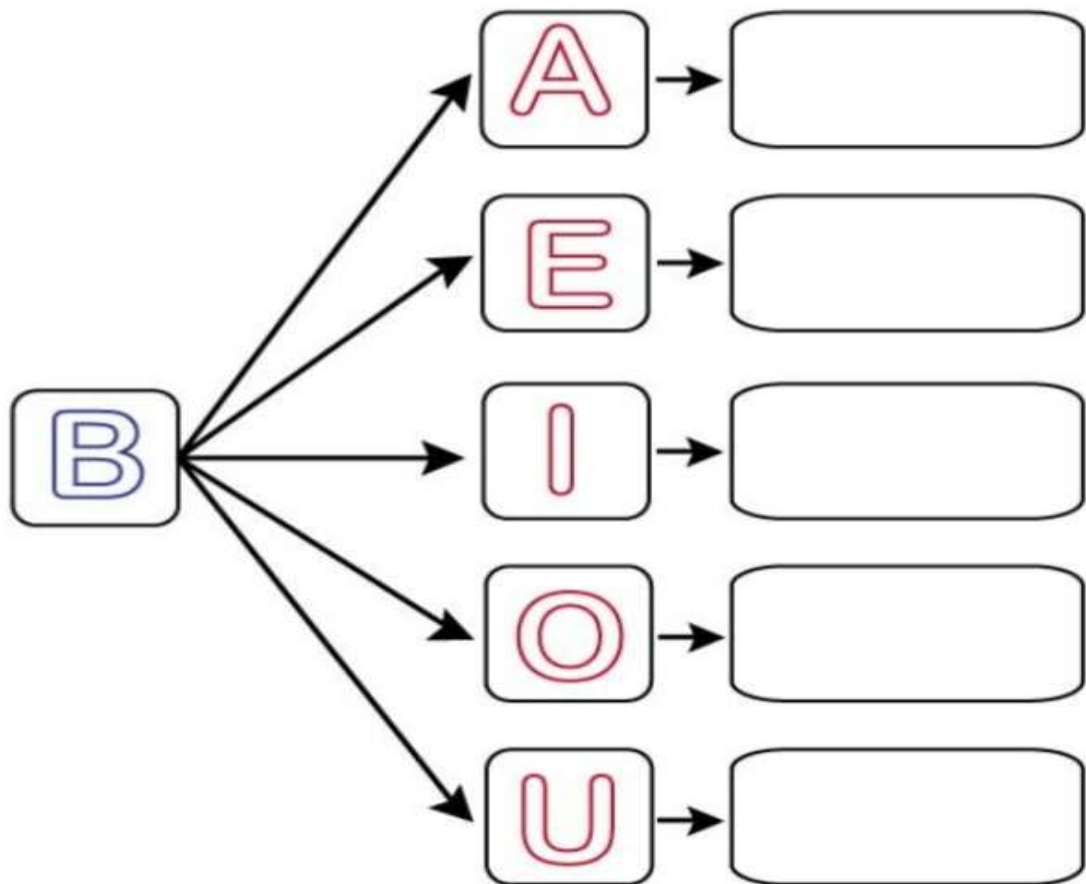
Período: 05/07/2021 a 06/08/2021

Devolução: 10/08/2021

FAMÍLIA SILÁBICA

B

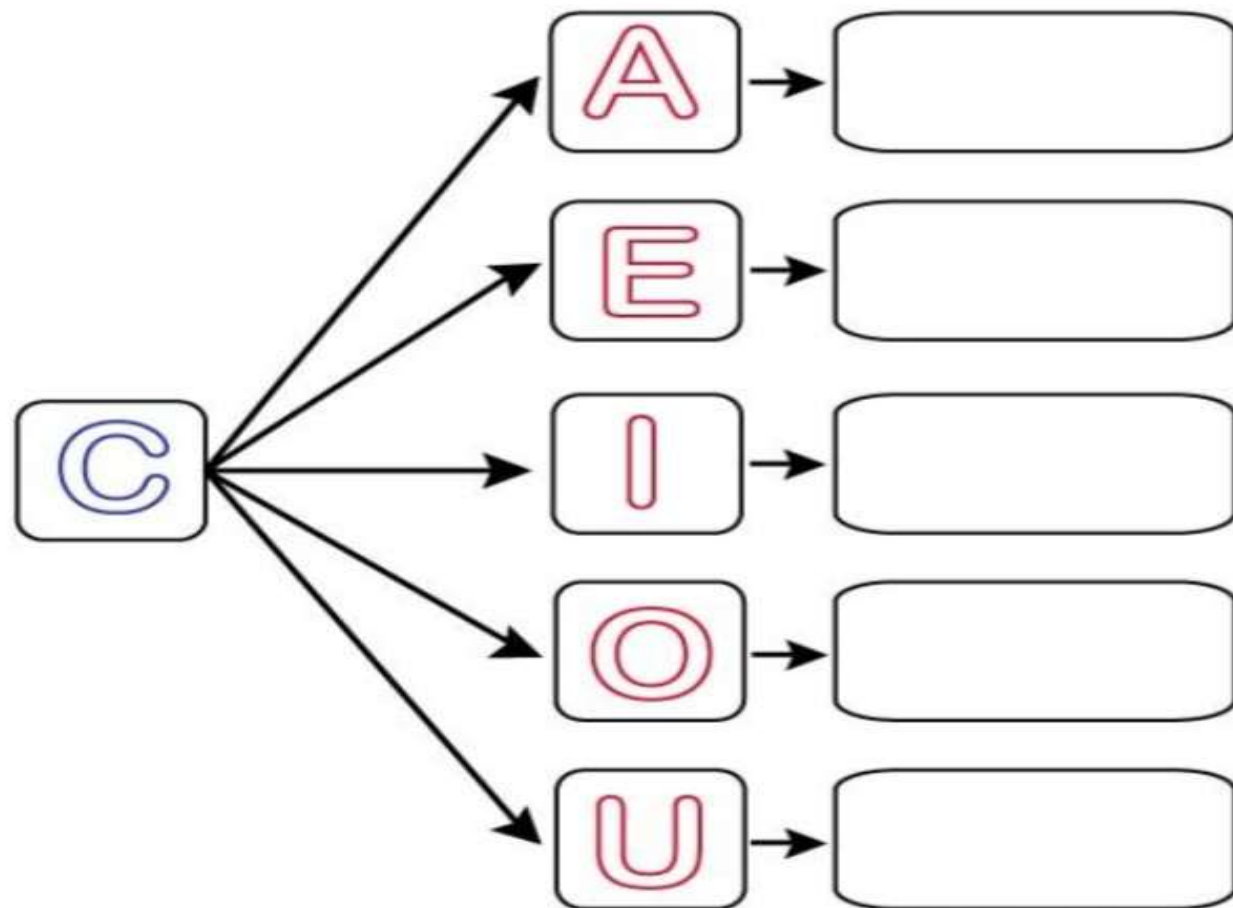
UNA A LETRA B COM CADA VOGAL E FORME AS SÍLABAS:



FAMÍLIA SILÁBICA

C

UNA A LETRA C COM CADA VOGAL E FORME AS SÍLABAS:



NOME: _____

DATA:06/07/21

COMPLETE COM:





BA

BE

BI

BO

BU



BA


BE

BI

BO

BU

1- COMPLETE O NOME DE CADA DESENHO, COM A SÍLABA INICIAL:



NOME: _____

DATA: 19/07/21

FAMÍLIA SILÁBICA

C

LIGUE:

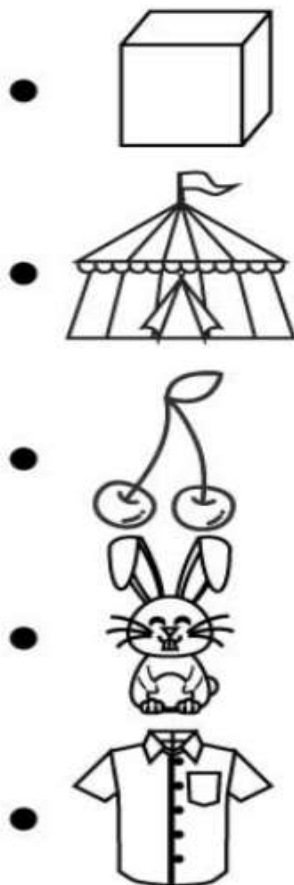
CA •

CE •

CI •

CO •

CU •



FAMÍLIA SILÁBICA

C

COMPLETE AS PALAVRAS COM CA, CE, CI, CO OU CU:



		M	I	S	A
--	--	---	---	---	---



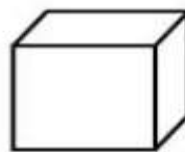
		R	E	J	A
--	--	---	---	---	---



		R	C	O
--	--	---	---	---



		L	H	O
--	--	---	---	---



		B	O
--	--	---	---

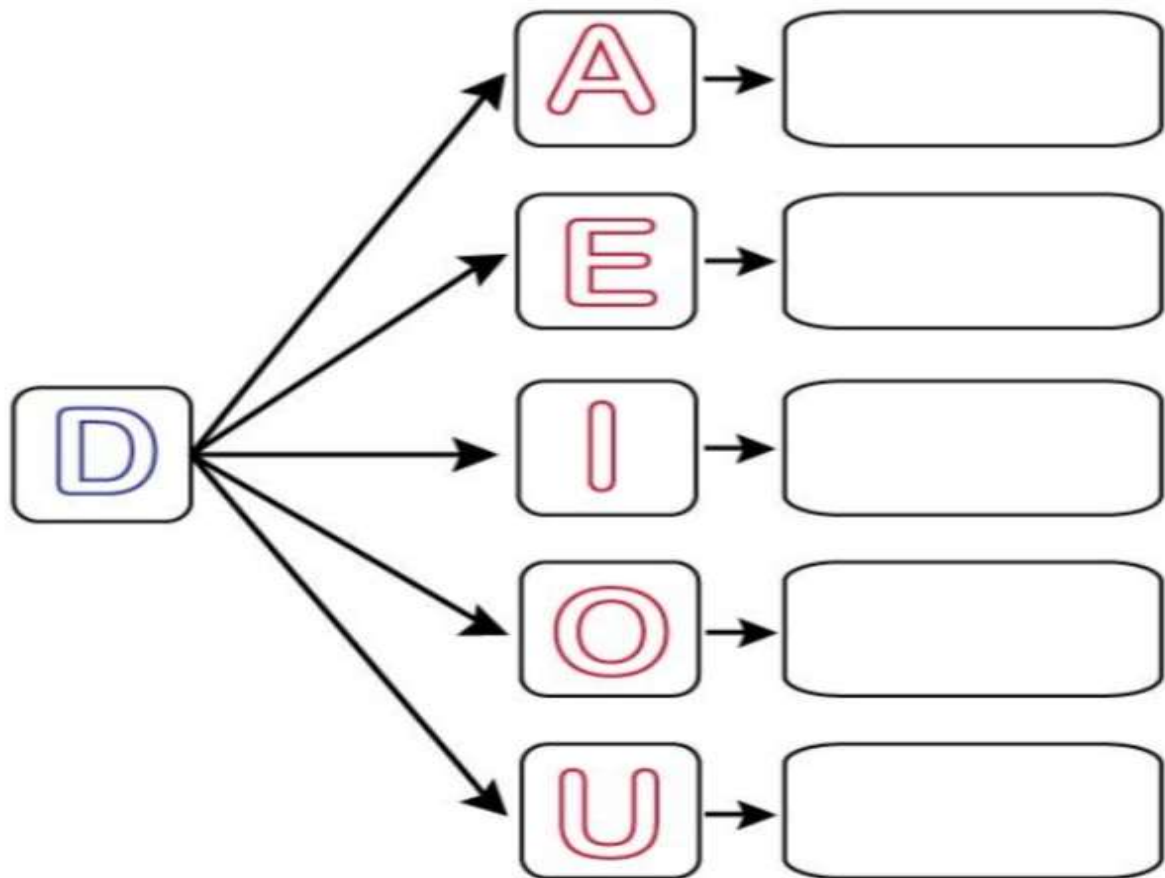
NOME: _____

DATA 20/07/21

FAMÍLIA SILÁBICA

D

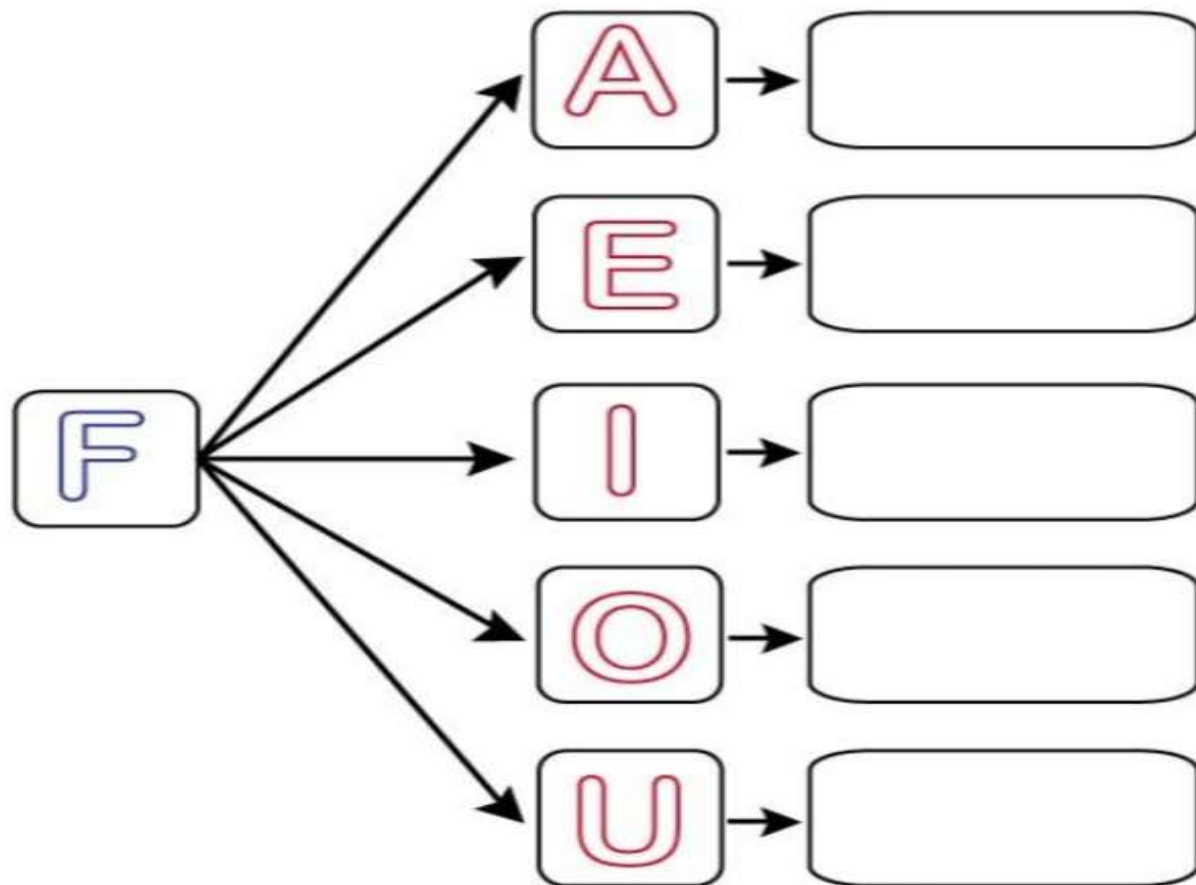
UNA A LETRA D COM CADA VOGAL E FORME AS SÍLABAS:



FAMÍLIA SILÁBICA

F

UNA A LETRA F COM CADA VOGAL E FORME AS SÍLABAS:



NOME: _____

DATA: 21/07/21

FAMÍLIA SILÁBICA D

LIGUE:

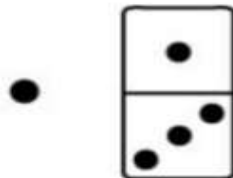

DA •

DE •

DI •

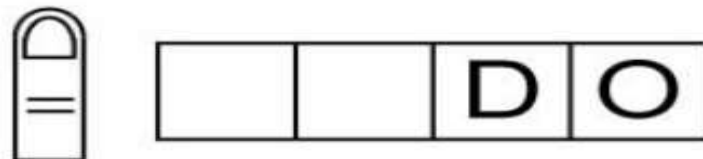

DO •

DU •



FAMÍLIA SILÁBICA D

COMPLETE AS PALAVRAS COM DA, DE, DI, DO OU DU:



NOME: _____

DATA: 22/07/21

FAMÍLIA SILÁBICA

F

LIGUE:


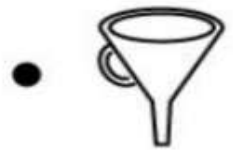
FA •

FE •

FI •

FO •

FU •



FAMÍLIA SILÁBICA

F


COMPLETE AS PALAVRAS COM FA, FE, FI, FO OU FU:



CA



I J Ã O



TA



LHA



NIL

NOME: _____

DATA: 23/07/21

MATEMATICANDO



ESTA É SAMARA. ELA GOSTA MUITO DE BISCOITOS. SAMARA COME 3 BISCOITOS POR DIA.

ELA QUER SABER QUANTOS COMERÁ EM UMA SEMANA. VAMOS AJUDÁ-LA?

COMPLETE A TABELA DA SEMANA COM DESENHOS, DEPOIS RESPONDA.

QUANTIDADE DE BISCOITO POR DIA DA SEMANA						
DOMINGO	SEGUNDA	TERÇA	QUARTA	QUINTA	SEXTA	SÁBADO

1 – QUANTOS BISCOITOS SAMARA COMERÁ EM UMA SEMANA?

2 – SE SUA MÃE A DEIXASSE COMER SÓ NO SÁBADO E DOMINGO, QUANTOS BISCOITOS ELA COMERIA?

3 – A MÃE DE SAMARA DESCOBRIU QUE ELA COMIA BISCOITOS ESCONDIDA. ENTÃO ESCONDEU TODOS ELES E AGORA SÓ DÁ A ELA DOIS BISCOITOS POR DIA. DESENHE NA TABELA.

QUANTIDADE DE BISCOITO POR DIA DA SEMANA						
DOMINGO	SEGUNDA	TERÇA	QUARTA	QUINTA	SEXTA	SÁBADO

A) EM UMA SEMANA, SAMARA COMERÁ:

- () UMA DÚZIA DE BISCOITOS.
- () UMA DEZENA DE BISCOITOS.
- () 14 BISCOITOS.

B) EM QUE DIA DA SEMANA COMPLETARÁ UMA DEZENA DE BISCOITOS?

C) EM QUE DIA DA SEMANA COMPLETARÁ UMA DÚZIA DE BISCOITOS?

4 – COMPLETE A SEQUÊNCIA DE ACORDO.

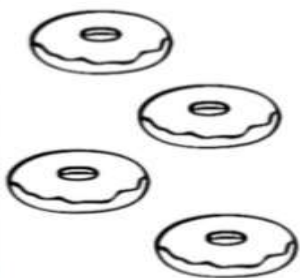
2	4						16
				28			



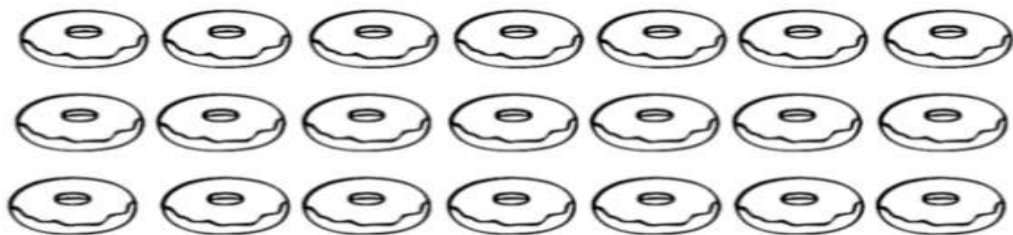
NOME: _____

DATA: 26/07/21

5 - COMPLETE COM DESENHOS ATÉ UMA DÚZIA.



6 - CIRCULE DE DEZ EM DEZ FORMANDO CONJUNTOS.



- QUANTAS DEZENAS VOCÊ CIRCULOU?

() 20

() 2

() 1

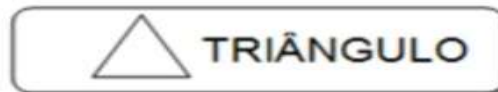

- QUANTOS BISCOITOS SOBRARAM FORA DOS CONJUNTOS?

- A QUANTIDADE DE BISCOITOS REPRESENTA UM NÚMERO:

() PAR

() ÍMPAR

• PINTO O DESENHO ABAIXO, SEGUINDO AS ORIENTAÇÕES:



• PINTO A QUANTIDADE DE FORMAS GEOMÉTRICAS EXISTENTES NA IMAGEM ACIMA:

RETÂNGULO S

QUADRADOS


TRIÂNGULO

CÍRCULO

• CONTINUE A SEQUÊNCIA:




VAMOS COLORIR OS ANÉIS OLÍMPICOS



SÃO CINCO ANÉIS DE CORES DIFERENTES:
(AZUL, VERMELHO, PRETO, AMARELO E VERDE)

LIGUE DE ACORDO COM A COR QUE
REPRESENTA CADA CONTINENTE



AMARELO

VERDE

PRETO

VERMELHO

AZUL

AMÉRICA

ÁSIA

EUROPA

ÁFRICA

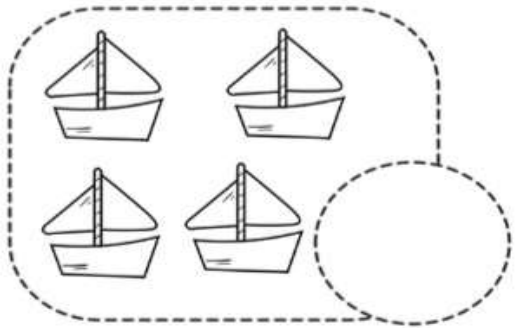
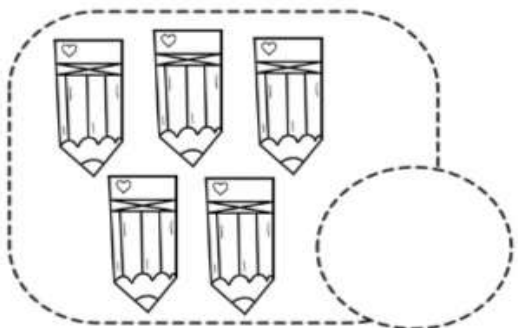


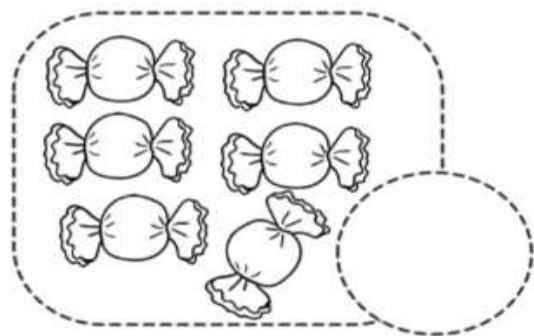
OCEÂNIA

NOME: _____

DATA 28/07/21

CONTAGEM E QUANTIDADE

1- CONTE OS ELEMENTOS E INDIQUE A QUANTIDADE.



RESOLVA AS SUBTRAÇÕES ABAIXO:

$$\begin{array}{r} 8 \\ -2 \\ \hline \end{array}$$

$$\begin{array}{r} 7 \\ -6 \\ \hline \end{array}$$

$$\begin{array}{r} 2 \\ -1 \\ \hline \end{array}$$

$$\begin{array}{r} 1 \\ -1 \\ \hline \end{array}$$

$$\begin{array}{r} 4 \\ -3 \\ \hline \end{array}$$

$$\begin{array}{r} 9 \\ -4 \\ \hline \end{array}$$

$$\begin{array}{r} 5 \\ -3 \\ \hline \end{array}$$

$$\begin{array}{r} 6 \\ -5 \\ \hline \end{array}$$

$$\begin{array}{r} 3 \\ -2 \\ \hline \end{array}$$

$$\begin{array}{r} 4 \\ -2 \\ \hline \end{array}$$

$$\begin{array}{r} 8 \\ -6 \\ \hline \end{array}$$

$$\begin{array}{r} 9 \\ -5 \\ \hline \end{array}$$

$$\begin{array}{r} 5 \\ -4 \\ \hline \end{array}$$

$$\begin{array}{r} 4 \\ -1 \\ \hline \end{array}$$

$$\begin{array}{r} 7 \\ -7 \\ \hline \end{array}$$

NOME: _____

DATA: 29/07/21

Amor emina.com.br
Alfabetizar com Amor

NOME _____

SUCESSOR E ANTECESSOR

1 - COMPLETE COM OS NÚMEROS QUE VÊM ANTES E DEPOIS.


	2			5	
	15			19	
	22			29	
	25			40	

2 - COMPLETE AS SEQUÊNCIAS NUMÉRICAS.

A) 25 30

B) 11 15

C) 5 8



Amor emina.com.br
Alfabetizar com Amor

NOME _____

SUCESSOR E ANTECESSOR

1 - COMPLETE O QUADRO COM AS QUANTIDADES.

ANTES	QUANTIDADE	DEPOIS
		
		
		
		

2 - COMPLETE O QUADRO COM OS NÚMEROS.

ANTECESSOR	NÚMERO	SUCESSOR
	19	
	8	
		15
28		
	40	
49		




NOME: _____


DATA: 30/07/21


CIRCULE A PALAVRAS DE ACORDO COM O NOME DE CADA FIGURA:


	PAPÉIS PASTÉIS ANÉIS		ARMÁRIO ARCO ARGOLA
	ARTE ARCO ARGOLA		BINGO BICICLETA BISTECA
	ALVO ALMA ALTO		BOLA BOTA BOCA
	PALITO APITO BONITO		BRAVO BRASA BRASIL
	ATLETA ATLAS ATLÉTICO		BASTÃO BASQUETE BARCO


FORME AS PALAVRAS


 **GOL** + **FE** =


 **HAN** + **DE** + **BOL** =

 **HÓ** + **QUEI** =

 **JU** + **DÔ** =

 **KA** + **RA** + **TÊ** =

 **MA** + **RA** + **TO** + **NA** =

 **RE** + **MO** =

NOME: _____

DATA:02/08/21

COMPLETE AS PALAVRAS COM AS VOGAIS



H _ _ QU _ _



K _ _ R _ _ T _ _



G _ _ N _ _ ST _ _ C _ _



R _ _ M _ _



T _ _ R _ _

PINTE A QUANTIDADE INDICADA EM CADA TABELA











NOM: _____


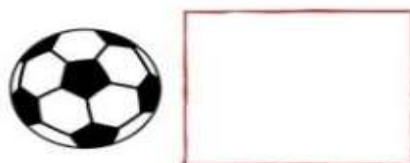

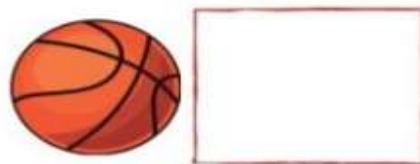
DATA:03/08/21

COMPLETE A SEQUÊNCIA NUMÉRICA

1 4 5 7 8 10 13

<

LIGUE AS BOLAS AOS SEUS ESPORTES



FUTEBOL

GOLF

TÊNIS

BASQUETE

HANDBOL

NOME: _____

VEJA A PALAVRA ABAIXO E COMPLETE

MEDALHAS

ESSA PALAVRA TEM QUANTAS LETRAS?

QUANTAS VOGAIS TEM ESSA PALAVRA?

QUAL É A LETRA INICIAL?

QUANTAS CONSOANTES?

AGORA PINTE AS **VOGAIS DE VERDE** E AS
CONSOANTES DE ROXO

MEDALHAS



DATA:04/08/21

PINTE AS LETRAS DA PALAVRA QUE SE
PEDE E ESCREVA ABAIXO

NAS OLIMPÍADAS TORCEMOS PELO

R B S N R I L V D

ESTA É A BANDEIRA DO BRASIL:



ESCREVA OS NOMES DAS CORES DA BANDEIRA

NOME: _____

DATA:05/08/21

MIRAITOWA E SOMEITY



MIRAITOWA É A MASCOTE OFICIAL DOS JOGOS OLÍMPICOS DE VERÃO.

SOMEITY É A MASCOTE OFICIAL DOS JOGOS PARALÍMPICOS DE VERÃO;

MIRAITOWA É NOMEADO DAS PALAVRAS JAPONESAS "FUTURO" E "ETERNIDADE" E SOMEITY É NOMEADO DE SOMEYOSHINO, UM TIPO DE FLOR. O NOME DE SOMEITY TAMBÉM FAZ REFERÊNCIA À FRASE EM INGLÊS "TÃO PODEROSO".



NOME: _____

DATA: 06/08/21

MATEMÁTICA

TREINANDO ADIÇÃO

$$\begin{array}{r} 4 \\ + 1 \\ \hline \square \end{array}$$

$$\begin{array}{r} 2 \\ + 4 \\ \hline \square \end{array}$$

$$\begin{array}{r} 5 \\ + 1 \\ \hline \square \end{array}$$



$$\begin{array}{r} 6 \\ + 3 \\ \hline \square \end{array}$$

$$\begin{array}{r} 7 \\ + 2 \\ \hline \square \end{array}$$

$$\begin{array}{r} 5 \\ + 4 \\ \hline \square \end{array}$$







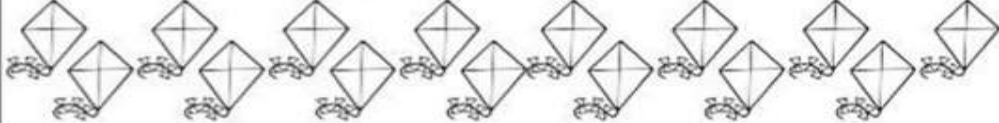
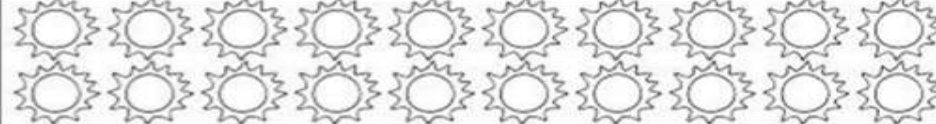
$$\begin{array}{r} 2 \\ + 6 \\ \hline \square \end{array}$$

$$\begin{array}{r} 4 \\ + 3 \\ \hline \square \end{array}$$

$$\begin{array}{r} 6 \\ + 1 \\ \hline \square \end{array}$$



1- CONTE E ESCREVA O NUMERAL QUE INDICA A QUANTIDADE DE ELEMENTOS NO CÍRCULO AO LADO.

	<input type="text"/>
	<input type="text"/>
	<input type="text"/>
	<input type="text"/>
	<input type="text"/>
	<input type="text"/>
	<input type="text"/>
	<input type="text"/>

Referências Bibliográficas

<https://misturadealegria.blogspot.com>

<https://amorensina.com.br>

<https://www.aartedeensinareaprender.com>

<https://atividadesparaeducadores.blogspot.com/>

<https://educacaoetransformacaooficial.blogspot.com/>

<https://www.atividadesparaimprimir.com/>

<https://www.soescola.com/2021/06/atividades-olimpiadas-2021.html>