



PREFEITURA DA ESTÂNCIA TURÍSTICA DE
IBIÚNA
Por uma Ibiúna próspera. Investindo no presente, gerando o futuro.
SECRETARIA DE EDUCAÇÃO



Rua Raimundo Santiago, nº 27 - Centro
Telefone: (15) 3248-1292/e-mail: apoiopedagogicosmeibiuna@hotmail.com

E.M. "BAIRRO MORRO GRANDE"



8ª APOSTILA

ATIVIDADES DOMICILIARES 2021 – 4º ANO-C

3º BIMESTRE/ PROFESSORA: GENI GODINHO SOARES

Referentes aos dias: 05, 06, 19, 20, 21, 22, 23, 26, 27, 28, 29, 30 de julho e 02, 03, 04, 05 e 06 de agosto.

Nome do aluno: _____

Conforme as orientações pedagógicas – nº11 de 14 de julho de 2021 da
Secretaria Municipal de Educação de Ibiúna.

E.M. “BAIRRO MORRO GRANDE”
LÍNGUA
PORTUGUESA
4º ANO C



Nome : _____

8ª APOSTILA

ATIVIDADES PARA OS DIAS:

05, 06, 19, 20, 21, 22, 23, 26, 27, 28, 29, 30
de julho e 02, 03, 04, 05 e 06 de agosto.

QUESTÃO 1



Disponível em: <http://www.funarte.gov.br/artes-integradas/a-historia-dos-quadrinhos-no-brasil-e-tema-do-arte-em-foco-de-outubro/>. Acesso em: 7 set. 2019.

Na história, o tênis do menino tem

- A) aquecedor.
- B) acelerador.
- C) amortecedor.
- D) amplificador.

QUESTÃO 2

Bolo de chocolate da vovó

Ingredientes:

- 3 xícaras de farinha de trigo
- 2 xícaras e 1/2 de açúcar
- 1 xícara de chocolate em pó (amargo)
- 1 colher de chá de fermento em pó
- 1 xícara de chá de óleo de soja
- 2 ovos

Modo de Preparo:

- Primeiro misture os ingredientes secos: a farinha, o açúcar, o chocolate em pó e o fermento.
- Junte os ingredientes molhados: óleo e ovo. Misture bem.
- Coloque a massa numa assadeira média untada e asse em forno médio por cerca de 35 minutos.

Está pronto o seu bolo de chocolate, igual ao da vovó!

Elaborado pela autora.

Esse texto serve para

- A) contar que a avó gosta de bolo de chocolate.
- B) ensinar a fazer bolo de chocolate.
- C) dizer com que o chocolate combina.
- D) contar que a avó gosta de cozinhar.

QUESTÃO 3

Querido(a) amigo(a) _____

Venha comemorar comigo o meu 9º aniversário!

Ele será no salão de festas do meu prédio, dia 15 de outubro, a partir das 17h00.

Venha com uma roupa bem esportiva, pois faremos muitas brincadeiras!

Até lá!

Data: 15 de outubro de 2019

Horário: a partir das 17h00

Endereço: Rua XV de setembro, 1543 – salão de festas

Elaborado pela autora.

Qual a roupa indicada para a festa?

- A) Qualquer roupa.
- B) Roupa de festa.
- C) Roupa esportiva.
- D) Roupa de banho.

QUESTÃO 4

Queimada

Jeito de brincar

Para brincar, é preciso dividir o grupo em dois times.

O jogador que estiver com a bola deve arremessá-la tentando acertar (queimar) uma pessoa do outro time. Quem for queimado sai do jogo.

Vence a equipe que conseguir queimar todo o time adversário primeiro.

Disponível em: <http://mapadobrinca.folha.com.br/brincadeiras/bola/55-queimada>.
Acesso em: 7 set. 2019.

Qual a finalidade das regras do jogo de queimada?

- A) Explicar como jogar queimada.
- B) Dividir o grupo em dois times.
- C) Acertar uma pessoa do outro time.
- D) Vencer a equipe adversária.

QUESTÃO 5

Julia,

No fim de semana, traga seu jogo novo para que a gente possa jogar com meus primos que também virão à minha casa. Minha mãe fará suco, pipoca e pão de queijo. Fala para a sua mãe não se preocupar, porque você pode passar o dia todo aqui. Vamos fazer muitas coisas legais!

Um beijo,
Marina

Elaborado pela autora.

Para que Marina enviou um bilhete à Julia?

- A) Para pedir que traga o jogo novo.
- B) Para convidá-la para comer pipoca, pão de queijo e tomar suco.
- C) Para pedir que passasse o dia em sua casa.
- D) Para fazer coisas legais.

QUESTÃO 6

8 de fevereiro

Querido diário,

Este foi um dos piores dias da minha vida!

A mamãe me levou ao médico porque eu estava espirrando muito. Sabe o que ele mandou eu fazer?

Jogar fora todos os meus bichos de pelúcia!!

Não sei se estou preparada. Já é ruim estar doente. Será que, ainda por cima, tenho que perder meus fofuchos?

Tem que ter uma saída!

Querido diário, me dê uma luz!!

ZIRALDO. *Diário da Julieta*: as histórias mais secretas da menina maluquinha. São Paulo: Editora Globo, 2006.

Por que o médico mandou a menina se desfazer de seus bichos de pelúcia?

- A) Porque ela já está grande.
- B) Porque ele não era um médico legal.
- C) Porque ela estava espirrando muito.
- D) Para ter mais espaço no quarto.

QUESTÃO 7

Alimentação para criança crescer saudável e feliz

Alimentação para criança é algo que os pais devem dar uma atenção especial, segundo os especialistas na área. Começa no aleitamento materno e continua por muito tempo merecendo os cuidados do papai e da mamãe, até formar hábitos nutricionais saudáveis. Os costumes adquiridos nessa fase vão repercutir por toda a vida.

Além disso, os pais devem ter em mente que seus filhos ficarão grandes e vão conquistar mais liberdade, principalmente quando estiverem se alimentando fora de casa. Um exemplo disso é a escola, onde geralmente não existe uma atenção especial quanto ao alimento que a criança vai consumir no horário da merenda.

Aquelas crianças que tiveram uma alimentação saudável na infância evitam com mais naturalidade alimentos prejudiciais à sua saúde. Isso mostra a importância que os pais devem dar à alimentação das crianças, pois somente assim haverá a conquista de hábitos alimentares saudáveis desde o início.

(...)

Disponível em: <https://www.obrasileirinho.com.br/alimentacao-para-crianca/#more-21954>. Acesso em: 7 set. 2019.

O texto acima informa que

- A) crianças com alimentação saudável na infância conquistam hábitos alimentares saudáveis.
- B) a alimentação da criança na infância não tem nenhuma relação com hábitos saudáveis.
- C) a infância é a época ideal para se comer tudo o que deseja.
- D) hábitos alimentares saudáveis só precisam ser adquiridos depois de adultos.

QUESTÃO 8

A Onça despertou muito cedo. Era madrugada, o sol despontava no horizonte. Muitos animais ainda dormiam. Ela parecia agitada, na verdade, preocupada. Pôs-se a andar de um lado para outro, impaciente.

O Macaco, que observava a Onça de longe, ficou imaginando o que estaria acontecendo. Seria saudade doendo no peito? Doença na família? O que será que a aflige? O Macaco espiava. Chegou a Coruja, pousou no galho ao lado, e arriscou:

– **Será que a Onça está com fome?**

O Macaco, a Coruja, o Coelho, o Jabuti e a Raposa agora observavam ela ir de um lado a outro. Então o Jabuti disse:

– **Eu, com certeza, ouvi a Onça falar.** O quê, não sei. Não pude compreender, mas que falava, falava e falava sozinha.

– **Será que ela enlouqueceu?** – arriscou a Raposa.

O Coelho não resistiu à curiosidade. Foi falar com a Onça. Chegou devagar, assim como quem não tem pressa, e já ia começando um papo furado quando a Onça falou:

– **Há dias, penso em encontrar um bom marido para minha filha.** Um bom caçador, naturalmente...


FRANÇA, Mary. *Tapas e beijos da comadre*. São Paulo: Global, 2007. p. 5-6. (Adaptado)

A Onça estava aflita porque

- A) dependia da ajuda dos outros bichos.
- B) estava preocupada com o casamento.
- C) precisava que os animais acordassem.
- D) tentava guardar um grande segredo.

QUESTÃO 9

Leia a tirinha, observe as imagens e responda à questão.



Disponível em: <http://turmadamonica.uol.com.br/tirinhasdomarcelinho/index.php?a=37>. Acesso em: 30 abr. 2019.

O que o menino bloqueou?

- A) A internet.
- B) A mangueira.
- C) A torneira.
- D) O celular.

QUESTÃO 10

Leia o texto e responda à questão.

A casa sonolenta

Era uma vez uma casa sonolenta,
onde todos viviam dormindo...
Nessa casa tinha uma cama...
Nessa cama tinha uma avó, uma avó roncando...
Em cima dessa avó tinha um menino, um menino sonhando...
Em cima desse menino tinha um cachorro, um cachorro cochilando...
Em cima desse cachorro tinha um gato, um gato roncando...
Em cima desse gato tinha um rato, um rato dormitando...
Em cima desse rato tinha uma pulga...
Será possível? Uma pulga acordada, que picou o rato,
que assustou o gato,
que arranhou o cachorro que caiu sobre o menino,
que deu um susto na avó, que quebrou a cama...
Uma cama aconchegante, numa casa sonolenta,
onde ninguém mais estava dormindo.

WOOD, Audrey. **A casa sonolenta**. 16. ed. São Paulo: Ática, 2016. (Adaptado)

Quem a pulga picou?

- A) O cachorro.
- B) O menino.
- C) O gato.
- D) O rato.

QUESTÃO 11

Vacine-se contra o
sarampo

**CAMPANHA NACIONAL DE VACINAÇÃO
CONTRA A POLIOMIELITE E
CONTRA O SARAMPO**

O dia "D" da Campanha será
no dia 18/08/2018.

Faixa etária de 1 a 4 anos.

Disponível em: <http://www.jau.sp.gov.br/noticia/6760/campanha-de-vacinacao-contrasarampo-e-paralisia-infantil-dia-d-neste-sabado>. Acesso em: 7 set. 2019.

De acordo com a propaganda, o que é o "dia D"?

- A) Dia específico de combate contra o sarampo e a poliomielite.
- B) Dia de proteção contra o sarampo.
- C) Dia de proteção contra a poliomielite.
- D) Dia de Campanha Nacional de Vacinação para crianças maiores de 4 anos.

QUESTÃO 12

Leia a tirinha a seguir:



Qual é o assunto principal da tirinha?

- A) Compra e venda do amor.
- B) O amor ser muito caro.
- C) O amor ser muito barato.
- D) Um sentimento não tem preço.

QUESTÃO 13

O rato do mato e o rato da cidade

Um ratinho da cidade foi uma vez convidado para ir à casa de um rato do campo. Vendo que seu companheiro vivia pobremente de raízes e ervas, o rato da cidade convidou-o a ir morar com ele:

– Tenho muita pena da pobreza em que você vive – disse. – Venha morar comigo na cidade e você verá como lá a vida é mais fácil.

Lá se foram os dois para a cidade, onde se acomodaram numa casa rica e bonita.

Foram logo à despensa e estavam muito bem, se empanturrando de comidas fartas e gostosas, quando entrou uma pessoa com dois gatos, que pareceram enormes ao ratinho do campo.

Os dois ratos correram espavoridos para se esconder.

– Eu vou para o meu campo – disse o rato do campo quando o perigo passou. – Prefiro minhas raízes e ervas na calma, às suas comidas gostosas com todo esse susto.

Mais vale magro no mato que gordo na boca do gato.

ABREU, Ana Rosa et al. **Alfabetização**: livro do aluno. Brasília: Fundescola/SEF-MEC, 2000. v. 2. Disponível em: <http://www.dominiopublico.gov.br/download/texto/me000589.pdf>. Acesso em: 28 set. 2019.

O rato do mato decidiu voltar para o campo porque

- A) a comida de lá é mais gostosa.
- B) a vida na cidade pode ser perigosa.
- C) o campo é mais bonito.
- D) ele não gostou das comidas da cidade.

E.M. “BAIRRO MORRO GRANDE”

MATEMÁTICA

4º ANO C



Nome : _____

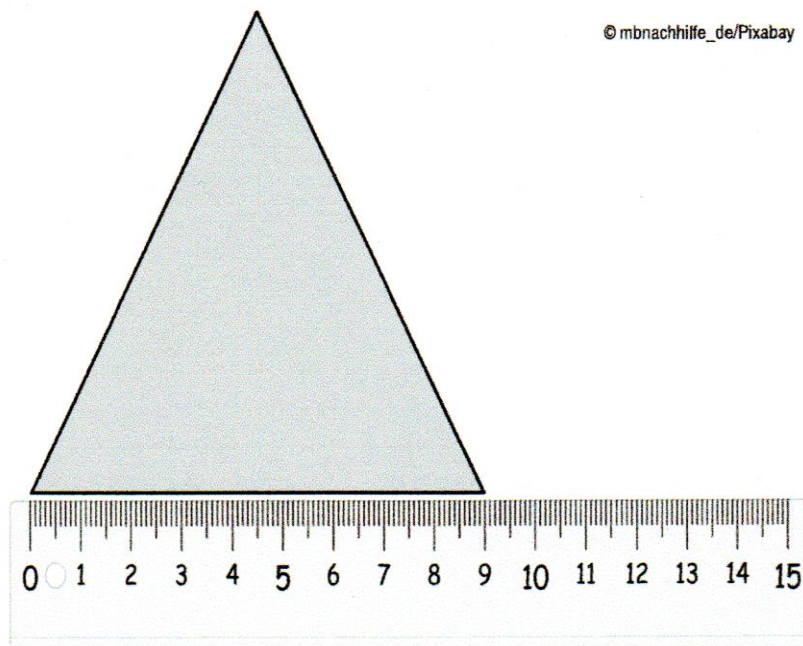
8ª apostila

ATIVIDADES PARA OS DIAS:

05, 06, 19, 20, 21, 22, 23, 26, 27, 28, 29, 30 de julho e
02, 03, 04, 05 e 06 de agosto.

QUESTÃO 1

Observe o triângulo representado a seguir, que tem todos os lados com a mesma medida, e a régua com as medidas em centímetros.



Utilizando a régua da imagem, a medida do lado do triângulo é

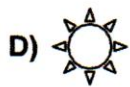

- A) 8 cm.
- B) 9 cm.
- C) 10 cm.
- D) 15 cm.

QUESTÃO 2

Observe a sequência de figuras que Marcelo está desenhando.



A próxima figura dessa sequência é:



QUESTÃO 3

Rafaela compôs um número formado por 9 centenas, 7 dezenas e 8 unidades.

Esse número é o

A) 978.


B) 9 708.

C) 90 078.

D) 900 708.

QUESTÃO 4

Observe o quadro que Malu pintou.



A pintura no quadro é composta por

- A) círculos.
- B) quadrados.
- C) retângulos.
- D) triângulos.

QUESTÃO 5

A tabela a seguir informa os pontos dos times classificados para a próxima rodada do campeonato do clube da cidade.

TIMES CLASSIFICADOS – CAMPEONATO DE FUTEBOL DO CLUBE	
TIME	QUANTIDADE DE PONTOS
AZUL	14
VERDE	15
AMARELO	11
VERMELHO	12

Elaborado pelo autor.

O time que está com a menor quantidade de pontos é o

- A) azul.
- B) verde.
- C) amarelo.
- D) vermelho.

QUESTÃO 6

Observe o retângulo e o lápis desenhados a seguir.



Elaborado pelo autor.

A quantidade de lápis que corresponde ao comprimento do retângulo desenhado é de

- A) 2 lápis.
- B) 4 lápis.
- C) 6 lápis.
- D) 12 lápis.

QUESTÃO 7

Marina está jogando bingo com sua família. Sua irmã venceu a primeira rodada do jogo. Completou uma linha da sua cartela com os seguintes números:

© BILLITHECAT/PIXABAY

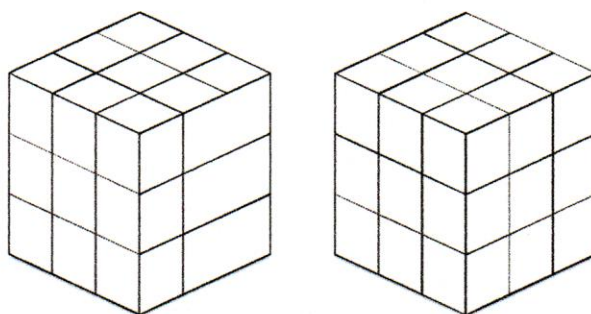


O maior deles é o

- A) 14.
- B) 37.
- C) 39.
- D) 53.

QUESTÃO 8

Na escola, a turma está participando de um campeonato com o quebra-cabeça representado a seguir.



Esse quebra-cabeça tem o formato de

- A) esfera.
- B) cubo.
- C) cone.
- D) pirâmide.

QUESTÃO 9

Mara levou as crianças à escola. O relógio do carro marcava



Quando chegou à escola, o relógio marcava



O tempo gasto da casa de Mara até a escola foi de

- A) 1 minuto.
- B) 12 minutos
- C) 29 minutos.
- D) 30 minutos.

QUESTÃO 10


Silvio tinha 66 carrinhos em sua coleção. Ganhou mais alguns de seu tio, ficando com 95.

A quantidade de carrinhos que ele ganhou foi de

- A) 29.
- B) 31.
- C) 39.
- D) 161.

QUESTÃO 11

O Papai Noel está de férias. Observe a imagem a seguir.

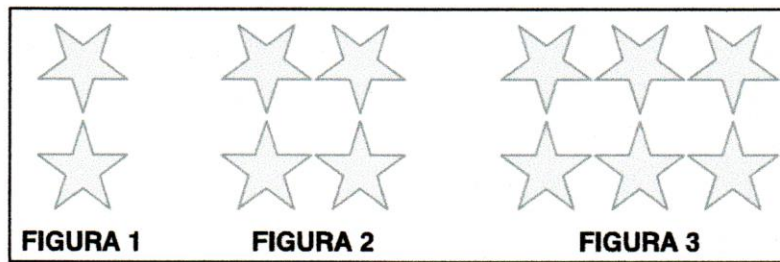


Indique o objeto que está localizado no quadrinho 3B.

- A) A bermuda.
- B) A bola.
- C) As botas.
- D) Os óculos.

QUESTÃO 12

Ana está construindo uma sequência com adesivos de estrelas.



A figura 4 dessa sequência será formada por

- A) 2 estrelas.
- B) 6 estrelas.
- C) 8 estrelas.
- D) 12 estrelas.

QUESTÃO 13

Eduarda guardou, neste mês, o valor representado pelas cédulas a seguir.



Banco Central do Brasil

Esse valor corresponde a

- A) 7 reais.
- B) 10 reais.
- C) 20 reais.
- D) 37 reais.

Referências:

APROVA BRASIL – ANOS INICIAIS - MODERNA

