

**E.M RECANTO FELIZ- Prof.ª SANDRA
REGINA RODRIGUES DA SILVA.
APOSTILA DE ATIVIDADES Nº 08**

DIAS: 05, 06, 19, 20, 21, 22, 23, 26, 27, 28,29, 30/07 E 02, 03, 04, 05,06/08.



ALUNO (A): _____

PROFESSORA: THAÍS

1º ANO- B

IBIÚNA, 05 DE JULHO 2021

LÍNGUA PORTUGUESA

ATIVIDADE 1

COMPLETE O CABEÇALHO COM O DIA DE HOJE E DEPOIS TENDE COPIAR BEM BONITO NAS LINHAS ABAIXO:

IBIÚNA, _____ DE JULHO DE 2021

E.M RECANTO FELIZ PROFESSORA SANDRA REGINA

MEU NOME É: _____

ATIVIDADE 2

COMPLETE O ALFABETO COM AS LETRAS QUE FALTAM.

A	B			E			H		J
		M				Q	R		T
U			X		Z				

MATEMÁTICA

ATIVIDADE 1

NUMA SALA HÁ UM QUADRO DE NÚMEROS. ALGUNS DELES FORAM COBERTOS POR CARTÕES COLORIDO.

	2	3		5		7	8		10
11			14	15	16			19	20
	22			25		27			30
31		33		35	36		38		40

1-COMPLETE O QUADRO, ESCRREVENDO NOS CARTÕES COLORIDOS OS NÚMEROS QUE FORAM COBERTOS.

A- QUAIS SÃO OS NÚMEROS TERMINADOS EM 1?

B- E OS NÚMEROS TERMINADOS EM 6?

C- ESCRVA OS NÚMEROS QUE ESTÃO NA SEGUNDA LINHA.

IBIÚNA, 06 DE JULHO DE 2021

LÍNGUA PORTUGUESA

ATIVIDADE 3

COM AJUDA DE UM ADULTO, LEIA, CANTE E FAÇA MOVIMENTOS:

A LINDA ROSA JUVENIL

A LINDA ROSA JUVENIL, JUVENIL, JUVENIL

A LINDA ROSA JUVENIL, JUVENIL!

VIVIA ALEGRE EM SEU LAR, EM SEU LAR, EM SEU LAR,

VIVIA ALEGRE EM SEU LAR, EM SEU LAR!

UM DIA VEIO UMA BRUXA MÁ, MUITO MÁ, MUITO MÁ,

UM DIA VEIO UMA BRUXA MÁ, MUITO MÁ!

E ADORMECEU A ROSA ASSIM, BEM ASSIM, BEM ASSIM,

E ADORMECEU A ROSA ASSIM, BEM ASSIM!

E O MATO CRESCEU AO REDOR, AO REDOR, AO REDOR,

E O MATO CRESCEU AO REDOR, AO REDOR!

E O TEMPO PASSOU A CORRER, A CORRER, A CORRER,

E O TEMPO PASSOU A CORRER, A CORRER!

E UM DIA VEIO UM BELO REI, BELO REI, BELO REI,

E UM DIA VEIO UM BELO REI, BELO REI!

QUE DESPERTOU A ROSA ASSIM, BEM ASSIM, BEM ASSIM,

QUE DESPERTOU A ROSA ASSIM, BEM ASSIM!

E OS DOIS PUSERAM-SE A DANÇAR, A DANÇAR, A DANÇAR,

E OS DOIS PUSERAM-SE A DANÇAR, A DANÇAR!

E BATAM PALMAS PARA O REI, PARA O REI, PARA O REI,

E BATAM PALMAS PARA O REI, PARA O REI!



ATIVIDADE 4

- COM AJUDA DE UM ADULTO, LEIA E CIRCULE A PALAVRA **ROSA** NO TEXTO.

QUANTAS VEZES APARECEU A **PALAVRA ROSA** NO TEXTO?



ESCREVA O TÍTULO DA CANÇÃO:

QUANTAS LETRAS TÊM O TÍTULO?

PINTE AS VOGAIS DO TÍTULO DA CANÇÃO:

A LINDA ROSA JUVENIL

QUANTAS VOGAIS VOCÊ PINTOU?

REGISTRE AS CONSOANTES DO TÍTULO DA CANÇÃO:

IBIÚNA, 19 DE JULHO DE 2021

CIÊNCIAS DA NATUREZA

ATIVIDADE 1

- O DIA PODE SER DIVIDIDO EM DIFERENTES PERÍODOS: **MANHÃ, TARDE E NOITE.**



MANHÃ



TARDE



NOITE

- COM AJUDA DE UM ADULTO, OBSERVE AS ILUSTRAÇÕES ACIMA, DEPOIS, MARQUE COM X A ALTERNATIVA CORRETA.

A) NO PERÍODO DA MANHÃ O MENINO:

ACORDOU BRINCOU TOMOU BANHO

B) NO PERÍODO DA TARDE O MENINO:

ESTUDOU ACORDOU ALMOÇOU

C) NO PERÍODO DA NOITE O MENINO:

ALMOÇOU FOI DORMIR TOMOU BANHO

LÍNGUA PORTUGUESA

ATIVIDADE 5

- ENCONTRE OS NOMES DOS DESENHOS NO CAÇA- PALAVRAS
ESCREVA:

R	O	S	A	Y	M	A	T	O
R	E	I	K	B	R	U	X	A
T	E	M	P	O	W	L	A	R



IBIÚNA, 20 DE JULHO DE 2021

MATEMÁTICA

ATIVIDADE 2

OS NÚMEROS TAMBÉM SERVEM PARA INDICAR EM QUE DIA DO MÊS ESTAMOS.

- QUE DIA ESTAMOS?

- COM AJUDA DE UM ADULTO, CONSTRUA O CALENDÁRIO DO MÊS QUE ESTAMOS.

MÊS DE JULHO						
DOMINGO	SEGUNDA FEIRA	TERÇA FEIRA	QUARTA FEIRA	QUINTA FEIRA	SEXTA FEIRA	SÁBADO
				1		

- QUANTOS DIAS TEM ESTE MÊS?

- EM QUE DIA DA SEMANA OCORRE O PRIMEIRO DIA DO MÊS DE JULHO?

- CIRCULE AS SEXTAS- FEIRAS DESTE MÊS.

LÍNGUA PORTUGUESA

ATIVIDADE 6

➤ COM AJUDA DE UM ADULTO, LEIA AS PALAVRAS E COMPLETE COM AS VOGAIS:

R___ S___



T___ MP___



R___



BR___X___



L___R











IBIÚNA, 21 DE JULHO DE 2021

MATÉMATICA

ATIVIDADE 3


➤ COM AJUDA DE UM ADULTO, LEIA E RESOLVAS OS PROBLEMAS

<p>HAVIA ____ BRUXAS. CHEGARAM MAIS ____</p>  	<p>____ + ____ = ____</p> <p>FICARAM <input type="text"/></p>
<p>HAVIA ____ REIS. CHEGARAM MAIS ____</p>  	<p>____ + ____ = ____</p> <p>FICARAM <input type="text"/></p>
<p>HAVIA ____ CHAPÉUS. COMPRARAM MAIS ____</p>  	<p>____ + ____ = ____</p> <p>FICARAM <input type="text"/></p>
<p>HAVIA ____ VASSOURAS. COMPRARAM MAIS ____</p>  	<p>____ + ____ = ____</p> <p>FICARAM <input type="text"/></p>

COMPETÊNCIA SOCIOEMOCIONAL

ATIVIDADE 1

➤ LIGUE CADA PERSONAGEM A EMOÇÃO CORRESPONDENTE:



CIRCULE COMO VOCÊ SE SENTE QUANDO ESTÁ ESTUDANDO.



FELIZ



TRISTE



EMPOLGADO

IBIÚNA, 22 DE JULHO DE 2021

CIÊNCIAS HUMANAS

MINHAS CARACTERÍSTICAS

COM AJUDA DE UM ADULTO, VOCÊ VAI SE OLHAR EM UM ESPELHO E OBSERVAR SUAS CARACTERÍSTICAS FÍSICAS E RESPONDER:

MEUS OLHOS SÃO:

PRETOS

VERDES

AZUIS

CASTANHOS

MEU CABELO É:

PRETO

RUIVO

CASTANHO

LOURO

MINHA PELE É:

BRANCA

MORENA


AMARELA

NEGRA

MATEMÁTICA

ATIVIDADE 4

COM AJUDA DE UM ADULTO, OBSERVE AS GRAVURAS E FORME GRUPO DE DEZ CIRCULANDO.



QUANTOS GRUPOS DE 10 VOCÊ FORMOU?

QUANTAS SOBRARAM?

QUANTAS ROSAS AO TODO?



QUANTOS GRUPO DE 10 VOCÊ FORMOU?

QUANTAS SOBRARAM?

QUANTOS LAR TEM AO TODO?

IBIÚNA, 23 DE JULHO DE 2021

LÍNGUA PORTUGUESA

ATIVIDADE 7

OLIMPÍADAS

OS JOGOS OLIMPÍCOS, É UM GRANDE EVENTO MULTIESPORTIVO INTERNACIONAL, NORMALMENTE REALIZADO A CADA QUATRO ANOS.

OS JOGOS OLIMPÍCOS ESTAVAVAM INICIALMENTE PROGRAMADOS PARA JULHO DE 2020. MAS FORAM ADIADOS COMO MUITOS OUTROS EVENTOS POR CAUSA DA COVID-19.

OS JOGOS OLIMPÍCOS ACONTECERÁ EM 2021, NA CAPITAL JAPONESA, TÓQUIO, ENTRE 23 DE JULHO A 8 DE AGOSTO.

COMPLETE AS PALAVRAS COM AS VOGAIS.



H _ _ QU _ _



K _ _ R _ _ T _ _



G _ _ N _ _ ST _ _ C _ _



R _ _ M _ _



T _ _ R _ _

MATEMÁTICA

ATIVIDADE 5

➤ COMPLETE A SEQUÊNCIA NUMÉRICA.

A sequence of basketballs arranged in a path leading to a hoop. The balls contain numbers: 1, 4, 5, 7, 8, 13, 10. There are 5 empty balls in the sequence.

1 4 5 7 8 13 10

IBIÚNA, 26 DE JULHO DE 2021

LÍNGUA PORTUGUESA

ATIVIDADE 9

➤ LEIA AS PALAVRAS E COMPLETE O QUADRO:

PALAVRAS	QUANTAS LETRAS	1º LETRA	ÚLTIMA LETRA	VOGAIS	CONSOANTES
ROSA					
LINDA					
LAR					
ALEGRE					
BRUXA					
ADORMECEU					
MATO					
TEMPO					
REI					
DESPERTOU					
DANÇAR					

VEJA A FIGURA:



RO_____







➤ QUAL SÍLABA QUE COMPLETA O NOME DA FIGURA:

- ZA
- SA
- DA

MATEMÁTICA

ATIVIDADE 6


- COM AJUDA DE UM ADULTO, RESOLVA AS SUBTRAÇÕES:
- OBSERVE O EXEMPLO.

 <p>$7 - 2 = \boxed{5}$</p>	 <p>$7 - 3 = \square$</p>
 <p>$7 - 1 = \square$</p>	 <p>$8 - 6 = \square$</p>
 <p>$8 - 2 = \square$</p>	 <p>$8 - 4 = \square$</p>

IBIÚNA, 27 DE JULHO DE 2021

HISTÓRIA
ATIVIDADE 1

COM AJUDA DE UM ADULTO, LEIA A TIRINHA ABAIXO:



ANOTE A REGRA QUE APARECE NA HISTÓRIA.

CIRCULE O QUE VOCÊ FAZ PARA COLABORAR EM CASA.



ORGANIZAR BRINQUEDOS



ARRUMAR A CAMA



LIMPAR A CASA



LAVAR AS LOUÇAS

GEOGRAFIA

ATIVIDADE 1

COM AJUDA DE UM ADULTO FAÇA A LEITURA DO TEXTO ABAIXO:

AS RUAS

AS RUAS É UM ESPAÇO PÚBLICO, OU SEJA, UM ESPAÇO PARA TODOS CONVIVEREM, NELA PODEMOS CAMINHAR NA CALÇADA QUANDO ESTAMOS A PÉ OU SER TRANSPORTADOS POR ALGUM VEÍCULO. UMA RUA PODE TER CONTRUÇÕES DOS DOIS LADOS, PODE TER CASAS, COMÉRCIOS, ÁREA DE LAZER E MUITAS CONSTRUÇÕES.

A RUA PODE SER **ASFALTADA**, PODE SER **DE TERRA** OU **CALÇAMENTO DE PEDRA OU BLOQUETES**.

PARA AJUDAR AS PESSOAS A LOCALIZAR UM LUGAR, TODAS AS RUAS TÊM NOMES. QUANDO A RUA É MUITO LARGA E VÁRIOS CARROS PASSAM NELA CHAMAMOS **AVENIDA**.

- OBSERVE AS IMAGENS DAS RUAS ABAIXO, ENUMERE AS RUAS DE ACORDO COM A LEGENDA:
- 1- RUA DE TERRA
 - 2- AVENIDA
 - 3- RUA ASFALTADA
 - 4- RUA COM BLOQUETES



IBIÚNA, 28 DE JULHO DE 2021

LÍNGUA PORTUGUESA

ATIVIDADE 10

CAIO TROUXE PARA OS AMIGOS UMA HISTÓRIA CHAMADA **O CARACOL**.
ESSA É A HISTÓRIA DE UM CARACOL QUE NÃO ESTAVA MUITO
SATISFEITO. POR QUE SERÁ?

LEITURA: HISTÓRIA EM VERSOS

O CARACOL

O CARACOL VIU UMA JOANINHA.
A JOANINHA PASSOU **VOANDO**.
O CARACOL FALOU:

__ AH!... EU NÃO POSSO VOAR.



O CARACOL VIU UM GRILO.
O GRILO PASSOU **PULANDO**.
O CARACOL FALOU:

__ AH!... EU NÃO POSSO PULAR.



O CARACOL VIU UMA CIGARRA.
A CIGARRA PASSOU **CANTANDO**.
O CARACOL FALOU:

__ AH!... EU NÃO POSSO CANTAR.



MAS ... VEJAM SÓ! **__ FALOU O CARACOL.**
__ EU TENHO CASA PARA MORAR!

AUTORES MARY FRANÇA E ELIARDO FRANÇA



ATIVIDADE 11

VEJA AS FIGURAS ABAIXO E LEIA OS NOMES.



CAIO



CARACOL

A) PINTE O NOME DO BICHO NO QUADRO TODA VEZ QUE O ENCONTRAR.

CUCO	CAIO	JOANINHA	CARACOL
CARACOL	CIGARRA	ESCOLA	JOANINHA
GRILO	CARACOL	CASA	GRILO

B) CIRCULE, NO QUADRO ACIMA, A PALAVRA QUE INDICA O QUE SÓ O CARACOL TEM.

C) ENCONTRE O NOME DO MENINO DO QUADRO E ESCREVA NO QUADRO ABAIXO.

1- COMPLETE O ALFABETO E LEIA EM VOZ ALTA.

A _____ D _____ G - H - I - J - K - L - M - N - O - P - Q
R ___ T - U - V - W - X - Y - Z

IBIÚNA, 29 DE JULHO DE 2021

ATIVIDADE 12

2- LIGUE AS FIGURAS EM SEU NOME.



CÃO



CARACOL



COBRA



CUTIA

COMPETÊNCIA SOCIOEMOCIONAL

ATIVIDADE 2

COM AJUDA DE UM ADULTO, DESENHE NOS QUADRINHOS,
COMO VOCÊ SE SENTE...

FAÇA UM DESENHO BEM BONITO.

ACONTECE ALGO
QUE VOCÊ NÃO
ESPERAVA...

FAZ ANIVERSÁRIO...

ALGUÉM ESBARRA
EM VOCÊ SEM QUERER.

FAZEM UMA COMIDA QUE
VOCÊ GOSTA...

IBIÚNA, 30 DE JULHO DE 2021

MATEMÁTICA

ATIVIDADE 7

➤ **LIGUE OS OBJETOS QUE TÊM FORMAS PARECIDAS,**



CENOURA




CAIXA PRESENTE



VELA



CONE DE TRÂNSITO



BRINQUEDOS DE MADEIRA



GLOBO TERRESTRE



ENFEITE DE NATAL



INSTRUMENTO MUSICAL



QUEIJO



TIJOLO

CIÊNCIAS DA NATUREZA

ATIVIDADE 2

CIRCULE AS CENAS QUE MOSTRA ALGUMAS FORMAS DE PREVENÇÃO PARA O COVID-19.



LAVAR AS MÃOS



USAR MÁSCARA



VARRER QUINTAL



USAR ÁLCOOL EM GEL



FIQUE EM CASA

IBIÚNA, 02 DE AGOSTO DE 2021

LÍNGUA PORTUGUESA

ATIVIDADE 13

1- COMPLETE OS NOMES DAS FIGURAS COM AS SÍLABAS FALTOSAS, **CA-CE-CI-CO-CU**.



____RACOL



____DADE



____BOLA



____TIA



____BRA

MATEMÁTICA

ATIVIDADE 8

AS NOTAS (CÉLULAS) E MOEDAS

O DINHEIRO USADO NO BRASIL CHAMA-SE **REAL** E, PARA FAZER PAGAMENTOS, PODEMOS USAR AS NOTAS E AS MOEDAS DO REAL.

VAMOS CONHECÊ-LAS?

1- **AS NOTAS**

VEJA OS EXEMPLOS E, COM AJUDA DE UM ADULTO, COMPLETE O VALOR DAS NOTAS (CÉLULAS) DO REAL.



OU



CEM REAIS

100 REAIS



OU



CINQUENTA REAIS.

50 REAIS



OU



VINTE REAIS

20 REAIS



OU



DEZ REAIS.

____ REAIS.



OU



CINCO REAIS.

____ REIAS.



OU



DOIS REAIS.

____ REAIS.

IBIÚNA, 03 DE AGOSTO DE 2021

MATEMÁTICA

ATIVIDADE 9

2- AS MOEDAS

ALÉM DAS NOTAS, EXISTEM AS MOEDAS: A DE 1 REAL E AS QUE VALEM MENOS DO QUE 1 REAL, COM VALORES DADOS EM CENTAVOS.


VEJA OS EXEMPLOS E COM AJUDA DE UM ADULTO, COMPLETE OS OUTROS VALORES.



LÍNGUA PORTUGUESA

ATIVIDADE 14

1- COM AJUDA DE UM ADULTO, ACOMPANHE O QUE ESTÁ NA CAPA DO LIVRO.



A- COM AJUDA DE UM ADULTO, PINTE DE AZUL O QUADRO COM O NOME DOS AUTORES.

B- CIRCULE DE VERDE O TÍTULO DO LIVRO.

2- O CARACOL VIU 3 BICHOS.

NUMERE-OS DE ACORDO COM A ORDEM EM CADA UM DELES APARECEU NA HISTÓRIA. (COM AJUDA DE UM ADULTO FAÇA A RELEITURA DA **ATIVIDADE 10 DE LÍNGUA PORTUGUESA**).

— **GRILO**

— **JOANINHA**

— **CIGARRA**

IBIÚNA, 04 DE AGOSTO DE 2021

MATEMÁTICA

ATIVIDADE 10

A- COM AJUDA DE UM ADULTO, DESCUBRA E ESCREVA QUANTOS REAIS CADA CRIANÇA TEM.

ALICE




____ REAIS

JOÃO GABRIEL



____ REAIS

ISABELA



____ REAIS

THOMÁS



____ REAIS

ATIVIDADE 11

B- COM AJUDA DE UM ADULTO, OBSERVE O PREÇO DOS OBJETOS ABAIXO E A QUANTIA NO QUADRO. LIGUE OS VALORES CORRESPONDENTE



5 REAIS

4 REAIS

8 REAIS



IBIÚNA, 05 DE AGOSTO DE 2021

MATEMÁTICA

ATIVIDADE 12

1- COM AJUDA DE UM ADULTO OBSERVE A IMAGEM ABAIXO E FAÇA O QUE SE PEDE.



A- DESENHE UMA SACOLA NA **MÃO ESQUERDA** DA MENINA.

B- DESENHE UM CARRINHO NA **MÃO DIREITA** DO MENINO.

2 – ASSINALE COM UM X, INDICANDO “EM CIMA DA MESA” OU “EMBAIXO DA MESA”, PARA CADA OBJETO:



VICTOR B / M10

A- TELA DO COMPUTADOR:

EM CIMA

EMBAIXO

B- CESTO DE LIXO:

EM CIMA

EMBAIXO


C- LUMINÁRIA:

EMBAIXO

EM CIMA

D- PORTA LÁPIS:

EM CIMA




EMBAIXO



2- COM AJUDA DE UM ADULTO OBSERVE A IMAGEM.

AS CRIANÇAS DO 1º ANO ESTÃO DESCRREVENDO A POSIÇÃO DOS COLEGAS DA CLASSE. AJUDE-AS COMPLETANDO AS FRASES COM **PALAVRAS ESQUERDO, DIREITO, EM FRENTE E ATRÁS.**



A- LEONARDO DISSE: “A CINTÍÁ ESTÁ AO MEU LADO _____

E O ANDRÉ ESTÁ AO MEU LADO _____ . O RAFAEL

ESTÁ BEM _____ .

B- CHRISTIAN FALOU: “A MESA DA CINTÍÁ ESTÁ _____

Á MINHA, AO MEU LADO _____ ESTÁ O RAFAEL E O

MEU LADO _____ ESTÁ A LILIANE.

IBIÚNA, 06 DE AGOSTO DE 2021

LÍNGUA PORTUGUESA

ATIVIDADE 15

CIRCULE NO VERSO A PALAVRA PAPAI.

AO MEU QUERIDO PAPAI


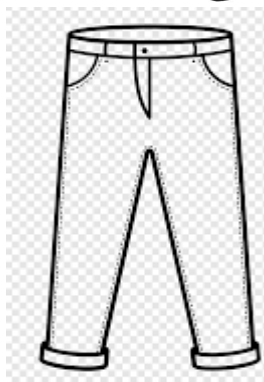
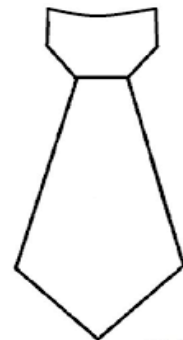
DESEJO DE CORAÇÃO,

VIDA LONGA DE SUCESSO

DE TERNURA E AFEIÇÃO.

MEU PRESENTE PARA O PAPAI.

PINTE OS PRESENTES QUE VOCÊ GOSTARIA DE DAR PARA O SEU PAPAI!



ARTES

VAMOS COLORIR!



ESCREVA DO SEU JEITO O NOME DO PAPAÍ.

MATERIAL PARA AJUDAR A REALIZAR AS ATIVIDADES.

ALFABETO

A



ABACAXI

B



BANANA

C



CASA

D



DADO

E



ELEFANTE

F



FORMIGA

G



GIRAFÁ

H



HIPOPÓTAMO

I



IGREJA

J



JACARÉ

K



KIWI

L



LARANJA

M



MACACO

N



NAVIO

O



OVO

P



PATO

Q



QUEIJO

R



RATO

S



SAPO

T



TATU

U



UVA

V



VACA

W



WAFER

X



XÍCARA

Y



YAKULT


Z



ZEBRA

MATERIAL PARA CONSULTAR NAS ATIVIDADES.

NÚMEROS 0 A 50



0 ZERO									
1 UM	2 DOIS	3 TRÊS	4 QUATRO	5 CINCO	6 SEIS	7 SETE	8 OITO	9 NOVE	10 DEZ
11 ONZE	12 DOZE	13 TREZE	14 QUATORZE	15 QUINZE	16 DEZESSEIS	17 DEZESSETE	18 DEZOITO	19 DEZENOVE	20 VINTE
21 VINTE E UM	22 VINTE E DOIS	23 VINTE E TRÊS	24 VINTE E QUATRO	25 VINTE E CINCO	26 VINTE E SEIS	27 VINTE E SETE	28 VINTE E OITO	29 VINTE E NOVE	30 TRINTA
31 TRINTA E UM	32 TRINTA E DOIS	33 TRINTA E TRÊS	34 TRINTA E QUATRO	35 TRINTA E CINCO	36 TRINTA E SEIS	37 TRINTA E SETE	38 TRINTA E OITO	39 TRINTA E NOVE	40 QUARENTA
41 QUARENTA E UM	42 QUARENTA E DOIS	43 QUARENTA E TRÊS	44 QUARENTA E QUATRO	45 QUARENTA E CINCO	46 QUARENTA E SEIS	47 QUARENTA E SETE	48 QUARENTA E OITO	49 QUARENTA E NOVE	50 CINQUENTA

REFERÊNCIAS

IMAGENS UTILIZADAS DO GOOGLE/ PARA ELABORÇÃO DAS ATIVIDADES PELO PROFESSOR

<https://www.educaçãoe transformaçãocom.br>

<https://www.lereaaprender.com.br>

<https://www.espaçoeducar.com>

www.soescola.com.br

<https://blog.arteensinaraprender.com.br>

www.criarrecriarensinar.com

www.mestredosaber.com

<https://ensinarhoje.com>

Livro Ápis Língua Portuguesa e matemática

Livro Ápis Geografia

Livro Ápis Ciências

Livro Ápis História

Currículo em Ação EMAI Educação Matemática anos iniciais do Ensino Fundamental