

MINHAS ATIVIDADES

05 DE JULHO A 06 DE AGOSTO/2021



ESCOLA: E.M. "PROFª SANDRA REGINA RODRIGUES DA SILVA

NOME: _____

TURMA: 2º ANO B — PROFª CHRIS

CRONOGRAMA – PROFESSORA CHRIS / 2º ANO B

05 DE JULHO A 06 DE AGOSTO / 2021

PARA MELHOR ACOMPANHAMENTO DAS ATIVIDADES, SEGUIR UM CRONOGRAMA QUE AUXILIARÁ O ALUNO NO DIA A DIA, CADA ATIVIDADE REALIZADA MARQUE UM X E ACOMPANHE SEU RENDIMENTO. LEMBRAMOS QUE AS ATIVIDADES DEVEM SER REALIZADAS DIARIAMENTE, PARA NÃO SOBRECARRGAR O ALUNO.

DIA	1ª SEMANA 05/07 A 06/07	OK
05/07	• LÍNGUA PORTUGUESA	
	• LÍNGUA PORTUGUESA	
06/07	• MATEMÁTICA	
	• MATEMÁTICA	
DIA	2ª SEMANA 19/07 A 23/07	OK
19/07	• LÍNGUA PORTUGUESA	
	• LÍNGUA PORTUGUESA	
20/07	• MATEMÁTICA	
	• MATEMÁTICA	
21/07	• LINGUA PORTUGUESA	
	• MATEMATICA	
22/07	• MATEMATICA	
	• LINGUA PORTUGUESA	
23/07	• GEOGRAFIA	
	• HISTÓRIA	
DIA	3ª SEMANA 26/07 A 30/07	OK
26/07	• LÍNGUA PORTUGUESA	
	• LÍNGUA PORTUGUESA	
27/07	• MATEMÁTICA	
	• MATEMÁTICA	

28/07	• LINGUA PORTUGUESA	
	• MATEMATICA	
29/07	• MATEMATICA	
	• LINGUA PORTUGUESA	
30/07	• CIENCIAS	
	• ARTES	
DIA	4ª SEMANA 02/08 A 06/08	OK
02/08	• LÍNGUA PORTUGUESA	
	• LÍNGUA PORTUGUESA	
03/08	• MATEMÁTICA	
	• MATEMÁTICA	
04/08	• MATEMATICA	
	• LINGUA PORTUGUESA	
05/08	• MATEMATICA	
	• LINGUA PORTUGUESA	
06/08	• CIENCIAS	
	• ARTES	

AVALIAÇÃO DAS ATIVIDADES

ESSA É UMA FICHA DE AUTOAVALIAÇÃO DAS ATIVIDADES DA APOSTILA. VOCÊ DEVE PINTAR DE ACORDO COM O NÍVEL DE DIFICULDADE QUE VOCÊ TEVE PARA REALIZAR AS ATIVIDADES. PEÇA AJUDA DE UM ADULTO PARA ESSA AVALIAÇÃO.

- SE VOCÊ NÃO TEVE DIFICULDADE PARA REALIZAR A ATIVIDADE VOCÊ DEVE PINTAR O QUADRINHO DE **VERDE**;
- SE VOCÊ TEVE UM POUCO DE DIFICULDADE PARA REALIZAR ALGUMA ATIVIDADE, VOCÊ DEVE PINTAR O QUADRINHO DE **AMARELO**;
- SE VOCÊ TEVE MUITA DIFICULDADE PARA REALIZAR ALGUMA ATIVIDADE, PINTE O QUADRINHO DE **VERMELHO**;
- SE VOCÊ DEIXOU DE REALIZAR ALGUMA ATIVIDADE, PINTE O QUADRINHO DE **CINZA**;

ATIVIDADE/DATA		ATIVIDADE/DATA	
LINGUA PORTUGUESA – 05/07		LINGUA PORTUGUESA – 28/07	
LINGUA PORTUGUESA – 05/07		MATEMATICA – 28/07	
MATEMATICA – 06/07		MATEMATICA – 29/07	
MATEMATICA – 06/07		LINGUA PORTUGUESA – 29/07	
LINGUA PORTUGUESA – 19/07		CIENCIAS – 30/07	
LINGUA PORTUGUESA – 19/07		ARTES – 30/07	
MATEMATICA – 20/07		LINGUA PORTUGUESA – 02/08	
MATEMATICA – 20/07		LINGUA PORTUGUESA – 02/08	
LINGUA PORTUGUESA – 21/07		MATEMATICA – 03/08	
MATEMATICA – 21/07		MATEMATICA – 03/08	
MATEMATICA – 22/07		LINGUA PORTUGUESA – 04/08	
LINGUA PORTUGUESA – 22/07		MATEMATICA – 04/08	
GEOGRAFIA – 23/07		MATEMATICA – 05/08	
HISTORIA – 23/07		LINGUA PORTUGUESA – 05/08	
LINGUA PORTUGUESA – 26/07		CIENCIAS – 06/08	
LINGUA PORTUGUESA – 26/07		ARTES – 06/08	
MATEMATICA – 27/07			
MATEMATICA – 27/07			

NOME: _____

DATA: 05/07/2021

LINGUA PORTUGUESA

(LEITURA)

👉 NAS PROXIMAS ATIVIDADES VAMOS EXPLORAR UM NOVO GENERO TEXTUAL

👉 VOCÊ CONHECE AS HISTÓRIAS EM QUADRINHOS?

👉 VAMOS LÁ?!

HISTÓRIAS EM QUADRINHOS

AS HISTÓRIAS EM QUADRINHOS SÃO HISTÓRIAS COMPOSTAS PELA LINGUAGEM VERBAL E NÃO- VERBAL.

ESSAS HISTÓRIAS SÃO APRESENTADAS DENTRO DE QUADRINHOS, LOCAL ONDE OS PERSONAGENS SÃO EXPOSTOS E A FALA É ESCRITA DENTRO DE DIVERSOS TIPOS DE BALÕES. HÁ TAMBÉM HISTÓRIAS EM QUE NÃO SE USA NENHUM TIPO DE BALÃO. A MENSAGEM É TRANSMITIDA SOMENTE ATRAVÉS DOS DESENHOS E DAS EXPRESSÕES FACIAIS.

HÁ TAMBÉM AS ONOMATOPEIAS QUE SÃO OS SONS, RUÍDOS REPRODUZIDOS POR LETRAS E DESENHOS. TAMBÉM HÁ OS RECURSOS GRÁFICOS QUE EM SUA MAIORIA SÃO OS SÍMBOLOS E SINAIS QUE APLICADOS AOS DESENHOS, ACRESCENTAM-LHE SENSACIONES, MOVIMENTOS, ETC.

LEIA A TIRINHA DA TURMA DA MONICA:



NOME: _____

DATA: 05/07/2021

LINGUA PORTUGUESA

(LEITURA E INTERPRETACAO)

👉 OBSERVE A TIRINHA ABAIXO E RESPONDA:




AGORA RESPONDA:

1. QUE TÍTULO VOCÊ DARIA PARA ESTA HISTÓRIA?

2. QUAIS SÃO OS PERSONAGENS QUE APARECEM?

3. O QUE ELES ESTÃO FAZENDO?

4. CIRCULE O PERSONAGEM QUE ESTÁ LIGANDO PARA ELES:



NOME: _____ DATA: 05/07/2021

LINGUA PORTUGUESA

(LEITURA E ESCRITA)

☞ ENCONTRE NO CAÇA - PALAVRAS OS NEMOS DOS PERSONAGENS DAS HISTÓRIAS EM QUADRINHOS DA TURMA DA MÔNICA:

M	O	N	I	C	A	C	A	M	P
Q	W	E	R	T	Y	A	I	A	S
A	B	S	D	F	G	S	K	G	A
L	I	M	N	B	V	C	X	A	N
T	D	G	H	J	M	Ã	N	L	S
E	U	R	T	Y	I	O	O	I	Ã
C	H	I	C	O	B	E	N	T	O
Z	R	O	S	I	N	H	A	Q	W
C	E	B	O	L	I	N	H	A	R

☞ ENCONTRE ABAIXO OS NOMES QUE VOCÊ ACHOU NO CAÇA-PALAVRAS COMPLETANDO COM AS LETRAS QUE FALTAM:

C _ _ CÃ _	CE _ _ _ NHA	M _ GA _ _
RO _ _ _ _ A	CHI _ _ B _ _ N _ O	M _ N _ C _
_ I _ U	S _ N _ Ã O	



MATEMÁTICA

(NÚMEROS)

👉 OBSERVE OS NÚMEROS ABAIXO E MARQUE UM "X" NA OPÇÃO CORRETA:

17

10

8

39

👉 QUAL DESSES NÚMEROS É O MENOR?

- A) 17
- B) 10
- C) 8
- D) 39

👉 QUAL DESSES NÚMEROS É O MAIOR?

- A) 17
- B) 10
- C) 8
- D) 39

👉 COMPLETE A TABELA COM NÚMEROS QUE FALTAM:

0								8	
10							17		
20									
30									39
40			43						
50						56			
60	61								
70				74					
80		82							
90							97		


NOME: _____

DATA: 06/07/2021

MATEMATICA

(NUMEROS)

👉 OBSERVE OS CARRINHOS ABAIXO E RESPONDA:



👉 QUANTOS CARRINHOS HÁ NESSA IMAGEM?

- A) 5
- B) 24
- C) 25
- D) 20

👉 QUAL CARRINHO ESTÁ EM MAIOR QUANTIDADE?

- A) AMARELO
- B) AZUL
- C) VERDE

👉 QUANTOS CARRINHOS DE CADA COR:

VERDE: _____

AMARELO: _____

AZUL: _____

NOME: _____



DATA: 19/07/2021

LINGUA PORTUGUESA

(PRODUÇÃO DE TEXTO)

AGORA É A SUA VEZ DE CRIAR!

ENCONTRE NO QUADRO DA PROXIMA FOLHA AS FALAS QUE CORRESPONDEM A CADA CENA DA TIRINHA E COLE NO LUGAR CORRETO:



NOME: _____

DATA: 19/07/2021

LINGUA PORTUGUESA

(PRODUÇÃO DE TEXTO)

👉 LEIA AS FRASES OU PEÇA AJUDA PARA UM ADULTO PARA LER, RECORTE E COLE NO LUGAR CORRETO:

PODE COMER MAGALI!!!

AI AI, AGORA VOU PARA CASA
FAZER UM LANCHINHO!

GLALO!!!

MONICA ME DÁ UM TECO DO SEU PICOLÉ???

HUMMM!!! CEBOLINHA ME DÁ UM
BISCOITO???

PODE PEGAR

CASCÃÃÃOOO ME DA UM
PEDAÇO???





NOME: _____

DATA: 19/07/2021

LINGUA PORTUGUESA

(LEITURA)

☞ ENUMERE AS FRASES QUE CORRESPONDEM ÀS IMAGENS DO QUADRO ABAIXO:



() PARA ABRAÇAR O CASCÃO, SÓ TAMPANDO O NARIZ.

() A MÔNICA ESTÁ ESCRREVENDO UMA CARTA DE AMOR.

() MAGALI ADORA PASSEAR DE BICICLETA, ATÉ NO FRIO.

() O CASCÃO TEM MUITO MEDO DE CHUVA!

() A MÔNICA GANHOU UM COELHINHO DE PELUCIA.

() O CEBOLINHA ESTÁ ROUBANDO O SANSÃO.


() A MAGALI SÓ PENSA EM COMIDA.

NOME: _____ DATA: 20/07/2021

MATEMATICA

(NUMEROS)

LEIA OS NUMEROS POR EXTENSO E DEPOIS ESCREVA O ALGARISMO CORRETO:

TRINTA E CINCO		
QUARENTA		
VINTE E SETE		
DEZENOVE		
SESSENTA		
OITENTA E TRÊS		
DEZ		
SETENTA E SEIS		

PARA TE AJUDAR ENCONTRE OS ALGARISMOS AQUI PARA COMPLETAR O QUADRO ACIMA:

76	19	27	10	35	60	83	40
----	----	----	----	----	----	----	----

LEIA OS ALGARISMOS E ESCREVA POR EXTENSO:

66		
23		
70		
12		
32		
55		
80		
91		

ENCONTRE NO QUADRO ABAIXO OS NUMEROS PARA COMPLETAR O NOME DOS ALGARISMOS:

OITENTA	SETENTA	TRINTA E DOIS	SESSENTA E SEIS
DOZE	CONQUENTA E CINCO	NOVENTA E UM	VINTE E TRES



NOME: _____

DATA: 20/07/2021

MATEMATICA

(NUMEROS E OPERACOES)

👉 NESSA ATIVIDADE VAMOS MONTAR UM QUEBRA CABEÇAS MATEMATICO. É BEM FÁCIL, RESOLVA AS CONTINHAS E ENCONTRE A PEÇA DO QUEBRA-CABEÇA COM O RESULTADO CORRETO, DEPOIS É SÓ MONTAR, VAMOS LÁ?!



NOME: _____

DATA: 20/07/2021

MATEMÁTICA

(NÚMEROS E OPERAÇÕES)



RESOLVA AS OPERAÇÕES E DEPOIS COLE AQUI AS PEÇAS DO QUEBRA-CABEÇAS:

-

D	U
5	5
3	0

+

D	U
3	5
4	1

-

D	U
9	3
7	2

+

D	U
5	5
4	4


NOME: _____

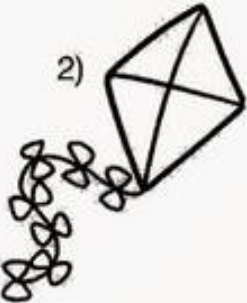
DATA: 21/07/2021


LINGUA PORTUGUESA


(ESCRITA)


- ◆ COMPLETE A CRUZADINHA COM OS BRINQUEDOS PREFERIDOS DA TURMA DA MÔNICA!
- ◆ VAMOS LÁ?!


1) 

2) 

3) 

4) 

5) 

6) 

1)

				C	
--	--	--	--	---	--

2)

				A
--	--	--	--	---

3)

	R							
--	---	--	--	--	--	--	--	--

4)

	I		
--	---	--	--

5)

		N		
--	--	---	--	--

6)

	O		
--	---	--	--

BOLA

PIPA

PIÃO

BONECA

TREM

PETECA

NOME: _____ DATA: 21/07/2021

MATEMÁTICA

(SITUAÇÕES PROBLEMA)

- 👋 EU SEMPRE TRAGO PROBLEMINHAS PARA VOCÊ RESOLVER, NÃO É MESMO? DESSA VEZ VOCÊ VAI FAZER ALGO UM POUQUINHO DIFERENTE.
- 👋 VOCÊ VAI LER OS PROBLEMINHAS, SE PRECISAR PEÇA AJUDA DE UM ADULTO, E IDENTIFICAR QUAL É A OPERAÇÃO QUE DEVE SER FEITA PARA SOLUCIONAR O PROBLEMA, VAMOS LÁ?!
- 👋 QUAL OPERAÇÃO MATEMÁTICA DEVEMOS USAR, PINTE A ALTERNATIVA CORRETA?

FUGIRAM 89 CAVALOS DA FAZENDA FUGIRAM. O CHICO BENTO FICOU MUITO AFLITO E CONSEGUIU ENCONTAR APENAS 55 CAVALOS. QUANTOS CAVALOS AINDA FALTAM PARA O CHICO BENTO ENCONTRAR ANTES DE ANOITECER?

ADIÇÃO	SUBTRAÇÃO	MULTIPLICAÇÃO	DIVISÃO
+	-	X	:



A MONICA COLECIONA PÉROLAS, SÃO 47 BRANCAS E 32 NEGRAS. QUANTAS PÉROLAS MONICA TEM EM SUA COLEÇÃO?

ADIÇÃO	SUBTRAÇÃO	MULTIPLICAÇÃO	DIVISÃO
+	-	X	:



NOME: _____ DATA: 22/07/2021

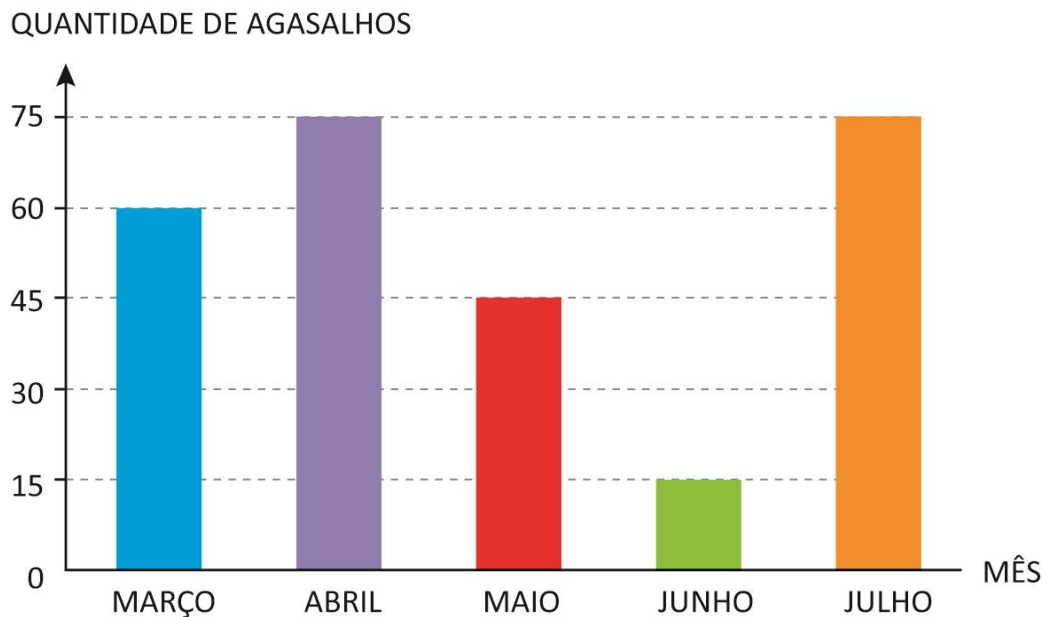
MATEMÁTICA

(GRÁFICOS E TABELAS)

👋 A TURMA DA MONICA ORGANIZOU UMA ARRECADAÇÃO DE AGASALHOS PARA AS PESSOAS QUE ESTÃO PRECISANDO, JÁ QUE ESTAMOS VIVENDO UM INVERNO BEM RIGOROSO.

👋 OBSERVE O GRÁFICO ABAIXO, NELE ESTÃO AS INFORMAÇÕES DAS QUANTIDADES DE AGASALHOS QUE A TURMINHA ARRECADOU PARA DOAÇÃO, E RESPONDA:

AGASALHOS ARRECADADOS



👋 EM QUAIS MESES HOVERAM MAIS DOAÇÕES?

👋 EM QUAIS MESES HOVERAM MENOS DOAÇÕES?

👋 QUAL A QUANTIDADE DE DOAÇÕES NOS MESES DE MARÇO, MAIO E JUNHO JUNTOS?

NOME: _____ DATA: 22/07/2021

LINGUA PORTUGUESA

(ESCRITA)

👉 VAMOS VER PALAVRAS QUE COMEÇAM COM LETRA "L"

👉 FAÇA UMA LISTA DE PALAVRAS QUE INICIAM COMA LETRA "L"



NOME: _____

DATA: 23/07/2021

GEOGRAFIA

(LOCALIZAÇÃO E REPRESENTAÇÃO DE ESPAÇOS)

👉 NAS AULAS DE GEOGRAFIA APRENDEMOS MUITO SOBRE O ESPAÇO QUE OCUPAMOS E AS LOCALIZAÇÕES DE LUGARES E PESSOAS. POR ISSO SEPAREI DUAS FOTOGRAFIAS DE SALAS DE AULA EM ESCOLAS DIFERENTES PRA VOCÊS FAZEREM AS COMPARAÇÕES. OBSERVE:



👉 ESSAS FOTOGRAFIAS MOSTRAM SALAS DE AULA DE ESCOLAS DO BRASIL. ASSINALE COM UM X A ALTERNATIVA QUE INDICA UMA INFORMAÇÃO CORRETA.

- A)** TODAS AS SALAS DE AULA SÃO SEMELHANTES.
- B)** TODAS AS SALAS DE AULA SÃO DIFERENTES.
- C)** EXISTEM SALAS DE AULA SEMELHANTES E SALAS DE AULA DIFERENTES.
- D)** NENHUMA DAS ALTERNATIVAS.

NOME: _____

DATA: 23/07/2021

HISTORIA

(COMUNIDADE E SEUS REGISTROS)

👉 O TEMPO PASSA MUITO RAPIDO NÃO É MESMO?! TANTAS COISAS IMPORTANTES NÓS VIVEMOS, AINDA BEM QUE NÓS ENCONTRAMOS MEIOS DE GUARDAR NOSSOS MOMENTOS IMPORTANTES.

👉 OBSERVE A IMAGEM A SEGUIR E DEPOIS FAÇA O QUE SE PEDE.



👉 A FOTOGRAFIA PERMITE QUE AS PESSOAS TENHAM ACESSO A ALGO IMPORTANTE DO PASSADO DAS SUAS VIDAS.

👉 MARQUE COM UM X NO QUE AS PESSOAS PODEM ACESSAR POR MEIO DA FOTOGRAFIA.

- A)** SEUS ESCRITOS.
- B)** SUAS VESTIMENTAS.
- C)** SUAS LEMBRANÇAS.
- D)** SEUS JORNAIS.

NOME: _____

DATA: 26/07/2021

LINGUA PORTUGUESA

(LEITURA)

👋 VAMOS CONHECER UM POUCO SOBRE AS OLIMPIADAS E 2021?!



👋 É COMUM , A CADA 4 ANOS, NOS DEPARARMOS COM MASCOTES QUE REPRESENTAM SEU PAÍS NOS **JOGOS OLÍMPICOS**. ESSA TRADIÇÃO COMEÇOU EM 1968, DURANTE AS **OLIMPIADAS DE INVERNO EM GRENOBLE**, UMA COMUNA FRANCESA LOCALIZADA NA REGIÃO DO AUVÉRNIA-RÓDANO-ALPES.

👋 O PRIMEIRO MASCOTE SE CHAMAVA **SCHUSS** E ERA UM ESQUIADOR, UM SÍMBOLO DOS JOGOS DE INVERNO. NOS ANOS SEGUINTE, OS PAÍSES SEDE PASSARAM A IDEALIZAR SÍMBOLOS QUE REPRESENTASSEM O ESPÍRITO DA COMPETIÇÃO E, DE QUEBRA, MOSTRASSEM UM POUCO DE SUA CULTURA. ANIMAIS NATIVOS DESSES LOCAIS TORNARAM-SE A OPÇÃO MAIS ÓBVIA E, DESDE ENTÃO, SOMOS APRESENTADOS A DIVERSAS ESPÉCIES.

👋 AS FIGURAS ESCOLHIDAS PARA AS OLIMPIADAS 2021, NO ENTANTO, FOGEM DA TRADIÇÃO DOS JOGOS. OS JAPONESES DECIDIRAM APRESENTAR UMA NOVA FACE DE SUA CULTURA, DEIXANDO DE LADO OS ANIMAIS POPULARES. **MIRAITOWA E SOMEITY**, MASCOTES REPRESENTANTES DOS JOGOS OLÍMPICOS E DOS JOGOS PARALÍMPICOS, RESPECTIVAMENTE, SURGIRAM A PARTIR DO LOGO DA COMPETIÇÃO.


LINGUA PORTUGUESA

(LEITURA E ESCRITA)

👉 O SIMBOLO DAS OLIMPIADAS SÃO OS 5 ARCOS LIGADOS UM AO OUTRO E CADA UM TEM UM SIGNIFICADO.

👉 OS CINCO AROS INTERLIGADOS QUE COMPÕEM O ESTANDARTE POSSUEM **CORES** DIFERENTES, CADA UMA REPRESENTANDO UM CONTINENTE: **AZUL**, **A EUROPA**; **AMARELO**, **A ÁSIA**; **PRETO**, **A ÁFRICA**; **VERDE**, **A OCEANIA**; E **VERMELHO**, **AS AMÉRICAS**.

👉 VAMOS COLORIR OS ARCOS DAS OLIMPÍADAS:



SÃO CINCO ANÉIS DE CORES DIFERENTES:
(**AZUL**, **VERMELHO**, **PRETO**, **AMARELO** E **VERDE**)

👉 LIGUE O NOME DAS CORES AOS CONTINENTES CORRETOS:

AMARELO

VERDE

PRETO

VERMELHO

AZUL

AMÉRICA

ÁSIA

EUROPA

ÁFRICA

OCEÂNIA

NOME: _____

DATA: 26/07/2021

LINGUA PORTUGUESA

(LEITURA E ESCRITA)

☞ NAS OLIMPIADAS TEM COMPETIÇÃO DE VÁRIOS ESPORTES, VAMOS CONHECER ALGUNS. RECORTE A COLE NO LUGAR CORRETO O NOME DE CADA ESPORTE:



BEISEBOL

KARATÊ

BASQUETEBOL

SKATE

NOME: _____

DATA: 27/07/2021

MATEMATICA

(NUMEROS E OPERACOES)


 RESOLVA AS **ADIÇÕES** A SEGUIR, RECORTE AS BOLINHAS DO QUADRO PARA AJUDAR NAS CONTINHAS:

$$\text{2} + \text{4} = \square$$

$$\text{8} + \text{8} = \square$$

$$\text{10} + \text{7} = \square$$

$$\text{11} + \text{12} = \square$$



NOME: _____ DATA: 27/07/2021


MATEMATICA

(GEOMETRIA)

☞ JÁ VIMOS QUE AS ESFERAS ESTÃO PRESENTES NO NOSSO COTIDIANO, NOS JOGOS OLÍMPICOS TEMOS VÁRIOS EXEMPLOS DE ESFERAS, OBSERVE E LIGUE AS BOLAS AOS ESPORTES QUE ELAS PERTENCEM:




FUTEBOL




GOLF



TÊNIS



BASQUETE



HANDBOL

NOME: _____

DATA: 28/07/2021

LINGUA PORTUGUESA

(LEITURA E ESCRITA)

☞ COMPLETE OS NOMES DOS ESPORTES COM AS VOGAIS QUE ESTÃO FALTANDO:



H _ _ QU _ _



K _ _ R _ _ T _ _



G _ _ N _ _ ST _ _ C _ _



R _ _ M _ _



T _ _ R _ _

☞ ESCREVA AS PALAVRAS QUE VOCÊ COMPLETOU NAS LINHAS ABAIXO:

1- _____

2- _____

3- _____

4- _____

5- _____

NOME: _____

DATA: 28/07/2021

MATEMATICA

(NUMEROS E QUANTIDADES)

 PINTA OS QUADRADINHOS CORRESPONDENTES AOS NUMEROS ESCRITOS NAS MEDALHAS:









NOME: _____

DATA: 29/07/2021

MATEMÁTICA

(SISTEMA MONETÁRIO)

👉 VAMOS RESOLVER ALGUNS PROBLEMINHAS? NÃO SE ESQUEÇA DE COLOCAR AS CONTAS NO ESPAÇO QUE DEIXEI. É IMPORTANTE LEMBRAR DE COLOCAR AS UNIDADES E DEZENAS NAS CASAS CORRETAS, OK?! VAMOS LÁ ENTÃO!!!

👉 VICTOR TINHA R\$ 16,00, GANHOU R\$ 12,00 PARA COMPRAR FIGURINHAS PARA O ÁLBUM DAS OLIMPIADAS. QUANTOS REAIS ELE JUNTOU?

- A) R\$ 8,00
- B) R\$ 28,00
- C) R\$ 15,00
- D) R\$ 13,00

	D	U
+		



👉 MARQUE AS NOTAS DE REAL CORRESPONDENTES A QUANTIDADE QUE VICTOR TEM:



👉 GEISA TEM R\$ 50,00, ELA PRECISOU COMPRAR UM CADERNO PARA ANOTAR AS INFORMAÇÕES DAS OLIMPIADAS, O CADERNO CUSTA R\$ 30,00 . DEPOIS DESSA COMPRA COM QUANTO GEISA VAI FICAR?

- A) R\$ 20,00
- B) R\$ 25,00
- C) R\$ 15,00
- D) R\$ 5,00

	D	U
-		



NOME: _____ DATA: 29/07/2021

LINGUA PORTUGUESA

(LEITURA E ESCRITA)

☞ COMPLETE AS FRASES COM AS PALAVRAS DO BANCO DE PALAVRAS:

- 1 – A PRIMEIRA OLIMPÍADA ACONTECEU NA _____.
- 2 – O PRIMEIRO COLOCADO RECEBE A MEDALHA DE _____.
- 3 – A _____ FICA ACESA DURANTE TODA A DISPUTA DAS OLIMPÍADAS.
- 4 – O TERCEIRO COLOCADO RECEBE A MEDALHA DE _____.
- 5 – A OLIMPÍADA DE 2021 ACONTECERÁ NO _____.
- 6 – O ESPORTE EM QUE OS ATLETAS UTILIZAM UMA BICICLETA É O _____.
- 7 – O SEGUNDO COLOCADO RECEBE A MEDALHA DE _____.
- 8 – O ESPORTE EM QUE OS ATLETAS UTILIZAM UMA RAQUETE É O _____.
- 9 – A DISPUTA DA MARATONA FAZ PARTE DO _____.
- 10 – O ESPORTE EM QUE UMA REDE DIVIDE AS EQUIPES É O _____.

JAPÃO

TÊNIS

TOCHA

GRÉCIA

CICLISMO



ATLETISMO

VOLEIBOL

OURO


PRATA

BRONZE

CIENCIAS

(HIGIENE E CUIDADO)

- 👐 VAMOS REFLETIR UM POUCO SOBRE O QUE FAZEMOS PARA CUIDAR DA NOSSA SAUDE?
- 👐 NESSES TEMPOS DE PANDEMIA, DEVEMOS CUIDAR MUITO DA NOSSA HIGIENE, VAMOS RELEMBRAR OS HÁBITOS IMPORTANTES PARA EVITAR PEGAR E TRANSMITIR O VIRUS DA COVID-19.



- 👐 E AÍ, QUAIS DESSES CUIDADOS VOCÊ JÁ TEM? PINTE OS QUADRINHOS QUE CONTEM OS HABITOS DE CUIDADO E HIGIENE QUE VOCÊ JÁ POSSUI PARA SE PREVENIR DA DOENÇA:

<i>EVITE ABRAÇAR E BEIJAR AS PESSOAS</i>	<i>LAVE BEM AS MÃOS</i>	<i>USE MASCARA</i>	<i>USE ALCOOL EM GEL</i>
<i>CAPRICHE NO BANHO</i>	<i>IR AO DENTISTA</i>	<i>CUBRA A BOCA PARA TOSSIR</i>	<i>ALIMENTAR-SE DE FORMA SAUĐAVEL</i>

NOME: _____













DATA: 30/07/2021

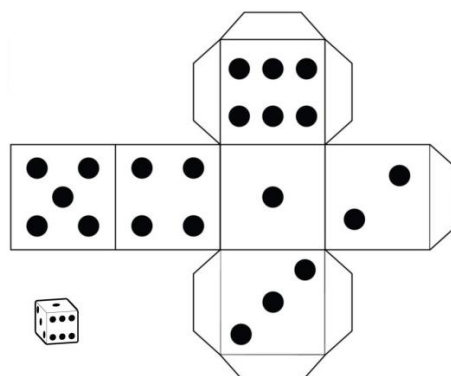
ARTES

(MOVIMENTO)

👉 VAMOS BRINCAR COM O JOGO DO MOVIMENTO. VOCÊ DEVE JOGAR O DADO E ESCOLHER O MOVIMENTO CORRESPONDENTE AO NUMERO SORTEADO. DIVIRTA-SE.

JOGAR E MOVIMENTAR



NOME: _____ DATA: 02/08/2021

LINGUA PORTUGUESA

(LEITURA E ESCRITA)

👉 AGOSTO É O MÊS DO FOLCLORE BRASILEIRO!

👉 VOCÊ SABE O QUE É FOLCLORE?

O **FOLCLORE BRASILEIRO** É O CONJUNTO DE EXPRESSÕES CULTURAIS POPULARES QUE ENGLOBALAM ASPECTOS DA IDENTIDADE NACIONAL. SÃO EXEMPLOS MITOS, LENDAS, BRINCADEIRAS, DANÇAS, FESTAS, COMIDAS TÍPICAS E DEMAIS COSTUMES QUE SÃO TRANSMITIDOS DE GERAÇÃO PARA GERAÇÃO.

👉 VOCÊ CONHECE AS LENDAS DO NOSSO FOLCLORE?

👉 OBSERVE AS IMAGENS:



👉 PINTE OS NOMES DOS PERSONAGENS DO FOLCLORE QUE VOCÊ RECONHECE NA IMAGEM:

NEGRINHO DO PASTOREIO	SACI	LOBISOMEM	IARA
EMILIA	MULA-SEM-CABEÇA	PEDRINHO	QUINDIM
BOITATA	CURUPIRA	BOTO	NARIZINHO

NOME: _____

DATA: 02/08/2021

LINGUA PORTUGUESA

(LEITURA E ESCRITA)

👉 ENCONTRE NO CAÇA-PALAVRAS OS NOMES DOS PERSONAGENS DO FOLCLORE:

S	E	R	E	I	A	I	A	R	A
B	L	N	A	O	A	J	L	O	B
O	L	O	B	I	S	O	M	E	M
I	B	U	M	T	A	A	X	U	V
B	E	A	S	N	T	E	R	A	C
U	D	B	O	I	T	A	T	Á	U
M	F	H	G	P	Y	Q	D	L	C
B	C	U	R	U	P	I	R	A	A
Á	M	N	F	S	Q	W	Z	H	P
S	A	C	I	P	E	R	E	R	Ê



NOME: _____

DATA: 03/08/2021

MATEMATICA

(GEOMETRIA)

👉 AS ADIVINHAS FAZEM PARTE DO NOSSO FOLCLORE, POR ISSO, PARA DEIXAR ESSA ATIVIDADE DE GEOMETRIA MAIS LEGAL, HOJEM TEMOS ESSA ADIVINHA E ESSA CASINHA FEITA COM UM QUEBRA-CABEÇAS CHAMADO TANGRAM:

ADIVINHA

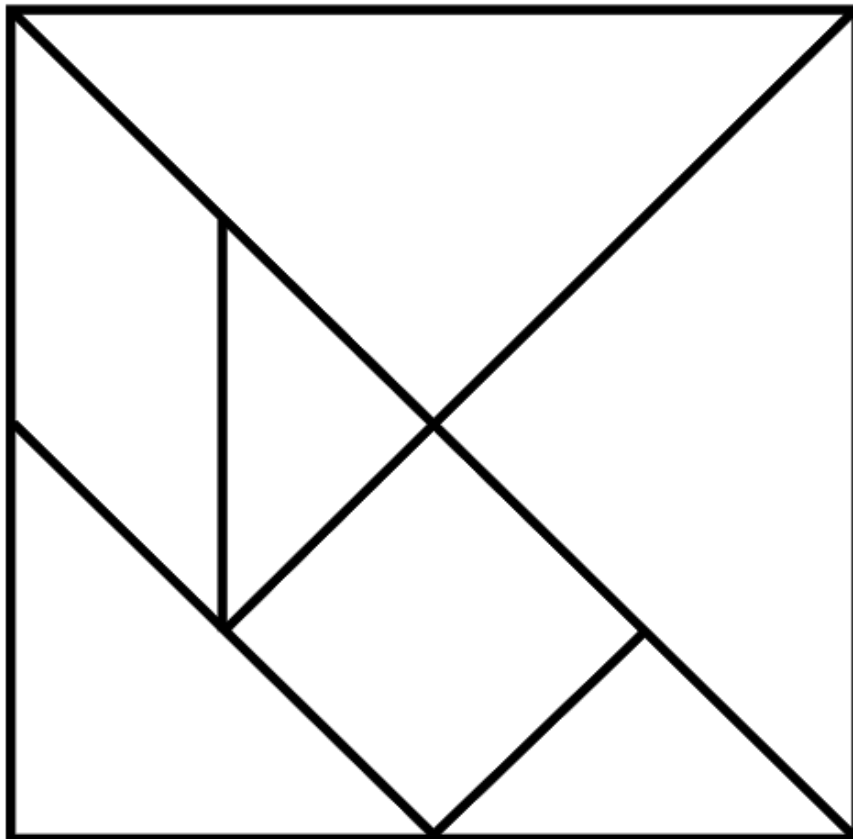
O QUE É O QUE É...

QUE ENCHE UMA CASA, MAS NÃO ENCHE
UMA MÃO?



👉 A CASINHA ACIMA FOI FEITA COM AS PEÇAS DE UM TANGRAM, QUE TAL VOCÊ TENTAR MONTAR UMA TAMBÉM?!

👉 PINTE AS PEÇAS DO TANGRAM, RECORTE E MONTE A CASINHA COMO NO MODELO.




NOME: _____ DATA: 03/08/2021

MATEMATICA

(GEOMETRIA)

👉 MONTE AQUI A SUA CASINHA, SE QUISE PODE ENFEITAR PARA ELA FICAR BEM BONITINHA:

A large, empty rectangular box with a solid black border, intended for a student to draw a house. The box occupies most of the lower half of the page.

NOME: _____


















DATA: 03/08/2021

MATEMÁTICA




(NÚMEROS)

👉 QUAL É O NÚMERO ESCONDIDO ATRÁS DO DESENHO?

👉 DESCUBRA E COMPLETE O QUADRO:

1	2	3	4		6	7	8		10
	12	13	14	15	16	17	18	19	
21	22	23		25		27	28	29	30
31	32	33	34	35	36	37	38	39	40
		43	44	45	46	47	48	49	50
51	52	53	54	55		57	58		60
61	62	63	64	65	66	67	68	69	70
71	72			75	76			79	80
81	82	83	84	85	86	87	88		90
		93	94	95	96	97	98	99	100

👉 ESCREVA EM ORDEM CRESCENTE AQUI OS NÚMEROS QUE VOCÊ ENCONTROU EM CADA PERSONAGEM:

NOME: _____ DATA: 04/08/2021

MATEMÁTICA

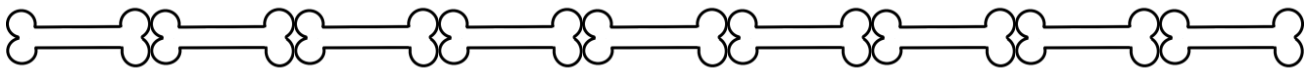
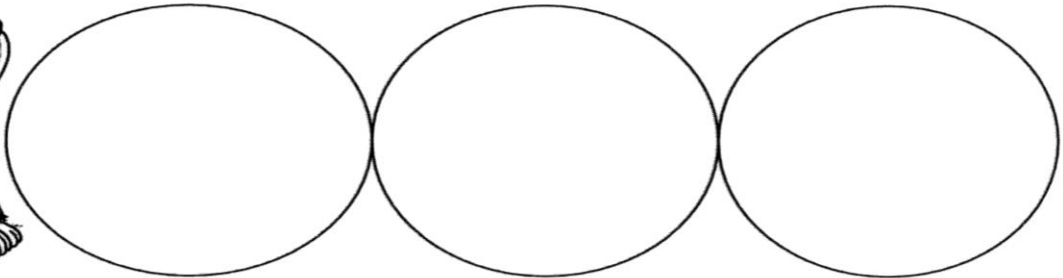
(SITUAÇÕES PROBLEMA)

👋 ESSAS ATIVIDADES CONTEM UM DESAFIO PARA VOCÊ, VAMOS COMEÇAR A APRENDER SOBRE MULTIPLICAR E DIVIDIR, TOPA O DESAFIO?

👋 NÃO SE PREOCUPE, SE TIVER DUVIDAS ESTOU LÁ NO GRUPO DO WHATSAPP PARA TE AJUDAR, OK?!

LOUCO POR UM OSSINHO

OS LOBISOMENS PODEM PARECER ASSUSTADORES, MAS O LOBISOMEM LOURIVAL GOSTA MESMO É DE COLETAR OSSINHOS NA LUA CHEIA. DESTA VEZ, ELE CONSEGUIU JUNTAR 9 OSSINHOS E QUER ENTERRÁ-LOS IGUALMENTE EM 3 BURACOS QUE CAVOU. QUANTOS OSSINHOS SERÃO COLOCADOS EM CADA BURACO? RECORTE OS OSSINHOS E DISTRIBUA-OS PARA DESCOBRIR A RESPOSTA:



REUNIÃO DAS MULAS

UMA MULA-SEM-CABEÇA TEM 4 PATAS. IMAGINE UMA REUNIÃO COM 3 MULAS. QUANTAS PATAS HAVERIA AO TODO NESSA REUNIÃO? USE O QUADRINHO PARA CALCULAR:



NOME: _____


DATA: 04/08/2021

LINGUA PORTUGUESA


(LEITURA E ESCRITA)

👋 VAMOS FAZER UMA CRUZADINHA?! MAS ANTES VOCÊ TEM QUE RESPONDER AS ADIVINHAS!

- 1- QUEM SOLTA FOGO PELAS "VENTA" E ADORA LUA CHEIA?
- 2- APANHEI MUITO E "NOSSA SENHORA" ME SALVOU
- 3- QUEM PEGA CRIANÇA QUE NÃO DORME CEDO?
- 4- QUEM É QUE PROTEGE AS MATAS E TEM OS PÉS VIRADOS PARA TRÁS?
- 5- QUEM É QUE FICA SEM OS PODERES QUANDO PERDE O GORRO?



*MULA-SEM-CABEÇA; SACI; BICHO-PAPÃO;
NEGRINHO DO PASTOREIO; CURUPIRA



NOME: _____

DATA: 05/08/2021


LINGUA PORTUGUESA

(LEITURA E ESCRITA)

👋 VAMOS BRINCAR MAIS UM POUCO DE ADIVINHAS?!

👋 VOCÊ DEVE PINTAR A RESPOSTA CORRETA DAS ADIVINHAS!

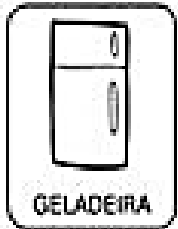
O QUE É, O QUE É QUE MAIS PESA NO MUNDO?





O QUE É, O QUE É QUE PODE SER DOCE OU SALGADO, MAS NINGUÉM CONSEGUE FAZER DIREITO?




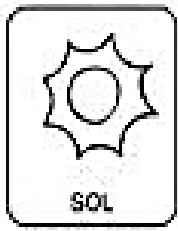
O QUE É, O QUE É QUE TEM BOCA, MAS NÃO FALA, TEM BOTÃO, MAS NÃO É TELEVISÃO?



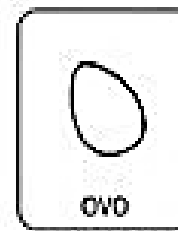


O QUE É, O QUE É QUE TEM CABEÇA, MAS NÃO PENSA, TEM DENTE, MAS NÃO MORDE?



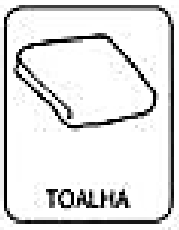
O QUE É, O QUE É QUE VIVE CAINDO, MAS NUNCA SE MACHUCA?




O QUE É, O QUE É QUE QUANTO MAIS SE COZINHA MAIS DURO SE TORNA?



O QUE É, O QUE É QUE QUANTO MAIS SECA, MAIS SE MOLHA?



O QUE É, O QUE É QUE QUANDO ESCRENTA PULA NO AR, ESTOURA E VIRA DO AVESSO?



NOME: _____

DATA: 06/08/2021

CIÊNCIAS

(HIGIENE E CUIDADO)

👉 RELACIONE AS IMAGENS ÀS FRASES CORRETAS:



LAVAR AS MÃOS COM
ÁGUA E SABÃO

O CORONAVIRUS
ATACA DIRETAMENTE
OS PULMÕES

NÃO COMPARTILHAR
OBJETOS DE USO
PESSOAL

EVITAR AGLOMERAÇÃO
DE PESSOAS

USE MASCARAS
ADEQUADAMENTE

USAR O BRAÇO PARA
TOSSIR OU ESPIRRAR

ANEXO 1

"NO MUNDO DA LEITURA"



NOME: _____

NOME DO LIVRO: _____

NOME DO AUTOR(A) DO LIVRO: _____

DATA: / /

DESENHE A PARTE DO LIVRO QUE VOCÊ MAIS GOSTOU

A large, empty rectangular box with a black border, intended for the student to draw the part of the book they liked most.

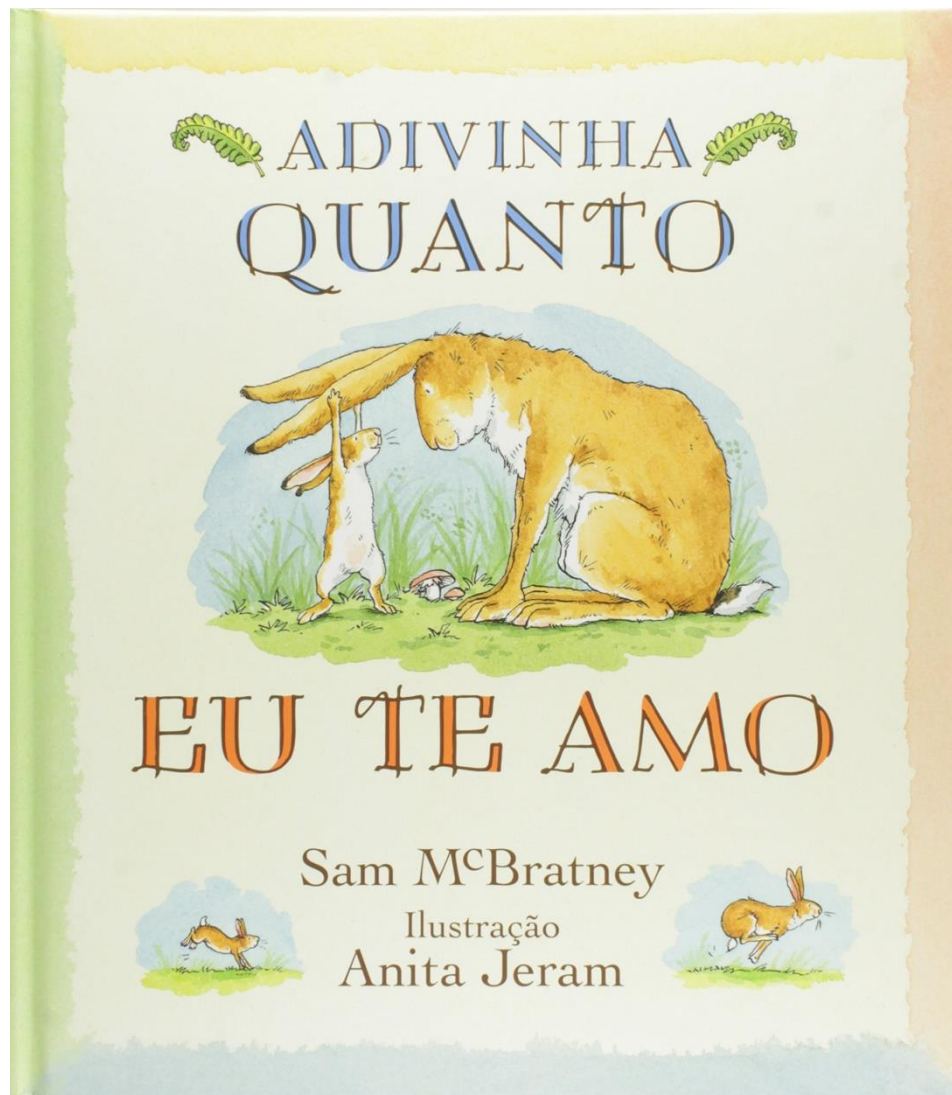
PINTE A CARINHA DE ACORDO COM O QUE VOCÊ ACHOU DO LIVRO



ANEXO II

LIVRO UTILIZADO

ADIVINHA O QUANTO EU TE AMO – Sam McBratney



[HTTPS://WWW.UNIFESP.BR/REITORIA/PAULISTINHA/IMAGES/GERAL/ATIVIDADE%20REMOTA/HIST%C3%B3RIAS/ADIVINHA%20O%20QUANTO%20TE%20AMO.PDF](https://www.unifesp.br/reitoria/paulistinha/images/geral/atividade%20remota/hist%C3%B3rias/adivinha%20o%20quanto%20te%20amo.pdf)

REFERENCIAS

- ◆ IMAGENS UTILIZADAS DO GOOGLE:

https://www.google.com/search?q=GOOGLE&rlz=1C1SQJL_enBR882BR882&oq=GOOGLE&aqs=chrome..69i57j69i59j69i60l4j69i65l2.1452j0j9&sourceid=chrome&ie=UTF-8

- ◆ LIVRO UTILIZADO PARA O PROJETO "NO MUNDO DA LEITURA" DISPONIVEL EM:

[HTTPS://WWW.UNIFESP.BR/REITORIA/PAULISTINHA/IMAGES/GERAL/ATIVIDADE%20REMOTA/HIST%C3%B3RIAS/ADIVINHA%20O%20QUANTO%20TE%20AMO.PDF](https://www.unifesp.br/reitoria/paulistinha/images/geral/atividade%20remota/hist%C3%B3rias/adivinha%20o%20quanto%20te%20amo.pdf)

- ◆ ATIVIDADES ADAPTADAS COM BASE NO LIVRO "APRENDER SEMPRE" – VOL. 1