

E.M. RECANTO FELIZ PROFª SANDRA REGINA RODRIGUES DA SILVA.

PROFª: IVANI UMEKI.


05/07 -06/08/2021

8º APOSTILA.

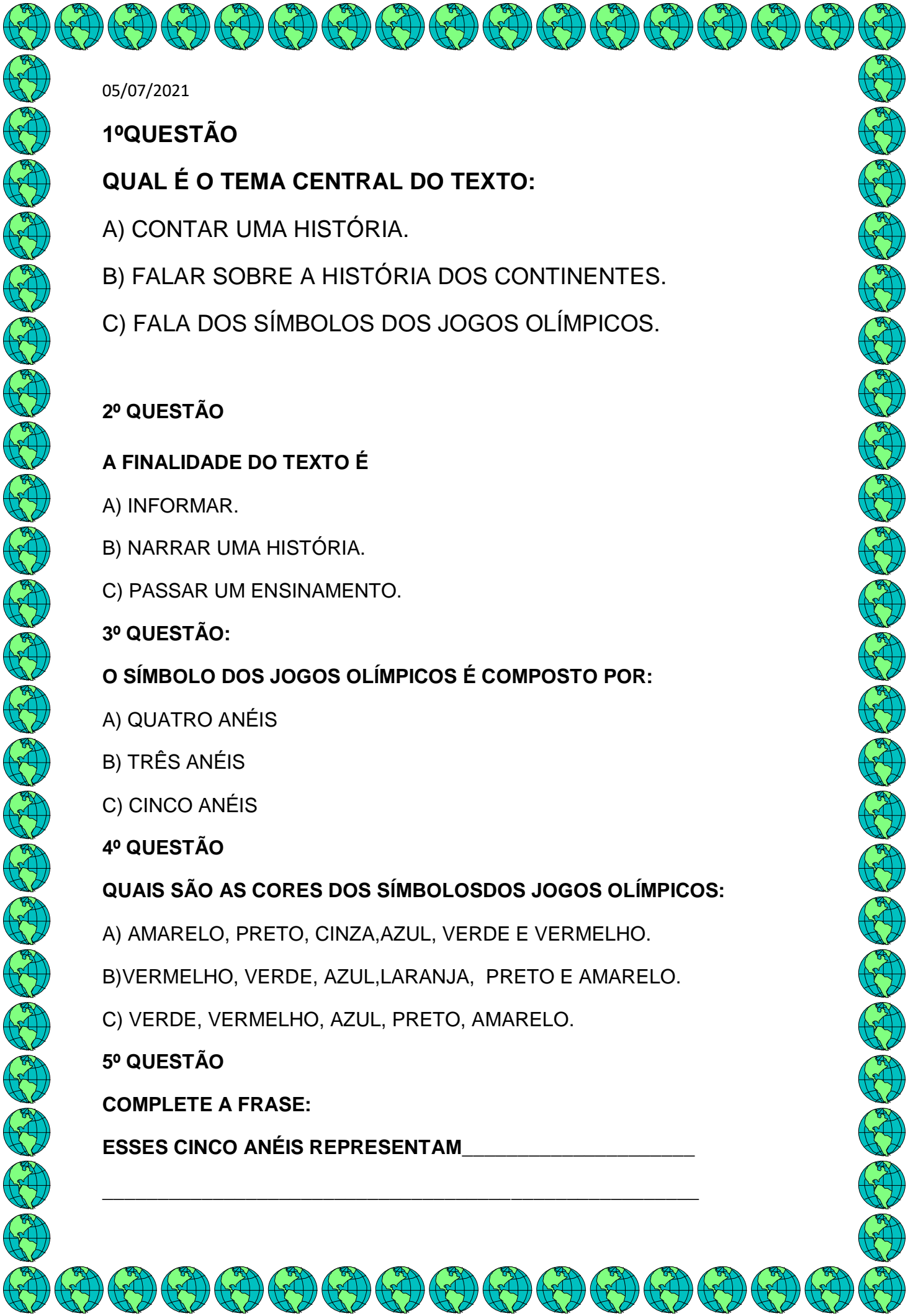


05/07/2021

LEIA O TEXTO E RESPONDA AS QUESTÕES ABAIXO



O SÍMBOLO DOS JOGOS OLÍMPICOS É COMPOSTO POR CINCO ANÉIS ENTRELAÇADOS, COM AS CORES AZUL, AMARELO, PRETO, VERDE E VERMELHO SOBRE UM FUNDO BRANCO. ESSES CINCO ANÉIS REPRESENTAM AS CINCO PARTES DO MUNDO, QUE AGORA SÃO CONQUISTADOS PARA OLIMPISMO E DISPOSTAS A ACEITAR UMA CONCORRÊNCIA SAUDÁVEL, DESSA FORMA, ALÉM DE SIMBOLIZAR A UNIÃO DOS CINCO CONTINENTES, INTEGRA TODOS OS PAÍSES, FORNECENDOUM SENTIDO UNIVERSAL PARA AS OLÍMPIADAS. CADA ANEL REPRESENTA UM CONTINENTE, SENDO O AZUL CORRESPONDENTE A EUROPA, O ANEL AMARELO A ÁSIA, O PRETO A ÁFRICA, O VERDE A OCEANIA E O VERMELHO A AMÉRICA.



05/07/2021

1º QUESTÃO

QUAL É O TEMA CENTRAL DO TEXTO:

- A) CONTAR UMA HISTÓRIA.
- B) FALAR SOBRE A HISTÓRIA DOS CONTINENTES.
- C) FALA DOS SÍMBOLOS DOS JOGOS OLÍMPICOS.

2º QUESTÃO

A FINALIDADE DO TEXTO É

- A) INFORMAR.
- B) NARRAR UMA HISTÓRIA.
- C) PASSAR UM ENSINAMENTO.

3º QUESTÃO:

O SÍMBOLO DOS JOGOS OLÍMPICOS É COMPOSTO POR:

- A) QUATRO ANÉIS
- B) TRÊS ANÉIS
- C) CINCO ANÉIS

4º QUESTÃO

QUAIS SÃO AS CORES DOS SÍMBOLOS DOS JOGOS OLÍMPICOS:

- A) AMARELO, PRETO, CINZA, AZUL, VERDE E VERMELHO.
- B) VERMELHO, VERDE, AZUL, LARANJA, PRETO E AMARELO.
- C) VERDE, VERMELHO, AZUL, PRETO, AMARELO.


5º QUESTÃO

COMPLETE A FRASE:

ESSES CINCO ANÉIS REPRESENTAM _____

06/07/2021

VAMOS COLORIR OS ANÉIS OLÍMPICOS



SÃO CINCO ANÉIS DE CORES DIFERENTES:
(AZUL, VERMELHO, PRETO, AMARELO E VERDE)

LIGUE DE ACORDO COM A COR QUE
REPRESENTA CADA CONTINENTE

AMARELO

VERDE

PRETO

VERMELHO

AZUL

AMÉRICA

ÁSIA

EUROPA

ÁFRICA

OCEÂNIA

06/07/2021

ENCONTRE NO CAÇA PALAVRA OS NOMES DOS JOGOS OLÍMPICOS.



CAÇA-PALAVRAS



Q	A	W	F	I	B	E	T	E	U	Q	S	A	B
N	T	O	U	V	G	B	Ê	Ç	L	P	H	Z	C
A	R	A	T	H	A	U	N	X	K	R	O	M	B
X	I	X	E	L	E	J	I	F	A	E	E	H	S
H	A	I	B	K	I	A	S	W	B	G	B	M	A
A	T	E	O	B	W	Z	R	I	A	O	A	U	O
N	L	Y	L	W	U	O	M	O	R	L	D	E	M
D	O	T	Ç	Y	N	R	N	V	T	F	M	T	S
E	S	G	R	I	M	A	R	D	I	E	I	Y	I
B	F	B	P	Y	C	P	T	B	O	N	N	U	L
O	A	O	B	O	K	E	A	A	G	A	T	B	C
L	Q	G	W	B	X	O	Z	N	Ç	S	O	N	I
J	U	D	Ô	O	M	L	X	M	F	Ã	N	X	C
R	X	Z	B	K	H	I	P	I	S	M	O	E	X

BASQUETE - HIPISMO - NATAÇÃO - TÊNIS - ESGRIMA -

TAEKWONDO - CICLISMO - GOLFE - FUTEBOL - REMO -

CANOAGEM - RUGBY - HANDEBOL - JUDÔ - TRIATLO -

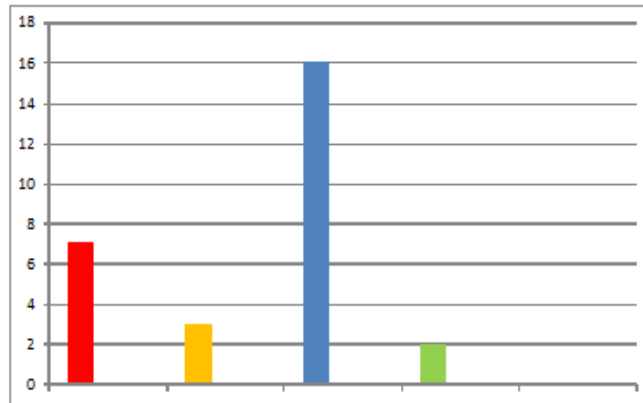
BOXE - BADMINTON -



19/06/2021

Agora, que você já leu a tabela com as cidades Sede das Olimpíadas de 1896 até 2016. Responda as seguintes questões.

1- O gráfico abaixo indica quantas vezes os Jogos Olímpicos foram realizados em cada continente.



Que cor corresponde à coluna da:

- a) Oceania? _____ b) Europa? _____
c) Ásia? _____ d) África? _____
e) América? _____

2- No ano de 2024, haverá Olimpíadas. Quantos anos você terá em 2024?

2- Agora, complete a tabela: na coluna da esquerda você escreve os anos em que vão ser realizadas as Olimpíadas e na coluna da direita, a sua idade.

Ano	Minha idade
2020	

3- A ginasta brasileira Daiane dos Santos tinha 21 anos quando participou das Olimpíadas de Atenas, em 2004. Em que ano ela nasceu?

4- Será que vão ter Jogos Olímpicos em 2050? Por quê?

19/06/2021

BIOGRAFIA

PIERRE DE FRÉDY (PARIS, 1 DE JANEIRO DE 1863 — GENEBRA, 2 DE SETEMBRO DE 1937), MAIS CONHECIDO PELO SEU TÍTULO NOBILIÁRQUICO DE BARÃO DE COUBERTIN, FOI UM PEDAGOGO E HISTORIADOR FRANCÊS, QUE FICOU PARA A **HISTÓRIA** COMO O FUNDADOR DOS JOGOS OLÍMPICOS DA ERA MODERNA.

NASCIMENTO: 1 DE JANEIRO DE 1863; PARIS, FRANÇA

MORTE: 2 DE SETEMBRO DE 1937 (74 ANOS)

LEIA O TEXTO E RESPONDA:

1- O GÊNERO TEXTUAL DESSE TEXTO É:

- A) UMA FÁBULA
- B) NOTÍCA.
- C) BIOGRAFIA

2- QUEM FOI O FUNDADOR DOS JOGOS OLÍMPICOS DA ERA MODERNA?

3- COMO ELE ERA CONHECIDO?

4- SUA NACIONALIDADE É:

- A) BRASILEIRO.
- B) ITALIANO.
- C) FRANCÊS.

5- EM QUE ANO ELE NASCEU?

6- EM QUE ANO ELE MORREU?

20/06/2021

CLASSIFIQUE OS TIPOS DE ESPORTES DE ACORDO COM AS IMAGENS:

1

SALTOS ORNAMENTAIS

2


GINÁSTICA RÍTMICA

3

NADO SINCRONIZADO

4


PATINAÇÃO ARTÍSTICA



20/07/2021

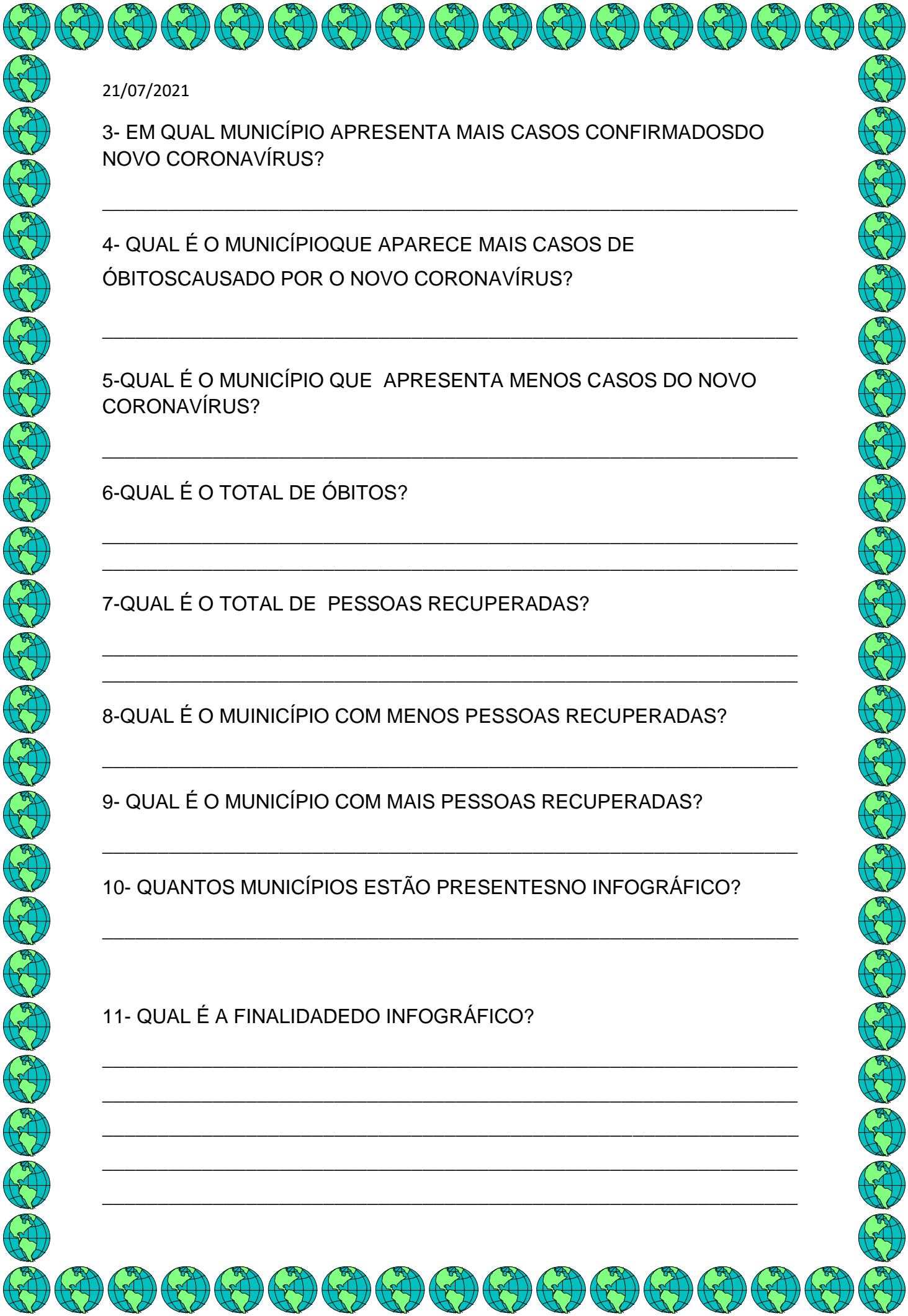
LEIA O INFOGRÁFICO PARA RESPONDER AS QUESTÕES ABAIXO.

INFOGRÁFICO COM OS CASOS DO NOVO CORONAVÍRUS NOS MUNICÍPIOS



1- QUAL É O ASSUNTO TRATADO NO INFOGRÁFICO?

2- QUANTOS CASOS CONFIRMADOS DO NOVO CORONAVÍRUS NO MUNICÍPIO DE RIO BONITO? QUANTOS RECUPERADOS? E QUANTOS ÓBITOS?



21/07/2021

3- EM QUAL MUNICÍPIO APRESENTA MAIS CASOS CONFIRMADOS DO NOVO CORONAVÍRUS?

4- QUAL É O MUNICÍPIO QUE APARECE MAIS CASOS DE ÓBITOS CAUSADO POR O NOVO CORONAVÍRUS?

5- QUAL É O MUNICÍPIO QUE APRESENTA MENOS CASOS DO NOVO CORONAVÍRUS?

6- QUAL É O TOTAL DE ÓBITOS?

7- QUAL É O TOTAL DE PESSOAS RECUPERADAS?

8- QUAL É O MUNICÍPIO COM MENOS PESSOAS RECUPERADAS?

9- QUAL É O MUNICÍPIO COM MAIS PESSOAS RECUPERADAS?

10- QUANTOS MUNICÍPIOS ESTÃO PRESENTES NO INFOGRÁFICO?

11- QUAL É A FINALIDADE DO INFOGRÁFICO?

21/07/2021

MEDIDAS DE CAPACIDADES



A) QUEM COMPROU A GARRAFA DE MAIOR CAPACIDADE?

B) QUEM COMPROU A GARRAFA DE MENOR CAPACIDADE?

C) QUANTAS GARRAFAS IGUAIS A DE MELISSA SÃO NECESSÁRIAS PARA SE TER A MESMA CAPACIDADE DA GARRAFA DE AFONSO?

D) QUANTAS GARRAFAS IGUAIS A DE MELISSA SÃO NECESSÁRIAS PARA SE OBTER 1 LITRO?

E) QUANTAS GARRAFAS IGUAIS A DE AFONSO SÃO NECESSÁRIAS PARA SE OBTER 1 LITRO?

MEDIDAS DE CAPACIDADES

3. PEDRO FOI COM SUA MÃE NO SUPERMERCADO E OBSERVOU ALGUMAS GARRAFAS A VENDA:



A) QUANTAS GARRAFAS DE 1 LITRO SÃO NECESSÁRIAS PARA ENCHER O GALÃO DE 5 LITROS?

B) 5 GARRAFAS DE 2L POSSUEM QUANTO DE CAPACIDADE?

4. SEU ANTÔNIO É UM FAZENDEIRO QUE VENDE O LEITE DE SUAS VACAS. TODO DIA ELE TIRA UM BALDE DE LEITE DE SUA VACA MIMOSA. OBSERVE A IMAGEM E DEPOIS RESPONDA:

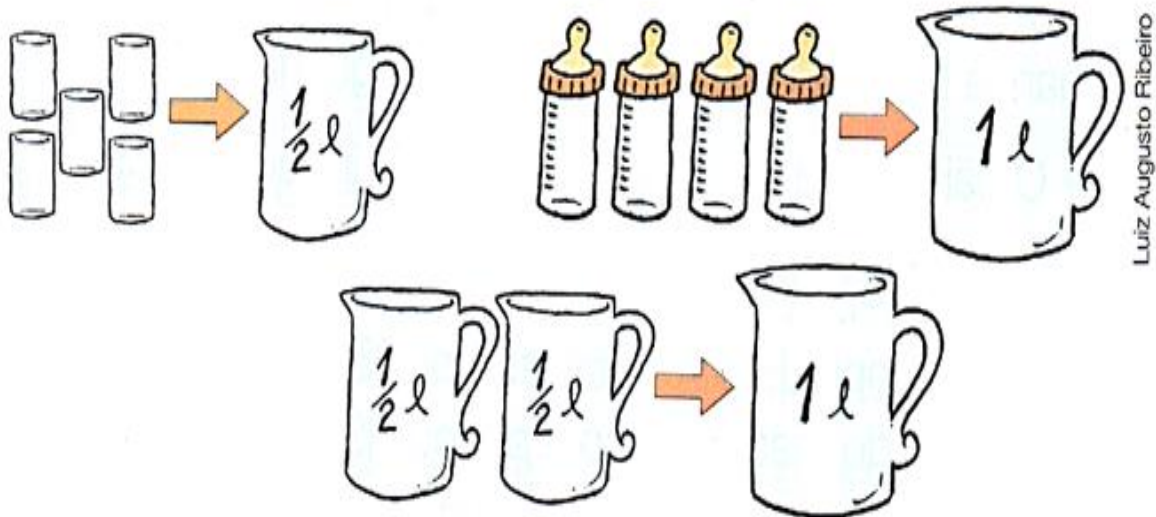


22/07/2021

A) Em 2 dias quantos litros de leite seu Antônio ordenhou?

B) Dona Maria pediu para seu Antônio colocar o leite do balde em 5 garrafas. Quantos litros devem ser colocados em cada garrafa para que elas tenham a mesma capacidade?

5. Observe as imagens abaixo e depois responda:



A) PARA ENCHER UMA JARRA DE MEIO LITRO UTILIZA-SE * COPOS COM CAPACIDADE DE CADA.

B) COM 1 LITRO DE LEITE É POSSÍVEL ENCHER * MAMADEIRAS, POIS CADA UMA TEM CAPACIDADE DE *.

C) COM * JARRAS DE MEIO LITRO É POSSÍVEL ENCHER 1 JARRA COM CAPACIDADE DE

23/07/2021

OS PONTOS NO JOGO DE BASQUETEBOL

VAMOS RESOLVER PROBLEMAS MATEMÁTICOS

1- GUSTAVO E ALLAN DECIDIRAM PESQUISAR SOBRE A SELEÇÃO BRASILEIRA DE BASQUETE. ELES DESCOBRIRAM QUE A ÚLTIMA OLIMPIÁDA ACONTECEU EM 2016, FOI REALIZADA NO RIO DE JANEIRO, E A SELEÇÃO DISPUTOU CINCO PARTIDAS.

ELES ANOTARAM A PONTUAÇÃO QUE O BRASIL FEZ NOS TRÊS PRIMEIROS JOGOS. NO PRIMEIRO JOGO, FORAM MARCADOS 76 PONTOS; NO SEGUNDO, 66 PONTOS; E NO TERCEIRO, 111 PONTOS.

A) ESTIME QUANTOS PONTOS A SELEÇÃO BRASILEIRA FEZ NESSES 3 JOGOS:

MAIS QUE 200 PONTOS? _____

MAIS QUE 250 PONTOS? _____

MAIS QUE 300 PONTOS? _____

REGISTRE AQUI COMO VOCÊ PENSOU

2-A PROFESSORA SÔNIA E SUAS ALUNAS NATÁLIA E BRUNA FICARAM ENCARGADAS DE COMPRAR AS MEDALHAS PARA AS PREMIAÇÕES. ELAS PESQUISARAM ALGUMAS MEDALHAS E GOSTARAM DE UM MODELO QUE ESTÁ REPRESENTADO NA ILUSTRAÇÃO:

PARA COMPRAR AS MEDALHAS DA PREMIAÇÃO, AS ESTUDANTES E A PROFESSORA CONSEGUIRAM ARRECADAR R\$ 81,50

PROMOÇÃO
R\$2,00 CADA
MEDALHA

QUANTAS MEDALHAS ELAS CONSEGUIRÃO
COMPRAR.



23/07/2021

OBSERVE O QUADRO E RESPONDA AS QUESTÕES ABAIXO.

Classificação	País	Medalhas de ouro	Medalhas de prata	Medalhas de bronze	Total de medalhas
8º	Itália	10	11	11	32
9º	Coreia do Sul	9	12	9	30
10º	Grã-Bretanha	9	9	12	30
11º	Cuba	9	7	11	27
12º	Ucrânia	9	5	9	23
13º	Hungria	8	6	3	17

1- QUAL É O PAÍS QUE MAIS GANHOU MEDALHAS:

- A) HUNGRIA.
- B) UCRÂNIA.
- C) CUBA.
- D) GRÃ – BRETANHA.
- E) COREIA DO SUL.
- F) ITÁLIA.

2- OS PAÍSES QUE GANHARAM AS MESMAS QUANTIDADES DE MEDALHAS FORAM:

- A) ITÁLIA E COREIA DO SUL.
- B) GRÃ – BRETANHA E HUNGRIA.
- C) COREIA DO SUL E GRÃ – BRETANHA.
- D) GRÃ – BRETANHA E CUBA.

26/07/2021

SITUAÇÃO PROBLEMAS

1- BRUNA PENSOU EM COMPRAR UM PRESENTE PARA OS COMPETIDORES QUE FICARAM MAIS BEM COLOCADOS NA GINCANA DA ESCOLA. ELA ENCONTROU UM COPO COM O SÍMBOLO DAS OLÍMPIADAS E DECIDIU COMPRAR 20 COPOS

A. NA LOJA A, ELA ENCONTROU A PROMOÇÃO:



R\$ 5,50 CADA COPO

QUANTO BRUNA IRÁ GASTAR SE ELA COMPRAR OS 20 COPOS NA LOJA A?

26/07/2021

B- NA LOJA B, ELA ENCONTROU A SEGUINTE PROMOÇÃO:



PACOTE COM 3 COPOS

POR R\$ 15,00

QUANTO BRUNA IRÁ GASTAR SE COMPRAR 20 COPOS NA LOJA B?

Blank area for the answer.

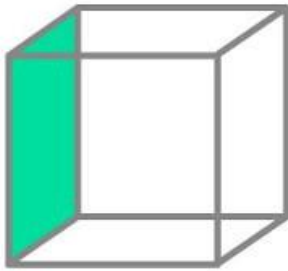
27/07/2021

GEOMETRIA: LIGUE AS FORMAS CORRESPONDENTES

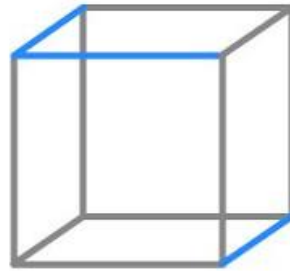


27/07/2021

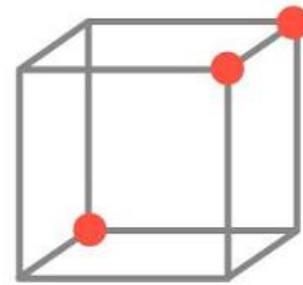
- **VÉRTICES:** PONTOS QUE UNEM AS ARESTAS.
- **ARESTAS:** RETAS QUE UNEM OS LADOS DOS SÓLIDOS.
- **FACES:** CADA LADO (FACE) DOS SÓLIDOS.



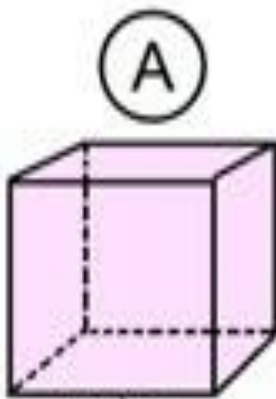
FACE



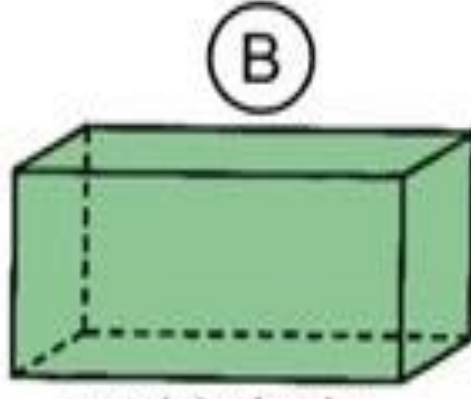
ARESTA




VÉRTICE



cubo



paralelepípedo



pirâmide de base quadrada

Poliedro	Quantas faces?	Quantos vértices?	Quantas arestas?
A			
B			
C			

28/07/2021

PREENCHA AFICHA TÉCNICA

LOBO - GUARÁ



O LOBO GUARÁ PARECE MAIS UMA RAPOSA DO QUE UM LOBO, É MUITO VELOZ.

É UM ANIMAL CARNÍVORO QUE COME PEQUENAS CUTIAS, PACAS, AVES, FRUTAS, RÉPTEIS, MEL E CANA DE AÇÚCAR.

SEU PESO É DE ATÉ 30 KG E POSSUI DE 2 A 5 FILHOTES.

VIVE NOS CAMPOS DO CENTRO - OESTE DO BRASIL.

POSSUI HÁBITOS NOTURNOS PORQUE TEM UM COMPORTAMENTO SOLITÁRIO.

AGORA VAMOS PREENCHER A FICHA DO ANIMAL QUE VOCÊ LEU:

FICHA TÉCNICA

NOME DO ANIMAL -

PESO -

FILHOTES -

ONDE VIVE -

ALIMENTAÇÃO -

<u>FICHA TÉCNICA</u>
NOME DO ANIMAL -
PESO -
FILHOTES -
ONDE VIVE -
ALIMENTAÇÃO -

29/07/2021

GEOGRAFIA

Olimpíada de Tóquio em 2021



- JAPÃO É UM PAÍS .
- TÓQUIO É CAPITAL DO JAPÃO.

1-LOCALIZE NO MAPA O NOME DO PAÍSONDE ESTÁ ACONTECENDO AS OLÍMPIADAS, E CIRCULE DE VERMELHO.



30/07/2021

HISTÓRIA



DE ACORDO COM A MITOLOGIA GREGA, O HERÓI HÉRCULES CRIOU AS OLIMPIADAS POR VOLTA DE 2.500A.C NA GRÉCIA ANTIGA, PARA HOMENAGEAR O PAI DELE, ZEUS. CONTUDO, OS PRIMEIROS REGISTROS HISTÓRICOS DAS OLIMPIADAS SÃO DE 776 A. C., QUANDO OS ATLETAS VENCEDORES COMEÇARAM A TER SEUS NOMES REGISTRADOS.

NESSA ÉPOCA, OS REIS DE ILIA, DE ESPARTA E DE PISSA ALIARAM-SE PARA QUE, DURANTE OS JOGOS, HOUVESSE TRÉGUA SAGRADA EM TODA A GRÉCIA. A ALIANÇA FOI REALIZADA NO TEMPLO DE HERA, LOCALIZADO NO SANTUÁRIO DE OLÍMPIA. ESSA É A ORIGEM DO TERMO "OLIMPIADAS".

ERA MODERNA

ATENAS FOI A CIDADE QUE SEDIU A PRIMEIRA OLIMPIADA DA ERA MODERNA, EM ABRIL DE 1896, COM DELEGAÇÕES DE 14 PAÍSES. AO TODO, 241 ATLETAS COMPETIRAM EM NOVE MODALIDADES.

DESDE ESSA ÉPOCA, OS JOGOS OLÍMPICOS PASSARAM A SER REALIZADOS DE QUATRO EM QUATRO ANOS, À EXCEÇÃO DE 1914 E 1918 E 1939 E 1945, QUANDO OCORRERAM A PRIMEIRA E SEGUNDA GUERRA MUNDIAL, RESPECTIVAMENTE.

1- NA ERA MODERNA QUAL FOI A CIDADE QUE SEDIU A PRIMEIRAOLÍMPIADA

2-QUAL É O TEMPO ESTIMÁVEL QUE ACONTECE AS OLÍMPIADAS:

- A) DE CINCO EM CINCO ANOS.
- B) DE TRÊS EM TRÊS ANOS.
- C) DE QUATRO EM QUATRO ANOS.

02/08/2021

PROJETO LEITURA:


DIA DOS PAIS

MÚSICA: PAPAÍ MEU AMIGÃO

MELODIA: (NO RITMO DE CIRANDA CIRANADINHA)

ROTEIRO:

- 1- CANTAR A MÚSICA E FAZER UM VÍDEO PARA APRESENTAR NO DIA DOS PAIS.
- 2- FAZER UM AUTORRETO DO PAPAÍ NO QUADRO.
- 3- ESCREVERO QUE VOCÊ GOSTA DE FAZER NO DIA A DIA COM O PAPAÍ.
- 4- FAZERA LEITURA DESSE LIVRO PARA O PAPAÍ.




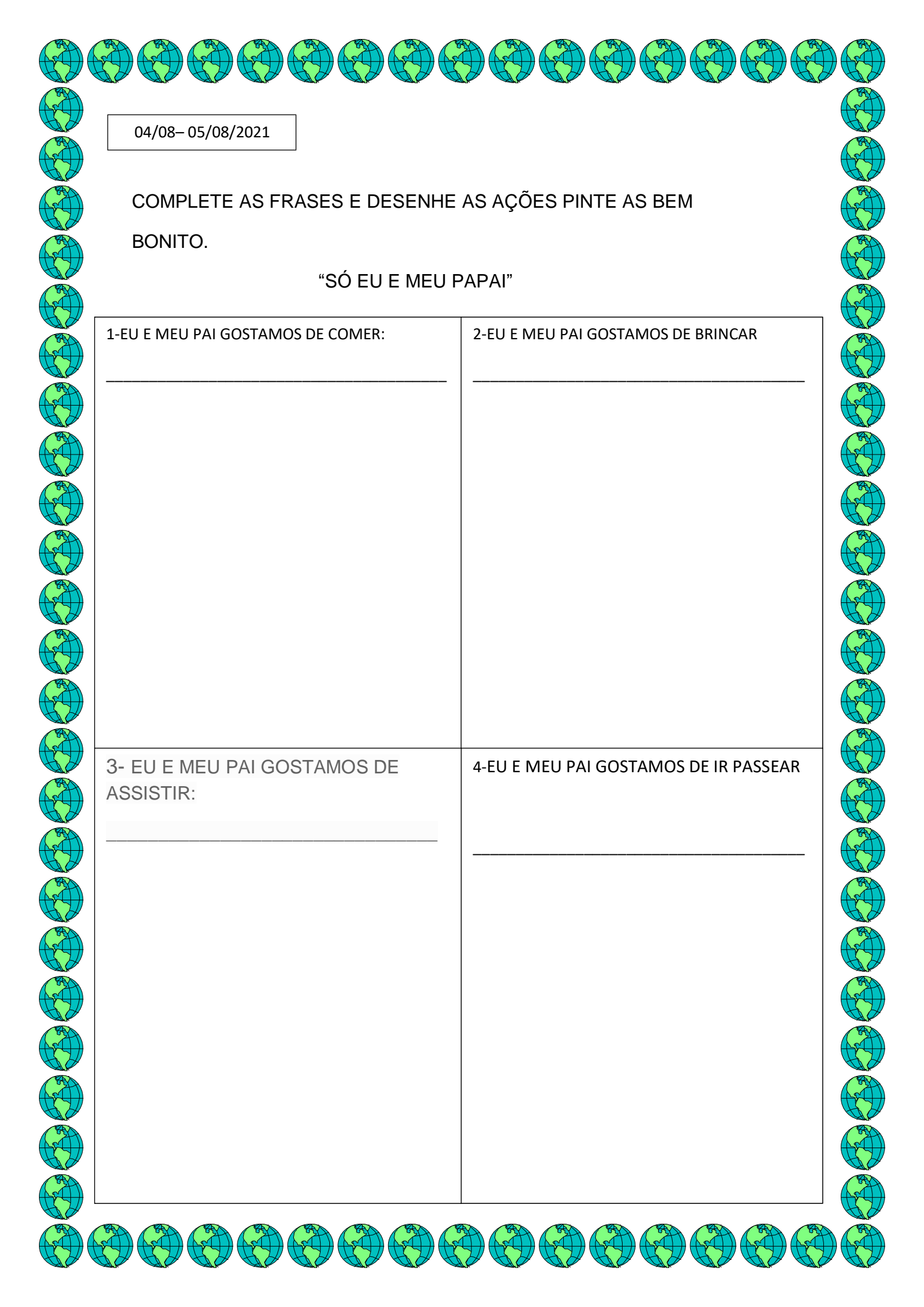
PAPAÍ MEU AMIGÃO
HOJE EU VOU COMEMORAR
VOU TE DAR MUITOS BEIJINHOS
E DEPOIS TE ABRAÇAR
COM AMOR E COM CARINHO
DO FUNDO DO CORAÇÃO
BATAM PALMAS PARA PAPAÍ
QUE É MEU **GRANDE CAMPEÃO**

03/08/- 04/08/ 2021

AUTORRETRATO DO PAPAI -ARTE

MEU PAI É ASSIM





04/08- 05/08/2021

COMPLETE AS FRASES E DESENHE AS AÇÕES PINTE AS BEM
BONITO.

“SÓ EU E MEU PAPAI”

1-EU E MEU PAI GOSTAMOS DE COMER:

2-EU E MEU PAI GOSTAMOS DE BRINCAR

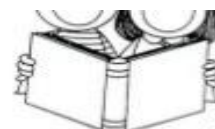
3- EU E MEU PAI GOSTAMOS DE
ASSISTIR:

4-EU E MEU PAI GOSTAMOS DE IR PASSEAR

06/08/2021

REALIZAR A LEITURA DO LIVRO E FAZER A FICHA DE LEITURA E
ESCREVER O QUE ENTENDEU DA HISTÓRIA

Ficha de leitura



Nome: _____ / ____ / ____

Título: _____

Autor(a): _____

Ilustrador(a): _____

Editora: _____

Resumo

GOSTOU DA HISTÓRIA?

ia?

