

**ESCOLA:** E.M. "ALEXANDRE VANNUCHI LEME"

**DIRETORA:** ROSANA PIRES DE OLIVEIRA

**VICE- DIRETORA:** ALEXANDRINA PEDROSO DE OLIVEIRA

**PROFESSORA:** JANAÍNA ANDRÉA DOS REIS BARRETO

**RESPONSÁVEIS PELO ACOMPANHAMENTO DAS ATIVIDADES EM CASA:**

---

---

**ENTREGAR NO DIA**

**10/08/2021**

**SÉRIE:** 3º ANO B

**ALUNO:** \_\_\_\_\_

# **APOSTILA 8**

## **ATIVIDADES DE APOIO AO PROCESSO DA APRENDIZAGEM**

**PERÍODO DE 05/07/2021 A 06/08/2021**

IBIÚNA

2021

Ibiúna, 05 de Julho de 2021

Segunda-feira

Área de linguagem: Língua Portuguesa



Azusa Iwashimizu, jogadora de futebol campeã da Copa do Mundo de 2011, é a primeira a carregar a chama olímpica

<https://www.dw.com/pt-br/revezamento-da-tocha-ol%C3%A9mpica-come%C3%A7a-%C3%A0-sombra-da-pandemia/a-56994877>

1. A qual evento esportivo se refere essa imagem?

---

2. Qual foi a primeira atleta japonesa a carregar a chama olímpica?

---

Tocha Olímpica é um dos **principais símbolos dos Jogos Olímpicos da Era Moderna**, remetendo aos rituais e tradições originais das Olimpíadas da Antiguidade.

Também conhecida como **Chama Olímpica**, esta é uma referência ao episódio da mitologia grega que narra o roubo do “fogo sagrado” de Zeus (deus dos deuses) por Prometeu para que pudesse ser entregue aos seres humanos. Prometeu era conhecido como o titã defensor dos direitos da humanidade.

<https://www.significados.com.br/tocha-olimpica/>



Presidente do COI, Jacques Rogge, anuncia Tóquio como sede dos Jogos Olímpicos de 2020. (Créditos: Reprodução COI / Olympic.org)

<https://brasilecola.uol.com.br/educacao-fisica/olimpiadas-toquio-2020.htm>

1. A escolha de Tóquio como cidade-sede das Olimpíadas foi feita em 7 de setembro de 2013. Qual situação mundial ocasionou o adiamento dos jogos Olímpicos de 2020?

## Área de Ciências da Natureza: Ciências

### As Olimpíadas da pandemia: entenda os protocolos de Tóquio

Os Jogos Olímpicos serão realizados pela primeira vez no meio de uma grave crise sanitária. Para tentar evitar uma maior disseminação do vírus da Covid-19, Tóquio não terá público



## REGRAS PARA O PÚBLICO

Os Jogos Olímpicos de Tóquio serão realizados sem a presença de público nas arenas da capital. O Governo de Tóquio anunciou que a região da capital japonesa entrará em novo estado de emergência a partir da próxima segunda-feira. O período de restrições vai até o dia 22 de agosto.

Sem público: Tóquio, Chiba, Kanagawa, Saitama, Hokkaido e Fukushima.

Com público de 50% até um máximo de 10 mil: Miyagi, Shizuoka e Ibaraki (em Ibaraki - Kashima, sede de jogos do futebol, as sessões noturnas serão sem público).

Das 43 instalações olímpicas, os torcedores terão acesso a apenas cinco.

### PROTOCOLOS

Apenas residentes do Japão poderão assistir aos Jogos. Também haverá uma série de protocolos internos de deslocamento entre as regiões para evitar aglomerações rumo aos eventos. Torcedores estão sendo incentivados a irem de casa direto para os estádios e fazer o mesmo percurso no retorno.



**Não serão feitos nem exigidos** testes e/ou vacinas para os torcedores.



**Estudantes de um programa escolar japonês** também poderão assistir a eventos dos Jogos em Ibaraki. O número, porém, será reduzido e não vai impactar no limite de espectadores nas arenas.



**Os torcedores terão de usar máscara** todo o tempo e manter uma distância mínima entre si.



**O panorama atual não é definitivo.** A situação pode mudar em caso de mudança no número de casos. Caso o patamar de infecções suba, arenas que ainda receberão público podem fechar seus portões. Por outro lado, se o nível diminuir, a organização pode flexibilizar as restrições.



Será **proibido falar em voz alta ou gritar**, para reduzir o risco de transmissão de partículas do vírus pelo ar.



A **chegada e a saída das arenas** serão escalonadas a fim de evitar aglomerações.

### ***REGRAS PARA ATLETAS E MEMBROS DE DELEGAÇÕES***



**Usar máscaras a todo momento**, com exceções durante as disputas esportivas (as regras vão variar esporte a esporte).



**Evitar contato desnecessário** com pessoas de outras delegações.



**Evitar contato físico, como apertos de mão e abraços.** Também é recomendado manter uma **distância de dois metros para atletas e ao menos um metro de outros credenciados**, inclusive em áreas operacionais. Além, claro, de **evitar lugares fechados e com aglomerações.**



**Usar apenas veículos olímpicos dedicados.** Usar transporte público apenas quando não houver outra forma de locomoção, como para locais de competições mais distantes, como no surfe.



Todos deverão acessar **aplicativos de controle de contágio**, o OCHOA e o COCOA;





Todos deverão ser **testados duas vezes antes do embarque para o Japão e apresentar resultados negativos para infecção por coronavírus. Na chegada ao Japão, todos serão testados.**

- **Haverá testes regulares durante as Olimpíadas.** Todos os atletas farão testes diários e poderão escolher entre duas janelas, uma às 9h e outra às 18h (horários locais). Caso o resultado seja positivo ou inconclusivo, o atleta será imediatamente isolado e fará uma contraprova com duas metodologias diferentes. Os resultados neste caso terão prioridade e deverão sair em até 3h.

- **Se o positivo for confirmado,** o atleta será transportado para um local onde cumprirá o isolamento e terá a saúde monitorada. O local e o tempo de permanência serão definidos pelas autoridades japonesas de acordo com a gravidade dos sintomas. Serão servidas três refeições por dia, mas o consumo de álcool e cigarros será proibido.

- **Os que testarem positivos não vão poder mais competir pois serão isolados,** mas podem sair com medalhas do torneio. O diretor de esportes do Comitê Olímpico Internacional (COI), Kit McConnell, alertou que cada modalidade terá um regulamento com relação a isso, principalmente porque os calendários são totalmente diferentes. Enquanto algumas modalidades são disputadas ao longo dos 16 dias, outras o mesmo atleta faz todas as lutas em poucas horas, como judô e taekwondo, por exemplo.

- **Uma vez no Japão, todos os atletas deverão cumprir os protocolos de prevenção e controle da Covid-19.** Em caso de desobediência, poderão sofrer as seguintes punições: advertência, retirada provisória ou permanente da credencial, desclassificação dos Jogos, sanção financeira e até revogação da permissão de estadia no Japão.

Se um atleta vencer a semifinal de uma determinada modalidade (tênis, por exemplo) e testar positivo, ele não poderá jogar a decisão, **mas sairá das Olimpíadas com uma medalha de prata.** Neste caso fictício, a final seria disputada entre o perdedor da semi e o vencedor da outra semi, o que faz com que o pódio seja composto por um campeão, dois medalhistas de prata, e um de bronze.

**O comitê ainda não deixou claro o que caracteriza uma desclassificação nos esportes coletivos.** Não está determinado no documento quantos casos de Covid-19 em um elenco caracteriza uma eliminação. Por exemplo, no basquete serão 12 atletas em cada seleção. Qual é o limite de casos positivos para que a equipe não possa continuar no torneio? O documento não especifica.

\* ILUSTRAÇÕES: ENDERSON SANTOS

<https://interativos.globoesporte.globo.com/olimpiadas/materia/as-olimpadas-da-pandemia-entenda-os-protocolos-de-toquio>



<https://www.brasildefato.com.br/2021/06/25/olimpiadas-serao-realizadas-contra-a-vontade-da-populacao-dizem-brasileiros-no-japao>

Olimpíadas serão realizadas contra a vontade da população, dizem brasileiros no Japão (Caroline Oliveira Brasil de Fato | São Paulo (SP) | 25 de Junho de 2021 às 15:19

1. Escreva três **protocolos de Tóquio** para as Olimpíadas deste ano.

---

---

---

---



## Tabela técnica do iene

Reunimos algumas informações técnicas sobre o iene, como data da criação, símbolo, abreviatura, notas disponíveis e moedas disponíveis, em uma tabela explicativa que você pode conferir abaixo:

<b>Data da criação:</b>	10 de maio de 1871
<b>Símbolo:</b>	¥
<b>Abreviatura:</b>	JPY
<b>Notas disponíveis:</b>	¥1.000, ¥2.000, ¥5.000 e ¥10.000
<b>Moedas disponíveis:</b>	¥1, ¥5, ¥10¥, ¥50, ¥100 e ¥500

<https://www.tororadar.com.br/blog/iene-para-real-cotacao-jpy-hoje>

## Valor iene para real

Tabela com a conversão de valores da moeda iene para real. Abaixo a tabela oferece de forma simples a conversão de diversos valores do iene Comercial.

iene	Real
1¥ (um iene)	R\$ 0,05
2¥	R\$ 0,09
3¥	R\$ 0,14
4¥	R\$ 0,19
5¥	R\$ 0,24
10¥	R\$ 0,47
25¥	R\$ 1,18
50¥	R\$ 2,36
100¥	R\$ 4,71

<https://www.dolarhoje.net.br/iene.php>

## Moedas que estão circulando atualmente

Moeda de 1 iene (1 円)

Nome em japonês: 一円玉 (Ichi En Dama)



A moeda de um iene é uma pequena moeda de cerca de 20 mm de diâmetro e é feita de alumínio. O Ichi en dama tem o valor mais baixo do sistema monetário japonês. Em uma das faces da moeda, há o número 1 com a inscrição do ano em que foi cunhada.

Em seguida, no verso, temos o desenho de um galho de árvore com o valor escrito da moeda em japonês. No topo, há uma inscrição onde se lê Nihon-koku, que é o nome oficial do Japão.

Moeda de 5 ienes (5 円)

Nome em japonês: 五円玉 (Go En Dama)



Esta moeda tem um orifício no centro. O que o torna distinto das outras é o fato de ser a única moeda que não possui o número 5. A moeda é feita inteiramente de níquel e é o segunda moeda de valor monetário mais baixo do Japão, acima apenas da de 1 iene.

Na frente tem o valor da moeda escrito em japonês. O verso é desenhado com um caule de arroz e o ano da cunhagem na parte inferior em japonês. A moeda tem esse design porque acredita-se que o arroz seja uma das mercadorias mais importantes da sociedade japonesa.

*Moeda de 10 ienes (10 円)*

*Nome em japonês: 十円玉 (Jyu En Dama)*



Na de 10 ienes temos o salão da Fênix do templo Byodo-in. Isso porque o salão simboliza poder, modernização e beleza, especialmente na época em que Kyoto era a capital do país.

O verso é projetado com um grande número 10 com hastes de árvores perenes na parte inferior. Esta moeda em particular é feita 97% de cobre. Confira um truque japonês com essa moeda.

*Moeda de 50 ienes (50 円)*

*Nome em japonês: 五十円玉 (Go-jyu En Dama)*



Assim como a moeda de cinco ienes, a moeda de 50 ienes também tem um orifício no centro. É feito de uma mistura de cobre e níquel. A moeda tem um grande número 50 de um lado com o ano de cunhagem escrito na parte inferior.

A moeda foi desenhada com uma imagem de flores de crisântemo, que é o símbolo da realeza no Japão. É também um símbolo de longevidade.

*Moeda de 100 ienes (100 円)*

*Nome em japonês: 百円玉 (Hyaku En Dama)*



Nenhuma das moedas no Japão é feita puramente de prata, já se foram os dias em que as moedas eram feitas de metais preciosos. Em vez disso, a maioria das moedas é feita de cobre e níquel ou a combinação dos dois, como no caso da moeda de 100 ienes.

De um lado temos o número 100 e o ano que foi cunhada na parte inferior. Já no verso temos flores de cerejeira. Para muitos, esta flor é considerada a flor nacional do Japão, além de ter grande importância na cultura japonesa, onde é celebrada através festivais.

*Moeda de 500 ienes (500 円)*

*Nome em japonês: 五百円玉 (Go-hyaku En Dama)*



Essa moeda em particular não só tem o maior valor, mas também o maior diâmetro. Tem uma espessura de 2 mm e um peso equivalente a cerca de duas moedas de um iene. A moeda foi desenhada com cinco pedaços de folhas de bambu, hastes de laranja e a planta Paulownia.

Todos são considerados de grande importância na sociedade japonesa. O bambu é um símbolo de versatilidade, enquanto as árvores Paulownia são consideradas árvores imperiais. A madeira dessas árvores é muito valiosa e é usada para fazer casas, caixas e instrumentos musicais.

<https://www.japaoemfoco.com/conhecendo-as-moedas-japonesas/>

Vamos ver quanto vale Nossa moeda ( valor aproximado):




Agora é com você!

Complete a tabela de acordo com o valor representado

Moeda japonesa	Nosso dinheiro	Escrita do valor correspondente do nosso dinheiro
 <p style="text-align: center;"><u>¥300</u></p>	 <p style="text-align: center;"><u>R\$ 14,10</u></p>	<hr/> <hr/> <hr/> <hr/> <hr/> <hr/> <hr/> <hr/> <hr/> <hr/>
 <p style="text-align: center;">_____</p>		<hr/> <hr/> <hr/> <hr/> <hr/> <hr/> <hr/> <hr/> <hr/> <hr/>



	 <hr/>	
 <hr/>	 <hr/>	<hr/> <hr/> <hr/> <hr/> <hr/> <hr/> <hr/> <hr/>
 <hr/>	 <hr/>	<hr/> <hr/> <hr/> <hr/> <hr/> <hr/> <hr/> <hr/>
		<hr/> <hr/> <hr/> <hr/> <hr/> <hr/>

 <p>_____</p>	 <p>_____</p>	<hr/> <hr/> <hr/>
---	---	-------------------

Ibiúna, 06 de Julho de 2021

Terça-feira

Área da Matemática

QUAL TRABALHO PAGA MAIOR SALÁRIO NO JAPÃO?

**Médicos, professores e advogados possuem um ótimo salário e são empregos que muitos jovens japoneses procuram ao prestar faculdade...**

<b>Trabalho / Emprego / Ocupação</b>	<b>Media de horas por mês</b>
Piloto de aeronave	138
Médico	174
Advogado	178
Professor de faculdade e universidade	159
Jornalista	182
Dentista	172
Contador público	179
Avaliador imobiliário	168
Professor do ensino médio	165
Motorista (trem)	159
Arquiteto de primeira classe	177
Condutor de trem	157
Veterinário	184
Pesquisador científico	165
Engenheiro de sistemas	178
Engenheiro profissional	184
Farmacêutico	171
Clínica de Raio-X	174
Geração ou transformação do trabalhador de eletricidade	178
Vendedor de bilhetes e examinador de bilhetes (comboio)	179
Analista químico	167
Montador de automóveis	180
Consultor de segurança social	170
Professor de escola	171
Estivador	202
Fabricante de chips semicondutores	176
Guindaste	199

Comissário de bordo	151
Desenhador mecânico	192
Vendedor de veículos automóveis	179
Enfermeira profissional	164
Técnico de exame clínico	173
Fundição de metais não-ferrosos	185
Maquinista	185
Fiação de fibras químicas	169
Trabalhador de perfuração	170
Motorista, negócio	208
Química geral	175
Eletricista	189
Trabalhador de têmpera de ferro e aço	185
Extrator de vidro	182
Técnico odontológico	191
Seguradora de seguros	143
Engenheiro	184
Soldador	198
Formador de metais	196
Programador de computador	181
Motorista de caminhão de grande porte, negócios	216
Fabricante de padrão de madeira	181
Canalizador	195
Operador de tornos	203
Máquina, inspecionar, trabalhador	185
Enfermeira auxiliar	165
Trabalhador de ferro	195
Operador de máquinas de construção	188
Reparação automóvel	187

Caldeira	178
Operador de máquina de fresar	203
Trabalhador de galvanoplastia	199
Montador de equipamentos elétricos pesados	184
Designer	175
Montador de máquinas	185
Tutor ou palestrante escolar	178
Trabalhador de chapa metálica	203
Carpinteiro	177
Operador de máquina de prensa de metal	192
Fisioterapeuta ou terapeuta ocupacional	166
Trabalhador do molde plástico	189
Trabalhador de andaime	186
Motorista de caminhão interno	201
Operador de computador eletrônico	169

Construtor de formulários	178
Condutor de caminhão de tamanho pequeno ou regular	215
Polidor	186
Gerente de cuidados	170
Fabricante de recipientes de papel	188
Tecelão	190
Materiais metálicos inspecionando o trabalhador	179
Operador de processador de texto	172
Vendedor de utensílios domésticos	166
Trabalhador siderúrgico	185
Professor de jardim de infância	173
Cerâmica, cerâmica e porcelana	182
• Vigia	175



Recepcionista	175
Marceneiro	186
Montagem de equipamentos de comunicação	181
Vendedor	168
Padeiro, confeitiro	194
Taxista	192
Auxílio de Enfermagem	162
Zelador	171
Garçom e garçonete	187
Barbeiro e Cabeleireiro	185
Caixa, supermercado	177
Lavanderia	184
Cozinheiro	186
Limpeza de escritórios	175
Fabricante de roupas, costura	178

1. Escolha e escreva abaixo 5 profissões e a média de horas recebida por mês.

---

2. Qual dessas profissões que você escolheu recebe mais por mês?

---

3. E qual recebe menos por mês?

---

4. Você achou a profissão de seus pais acima?

---

5. Caso tenha achado escreva abaixo a profissão e a média de horas recebida por mês.

---

---

### O VALOR DO SALÁRIO MÍNIMO ATUAL - ANO DE 2021

O **valor do salário mínimo** corresponde ao menor valor que o empregador pode pagar aos seus funcionários. É estabelecido por lei e válido no País inteiro, seja para trabalhadores urbanos ou rurais. O **salário mínimo atual** é descrito na Constituição Federal de 1988 como a remuneração capaz de atender às necessidades vitais básicas do empregado e às de sua família. Isso inclui moradia, alimentação, saúde, educação, vestuário, higiene, lazer, transporte e previdência social.

O reajuste periódico dele com a finalidade de preservar o poder aquisitivo do cidadão também é previsto na Constituição.

O **novo salário mínimo 2021**, em vigor desde o dia 1 de janeiro, foi fixado em R\$1.100.

<https://www.salariominimo.net.br/>

### VALOR DO SALÁRIO MÍNIMO NO JAPÃO 2021

Assim como já mencionamos neste post, o **salário mínimo Japonês 2021** é calculado por hora e também depende da cidade e do cargo.

A carga horária dos trabalhadores japoneses vai de 600 a 1500 horas semanais. O **valor do salário mínimo 2021** médio do salário no país é de 848 ienes por hora. Mas como já mencionamos, o valor varia de cidade para cidade.

Abaixo, você poderá conferir o salário mínimo atual das principais províncias do Japão:

- **Tóquio:** 958 ienes;
- **Kyoto:** 856 ienes;
- **Osaka:** 909 ienes;
- **Chiba:** 868 ienes;
- **Tottori:** 738 ienes;
- **Wakayama:** 777 ienes;
- **Okayama:** 781 ienes;
- **Hyogo:** 884 ienes;
- **Saga:** 737 ienes;
- **Hiroshima:** 818 ienes;
- **Nagasaki:** 737 ienes;
- **Kumamoto:** 737 ienes.

O iene (¥) é a moeda japonesa. Atualmente, ¥1 (um iene) vale R\$ 0,05 aqui no Brasil. Ou seja, R\$1 vale ¥19,55.

Quando calculamos 22 dias de trabalhos em um mês no Japão, é possível percebermos que lá os trabalhadores recebem 149.248 ienes. Convertendo em real, o salário fica em torno dos R\$7.466,88.

### Salário mínimo no Japão 2021 varia de acordo com idade e sexo

Outro quesito avaliado no Japão em relação ao salário mínimo do país, é a idade e sexo das pessoas. Esse é um ponto que pode influenciar diretamente no salário recebido pelos trabalhadores japoneses.

Mesmo aquelas pessoas quem possuem a mesma faixa etária ou uma idade média parecida, podem receber um salário diferente umas das outras.

Veja a seguir a **tabela do salário mínimo 2021**:

→ **20 anos: ¥3.540 (geral)**, para homens o valor é de **¥3.740** enquanto para mulheres é **¥3.240**;

→ **30 anos: ¥4.670 (geral)**, para homens o valor é de **¥5.010** enquanto para mulheres é **¥3.900**;

→ **a partir dos 40: ¥5.640 (geral)**, para homens o valor é de **¥6.160** enquanto para mulheres é **¥4.250**;

→ **50 anos: ¥7.010 (geral)**, para homens o valor é de **¥7.440** enquanto para mulheres é **¥4.610**.

<https://salariominimo2021.net.br/salario-minimo-no-japao-2021/>

1. Qual o valor do Salário-mínimo atualmente no Brasil?

---

2. Como é calculado o salário mínimo no Japão?

---

---

---

---

3. No Brasil o salário mínimo é calculado de acordo com algumas necessidades vitais básicas. Escreva quais são essas necessidades consideradas como vitais básicas no Brasil.

---

---

---

---

4. Quando calculamos 22 dias de trabalhos em um mês no Japão, é possível percebermos que lá os trabalhadores recebem 149.248 ienes. Quanto seria o do Japão no Brasil fazendo a conversão em reais.

---



- A jornada de trabalho no Japão é bem maior do que a dos brasileiros.
- O custo de vida no país asiático é considerado alto.

### Área de linguagem: Educação Física

1. Monte o jogo de basquete que está no anexo1 e jogue com a sua família: Criem as regras do jogo e registre as pontuações realizadas na aula de matemática
2. Crie manobras utilizando o Skate de dedo e se possível filme e me envie. Desafie alguém de sua família. Use a criatividade.

## ANEXO 1: BASQUETE



<https://i.pinimg.com/564x/da/5f/bb/da5fbbfd592b88411ee642c1aa736cba.jpg>

## ANEXO 2: SKATE DE DEDO



[http://2.bp.blogspot.com/-IEcxPgRtSWQ/TZkiCTUf\\_oI/AAAAAAAAAd4/KxZw1dimFNs/s1600/skatededo.png](http://2.bp.blogspot.com/-IEcxPgRtSWQ/TZkiCTUf_oI/AAAAAAAAAd4/KxZw1dimFNs/s1600/skatededo.png)

Exemplos de pistas construídas:



[https://http2.mlstatic.com/D\\_NQ\\_NP\\_951992-MLB31824210275\\_082019-O.jpg](https://http2.mlstatic.com/D_NQ_NP_951992-MLB31824210275_082019-O.jpg)

Segunda-feira

Área de linguagem: Língua Portuguesa

**Miraitowa e Someity: os mascotes dos Jogos Olímpicos e Paralímpicos de Tóquio 2020**



**Miraitowa**, será o mascote dos Jogos Olímpicos. Esse nome é uma combinação das palavras em japonês “futuro” (mirai) e “eternidade” (towa) e, segundo a organização, “foi escolhido para promover um futuro cheio de esperança eterna nos corações das pessoas em todo o mundo”. A personalidade do personagem foi baseada no provérbio japonês: “aprender com o passado e desenvolver novas ideias”. Dessa forma, o mascote foi pensado para representar tanto a tradição, como as inovações, duas características muito fortes do Japão, que possui uma cultura milenar, mas também é um dos países com maior desenvolvimento tecnológico do mundo.

O superpoder de Miraitowa é o teletransporte, então ele pode ir para qualquer lugar do mundo real ou digital em um instante. Além disso, ele é descrito como alegre, extraordinariamente atlético e tem um forte senso de integridade.

**Someit**, será o mascote oficial dos Jogos Paralímpicos. O nome e a cor rosa da personagem foram inspirados em uma cerejeira chamada someiyoshino, que é bastante comum no Japão. O nome também é uma combinação com a palavra em inglês “so mighty”, que significa “tão poderosa”.

A mascote possui diversos superpoderes, entre eles a telepatia, o poder de voar, a capacidade de mover objetos sem precisar tocá-los e se comunicar com os elementos da natureza. De acordo com a organização, Someity “tem uma presença calma e tranquila, guiada por uma grande força interior, mas pode exibir superpoderes que personificam a tenacidade e a determinação dos atletas paraolímpicos”, mostrando grande força mental e física.



1. A personalidade do personagem **Miraitowa** foi baseada no provérbio japonês: “aprender com o passado e desenvolver novas ideias”. Converse com a sua família sobre este provérbio e escreva o que podemos aprender com o passado.

---

---

---

---



2. **Someit** representa a Flor de Cerejeira que **significa** a beleza feminina e simboliza o amor, a felicidade, a renovação e a esperança. Escreva uma frase de esperança para dias melhores, pós Pandemia.

---

---

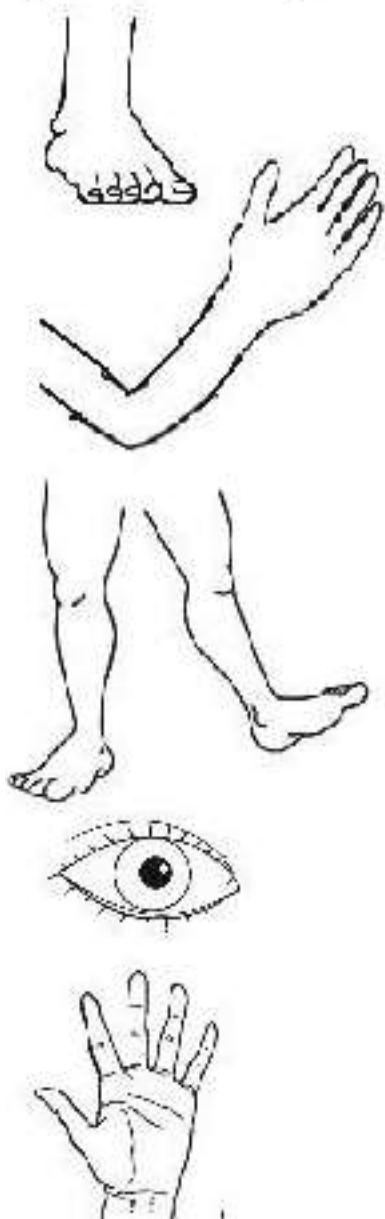
---

---

---

Área de Ciências da Natureza: Ciências

Ligar a parte do corpo humano que é responsável por cada esporte: (Pode repetir)



<https://i.pinimg.com/474x/60/76/80/6076801fc14913abe6855de8235bc0c2.jpg>

RESOLVA AS ADIÇÕES:

$$\begin{array}{|c|} \hline 3 \\ \hline \end{array} + \begin{array}{|c|} \hline 27 \\ \hline \end{array} = \square$$

$$\begin{array}{|c|} \hline 14 \\ \hline \end{array} + \begin{array}{|c|} \hline 17 \\ \hline \end{array} = \square$$

$$\begin{array}{|c|} \hline 12 \\ \hline \end{array} + \begin{array}{|c|} \hline 18 \\ \hline \end{array} = \square$$



## Terça-feira

### Área da Matemática

#### 1. Jogo de Basquete realizado com a família

JOGADOR	1ª PARTIDA	2ª PARTIDA	TOTAL DE PARTIDAS DE CADA JOGADOR
TOTAL DE PONTOS DE CADA PARTIDA			

- 1- QUEM FEZ MAIS PONTOS NA 1ª PARTIDA? \_\_\_\_\_
- 2- QUEM FEZ MAIS PONTOS NA 2ª PARTIDA? \_\_\_\_\_
- 3- QUEM OBTIVE O MAIOR NÚMEROS DE PONTOS NAS DUAS PARTIDAS? \_\_\_\_\_
- 4- HOUVE EMPATE NO TOTAL DE PONTOS DAS DUAS PARTIDAS? \_\_\_\_\_
- 5- QUANTOS PONTOS BIA FEZ NA SEGUNDA PARTIDA? \_\_\_\_\_
- 6- QUANTOS PONTOS A TURMA FEZ NA 1ª PARTIDA? \_\_\_\_\_
- 7- QUANTOS PONTOS A TURMA FEZ NA 2ª PARTIDA? \_\_\_\_\_
- 8- EM QUE PARTIDA A TURMA TEVE O MELHOR DESEMPENHO? \_\_\_\_\_
- 9- QUANTOS PONTOS LAURA FEZ A MAIS QUE PEDRO NAS DUAS PARTIDAS JUNTOS? \_\_\_\_\_

<https://i.pinimg.com/originals/7a/0a/bf/7a0abfc3d0c1e375752126b23a5156d6.jpg>

### Área de linguagem: Língua Portuguesa

Confira, a seguir, uma lista com todas as modalidades das Olimpíadas de Tóquio 2021:

1. Basquete.
2. Basquete 3 x 3
3. Tiro com arco
4. Ginástica artística
5. Nado artístico
6. Atletismo
7. Badminton
8. Baseball e softball
9. Vôlei de praia
10. Boxe

11. Canoagem Slalom
12. Canoagem velocidade (sprint)
13. Ciclismo BMX corrida
14. Ciclismo BMX Freestyle
15. Ciclismo - mountain bike
16. Ciclismo de estrada
17. Ciclismo de pista
18. Saltos ornamentais
19. Hipismo
20. Esgrima
21. Futebol
22. Golfe
23. Handebol
24. Hóquei na grama
25. Judô
26. Karatê
27. Maratona aquática
28. Pentatlo moderno
29. Ginástica rítmica
30. Remo
31. Rugby
32. Vela
33. Tiro
34. Skate
35. Escalada
36. Surfe
37. Natação
38. Tênis de mesa
39. Taekwondo
40. Tênis
41. Ginástica de trampolim
42. Triatlo
43. Vôlei
44. Polo aquático
45. Halterofilismo
46. Luta

1. Coloque as modalidades descritas acima em ordem alfabética

1-	14-	27-
2-	15-	28-
3-	16-	29-
4-	17-	30-
5-	18-	31-
6-	19-	32-
7-	20-	33-
8-	21-	44-
9-	22-	35-
10-	23-	36-
11-	24-	37-
12-	25-	38-
13-	26-	39-

40-	43-	46-
41-	44-	
42-	45-	

## Área de linguagem: Educação Física

### ANEXO 3: TETRIS



Qual é o objetivo do jogo Tetris?

Montar um quebra-cabeça encaixando peças de diferentes formatos capazes de girar sobre o próprio eixo em apenas quatro posições diferentes.

Você deverá junto com a sua família pegar a caixa de ovo em anexo, pintar, recortar de diversas maneiras, construindo o seu jogo. Em seguida convide a sua família para jogar.

Ibiúna, 21 de Julho de 2021

Quarta-feira

## Área de linguagem: Língua Portuguesa

FORME AS PALAVRAS RELACIONADAS AOS JOGOS OLÍMPICOS

S E A	T K	<input type="text"/>
-------------	--------	----------------------

O M	E R	<input type="text"/>
--------	--------	----------------------

T O	I R	<input type="text"/>
--------	--------	----------------------

E F	G L	<input type="text"/>
--------	--------	----------------------





## Área de ciências Humana: História

Leia:

### História das Olimpíadas

O grau mais alto das competições esportivas são as Olimpíadas, que acontecem a cada quatro anos.

Em 2004, esse grande evento foi sediado na cidade grega de Atenas. E por que isso é interessante? Porque a Grécia é o berço dos jogos. Na Idade Antiga, por volta de 776 antes de Cristo, as cidades-estado gregas se reuniam para competir, sempre no vilarejo de Olímpia.

Durante as Olimpíadas, as pessoas até faziam as pazes, dando uma trégua às guerras. Uma das finalidades dos jogos era homenagear Zeus, a maior divindade do Olimpo. As vitórias nas competições rendiam honras e glórias aos atletas e às cidades. No entanto, com a invasão romana, os jogos entraram em decadência e, em 394 depois de Cristo, deixaram de ser disputados. Assim, a celebração olímpica ficou sem ser realizada por 1500 anos!

E só em 1894, graças aos esforços do esportista francês Barão Pierre de Coubertin, a ideia de se fazer uma competição esportiva internacional foi retomada. Para organizar as Olimpíadas, foi criado, então, no mesmo ano, o Comitê Olímpico Internacional (COI). Em 1896, a primeira edição dos jogos da Era Moderna foi em Atenas.

Disponível em: <"plenarinho.leg.br – Câmara dos Deputados">.

**Questão 1** – Identifique o tema do texto:

- a) a origem das Olimpíadas.
- b) os jogos da Era Moderna.
- c) a história das Olimpíadas.
- d) as finalidades das Olimpíadas.

**Questão 2** – De acordo com o texto, as Olimpíadas surgiram na cidade de:

- a) Atenas
- b) Olímpia
- c) Roma
- d) Paris

## Área da Matemática

Veja o calendário abaixo e complete-o seguindo os comandos:

Mês de _____						
DOM	SEG	TER	QUA	QUI	SEX	SÁB

- 1º) Escreva o nome do mês atual;
- 2º) Escreva os números dos dias nos quadradinhos;
- 3º) Desenhe um bolo ou outro símbolo nos dias de aniversário de seus colegas de turma;
- 4º) Faça também outros símbolos para representar as datas comemorativas;
- 5º) Pinte de azul o dia de hoje;
- 6º) Pinte de amarelo a 1º segunda-feira do mês;
- 7º) Pinte de verde o último sábado.



Ibiúna, 22 de Julho de 2021

Quinta-feira

Área de linguagem: Arte



<https://i.pinimg.com/564x/cf/fa/f5/cffaf58c69fc700255ba93a4c455f468.jpg>

## Área de linguagem: Língua Portuguesa



Yoshioka disse que, quando trabalhou na confecção do símbolo, pensou nas pessoas afetadas pelo desastre, na recuperação mental e no desejo de paz. Segundo ele, a tocha foi projetada para brilhar com a luz do sol. De acordo com o designer, a expectativa é que os atletas que farão o revezamento da tocha "brilhem e criem um caminho de esperança" por onde passarem.

1. Converse com a sua família sobre o texto e escreva o que mais chamou a atenção de vocês.

---

---

---

---

## Área da Matemática

### Descobrimo o dobro

Complete a tabela e descubra o DOBRO dos números de 1 até 10:

	1	2	3	4	5	6	7	8	9	10
ADICIONAR O NÚMERO DUAS VEZES	1+1	2+2	3+3							
DOBRO	2	4								


Ibiúna, 23 de Julho de 2021

Sexta-feira

Área de ciências Humana: Geografia



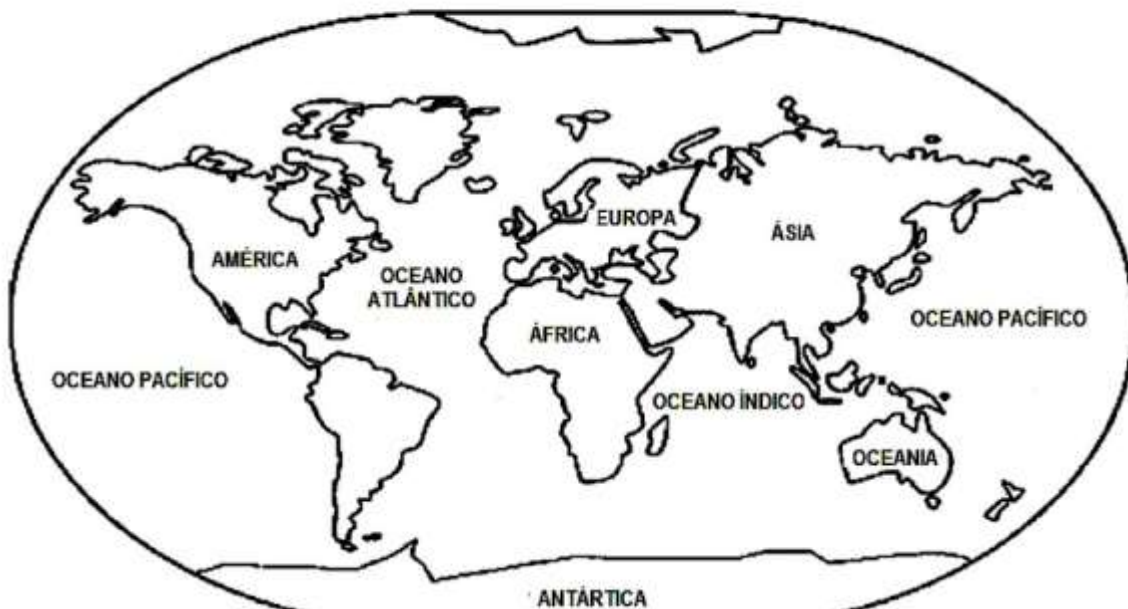
## ANÉIS OLÍMPICOS



O símbolo dos Jogos Olímpicos é composto por cinco anéis entrelaçados, com as cores azul, amarelo, preto, verde e vermelho sobre um fundo branco. Esses cinco anéis representam as cinco partes do mundo, que agora são conquistados para Olimpismo e dispostas a aceitar uma concorrência saudável, dessa forma, além de simbolizar a união dos cinco continentes, integra todos os países, fornecendo um sentido universal para as Olimpíadas. Cada anel representa um continente, sendo o anel azul correspondente a Europa, o anel amarelo a Ásia, o preto a África, o verde a Oceania e o vermelho a América.

<https://i.pinimg.com/564x/71/0a/7a/710a7abd1938ad00d4ba623e2f13f592.jpg>

1. Pinte de acordo com os anéis olímpico





Mistura de Alegria



# CAÇA-PALAVRAS



Q	A	W	F	I	B	E	T	E	U	Q	S	A	B
N	T	O	U	V	G	B	Ê	Ç	L	P	H	Z	C
A	R	A	T	H	A	U	N	X	K	R	O	M	B
X	I	X	E	L	E	J	I	F	A	E	E	H	S
H	A	I	B	K	I	A	S	W	B	G	B	M	A
A	T	E	O	B	W	Z	R	I	A	O	A	U	O
N	L	Y	L	W	U	O	M	O	R	L	D	E	M
D	O	T	Ç	Y	N	R	N	V	T	F	M	T	S
E	S	G	R	I	M	A	R	D	I	E	I	Y	I
B	F	B	P	Y	C	P	T	B	O	N	N	U	L
O	A	O	B	O	K	E	A	A	G	A	T	B	C
L	Q	G	W	B	X	O	Z	N	Ç	S	O	N	I
J	U	D	Ô	O	M	L	X	M	F	Ã	N	X	C
R	X	Z	B	K	H	I	P	I	S	M	O	E	X

BASQUETE - HIPISMO - NATAÇÃO - TÊNIS - ESGRIMA -

TAEKWONDO - CICLISMO - GOLFE - FUTEBOL - REMO -

CANOAGEM - RUGBY - HANDEBOL - JUDÔ - TRIATLO -

BOXE - BADMINTON -



## VALOR POSICIONAL

<b>123</b>	C	D	U	1 CENTENA 2 DEZENAS 3 UNIDADES	100 + 20 + 3
	1	2	3		

<b>238</b>	C	D	U	_____	
				_____	

<b>357</b>	C	D	U	_____	
				_____	

<b>426</b>	C	D	U	_____	
				_____	

<b>579</b>	C	D	U	_____	
				_____	

<b>692</b>	C	D	U	_____	
				_____	

<b>781</b>	C	D	U	_____	
				_____	

@DIARIODATIAMARI



Segunda-feira

Área de linguagem: Língua Portuguesa

**ESPORTE É VIDA!**

VIDA E ESPORTE  
ESTÃO MUITO LIGADOS  
PARA JOVENS E ADULTOS  
EM QUALQUER IDADE.

ESPORTE COM BOLA É SENSACIONAL!  
VÔLEI, BASQUETE, TÊNIS,  
HANDEBOL E FUTEBOL.

JUDÔ E KARATÊ  
SÃO ESPORTES DE LUTA.  
MUSCULAÇÃO E NATAÇÃO  
MELHORAM NOSSA RESPIRAÇÃO.

NÃO PRECISA SER ATLETA  
PARA DELES PARTICIPAR.  
BASTA APENAS SER ESPERTO  
PARA UM DELES PRATICAR!

Regina C. Vilaça Lima



LIGUE-SE NESTA!

- 1) Circule, no poema, palavras com a letra **E** no início e no meio delas.
- 2) Escreva, no quadro correspondente, três palavras que você circulouse.

DISSÍLABA	TRISSÍLABA	POLISSÍLABA

<https://i.pinimg.com/564x/ea/fe/4c/eafe4ce54e054928b92612fac6fd91e2.jpg>

Área de Ciências da Natureza: Ciências

- 1. Faça uma lista dos benefícios que o esporte pode trazer a nossa saúde.

---

---

---




---

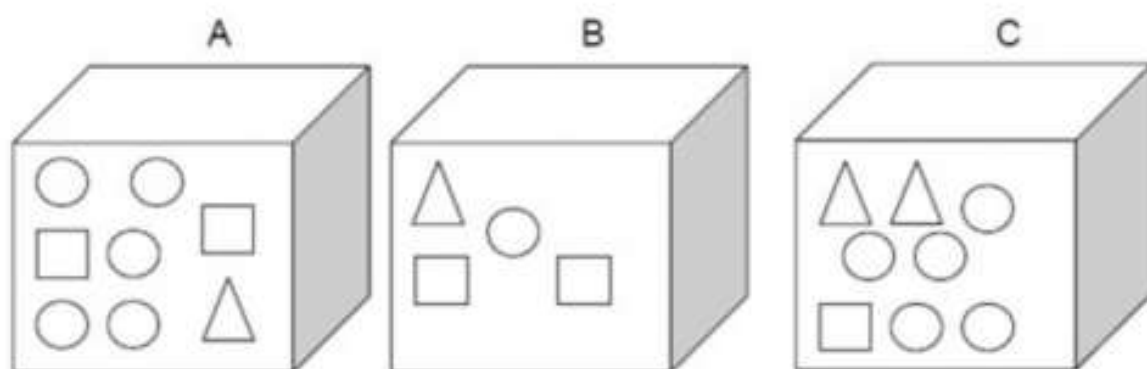
---

---

## Área da Matemática

Para descobrir veja o peso de cada objeto.

10 quilos	
1 quilo	
5 quilos	



EducacaoeTransformacao.com.br

Terça-feira

Área da Matemática

NOME:

Atividades Suzano!

Vamos retomar nossa Tábua de Pitágoras?

Primeiro, preencha os quadrinhos verdes. Depois, os de cor lilás. Finalmente, os brancos.



X	1	2	3	4	5	6	7	8	9
1	1	2	3	4	5	6	7	8	9
2	2	4	6	8	10	12	14	16	18
3	3	6		12				24	
4	4	8	12	16	20	24	28	32	36
5	5	10		20				40	
6	6	12		24				48	
7	7	14		28				56	
8	8	16	24	32	40	48	56	64	72
9	9	18		36				72	

O que há de curioso no resultado das multiplicações de um número por 5?

Sabendo que o resultado de "7 x 8" é 56, é possível dizer o resultado de "8 x 7"?

Isso acontece em outros casos? Cite três situações.

# RELACIONE



www.smartkids.com.br

Ligue cada personagem ao esporte que pratica:

a.



1. CORRIDA DE OBSTÁCULOS

b.



2. FUTEBOL

c.



3. NATAÇÃO

d.



4. GINÁSTICA OLÍMPICA

## Área de linguagem: Educação Física

1. Reúna a família e vamos brincar de tênis de mesa.



Ibiúna, 28 de Julho de 2021

Quarta-feira

## Área de linguagem: Língua Portuguesa

# TRIATLO


"NADAR... PEDALAR... E AINDA CORRER... UFAI!"

TRIATLO É UM ESPORTE QUE REÚNE TRÊS MODALIDADES ESPORTIVAS. VAMOS COMPLETAR O NOME DE CADA UMA DELAS, USANDO SOMENTE VOGAIS.

N    T    Ç    ~  
\_    \_    \_    \_

C    C    L    S    M  
\_    \_    \_    \_    \_

C    R    R    D  
\_    \_    \_    \_



<https://i.pinimg.com/564x/2a/a3/46/2aa34614c6421deb84473e61c4ddc6fa.jpg>

# 10 anos de Fukushima: o dia em que o Japão foi atingido por terremoto, tsunami e o acidente nuclear

## O grande terremoto

O dia 11 de março de 2011, uma sexta-feira, dificilmente será esquecido pelos japoneses. Às 14h46, horário local, num ponto do Oceano Pacífico a 130 quilômetros ao leste da cidade de Sendai, um terremoto não apenas sacudiu como também deslocou o Japão. Com 9 graus de magnitude, o "Grande Terremoto do Leste do Japão" — também conhecido como "Grande Terremoto de Sendai" ou apenas "Terremoto de Tohoku" —, o maior já registrado no país, empurrou em 2,4 metros para leste a ilha de Honshu, a maior do Japão.

## O tsunami

O Japão já conhecia muito bem os tsunamis — a palavra é japonesa, formada pela união de "tsu", que significa "porto", e "nami", que significa "onda". O Serviço Nacional Oceânico dos Estados Unidos define o fenômeno tsunami como "uma série de ondas gigantes causadas por terremotos ou erupções vulcânicas sob o mar"

## O acidente nuclear

As terríveis imagens que chegavam do Japão geraram solidariedade internacional, com líderes do mundo todo expressando apoio e anunciando ajuda aos japoneses. Depois do terremoto e do tsunami, a tragédia ainda teria, porém, um terceiro capítulo.

Já no dia 11, pouco depois do tsunami, surgiram as primeiras preocupações com duas usinas nucleares no leste do país, próximas ao epicentro do terremoto: Onagawa, na província de Miyagi, e Fukushima Daiishi, na província de Fukushima. Em Onagawa, a usina mais próxima do epicentro do terremoto, um incêndio começou no salão de turbinas, uma área separada do reator, mas foi rapidamente apagado. Em Fukushima, a situação seria bem mais grave.

<https://www.bbc.com/portuguese/internacional-55943220>



# FICHAS SOBREPOSTAS

UTILIZANDO AS FICHAS SOBREPOSTAS, FORME OS SEGUINTE NÚMERO E DEPOIS DESENHE AO LADO AS FICHAS CONFORME O MODELO APRESENTADO:



- A) CINQUENTA E SETE
- B) OITENTA E OITO
- C) CENTO E QUARENTA E DOIS
- D) QUINHENTOS E CINCO
- E) SETECENTOS E SETENTA E SETE
- F) MIL, DUZENTOS E TRINTA E QUATRO
- G) MIL, QUATROCENTOS E UM
- H) MIL, CENTO E ONZE

2) RESPONDA:

A) COM AS FICHAS 

9	0	4
---	---	---

, LAURA FORMOU O NÚMERO NOVECENTOS E QUATRO. ESTÁ CORRETO? SE NÃO, QUAL É O ERRO?

\_\_\_\_\_

B) PEDI PARA O CRISTIANO FORMAR O NÚMERO OITENTA E SEIS E ELE USOU AS FICHAS 

8	6
---	---

. ELE ESTÁ CORRETO? SE NÃO, QUAL É O ERRO?

\_\_\_\_\_

Quinta-feira

Área de linguagem: Arte

1. Use a sua criatividade e faça Tocha olímpica tokyo 2021

Área de linguagem: Língua Portuguesa



ARGOLAS	BASQUETE	TIRO AO ALVO	ESGRIMA
TÊNIS	JUDÔ	SALTO COM VARA	BOXE
CICLISMO	ATLETISMO	FUTEBOL	VÔLEI
VELA	NATAÇÃO	ARREMESSO DE DISCO	
LEVANTAMENTO DE PESO			

Área da Matemática

1. Escreva os números por extenso e coloque -os no quadro posicional. 100 a 200

NÚMEROS	POR EXTENSO	C	D	U
101				
111				
123				
134				
138				
140				
157				
167				
183				
165				
172				
188				
193				
200				

Sexta-feira

Área de ciências Humana: Geografia

## Brasil e Japão

O Brasil possui a maior colônia japonesa fora do Japão. Atualmente, vivem 1,5 milhões de japoneses e descendentes no país.

A imigração começou oficialmente em 1908 quando o primeiro navio vindo do Japão atracou em Santos/SP. Os japoneses se dedicaram ao cultivo de tomate, café, frutas e, posteriormente, foram para as cidades maiores.

O bairro da Liberdade, em São Paulo, é mais tradicional bairro japonês do país. Contudo, também encontramos japoneses no interior do Rio de Janeiro, Minas Gerais e no Pará.

Para celebrar estes acontecimentos várias cidades como o Distrito Federal e Belo Horizonte organizam anualmente festivais sobre o Japão.


Área de linguagem: Língua Portuguesa

CIRCULE A PALAVRAS DE ACORDO COM O NOME DE CADA FIGURA:

	PAPÉIS PASTÉIS ANÉIS		ARMÁRIO ARCO ARGOLA
	ARTE ARCO ARGOLA		BINGO BICICLETA BISTECA
	ALVO ALMA ALTO		BOLA BOTA BOCA
	PALITO APITO BONITO		BRAVO BRASA BRASIL
	ATLETA ATLAS ATLÉTICO		BASTÃO BASQUETE BARCO

**Responda das perguntas utilizando o banco de palavras:**

- 1 – A PRIMEIRA OLIMPÍADA ACONTECEU NA \_\_\_\_\_.
- 2 – O PRIMEIRO COLOCADO RECEBE A MEDALHA DE \_\_\_\_\_.
- 3 – A \_\_\_\_\_ FICA ACESA DURANTE TODA A DISPUTA DAS OLIMPÍADAS.
- 4 – O TERCEIRO COLOCADO RECEBE A MEDALHA DE \_\_\_\_\_.
- 5 – A OLIMPÍADA DE 2021 ACONTECERÁ NO \_\_\_\_\_.
- 6 – O ESPORTE EM QUE OS ATLETAS UTILIZAM UMA BICICLETA É O \_\_\_\_\_.
- 7 – O SEGUNDO COLOCADO RECEBE A MEDALHA DE \_\_\_\_\_.
- 8 – O ESPORTE EM QUE OS ATLETAS UTILIZAM UMA RAQUETE É O \_\_\_\_\_.
- 9 – A DISPUTA DA MARATONA FAZ PARTE DO \_\_\_\_\_.
- 10 – O ESPORTE EM QUE UMA REDE DIVIDE AS EQUIPES É O \_\_\_\_\_.

JAPÃO		ATLETISMO
TÊNIS		VOLEIBOL
TOCHA		OURO
GRÉCIA		PRATA
CICLISMO		BRONZE



## FICHA DE CÁLCULO MENTAL

$220 + 40 =$ <input type="text"/>		$235 + 40 =$ <input type="text"/>
$340 + 50 =$ <input type="text"/>		$340 + 55 =$ <input type="text"/>
$410 + 60 =$ <input type="text"/>		$430 + 12 =$ <input type="text"/>
$520 + 70 =$ <input type="text"/>		$550 + 33 =$ <input type="text"/>
$610 + 80 =$ <input type="text"/>		$625 + 40 =$ <input type="text"/>

$240 - 10 =$ <input type="text"/>		$225 - 25 =$ <input type="text"/>
$340 - 20 =$ <input type="text"/>		$345 - 30 =$ <input type="text"/>
$450 - 30 =$ <input type="text"/>		$435 - 10 =$ <input type="text"/>
$550 - 40 =$ <input type="text"/>		$555 + 50 =$ <input type="text"/>
$670 - 50 =$ <input type="text"/>		$645 - 40 =$ <input type="text"/>

$7 \times 4 =$ <input type="text"/>		$3 \times 4 =$ <input type="text"/>
$3 \times 0 =$ <input type="text"/>		$4 \times 5 =$ <input type="text"/>
$4 \times 7 =$ <input type="text"/>		$4 \times 2 =$ <input type="text"/>
$3 \times 6 =$ <input type="text"/>		$5 \times 3 =$ <input type="text"/>
$7 \times 2 =$ <input type="text"/>		$6 \times 4 =$ <input type="text"/>

$2 \times 4 =$ <input type="text"/>		$5 \times 4 =$ <input type="text"/>
$4 \times 5 =$ <input type="text"/>		$7 \times 5 =$ <input type="text"/>
$1 \times 7 =$ <input type="text"/>		$8 \times 2 =$ <input type="text"/>
$5 \times 8 =$ <input type="text"/>		$9 \times 3 =$ <input type="text"/>
$7 \times 2 =$ <input type="text"/>		$6 \times 7 =$ <input type="text"/>



Segunda-feira

Área de linguagem: Língua Portuguesa

CIRCULE A PALAVRAS DE ACORDO COM O NOME DE CADA FIGURA:

	QUATRO QUADRA QUARTO		TINTA TIRO TITIA
	RAQUEL ROQUE RAQUETE		UNIFORME UNIDADE UNIÃO
	REMO REDE REI		VELOZ VALE VELEIRO
	TEIMA TÊNIS TENSÃO		TOCHA TOCA TOM
	SALADA SAUDADE SALTO		ZANGÃO ZAGUEIRO ZANGADO

<https://aprenda-muito.blogspot.com/2016/06/atividades-sobre-olimpiadas-2016.html>

Área de Ciências da Natureza: Ciências

1. Faça uma lista das vacinas que estão disponíveis no Brasil

---

---

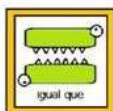
---

---

---

## Área da Matemática

### Comparamos números



356	366
161	123
350	328
421	421
227	350
459	470
521	499
228	228
93	56
121	158

382	483
356	356
111	112
58	70
100	99
50	50
546	497
246	146
42	63
300	300

[liveworksheets.com](http://liveworksheets.com)

Ibiúna, 03 de Agosto de 2021

Terça-feira

## Área da Matemática

Completa las siguientes series numéricas:



fichasdematematicas.com



## FORME AS PALAVRAS



GOL + FE =



HAN + DE + BOL =



HÓ + QUEI =



JU + DÔ =



KA + RA + TÊ =



MA + RA + TO + NA =



RE + MO =

1. Vamos jogar Badminton ( Raquete e peteca de jornal)



Ibiúna, 04 de Agosto de 2021

### Quarta-feira

### Área de linguagem: Língua Portuguesa

Construir um cartão para o dia dos pais com a folha de desenho que está dentro da sacola. Escrever uma linda mensagem.

### Área de ciências Humana: História

1. Converse com sua família sobre fatos que marcaram a história das Olimpíadas, escreva abaixo.

---

---

---

---

---

### Área da Matemática

#### BRINCANDO COM O CÁLCULO MENTAL

1. COMPLETE A TABELA ABAIXO REALIZANDO O CÁLCULO MENTAL COM AS OPERAÇÕES INDICADAS. DEPOIS COMPARE OS RESULTADOS COM OS DE UM COLEGA, DISCUTINDO AS DIFERENÇAS, SE HOVER.

+	0	1	2	4	8	10	22
5	5	6	7				
8							
10				14			
12						22	
20							
22							44

-	0	1	2	5	8	10	22
40							
21							
30							
20							
50							
25							


<https://i.ytimg.com/vi/3N86nzEHCF4/maxresdefault.jpg>

Quinta-feira

Área de linguagem: Arte

O origami do tsuru simboliza o desejo de saúde, felicidade e boa sorte. A escolha da Minuto Seguros por tê-lo como seu logotipo se dá, principalmente, pelo significado e mensagem de esperança e paz, além de reforçar a nossa crença de que “as pessoas do bem são a maioria”. A técnica oriental milenar de dobradura do papel, que não usa cola ou qualquer outro artifício, apenas habilidade, delicadeza e dedicação, remete aos valores que cultivamos na Minuto Seguros:

Conhecimento para ajudarmos você na escolha do melhor seguro. Comprometimento para que você se sinta totalmente tranquilo e tenha conosco uma relação de total confiança. E paixão em cada ação, pois com ela transmitimos o carinho, o cuidado e o prazer que temos em atendê-lo. O tsuru simboliza a nossa preocupação em fazer bem feito, porque exprime a capacidade humana de personalizar uma simples dobradura de papel, conferindo-lhe beleza e significado. Conte com a gente! Navegue pelo site, conheça nossos valores e conte conosco para proteger suas conquistas.





## Área de linguagem: Língua Portuguesa


Observe as imagens abaixo, escolha uma modalidade esportiva e faça uma frase.




## Área da Matemática

### MULTIPLICANDO NA MALHA


$4 \times 3 =$




$5 \times 5 =$




$2 \times 3 =$




$3 \times 5 =$




$4 \times 6 =$




$2 \times 2 =$




$3 \times 3 =$




$5 \times 2 =$




$3 \times 6 =$




$4 \times 2 =$



$6 \times 5 =$



$5 \times 5 =$



[www.amorensina.com.br](http://www.amorensina.com.br) - Todos os direitos reservados ©

Ibiúna, 06 de Agosto de 2021

Sexta-feira

Área de ciências Humana: Geografia



Costumes japoneses: dicas de etiqueta no Japão

### 1. Tirar o sapato

Essa todo mundo sabe: tirar o sapato ao entrar na casa de um japonês é de lei. Em outros locais públicos como templos e restaurantes também é comum.

### 2. Comer com hashi

Ninguém é obrigado a saber comer com hashi (os populares “pauzinhos”). Não se acanhe de pedir garfo e faca.

Um bentô que comprei em uma estação de trem. Esse aí era de carne empanada, arroz, legumes e um omelete típico do Japão, chamado tamagoyaki (que é bom demais). Tudo para comer com hashi.

No entanto, se for comer com hashi, faça direito. Nada de espetar a comida com o hashi, igual palito! Nem usar para ficar apontando.

### 3. No metrô ou trem

Observar na estação a marcação no chão que indica o sentido que você deve caminhar. Sim! Você imagina como são cheias as estações e para tudo funcionar direitinho e organizado há setas mostrando por onde andar e em que sentido. Obedeça!

Já ao embarcar no trem os costumes japoneses são: esperar os passageiros primeiro desembarcarem, aguardando em fila na plataforma ao lado da porta para liberar a passagem; só então embarcar.

### 4. Ceder o assento não faz parte dos costumes japoneses

Não existe o hábito de ceder o lugar para idosos, gestantes e etc., como aqui no Brasil.

Há lugares marcados para prioridades e que devem ser respeitados. E só.

### 5. Falar no celular ou conversar alto em público

Nãaaaao! Esse é um dos costumes japoneses ensinados nas escolas desde cedo.

Há cartazes nos transportes públicos indicando que não se deve atender o celular nem deixá-lo tocar. Todo mundo no modo silencioso! Em restaurantes idem.

Conversar sempre em tom baixo. Se atender o celular é comum sair do estabelecimento para falar.

Enfim, silêncio! A cultura no Japão gira em torno do respeito ao coletivo.

### 6. Como cumprimentar

Nada de ficar apertando mão e, muito menos, abraçar e beijar.

Curvar levemente o tronco e a cabeça (cerca de 15 graus) e dizer um oi.

Se o seu interlocutor fizer algum contato mais físico, corresponda com moderação. Os japoneses definitivamente não são chegados a contato físico.

### 7. Beijos em público e os costumes japoneses

Nessa mesma linha, evite trocar beijos e abraços em público. Não é de bom tom.

### 8. Gorjeta

Não dê gorjeta em restaurante, hotel e outros estabelecimentos. É considerado ofensivo, porque o japonês há o prazer (ou dever?) de servir.

Dar gorjeta significa desprestigiar ou desonrar o trabalho.

### 9. Limpar a mão antes da refeição

Em todo o restaurante será oferecida uma toalha quente ou um lenço úmido para limpeza das mãos.

Mesmo quando pedir uma comida para viagem você receberá um lencinho junto com os talheres.

Essa é a dica de etiqueta no Japão que mais gostei!! Me acostumei tanto com isso que senti muuuuita falta quando voltei para o Brasil.

#### 10. Pagar compras: atenção para costumes japoneses

Ao pagar uma compra esses são os costumes japoneses: (1) coloque o dinheiro ou cartão em uma bandeja que estará ao lado do caixa; (2) o cartão ou troco será devolvido pelo atendente ali; e (3) se receber troco em dinheiro não confira na frente do atendente.

Conferir troco é considerado muito (muito mesmo!) grosseiro.

Aliás, falando sobre compras, veja a minha experiência na Loja da Hello Kitty de Tóquio. Loja da Hello Kitty no bairro de Ginza em Tóquio.

#### 11. Pagamento dos restaurantes

O habitual é receber a conta na mesa e fazer o pagamento na saída, no caixa.

Por questão higiênica, não se mistura dinheiro com o local da refeição.

#### 12. Banheiro

Há dois extremos: assentos sanitários mega tecnológicos ou sem assento (chamado aqui de pocotó ou motoquinha, basicamente um buraco no chão).

Pois é! Há vasos que tocam música, possuem vários tipos de esguichos de água,

esquentam o assento... Queria trazer um para casa! Me diverti muito fuxicando. Quando encontrei um desses na Japan House em São Paulo rolou uma lágrima rsrs. O estilo oriental (sem assento) está nos costumes japoneses porque, na visão deles, seria mais higiênico. Eu levei um susto quando vi na primeira vez!

Em um banheiro público costuma haver indicação na porta da cabine sobre o tipo de assento sanitário. Se oriental ou ocidental. Em hotel não terá essa "surpresa".

#### 13. Toalhinha pessoal

Nos banheiros públicos é comum não encontrar papel para secar a mão. Um dos costumes japoneses é cada um levar na bolsa uma toalhinha para secar as mãos.

As toalhinhas são lindas e você encontra em todo lugar.

#### 14. Cigarro e costumes japoneses

Nas regras de etiqueta no Japão, andar na rua fumando é considerando grosseiro.

Por outro lado, tive a experiência de hotéis onde não havia distinção de quarto de fumante e não-fumante. Foi brabo!!

#### 15. No táxi

Não bater a porta do carro. O táxi possui uma porta automática que abre e fecha sob o comando do motorista.

Táxi em Tóquio. foto: Pixabay


#### 16. Tossir e assoar o nariz

Você verá muitas pessoas andando de máscara na rua. Não para se proteger, mas para proteger as pessoas a seu redor.

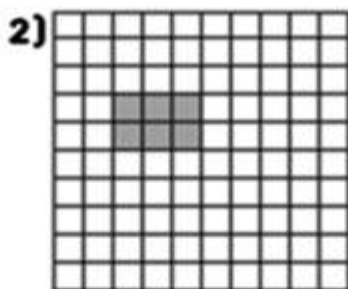
Além de uma questão cultural há o aspecto de que, por respeito ao próximo, não se deve tossir ou assoar o nariz em público.




Registre as multiplicações representadas nas malhas.




\_\_\_ x \_\_\_ = \_\_\_




\_\_\_ x \_\_\_ = \_\_\_



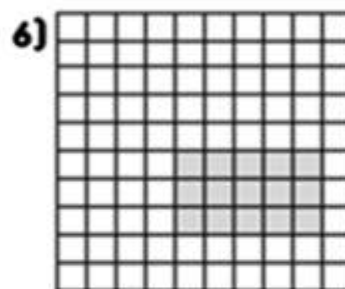
\_\_\_ x \_\_\_ = \_\_\_




\_\_\_ x \_\_\_ = \_\_\_




\_\_\_ x \_\_\_ = \_\_\_




\_\_\_ x \_\_\_ = \_\_\_



\_\_\_ x \_\_\_ = \_\_\_



\_\_\_ x \_\_\_ = \_\_\_



\_\_\_ x \_\_\_ = \_\_\_






Nome \_\_\_\_\_

ÁLBUM



DAS

OLIMPIADAS



[www.espacoeducar.net](http://www.espacoeducar.net)



# ÁLBUM - DAS OLIMPIADAS

1

Representam os cinco continentes

2

Tem um fundo branco, com cinco anéis entrelaçados no centro.

3

O objetivo deste esporte é rebater a bola para a quadra adversária com a raquete.

4

A chama que não pode ser apagada!

5

Esporte onde os lutadores usam os punhos para defesa e ataque.

6

Esse esporte também é conhecido como bola ao cesto

7

Os competidores usam caiaques ou canoas, neste esporte.

8

Esporte composto por corridas, lançamentos e saltos.

9

Os competidores neste esporte, jogam uma espécie de peteca, com uma raquete.

1

# ÁLBUM - DAS OLIMPIADAS

10

Neste esporte o objetivo é fazer o gol, colocando a bola na rede do adversário.

11

É uma arte marcial de origem japonesa.

12

É a arte de lutar utilizando armas brancas ou espadas.

13

Esporte no qual os competidores usam bicicletas.

14

A meta deste jogo é fazer com que a bola entre nos buracos, usando um taco.

15

Os competidores deste esporte levantam peso.

16

É um conjunto de esportes praticados a cavalo.

17

Praticado no gelo ou na grama, as equipes impulsionam um disco ou uma bola com um taco.

18

É o esporte onde os competidores nadam.

2

# ÁLBUM - DAS OLIMPIADAS

19

Também chamado de iatismo é o esporte que envolve barcos movidos exclusivamente por propulsão à vela,

20

É o esporte praticado em uma quadra dividida por uma rede.

21

Prova que reúne três modalidades: Natação, corrida e ciclismo.

22

Acertar um alvo usando arco e flecha é um tipo de esporte olímpico.

23

Esse esporte utiliza arma para acertar um alvo.

24

É também uma arte marcial.

25

É composto por cinco modalidades esportivas.

26




Esporte coletivo no qual os jogadores usam uma bola oval.

27

Prêmio Olímpico de bronze, prata ou ouro.

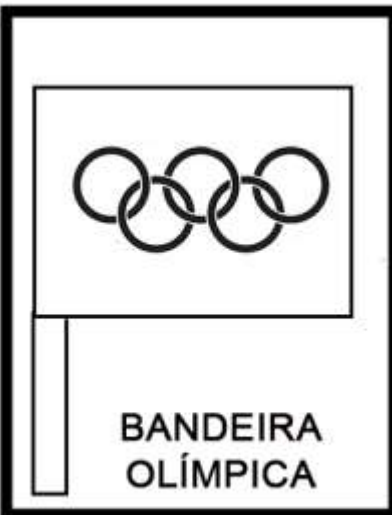
3

# ÁLBUM - DAS OLIMPIÁDAS








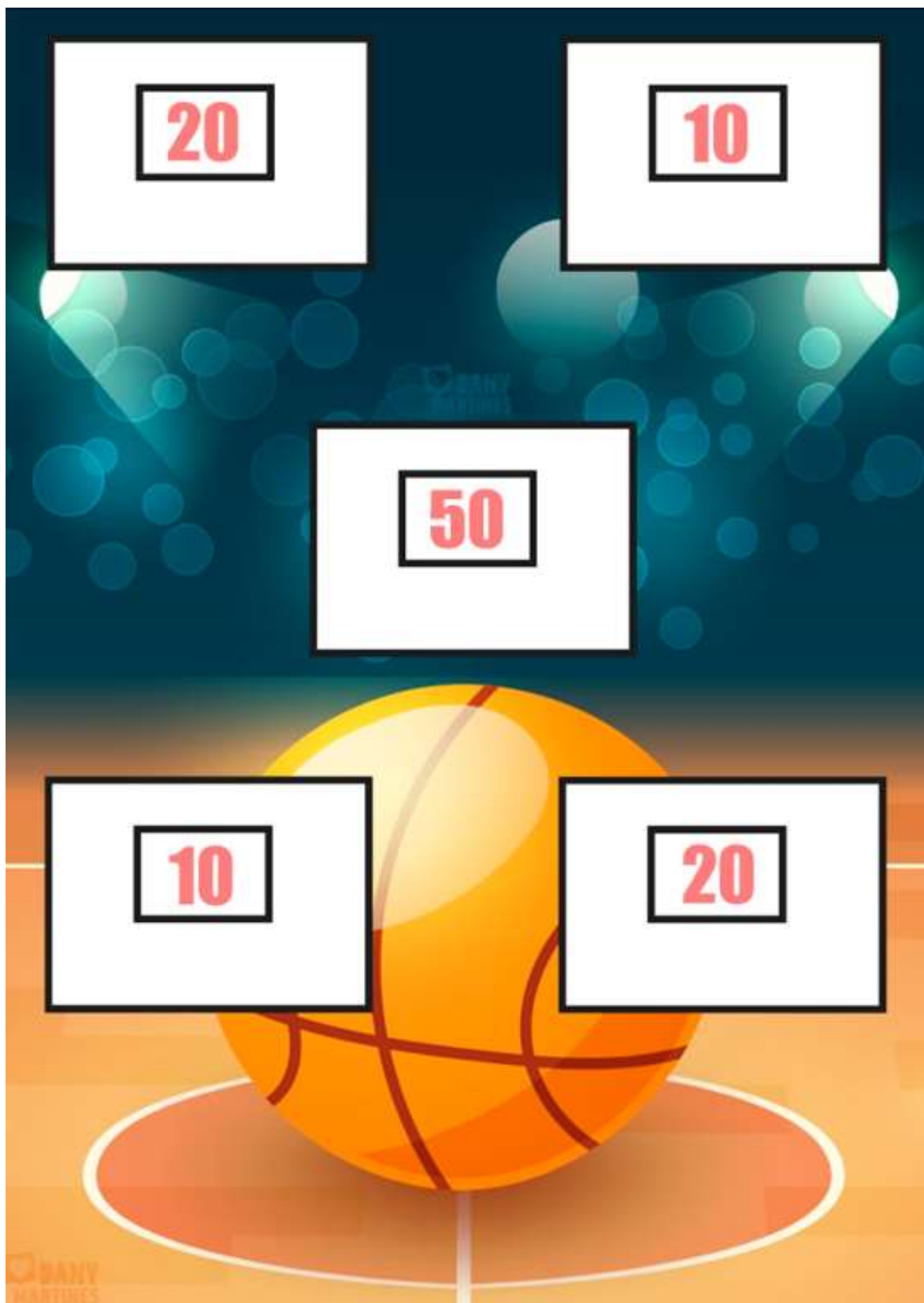
# ÁLBUM - DAS OLIMPIADAS



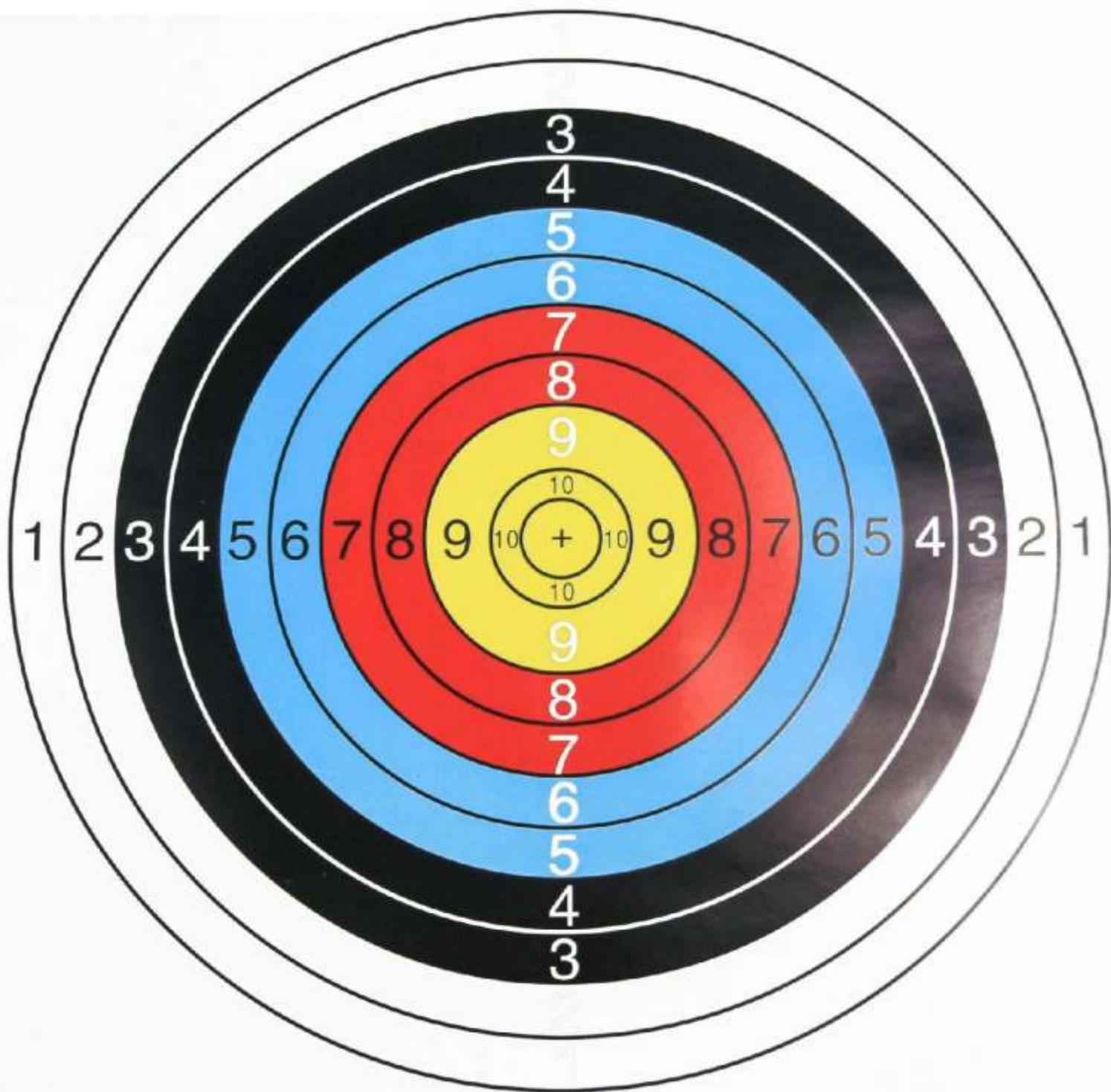


# ÁLBUM - DAS OLIMPIÁDAS





ANEXO 2: TIRO AO ALVO






# MELHOR PAI DO MUNDO

\_\_\_\_\_

Certifico com todo o meu coração que  
o meu pai é o meu herói, meu amigo e o melhor pai do mundo .



DATA \_\_\_\_\_

\_\_\_\_\_ DO SEU FILHO

## FELIZ DIA DOS PAIS



### Peteca de tecido

Você vai precisar de um pedaço de tecido quadrado com 25 centímetros cada lado, folhas de jornal e barbante ou fita adesiva.

- Amasse as folhas de jornal até formar uma bolinha.
- Envolve a bolinha com o pedaço de tecido e amarre com barbante ou fita adesiva.
- Arrume as pontas, abrindo-as.

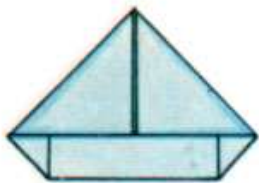


Peteca artesanal.

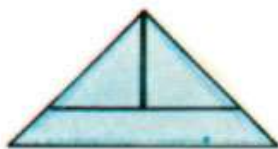


## ANEXO 4: BARCO DE PAPEL

Pegue uma folha de papel menor, uma folha de caderno serve, e faça as mesmas dobras até o item quatro do chapéu de soldado.



Pegue a parte que sobrou e dobre as pontinhas, para cima.



E agora, dobre toda a parte que sobrou por fora da parte de cima.



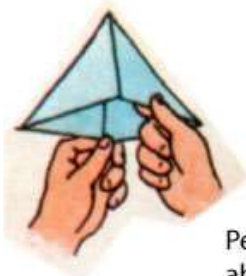
Pegue pelo meio, e puxe para fora.




Pegue uma das abas, e dobre para cima.



Pegue a outra aba, e dobre também para cima.



Pegue de novo pelo meio, abra para fora, e reforce todas as dobras, apertando.



Agora é só puxar as duas pontas com cuidado.

E o seu barquinho está pronto.



[http://2.bp.blogspot.com/\\_QKQFwJoUTho/TNk17r26vhl/AAAAAAAAAJs/ukOYm0jBXm0/s1600/esquema+do+barquinho.jpg](http://2.bp.blogspot.com/_QKQFwJoUTho/TNk17r26vhl/AAAAAAAAAJs/ukOYm0jBXm0/s1600/esquema+do+barquinho.jpg)

OBSERVAÇÃO: AGUARDEM OS AVISOS PARA A EXECUÇÃO DAS MODALIDADES ESPORTIVAS. VOCÊ ESTÁ RECEBENDO UMA SACOLA COM VÁRIOS MATERIAIS, PARA QUE POSSAM DESENVOLVER ALGUMAS DAS MODALIDADES PREVISTAS NOS JOGOS OLÍMPICOS.

