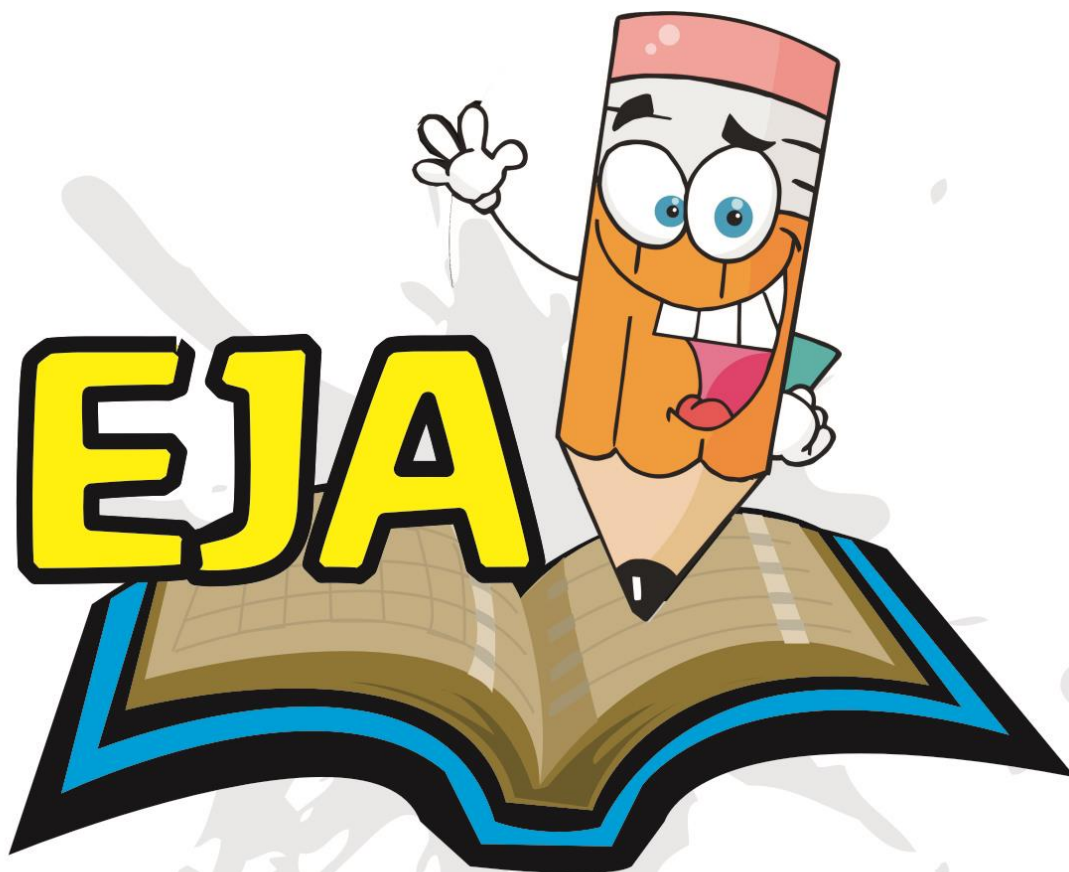


E.M. "ALEXANDRE VANNUCHI LEME"

Nome: \_\_\_\_\_

2º TERMO A EJA

Professora: MILENA



Caderno de Atividades Nº 8

Apostila referente aos dias 05, 06, 19, 20, 21, 22, 23, 26, 27, 28, 29, 30/07 e 02, 03, 04, 05, 06/08.

Data de entrega: 22/07

Data de devolução: 10/08

05 DE JULHO DE 2021

Objetivo: decompor números menores que 1.000 em forma expandida e escrever o nome dos números por extenso.

### Decompondo em forma expandida

Decomponha os números a seguir na forma expandida, como no exemplo.

Depois, escreva o nome do número por extenso.

#### EXEMPLO

$$435 = 400 + 30 + 5$$

Quatrocentos e trinta e cinco.



256 = \_\_\_\_\_  
\_\_\_\_\_

517 = \_\_\_\_\_  
\_\_\_\_\_

491 = \_\_\_\_\_  
\_\_\_\_\_

332 = \_\_\_\_\_  
\_\_\_\_\_

723 = \_\_\_\_\_  
\_\_\_\_\_

299 = \_\_\_\_\_  
\_\_\_\_\_

# SINÔNIMOS E ANTÔNIMOS

**SINÔNIMOS** SÃO PALAVRAS QUE TÊM O MESMO SIGNIFICADO.

**ANTÔNIMOS** SÃO PALAVRAS QUE TÊM O SIGNIFICADO CONTRÁRIO.

VEJA OS EXEMPLOS:



PALAVRAS	SINÔNIMOS	ANTÔNIMOS
VALENTE	CORAJOSO	MEDROSO
LONGE	DISTANTE	PERTO

LIGUE-SE NESTA!

1 Complete o quadro com as palavras em destaque

RUÍDO	LENTO	ESCURO	SILÊNCIO
LINDO	CLARO	SUMIR	FINO
TOMBAR	TERMINAR	ESPESSO	LEVANTAR
SURGIR	FEIO	RÁPIDO	COMEÇAR

PALAVRAS	SINÔNIMOS	ANTÔNIMOS
BARULHO		
APARECER		
ALVO		
VAGAROSO		
BONITO		
GROSSO		
ACABAR		
CAIR		

19 de julho de 2021

Objetivo: desenvolver o raciocínio lógico-matemático, ampliar conhecimentos culturais e resolver situações diversas envolvendo números.

## INVENÇÕES!

Observe as informações dadas sobre algumas invenções de nosso uso cotidiano:



A TV foi inventada em 1.936.



A câmera foi inventada 50 anos antes que a TV.



O telefone foi inventado em 1.876.



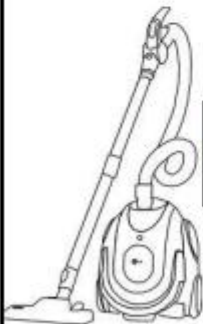
O notebook foi inventado em 1.982.



O ferro foi inventado 100 anos antes do notebook.



A máquina de lavar foi inventada 2 anos antes do ferro.



O aspirador de pó foi inventado em 1.901.



20 de julho de 2021

Responda as seguintes perguntas, baseadas nas informações da página anterior:

1. Em qual ano foram inventados...

a. a câmera fotográfica? \_\_\_\_\_

b. o ferro de passar? \_\_\_\_\_

c. a máquina de lavar? \_\_\_\_\_



2. Qual das invenções é a mais "jovem"? Quantos anos ela tem?

\_\_\_\_\_

\_\_\_\_\_

3. Quantos anos antes do ferro, o telefone foi inventado?

Resposta: \_\_\_\_\_

4. Escreva o nome das invenções na ordem em que foram inventadas e anote quantos anos cada uma delas tem hoje:

a. \_\_\_\_\_

b. \_\_\_\_\_

c. \_\_\_\_\_

d. \_\_\_\_\_

e. \_\_\_\_\_

f. \_\_\_\_\_

g. \_\_\_\_\_



21 de julho de 2021

## BILHETE

Célia, amiga minha:  
Vou para longe de casa, mas aqui deixo  
plantadas três palavras que nunca deixarei  
dormir: família, amizade e saudade.  
São pequenas, mas grandes em amor.  
Até um dia...

Patrícia.  
20/11/05.

### Responda:

1 - Quem enviou o bilhete ?

\_\_\_\_\_

2 - A quem o bilhete foi enviado ?

\_\_\_\_\_

3 - Assinale com (x) a opção correta.

Na frase:

"... palavras que nunca deixarei dormir", a palavra "dormir" significa:

a)  repousar

b)  esquecer

4 - "... mas deixo aqui plantadas três palavras" ..

O que o autor do texto quis dizer com essa frase?

\_\_\_\_\_  
\_\_\_\_\_  
\_\_\_\_\_

5 – Patrícia, com o coração partido, está indo embora para longe da família. Você gostaria de morar sozinho(a), longe da família? Por quê ?

\_\_\_\_\_  
\_\_\_\_\_  
\_\_\_\_\_

6 – Você concorda com a afirmação de algumas pessoas, quando dizem que existem certos amigos que valem mais do que família? Explique.

\_\_\_\_\_  
\_\_\_\_\_



22 de julho de 2021

Leia o texto abaixo e responda as questões

**TURMA DA MÔNICA**



**MAURÍCIO**



1- A tira inicia-se com Cebolinha tendo que resolver um problema. Qual é este problema?

\_\_\_\_\_

2- No segundo quadrinho, Cebolinha enxerga uma possível solução para esse problema. Qual?

\_\_\_\_\_

3- A expressão "quebrar o galho" ganhou duplo significado no texto. O que significou a expressão para Mônica e o que significou para Cebolinha?

\_\_\_\_\_

4- O problema de Cebolinha foi resolvido? Justifique

\_\_\_\_\_

5- Mônica percebeu o engano que cometeu? Explique.

\_\_\_\_\_

6- O que significam as estrelas e a fumaça na cabeça de Cebolinha?

\_\_\_\_\_

7- Copie do texto as palavras que o Cebolinha falou errado e escreva corretamente

\_\_\_\_\_

\_\_\_\_\_

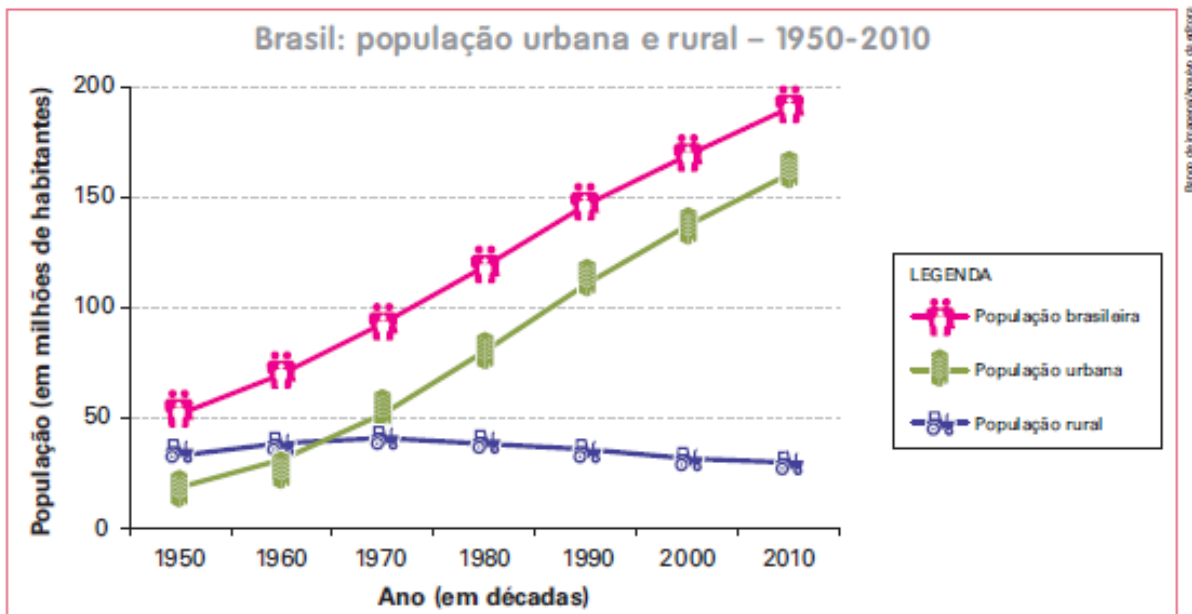
23 de julho de 2021

Historia

## ► Um passado rural

As migrações podem ocorrer de um país para outro, de uma região para outra ou dentro de uma mesma região. As migrações do campo para a cidade também são comuns. Quando em determinado período muitas pessoas deixam o campo pela cidade, dizemos que ocorre **êxodo rural**.

No Brasil, nos últimos sessenta anos, milhares de pessoas deixaram o meio rural para morar nos centros urbanos. Essa migração está diminuindo muito, mas ainda existe. Veja o gráfico a seguir.



IBGE. *Sinopse do Censo Demográfico 2010*. Rio de Janeiro: IBGE, 2011, p. 76.

1 Procure no dicionário e anote o significado das palavras a seguir.

a) Urbano: \_\_\_\_\_

b) Rural: \_\_\_\_\_

2 Observe novamente as informações mostradas no gráfico e responda:

a) Onde morava a maioria da população do Brasil em 1950: no campo ou na cidade?

\_\_\_\_\_

b) E em 2010? Onde morava a maioria da população? \_\_\_\_\_



## MATEMÁTICA

Observe os preços abaixo:



R\$5,00



R\$15,00



R\$40,00

- Qual deles é o mais caro? \_\_\_\_\_

- Qual é o mais barato? \_\_\_\_\_

- Escreva em palavras:

R\$5,00 \_\_\_\_\_

R\$15,00 \_\_\_\_\_

R\$40,00 \_\_\_\_\_

blusa + cueca: \_\_\_\_\_

cueca + calça: \_\_\_\_\_

blusa + calça: \_\_\_\_\_

Marque a dezena mais próxima:

17  10-20-30-40

51  40-50-60-70

87  60-70-80-90

69  50-60-70-80

48  30-40-50-60

36  20-30-40-50

27 de julho de 2021

GEOGRAFIA  
O TERRITÓRIO BRASILEIRO  
AS GRANDES REGIÕES BRASILEIRAS



1) ESCREVA OS ESTADOS QUE FAZEM PARTE DA REGIÃO SUL:


28 de julho de 2021

1) ESCREVA OS ESTADOS QUE FAZEM PARTE DA REGIÃO SUDESTE:


2) ESCREVA OS ESTADOS QUE FAZEM PARTE DA REGIÃO CENTRO - OESTE:


3) ESCREVA OS ESTADOS QUE FAZEM PARTE DA REGIÃO NORDESTE:


4) ESCREVA OS ESTADOS QUE FAZEM PARTE DA REGIÃO NORTE:


29 de julho de 2021








Helena comprou uma boneca e deu uma nota de 50 reais para pagar. Quanto ela recebeu de troco?



32 reais

Helena recebeu de troco 18 reais.

Agora faça o mesmo completando o quadro abaixo:

Você comprou	Deu em dinheiro	Recebeu de troco
 <p>12 reais</p>	 <p>20 reais</p>	-----
 <p>35 reais</p>	 <p>50 reais</p>	-----
 <p>8 reais</p>	 <p>10 reais</p>	-----
 <p>20 reais</p>	 <p>50 reais</p>	-----

30 de julho de 2021

### EXPLORAÇÃO DE BILHETE

VOVÓ,

PASSEI NA SUA CASA PARA ENTREGAR UMA CESTA DE  
DOCES, MAS VOCÊ NÃO ESTAVA.  
VOLTO AMANHÃ À TARDE.  
UM BEIJO DA SUA NETINHA,

CHAPEUZINHO VERMELHO.

21/08/2012

### MARQUE A RESPOSTA CERTA:

1- ESSE GÊNERO TEXTUAL É UM:

- CONVITE       BILHETE       ANÚNCIO

2- O ASSUNTO PRINCIPAL DO BILHETE É:

- AVISAR       CONVIDAR       VENDER DOCES.

3- PARA QUEM É O BILHETE?

- CHAPEUZINHO       LOBO MAU       VOVÓ

4- QUEM ESCREVEU O BILHETE FOI A:

- MAMÃE       VOVÓ       CHAPEUZINHO

5- A DATA DO BILHETE É:

- 21 DE SETEMBRO DE 2012.  
 21 DE AGOSTO DE 2012.  
 21 DE FEVEREIRO DE 2012.



## É COM VOCÊ!

① Observe no calendário o mês no qual você comemora o seu aniversário e depois responda:

- a) Quantos dias tem esse mês? \_\_\_\_\_
- b) E quantas semanas? \_\_\_\_\_
- c) Todos os meses têm a mesma quantidade de dias? \_\_\_\_\_
- d) No mês do seu aniversário há feriado(s)? Quais os dias?  
\_\_\_\_\_

② O que cada uma das letras no calendário representa? Escreva abaixo.

**D** \_\_\_\_\_  
**S** \_\_\_\_\_  
**T** \_\_\_\_\_  
**Q** \_\_\_\_\_

**Q** \_\_\_\_\_  
**S** \_\_\_\_\_  
**S** \_\_\_\_\_

③ Qual é o primeiro dia da semana? \_\_\_\_\_


④ E o último dia? \_\_\_\_\_

⑤ Quantos dias tem uma semana? \_\_\_\_\_

⑥ Em quais dias da semana você não trabalha?  
\_\_\_\_\_

⑦ Complete:

- a) 1 ano tem \_\_\_\_\_ dias.
- b) 1 semana tem \_\_\_\_\_ dias.
- c) 1 quinzena tem \_\_\_\_\_ dias.
- d) O ano bissexto tem \_\_\_\_\_ dias.





03 de agosto de 2021

## MEDIDAS DE MASSA

O QUILOGRAMA (OU QUILO) É A UNIDADE UNIVERSAL DAS MEDIDAS DE MASSA.

1 QUILO É IGUAL A DOIS MEIOS QUILOS.



### MEDIDAS DE MASSA

Para medir o peso das pessoas, animais, arroz, feijão, carne, margarina e vários outros produtos, usamos a unidade de massa chamada grama.

Seu símbolo é g.

São vários os tipos de balança. Veja!

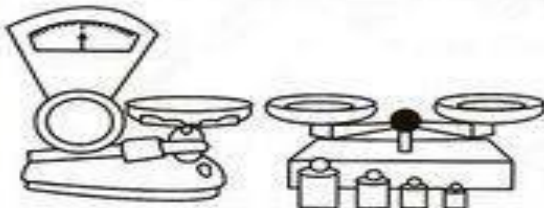
- Balança para pesar pessoas.




- Balança para pesar papel, sacos de cimento, cereais, etc.



- Balanças encontradas em alguns armazéns e açougues.



- Balança de açougues e mercados.



- Balança para pesar bebês.



# MEDIDAS DE MASSA

1 Observe os rótulos dos produtos abaixo.



2 Quais são as unidades de massa apresentadas nos rótulos das embalagens? \_\_\_\_\_

3 Complete a tabela, em ordem crescente, com o nome do produto e seu respectivo peso.

PRODUTO	PESO

4 Qual é o principal instrumento usado para medir peso?  
\_\_\_\_\_

5 Qual é a unidade de massa do quilograma e do grama?

L e ml

kg e g

km e m

05 de agosto de 2021

## BIOGRAFIA DE ROMERO BRITTO

ROMERO BRITTO NASCEU NO BRASIL, NO ESTADO DE PERNAMBUCO, NO DIA 6 DE OUTUBRO DE 1963.

COMEÇOU SEU INTERESSE PELAS ARTES NA INFÂNCIA, QUANDO USAVA SUCATAS, PAPELÕES E JORNAIS PARA EXERCITAR A SUA CRIATIVIDADE.

ERAM TEMPOS DE POBREZA E MUITAS LIMITAÇÕES NA CIDADE DO RECIFE.

ROMERO BRITTO TAMBÉM COMEÇOU NESSA ÉPOCA A USAR A GRAFITAGEM, O QUE FOI DE GRANDE INFLUÊNCIA EM SEU TRABALHO.

INICIOU O CURSO DE DIREITO NA UNIVERSIDADE CATÓLICA DE PERNAMBUCO, MAS DEPOIS VIAJOU AOS ESTADOS UNIDOS E LÁ ESTABELECEU-SE COMO ARTISTA DE SUCESSO ATÉ HOJE.

HOJE, O PINTOR VIVE NOS ESTADOS UNIDOS, NA CIDADE DE MIAMI. É CASADO E TEM UM FILHO.

1) ONDE ROMERO BRITTO NASCEU?

---

2) DURANTE A INFÂNCIA, O QUE ROMERO BRITTO USAVA PARA EXERCITAR SUA CRIATIVIDADE?

---

---

3) ONDE ROMERO BRITTO VIVE HOJE?

---

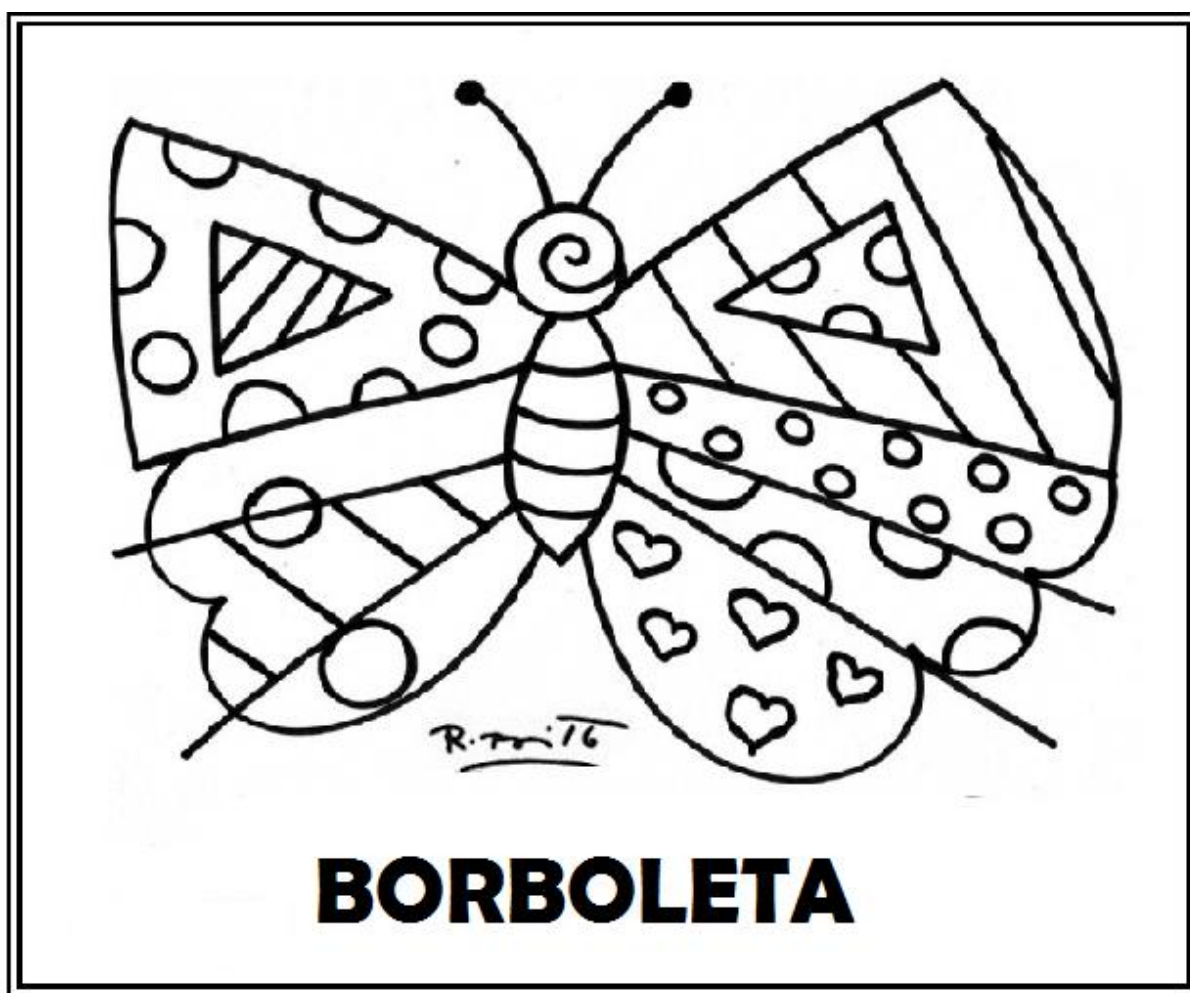
06 de agosto de 2021

ARTE

OBSERVE AS CORES USADAS NESTA OBRA DE ROMERO BRITTO:



AGORA CAPRICHE NA PINTURA DO DESENHO ABAIXO:



## REFERÊNCIAS BIBLIOGRÁFICAS

<https://www.smartkids.com.br/atividade/festa-junina-caca-palavra>

<https://br.pinterest.com/pin/817192294861104638/>

<https://escolaeducacao.com.br/atividades-para-festa-junina-para-o-1o-ano/atividades-festa-junina-1-ano-caca-palavras/>

<http://pedagogasdapaz.blogspot.com/2018/07/atividades-caca-palavras-festa-junina.html>