

**E.M. "ALEXANDRE VANNUCHI LEME"**

**8º APOSTILA**

**REFERENTE AOS DIAS : 05 / 7 Á 06 / 8**



**PROFESSORA : PATRÍCIA ELAINE**

**2º ANO B**

**DEVOLVER DIA : 10 / 08 / 2021**

**NOME DO ALUNO (A) :**

**OLÁ MEUS AMORES !**

**ESPERO QUE TODOS ESTEJAM BEM !**

**ESTA APOSTILA É REFERENTE AOS DIAS : 05 , 06 , 19, 20 , 21 , 22 , 23 , 26 , 27 , 28 , 29 , 30 / 07 , 02 / 8, 03 , 04 , 05 , 06 / 8 .**

**DEVERÁ SER ENTREGUE A 8 APOSTILA NO DIA 10 / 8 /2021 .**

**A APOSTILA IRÁ ATIVIDADES INTERDISCIPLINARES , ESPERO QUE RESOLVAM DEVAGAR .**

**TUDO DIA , TIRE UM TEMPINHO PARA FAZER SUAS ATIVIDADES . NÃO FAÇA CORRENDO .**

**AS QUESTÕES QUE NÃO CONSEGUIREM RESOLVER , ANOTEM EM UMA FOLHA O QUE NÃO ENTENDEREM , PROCURAREI RESPONDER SUAS DÚVIDAS OU PODERÁ MANDAR UM WHATSAAP, ESTAREI SEMPRE A DISPOSIÇÃO .**

**PINTE OS DESENHOS BEM BONITO , SEMPRE COLOCAR NOME COMPLETO , AS ATIVIDADES QUE NÃO TIVEREM DATA MARCADA, PEDIR PARA A CRIANÇA COLOCAR . PINTAR O CALENDÁRIO NOS DIAS CORRESPONDENTES .**

**PINTE BEM BONITO O DIPLOMA DO PAPAÍ E ENTREGUE PARA O SEU PAPAÍ OU A PESSOA QUE AMA IGUAL.**

**TERÁ ATIVIDADE PARA LEITURA SE POSSÍVEL GRAVAR E ME MANDAR NO WHATSAAP NO GRUPO OU NO PRIVADO .**

**AOS PAIS E RESPONSÁVEIS , QUERO AGRADECER MUITO PELA AJUDA .**

**DEUS ABENÇOE MUITO VOCÊS.**

**BEIJOS**

**PROFESSORA : PATRÍCIA ELAINE**

## CALENDÁRIO JULHO - 2021



DOMINGO	SEGUNDA -FEIRA	TERÇA- FEIRA	QUARTA- FEIRA	QUINTA- FEIRA	SEXTA- FEIRA	SABADO
				1	2	3
4	5	6	7	8	9	10
11	12	13	14	15	16	17
18	19	20	21	22	23	24
25	26	27	28	29	30	31

## CALENDÁRIO AGOSTO - 2021




DOMINGO	SEGUNDA -FEIRA	TERÇA- FEIRA	QUARTA- FEIRA	QUINTA- FEIRA	SEXTA- FEIRA	SÁBADO
1	2	3	4	5	6	7
8	9	10	11	12	13	14
15	16	17	18	19	20	21
22	23	24	25	26	27	28
29	30	31				

NOME \_\_\_\_\_

DATA : 05 / 07

## ATIVIDADE

1- VAMOS COLORIR?



A BANDEIRA OLÍMPICA, COM OS CINCO ANÉIS ENTRELAÇADOS - FOI CRIADA EM 1913 POR PIERRE DE COUBERTIN. ELA É FORMADA POR CINCO ANÉIS DE CORES DIFERENTES (AZUL, VERMELHO, PRETO, AMARELO E VERDE) ENTRELAÇADOS E LOCALIZADOS NO CENTRO DA BANDEIRA.  
A BANDEIRA POSSUI FUNDO BRANCO E OS ANÉIS REPRESENTAM OS CINCO CONTINENTES HABITADOS NO MUNDO.

2- LIGUE DE ACORDO COM A COR QUE REPRESENTA CADA CONTINENTE.

AZUL

OCEÂNIA

AMARELO

AMÉRICA

PRETO

EUROPA

VERDE

ÁSIA

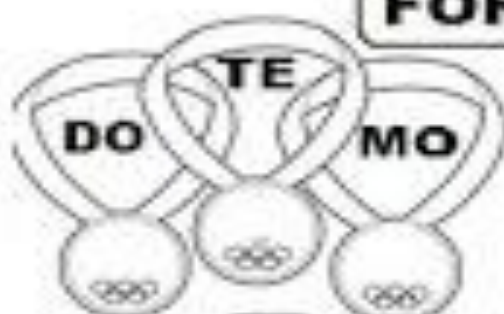
VERMELHO

ÁFRICA

NOME :

DATA :

## FORME PALAVRAS



1- .....

2- .....

3- .....



4- .....

5- .....



6- .....

7- .....



8- .....

9- .....

10- .....



NOME COMPLETO :

DATA 06 / 07 / 2021

## ALFABETIZAÇÃO E OLIMPÍADAS



Veja palavra abaixo e complete:

ATLETA

- Esta palavra tem ..... letras.

- Ela começa com a letra:

- Pinte de vermelho as vogais.

São elas:

-Pinte de azul as consoantes.

São elas:

GRAVE UM VIDEO LENDO AS PALAVRAS ABAIXO . ENVIAR PELO WHASTSAPP.

ATA - ATÉ - TALA - TELA - TATÁ - TOCA - TETO

TOMATE - ALERTA - ALÍVIO - LEVADO - LEVE

AMA - AVE - ALUGA - ATOLA - LEME - LEITE-


- Pinte o número de letras:



NOME :

DATA : 06 / 07 / 2021

## ALFABETIZAÇÃO E OLIMPÍADAS



Veja palavra abaixo e complete:

PÓDIO

- Esta palavra tem ..... letras.

- Ela começa com a letra:

- Pinte de amarelo as vogais.

São elas:

-Pinte de vermelho as consoantes.

São elas:

Leia as palavras e circule a palavra que rima com pódio .

ÓDIO - UM - PULO - MAPA - MULA - DOM - DEDO - DAMA - PULA - OU - OI - UI - MALA - POTE - PANO - PACOTE - PIPOCA - PEDAÇO

- Pinte o número de letras:





**NOME :**

**DATA :**

### CAÇA-PALAVRAS DAS OLIMPIADAS



1- \_\_\_\_\_  
2- \_\_\_\_\_  
3- \_\_\_\_\_

<b>X</b>	<b>X</b>	<b>O</b>	<b>U</b>	<b>R</b>	<b>O</b>	<b>X</b>	<b>X</b>
<b>X</b>	<b>X</b>	<b>X</b>	<b>X</b>	<b>X</b>	<b>X</b>	<b>X</b>	<b>X</b>
<b>P</b>	<b>R</b>	<b>A</b>	<b>T</b>	<b>A</b>	<b>X</b>	<b>X</b>	<b>X</b>
<b>X</b>	<b>X</b>	<b>X</b>	<b>X</b>	<b>X</b>	<b>X</b>	<b>X</b>	<b>X</b>
<b>X</b>	<b>B</b>	<b>R</b>	<b>O</b>	<b>N</b>	<b>Z</b>	<b>E</b>	<b>X</b>

NOME :

DATA : 19 / 07 / 2021

## ATIVIDADE

VAMOS DESENHAR MEDALHAS PARA CADA LUGAR E  
ESCREVER O NOME DO MATERIAL DE CADA COLOCAÇÃO:

1º LUGAR




2º LUGAR



3º LUGAR



NO PRIMEIRO LUGAR DO PODIUM ESTÁ FALTANDO ALGUÉM,  
DESENHE:



NOME :

DATA:



# CAÇA-PALAVRAS



Q	A	W	F	I	B	E	T	E	U	Q	S	A	B
N	T	O	U	V	G	B	Ê	Ç	L	P	H	Z	C
A	R	A	T	H	A	U	N	X	K	R	O	M	B
X	I	X	E	L	E	J	I	F	A	E	E	H	S
H	A	I	B	K	I	A	S	W	B	G	B	M	A
A	T	E	O	B	W	Z	R	I	A	O	A	U	O
N	L	Y	L	W	U	O	M	O	R	L	D	E	M
D	O	T	Ç	Y	N	R	N	V	T	F	M	T	S
E	S	G	R	I	M	A	R	D	I	E	I	Y	I
B	F	B	P	Y	C	P	T	B	O	N	N	U	L
O	A	O	B	O	K	E	A	A	G	A	T	B	C
L	Q	G	W	B	X	O	Z	N	Ç	S	O	N	I
J	U	D	Ô	O	M	L	X	M	F	Ã	N	X	C
R	X	Z	B	K	H	I	P	I	S	M	O	E	X

BASQUETE - HIPISMO - NATAÇÃO - TÊNIS - ESGRIMA -

TAEKWONDO - CICLISMO - GOLFE - FUTEBOL - REMO -

CANOAGEM - RUGBY - HANDEBOL - JUDÔ - TRIATLO -

BOXE - BADMINTON -



**NOME :**

**DATA :**

**( CIÊNCIAS )**

Ligar a parte do corpo humano que é responsável por cada esporte: (Pode repetir)



ARCO



NATAÇÃO



FUTEBOL



BASQUETE



REMO




BOXE

NOME COMPLETO :

DATA : 21 / 07 / 2021

**SISTEMA DE NUMERAÇÃO: DEZENAS E UNIDADES**

1) Conte quantas formiguinhas estão indo para o formigueiro.




São ..... formiguinhas que estão indo para o formigueiro.

Cada formiguinha representa **1 (uma) unidade**.

**10 (dez) unidades** formam **1 (uma) dezena**.

Uma dezena, portanto, são ..... unidades.

2) Pinte uma dezena de flores.



3) Quantas flores sobraram? .....

4) Desenhe no quadro abaixo uma dezena de laranjas.

A large, empty rectangular box with a thin black border, intended for the student to draw ten oranges.







NOME :




DATA :

# GINÁSTICA ARTÍSTICA

"PULAR, VOAR... TUDO COM GRANDE BELEZA"

VAMOS COMPLETAR O NOME DAS MODALIDADES ABAIXO,  
COLOCANDO AS LETRAS QUE FALTAM.

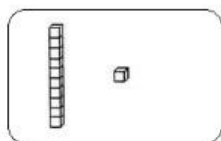
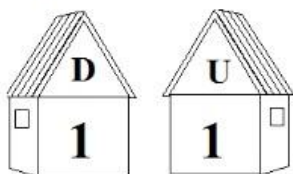
			
__RGOLAS	__ARRA __IXA	__AVALO __OM __LÇA	__OLO

		
__ARRAS __SSIMÉTRICAS	__RAVE	__ARRAS __ARALELAS

**NOME COMPLETO :**

**DATA : 22 / 07 / 2021**

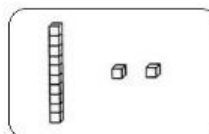
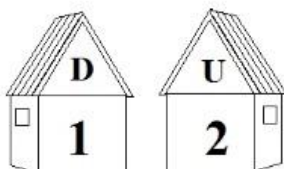
1) Veja o modelo e complete as operações.



$$\begin{array}{r} 10 \\ + 1 \\ \hline \end{array}$$

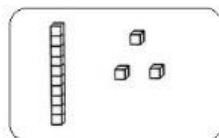
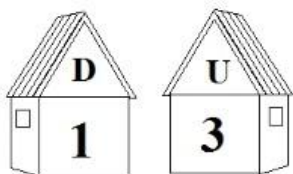


1 dezena + 1 unidade = 11  
10 + 1 = 11 unidades



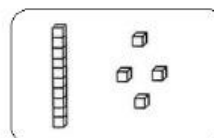
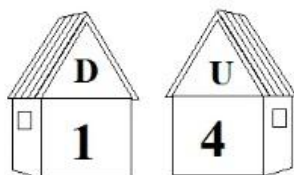
$$\begin{array}{r} 10 \\ + 2 \\ \hline \end{array}$$

1 dezena + 2 unidades = 12  
10 + ..... = 12 unidades



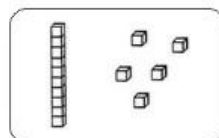
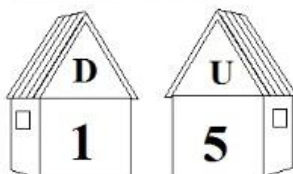
$$\begin{array}{r} 10 \\ + 3 \\ \hline \end{array}$$

1 dezena + 3 unidades = 13  
10 + ..... = 13 unidades



$$\begin{array}{r} 10 \\ + 4 \\ \hline \end{array}$$

1 dezena + 4 unidades = 14  
10 + ..... = 14 unidades



$$\begin{array}{r} 10 \\ + 5 \\ \hline \end{array}$$

1 dezena + 5 unidades = 15  
10 + ..... = 15 unidades

Nome :

Data :

NOME: \_\_\_\_\_ TURMA: \_\_\_\_\_

DATA: \_\_\_\_ / \_\_\_\_ / \_\_\_\_



# GINÁSTICA RÍTMICA

"JOGAR TUDO PARA O ALTO... E PEGAR DE VOLTA."



SÃO CINCO OS APARATOS UTILIZADOS PELAS GINASTAS NESTA MODALIDADE. A MAGALI ESTÁ USANDO A MAÇA. VAMOS COLOCAR A LETRA INICIAL DE CADA DESENHO PARA DESCOBRIR O NOME DOS OUTROS APARATOS!





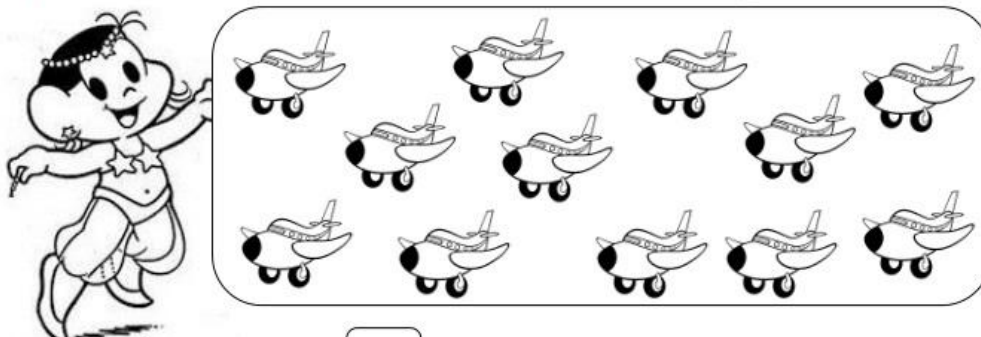
Nome :

Data : 23 / 07 / 2021

**NOME :**

**DATA :**

1) Observe os desenhos dos aviões, conte somente até 10 e pinte:



- Quantos sobraram?
- Você contou  dezena de aviões.
- Ao todo, tem  aviões.

**Meia Dezena**

1) Em cada mão temos 5 dedos. Nas duas mãos temos ..... dedos ou uma **dezena** de dedos.



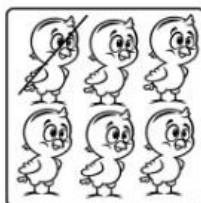


Meia dezena é a metade de 10.

A metade de 10 corresponde a ..... unidades.

Meia dezena = ..... unidades.

2) Risque os elementos de cada conjunto para que todos fiquem com meia dezena. Já comecei.



Quantos elementos você riscou?

.....**1**..... pintinho

..... bolas

..... balas

Nome :

Data : 23 / 07 / 2021

VAMOS SEGUIR AS COORDENADAS  
E DESCOBRIR O NOME DO ESPORTE  
QUE A MÔNICA E A MAGALI ESTÃO  
PRATICANDO.



×	1	2	3	4
A	I	A	D	O
B	D	N	S	C
C	R	I	O	N
D	N	A	Z	O

1-D	2-A	1-B	4-D

3-B	1-A	2-B	4-B	1-C	4-A	4-C	2-C	3-D	2-D	3-A	3-C

"FICAR COM AS PERNAS FORA DA ÁGUA... E FAZER TUDO O QUE A  
PARCEIRA FIZER."



NOME.....

VAMOS COLORIR?



VOVÓ E VOVÔ  
AMAMOS  
VOCÊS

DIA 26 DE JULHO

DIA DOS AVÓS

NOME :

DATA :



- Pinte a palavra usando sua cor predileta.

# RESPEITO

NOME :

DATA :

# ATIVIDADE LEGAL **(A)** **(B)**

CIRCULE A PALAVRAS DE ACORDO COM O NOME DE CADA FIGURA:

	PAPÉIS PASTÉIS ANÉIS		ARMÁRIO ARCO ARGOLA
	ARTE ARCO ARGOLA		BINGO BICICLETA BISTECA
	ALVO ALMA ALTO		BOLA BOTA BOCA
	PALITO APITO BONITO		BRAVO BRASA BRASIL
	ATLETA ATLAS ATLÉTICO		BASTÃO BASQUETE BARCO


NOME :

DATA :


## NUMERAIS ORDINAIS

Para indicar ordem, posição ou lugar, usamos os numerais ordinais. Conheça os numerais ordinais até 10<sup>o</sup>.

1 <sup>o</sup> → primeiro	6 <sup>o</sup> → sexto
2 <sup>o</sup> → segundo	7 <sup>o</sup> → sétimo
3 <sup>o</sup> → terceiro	8 <sup>o</sup> → oitavo
4 <sup>o</sup> → quarto	9 <sup>o</sup> → nono
5 <sup>o</sup> → quinto	10 <sup>o</sup> → décimo



1) Veja a posição das formiguinhas e continue a numerá-las segundo a ordem que ocupam.



2) Desenhe o que se pede nas formiguinhas:

- a) Uma folha na 6<sup>a</sup> formiguinha;
- b) Um chapéu na cabeça da 4<sup>a</sup> formiguinha;
- c) Um laço na cabeça da 9<sup>a</sup> formiguinha.

3) Observe as cenas e numere-as com os numerais ordinais, de acordo com a sequência dos acontecimentos.





NOME: \_\_\_\_\_

DATA : 28 / 07 / 2021

### BETO, O BOM DE BOLA



PAULO, BETO E RENATO VÃO JOGAR BOLA.  
BETO É O GOLEADOR DO TIME.  
PAULO JOGA A BOLA PARA RENATO.  
BETO PEDE A RENATO:  
— AQUI, RENATO!  
A BOLA CAI NO PÉ DE BETO.  
BETO PÕE A BOLA NA REDE E FAZ UM BELO GOL.

*Graça Boquet*

1) QUEM VAI JOGAR BOLA?

---

2) DAS TRÊS CRIANÇAS, O GOLEADOR É:

PAULO.

BETO.

RENATO.

3) ONDE CAIU A BOLA QUE RENATO JOGOU?

NO PÉ DE PAULO.

NO PÉ DE BETO.



**NOME :**

**DATA :**



## Subtração

Subtração → ato de tirar, comparar.  
O sinal da subtração é (-); lê-se menos.

- Paulinho tinha 3 balões, deu 1 para Priscila.



3 menos 1 é igual a 2.

O sinal da subtração é - (menos).

Paulinho ficou com 2 balões.

Para saber com quantos balões Paulinho ficou, fizemos uma subtração.

$$3 - 1 = 2$$

$$\begin{array}{r} 3 \\ - 1 \\ \hline 2 \end{array}$$

### ATIVIDADES

- 1) Conte os desenhos e efetue as subtrações.

$$9 - 2 = 7$$
$$6 - 3 = \dots\dots\dots$$

**NOME :**

**DATA : 29 / 07/ 2021**



# JUDÔ

Complete as frases  
com palavras iniciadas  
com a letra J:

- Os.....olímpicos ocorrem de 4 em 4 anos.
- O.....apita o jogo de futebol.
- O ..... cobre as notícias olímpicas.
- Os.....devem praticar esportes.
- Neymar é um .....da seleção brasileira.
- .....é cavaleiro que monta animais participantes de corridas de cavalo.
- Uma.....perfeita não é realizada apenas com um atleta.
- O.....é um dos esportes olímpicos.

NOME :

DATA :

### Resolvendo Problemas de Subtração

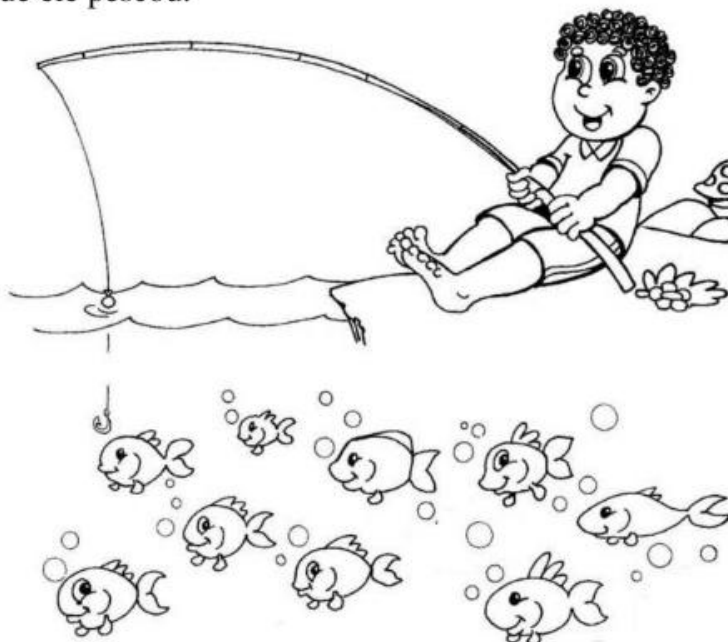
1) Zezinho foi pescar no lago do sítio do vovô Zeca. No lago havia muitos peixinhos, ele pescou quatro.

✓ Pinte os peixinhos que ele pescou.

Quantos peixinhos sobraram?

$$\begin{array}{r} 9 \\ - 4 \\ \hline \end{array}$$



$$9 - 4 = \dots\dots\dots$$



2) Mamãe recolheu 9 ovos no galinheiro. Usou 2. Quantos ovos restaram?

$$\square - \square = \square$$

.....  
.....  
.....



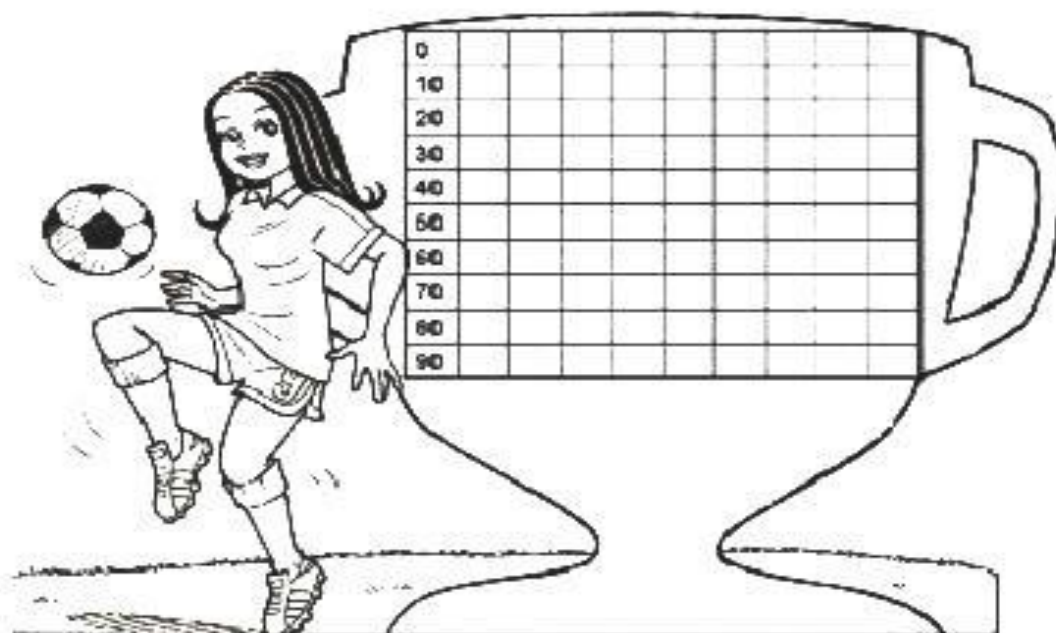
Restaram ..... ovos.

NOME :

DATA : 30 / 07 / 2021

# MATEMÁTICA

Mostre que você é craque nos numerais.  
Observe e complete as sequências.



Colorir de vermelho os numerais de 2 em 2.  
Escreva-os aqui:

0														
													100	



ESCOLA \_\_\_\_\_

ALUNO (A) \_\_\_\_\_

DATA **30 / 7 / 2021**



## Cavalo com Alças

CAVALO COM ALÇAS OU CAVALO COM ARÇÕES É UM APARELHO UTILIZADO NA GINÁSTICA ARTÍSTICA APENAS POR ATLETAS DO SEXO MASCULINO

1. ESCREVA O NOME DO APARELHO QUE CASÇÃO ESTÁ USANDO PARA PRATICAR GINÁSTICA ARTÍSTICA.

2. PESQUISE E ESCREVA O NOME DO BRASILEIRO BICAMPEÃO MUNDIAL DO SOLO NA MODALIDADE GINÁSTICA ARTÍSTICA.



2. LIGUE OS NOMES DAS REPRESENTANTES FEMININAS DA GINÁSTICA ARTÍSTICA BRASILEIRA AOS SOBRENOMES.



JADE

DAIANE

DANIELE

BARBOSA

HIPÓLYTO

DOS SANTOS



NOME \_\_\_\_\_

DATA **02** / **8** / **2021**

## ATIVIDADE

A CHAMA OLÍMPICA É UM DOS SÍMBOLOS DOS JOGOS OLÍMPICOS, E EVOCA A LENDA DE PROMETEU QUE TERIA ROUBADO O FOGO DE ZEUS PARA O ENTREGAR AOS MORTAIS. DURANTE A CELEBRAÇÃO DOS JOGOS OLÍMPICOS ANTIGOS, EM OLÍMPIA, MANTINHA-SE ACESO UM FOGO QUE ARDIA ENQUANTO DURASSEM AS COMPETIÇÕES.

FONTE- WIKPÉDIA

VAMOS COLORIR?




**NOME :**

**DATA :**


## \*Continhas\*

RESOLVER :

(Adição)

$\begin{array}{r} +12 \\ +15 \\ \hline \square \end{array}$	$\begin{array}{r} +32 \\ +27 \\ \hline \square \end{array}$	$\begin{array}{r} +13 \\ +7 \\ \hline \square \end{array}$	$\begin{array}{r} +28 \\ +12 \\ \hline \square \end{array}$	
$\begin{array}{r} +59 \\ +31 \\ \hline \square \end{array}$	$\begin{array}{r} +17 \\ +42 \\ \hline \square \end{array}$	$\begin{array}{r} +23 \\ +9 \\ \hline \square \end{array}$	$\begin{array}{r} +11 \\ +11 \\ \hline \square \end{array}$	

(Subtração)

$\begin{array}{r} -95 \\ -15 \\ \hline \square \end{array}$	$\begin{array}{r} -18 \\ -12 \\ \hline \square \end{array}$	$\begin{array}{r} -32 \\ -11 \\ \hline \square \end{array}$	$\begin{array}{r} -45 \\ -23 \\ \hline \square \end{array}$	$\begin{array}{r} -78 \\ -18 \\ \hline \square \end{array}$
	$\begin{array}{r} -63 \\ -42 \\ \hline \square \end{array}$	$\begin{array}{r} -57 \\ -34 \\ \hline \square \end{array}$	$\begin{array}{r} -84 \\ -53 \\ \hline \square \end{array}$	

Escola: \_\_\_\_\_

Data: **03 / 08 / 2021** Turma: \_\_\_\_\_

**EDUCAR X**

Aluno: \_\_\_\_\_

## DIA DO PAPAI

VOU FAZER UMA SURPRESA AO PAPAI.  
UMA GRAVATA ELE VAI GANHAR,  
VOU ESCONDÊ-LA NO CANTINHO DO  
ARMÁRIO.

TENHO CERTEZA QUE ELE VAI ACHAR.  
TOMARA QUE O PAPAI  
NÃO DEMORE MUITO PRA CHEGAR!

ELE GOSTA DE PASSEAR COMIGO,  
É O MEU ÍDOLO, ALÉM DE AMIGÃO.  
SE ACASO O PAPAI FOR CONVOCADO,  
ELE SERÁ O CAPITÃO DA SELEÇÃO!  
PAPAI, PAPAI, EU VOU GRITAR DE  
EMOÇÃO: VIVA O PAPAI!!  
VAI SER TÃO DIVERTIDO, VIBRAR COM  
O MEU MELHOR AMIGO!



1 - CIRCULE NO TEXTO A PALAVRA **PAPAI** .

2 - O QUE VOCÊ VAI FAZER PARA O PAPAI?

3 - O QUE VOCÊ VAI GRITAR DE EMOÇÃO?

4 - O PAPAI É O SEU MELHOR...

# TIRINHA



Copyright ©1999 Mauricio de Sousa Produções Ltda. Todos os direitos reservados.

6908

[blogdaprofessoraedivania.blogspot.com.br](http://blogdaprofessoraedivania.blogspot.com.br)

## ASSINALE A RESPOSTA CERTA:

**1-EM QUE LUGAR O PAI DA MÔNICA DIZ QUE É MELHOR FICAR DURANTE O FRIO ?**

- ( ) NO TRABALHO
- ( ) NA CAMA
- ( ) NA RUA

**2-QUANTOS QUADRINHOS TÊM ESSA TIRINHA ?**

- ( ) UM
- ( ) SETE
- ( ) DOIS

**3-NO SEGUNDO QUADRO, EM QUE LOCAL ESTÁ A CAMA DO PAPAÍ ?**

- ( ) NO QUARTO
- ( ) NA CALÇADA
- ( ) NA PISCINA

**4-PORQUE O PAPAÍ DEVE SE APRESSAR ?**

- ( ) PORQUE O TÁXI CHEGOU.
- ( ) PORQUE O NAVIO VEM VINDO.
- ( ) PORQUE O ÔNIBUS VEM VINDO.



[blogdaprofessoraedivania.blogspot.com.br](http://blogdaprofessoraedivania.blogspot.com.br)



Escola: \_\_\_\_\_

Data: **04 / 08 / 2021**


**EDUCARX.COM**

Aluno: \_\_\_\_\_

## De que Parente estou Falando?


### ADIVINHAÇÕES

É alegre e genial.  
Gosta de fazer caminhadas.  
O pai da minha mãe  
Adora contar piadas.




É tranqüila e quietinha.  
Vive sempre falando sozinha.  
Está tão velhinha!  
A mãe da minha mãezinha.

Este garoto paparicado  
Que não pode se sujar.  
De bermuda até os joelhos.  
O filho do tio Edgar.



É a menina mais meiga  
Que não sabe dizer, "não"!  
Sua voz transmite candura.  
É a irmã do meu irmão.

É bem mais velho do que eu  
E somos muito amigos.  
Também filho de meus pais.  
E se parece comigo.



*Graça Batituci*

♦ Escolha três pessoas de sua família e faça trovinhas com elas.

*A família que ora unida, permanece unida.*



Pai ...

Você é o meu Super-Heroi.

Neste dia Especial quero que você saiba o quanto eu

**TE AMO**

Que tenha um Dia Super Feliz

Do seu/sua filho/a  
que lhe ADORA

Ass:-----



NOME :

DATA : 05 /08 / 2021

LEIA:

QUERIDO PAPAI

CHEGUE MAIS CEDO DO SEU TRABALHO.

MÃMÃE E EU ESTAMOS PREPARANDO UMA SURPRESA PARA VOCÊ.

ABRAÇO DO SEU FILHO CASÇÃO

09-08-2015

ESTUDANDO ☺ ☺ TEXTO ☺

1-QUE TEXTO É ESTE ?

( ) RECEITA

( ) BILHETE

( ) CONVITE

2-O PAPAI DEVE CHEGAR MAIS CEDO DO:

( ) MERCADO

( ) AÇOUGUE

( ) TRABALHO

3-ELES ESTÃO PREPARANDO UMA:

( ) TORTA DE LIMÃO

( ) ROTINA

( ) SURPRESA

4-O FILHO SE DESPEDIU COM UM:

( ) BEIJO

( ) ABRAÇO

( ) APLAUSO

5-O PERSONAGEM QUE ESCREVEU O BILHETE É O :

( ) CEBOLINHA

( ) CASÇÃO

( ) CHICO BENTO



## CAFÉ CREMOSO FÁCIL

DIA DOS PAIS

### INGREDIENTES:

- 50 G DE CAFÉ SOLÚVEL (NESCAFÉ)
- 2 XÍCARAS DE AÇÚCAR REFINADO
- 1 XÍCARA DE ÁGUA

### MODO DE FAZER:

BATER TODOS OS INGREDIENTES NA BATEDEIRA ATÉ FORMAR UM CREME MARROM CLARO E FIRME.

PARA BEBER É SÓ ACRESCENTAR 1 COLHER DE SOBREMESA DO CREME A 1 XÍCARA DE CAFÉ OU LEITE FERVENTE.

NEM PRECISA ADOÇAR! FICA ESPUMOSO .

GUARDE NA GELADEIRA EM POTE FECHADO.



FONTE: <http://www.tudogostoso.com.br>

[blogdaprofessoraedivania.blogspot.com.br](http://blogdaprofessoraedivania.blogspot.com.br)

## RESPONDA:

1-QUE TIPO DE TEXTO É ESTE ?

---

2-VAI ENSINAR A FAZER O QUÊ ?

---

3-ESCREVA OS NOMES DOS INGREDIENTES.

---

4-QUANDO O CREME ESTIVER PRONTO, COMO ELE DEVERÁ FICAR ?

---

5-COMO ELE DEVERÁ SER GUARDADO ?

---



[blogdaprofessoraedivania.blogspot.com.br](http://blogdaprofessoraedivania.blogspot.com.br)



ESCOLA: \_\_\_\_\_

PROFESSOR(A): \_\_\_\_\_

EU SOU: \_\_\_\_\_

DATA : 06/ 08 / 2021

O DIA DOS PAIS ,NO BRASIL, É COMEMORADO NO SEGUNDO DOMINGO DO MÊS DE AGOSTO .

## ENTREVISTA COM O PAPAÍ

( SE NÃO TIVER PAI , ENTREVISTE A PESSOA QUE VOCÊ GOSTE IGUAL )

SEU NOME É: \_\_\_\_\_

SUA PROFISSÃO: \_\_\_\_\_

SUA COMIDA FAVORITA: \_\_\_\_\_

SUA COR PREDILETA: \_\_\_\_\_

SEU TIME DE FUTEBOL: \_\_\_\_\_

QUALIDADES: \_\_\_\_\_

DEFEITOS: \_\_\_\_\_

ELE CARREGA NA CARTEIRA: \_\_\_\_\_

SUA MÚSICA PREFERIDA: \_\_\_\_\_

O QUE ELE MAIS AMA NA VIDA: \_\_\_\_\_

SEU MAIOR SONHO: \_\_\_\_\_



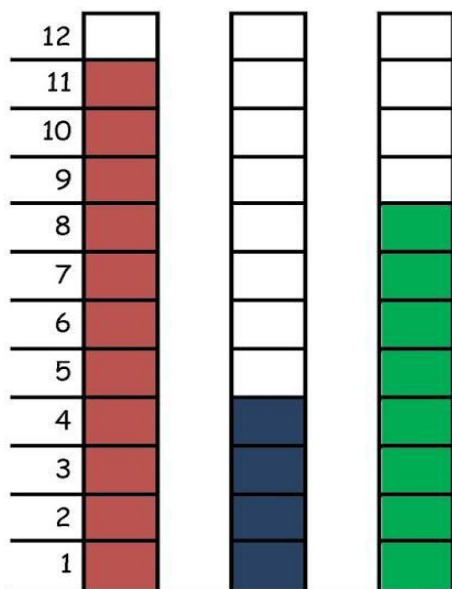
NOME :

DATA : 06 / 08 / 2021

### A PARTIDA DE FUTEBOL

PAPAI CEBOLA, O CEBOLINHA E O VOVÔ JOGARAM UMA PARTIDA DE FUTEBOL.

VEJA A QUANTIDADE DE GOLS QUE CADA UM MARCOU:



1-QUEM MARCOU MAIS GOLS ? \_\_\_\_\_

2-QUEM MARCOU MENOS GOLS ? \_\_\_\_\_

3-QUAL FOI O TOTAL DE GOLS DESSA PARTIDA ? \_\_\_\_\_

4-REGISTRE NA TABELA A QUANTIDADE DE GOLS DE CADA UM, REPRESENTANDO COM NÚMEROS E DESENHOS:

PAPAI		
VOVÔ		
CEBOLINHA		

Referências :

[WWW.Blog educação e transformação ;](#)

[WWW.Cantinho do saber ;](#)

[WWW.Misturas da alegria ;](#)

[WWW.LIPITUPI , org;](#)

[WWW.Cantinho educativo ;](#)

[WWW.IDEIA CRIATIVA](#)

[WWW.EDUCAR X. COM](#)

[WWW.BLOG PROFESSORA EDIVANI BLOGS POST.COM](#)