



Prefeitura da Estância Turística de
IBIÚNA
TRANSFORMAÇÃO RESPONSÁVEL. CUIDANDO DE PESSOAS.



E.M.VEREADOR LOURIVAL CORREIA ARAUJO

9ª APOSTILA



ALUNO (A):

TURMA: 4º Ano B

PROFESSORA: Cleonice Flor de Lima Arjona

E.M. VEREADOR LOURIVAL CORREIA DE ARAÚJO

ATIVIDADES NÃO PRESENCIAIS

4º ANO B

PERÍODO DE: 09 A 26 DE AGOSTO DE 2021

PROFESSORA: CLEONICE FLOR DE LIMA ARJONA

3º BIMESTRE

9ª APOSTILA

09/08	Sequência Didática Olimpíadas	<ul style="list-style-type: none">➤ Texto informativo: História das Olimpíadas;➤ Leitura e Interpretação do texto.
10/08	Sequência Didática Olimpíadas	<ul style="list-style-type: none">➤ Responder as perguntas utilizando o banco de palavras;➤ Caça Palavras.
11/08	Sequência Didática Olimpíadas	<ul style="list-style-type: none">➤ Completar as palavras com as vogais;➤ Separação de sílabas.
12/08	Sequência Didática Olimpíadas	<ul style="list-style-type: none">➤ Texto Informativo: "Paraolimpíadas" Leitura e interpretação➤ Matemática paraolímpica.
13/08	Sequência Didática Olimpíadas	<ul style="list-style-type: none">➤ Soma das medalhas; atletas paralimpicos.➤ Somos todos diferentes;➤ Racismo.➤ Enigma paraolímpica
14/08	Sequência Didática Olimpíadas	<ul style="list-style-type: none">➤ Sequência numérica; adição;➤ Bocha

Senhores pais:

Estamos entregando a 9ª apostila, referente ao 3º Bimestre.

A mesma deverá ser devolvida no dia 30/08, segunda-feira, das 08:00 até às 16:00 horas.

Conto com a participação de todos na realização das atividades propostas. Qualquer dúvida pode entrar em contato comigo. (11)997911086.

Escola _____

Professor(a): _____ Data: ____/____/____

Aluno(a): _____



Habilidades de acordo com a BNCC: EF35LP01, EF35LP03, EF35LP03 e EF35LP04.

HISTÓRIA DAS OLIMPIADAS



Olimpíadas ou Jogos Olímpicos são competições esportivas, realizadas a cada quatro anos, onde participam atletas de todos os continentes do mundo.

Considerado o maior evento esportivo do planeta, os Jogos Olímpicos são realizados há mais de 2 mil anos, com o objetivo estimular a competição sadia entre os povos dos cinco continentes.

Originalmente, os Jogos Olímpicos aconteciam na cidade grega de Olímpia (por isso o nome Olimpíadas), por volta do século VIII a.C, onde várias competidores participavam de jogos em homenagem à honra de Zeus (deus dos deuses), e da deusa Hera (deusa da maternidade).

No final do século XIX, em 1894, o historiador francês Pierre de Coubertin (conhecido como Barão de Coubertin), inspirado nas histórias sobre as Olimpíadas da Grécia Antiga, fundou o Comitê Olímpico Internacional (COI), órgão responsável por organizar os Jogos Olímpicos da Modernidade.

Os primeiros Jogos Olímpicos da Era Moderna foram realizados em 1896, na cidade de Atenas, na Grécia, reunindo participantes de 13 países.

Os Jogos Olímpicos de Verão 2020, comumente conhecida como Tóquio 2020, foram adiados para o verão de 2021, por conta da Pandemia de COVID-19. O evento está programado para acontecer na capital japonesa, Tóquio, entre 23 de julho e 8 de agosto de 2021.

A mascote dos Jogos Olímpicos de 2020 foi batizada de Miraitowa, a combinação das palavras japonesas Mirai (futuro) e Towa (eternidade), que representa o desejo de um futuro cheio de esperança nos corações de todos as pessoas do mundo.

Adaptado de: <https://www.significadas.com.br/olimpiadas/>

<https://brasilescola.uol.com.br/educacao-fisica/olimpiadas-toquio-2020.htm>

1) Após a leitura do texto, responda.

a) O que são Olimpíadas?

b) De quanto em quanto tempo ocorrem as Olimpíadas?

c) Quem fundou o Comitê Olímpico Internacional (COI), órgão responsável por organizar os Jogos Olímpicos da Modernidade?

d) Por qual motivo os Jogos Olímpicos de Verão 2020 foram adiados para o verão de 2021?

e) Em qual data os Jogos Olímpicos de Verão 2020 estão programados para acontecer?

f) O que representa o nome da mascote dos Jogos Olímpicos de 2020?

2) Complete a cruzadilha.

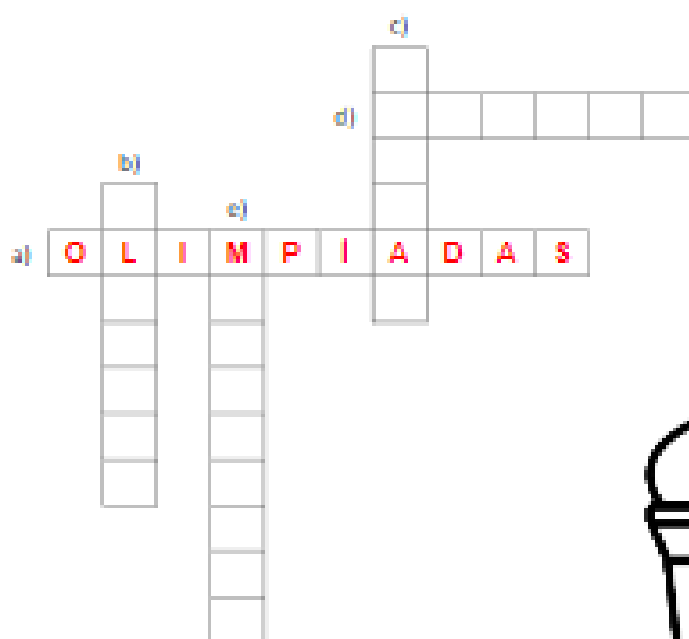
a) Competições de diferentes modalidades esportivas, que ocorrem a cada 4 anos. **OLIMPIADAS**

b) Cidade grega onde foram realizados os Jogos Olímpicos por volta do século VIII a.C.

c) Cidade grega onde ocorreram os primeiros Jogos Olímpicos da Era Moderna, em 1896.

d) Capital Japonesa que sediará os Jogos Olímpicos de Verão 2020, realizados em 2021.

e) Nome da mascote dos Jogos Olímpicos de 2020.



3) Sobre os Jogos Olímpicos, é correto afirmar:

(A) É uma competição esportiva, com o objetivo de despertar o ódio entre os povos.

(B) Está programado para acontecer no Brasil, entre 23 de julho e 8 de agosto de 2021.

(C) Os primeiros Jogos Olímpicos da Era Moderna foram realizados em 1896, no Japão.

(D) Os Jogos Olímpicos de Verão 2020, comumente conhecido como Tóquio 2020, estão programados para acontecer entre 23 de julho e 8 de agosto de 2021.

Escola: _____
Nome: _____ Data: _____
Turma: _____ Série: _____ Prof.: _____

Responda das perguntas utilizando o banco de palavras:

- 1 – A PRIMEIRA OLIMPÍADA ACONTECEU NA _____.
- 2 – O PRIMEIRO COLOCADO RECEBE A MEDALHA DE _____.
- 3 – A _____ FICA ACESA DURANTE TODA A DISPUTA DAS OLIMPÍADAS.
- 4 – O TERCEIRO COLOCADO RECEBE A MEDALHA DE _____.
- 5 – A OLIMPÍADA DE 2021 ACONTECERÁ NO _____.
- 6 – O ESPORTE EM QUE OS ATLETAS UTILIZAM UMA BICICLETA É O _____.
- 7 – O SEGUNDO COLOCADO RECEBE A MEDALHA DE _____.
- 8 – O ESPORTE EM QUE OS ATLETAS UTILIZAM UMA RAQUETE É O _____.
- 9 – A DISPUTA DA MARATONA FAZ PARTE DO _____.
- 10 – O ESPORTE EM QUE UMA REDE DIVIDE AS EQUIPES É O _____.


JAPÃO

TÊNIS

TOCHA

GRÉCIA

CICLISMO



ATLETISMO

VOLEIBOL

OURO

PRATA

BRONZE

NOME: _____

DATA: ___ / ___ / ___



CAÇA-PALAVRAS DAS OLIMPIADAS 2021

A	E	E	A	E	E	T	C	N	T	D	H
W	I	S	O	E	N	K	E	N	F	U	S
R	D	G	Y	O	O	I	G	E	L	E	G
N	C	R	A	I	A	U	I	E	P	S	H
O	R	I	N	S	H	B	T	C	A	T	U
R	L	M	C	T	I	S	N	L	L	H	A
H	H	A	O	L	P	P	T	E	O	C	A
E	R	E	I	O	I	O	N	I	N	D	E
R	D	L	S	T	S	S	S	I	R	T	L
U	H	L	O	E	M	Y	M	E	T	I	L
D	H	A	P	O	O	U	S	O	E	O	I
W	E	H	I	N	I	A	N	C	E	B	D

CICLISMO - SALTOS - HIPISMO - ESGRIMA



NOME: _____

DATA: ___ / ___ / ___

COMPLETE AS PALAVRAS COM AS VOGAIS



FR ___ NÇ ___



G ___ RG ___



GR ___ C ___



___ SR ___ L



___ T ___ L ___



NOME: _____

DATA: ___ / ___ / ___



SEPARE AS SÍLABAS DAS PALAVRAS
RELACIONADAS AOS JOGOS OLIMPÍCOS:

FUTEBOL

=

FLECHA

=

FRANÇA

=

FAIXA

=

FOGO

=

FITAS

=





PARALIMPÍADAS

PARAOLIMPÍADAS OU PARALIMPÍADAS É UMA VERSÃO DOS JOGOS OLÍMPICOS ADAPTADA PARA ATLETAS PORTADORES DE DEFICIÊNCIA FÍSICA OU SENSORIAL.

VAMOS CONHECER UM ATLETA PARALÍMPICO BRASILEIRO:



ESSE É DANIEL DIAS.

ELE É UM NADADOR PARALÍMPICO.

DANIEL JÁ GANHOU 24 MEDALHAS NAS PARALIMPÍADAS.



1) QUAL O NOME DO ATLETA ACIMA? _____

2) QUANTAS MEDALHAS DANIEL JÁ GANHOU EM JOGOS PARALÍMPICOS? _____

3) CIRCULE ABAIXO QUAL O ESPORTE QUE DANIEL COMPETE:

FUTEBOL

NATAÇÃO

JUDÔ

BOXE

DANIEL GANHOU VINTE E QUATRO MEDALHAS NAS PARALIMPIADAS.

4) PINTE O NUMERAL QUE REPRESENTA QUANTAS MEDALHAS DANIEL JÁ GANHOU.

2

40

20

24

12

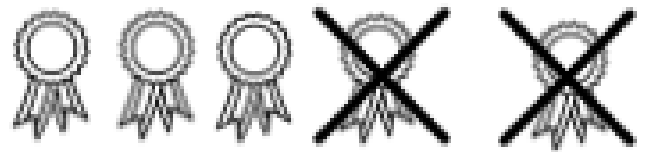
14

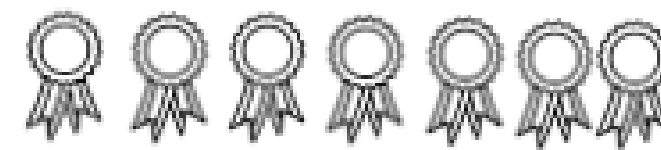
5) VAMOS PREENCHER A SEQUÊNCIA NUMÉRICA ATÉ O NÚMERO 30. DEPOIS PINTE NESTA SEQUÊNCIA O NÚMERO 24.


1	2	3							
11	12								
21	22	23							30

DANIEL RESOLVEU SEPARAR SUAS MEDALHAS.

ELE QUERIA SEPARAR APENAS AS MEDALHAS QUE ERAM DAS PARALIMPIADAS. FAÇA COMO NO EXEMPLO PARA AJUDAR DANIEL:


— =






— =


— =

NOME: _____

DATA: ___ / ___ / ___

VAMOS COLORIR SOMENTE AS MEDALHAS
CUJO A SOMA DOS NÚMEROS É 10



VAMOS OBSERVAR ALGUNS ATLETAS DAS OLIMPIADAS OU PARALIMPIADAS ABAIXO:



ANALISE AS IMAGENS E RESPONDA AS QUESTÕES ABAIXO:

1) TODOS SÃO IGUAIS? () SIM () NÃO

2) TODOS MERECEM RESPEITO? () SIM () NÃO

3) VOCÊ ACHA CERTO ALGUÉM SER EXPULSO DE UM ESPORTE SOMENTE PELO SEU CORPO?

() SIM () NÃO

TODAS AS PESSOAS SÃO DIFERENTES.

TODAS MERECEM RESPEITO E POSSUEM OS MESMOS DIREITOS.

VAMOS ANALISAR AS SUAS CARACTERÍSTICAS:

MEU CORPO

MINHA ALTURA: _____

MEU PESO: _____

COR DA MINHA PELE: _____

COR DOS MEUS CABELOS: _____

TIPO DE CABELO: _____

COR DOS MEUS OLHOS: _____

SOMOS TODOS DIFERENTES

OBSERVE AS CRIANÇAS ABAIXO.

DÊ UM NOME PARA CADA UMA DELAS E ESCREVA COM AJUDA DE UM ADULTO NOS ESPAÇOS A SEGUIR:



AGORA VAMOS RESPONDER AS QUESTÕES A SEGUIR:

1) TODAS ESSAS CRIANÇAS SÃO IGUAIS? _____

2) TODAS ESSAS CRIANÇAS MERECEM RESPEITO? _____

3) QUAIS AS CRIANÇAS QUE ESTÃO USANDO ÓCULOS?

4) QUAIS SÃO MENINOS? _____

5) QUAIS SÃO MENINAS? _____

6) QUEM ESTÁ JOGANDO BOLA? _____

CONTE QUANTAS CRIANÇAS HÁ NA PÁGINA ANTERIOR E REGISTRE:

7) ESCREVA O NOME DO NUMERAL QUE VOCÊ ESCREVEU NA RESPOSTA ANTERIOR:

8) LIGUE OS NUMERAIS AO NOME DE CADA UM POR EXTENSO:

5

SETE

6

CINCO

7

SEIS

VAMOS CONHECER MAIS UM JOGADOR:



ESSE É BETO.

BETO É UM JOGADOR DE BASQUETE MUITO BOM!

UM DIA, UMA PESSOA GRITOU PARA BETO:

- VOCÊ É FEIO, PARECE UM MACACO!

1) QUAL O NOME DO JOGADOR? _____

2) QUAL ESPORTE ELE JOGA? _____

3) DE QUAL ANIMAL A PESSOA CHAMOU BETO? _____

4) COMO VOCÊ ACHA QUE BETO SE SENTIU? MARQUE A OPÇÃO:

TRISTE

FELIZ

5) VOCÊ ACHA QUE ESSA PESSOA QUE CHAMOU BETO DE MACACO FEZ:

UMA COISA BOA

UMA COISA RUIM

O QUE ESSA PESSOA FEZ CONTRA BETO É CHAMADO DE:

RACISMO

6) QUANTAS LETRAS TÊM ESSA PALAVRA? _____

7) CIRCULE AS VOGAIS DESSA PALAVRA: _____

BETO RECEBEU VÁRIAS MENSAGENS NO WHATSAPP DE AMIGOS QUE DIZIAM O QUANTO ELE ERA ESPECIAL E UM BOM JOGADOR.

8) COMPLETE A MENSAGEM PARA O WHATSAPP DE BETO ABAIXO COM ALGUMA PALAVRA DE CARINHO.



QUAL É O ESPORTE ?

OBSERVE O CÓDIGO ABAIXO:

MO



DÔ



BO



TE



XE



JU



RE



FU



BOL



CHA



ESCREVA A SÍLABA DE CADA DESENHO PARA DESCOBRIR O NOME DE ALGUNS ESPORTES QUE ENCONTRAMOS NAS OLIMPIADAS OU PARALIMPIADAS:



+



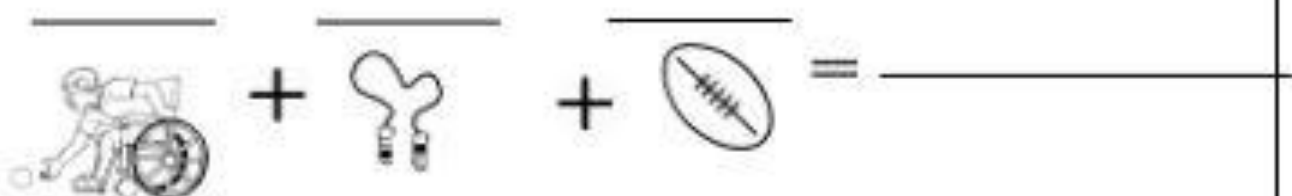
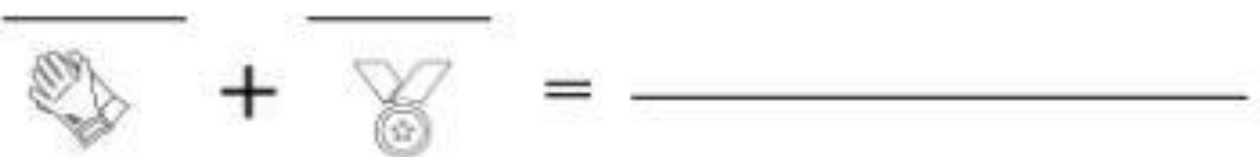
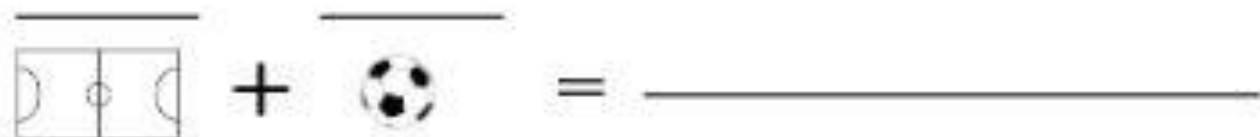
=



+



=



LEIA JUNTO COM UM ADULTO OS NOMES DOS ESPORTES QUE SE FORMARAM.

CIRCULE AQUELE ESPORTE QUE VOCÊ NUNCA OUVIU FALAR.

ESCREVA ABAIXO OS ESPORTES QUE VOCÊ CIRCULOU:

BOCHA

BOCHA É UM JOGO DE LANÇAR BOLA S.
 FAZ MAIS PONTOS QUEM CONSEGUIR JOGAR A
 BOLA MAIS PERTO DA BOLA MENOR.
 A BOLA MENOR É CHAMADA DE BOLIM.



A BOCHA É UM ESPORTE QUE EXISTE NOS JOGOS PARALÍMPICOS.



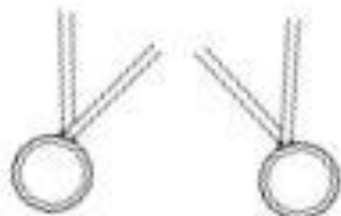
ELISEU DOS SANTOS

PESQUISE NA INTERNET COM AJUDA DE UM ADULTO ALGUMAS INFORMAÇÕES SOBRE O ATLETA ELISEU DOS SANTOS.

NOME DO ATLETA: _____

QUANTOS ANOS ELE TEM? _____

QUANTAS MEDALHAS ELE JÁ GANHOU?



OURO

PRATA

BRONZE

E.M. VEREADOR LOURIVAL CORREIA DE ARAÚJO

ATIVIDADES NÃO PRESENCIAIS

4º ANO B

PERÍODO DE: 09 A 26 DE AGOSTO DE 2021

PROFESSORA: CLEONICE FLOR DE LIMA ARJONA

3º BIMESTRE

9ª APOSTILA

16/08	Língua Portuguesa Matemática	<ul style="list-style-type: none">➤ Leitura e interpretação do texto: A lenda do Uirapuru; Adivinhas.➤ Dúzia: adição e multiplicação; problemas.
17/08	Língua Portuguesa História	<ul style="list-style-type: none">➤ Ler e responder a Tirinha; pintar as letras e formar palavras.➤ Contagem dos séculos.
18/08	Matemática Geografia	<ul style="list-style-type: none">➤ Tabuada do 5 e 6; multiplicação.➤ Capitais, Estados e Siglas.
19/08	Língua Portuguesa Ciências	<ul style="list-style-type: none">➤ Leitura e Interpretação do texto: A Lenda do Girassol; Caligrafia.➤ Animais domésticos e selvagens; Habitat.
20/08	Língua Portuguesa Matemática	<ul style="list-style-type: none">➤ Leitura do texto: Pinóquio.➤ Multiplicação; pintar como se pede.

Nome: _____
Data: __/__/__

Leia o texto para responder as perguntas

A lenda do Urupuru

A lenda do Urupuru é a lenda de um pássaro especial, pois dizem que ele é mágico, quem o encontra pode ter um desejo especial realizado. O Urupuru é um símbolo de felicidade.

Diz a lenda que um jovem guerreiro se apaixonou pela esposa do grande cacique. Por se tratar de um amor proibido não poderia se aproximar dela. Sendo assim, pediu ao Deus Tupã que o transformasse em um pássaro. Tupã transformou-o em um pássaro vermelho telha, com um lindo canto. O cacique foi quem logo observou o canto maravilhoso daquele pássaro. Ficou tão fascinado que passou a perseguir o pássaro para aprisioná-lo e ter seu canto só para ele. Na ânsia de capturar o pássaro, o cacique se perdeu na floresta.

Todas as noites o Urupuru canta para a sua amada. Tem esperança que um dia ela descubra o seu canto e saiba que ele é o jovem guerreiro.

Curiosidades: O Urupuru é uma ave muito comum na Amazônia Brasileira. Possui um canto longo, de uma melodia suave. Dizem que ele canta cerca de quinze dias por ano. Os nativos da floresta relatam que quando o Urupuru canta, toda a floresta fica em silêncio rendendo-lhe homenagem.

Disponível em: <https://anafundamental1.wordpress.com/lendas-e-mitos-do-brasil/>

1. As lendas são:

- a) Histórias reais b) Contos de Fadas c) História Populares d) Fábulas.

2. O Urupuru é um personagem real ou fictício? Explique por quê?

3. No segundo parágrafo do texto, no trecho "Tupã transformou-o em um pássaro vermelho telha", explique por que o autor utilizou o termo "o", e a quem esse termo está se referindo.

4. Por que segundo o texto toda a floresta fica em silêncio quando o Urupuru canta?



Nome: _____
Data: __/__/__

Adivinhas. Descubra com as palavras abaixo:

O ar	A sombra
As estrelas	A chuva

1. Qual é a coisa, qual é ela, que entra na água e não se molha? _____
2. Sempre quietas, sempre agitadas. Dormindo de dia, de noite acordadas. _____
3. Sou mais vasto do que o mar e ninguém me pode ver, todo o mundo é meu lugar, sem mim não podes viver! _____
4. Qual é a coisa, qual é ela, que cai de pé e corre deitada? _____



NOME: _____

DATA: ____/____/____

	<table border="1" style="width: 100%; border-collapse: collapse;"> <tr><td style="text-align: center;"><u>D</u></td><td style="text-align: center;"><u>U</u></td></tr> <tr><td style="text-align: center;">1</td><td style="text-align: center;">2</td></tr> <tr><td style="text-align: center;">1</td><td style="text-align: center;">2</td></tr> <tr><td style="text-align: center;">2</td><td style="text-align: center;">4</td></tr> </table>	<u>D</u>	<u>U</u>	1	2	1	2	2	4	<p>← ADIÇÃO E MULTIPLICAÇÃO →</p> 	<table border="1" style="width: 100%; border-collapse: collapse;"> <tr><td style="text-align: center;"><u>D</u></td><td style="text-align: center;"><u>U</u></td></tr> <tr><td style="text-align: center;">1</td><td style="text-align: center;">2</td></tr> <tr><td style="text-align: center;">2</td><td style="text-align: center;">4</td></tr> </table> 	<u>D</u>	<u>U</u>	1	2	2	4
<u>D</u>	<u>U</u>																
1	2																
1	2																
2	4																
<u>D</u>	<u>U</u>																
1	2																
2	4																

Quantos são 1 dúzias?

Quantos são 2 dúzias?

Quantos são 3 dúzias?

Quantos são 4 dúzias?

Quantos são 5 dúzias?

Quantos são 6 dúzias?

Quantos são 7 dúzias?

Quantos são 8 dúzias?

Quantos são 9 dúzias?

NOME: _____

DATA: ____/____/____

RESPONDA COM ATENÇÃO



- Helitor comprou uma dúzia de flores, mas deu de presente para sua família 6. Quantos restaram?

R: _____

- Marcos tinha três dúzias de carrinhos, mas precisou dar de presente para seu irmão a metade. Quantos carrinhos ficou?

R: _____

- Evandro ganhou duas dúzias de balas e uma dúzia de pirulito. Quantos doce ele ganhou ao todo?

R: _____

Nome: _____
Data: __/__/__

Leia e responda



Copyright © 2002 Maurício de Sousa Produções Ltda. Todos os direitos reservados.

6586

1. Esse texto é uma:

Carta

Receita

Tirinha

2. Qual animal é parte do diálogo?

Gato

Boi

Cavalo

3. O que mais causa tensão no texto?

O número de gados

A tristeza do Chico

O exibimento do menino



Nome: _____
Data: __/__/__

FORME AS PALAVRAS
PINTANDO AS LETRAS CERTAS E
ESCREVA

	PINTE	ESCREVA
	QRUTE IMOJ	
	ECNRIO RNURA	
	AARBT NINPA	
	STRANIDU YICRHNE	
	ASRONVYT EE	



Nome: _____

Data: __/__/__

CONTAGEM DOS SÉCULOS

ANO	SÉCULO	ANO	SÉCULO
1 a 100	I	1001 a 1100	XI
101 a 200	II	1101 a 1200	XII
201 a 300	III	1201 a 1300	XIII
301 a 400	IV	1301 a 1400	XIV
401 a 500	V	1401 a 1500	XV
501 a 600	VI	1501 a 1600	XVI
601 a 700	VII	1601 a 1700	XVII
701 a 800	VIII	1701 a 1800	XVIII
801 a 900	IX	1801 a 1900	XIX
901 a 1000	X	1901 a 2000	XX

1- Em que século você nasceu?

2- Em que século seus pais nasceram?

3- Em que século nós estamos?

- **SÉCULO V** – Terminou no ano **500**
- **SÉCULO X** – Terminou no ano **1000**
- **SÉCULO XIV** – Terminou no ano **1400**
- **SÉCULO XVIII** – Terminou no ano **1800**
- **SÉCULO XX** – Terminou no ano **2000**
- **SÉCULO XXII** vai terminar em **2200**

4- Em que ano o século XXIII vai terminar?



Nome: _____
Data: __/__/__

TABUADA

$5 \times 0 = 0$

$5 \times 1 = 05$

$5 \times 2 = 10$

$5 \times 3 = 15$

$5 \times 4 = 20$

$5 \times 5 = 25$

$5 \times 6 = 30$

$5 \times 7 = 35$

$5 \times 8 = 40$

$5 \times 9 = 45$

$5 \times 10 = 50$

$6 \times 0 = 0$

$6 \times 1 = 06$

$6 \times 2 = 12$

$6 \times 3 = 18$

$6 \times 4 = 24$

$6 \times 5 = 30$

$6 \times 6 = 36$

$6 \times 7 = 42$

$6 \times 8 = 48$

$6 \times 9 = 54$

$6 \times 10 = 60$



$5 \times 3 =$	$5 \times 5 =$	$5 \times 9 =$
$6 \times 2 =$	$6 \times 4 =$	$6 \times 7 =$



Nome: _____
Data: __/__/__

TABUADA DO 5

COMPLETE CORRETAMENTE

$5 \times 1 = \dots\dots\dots$

$5 \times 6 = \dots\dots\dots$

$5 \times 2 = \dots\dots\dots$

$5 \times 7 = \dots\dots\dots$

$5 \times 3 = \dots\dots\dots$

$5 \times 8 = \dots\dots\dots$

$5 \times 4 = \dots\dots\dots$

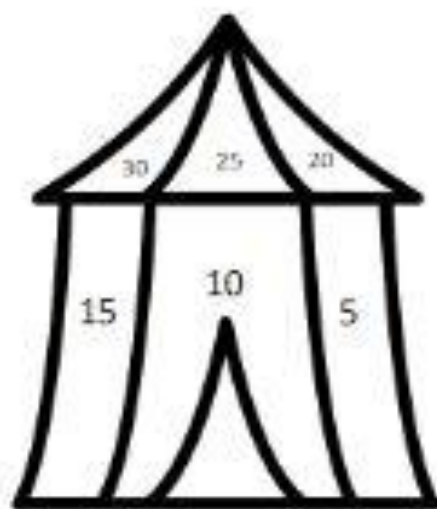
$5 \times 9 = \dots\dots\dots$

$5 \times 5 = \dots\dots\dots$

$5 \times 10 = \dots\dots\dots$

COMPLETE A SEQUÊNCIA

5			20			35		
---	--	--	----	--	--	----	--	--



PINTE DE ACORDO COM A RESPOSTA

5 X 1 - AZUL
5 X 2 - VERMELHO
5 X 3 - VERDE
5 X 4 - ROSA
5 X 5 - AMARELO
5 X 6 - LARANJA



Nome: _____
Data: __/__/__

ESTUDE AS CAPITALS E SIGLAS DOS ESTADOS

Estados	Capitais	Siglas
Acre	Rio Branco	AC
Alagoas	Maceió	AL
Amapá	Macapá	AP
Amazonas	Mãrãna	AM
Bahia	Salvador	BA
Ceará	Fortaleza	CE
Distrito Federal*	Brasília	DF
Espírito Santo	Vitória	ES
Goiás	Goiânia	GO
Maranhão	São Luís	MA
Mato Grosso	Cuiabá	MT
Mato Grosso do Sul	Campo Grande	MS
Minas Gerais	Belo Horizonte	MG
Pará	Belém	PA
Paraíba	João Pessoa	PB
Paraná	Curitiba	PR
Pernambuco	Recife	PE
Pernambuco	Recife	PE
Piauí	Teresina	PI
Rio de Janeiro	Rio de Janeiro	RJ
Rio Grande do Norte	Natal	RN
Rio Grande do Sul	Porto Alegre	RS
Rondônia	Porto Velho	RO
Roraima	Boa Vista	RR
Santa Catarina	Florianópolis	SC
São Paulo	São Paulo	SP
Sergipe	Araguari	SE
Tocantins	Palmas	TO



Nome: _____

Data: __/__/__

LIGUE OS ESTADOS ÀS CAPITALS CORRETAS

Estados
Acre
Alagoas
Amapá
Amazonas
Bahia
Ceará
Distrito Federal*
Espírito Santo
Goiás
Maranhão
Mato Grosso
Mato Grosso do Sul
Minas Gerais
Pará
Paraíba
Paraná
Pernambuco
Piauí
Rio de Janeiro
Rio Grande do Norte
Rio Grande do Sul
Rondônia
Roraima
Santa Catarina
São Paulo
Sergipe
Tocantins

Capitais
João Pessoa
Belo Horizonte
Natal
Goiânia
Maceió
Porto Alegre
Curitiba
Porto Velho
Maceió
São Luís
Boa Vista
São Paulo
Rio Branco
Florianópolis
Vitória
Rio de Janeiro
Belém
Manaus
Campo Grande
Palmas
Salvador
Recife
Teresina
Aracaju
Fortaleza
Curitiba
Brasília



Nome: _____
Data: __/__/__

Leia o texto para responder as perguntas



A lenda do girassol

Contam os livros antigos uma lenda que fala do amor de uma estrela pelo Sol – a lenda do girassol.

Dizem que existia no céu uma estrelinha tão apaixonada pelo Sol que era a primeira a aparecer de tardinha, no céu, antes que o Sol se escondesse. E toda vez que o Sol se punha ela chorava lágrimas de chuva.

A Lua falava com a estrelinha que assim não podia ser que estrela nasceu para brilhar de noite, para acompanhar a Lua pelo céu, e que não tinha sentido este amor tão desmedido! Mas a estrelinha amava cada rai do Sol como se fosse a única luz da sua vida, esquecia até a sua própria luzinha.

Um dia ela foi falar com o rei dos ventos para pedir a sua ajuda, pois queria ficar olhando o Sol, sentindo o seu calor, eternamente, por todos os séculos.

O rei do vento, cheio de brisas, disse à estrelinha que o seu sonho era impossível, a não ser que ela abandonasse o céu e fosse morar na Terra, deixando de ser estrela.

A estrelinha não pensou duas vezes: virou estrela cadente e caiu na terra, em forma de uma semente.

O rei dos ventos plantou esta sementinha com todo o carinho, numa terra bem macia. E regou com as mais lindas chuvas da sua vida.

A sementinha virou planta. Cresceu sempre procurando ficar perto do Sol. As suas pétalas foram se abrindo, girando devagarzinho, seguindo o giro do sol no céu. E, assim, ficaram pintadas de dourado, da cor do sol.

É por isso que os girassóis até hoje explodem o seu amor em lindas pétalas amarelas, inventando verdadeiras estrelas de flores aqui na Terra.

Disponível em: <<https://anafundamental1.wordpress.com/lendas-e-mitos-do-brasil/>>

1. Por qual motivo a estrela resolveu morar na terra?

2. O que impedia a estrela de seguir o sol?

3. Do que se tratam as lendas?



Nome: _____
Data: __/__/__

Caligrafia



Aa Bb Cc Dd Ee

Ff Gg Hh Ii Jj

Kk Ll Mm Nn Oo

Pp Qq Rr Ss Tt

Uu Vv Ww Xx Yy

Zz



ANIMAIS DOMÉSTICOS E SELVAGENS




ANIMAIS DOMÉSTICOS

ANIMAIS SELVAGENS

➤ ESCREVA O NÚMERO 1 PARA OS ANIMAIS DOMÉSTICOS E 2 PARA OS ANIMAIS SELVAGENS:



--	--	--



--	--	--

HABITAT

1 - LIGUE CADA ANIMAL AO AMBIENTE ONDE VIVE:





PINÓQUIO:

GEPETO ERA UM VELHO CARPINTEIRO QUE SE SENTIA MUITO SOZINHO, MORAVA COM SEU GATINHO FIGARO E SEU PEIXE CLÉO. ENTÃO, TEVE A IDEIA DE FAZER UM BONECO DE MADEIRA, PARA NÃO SE SENTIR TÃO SOZINHO E LHE DEU O NOME DE PINÓQUIO.

QUANDO GEPETO TERMINOU O BONECO DE MADEIRA, LHE DEU O NOME DE PINÓQUIO E DESEJOU QUE ELE TIVESSE VIDA E PUDESSE SE TRANSFORMAR EM UM MENINO DE VERDADE.

DEPOIS QUE DORMIU, APARECEU A FADA AZUL E DEU VIDA PARA PINÓQUIO, O TRANSFORMANDO EM UM BONECO DE MADEIRA QUE PUDESSE ANDAR, FALAR, DANÇAR E PULAR.

MAS PINÓQUIO QUERIA MUITO SER UM MENINO DE VERDADE, ENTÃO A FADA AZUL LHE DISSE:

- SE VOCÊ FOR CORAJOSO, VERDADEIRO, BOM E NÃO FOR EGOISTA, UM DIA VOCÊ ACORDARÁ E TERÁ SE TRANSFORMADO EM UM MENINO DE VERDADE.

DEPOIS QUE A FADA AZUL FOI EMBORA, PINÓQUIO COMEÇOU A MEXER EM TUDO, FAZENDO UM BARULHÃO QUE ACORDOU GEPETO. ELE FICOU MUITO FELIZ E SURPRESO AO VER QUE SEU BONECO DE MADEIRA TINHA VIDA.

GEPETO QUERIA QUE PINÓQUIO FOSSE UM MENINO EDUCADO E ENTÃO O COLOCOU NA ESCOLA, MAS PINÓQUIO FUGIU E FOI SE DIVERTIR NO TEATRO DE BONECO.

O DONO DO TEATRO DE BONECOS QUERIA FICAR COM PINÓQUIO, MAS ELE CHOROU TANTO QUE O HOMEM LHE DEU UMAS MOEDAS DE OURO E O DEIXOU PARTIR.

NA VOLTA PARA CASA, ENCONTROU 2 LADRÕES QUE LHE ROUBOU. PINÓQUIO, TRISTE, RESOLVEU VOLTAR PARA CASA E OBEDECER GEPETO.

NO CAMINHO PINÓQUIO FOI AVISADO QUE GEPETO FOI PROCURÁ-LO NO MAR. FOI AO SEU ENCONTRO, MAS QUANDO VIU AS CRIANÇAS QUE IAM AO PAÍS DA ALEGRIA, RESOLVEU IR COM ELAS.

PINÓQUIO ESTAVA BRINCANDO QUANDO PERCEBEU QUE ESTAVA SE TRANSFORMANDO EM UM BURRO. CHOROU ARREPENDIDO.

FOI QUANDO A FADA AZUL APARECEU E DEFEZ O ENCANTO, MAS AVISOU:

_ TODA VEZ QUE MENTIR, SEU NARIZ VAI CRESCER.

FINALMENTE, PINÓQUIO CHEGOU EM CASA. AO CHEGAR, FICOU SABENDO QUE GEPETO FOI ENGOLIDO POR UMA BALEIA. CORREU PARA SALVÁ-LO.

CHEGANDO NO MAR, PINÓQUIO FOI PROCURAR GEPETO.

MAS, DE REPENTE, APARECEU UMA BALEIA, QUE O ENGOLIU E ANDANDO POR DENTRO DELA ENCONTROU GEPETO. QUANDO A BALEIA ABRIU A BOCA DE NOVO, ELAS CONSEQUIRAM FUGIR.

AO CHEGAR EM CASA, A FADA AZUL RECOMPENSOU A CORAGEM DE PINÓQUIO, O TRANSFORMANDO NUM MENINO DE VERDADE E FORAM FELIZES PARA SEMPRE.





AO CHEGAR EM CASA, A FADA AZUL RECOMPENSOU A CORAGEM DE PINÓQUIO, O TRANSFORMANDO NUM MENINO DE VERDADE E FORAM FELIZES PARA SEMPRE.



PINÓQUIO FICOU MUITO FELIZ DE SE TORNAR UM MENINO DE VERDADE, COMO TODOS OS OUTROS QUE CONHECIA.

RESOLVA AS OPERAÇÕES E PINTE COMO SE PEDE:

$10 \times 5 = \square$
PRETO

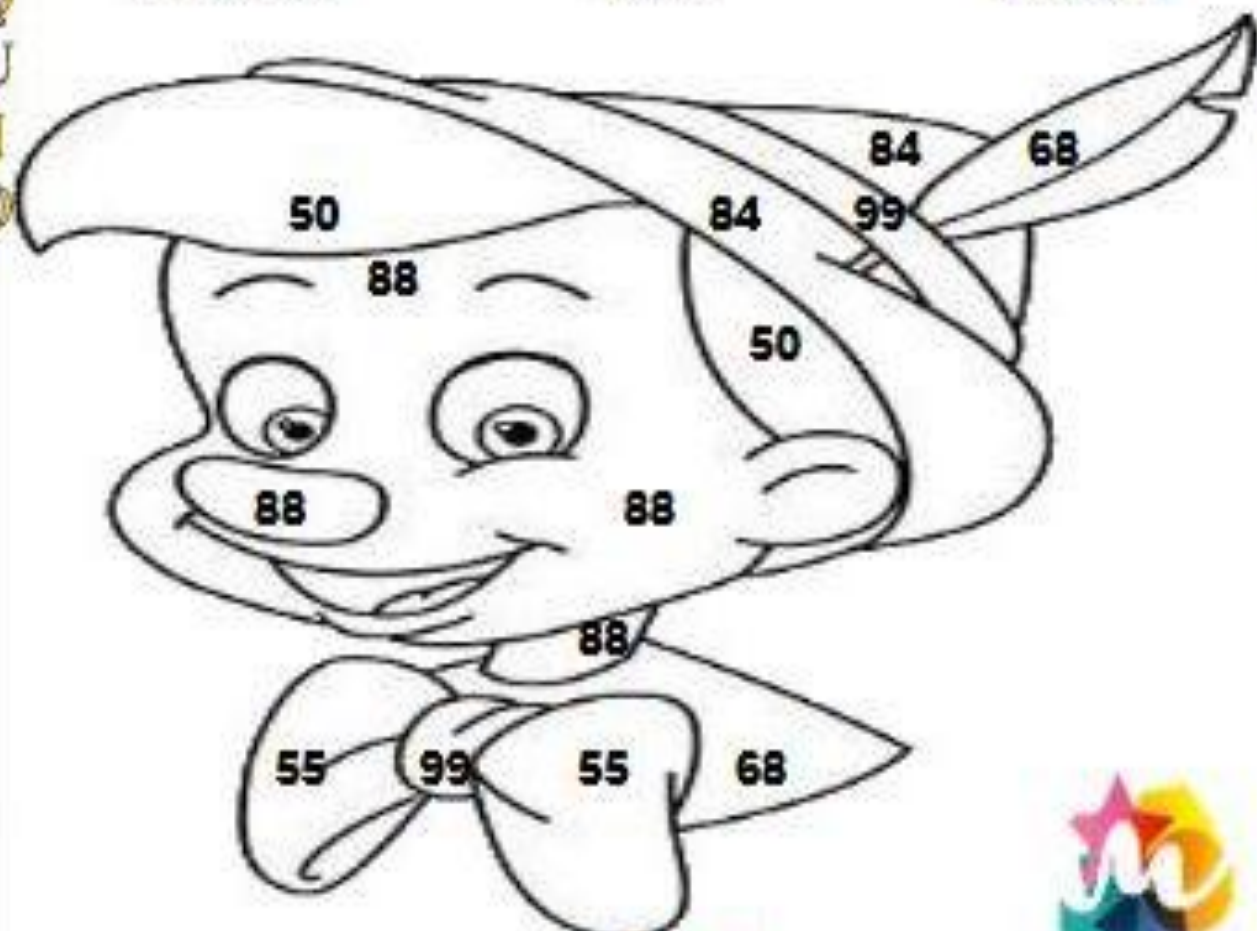
$22 \times 4 = \square$
ROSA

$34 \times 2 = \square$
VERDE

$33 \times 3 = \square$
VERMELHO

$11 \times 5 = \square$
AZUL

$21 \times 4 = \square$
MARROM



E.M. VEREADOR LOURIVAL CORREIA DE ARAÚJO

ATIVIDADES NÃO PRESENCIAIS

4º ANO B

PERÍODO DE: 09 A 26 DE AGOSTO DE 2021

PROFESSORA: CLEONICE FLOR DE LIMA ARJONA

3º BIMESTRE

9ª APOSTILA

23/08	Sequência Didática Folclore	<ul style="list-style-type: none">➤ Texto Informativo: O que é Folclore; Paródia Asa Branca.➤ Atividade contextualizada➤ Pintar os quadros com os Personagens do texto;➤ Pintar de acordo com a legenda
24/08	Sequência Didática Folclore	<ul style="list-style-type: none">➤ Completar o quadro seguindo o que se pede;➤ Pintar as letras que formam o nome dos personagens;
25/08	Sequência Didática Folclore	<ul style="list-style-type: none">➤ Ditado recortado;➤ Observar e palavra e fazer o que se pede.➤ Leitura: Dez saczinhos;
26/08	Sequência Didática Folclore	<ul style="list-style-type: none">➤ Completar com os números que faltam;➤ Ligar o número a quantidade;
27/08	Sequência Didática Folclore	<ul style="list-style-type: none">➤ Calendário➤ Resolva com atenção; Adição e Subtração

FOLCLORE

(PARÓDIA DA MÚSICA ASA BRANCA - LUIZ GONZAGA)

VOCÊ SABE O QUE É **FOLCLORE**?
VOU LHE DAR A EXPLICAÇÃO:
É TUDO AQUILO QUE VEM DO POVO
E NASCE LIVRE DO CORAÇÃO.



TEM A LENDA DA MÃE D'ÁGUA,
TEM A HISTÓRIA DO SACI,
DO CURUPIRA, VITÓRIA-RÉGIA,
DO CAIPORA E JURUPARI.



TEM CANTIGAS DE CRIANÇA,
TEM MODINHA, TEM LUNDU,
TEM MUITO FREVO, BAIÃO E SAMBA,
CATERETÊ E MARACATU.

OS DITADOS POPULARES
MOSTRAM O QUE O POVO SENTE:
QUEM NÃO TEM CÃO, CAÇA COM GATO.
OLHO POR OLHO, DENTE POR DENTE.



MINHA TERRA TEM DE TUDO.
TEM ANGU, TEM MUNGUNZÁ,
TEM CARNE SECA, TEM RAPADURA,
TEM CARURU E TEM VATAPÁ.

ISSO TUDO PODE CRER
FOI DO POVO QUE SAIU.
É O FOLCLORE DA MINHA GENTE,
DA GENTE BOA DO MEU BRASIL.



ATIVIDADE CONTEXTUALIZADA

1- O TÍTULO DO TEXTO É:

SACI FOLCLORE PARÓDIA

2- O ASSUNTO DO TEXTO É:

NATAL FESTA JUNINA FOLCLORE

3- DE ACORDO COM O TEXTO FOLCLORE É:

- UMA FESTA DE CRIANÇA.
- TUDO O QUE VEM DO POVO.
- UMA BRINCADEIRA DE TV.

4- QUANTAS PALAVRAS HÁ NA FRASE:

*TEM MUITO FREVO, BAIÃO E SAMBA,
CATERETÊ E MARACATU.*

- 7 PALAVRAS
- 8 PALAVRAS
- 9 PALAVRAS



5- QUAL É A ÚLTIMA PALAVRA DO TEXTO?

6- PINTE OS QUADRINHOS COM OS PERSONAGENS DO TEXTO:

JURUPARI

LOBO MAU

CAIPORA

PORQUINHOS

SACI

VITÓRIA-RÉGIA

CINDERELA

MÃE D'ÁGUA

CURUPIRA

7- COMPLETE COM AS LETRAS QUE FALTAM:

F	O	L	C	L	O	R	E
		L			O		
F			C			R	
	O			L			E
F			C		O	R	



8- PINTA CONFORME A LEGENDA:



VERMELHO AS VOGAIS



AZUL AS CONSOANTES



AMARELO OS NÚMEROS

1	A	B	C	2	D	E	F	3	G
H	4	I	J	K	L	5	M	N	O
6	P	Q	R	7	S	0	T	U	V
W	X	Y	Z	8	O	E	J	9	N



9- COMPLETE O QUADRO SEGUNDO O QUE SE PEDE:

NOME	LETRA INICIAL	LETRA FINAL	NÚMERO DE LETRAS	NÚMERO DE SÍLABAS
SACI				
CAIPORA				
JURUPARI				
CURUPIRA				
SAMBA				
FREVO				



10- PINTE AS LETRAS QUE FORMAM O NOME DOS PERSONAGENS DO FOLCLORE:



SACI

S	T	M	C
D	W	A	J
I	F	H	Z



IARA

R	T	M	C
D	S	A	J
I	F	H	Z



CURUPIRA

U	T	M	C
D	S	A	P
I	R	H	Z



BOITATÁ

B	T	M	C
O	S	A	J
I	F	H	Z

11- DITADO RECORTADO: COLE O NOME DOS PERSONAGENS EM SUA RESPECTIVA IMAGEM:



CURUPIRA

SACI

BOITATÁ



IARA

BOTO

LOBISOMEM

12- OBSERVE A PALAVRA ABAIXO E FAÇA O QUE SE PEDE:



SACI

A) ESCREVA A LETRA INICIAL DA PALAVRA:

B) PINTE DE AZUL AS VOGAIS:

C) PINTE DE VERMELHO AS CONSOANTES:

D) QUANTAS SÍLABAS HÁ NA PALAVRA?

E) ESCREVA UMA PALAVRA QUE INICIE COM A LETRA S:

F) FORME UMA FRASE COM A PALAVRA SACI:



DEZ SACIZINHOS

(TATIANA BELINKY)

ERAM DEZ OS SACIZINHOS;
UM FICOU IMÓVEL
E NUNCA MAIS SE MOVEU,
E SOBARAM NOVE.

ERAM NOVE OS SACIZINHOS;
UM COMEU BISCOITO,
O BISCOITO ESTAVA
VELHO, E SOBARAM OITO.

ERAM OITO OS SACIZINHOS;
UM FOI DE CHARRETE,
A CHARRETE EMBORCOU, E
SOBARAM SETE.

ERA SETE OS SACIZINHOS;
UM FOI CONTRA AS LEIS,
ENTÃO TEVE DE FUGIR,
E SOBARAM SEIS.

ERAM SEIS OS SACIZINHOS;
UM COLOCOU BRINCO,
ERA MUITO ENFERRUJADO,
E SOBARAM CINCO.

ERAM CINCO OS SACIZINHOS;
UM FOI AO TEATRO,
O TEATRO PEGOU FOGO,
E SOBARAM QUATRO.

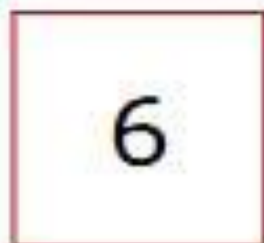
ERAM QUATRO OS SACIZINHOS;
UM FOI PRO XADREZ,
E NÃO CONSEGUIU SAFAR-SE,
E SOBARAM TRÊS.

ERAM TRÊS OS SACIZINHOS;
UM COMEU ARROZ ,
O ARROZ ERA MOFADO, E
SOBARAM DOIS.

ERA DOIS OS SACIZINHOS;
UM FICOU EM JEJUM,
O JEJUM FOI DEMASIADO,
E SOBROU SÓ UM.

SOBROU UM SÓ SACIZINHO;
COMEU URUCUM,
URUCUM NÃO É COMIDA,
E NÃO SOBROU NENHUM. (...)

13- COMPLETE COM OS NÚMEROS QUE FALTAM:



14- LIGUE O NÚMERO A QUANTIDADE
CORRESPONDENTE:

4



1



3



5



2



7



10



8



9



6





15- OBSERVE O CALENDÁRIO DO MÊS DE AGOSTO E RESPONDA:

AGOSTO						
DOMINGO	SEGUNDA-FEIRA	TERÇA-FEIRA	QUARTA-FEIRA	QUINTA-FEIRA	SEXTA-FEIRA	SABADO
						1
2	3	4	5	6	7	8
9	10	11	12	13	14	15
16	17	18	19	20	21	22
23	24	25	26	27	28	29
30	31					

A) CIRCULE NO CALENDÁRIO O DIA DO FOLCLORE:

B) QUANTOS DIAS HÁ NESSE MÊS?

C) QUANTOS DOMINGOS HÁ NESSE MÊS?

D) O DIA 22 CAI EM QUAL DIA DA SEMANA?

16- RESOLVA COM ATENÇÃO:

$$\begin{array}{r} 9 \\ -4 \\ \hline \end{array}$$

$$\begin{array}{r} 5 \\ -3 \\ \hline \end{array}$$

$$\begin{array}{r} 7 \\ -4 \\ \hline \end{array}$$

$$\begin{array}{r} 8 \\ -7 \\ \hline \end{array}$$

$$\begin{array}{r} 6 \\ -6 \\ \hline \end{array}$$

$$\begin{array}{r} 4 \\ -2 \\ \hline \end{array}$$



$$\begin{array}{r} 1 \\ +1 \\ \hline \end{array}$$

$$\begin{array}{r} 4 \\ +3 \\ \hline \end{array}$$

$$\begin{array}{r} 6 \\ +3 \\ \hline \end{array}$$

$$\begin{array}{r} 9 \\ +9 \\ \hline \end{array}$$

$$\begin{array}{r} 6 \\ +2 \\ \hline \end{array}$$

$$\begin{array}{r} 7 \\ +0 \\ \hline \end{array}$$

$$\begin{array}{r} 3 \\ -2 \\ \hline \end{array}$$

$$\begin{array}{r} 2 \\ -1 \\ \hline \end{array}$$

$$\begin{array}{r} 1 \\ -1 \\ \hline \end{array}$$

$$\begin{array}{r} 6 \\ -5 \\ \hline \end{array}$$

$$\begin{array}{r} 5 \\ -2 \\ \hline \end{array}$$

$$\begin{array}{r} 7 \\ -6 \\ \hline \end{array}$$

REFERÊNCIAS:

<https://conhecimentosetransformacao.blogspot.com>

<https://sugestoes.pedagogicas.com>

www.pequeninosabc.com.br

<https://saladatiarafa.blogspot.com.br>

<https://atividadesanosiniciais.com.br/>