

Nome: _____

3º ano

MINHAS ATIVIDADES




Referentes aos

dias:09,10,11,12,13,14,16,17,18,19,20,23,24,25,26,e,27/08

Data:09/08

FOLCLORE



Folclore é o conjunto de tradições e manifestações populares constituído por lendas, mitos, provérbios, danças e costumes que são passados de geração em geração.

A palavra tem origem no inglês, em que "folklore" significa sabedoria popular. A palavra é formada pela junção de folk (povo) e lore (sabedoria ou conhecimento).

O folclore simboliza a cultura popular e apresenta grande importância na identidade de um povo, de uma nação. Para não se perder a tradição folclórica, é importante que as manifestações culturais sejam transmitidas através das gerações.

O folclore é o produto da cultura de um país e por isso cada país tem elementos únicos de folclore.

Folclore brasileiro

O folclore brasileiro é muito rico e há uma grande variedade de manifestações culturais em todo o Brasil. Apenas alguns exemplos:

Festas populares: Carnaval, Festas Juninas, Cavalhadas, Festa do Divino;

Nome: _____

3º ano

Data:09/08

Lendas e Mitos: Saci-Pererê, Negrinho do pastoreio, Mula sem cabeça, Lobisomem, Curupira, Bicho-papão, Boitatá;

Música e Dança: Frevo, Samba, Fandango, Xaxado, Xote, Maracatu, Pau-de-fita, Quadrilha

Cantigas de roda: Atirei o Pau no Gato, Escravos de Jó, Ciranda-cirandinha, O Cravo e a Rosa, Sapo Cururu.

No Brasil, o Dia do Folclore é celebrado no dia 22 de Agosto.

INTERPRETAÇÃO DE TEXTO

1. O que é o Folclore?
2. Qual a origem da palavra e seu significado?
3. Quais são as festas populares do folclore?
4. Cite algumas cantigas de roda?
5. Qual dia e mês é celebrado o Folclore?

Nome: _____

3º ano

Data:09/08

RECEITA

Você vai precisar de:

2 xícaras (chá) de canjica

1 litro de água

1 xícara (chá) de açúcar

1 litro de leite

100 gramas de coco ralado

1 lata de creme de leite

1 lata de leite condensado

Um pouco de cravo da índia e canela da china



Modo de fazer:

Misture em uma panela a canjica, o leite e a água e deixe cozinhar por 30 minutos.

Em seguida adicione o creme de leite, leite condensado, coco ralado, e o açúcar. E por último, coloque o cravo e a canela



Gostoso é comer quentinha para aquecer do frio!

E.M. VEREADOR LOURIVAL CORREIA DE ARAÚJO”

Nome: _____

3º ano

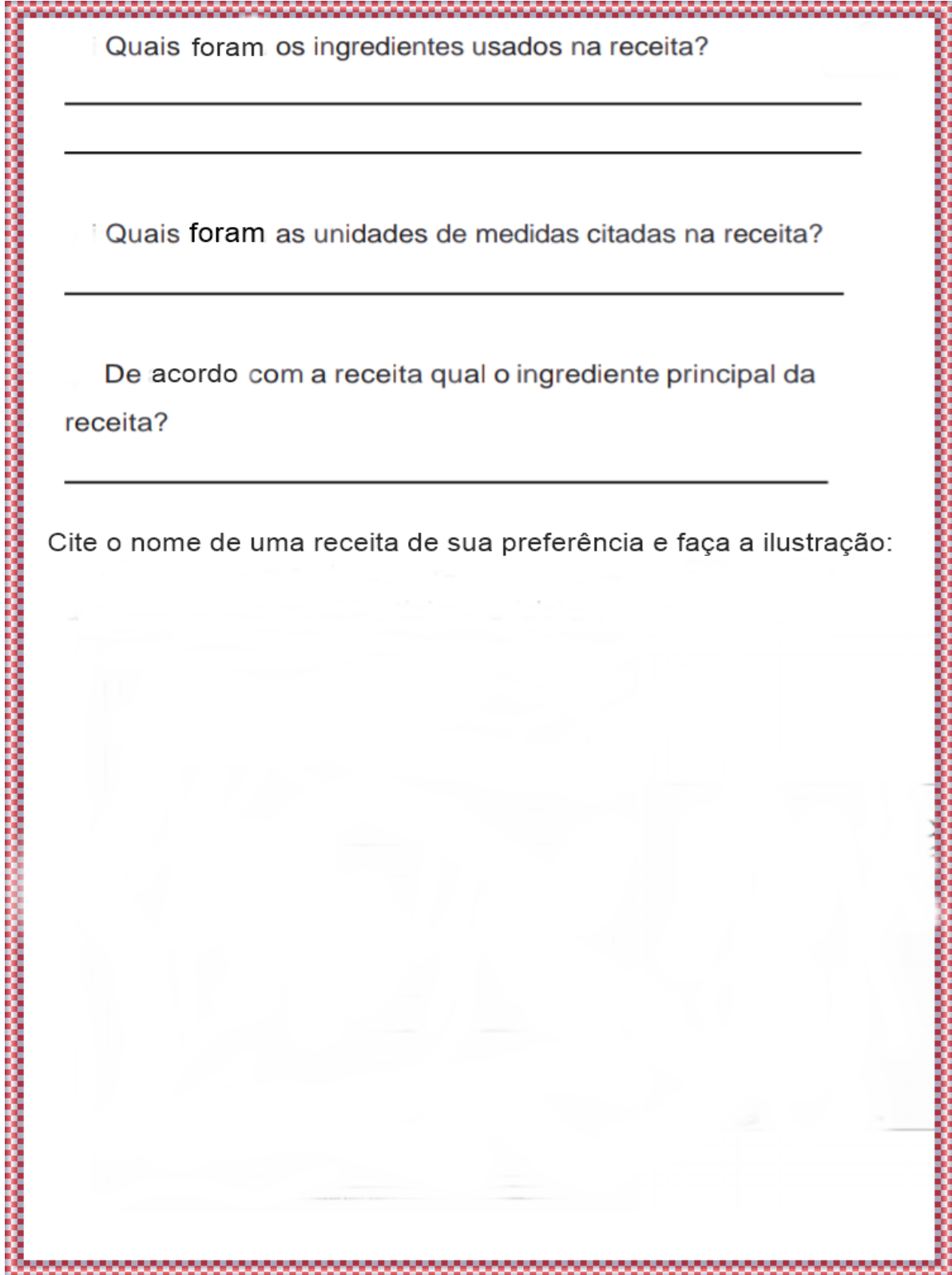
Data:09/08

Quais foram os ingredientes usados na receita?

Quais foram as unidades de medidas citadas na receita?

De acordo com a receita qual o ingrediente principal da receita?

Cite o nome de uma receita de sua preferência e faça a ilustração:



Nome: _____

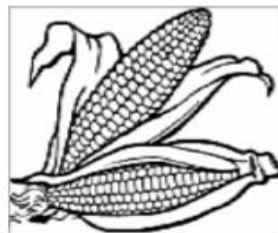
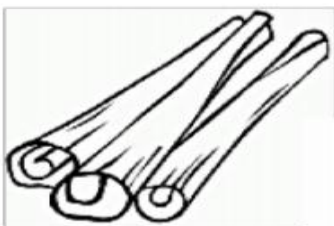

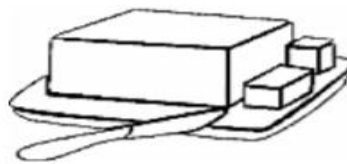

3º ano

Data:10/08

O gênero textual no qual trabalhamos a canjica é:

- () texto informativo
- () poesia
- () texto instrucional
- () tirinha

Vamos colorir apenas os ingredientes que aparecem na receita.



Nome: _____

3º ano

Data:10/08

Probleminhas Folclóricas

◆ SACI TINHA 88 GORROS, MAS PERDEU EM SUAS ANDANÇAS 31 DELES. QUANTOS GORROS ELE PERDEU?



◆ IARA TINHA 240 COLARES EM SUA CAIXINHA DE JÓIAS. ELA DEU PARA ARIEL 110 DESSA QUANTIDADE. COM QUANTOS COLARES ELA FICOU?



◆ EM UM CERTO POVOADO HAVIA 150 HOMENS. IARA ENFEITIÇOU 80 DELES. QUANTOS HOMENS ELA ENFEITIÇOU?

E.M. VEREADOR LOURIVAL CORREIA DE ARAÚJO”

Nome: _____

3º ano

Data:11/08

Nome: _____

3º ano

O CRAVO E A ROSA

O cravo brigou com a rosa

Debaixo de uma sacada

O cravo saiu ferido

E a rosa despedaçada

O cravo ficou doente

E a rosa foi visitar

O cravo teve um desmaio


E a rosa pôs-se a chorar

A rosa fez serenata

O cravo foi espiar

E as flores fizeram festa

Porque eles vão se casar



Nome: _____

3º ano

Vamos trabalhar com a cantiga **“O Cravo e a Rosa”**

Encontre na letra da cantiga palavras para preencher a tabela abaixo:

monossílabas	dissílabas	trissílabas	polissílabas

Escreva palavras que comecem com a mesma sílaba inicial das palavras abaixo:

<u>R</u> OSA	<u>S</u> ACADA	<u>F</u> ERIDO	<u>E</u> SPIAR

Escreva palavras que terminem com a mesma sílaba das palavras abaixo:

SERENAT <u>A</u>	BRIGOU <u>U</u>	CASAR <u>R</u>	DOENTE <u>E</u>

Nome: _____

3º ano

Data:11/08



Resolva

$$\begin{array}{r} 51 \\ \times 6 \\ \hline \end{array}$$

$$\begin{array}{r} 53 \\ \times 2 \\ \hline \end{array}$$

$$\begin{array}{r} 51 \\ \times 9 \\ \hline \end{array}$$

$$\begin{array}{r} 50 \\ \times 5 \\ \hline \end{array}$$

$$\begin{array}{r} 24 \\ \times 2 \\ \hline \end{array}$$

$$\begin{array}{r} 73 \\ \times 3 \\ \hline \end{array}$$

$$\begin{array}{r} 72 \\ \times 4 \\ \hline \end{array}$$

$$\begin{array}{r} 10 \\ \times 6 \\ \hline \end{array}$$

$$\begin{array}{r} 83 \\ \times 3 \\ \hline \end{array}$$

$$\begin{array}{r} 11 \\ \times 6 \\ \hline \end{array}$$

$$\begin{array}{r} 42 \\ \times 3 \\ \hline \end{array}$$

$$\begin{array}{r} 66 \\ \times 1 \\ \hline \end{array}$$

$$\begin{array}{r} 51 \\ \times 9 \\ \hline \end{array}$$

$$\begin{array}{r} 20 \\ \times 8 \\ \hline \end{array}$$

$$\begin{array}{r} 31 \\ \times 5 \\ \hline \end{array}$$

$$\begin{array}{r} 91 \\ \times 6 \\ \hline \end{array}$$

$$\begin{array}{r} 41 \\ \times 6 \\ \hline \end{array}$$


$$\begin{array}{r} 32 \\ \times 4 \\ \hline \end{array}$$

$$\begin{array}{r} 51 \\ \times 2 \\ \hline \end{array}$$

$$\begin{array}{r} 11 \\ \times 7 \\ \hline \end{array}$$


Data:12/08

LOBISOMEM




		F								
		O								
		L								
		C								
		L								
		O								
		R								
		E								


SACI




IARA



CURUPIRA



BOITATÁ



Nome: _____

3º ano

Data:12/08

ANALISANDO

A professora Priscila realizou diversas brincadeiras folclóricas com seus alunos. Após as brincadeiras fez uma pesquisa para saber qual brincadeira cada criança preferiu. O resultado está expresso no gráfico abaixo.

100				
90				
80				
70				
60				
50				
40				
30				
20				
10				
	Pula corda	Pega-pega	Corrida de sacos	Esconde-esconde

Analise o gráfico e leia as sentenças, coloque (V) para verdadeiro e (F) para falso:

- () **Corrida de sacos** foi a brincadeira que menos recebeu votos;
- () 210 alunos participaram da pesquisa;
- () Não há brincadeiras que receberam a mesma quantidade de votos;
- () **Esconde-esconde** recebeu mais votos que **Pega-pega**;
- () **Pega-pega** foi a brincadeira que menos recebeu votos;
- () Se juntarmos os votos da **corrida de sacos** e **pula corda** teremos o total de 130 votos.

Nome: _____

3º ano

Data:13/08

Preencha as lacunas do texto com base nas informações do gráfico trabalhado na atividade anterior:

_____ foi a brincadeira que mais recebeu votos na sala da professora Priscila. Ao final da votação a turma conferiu que nenhuma brincadeira recebeu menos votos que a _____ - _____. Também constataram que por 3 votos a mais a brincadeira de _____ foi mais bem votada que a _____ - _____.

Após a análise dos votos a classificação das brincadeiras foi a seguinte:

1º Lugar: _____

2º Lugar: _____

3º Lugar: _____

4º Lugar: _____




Data:13/08

Nome: _____

3º ano

QUAL É O PESO?

Observe e responda:



Paulo
30 kg

Ciro
24 kg

Luisa
18 kg

Marco
20 kg

José
22 kg

Quem pesa mais?

Quem é mais leve?

Quantos quilos Paulo tem a mais que Luisa?

Quanto pesam Marco e José juntos?

Quantos quilos Luisa tem a menos que Ciro?



E.M. VEREADOR LOURIVAL CORREIA DE ARAÚJO”

Nome: _____

3º ano

LOTERIA FOLCLÓRICA:			
	LENDA	COMIDA TÍPICA	CANTIGA
PAMONHA	<input type="checkbox"/>	<input checked="" type="checkbox"/>	<input type="checkbox"/>
ATIREI UM PAU NO GATO	<input type="checkbox"/>	<input type="checkbox"/>	<input type="checkbox"/>
SACI	<input type="checkbox"/>	<input type="checkbox"/>	<input type="checkbox"/>
IARA	<input type="checkbox"/>	<input type="checkbox"/>	<input type="checkbox"/>
FEIJOADA	<input type="checkbox"/>	<input type="checkbox"/>	<input type="checkbox"/>
BOTO	<input type="checkbox"/>	<input type="checkbox"/>	<input type="checkbox"/>
CURAU	<input type="checkbox"/>	<input type="checkbox"/>	<input type="checkbox"/>
TEREZINHA DE JESUS	<input type="checkbox"/>	<input type="checkbox"/>	<input type="checkbox"/>
CURUPIRA	<input type="checkbox"/>	<input type="checkbox"/>	<input type="checkbox"/>
CIRANDA CIRANDINHA	<input type="checkbox"/>	<input type="checkbox"/>	<input type="checkbox"/>
BOITATÁ	<input type="checkbox"/>	<input type="checkbox"/>	<input type="checkbox"/>
NEGRINHO DO PASTOREIO	<input type="checkbox"/>	<input type="checkbox"/>	<input type="checkbox"/>
MULA-SEM-CABEÇA	<input type="checkbox"/>	<input type="checkbox"/>	<input type="checkbox"/>
FEIJÃO TROPEIRO	<input type="checkbox"/>	<input type="checkbox"/>	<input type="checkbox"/>
CAIPORA	<input type="checkbox"/>	<input type="checkbox"/>	<input type="checkbox"/>

Nome: _____

3º ano

Data:14/08

CIRANDA-CIRANDINHA

Cantiga popular

Ciranda, cirandinha

Vamos todos cirandar!

Vamos dar a meia volta

Volta e meia vamos dar



O anel que tu me destes

Era vidro e se quebrou

O amor que tu me tinhas

Era pouco e se acabou

Por isso, dona Rosa

Entre dentro desta roda

Diga um verso bem bonito

Diga adeus e vá se embora

Nome: _____

3º ano

Data:14/08

Vamos trabalhar com a cantiga **“Ciranda-Cirandinha”**

Escreva palavras que rimem com essas retiradas da cantiga:

ESSA	RIMA COM	ESSA
Anel		
Cirandinha		
Amor		
Rosa		

Assinale somente as opções corretas:

- () O anel era de plástico;
- () Dona Rosa foi convidada a entrar na roda;
- () A cantiga manda dar uma volta inteira;
- () Antes de ir embora dona Rosa deve dizer

TCHAU;

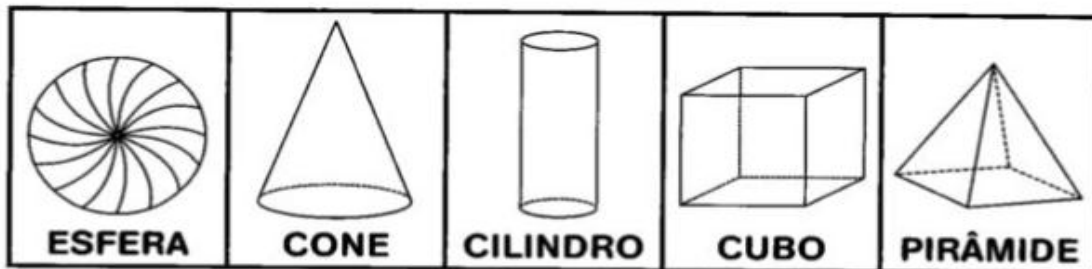


Data:16/08

Nome: _____

3º ano

➔ **PROCURE NO CAÇA-PALAVRAS OS NOMES DOS SÓLIDOS GEOMÉTRICOS. VEJA O QUADRO ABAIXO PARA RECORDAR:**



V	I	E	S	F	E	R	A	T
R	T	U	A	M	X	S	P	I
C	O	N	E	N	A	T	V	Z
B	D	J	O	P	E	L	S	F
C	I	L	I	N	D	R	O	R
X	A	M	R	E	U	V	N	P
S	F	U	Z	W	C	U	B	O
T	P	O	U	Y	A	I	F	T
P	I	R	Â	M	I	D	E	N
U	Z	B	T	N	O	I	S	V

Nome: _____

3º ano

Data: _____

CIRCULE A PRIMEIRA SÍLABA DESSAS PALAVRAS:



SACI IARA CURUPIRA
LENDAS BOTO CAIPORA
FOLCLORE BOITATÁ DANÇAS
FESTAS COMIDAS CANTIGAS
SUPERSTIÇÕES ADIVINHAS

COLOQUE AS PALAVRAS ACIMA NA ORDEM ALFABÉTICA:

1ª _____	5ª _____	9ª _____	13ª _____
2ª _____	6ª _____	10ª _____	14ª _____
3ª _____	7ª _____	11ª _____	
4ª _____	8ª _____	12ª _____	

DÊ O PLURAL DAS PALAVRAS ABAIXO:

Festa _____ Lenda _____

Comida _____ Dança _____

Cantiga _____ Remédio _____

Superstição _____ Saci _____

Adivinha _____ Boto _____



Nome: _____

3º ano

Data:16/08

Leia os números por extenso e marque na tabela com os números.



Quinhentos e sessenta e dois

C	D	U

Novecentos e vinte e quatro

C	D	U

Duzentos e cinquenta e um

C	D	U

Cento e três

C	D	U

Data:17/08

Nome: _____

3º ano

OUTRA GRANDE ATRAÇÃO DA FESTA DOS ESTADOS SÃO AS DANÇAS. VEJA A TABELA DE APRESENTAÇÕES:



DANÇAS DA FESTA DOS ESTADOS			
REGIÃO	HORÁRIO	DANÇA	COMPONENTES
NORTE	15 HORAS	CARIMBÓ	365
NORDESTE	16 HORAS	FREVO	446
CENTRO-OESTE	17 HORAS	CATIRA	247
SUDESTE	18 HORAS	SAMBA	543
SUL	20 HORAS	VANERÃO	384

FONTE: ORGANIZAÇÃO DA FESTA DA ESCOLA

RESPONDA ÀS QUESTÕES:

A. A QUE HORAS COMEÇOU A APRESENTAÇÃO DE DANÇA DA REGIÃO SUDESTE?

B. QUE TIPO DE DANÇA FOI APRESENTADO PELA REGIÃO SUL?

C. QUANTOS COMPONENTES TINHA O GRUPO DE DANÇA DA REGIÃO NORDESTE?

D. QUAL A REGIÃO EM QUE A DANÇA FOI REALIZADA PELO MENOR NÚMERO DE PESSOAS?

E. QUANTOS COMPONENTES DA DANÇA A REGIÃO SUDESTE TEVE A MAIS QUE A REGIÃO NORDESTE?

DANÇAS FOLCLÓRICAS



CENTRO-OESTE

CATIRA: Esta dança folclórica é marcada pela batida dos pés e das mãos movimentadas pelo ritmo da música, que por sua vez é entoada pela viola caipira.

NORTE

BUMBA MEU BOI:

É uma dança na qual a representação teatral é um fator marcante. Conta a história da vida e da morte do boi, os personagens realizam suas danças enquanto sua lenda é declamada.



SUL

PAU DE FITA:

Durante a dança é feito um traçado com fitas em um mastro, os participantes se movimentam em zigue-zague aos instrumentos musicais.



NORDESTE

FREVO:

É um ritmo musical e uma dança brasileira com origem no estado do Pernambuco. Uma das principais características é a utilização de sombrinhas coloridas.



SUDESTE

QUADRILHA:

É uma dança tradicional das festas juninas que ocorrem no mês de junho no Brasil. Ela é uma dança coletiva que conta com a participação de vários casais vestidos com roupas caipiras.



Nome: _____

3º ano

COMIDAS TÍPICAS



Centro-Oeste: galinhada, arroz com pequi, canjiquinha, peixe pintado na brasa, peixe assado, passarinhada etc.

Norte: Pato no tucupi, peixada de tucanaré, tacacá, pescada paraense, mujica de peixe, bolo de macacheira, maniçoba etc.

Sul: pinhão assado, churrasco, chimarrão, bolo de pinhão, pirão, torta de maçã, Joelho de porco, tainha etc.

Nordeste: caruru, sarapatéu, vatapá, acarajé, moqueca de surubim, bobó de camarão, paçoca, baião de dois, carne de sol etc.

Sudeste: canjica, feijoada, feijão tropeiro, paçoca de amendoim, arroz carreteiro, pamonha, aipim, etc.

Nome: _____

3º ano

Data:18/08

Observe o mapa e responda o que se pede:



1. Quais são as características de dança Bumba Meu Boi?

2. Cite 3 comidas típicas da região Nordeste?

3. Galinhada é comida típica da região: _____

Catira é dança típica da região: _____

3. Pinte de **vermelho** a região Norte, **verde** a região Sudeste, **amarelo** a região Centro-Oeste, **marrom** o Nordeste e o Sul e **laranja**.

Leia a música abaixo:

ENTREI NA RODA

*Ai, eu entrei na roda
Para ver como se dança,
Eu entrei na contradança,
Eu não sei dançar.*

*Lá vai uma, lá vão duas
Lá vão três pela terceira,
Lá se vai o meu amor
De vapor pra cachoeira.*

*Todo mundo se admira
Da macaca fazer renda,
Eu já vi uma perua
Ser caixeira de uma vencia*



*Todo mundo se admira
Do macaco andar em pé.
O macaco já foi gente
Pode andar como quiser*

ESTUDO DO TEXTO

1- Qual é o título do texto?

2- Esse texto é:

() Carta () Fábula () Música

3- Quantas estrofes há no texto?

4- Quantas palavras há na 2ª estrofe?

Nome: _____

3º ano

Data:20/08

Caixa

Encontre o nome de algumas lendas no caça-palavras abaixo:

C	U	R	U	P	I	R	A	B	D	F	U	I
O	F	H	I	E	J	U	S	K	L	Ç	M	A
R	G	E	R	X	K	M	A	Q	O	I	G	R
M	U	L	A	S	E	M	C	A	B	E	Ç	A
T	A	H	P	J	I	Z	I	B	I	V	X	N
B	R	C	U	C	A	T	P	E	S	J	C	A
T	A	H	R	I	H	Q	E	B	O	T	O	S
D	N	Y	U	O	L	Ç	R	A	M	D	S	F
F	Á	U	O	P	Z	G	E	J	E	K	L	E
B	O	I	T	A	T	Á	R	P	M	L	W	O
F	O	H	U	J	K	R	Ê	H	I	Q	U	K

BANCO DE PALAVRAS:

CURUPIRA – IARA – UIRAPURU – SACI PERERÊ –
 LOBISOMEM – BOTO – GUARANÁ – BOITATÁ – MULA SEM
 CABEÇA - CUCA



Nome: _____


3º ano

Data:20/08

ESCREVA UMA FRASE PARA CADA PERSONAGEM DO NOSSO FOLCLORE.











PRODUÇÃO DE TEXTO

Observe as cenas abaixo e na próxima folha produza um texto.



E.M. VEREADOR LOURIVAL CORREIA DE ARAÚJO”

Nome: _____

3º ano

Data:23/08

A large rectangular writing area with a red and white checkered border. The interior is ruled with horizontal lines. At the top of the writing area, there is a single horizontal line that is slightly shorter than the others, serving as a starting point for the student's name.

Nome: _____

3º ano

Data: 24/08

COMPLETE A SEQUÊNCIA NUMÉRICA:

701				705					710
	712				716				
			724			727			730
		733						739	
741				745		747			
	752							759	
				765					
	771						778		
			784					789	
791					796				800

Nome: _____

3º ano

Nome: _____ data: _____

COMPLETANDO...

Copie e complete:

O terceiro mês do ano é _____

Agosto é o _____ mês do ano.

Sete meses têm 31 dias. Eles são _____

Apenas um mês tem 28 ou 29 dias.

É o mês de _____

Escreva a data:

De ontem: _____

De hoje: _____

De amanhã: _____



www.atividadespedagogicasuzano.com.br

DESAFIO:

Quem consegue descobrir, quantos dias desse ano já se passaram?

Escreva este número:

E.M. VEREADOR LOURIVAL CORREIA DE ARAÚJO”

Nome: _____

3º ano

BIBLIOGRAFIA

- ✓ Quadro numérico-

<https://4.bp.blogspot.com/-mISEGcaswlk/XMZlhTapfWI/AAAAAAAAABvE/5H5cQsv3BfsQzq7JUit8VZHC-CLjibEdACEwYBhgL/s1600/sequ%25C3%25AAncia-n%25C3%25BAmerica-701-ao-800-339.jpg>

- ✓ <https://atividadespedagogicasuzano.com.br/calendario/>
- ✓ EMAI- volume I eII atividades adaptadas com folclore;
- ✓ <https://br.pinterest.com/pin/>;
- ✓ Receita canjica-
<https://www.google.com/url?sa=i&url=https%3A%2F%2Fbr.pinterest.com%2Fpin%2F79277434062>
- ✓ Mapas-
- ✓ <https://www.google.com/url?sa=i&url=https%3A%2F%2Fpaulabarrozo.wordpress.com%2F2010%2F0;>
- ✓ Mauricio de Souza – Chico Bento – Mula sem cabeça

Nome: _____

3º ano

Vamos colorir, recortar e colar as figurinhas



Nome: _____ Série: _____ Data: _____

Nome: _____

3º ano

LENDAS

1

2

3

4

MULA-SEM-
CABEÇA

IARA

LOBISOMEM

SACI-PERERÊ

SUPERSTIÇÕES E CRENDICES

5

TREVO DE QUATRO
FOLHAS PARA DAR
SORTE.

6

VER GATO PRETO NUMA
SEXTA-FEIRA TREZE DÁ
AZAR.

7

PASSAR EMBAIXO DA
ESCADA DÁ AZAR E NÃO
CRESCER MAIS.

CANTIGAS DE NINAR

8

BOI, BOI, BOI
BOI DA CARA PRETA
PEGA ESTA CRIANÇA
QUE TEM MEDO DE
CARETA

9

NANA NENEM
QUE A CUCA VEM PEGAR
PAPAI FOI PRA ROÇA
MAMÃE FOI TRABALHAR

CANTIGAS DE RODA

10

PIRULITO QUE BATE, BATE
PIRULITO QUE JÁ BATEU
QUEM GOSTA DE MIM É ELA
QUEM GOSTA DELA SOU EU

11

CIRANDA, CIRANDINHA
VAMOS TODOS CIRANDAR
VAMOS DAR A MEIA VOLTA
VOLTA E MEIA VAMOS DAR
O ANEL QUE TU ME DESTES
ERA VIDRO E SE QUEBROU
O AMOR QUE TU ME TINHAS
ERA POUCO E SE ACABOU.

Nome: _____

3º ano

BRINQUEDOS E BRINCADEIRAS

12

PETECA

13

PIPA

14

PULAR CORDA

15

BOLINHA DE
GUDE

16

PIÃO

17

CAVALINHO DE
PAU

18

PAU DE SEBO

19




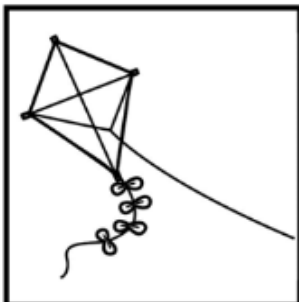

FUTEBOL DE
BOTÃO

20

AMARELINHA

Nome: _____

3º ano



E.M. VEREADOR LOURIVAL CORREIA DE ARAÚJO”

Nome: _____

3º ano