

E.M. "VEREADOR LOURIVAL CORREIA DE ARAÚJO"

9ª REMESSA DE ATIVIDADES REMOTAS – TURMA B

DIAS: 09/ 10/ 11/ 12/ 13/ 14/ 16/ 17/ 18/ 19/ 20/ 23/ 24/ 25/ 26 E 27 DE AGOSTO

ATIVIDADES RELACIONADAS AO FOLCLORE



GESTORA : VIVIANE VILAR

PROFESSORA : MARIA CRISTINA A. ELIAS

SÉRIE : 2º ANO A

ALUNO:

NOME: _____

FOLELORE

O FOLCLORE É UM CONJUNTO DE TRADIÇÕES, CULTURA POPULAR DE UM POVO, SUAS CRENÇAS E LENDAS.

O FOLCLORE BRASILEIRO É MUITO RICO, COM FESTAS TÍPICAS, LENDAS, PARLENDAS, TRAVA-LÍNGUAS, CANTIGAS DE NINAR, BRINQUEDOS, BRINCADEIRAS, MITOS ETC.

VAMOS VIAJAR NESTE UNIVERSO, REPLETO DE CURIOSIDADES E

MULTICULTURAL!



E.M."VEREADOR LOURIVAL CORREIA DE ARAÚJO"

NOME: _____

DATA 09/08/2021

OLHE O CALENDÁRIO ABAIXO E RESPONDA

A) CIRCULE NO CALENDÁRIO O DIA DO FOLCLORE:

B) QUANTOS DIAS HÁ NESSE MÊS?

C) QUANTOS DOMINGOS HÁ NESSE MÊS?

D) O DIA 22 CAI EM QUAL DIA DA SEMANA?

AGOSTO						
DOMINGO	SEGUNDA-FEIRA	TERÇA-FEIRA	QUARTA-FEIRA	QUINTA-FEIRA	SEXTA-FEIRA	SÁBADO
						1
2	3	4	5	6	7	8
9	10	11	12	13	14	15
16	17	18	19	20	21	22
23	24	25	26	27	28	29
30	31					

E.M."VEREADOR LOURIVAL CORREIA DE ARAÚJO"

NOME: _____

DATA 09/08/2021

ESTOU TÃO FELIZ EM VER VOCÊ FESPERTO. PARABÉNS VAMOS LER ESTA PARLENDA



MACACO FOI À FEIRA
NÃO TINHA O QUE COMPRAR
COMPROU UMA CADEIRA
PARA COMADRE SE SENTAR
A COMADRE SE SENTOU
A CADEIRA ESBORRACHOU
COITADA DA COMADRE
FOI PARAR NO CORREDOR.



AGORA VAMOS MARCAR A RESPOSTA CERTA DE ACORDO COM O QUE ESTÁ ESCRITO:

O MACACO FOI À...

- FESTA.
- FÉRIAS.
- FEIRA.



PROCIURE COMPLETAR SEM OLHAR A PARLENDA!

O MACACO COMPROU UMA...

- CAMA.
- CADEIRA.
- CABEÇA.

A COMADRE FOI PARAR NO...

- CORREDOR.
- COMEDOURO.
- CORPO.



E.M. "VEREADOR LOURIVAL CORREIA DE ARAÚJO"

NOME: _____

DATA 10/08/2021



VAMOS BRINCAR COM AS PALAVRAS?

PRIMEIRO VOCÊ VAI ESCREVER A **PALAVRA**, DEPOIS,
VAI ESCREVER AS **SÍLABAS** E POR ÚLTIMO,
AS **LETRAS** QUE FORMAM A PALAVRA
QUE DÁ NOME À IMAGEM AO LADO.




Diagram for the word 'macaco' (monkey). It consists of a top box for the word, three middle boxes for syllables, and six bottom boxes for individual letters.




Diagram for the word 'vovó' (grandmother). It consists of a top box for the word, three middle boxes for syllables, and six bottom boxes for individual letters.




Diagram for the word 'cadeira' (chair). It consists of a top box for the word, three middle boxes for syllables, and six bottom boxes for individual letters.

E.M. "VEREADOR LOURIVAL CORREIA DE ARAÚJO"

NOME: _____

DATA 11/08/2021



OLÁ AMIGUINHO, ESTAMOS ESTUDANDO SOBRE O FOLCLORE.

EU VOU ME APRESENTAR:

ME CHAMO SACI, CONHECIDO POR SER MUITO PERALTA.

EU ANDO E PULO COM UMA PERNA SÓ, USO UM GORRO VERMELHO E APRONTO TODAS POR AÍ

OUTRA CARACTERÍSTICA MINHA É SEMPRE ESTAR EM UM REDEMOINHO, É COMO EU ESCAPO DEPOIS DE FAZER MUITAS TRAQUINAGENS.

PINTE CONFORME SE PEDE



VERMELHO AS VOGAIS



AZUL AS CONSOANTES



AMARELO OS NÚMEROS

1	A	B	C	2	D	E	F	3	G
H	4	I	J	K	L	5	M	N	O
6	P	Q	R	7	S	0	T	U	V
W	X	Y	Z	8	O	E	J	9	N

E.M."VEREADOR LOURIVAL CORREIA DE ARAÚJO"

NOME: _____

DATA 11/08/2021



SACI

A) ESCREVA A LETRA INICIAL DA PALAVRA:

B) PINTE DE AZUL AS VOGAIS:

C) PINTE DE VERMELHO AS CONSOANTES:

D) QUANTAS SÍLABAS HÁ NA PALAVRA?

E.M. "VEREADOR LOURIVAL CORREIA DE ARAÚJO"

NOME: _____

DATA 12/08/2021

PINTE AS LETRAS QUE FORMAM OS NOMES DOS PERSONAGENS DO FOLCLORE



IARA

R	T	M	C
D	S	A	J
I	F	H	Z



CURUPIRA

U	T	M	C
D	S	A	P
I	R	H	Z



BOITATÁ

B	T	M	C
O	S	A	J
I	F	H	Z



SACI

S	T	M	C
D	W	A	J
I	F	H	Z

E.M."VEREADOR LOURIVAL CORREIA DE ARAÚJO"

NOME: _____

DATA 12/08/2021

DITADO :COLE OS NOMES DOS PERSONAGENS EM SUAS RESPECTIVAS
IMAGENS



CURUPIRA

SACI

BOITATÁ



IARA

BOTO

LOBISOMEM

NOME: _____

DATA 13/08/2021

CAÇA PALAVRAS

CURUPIRA - SACI - LOBISOMEM
BOITATÁ - CAIPORA - CUCA
BOTO - MULA SEM CABEÇA
IARA - BUMBA MEU BOI

B	O	I	T	A	T	Á	A	B	N	H	W	P
F	H	C	J	K	Ç	C	U	C	A	D	O	L
H	C	U	R	U	P	I	R	A	J	O	K	M
E	L	O	B	I	S	O	M	E	M	M	F	U
B	O	I	B	U	M	B	Á	E	C	A	J	B
F	A	K	T	Y	D	F	S	X	K	Q	X	G
Z	V	E	C	A	I	P	O	R	A	V	E	D
M	U	L	A	S	E	M	C	A	B	E	Ç	A
V	D	W	B	F	E	R	B	O	T	O	K	R
C	F	S	A	C	I	S	X	I	A	R	A	S

E.M."VEREADOR LOURIVAL CORREIA DE ARAÚJO"

NOME: _____

DATA 13/08/2021

LIGUE



CUCA



BOITATÁ



SACI



IARA

BOTO



CURUPIRA



CAIPORA



LOBISOMEM



E.M. "VEREADOR LOURIVAL CORREIA DE ARAÚJO"

NOME: _____

DATA 14/08/2021

ESCREVA A INICIAL








E.M. "VEREADOR LOURIVAL CORREIA DE ARAÚJO"

NOME: _____

DATA 14/08/2021


ESCREVA OS NOMES DOS PERSONAGENS ABAIXO EM SÍLABAS

E.M. "VEREADOR LOURIVAL CORREIA DE ARAÚJO"

NOME: _____

DATA 16/08/2021



E.M. "VEREADOR LOURIVAL CORREIA DE ARAÚJO"

NOME: _____

DATA 16/08/2021

ESCREVA OS NOMES DOS PERSONAGENS FOLCLÓRICOS













E.M."VEREADOR LOURIVAL CORREIA DE ARAÚJO"

NOME: _____

DATA 17/08/2021

PINTE OS NOMES CORRETOS DE CADA PERSONAGEM



CURUPIRA
CUECA
CUIA



LOUCO
LOBISOMEM
HOMEM



CAIPORA
CANJICA
CARPETE



BOITATÁ
BOI BUMBÁ
BOITUCATU



BOTO
BOLA
BOTA



BOTA
BOINA
BOITATÁ



SAPO
SASI
SACI



CUCO
CUCA
CUBO



IOIÔ
IARA
ILHA

E.M. "VEREADOR LOURIVAL CORREIA DE ARAÚJO"

NOME: _____

DATA 17/08/2021

COMPLETE COM AS SÍLABAS INICIAIS



___ CI



___ RUIRA



___ ARA



___ TO



___ PORA



___ TATA



___ LA



___ BISOMEM



___ CA

E.M."VEREADOR LOURIVAL CORREIA DE ARAÚJO"

NOME: _____

DATA 18/08/2021

OLÁ! TROUXE UM DESAFIO BEM LEGAL PARA VOCÊ ME AJUDAR A RESOLVER. CONTO COM A SUA AJUDA!

1 - CURUPIRA ESTAVA ANDANDO PELA FLORESTA E CAPTURAR 12 CAÇADORES. NO DIA SEGUINTE ELE JÁ CONSEGUIU CAPTURAR 25 CAÇADORES. QUANTOS CAÇADORES CURUPIRA CONSEGUIU CAPTURAR AO TOTAL?

2 - NUMA CASA NA FLORESTA HAVIA 30 CAÇADORES SE PREPARANDO PARA CAÇAR VÁRIOS ANIMAIS. DE REPENTE ELES OUVIRAM O SOM DO CURUPIRA E FICARAM ASSUSTADOS. 20 CAÇADORES FUGIRAM. QUANTOS CAÇADORES SOBRARAM NA CASA?



E.M. "VEREADOR LOURIVAL CORREIA DE ARAÚJO"

NOME: _____

DATA 18/08/2021

O QUE VAMOS APRENDER?

NESTA AULA, VAMOS IDENTIFICAR DOIS NÚMEROS QUE, AO SEREM SOMADOS, APRESENTAM RESULTADO IGUAL A 10.

1. GABRIEL DESENHOU NO CHÃO UM QUADRO NUMÉRICO E PROPÔS QUE JULIANA COLOCASSE CADA PÉ SOBRE UM NÚMERO, DE MODO QUE A SOMA DOS DOIS RESULTASSE EM 10.

1	7	4
8	5	6
3	2	9

ESCREVA ALGUMAS POSSIBILIDADES DOS NÚMEROS EM QUE JULIANA COLOCOU OS PÉS, ADMITINDO QUE ELA REALIZOU CORRETAMENTE A TAREFA PROPOSTA.

2. RESPONDA ÀS QUESTÕES:

A. SE JULIANA COLOCOU O PÉ DIREITO SOBRE O NÚMERO 2, SOBRE QUAL NÚMERO ELA DEVE TER COLOCADO O PÉ ESQUERDO?

E.M. "VEREADOR LOURIVAL CORREIA DE ARAÚJO"

NOME: _____

DATA 19/08/2021

VAMOS RESOLVER PROBLEMAS MATEMÁTICOS

A PROFESSORA SIMONE PROPÔS QUE AS CRIANÇAS BRINCASSEM DE CABO DE GUERRA. VOCÊ CONHECE ESSA BRINCADEIRA?

1. JULIANA, GABRIEL E OUTROS 13 AMIGOS VÃO PARTICIPAR DA BRINCADEIRA.

RESPONDA ÀS QUESTÕES:

A. QUANTAS CRIANÇAS PARTICIPARÃO DA BRINCADEIRA?

B. AS CRIANÇAS VÃO FORMAR DUAS EQUIPES. UMA DELAS TERÁ 7 PARTICIPANTES. QUANTOS SERÃO OS PARTICIPANTES DA OUTRA EQUIPE?

C. OS 15 AMIGOS BRINCARAM BASTANTE. APÓS UM TEMPO, 4 AMIGOS DECIDIRAM IR EMBORA. QUANTOS AMIGOS FICARAM?

E.M. "VEREADOR LOURIVAL CORREIA DE ARAÚJO"

NOME: _____

DATA 19/08/2021

1. JULIANA GOSTA DE BRINCAR DE CINCO MARIAS E EXPLICOU A GABRIEL COMO É ESSA BRINCADEIRA. ELES DECIDIRAM BRINCAR JUNTOS E CADA UM DELES FEZ O SEU JOGO, QUE É COMPOSTO DE CINCO SAQUINHOS PREENCHIDOS COM AREIA.



A. JULIANA E SEU PAI WILLIAM FIZERAM JOGOS PARA DISTRIBUIR AOS AMIGOS. JULIANA FEZ 12 JOGOS E WILLIAM FEZ 15. QUANTOS JOGOS ELES FIZERAM NO TOTAL?

B. GABRIEL E SUA MÃE TELMA GOSTARAM DA PROPOSTA DE FAZER JOGOS DE CINCO MARIAS. ELES FIZERAM 22 JOGOS. TELMA SELECIONOU 10 DELES PARA DAR A SEUS SOBRINHOS E OS OUTROS FICARAM COM GABRIEL. QUANTOS JOGOS FICARAM COM GABRIEL?

E.M. "VEREADOR LOURIVAL CORREIA DE ARAÚJO"

NOME: _____

DATA 20/08/2021

2. JULIANA ELABOROU CARTELAS, MOSTROU A GABRIEL E PEDIU QUE ELE REGISTRASSE OS RESULTADOS DAS ADIÇÕES. FAÇA ISSO TAMBÉM.

$4 + 4 = \underline{\quad}$

$4 + 5 = \underline{\quad}$

$6 + 6 = \underline{\quad}$

$6 + 7 = \underline{\quad}$

$8 + 8 = \underline{\quad}$

$8 + 9 = \underline{\quad}$

$1 + 1 = \underline{\quad}$

$10 + 10 = \underline{\quad}$

$2 + 1 = \underline{\quad}$

$20 + 10 = \underline{\quad}$

$2 + 3 = \underline{\quad}$

$20 + 30 = \underline{\quad}$

$3 + 4 = \underline{\quad}$

$30 + 40 = \underline{\quad}$

E.M. "VEREADOR LOURIVAL CORREIA DE ARAÚJO"

NOME: _____

DATA 20/08/2021

1. JULIANA REGISTROU AS ADIÇÕES EM CARTELAS AMARELAS E OS RESULTADOS EM CARTELAS AZUIS. ASSOCIE-AS CORRETAMENTE.

$4 + 7$

7

$5 + 5$

10

$6 + 1$

11

$7 + 7$

12

$8 + 4$

13

$7 + 6$

14

$6 + 9$

15

E.M. "VEREADOR LOURIVAL CORREIA DE ARAÚJO"

NOME: _____

DATA 23/08/2021

O QUE VAMOS APRENDER?

NESTA AULA, VAMOS LER AS INFORMAÇÕES APRESENTADAS EM UMA TABELA. JULIANA E GABRIEL CONTARAM AS QUANTIDADES DE MINIATURAS QUE TÊM E APRESENTARAM OS RESULTADOS.

VEJA COMO A TABELA FICOU:

MINIATURAS DAS COLEÇÕES DE JULIANA E GABRIEL	
MINIATURAS	QUANTIDADE
AVIÕES	12
BICICLETAS E TRICICLOS	8
CARROS	17
MOTOS	21

FONTE: JULIANA E GABRIEL

RESPONDA ÀS QUESTÕES:

A. QUANTOS AVIÕES PERTENCEM À COLEÇÃO DE JULIANA E GABRIEL?

B. QUANTAS MOTOS A COLEÇÃO TEM?

C. É POSSÍVEL DIZER QUANTAS BICICLETAS A COLEÇÃO TEM? EXPLIQUE SUA RESPOSTA A UM/A COLEGA.

D. QUAL É O TIPO DE MINIATURA EM MAIOR QUANTIDADE?

E.M."VEREADOR LOURIVAL CORREIA DE ARAÚJO"

NOME: _____

DATA 23/08/2021

O QUE VAMOS APRENDER?

NESTA AULA, VAMOS APRENDER A RESOLVER PROBLEMAS MATEMÁTICOS COM JULIANA E GABRIEL.

1. GABRIEL SELECIONOU 21 MINIATURAS DE MOTOS E AS SEPAROU EM DOIS GRUPOS. EM UM DELES, COLOCOU 12 MINIATURAS. QUANTAS MINIATURAS FORAM COLOCADAS NO OUTRO GRUPO?

2. JULIANA TEM 7 ANOS E GABRIEL É UM ANO MAIS VELHO DO QUE ELA.

RESPONDA ÀS QUESTÕES:

- A. QUAL É A IDADE DE GABRIEL?

- B. TELMA TEM 20 ANOS A MAIS DO QUE GABRIEL. QUAL É A IDADE DE TELMA?

E.M. "VEREADOR LOURIVAL CORREIA DE ARAÚJO"

NOME: _____







DATA 24/08/2021

O QUE VAMOS APRENDER?

NESTA AULA, VAMOS IDENTIFICAR E RELACIONAR VALORES DE CÉDULAS DO SISTEMA MONETÁRIO BRASILEIRO, E RESOLVER UM PROBLEMA.

1. GABRIEL E JULIANA GANHARAM DE SEUS AVÓS CÉDULAS DO SISTEMA MONETÁRIO BRASILEIRO QUE ESTÃO EM CIRCULAÇÃO. ELES GUARDAM O DINHEIRO QUE GANHAM PARA COMPRAR MINIATURAS E AUMENTAR SUAS COLEÇÕES.

OBSERVE AS ILUSTRAÇÕES E REGISTRE O VALOR CORRESPONDENTE A CADA CÉDULA.

CÉDULA	VALOR	CÉDULA	VALOR
			
			
			

FONTE: BANCO CENTRAL DO BRASIL.

2. QUAL É O VALOR, EM REAIS, QUE GABRIEL E JULIANA JUNTARAM COM AS CÉDULAS MOSTRADAS NA ILUSTRAÇÃO?



3. GABRIEL E JULIANA QUEREM TROCAR UMA CÉDULA DE 20 REAIS POR CÉDULAS DE MENOR VALOR.

APRESENTE DUAS POSSIBILIDADES PARA ESSA TROCA.

NOME: _____

DATA 24/08/2021

HISTÓRIA / GEOGRAFIA

PARLENDA : O TEMPO

O TEMPO

O tempo perguntou ao tempo
quanto tempo o tempo tem.
O tempo respondeu ao tempo
que o tempo tem tanto tempo
quanto tempo o tempo tem.

Da tradição popular.



E.M."VEREADOR LOURIVAL CORREIA DE ARAÚJO"

NOME: _____

DATA 25/08/2021

RESPONDA :

1-PORQUE OS SERES HUMANOS CRIAM COMEMORAÇÕES, INVENTAM CALENDÁRIOS E ORGANIZAM ÁLBUNS DE FOTOS ?

2- ESCREVA UMA ATIVIDADE QUE VOCÊ REALIZA :



PELA MANHÃ:



À TARDE:



À NOITE:

3- RETIRE DO QUADRO , QUAIS SÃO OS MEIOS UTILIZADOS PELO HOMEM PARA MEDIR O TEMPO ?

BOLA CELULAR CALENDÁRIO LIVRO RELÓGIO SOL MESA

4-O TEMPO PASSA.....VOCÊ SE LEMBRA DE ALGUM BRINQUEDO DE QUE GOSTAVA MUITO, MAS PARA O QUAL AGORA JÁ NÃO DÁ TANTA IMPORTÂNCIA ? ESCREVA ABAIXO :

5-ESCREVA 3 PALAVRAS QUE PARA VOCÊ INDICAM **TEMPO**

E.M."VEREADOR LOURIVAL CORREIA DE ARAÚJO"

NOME: _____

DATA 25/08/2021

VOCÊ JÁ BRINCOU DE **ADEDONHA**? É UM JOGO BEM DIVERTIDO QUE PODE SER JOGADO COM SEUS AMIGOS, SUA FAMÍLIA E COM QUEM MAIS VOCÊ QUISER.

ANTES DE CONVIDAR OUTRAS PESSOAS PARA JOGAR COM VOCÊ, QUE TAL TREINAR UM POUQUINHO COMPLETANDO A CARTELA DE ACORDO COM AS LETRAS?



ADEDONHA					
LETRA	NOME DE PESSOA	NOME DE ANIMAL	NOME DE FRUTA	NOME DE OBJETO	NOME DE COR
R					
M					
P					

COMPLETE O QUADRO, SEGUNDO O QUE SE PEDE

NOME	LETRA INICIAL	LETRA FINAL	NÚMERO DE LETRAS	NÚMERO DE SÍLABAS
SACI				
CAIPORA				
CURUPIRA				
SAMBA				
FREVO				
LOBISOMEM				

E.M. "VEREADOR LOURIVAL CORREIA DE ARAÚJO"

NOME: _____

DATA 26/08/2021

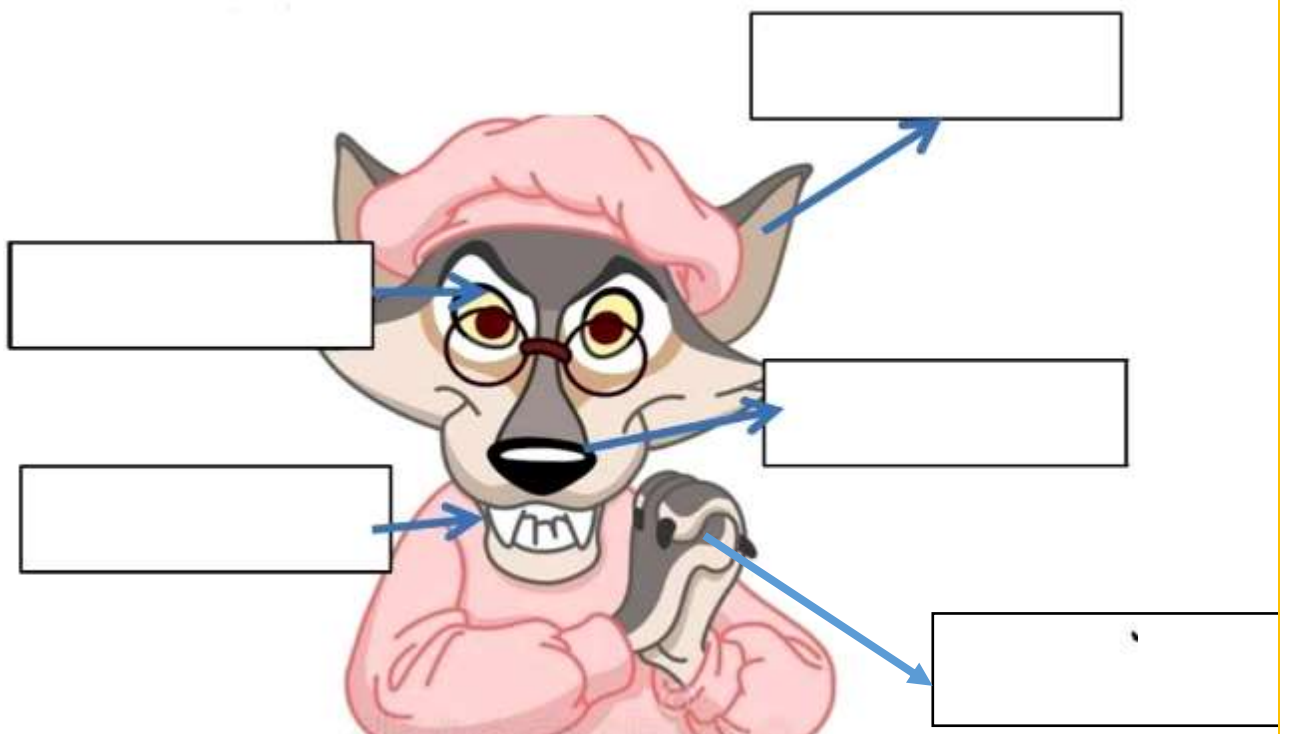
CIÊNCIAS – CONTINUAÇÃO DAS APOSTILA ANTERIOR

A HISTÓRIA DA **CHAUPEUZINO VERMELHO** É UM CONTO DE FÁBULAS , QUE TAMBÉM FAZ PARTE DO **NOSSO FOLCLORE**.



NESTE CONTO O LOBO MAU USA OS ÓRGÃOS DO SENTIDO PARA PODER ENGANAR A CHAUPEUZINO E ASSIM DEVORA-LÁ.

COLOQUE NOS RETÂNGULOS QUAIS SÃO OS ÓRGÃOS QUE APARECEM NA FIGURA ABAIXO?



E.M. "VEREADOR LOURIVAL CORREIA DE ARAÚJO"

NOME: _____

DATA 26/08/2021

DONA ÁRVORE

(BIA BEDRAN)

TRONCO, FOLHAS, GALHOS TEM
FRUTO E FLOR E RAIZ,
DONA ÁRVORE VAI BEM E É MUITO FELIZ.
SUBIR, SUBIR, VAMOS SUBIR,
SOU MACAQUINHO E EU NÃO VOU CAIR.



ESSA É UMA MÚSICA SOBRE A ÁRVORE E SUAS PARTES. VOCÊ CONSEGUE ENCONTRAR OS NOMES DAS PARTES DA ÁRVORE NA LETRA DA MÚSICA?

ESCREVA CADA PARTE EM UM RETÂNGULO:



UM VENTO FORTE SOPROU E DEIXOU AS LETRAS EMBARALHADAS.

PRECISO QUE VOCÊ ORGANIZE AS LETRAS E REESCREVA AS PARTES DA ÁRVORE DA FORMA CERTA!

ROCTON	→	
LHFAO	→	
FRTUO	→	
AIZR	→	

E.M. "VEREADOR LOURIVAL CORREIA DE ARAÚJO"

NOME: _____

DATA 27/08/2021

ARTES

VAMOS VER COMO VOCÊ PODE SER CAPRICHOSO (A)

PINTE O DESENHO BEM BONITO!



E.M."VEREADOR LOURIVAL CORREIA DE ARAÚJO"

NOME: _____

BIBLIOGRAFIA

LIVRO "NA PONTA DO LÁPIS" 2º ANO - VOLUME 2

BLOG "EDUCAÇÃO E TRANSFORMAÇÃO"

BLOG "CONHECIMENTO E TRANSFORMAÇÃO"

RIOEDUCA – 2º ANO

PINTREST

BLOG "PROFESSORA ISRAELA KOTONA"

LIVRO "APRENDER SEMPRE" VOLUME 2