

E.M. “PROFª INÊS NUNES MAKIYAMA”

ALUNO: _____

PROFª EDILENE APARECIDA GONÇALVES

5º ANO – C APOSTILA - 9 DEVOLUÇÃO: 30/08/2021

REFERENTES AOS DIAS: 09,10,11,12,13,14,16,17,18,19,20,23,24,25,26 E 27 DE AGOSTO.



NOME: _____


DATA: __ / __ / __



VAMOS CONHECER OS MASCOTES DAS
OLIMPIADAS E COLORIR:



SOMEITY



MIRAITOWA

AGORA PINTE NO QUADRO ABAIXO O MÊS QUE ESTÁ
ACONTECENDO OS JOGOS OLÍMPICOS ESTE ANO:

JANEIRO	MAIO	SETEMBRO
FEVEREIRO	JUNHO	OUTUBRO
MARÇO	JULHO	NOVEMBRO
ABRIL	AGOSTO	DEZEMBRO

MIRAITOWA E SOMEITY



MIRAITOWA É A MASCOTE OFICIAL DOS JOGOS OLÍMPICOS DE VERÃO.

SOMEITY É A MASCOTE OFICIAL DOS JOGOS PARALÍMPICOS DE VERÃO;

MIRAITOWA É NOMEADO DAS PALAVRAS JAPONESAS "FUTURO" E "ETERNIDADE" E SOMEITY É NOMEADO DE SOMEYOSHINO, UM TIPO DE FLOR. O NOME DE SOMEITY TAMBÉM FAZ REFERÊNCIA À FRASE EM INGLÊS "TÃO PODEROSO".

NOME: _____

DATA: __ / __ / __

FORME AS PALAVRAS



GOL + FE = _____



HAN + DE + BOL = _____



HÓ + QUEI = _____



JU + DÔ = _____



KA + RA + TÊ = _____



MA + RA + TO + NA = _____



RE + MO = _____



ESCOLA: _____

NOME: _____

DATA: _____

DE ACORDO COM O TEXTO:

1) COMPLETE AS FRASES:

SOMEITY É A
MASCOTE _____

MIRAITOWA É A
MASCOTE _____

2) ESCREVA COM SUAS PALAVRAS QUAL A DIFERENÇA ENTRE JOGOS
OLÍMPICOS E PARAOLÍMPICOS.

3) QUAL OS SIGNIFICADOS DAS PALAVRAS MIRAITOWA E SOMEITY?

4) NO ANO DE 2016, ONDE FOI REALIZADO OS JOGOS OLÍMPICOS?

ESCOLA: _____

NOME: _____

DATA: _____

PINTE UM QUADRO PRA CADA LETRA.

SACI

--	--	--	--	--	--	--	--	--	--

GARRAFA

--	--	--	--	--	--	--	--	--	--

LENDA

--	--	--	--	--	--	--	--	--	--

GORRO

--	--	--	--	--	--	--	--	--	--

CACHIMBO

--	--	--	--	--	--	--	--	--	--

MENINO

--	--	--	--	--	--	--	--	--	--

TRAVESSO

--	--	--	--	--	--	--	--	--	--



NOME: _____

DATA: __/__/__

COMPLETE AS PALAVRAS COM AS VOGAIS



H__QU__



K__R__T__



G__N__ST__C__



R__M__




T__R__

ESCOLA: _____

NOME: _____

DATA: _____

CRUZADINHA FOLCLORICA



- 1- As _____ JUNINAS FAZEM PARTE DO NOSSO FOLCLORE.
- 2- AS BRINCADÉIRAS DE _____ SÃO APRECIADAS PELAS CRIANÇAS.
- 3- A _____ DO SACI É A MAIS COMUM DE TODAS AS LENDAS.
- 4- O _____ TEM OS PÉS VIRADOS PARA TRÁS.
- 5- A _____ -SEM-CABEÇA É UMA LENDA.
- 6- Os _____ SÃO DITADOS POPULARES PASSADOS DE GERAÇÃO PARA GERAÇÃO.
- 7- O _____ PULA NUM PÉ SÓ.
- 8- Os _____ CASEIROS SÃO FEITOS À BASE DE PLANTAS



Escola: _____
Nome: _____ Data: _____
Turma: _____ Série: _____ Prof.: _____

Responda das perguntas utilizando o banco de palavras:

- 1 – A PRIMEIRA OLIMPÍADA ACONTECEU NA _____.
- 2 – O PRIMEIRO COLOCADO RECEBE A MEDALHA DE _____.
- 3 – A _____ FICA ACESA DURANTE TODA A DISPUTA DAS OLIMPÍADAS.
- 4 – O TERCEIRO COLOCADO RECEBE A MEDALHA DE _____.
- 5 – A OLIMPÍADA DE 2021 ACONTECERÁ NO _____.
- 6 – O ESPORTE EM QUE OS ATLETAS UTILIZAM UMA BICICLETA É O _____.
- 7 – O SEGUNDO COLOCADO RECEBE A MEDALHA DE _____.
- 8 – O ESPORTE EM QUE OS ATLETAS UTILIZAM UMA RAQUETE É O _____.
- 9 – A DISPUTA DA MARATONA FAZ PARTE DO _____.
- 10 – O ESPORTE EM QUE UMA REDE DIVIDE AS EQUIPES É O _____.

JAPÃO

TÊNIS

TOCHA

GRÉCIA

CICLISMO



ATLETISMO

VOLEIBOL

OURO

PRATA

BRONZE

NOME: _____

DATA: ___ / ___ / ___



FORME AS PALAVRAS RELACIONADAS AOS JOGOS OLÍMPICOS

F T
E U L
B O

V E
Ô
L I

T I N
S Ê

T C
A O
H

ALUNO(A): Data:

CIRCULE A PRIMEIRA SÍLABA DESSAS PALAVRAS:



- SACI IARA CURUPIRA
- LENDAS BOTO CAIPORA
- FOLCLORE BOITATÁ DANÇAS
- FESTAS COMIDAS CANTIGAS
- SUPERSTIÇÕES ADIVINHAS

FOLCLORE

COLOQUE AS PALAVRAS ACIMA NA ORDEM ALFABÉTICA:

1ª _____	5ª _____	9ª _____	13ª _____
2ª _____	6ª _____	10ª _____	14ª _____
3ª _____	7ª _____	11ª _____	_____
4ª _____	8ª _____	12ª _____	_____

DÊ O PLURAL DAS PALAVRAS ABAIXO:


- Festa _____ Lenda _____
- Comida _____ Dança _____
- Cantiga _____ Remédio _____
- Superstição _____ Saci _____
- Adivinha _____ Boto _____



NOME: _____

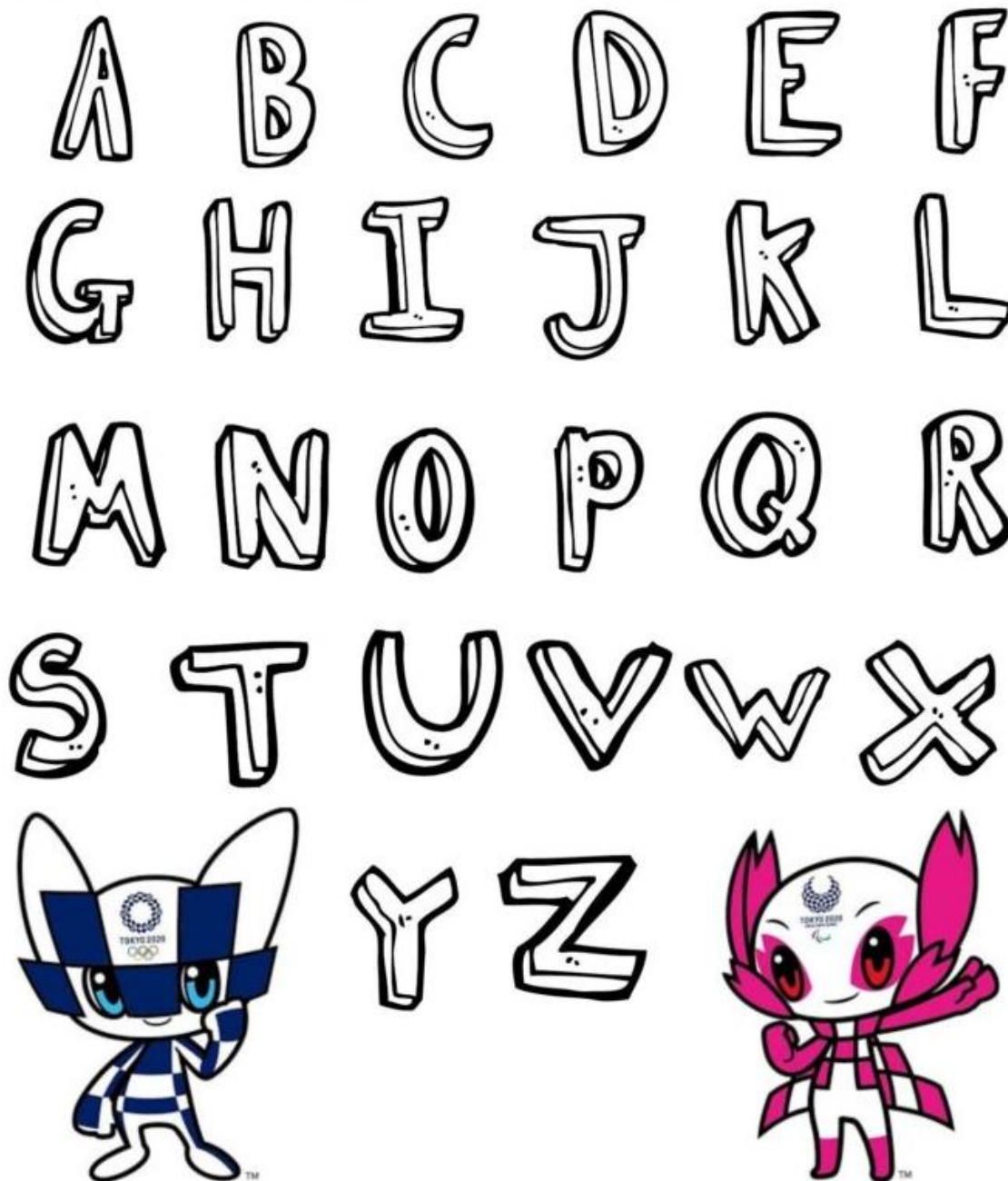
DATA: __ / __ / __

ESCREVA OS NOMES DOS ESPORTES




NOME: _____
DATA: __ / __ / __

PINTE AS LETRAS DO SEU NOME



Escola _____
Aluno(a) _____ Data: ____/____/____

QUE TAL FAZER COLAGEM NAS CORES CERTAS?



E.M. “PROFª INÊS NUNES MAKIYAMA”

ALUNO: _____

PROFª EDILENE APARECIDA GONÇALVES

5º ANO – C APOSTILA - 9 DEVOLUÇÃO: 30/08/2021

REFERENTES AOS DIAS: 09,10,11,12,13,14,16,17,18,19,20,23,24,25,26 E 27 DE AGOSTO



Comidas típicas da região sudeste



PÃO DE QUEIJO

35min

Rendimento:

35 unidades

Dificuldade:

Fácil

Ingredientes

- ✦ 1 xícara de leite
- ✦ ½ XÍCARA DE ÓLEO
- ✦ ½ COLHER (SOPA) RASA DE SAL
- ✦ 500G DE POLVILHO DOCE
- ✦ 2 OVOS
- ✦ 1 ½ XÍCARA DE QUEIJO MEIA CURA RALADO

MODO DE PREPARO

COLOQUE O LEITE, O ÓLEO E O SAL NUMA LEITEIRA. LEVE AO FOGO ALTO E, QUANDO LEVANTAR FERVURA, DESPEJE A MISTURA SOBRE O POLVILHO PREVIAMENTE COLOCADO NUMA VASILHA.



MEXA BEM COM UMA COLHER DE PAU, PARA QUE O POLVILHO FIQUE IMPREGNADO DE LÍQUIDO. EM SEGUIDA, ACRESCENTE OS OVOS, UM A UM, SEMPRE MEXENDO COM A COLHER DE PAU.

JUNTE O QUEIJO RALADO E MISTURE COM AS MÃOS ATÉ QUE A MASSA NÃO GRUDE NAS MÃOS. SOVE A MASSA SOBRE UMA SUPERFÍCIE ENFARINHADA, ATÉ QUE ELA FIQUE HOMOGÊNEA E MACIA.

EM SEGUIDA, ENROLE PEQUENAS BOLINHAS NA PALMA DA MÃO, DISPONDO-AS NUMA ASSADEIRA RETANGULAR UNTADA E ENFARINHADA. LEVE PARA ASSAR EM FORNO PREAQUECIDO A 200°C POR 20 MINUTOS.

PROBLEMATIZANDO:

- 1) CONSIDERANDO QUE UMA HORA TEM 60 MINUTOS, QUANTO TEMPO A MAIS PRECISAMOS PARA REALIZAR TRÊS RECEITAS DE PÃO DE QUEIJO?**

- 2) UMA RECEITA RENDE 35 UNIDADES, QUANTAS A MAIS RENDERÃO TRÊS RECEITAS?**

- 3) PARA REALIZAR UMA RECEITA UTILIZAMOS 2 OVOS. QUANTOS OVOS A MAIS PRECISAMOS PARA REALIZAR 3 RECEITAS?**

ESCOLA: _____

NOME: _____

DATA: _____

FORME PALAVRAS RELACIONADAS COM O NOSSO FOLCLORE DE ACORDO COM O NÚMERO DAS SÍLABAS INDICADAS:

1 BOI	2 SA	3 I	4 RA	5 BO	6 DI
7 TA	8 A	9 CU	10 CI	11 PI	12 TO
13 DAS	14 CO	15 MI	16 CAS	17 TÍ	18 DAN
19 ÇAS	20 NHAS	21 VI	22 TÁ	23 RU	24 VI

1 + 7 + 22 = _____

8 + 6 + 21 + 20 = _____

2 + 10 = _____

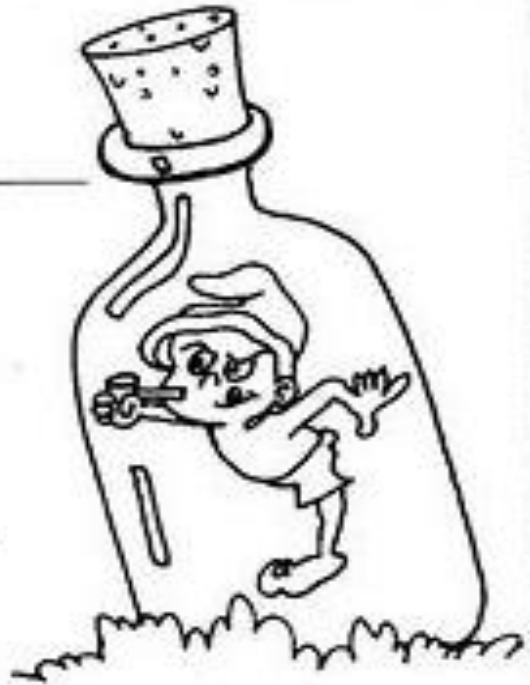
5 + 12 = _____

3 + 8 + 4 = _____

9 + 23 + 11 + 4 = _____

18 + 19 = _____

14 + 15 + 13 + 17 + 11 + 16 = _____



COMPLETE AS PALAVRAS COM AS INICIAIS E CUBRA OS PONTILHADOS:

OTO

URUPIRA

ARA

ACI

Boto Curupira Jara Saci

ESCOLA: _____

NOME: _____

DATA: _____





NOME: _____


DATA: ___ / ___ / ___





RESOLVA AS MULTIPLICAÇÕES:


 $7 \times 1 = \square$


 $7 \times 6 = \square$


 $7 \times 2 = \square$


 $7 \times 7 = \square$


 $7 \times 3 = \square$

 $7 \times 8 = \square$

 $7 \times 4 = \square$

 $7 \times 9 = \square$

 $7 \times 5 = \square$

 $7 \times 10 = \square$



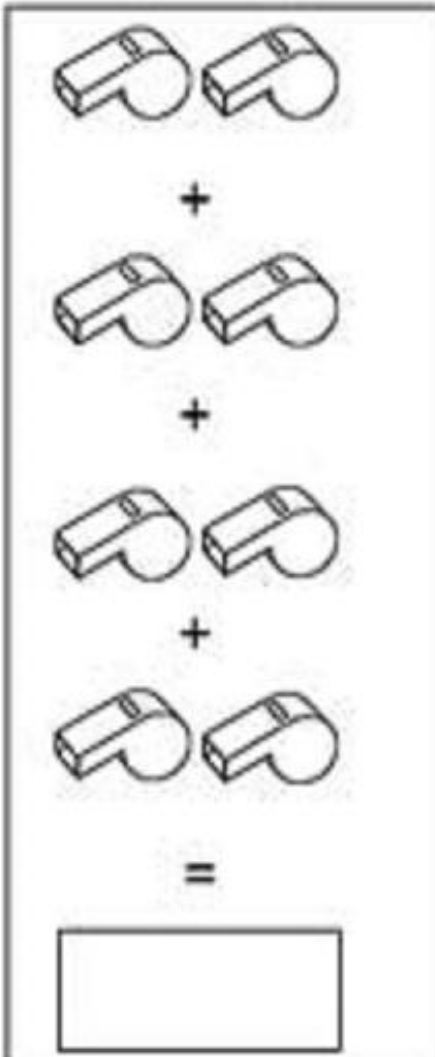
ESCOLA: _____

NOME: _____

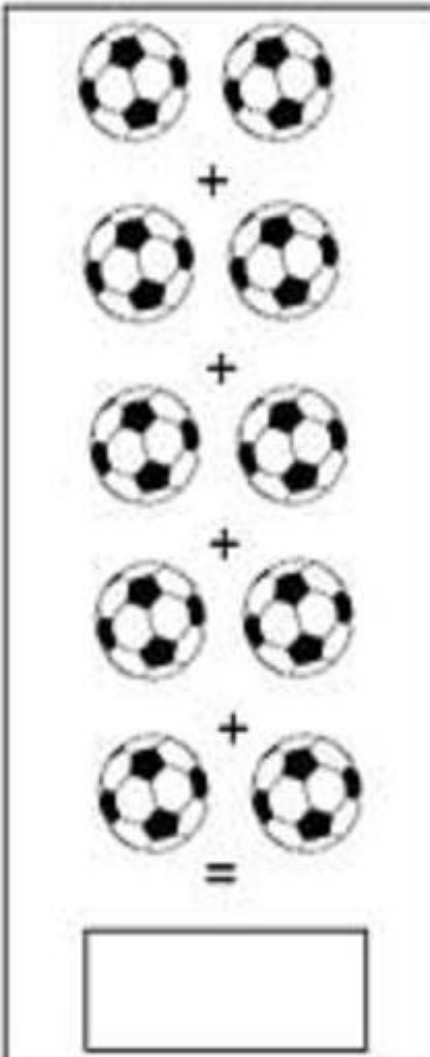
DATA: _____

ATIVIDADE

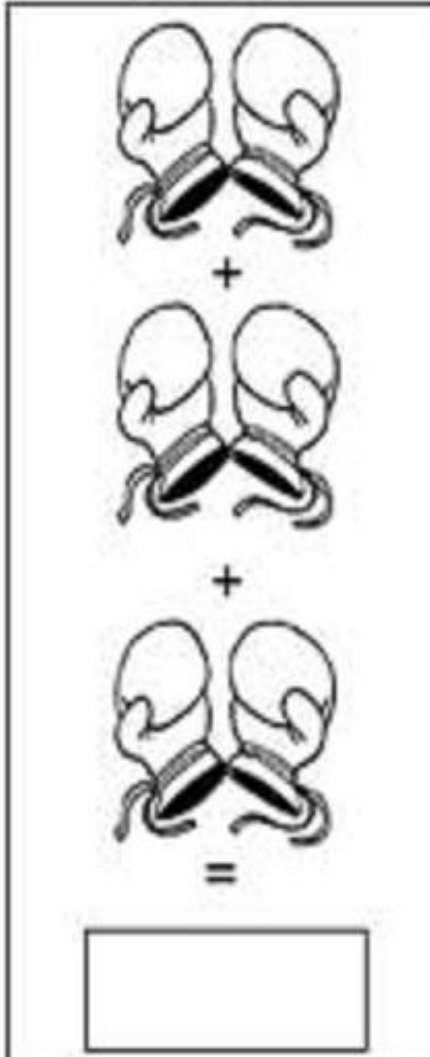
VAMOS AJUDAR OS MASCOTES VINICIUS E TOM CONTAR OS OBJETOS:



A vertical rectangular box containing a counting exercise. It shows four rows of two whistles each, with a plus sign between each row. Below the last row is an equals sign, and at the bottom of the box is an empty rectangular box for the answer.



A vertical rectangular box containing a counting exercise. It shows four rows of two soccer balls each, with a plus sign between each row. Below the last row is an equals sign, and at the bottom of the box is an empty rectangular box for the answer.



A vertical rectangular box containing a counting exercise. It shows four rows of two shoes each, with a plus sign between each row. Below the last row is an equals sign, and at the bottom of the box is an empty rectangular box for the answer.

ESCOLA: _____

NOME: _____

DATA: _____

1) Mariana quer repartir igualmente 14 balas entre seus amigos Túlio e Éllen. Desenhe as balas que cada amigo receberá:

	Éllen 	Túlio 
-----------------------------------------------------------------------------------	--------------------------------------------------------------------------------------------	----------------------------------------------------------------------------------------------

2) Veja a quantia em dinheiro que Pedro tem:

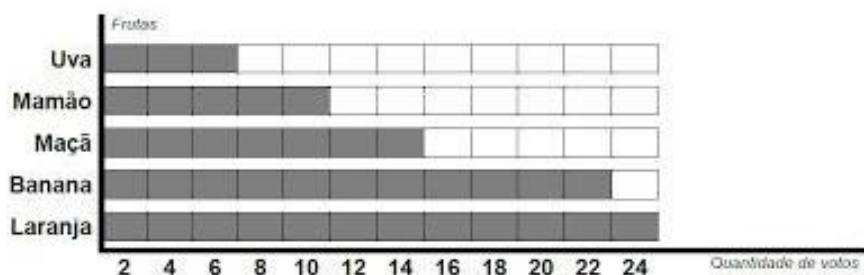


Ele vai dividir esta quantia igualmente entre quatro amigos.

• Desenhe a quantia que cada um deles vai receber:

3) Observe o gráfico que mostra o resultado de uma pesquisa feita com alunos do 3º Ano, de nossa escola, para descobrir qual é a fruta preferida deles. Depois, marque a resposta certa:



- De acordo com este gráfico, a fruta preferida dos alunos do 3º Ano é:
 laranja, banana, uva, mamão.
- A fruta menos votada foi:
 banana, laranja, mamão, uva.
- Juntas, quantos votos tiveram as frutas *Mamão* e *Maçã*?
 10 votos, 14 votos, 24 votos, 28 votos.

NOME: _____ Nº _____

SALA: _____ PROFª _____ TURMA: _____



ARME E RESOLVA

$21 - 8 =$

D	U

$69 - 6 =$

D	U

$21 - 9 =$


D	U

$47 - 8 =$

D	U

$22 - 5 =$

D	U



$68 - 8 =$

D	U

$22 - 36 =$

D	U

$27 - 20 =$

D	U

$24 - 21 =$

D	U

$57 - 38 =$

D	U

$25 - 18 =$

D	U

$34 - 26 =$

D	U

ESCOLA: _____

NOME: _____

DATA: _____

MULTIPLICANDO

MULTIPLIQUE OS NÚMEROS DE ACORDO COM CADA COLUNA:



NEGRINHO DO PASTOREIO

X	2	4	6	8	10	12	14
2							
3							
5							
7							

CALCULE:

$$\begin{array}{r} 14 \\ \times 2 \\ \hline \end{array}$$

$$\begin{array}{r} 25 \\ \times 3 \\ \hline \end{array}$$

$$\begin{array}{r} 72 \\ \times 2 \\ \hline \end{array}$$

$$\begin{array}{r} 26 \\ \times 5 \\ \hline \end{array}$$

$$\begin{array}{r} 25 \\ \times 3 \\ \hline \end{array}$$

$$\begin{array}{r} 23 \\ \times 6 \\ \hline \end{array}$$

$$\begin{array}{r} 74 \\ \times 3 \\ \hline \end{array}$$

$$\begin{array}{r} 82 \\ \times 2 \\ \hline \end{array}$$

$$\begin{array}{r} 36 \\ \times 4 \\ \hline \end{array}$$



ESCOLA: _____

NOME: _____

DATA: _____



Vamos dividir!

1. Resolva corretamente as divisões.

$2 \overline{) 2}$

$4 \overline{) 2}$

$6 \overline{) 2}$

$8 \overline{) 2}$

$22 \overline{) 2}$

$42 \overline{) 2}$

$26 \overline{) 2}$

$82 \overline{) 2}$

$25 \overline{) 2}$

$47 \overline{) 2}$

$60 \overline{) 2}$

$83 \overline{) 2}$

$10 \overline{) 2}$

$62 \overline{) 2}$

$84 \overline{) 2}$

$46 \overline{) 2}$

$70 \overline{) 2}$

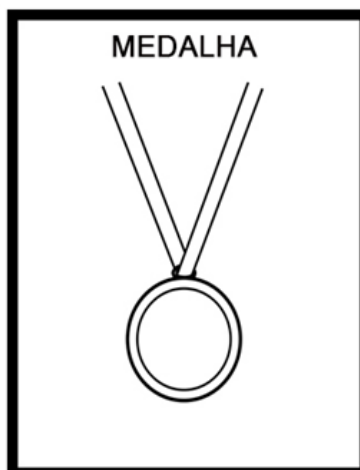


$92 \overline{) 2}$

$51 \overline{) 2}$


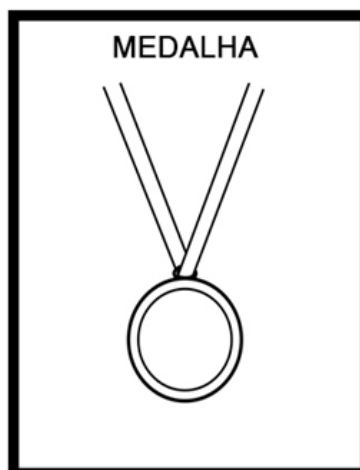

$31 \overline{) 2}$



JOGO DA MEMÓRIA DAS OLIMPIADAS



JOGO DA MEMÓRIA DAS OLIMPIADAS



ESCOLA: _____

NOME: _____

DATA: _____

APRENDER E BRINCAR



aprenderebrincar.com

NUMA CAIXA HÁ 7 CHOCOLATES AMARGOS E 8 CHOCOLATES BRANCOS. QUANTOS CHOCOLATES HÁ NESSA CAIXA?

RESPOSTA: HÁ ____ CHOCOLATES NESSA CAIXA.



aprenderebrincar.com

PEDRO COMPROU 15 GIBIS PARA LER. ATÉ O MOMENTO LEU 4. QUANTOS GIBIS AINDA FALTAM ELE LER?

RESPOSTA: FALTAM ____ GIBIS PARA ELE LER.



aprenderebrincar.com

NO JARDIM HAVIA 5 BORBOLETAS GRANDES E CHEGARAM MAIS 4 BORBOLETAS PEQUENAS. QUANTAS BORBOLETAS TINHAM AO TODO?

RESPOSTA: TINHAM ____ BORBOLETAS NO TOTAL.



aprenderebrincar.com

O CARTEIRO TINHA 9 CARTAS PARA ENTREGAR. ENTREGOU APENAS 7. QUANTAS CARTAS FALTAM ELE ENTREGAR?

RESPOSTA: FALTAM ____ CARTAS PARA ENTREGAR.



REFERÊNCIAS BIBLIOGRAFICAS:

<http://cantinhodosaber.com.br/olimpiadas/atividades-para-trabalhar-as-olimpiadas-2021/>

<https://www.soescola.com/2016/08/atividades-sobre-olimpiadas-para-imprimir-e-colorir.html>

<https://www.educacaoetransformacao.com.br/atividades-sobre-as-olimpiadas-2021/>

<https://www.espacoeducar.net/2016/07/atividade-sobre-as-olimpiadas-colagem.html>

<https://www.educacaoetransformacao.com.br/atividades-olimpiadas-de-matematica/>

<https://www.soescola.com/2021/06/atividades-olimpiadas-2021.html>

<https://www.espacoeducar.net/2016/08/atividade-ludica-jogo-da-memoria-das.html>

<https://www.atividadesescolares.com.br/atividades-olimpiadas-para-imprimir/>

<https://br.pinterest.com/pin/573646071269723801/>

<https://br.pinterest.com/pin/490048003199360483/>

<https://br.pinterest.com/pin/785244885005099073/>

<https://br.pinterest.com/pin/733312751825621128/>

<https://br.pinterest.com/pin/412923859584638145/>

<https://br.pinterest.com/pin/860117228825224455/>

<https://br.pinterest.com/pin/739364463795022328/>

<https://br.pinterest.com/pin/457256168398472594>

<https://www.educacaoetransformacao.com.br/atividades-sobre-as-olimpiadas-2021/>

<https://cantinhodosaber.com.br/atividades-para-olimpiadas-2021-14/>

<https://www.atividadesescolares.com.br/atividades-olimpiadas-para-imprimir/>

<https://www.soescola.com/2021/06/atividades-olimpiadas-2021.html>

<https://br.pinterest.com/pin/480407485244385559/>

<https://br.pinterest.com/pin/237987161545320886/>

<https://br.pinterest.com/pin/530932243569125827/>