



PREFEITURA DA ESTÂNCIA TURÍSTICA DE IBIÚNA
EM PROF. CALIL RAHAL NETO

Rua Projetada, 620 - Capim Azedo - Ibiúna - SP - Telefone: 3241-5917



9ª. APOSTILA DE ESTUDOS ATIVIDADES NÃO PRESENCIAIS 3º BIMESTRE



ENSINO FUNDAMENTAL

ALUNO:

PROFESSORA: GABRIELA

TURMA: 5º ANO A

DATA DE DEVOLUÇÃO: 30/08/2021

Nome: _____

Professora: Gabriela

Turma: 5º ano A


Data: 09/08/2021 –



Vamos lá, mostre que você sabe tudo e responda com atenção.

ATIVIDADE DE PORTUGUÊS: GÊNERO TEXTUAL CONVITE

Vamos ler com atenção o texto abaixo.



**Venha comemorar o
NOSSO BODAS DE OURO.**

Motivo de grande alegria!

DIA: 18 DE setembro de 2014

HORA: 19:00

LOCAL: Igreja da Matriz

José e Maria

01- O assunto principal do texto é:

- (A) Festa de batizado
- (B) Festa de casamento
- (C) festa de bodas de ouro
- (D) festa de aniversário

02- A finalidade do texto é

- (A) Divertir
- (B) Convidar
- (C) Informar
- (D) Relacionar

03- Quem está comemorando a festa?

- (A) João e Maria
- (B) Josué e Mariana
- (C) José e Maria
- (D) Juca e Marina

04- No convite está escrito que a festa será às 19:00hs. A festa será:

- (A) De madrugada
- (B) À noite
- (C) Durante o dia
- (D) À tarde

Nome: _____

Professora: Gabriela

Turma: 5º ano A

Data: 09/08/2021 –

1 NA FILA PARA ESCORREGAR, A 1ª PESSOA É A MENINA DE CAMISETA AZUL.



A) QUAL É A COR DA CAMISETA DA 3ª PESSOA DA FILA? _____

B) QUAL É A COR DA CAMISETA DA 8ª PESSOA DA FILA? _____

C) OBSERVE A MENINA DE CAMISETA VERMELHA. QUAL É A COR DA CAMISETA DE QUEM ESTÁ À DIREITA DELA? _____

D) E A COR DA CAMISETA DE QUEM ESTÁ À ESQUERDA DELA?

Nome: _____

Professora: Gabriela

Turma: 5º ano A

Data: 10/08/2021 –



Mostre que você é craque.
Estou torcendo por você!!!

ATIVIDADE DE PORTUGUÊS: GÊNERO TEXTUAL ADIVINHA

Leia o texto abaixo com atenção:

O PEIXE

POR QUE SERÁ QUE O PEIXE
PARECE TÃO DESCANSADO?
O QUE SERÁ QUE ELE FAZ?
NADA.

A black and white line drawing of a fish with a sad expression, its mouth is a simple line, and it has a few bubbles above its head. The fish is looking towards the left.

01- Ao ler o texto, concluímos que é:

- (A) Uma adivinha (C) Um bilhete
(B) Um poema (D) Uma tirinha

02- A finalidade do texto é:

- (A) Ensinar uma receita
(B) Contar uma piada
(C) Mandar um recado
(D) Divertir as pessoas

03- Segundo o texto, o peixe parece tão:

- (A) Desconfiado (C) Desmotivado
(B) Desconsolado (D) Descansado

04- Faça um X no grupo de palavras que rima com a palavra **PEIXE**.

- (A) Lixo - Caixa (C) Lixa - Faixa
(B) Deixe - Feixe (D) Xuxa - Roxo

EM "Prof. Calil Rahal Neto"

Nome: _____

Professora: Gabriela

Turma: 5º ano A

Data: 10/08/2021 –

1. NA CESTA, HÁ UMA DÚZIA DE MANGABAS.
COMPLETE AS FRASES:



(A) RETIRANDO 5 MANGABAS DA CESTA, SOBRAM
_____ MANGABAS.

(B) DEPOIS DE RETIRAR AS 5 MANGABAS, DEVO COLOCAR _____ PARA TER
UMA DÚZIA E MEIA DE MANGABAS.

(C) EM DUAS DÚZIAS HÁ _____ MANGABAS, E EM TRÊS DÚZIAS HÁ _____.

2. VEJA O DINHEIRO DE MARCOS:

(A) QUANTOS REAIS MARCOS TEM?



(B) SE ELE GASTAR 8 REAIS, COM QUANTO FICARÁ? _____

(C) SE, EM VEZ DE GASTAR, ELE GANHAR MAIS 12 REAIS, COM QUANTO
FICARÁ? _____

Nome: _____

Professora: Gabriela

Turma: 5º ano A

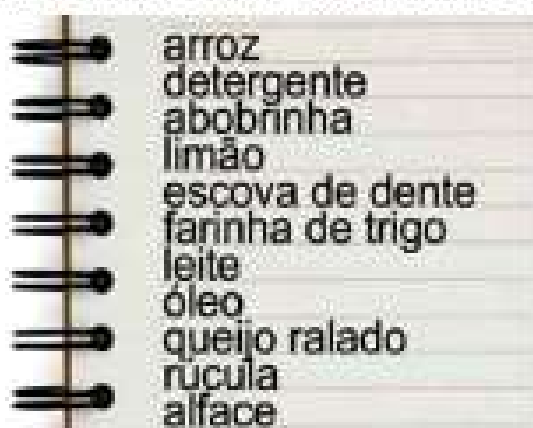
Data: 11/08/2021 –



*Responda com atenção sua atividade,
mostre que aprendeu tudo.*

ATIVIDADE DE PORTUGUÊS: GÊNERO TEXTUAL LISTA

Leia o texto com atenção, e a seguir responda:



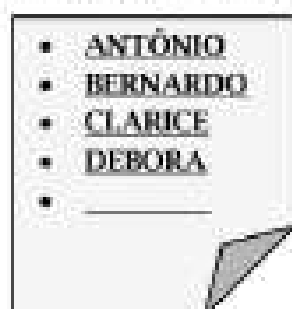
01- O assunto principal do texto acima é:

- (A) Lista de compras
- (B) Lista de material escolar
- (C) Lista de brincadeiras
- (D) Lista telefônica

02-(D22) Esse texto tem como finalidade:

- (A) Informar
- (B) Divertir
- (C) Convidar
- (D) Relacionar

Leia o texto com sabedoria:



03-Observando o texto com atenção e seguindo a ordem alfabética, qual seria o próximo nome da lista?

- (A) Alice
- (B) Beto
- (C) Eliane
- (D) José

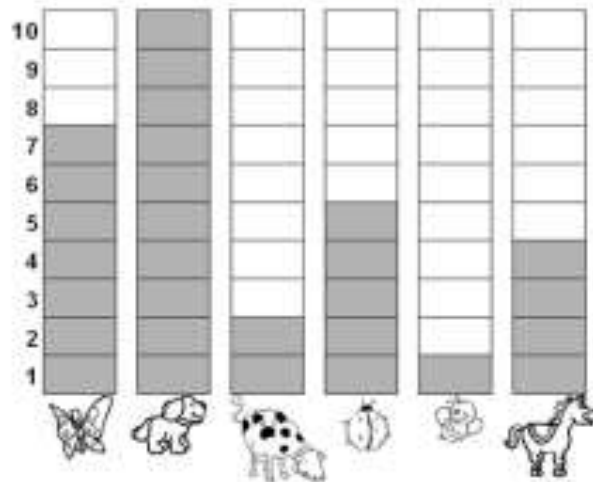
Nome: _____

Professora: Gabriela

Turma: 5º ano A

Data: 11/08/2021 –

OBSERVE O GRÁFICO QUE MOSTRA O ANIMAL PREFERIDO PELOS ALUNOS DO 2º ANO:



DE ACORDO COM O GRÁFICO, COMPLETE A TABELA ABAIXO: ESCREVENDO O NOME DOS ANIMAIS E SUA RESPECTIVA QUANTIDADE.

NOME DO ANIMAL	QUANTIDADE
Abelha	
Borboleta	
Cachorro	
Cavalo	
Joanhinha	
Vaca	

QUAL FOI O ANIMAL MAS VOTADO? _____

QUAL FOI O ANIMAL MENOS VOTADO? _____

QUANTOS VOTOS TEVE O CAVALO ? _____

QUAL ANIMAL TEVE 7 VOTOS? _____

Nome: _____

Professora: Gabriela

Turma: 5º ano A

Data: 12/08/2021 –



*Responda com atenção sua atividade,
mostre que aprendeu tudo.*

ATIVIDADE DE PORTUGUÊS: GÊNERO TEXTUAL TIRINHA

Leia o texto com atenção e a seguir responda:



01-O texto que você leu é:

- (A) uma fábula
- (B) uma notícia
- (C) uma receita
- (D) uma tirinha

02- Onde se passa a história?

- (A) dentro de casa
- (B) na escola
- (C) na floresta
- (D) na praia

04- O texto lido serve para:

- (A) Ensinar a fazer um doce
- (B) transmitir um ensinamento
- (C) Divertir o leitor
- (D) Passar uma informação

EM "Prof. Calil Rahal Neto"

Nome: _____

Professora: Gabriela

Turma: 5º ano A

Data: 12/08/2021 –

Atividade de matemática

- 1) Maria foi ao cinema e se sentou no último lugar vago da sala. Havia 12 fileiras com 10 poltronas em cada fileira. Quantas pessoas estavam na sala?
 - a) 22
 - b) 80
 - c) 120
 - d) 132

- 2) Julieta comprou um refrigerante com 4 moedas de um real, uma de cinquenta centavos e uma de dez centavos. Qual o valor desse refrigerante?
 - a) R\$ 4,60.
 - b) R\$ 4,90.
 - c) R\$ 5,40.
 - d) R\$ 5,60.

Nome: _____

Professora: Gabriela

Turma: 5º ano A

Data: 13/08/2021 –



*Responda com atenção sua atividade,
mostre que aprendeu tudo.*

ATIVIDADE DE PORTUGUÊS: GÊNERO TEXTUAL FÁBULA

Leia o texto com atenção:

A raposa e o corvo

Era uma vez um corvo. **Ele** fugiu com um queijo no bico e decidiu pousar sobre uma árvore. Encontrou uma raposa que lhe disse:

— Como é lindo o seu corpo! Se você tivesse voz, seria superior a todas as aves.

O corvo ficou vaidoso com os elogios. Resolveu levantar o pescoço para cantar. Quando abriu o bico, derrubou o queijo.

A raposa pegou o queijo e foi embora rindo.

Só então que o corvo percebeu que tinha sido enganado.

Moral: não se deixe iludir com os elogios fáceis.



01. O assunto do texto é:

(A) o corvo valente

(B) o corvo vaidoso

(C) o corvo tímido

(D) o corvo apressado

02. O corvo percebeu que foi enganado quando:

(A) caiu da árvore

(B) a raposa fugiu com o queijo

(C) estava cantando

(D) desfilava para a raposa

03. A palavra **ELE** em destaque no texto refere-se:

(A) ao bico

(B) ao corvo

(C) ao queijo

(D) a raposa

Nome: _____

Professora: Gabriela

Turma: 5º ano A

Data: 13/08/2021 –

1 - Milena comprou 5 caixas de bombons com 28 unidades em cada uma. Ela distribuiu 54 desses bombons para seus amigos. Com quantos bombons Milena ficou?

a) () 75

b) () 82

c) () 86

d) () 96

2 - Fernando tem, no seu cofrinho, cinco moedas de R\$ 0,05, oito moedas de R\$ 0,10 e três moedas de R\$ 0,25. Que quantia Fernando tem no cofrinho?

a) () R\$ 1,55

b) () R\$ 1,80

c) () R\$ 2,05

d) () R\$ 4,05

Nome: _____

Professora: Gabriela

Turma: 5º ano A

Data: 14/08/2021 –

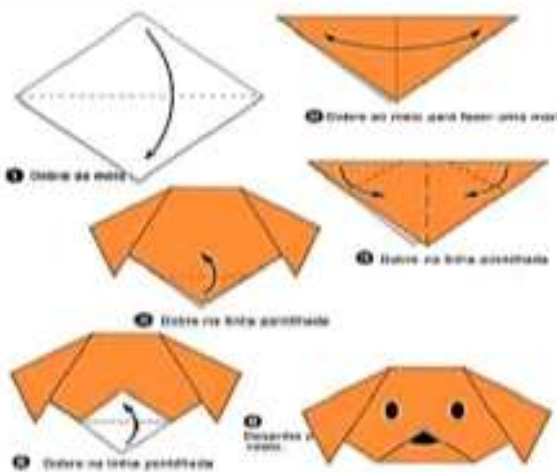
ATIVIDADE DE PORTUGUÊS: GÊNERO TEXTUAL INSTRUCIONAL

Leia o texto com atenção

CACHORRINHO NIMOJO

MATERIAL:
FOLHA BRANCA OU COLORIDA
LÁPIS DE COR
COLORIDAS
LÁPIS E BORRACHA
TESOURA

MODO DE FAZER
PEGUE UMA FOLHA QUADRADA,
SIGA AS SEQUENCIAS DAS DOBRADURAS
E PINTE DA COR QUE DESEJAR



01- Esse texto é uma:

- (A) Lista (B) Carta (C) Receita (D) Instrucional

02- O texto ensina a fazer um:

- (A) Cachorro (B) Gato (C) Rato (D) Tigre

03- Este texto serve para:

- (A) Divertir o leitor (C) Ensinar a fazer algo
(B) Contar uma história (D) Narrar um acontecimento

EM "Prof. Calil Rahal Neto"

Nome: _____

Professora: Gabriela

Turma: 5º ano A

Data: 14/08/2021 –

3 - Caio quer dividir uma garrafa de 2 litros de refrigerante com seus amigos. Sabendo que um copo contém 200 ml de refrigerante. Caio conseguirá encher:

a) 1 copo

b) 10 copos

c) 20 copos

d) 30 copos

4 - Dois amigos colecionam bolas de gude. João tem 17 bolinhas, e Paulo tem 25. Quantas bolas de gude os dois têm juntos?

a) 17

b) 25

c) 32

d) 42

Nome: _____

Professora: Gabriela

Turma: 5º ano A

Data: 16/08/2021 –

ATIVIDADE DE PORTUGUÊS: GÊNERO TEXTUAL INSTRUCIONAL

Leia o texto com atenção e com sabedoria, responda:

JOGO DA MEMÓRIA

**RECORTE AS FIGURAS DA ÚLTIMA PÁGINA.
MISTURE-AS, COLOQUE SOBRE A MESA E OLHE BEM.
VIRE AS CARTAS PARA BAIXO E MISTURE.
DESVIRE UMA A UMA E ENCONTRE OS PARES.
SE ACERTAR RETIRE AS DUAS E GUARDE.
SE ERRAR TORNE A VIRÁ-LAS.
VOCÊ TERMINA QUANDO TIVER FORMADO TODOS OS PARES.**

01- O nome deste jogo é:

- (A) lembrança. (B) vitória. (C) memória. (D) figuras.

02- Para que serve este tipo de texto?

- (A) Divertir o leitor. (C) Ensinar a jogar.
(B) Convidar a jogar. (D) Deixar recados para os jogadores.

03- Qual o assunto do texto?

- (A) Jogo da memória. (C) Jogo de baralho.
(B) Jogo de peteca. (D) Jogo da medalha

04- O texto ensina:

- (A) As instruções de como jogar. (C) Título e autor.
(B) Ingredientes e modo de fazer. (D) A moral do jogo

Nome: _____

Professora: Gabriela

Turma: 5º ano A

Data: 16/08/2021 –

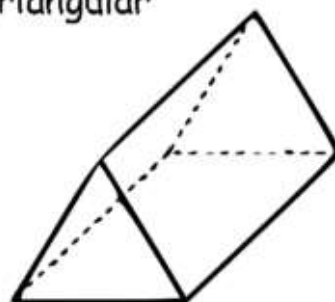
5) Observe abaixo o desenho de um prisma triangular reto. Quantas arestas tem esse prisma?

a) () 2

b) () 5

c) () 6

d) () 9



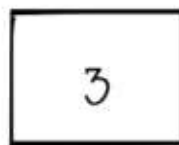
6 - Observe, abaixo, as figuras geométricas que uma professora desenhou no quadro. Aquela que representa um losango é a de número:

a) () 1

b) () 2

c) () 3

d) () 4

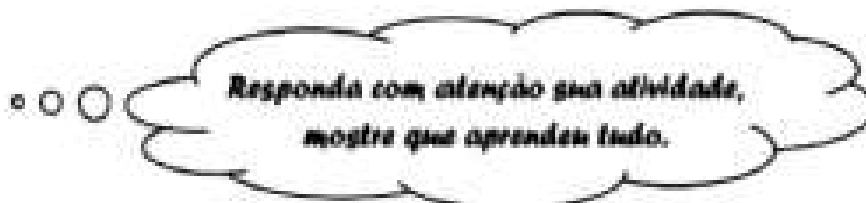



Nome: _____

Professora: Gabriela


Turma: 5º ano A

Data: 17/08/2021 –



ATIVIDADE DE PORTUGUÊS: GÊNERO TEXTUAL FÁBULA

Leia o texto e responda as questões



O CÃO E O OSSO

UM DIA, UM CÃO IA ATRAVESSANDO UMA PONTE, CARREGANDO UM OSSO NA BOCA.

OLHANDO PARA BAIXO, VIU SUA PRÓPRIA IMAGEM REFLETIDA NA ÁGUA.

PENSANDO VER OUTRO CÃO, COBIÇOU-LHE LOGO O OSSO E PÔS-SE A LATIR.

MAL, PORÉM, ABRIU A BOCA, SEU PRÓPRIO OSSO CAIU NA ÁGUA E SE PERDEU PARA SEMPRE.

01. Qual o gênero do texto?
- (A) Poema (C) Fábula
(B) Tirinha (D) Receita

02. A finalidade do texto é:
- (A) Dar uma informação
(C) Dar um recado
(B) Divertir o leitor
(D) Transmitir um ensinamento

Leia o texto e responda à questão:

A FORMIGA E A NEVE

Um dia andava a formiga a trabalhar no campo, quando as nuvens deixaram cair sobre a terra um manto branco de neve.

Debaixo da neve, a formiguinha sentiu-se gelar. Pediu ajuda a ave do céu, ao cabrito do monte e ao vento que passou. Mas ninguém ajudou a formiguinha. Foi então que uma janela azul se abriu entre as nuvens. Por ela passou um raio de sol que derreteu a neve.

03. As fábulas são textos que geralmente falam sobre:
- (A) pessoas (B) animais (C) alimentos (D) flores

- 04- A palavra ela em destaque no texto refere-se:
- (A) a janela (C) a formiguinha
(B) as nuvens (D) a neve

Nome: _____

Professora: Gabriela

Turma: 5º ano A

Data: 17/08/2021 –

7 - O número 9 806 pode ser escrito da seguinte forma:

- a) nove mil e oitenta e seis
- b) nove mil oitocentos e sessenta
- c) nove mil oitocentos e seis
- d) nove mil oitenta sessenta

8 - As escolas "Morada da Luz" e "Saber Mais" têm, juntas, 5578 alunos. As duas escolas têm o mesmo número de alunos. A quantidade de alunos na escola Morada da Luz é:

- a) 441 alunos
- b) 2.491 alunos
- c) 2.490 alunos
- d) 2.789 alunos




Nome: _____

Professora: Gabriela

Turma: 5º ano A

Data: 18/08/2021 –



Vamos lá, mostre que você sabe tudo e responda com atenção.

ATIVIDADE DE PORTUGUÊS: GÊNERO TEXTUAL LISTA

Leia com atenção o texto abaixo, e a seguir responda:

- Lápis
- Borracha
- Caneta
- Caderno
- Mochila
- Tesoura
- cola

01-O Gênero do texto é:

- (A) Informativo
- (B) Lista
- (C) Receita
- (D) Cardápio

02-O texto lido serve para:

- (A) Ensinar a fazer um doce
- (B) Mandar um recado
- (C) transmitir um ensinamento
- (D) relacionar objetos

03- Segundo o texto acima, qual é o terceiro objeto da lista?

- (A) Lápis
- (B) Caneta
- (C) Borracha
- (D) Cola

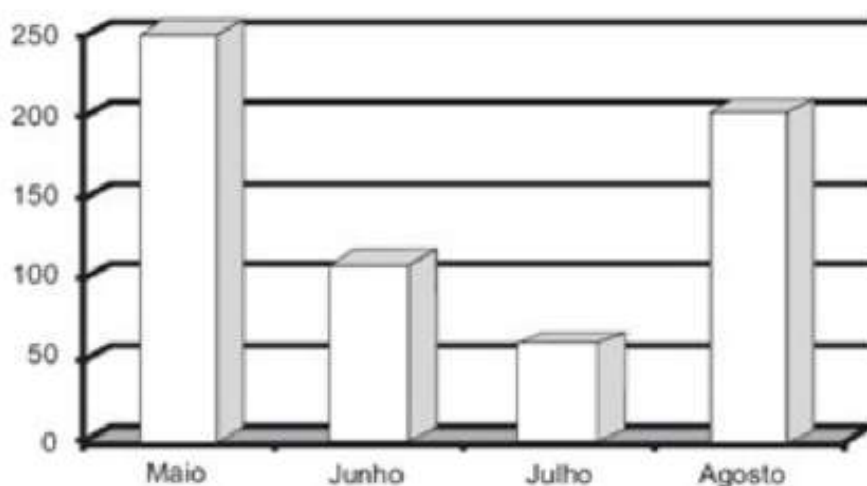
Nome: _____

Professora: Gabriela

Turma: 5º ano A

Data: 18/08/2021 –

- Observe o gráfico abaixo:



9 - Ele nos mostra a quantidade de livros da biblioteca de uma escola municipal, lidos pelos alunos, durante os anos letivos. Então, analisando as informações apresentadas, podemos visualizar que:

- a) () No ano de 2008 foram lidos mais livros que em 2010.
- b) () Em 2011, foi o ano que mais livros foram lidos.
- c) () No ano de 2012 foram lidos menos livros que em 2007.
- d) () Em 2005, foi o ano que mais livros foram lidos.


Nome: _____

Professora: Gabriela


Turma: 5º ano A

Data: 19/08/2021 –

- Encontre no diagrama os nomes das personagens das lendas do Folclore brasileiro.



N E G R I N H O N E G V C U C
B O D O N P A S T O R E I O C
O O M N V C U S I V C R T E U
I M I A R A S E M U L A V E R
B O A T Q W E R T S E M Y O U
B P L K A J H C A B E Ç A F P
U D S A M T N U B V C X Z Q I
M W E R T Y Á C I O P L K J R
B H G F D S A A Z X C V B N A
Á S A C I P P E R E R Ê R Á E



Nome: _____

Professora: Gabriela

Turma: 5º ano A

Data: 19/08/2021 -

MATEMÁTICA

Quais são os números que vão nos quadri-
nhos em branco? Resolva esta matemática.



8	÷	4	=	2
+		+		x
	-		=	
=		=		=
16	-		=	8

Nome: _____

Professora: Gabriela

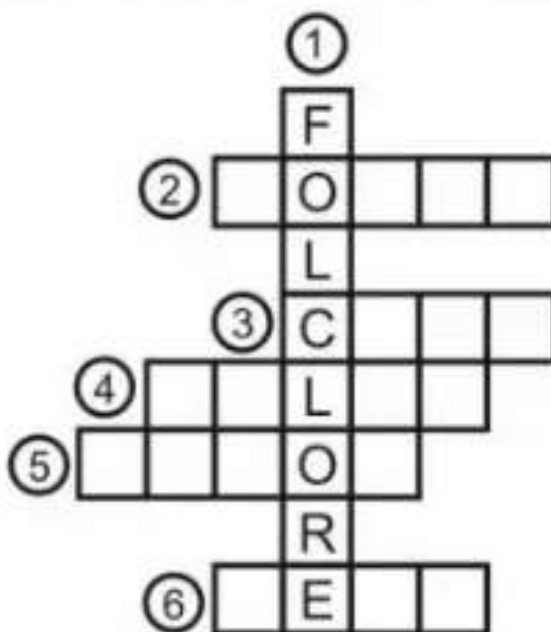
Turma: 5º ano A

Data: 20/08/2021 –

PENSE E RESPONDA:



- 1 - SABER DO POVO. _____ FOLCLORE _____
- 2 - MONTADO NA MORTE A PROCURA DA _____
- 3 - JACARÉ QUANDO TEM FOME ATÉ BARRO _____
- 4 - CADA MACACO NO SEU _____
- 5 - POBRE QUANDO ENFIA A MÃO NO BOLSO SÓ TIRA CINCO _____
- 6 - QUEM DÁ AOS POBRES EMPRESTA A _____



ADIVINHA:

NO CAMPO ME CRIEI,
CERCADO DE VERDES LAÇOS,
QUEM MAIS CHORA POR MIM
É QUEM ME FAZ EM PEDAÇOS.

CEGONHA

SELO

CEBOLA



Nome: _____

Professora: Gabriela

Turma: 5º ano A

Data: 20/08/2021 –

MULTIPLICANDO

MULTIPLIQUE OS NÚMEROS DE ACORDO COM CADA COLUNA:



NEGRINHO DO PASTOREIO

X	2	4	6	8	10	12	14
2	4	8					
3	6						
5							
7							

CALCULE:

$$\begin{array}{r} 14 \\ \times 2 \\ \hline 28 \end{array}$$

$$\begin{array}{r} 25 \\ \times 3 \\ \hline \end{array}$$

$$\begin{array}{r} 72 \\ \times 2 \\ \hline \end{array}$$

$$\begin{array}{r} 26 \\ \times 5 \\ \hline \end{array}$$

$$\begin{array}{r} 25 \\ \times 3 \\ \hline \end{array}$$

$$\begin{array}{r} 23 \\ \times 6 \\ \hline \end{array}$$



Nome: _____

Professora: Gabriela

Turma: 5º ano A

Data: 23/08/2021 –



EU DESCUBRO O DITADO POPULAR

1) Reúna-se com um colega e descubra o que está escrito abaixo.

Dica: Substitua os numerais por letras de acordo com a seqüência do alfabeto. A frase é um ditado popular.



A	B	C	D	E	F	G	H	I	J	L	M
1	2	3	4	5	6	7	8	9	10	11	12

N	O	P	Q	R	S	T	U	V	X	Z
13	14	15	16	17	18	19	20	21	22	23

3 1 18 1 4 5 6 5 17 17 5 9 17 14
 ○ ○ ○ ○ ○ ○ ○ ○ ○ ○ ○ ○ ○ ○ ○

5 18 15 5 19 14 4 5 15 1 20
 ○ ○ ○ ○ ○ ○ ○ ○ ○ ○ ○

Nome: _____

Professora: Gabriela

Turma: 5º ano A

Data: 23/08/2021 –

MILHARES

Forme o maior e o menor número usando apenas os algarismos de cada item:



ALGARISMOS	MAIOR NÚMERO	MENOR NÚMERO
96786	98.766	66.789
16459		
639451	965.431	134.569
385147		
159322	953.221	122.359

Escreva com algarismos:

Trezentos e dezenove mil seiscientos e cinquenta e dois: _____

Cento e cinco mil e duzentos: _____

Setenta e oito mil duzentos e vinte e cinco: _____

Novencentos mil e trezentos e um: _____

Setenta e sete mil quatrocentos e noventa e dois: _____

Quinhentos e vinte e sete mil setecentos e oito: _____

Nome: _____

Professora: Gabriela

Turma: 5º ano A

Data: 24/08/2021 –

ADIVINHE SE PUDER!

- RESPONDA AS ADIVINHAS ABAIXO, CONSULTANDO O BANCO DE PALAVRAS:

1- O QUE É QUE CONTINUA QUENTE MESMO DEPOIS DE FICAR BASTANTE TEMPO NA GELADEIRA?

PIMENTA

2- O QUE É QUE SÓ PODE SER USADO DEPOIS DE QUEBRADO?

3- O QUE É QUE QUANTO MAIS SE TIRA MAIOR FICA?

4- O QUE É QUE CAI DA TORRE E NÃO SE LASCA, CAI NA ÁGUA E SE DESPEDAÇA?

5- O QUE É QUE TEM QUATRO PERNAS, MAS NÃO TEM CABEÇA?

6- O QUE É QUE TEM CINCO DEDOS, MAS NÃO TEM CARNE NEM OSSO?

7- O QUE É QUE QUANTO MAIS CRESCE, MENOS SE VÊ?

8- QUAL É O LUGAR EM QUE TODOS PODEM SENTAR MENOS VOCÊ?

LUVA	PIMENTA	PAPEL	ESCURO
OVO	CADEIRA	NO SEU COLO	BURACO

EM "Prof. Calil Rahal Neto"

Nome: _____

Professora: Gabriela

Turma: 5º ano A

Data: 24/08/2021 –

Uma casa na vila Madalena custa duzentos mil reais:

Represente em algarismos o valor de uma casa:

R\$: _____

Ontem foram vendidas 6 casas. Qual montante foi pago para imobiliária?

R\$: _____

Qual valor ainda entrará pela venda de 7 unidades que ainda restam no estoque da imobiliária?

R\$: _____




Nome: _____

Professora: Gabriela

Turma: 5º ano A

Data: 25/08/2021 –



OS QUE ESCONDEU TO OBJETOS,
VOCÊ É CAPAZ DE ACHÁ-LOS?

Nome: _____

Professora: Gabriela

Turma: 5º ano A

Data: 25/08/2021 –

Preencha o quadro de ordens e classes com os números indicados.

Quinhentos e quatro mil e vinte e nove.

Oitocentos e quarenta e quatro mil novecentos e nove.

Trinta e seis mil quinhentos e quatro.

Cento e vinte o oito mil e novecentos.

Trezentos e trinta e nove mil duzentos e quarenta.



classe do milhares			classe das unidades simples		
6º ordem	5º ordem	4º ordem	3º ordem	2º ordem	1º ordem
CM	DM	UM	C	D	U
5	0	4	0	2	9


Nome: _____

Professora: Gabriela

Turma: 5º ano A

Data: 26/08/2021 –

QUEBRA CUCA FOLCLÓRICO



1. CADA PERSONAGEM FOLCLÓRICO REPRESENTA UM NUMERAL.
OS NUMERAIS SÃO: **3,5,7,8.**



→ É O MENOR DELES




→ ESTÁ ENTRE O 6 E O 8



→ ESTÁ DEPOIS DO 4.



→ QUAL MEU NUMERAL?



Nome: _____

Professora: Gabriela

Turma: 5º ano A

Data: 26/08/2021 –

10 - Qual a diferença na quantidade de carros vendidos entre junho e agosto?

a) 150

b) 300

c) 100

d) 50

11 - Quantos carros a mais foram vendidos no mês de maio comparando-se a junho?

a) 150

b) 300

c) 100

d) 50

Nome: _____

Professora: Gabriela

Turma: 5º ano A

Data: 27/08/2021 –

CIRCULE A PRIMEIRA SÍLABA DESSAS PALAVRAS:



SACI IARA CURUPIRA
LENDAS BOTO CAIPORA
FOLCLORE BOITATÁ DANÇAS
FESTAS COMIDAS CANTIGAS
SUPERSTIÇÕES ADIVINHAS

COLOQUE AS PALAVRAS ACIMA NA ORDEM ALFABÉTICA:

1ª _____	5ª _____	9ª _____	13ª _____
2ª _____	6ª _____	10ª _____	14ª _____
3ª _____	7ª _____	11ª _____	
4ª _____	8ª _____	12ª _____	

DÊ O PLURAL DAS PALAVRAS ABAIXO:

Festa _____ Lenda _____

Comida _____ Dança _____

Cantiga _____ Remédio _____

Superstição _____ Saci _____

Adivinha _____ Boto _____



Nome: _____

Professora: Gabriela

Turma: 5º ano A

Data: 27/08/2021 –

FORME PALAVRAS RELACIONADAS COM O NOSSO FOLCLORE DE ACORDO COM O NÚMERO DAS SÍLABAS INDICADAS:

1 BOI	2 SA	3 I	4 RA	5 BO	6 DI
7 TA	8 A	9 CU	10 CI	11 PI	12 TO
13 DAS	14 CO	15 MI	16 CAS	17 TÍ	18 DAN
19 ÇAS	20 NHAS	21 VI	22 TÁ	23 RU	24 VI

1 + 7 + 22 = BOITATÁ

8 + 6 + 21 + 20 = _____

2 + 10 = _____

5 + 12 = _____

3 + 8 + 4 = _____

9 + 23 + 11 + 4 = _____

18 + 19 = _____

14 + 15 + 13 + 17 + 11 + 16 = _____



REFERÊNCIAS

<https://verfazercopiarerecriar.blogspot.com/2020/11/cadernos-completos-para-baixar-eja-fund.html>

<https://www.newfuntrip.com/atividades-de-datas-comemorativas/>

<https://saladatiarafa.blogspot.com/>

<https://educacaoetransformacaooficial.blogspot.com>

<https://alfakids.org/matematica-5o-ano/>

<https://amorensina.com.br/>

<https://pedagogiaaopedaletra.com/atividades-tema-folclore/>