

E.M “ALICE VIEIRA DE CAMARGO”

NOME: _____ 3º ANO A

9ª APOSTILA

MINHAS ATIVIDADES



REFERENTES AOS DIAS: 09,10,11,12,13,14,16,17,18,19,20,23,24,25,26 E 27 DE AGOSTO.

DATA DE ENTREGA: 10/08

DATA DE DEVOLUÇÃO: 30/08

PROFESSORA: BIANCA MIRANDA

NOME: _____

ESCOLA: _____ TURMA: _____

DATA: IBIÚNA, 09 DE AGOSTO DE 2021 _____

DISCIPLINA: LÍNGUA PORTUGUESA _____

A lenda do Saci Pereré



Diz a lenda que o Saci-Pererê é um negrinho, baixinho, com uma perna só que usa uma carapuça vermelha na cabeça e um cachimbo na boca.

O Saci-Pererê entra nas casas dos moradores, põe açúcar nas comidas, apaga o fogo, faz cócegas nas galinhas, irrita os cachorros, solta os cavalos, assusta os viajantes e muitas outras safadezas.

Dizem que os viajantes, para se livrarem do danadinho, carregam fumo e cachaça para dar-lhe de presente e torcem para que o mesmo vá embora.

Os meninos que eram filhos das escravas com os senhores, eram abandonados nas matas, morriam pagãos, e por isso, viravam Sacis.

Responda:

1. Descreva como eram os sacis, segundo a lenda:

2. O que o Saci-Pererê costuma fazer?

3. O que os viajantes fazem para se livrar deles

NOME: _____

ESCOLA: _____ TURMA: _____

DATA: IBIÚNA, 09 DE AGOSTO DE 2021 _____

DISCIPLINA: ARTES _____

➤ **DESENHE COM GIZ DE CERA OU CANETINHA.**



NOME: _____

ESCOLA: _____ TURMA: _____

DATA: IBIÚNA, 10 DE AGOSTO DE 2021 _____

DISCIPLINA: LÍNGUA PORTUGUESA _____

História: Dia do Folclore – 22 de Agosto

1. Pinte o quadro com a resposta certa.

a) Qual é o dia em que comemoramos o Folclore?

22 de Setembro

22 de Abril

22 de Julho

22 de Agosto

2. Encontre no diagrama o nome de algumas manifestações folclóricas e escreva abaixo.

R	L	E	N	D	A	S	T	E	H	U	L
E	J	U	H	Y	T	D	A	N	Ç	A	S
T	B	R	I	N	Q	U	E	D	O	S	C
B	R	I	N	C	A	D	E	I	R	A	S
B	W	D	C	X	S	A	T	G	B	I	S
P	R	O	V	É	R	B	I	O	S	A	S
C	A	N	Ç	Õ	E	S	K	I	U	Y	Ç

- _____
- _____
- _____
- _____
- _____
- _____



NOME: _____

ESCOLA: _____ TURMA: _____

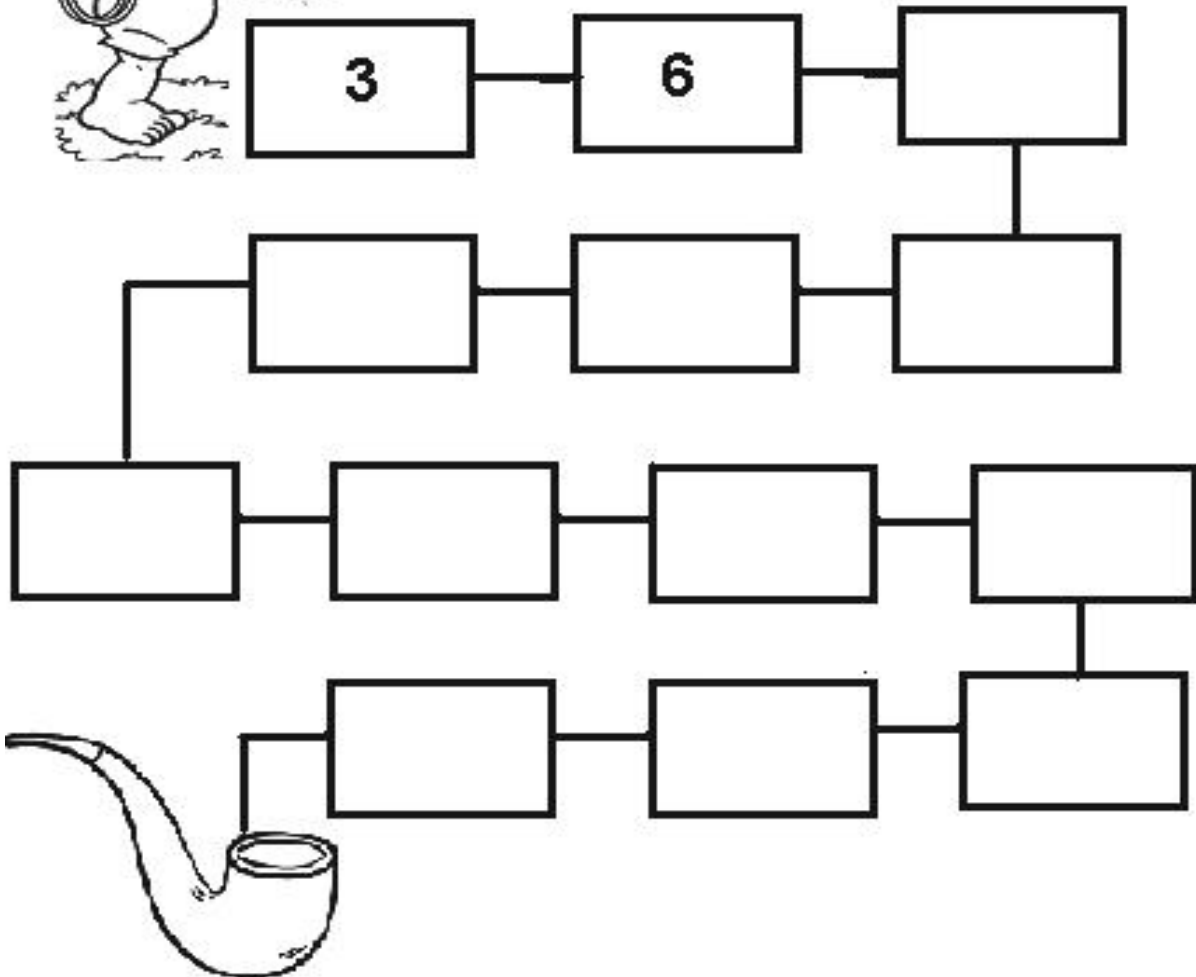
DATA: IBIÚNA, 10 DE AGOSTO DE 2021 _____

DISCIPLINA: MATEMÁTICA _____

MATEMÁTICA



LEVE O SACI ATÉ O CACHIMBO
ESCREVENDO DE 3 EM 3.



NOME: _____

ESCOLA: _____ TURMA: _____


DATA: IBIÚNA, 11 DE AGOSTO DE 2021 _____

DISCIPLINA: LÍNGUA PORTUGUESA _____

7 - Encontre no diagrama os nomes das personagens das lendas do Folclore brasileiro.



N E G R I N H O N E G V C U C
B O D O N P A S T O R E I O C
O O M N V C U S I V C R T E U
I M I A R A S E M U L A V E R
B O A T Q W E R T S E M Y O U
B P L K A J H C A B E Ç A F P
U D S A M T N U B V C X Z Q I
M W E R T Y Á C I O P L K J R
B H G F D S A A Z X C V B N A
Á S A C I P P E R E R Ê R Á E



NOME: _____

ESCOLA: _____ TURMA: _____

DATA: IBIÚNA, 11 DE AGOSTO DE 2021 _____

DISCIPLINA: MATEMÁTICA _____

MATEMÁTICA

DECOMPONHA OS NUMERAIS:



$53 = _ + _$

$26 = _ + _$

$19 = _ + _$

$48 = _ + _$

$34 = _ + _$

$25 = _ + _$

$35 = _ + _$

$58 = _ + _$

$31 = _ + _$

$11 = _ + _$

$41 = _ + _$

$13 = _ + _$

$21 = _ + _$

$29 = _ + _$

$74 = _ + _$

$33 = _ + _$

$55 = _ + _$

$92 = _ + _$

$99 = _ + _$

$17 = _ + _$

$27 = _ + _$

NOME: _____

ESCOLA: _____ TURMA: _____

DATA: IBIÚNA, 12 DE AGOSTO DE 2021 _____

DISCIPLINA: ARTES _____

ATIVIDADE

1. VAMOS COLORIR A GRAVATA DO PAPAI?
2. ESCREVA DE SEU JEITO O NOME DO PAPAI.




NOME: _____

ESCOLA: _____ TURMA: _____

DATA: IBIÚNA, 12 DE AGOSTO DE 2021 _____

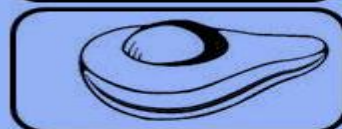
DISCIPLINA: LÍNGUA PORTUGUESA _____

Vamos Rimar!



Rima Com:

Telha



Rima Com:

Tomate




Rima Com:

Cipó



Rima Com:

Pastel



Rima Com:

Pião



Rima Com:

Japonês

NOME: _____

ESCOLA: _____ TURMA: _____

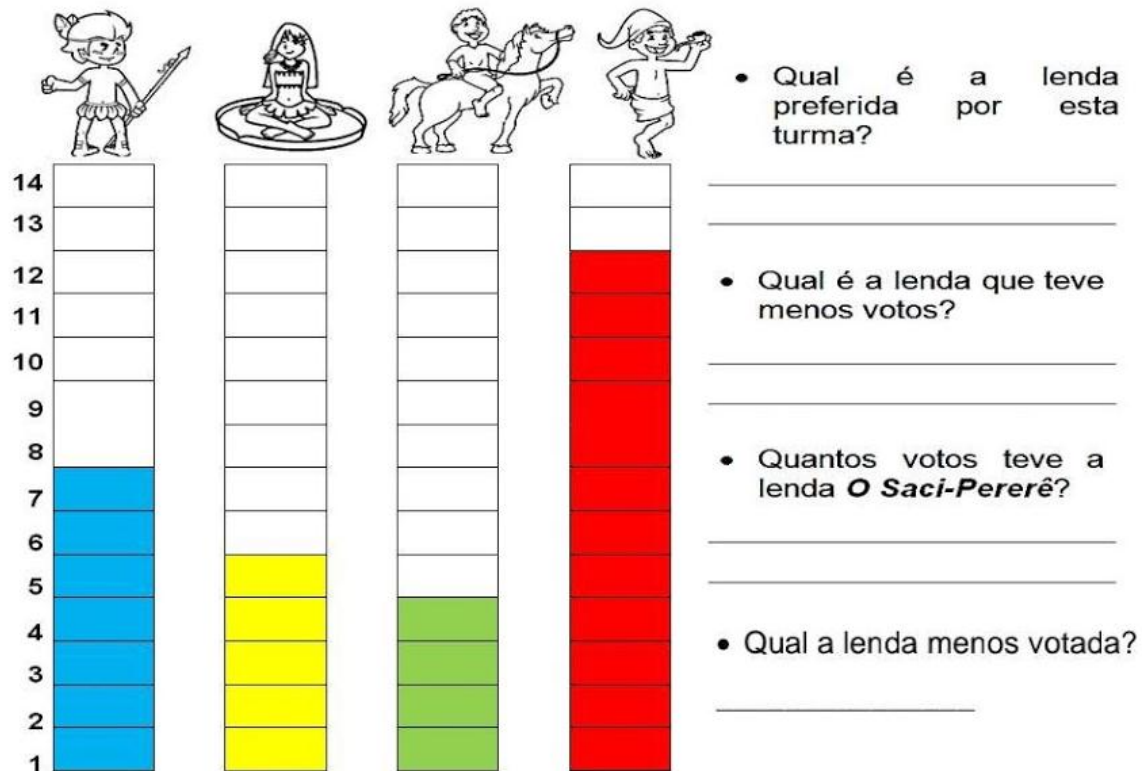
DATA: IBIÚNA, 13 DE AGOSTO DE 2021

DISCIPLINA: MATEMÁTICA

Matemática: Tabelas

Hoje fizemos uma votação para escolher a lenda do folclore preferida pelos alunos de nossa turma.

Com os votos obtidos, montamos o gráfico abaixo. Observe-o e faça o que se pede:



• Qual é a lenda preferida por esta turma?

• Qual é a lenda que teve menos votos?

• Quantos votos teve a lenda **O Saci-Pererê**?

• Qual a lenda menos votada?

• Copie os números que representam a quantidade de votos que teve cada lenda do gráfico e escreva os vizinhos de cada um deles:

7	5	4	12
---	---	---	----

• Agora, escreva estes números usando palavras:

7	5
4	12

NOME: _____


ESCOLA: _____ TURMA: _____

DATA: IBIÚNA, 13 DE AGOSTO DE 2021 _____


DISCIPLINA: RECREAÇÃO _____

JOGO DOS *Ferros*

ENQUANTO A TURMA SE DIVERTE COM AS HISTÓRIAS DO FOLCLORE...



...QUE TAL PROCURAR OS SETE DETALHES DIFERENTES ENTRE AS CENAS?



NOME: _____

ESCOLA: _____ TURMA: _____

DATA: IBIÚNA, 14 DE AGOSTO DE 2021 (SABÁDO LETIVO)

DISCIPLINA: MATEMÁTICA

3. Escreva o nome das moedas ilustradas abaixo:



4. Conte e registre o valor em dinheiro que cada criança possui:

BRUNO



RS

CLARA



RS

JÉSSICA



RS

Agora responda:

- a) Qual criança têm o menor número de cédulas? _____
- b) Qual criança possui menor valor em dinheiro? _____
- c) Qual criança possui maior valor em dinheiro? _____

5. Resolva os probleminhas:

a) Veja quanto cada criança tem e descubra quantos reais têm juntas. Escreva os cálculos ao lado:



e



Antônia tem _____

Francisco tem _____

cálculos

Os dois juntos têm _____

b) Na carteira do pai de Ana há 2 notas de 20 reais, 2 notas de 10 reais e 3 notas de 1 real. Quantos reais há nessa carteira?

Sentença matemática: _____

Resposta: _____

cálculos

NOME: _____

ESCOLA: _____ TURMA: _____

DATA: IBIÚNA, 14 DE AGOSTO DE 2021 (SÁBADO LETIVO)

DISCIPLINA: CIÊNCIAS

1. Observe os solos abaixo, nomeie-os e depois numere as colunas corretamente.

1



2



3



4



() Possui grande quantidade de areia. É um solo muito permeável. Normalmente é pobre em nutrientes.

() É formado por grãos pequenos e compactos, é impermeável e apresenta grande quantidade de nutrientes.

() É um solo bastante fértil, pois contém grande concentração de material orgânico em decomposição.

() Possui poucos nutrientes e grande quantidade de partículas rochosas. É típico de regiões desérticas.


NOME: _____

ESCOLA: _____ TURMA: _____

DATA: IBIÚNA, 16 DE AGOSTO DE 2021 _____

DISCIPLINA: RECREAÇÃO _____

VAMOS AJUDAR A TURMINHA A ENCONTRAR O SACI!



NOME: _____


ESCOLA: _____ TURMA: _____



DATA: IBIÚNA, 16 DE AGOSTO DE 2021 _____

DISCIPLINA: GEOGRAFIA _____

É positivo ou negativo

- De acordo com as afirmativas abaixo, marque com um X se a atitude é positiva ou negativa.



		
Deve-se sempre juntar a roupa para passar para gastar menos energia.		
Não deixe a porta da geladeira aberta sem necessidades.		
Banhos demorados fazem bem para a saúde.		
Durante o dia, aproveite a luz do sol.		
Quando tiver sono, desligue a televisão.		
Não deixe luz acesa nos cômodos sem necessidade.		
Aproveite e lave seus carrinhos na água do chuveiro quando estiver tomando banho.		
Casa iluminada é bem melhor. Conserve todas as luzes dos cômodos de sua casa acesas.		
Utilize lâmpadas fluorescentes, que duram mais e gastam mais energia.		
Use cores escuras nas paredes internas de sua casa, pois exigem lâmpadas mais potentes.		
Use o chuveiro, sempre que possível, na posição "verão", pois assim você economiza cerca de 30% de energia.		

Té agradeço por tudo, meu Senhor!

NOME: _____

ESCOLA: _____ TURMA: _____

DATA: IBIÚNA, 17 DE AGOSTO DE 2021 _____

DISCIPLINA: LÍNGUA PORTUGUESA _____

Emília (Baby Consuelo)

De uma caixa de costura
Pano, linha e agulha
Nasceu uma menina valente
Emília, a boneca gente
Nos primeiros momentos de vida
Era toda desengonçada,
Ficar em pé não podia
Caía, não conseguia nada.

Emília, Emília, Emília
Emília, Emília, Emília.



Mas a partir do momento
Que aprendeu a andar
Emília tomou uma pílula
E tagarelou, tagarelou a falar
Ela é feita de pano
Mas pensa como ser humano
Esperta e atrevida
É uma maravilha, Emília, Emília.

Emília, Emília, Emília
Emília, Emília, Emília.

De Olho na Canção!

1. A canção fala de:

() um soldadinho de chumbo () um gato de botas () uma boneca de pano

2. Pra fazer Emília o que foi utilizado?

3. Na sua opinião o que significa tagarelar?

4. O texto diz que Emília é ...

() esperta e atrevida () alegre e extrovertida () não sabe nada da vida

5. Retire do texto 4 palavras com a mesma classificação silábica da palavra Emília.

NOME: _____

ESCOLA: _____ TURMA: _____

DATA: IBIÚNA, 17 DE AGOSTO DE 2021 _____

DISCIPLINA: MATEMÁTICA _____

7

MULTIPLICANDO

MULTIPLIQUE OS NÚMEROS DE ACORDO COM CADA COLUNA:



NEGRINHO DO PASTOREIO

X	2	4	6	8	10	12	14
2							
3							
5							
7							

CALCULE:

$$\begin{array}{r} 14 \\ \times 2 \\ \hline \end{array}$$

$$\begin{array}{r} 25 \\ \times 3 \\ \hline \end{array}$$

$$\begin{array}{r} 72 \\ \times 2 \\ \hline \end{array}$$

$$\begin{array}{r} 26 \\ \times 5 \\ \hline \end{array}$$

$$\begin{array}{r} 25 \\ \times 3 \\ \hline \end{array}$$

$$\begin{array}{r} 23 \\ \times 6 \\ \hline \end{array}$$

$$\begin{array}{r} 74 \\ \times 3 \\ \hline \end{array}$$

$$\begin{array}{r} 82 \\ \times 2 \\ \hline \end{array}$$

$$\begin{array}{r} 36 \\ \times 4 \\ \hline \end{array}$$




NOME: _____

ESCOLA: _____ TURMA: _____

DATA: IBIÚNA, 18 DE AGOSTO DE 2021 _____

DISCIPLINA: LÍNGUA PORTUGUESA _____

VAMOS ESCREVER UMA HISTÓRIA!



NOME: _____

ESCOLA: _____ TURMA: _____

DATA: IBIÚNA, 18 DE AGOSTO DE 2021 _____

DISCIPLINA: CIÊNCIAS _____

Ciências

Calor

Calor é a forma de energia transferida de um corpo para outro quando há diferença de temperatura entre eles.

O calor também é chamado de energia térmica.

Fontes de calor

As fontes naturais de calor são aquelas que existem na natureza. Há também fontes artificiais de calor.



• Classifique os tipos de fontes de calor. Consulte a legenda:

Fonte natural

forno aceso

secador de cabelos

sol

lâmpada acesa

fontes de águas quentes

Fonte artificial

raio

ferro elétrico

corpo humano

centro da Terra

fogueira

NOME: _____

ESCOLA: _____ TURMA: _____

DATA: IBIÚNA, 19 DE AGOSTO DE 2021 _____

DISCIPLINA: MATEMÁTICA _____

8- Veja a tabela dos preços:



- Qual deles é o mais caro? _____
- E o mais barato? _____
- Para comprar os três produtos eu preciso de _____

- SUCO + CAFÉ: _____

- LEITE + CAFÉ: _____

- LEITE + SUCO: _____

- LEITE - CAFÉ: _____

- LEITE - SUCO: _____

- SUCO - CAFÉ: _____

- Escreva-os em palavras:

R\$1,50 _____

R\$0,50 _____

R\$2,00 _____

NOME: _____

ESCOLA: _____ TURMA: _____

DATA: IBIÚNA, 19 DE AGOSTO DE 2021

DISCIPLINA: LÍNGUA PORTUGUESA

COMPLETE A CRUZADINHA:

HOJE É DOMINGO

G
E
N
T
E

B
U
R
A
C
O

G
E
N
T
E

B
U
R
A
C
O

G
E
N
T
E

B
U
R
A
C
O

G
E
N
T
E

B
U
R
A
C
O

NOME: _____

ESCOLA: _____ TURMA: _____

DATA: IBIÚNA, 20 DE AGOSTO DE 2021 _____

DISCIPLINA: HISTÓRIA _____

PATRIMÔNIO HISTÓRICO



O QUE PODEMOS FAZER PARA PRESERVAR OS NOSSOS PATRIMÔNIOS HISTÓRICOS?

NOME: _____

ESCOLA: _____ TURMA: _____

DATA: IBIÚNA, 20 DE AGOSTO DE 2021 _____

DISCIPLINA: MATEMÁTICA _____

MATEMÁTICA



30	31	32	33	34	35	36	37	38	39
40	41	42	43	44	45	46	47	48	49
50	PRESTE BASTANTE ATENÇÃO!...								

PINTE CORRETAMENTE

- VERMELHO: O NÚMERO QUE ESTÁ ENTRE O 44 E 46.
- AMARELO: OS NÚMEROS QUE TEM 2 ALGARISMOS IGUAIS.
- VERDE: 5 DEZENAS
- LARANJADO: O ANTECESSOR DE 50
- VINHO: O SUCESSOR DE 39
- AZUL: A SOMA DOS ALGARISMOS É IGUAL A 13.

NOME: _____

ESCOLA: _____ TURMA: _____

DATA: IBIÚNA, 23 DE AGOSTO DE 2021 _____

DISCIPLINA: LÍNGUA PORTUGUESA _____

1) ESCRVA FRASES COM OS DESENHOS













NOME: _____

ESCOLA: _____ TURMA: _____

DATA: IBIÚNA, 23 DE AGOSTO DE 2021 _____

DISCIPLINA: MATEMÁTICA _____

MATEMÁTICA













SISTEMA MONETÁRIO

O nome do nosso dinheiro é chamado **Real**. Seu símbolo é **R\$**.
As quantias menores do real são chamadas centavos.
O real pode ser encontrado em cédulas ou moedas

1. Escreva o nome das cédulas que estão abaixo.



2. Observe o valor que Marcos e Jeremias possuem e pinte os produtos que eles podem comprar com esses valores.

<p>Marcos</p>  	 <p>5 reais</p>	 <p>3 reais</p>	 <p>2 reais</p>	 <p>1 real</p>
<p>Jeremias</p>  	 <p>5 reais</p>	 <p>3 reais</p>	 <p>2 reais</p>	 <p>1 real</p>

NOME: _____

ESCOLA: _____ TURMA: _____

DATA: IBIÚNA, 24 DE AGOSTO DE 2021 _____

DISCIPLINA: LÍNGUA PORTUGUESA _____

LOTERIA FOLCLÓRICA:

	LENDA	COMIDA TÍPICA	CANTIGA
PAMONHA	<input type="checkbox"/>	<input checked="" type="checkbox"/>	<input type="checkbox"/>
ATIREI UM PAU NO GATO	<input type="checkbox"/>	<input type="checkbox"/>	<input type="checkbox"/>
SACI	<input type="checkbox"/>	<input type="checkbox"/>	<input type="checkbox"/>
IARA	<input type="checkbox"/>	<input type="checkbox"/>	<input type="checkbox"/>
FEIJOADA	<input type="checkbox"/>	<input type="checkbox"/>	<input type="checkbox"/>
BOTO	<input type="checkbox"/>	<input type="checkbox"/>	<input type="checkbox"/>
CURAU	<input type="checkbox"/>	<input type="checkbox"/>	<input type="checkbox"/>
TEREZINHA DE JESUS	<input type="checkbox"/>	<input type="checkbox"/>	<input type="checkbox"/>
CURUPIRA	<input type="checkbox"/>	<input type="checkbox"/>	<input type="checkbox"/>
CIRANDA CIRANDINHA	<input type="checkbox"/>	<input type="checkbox"/>	<input type="checkbox"/>
BOITATÁ	<input type="checkbox"/>	<input type="checkbox"/>	<input type="checkbox"/>
NEGRINHO DO PASTOREIO	<input type="checkbox"/>	<input type="checkbox"/>	<input type="checkbox"/>
MULA-SEM- CABEÇA	<input type="checkbox"/>	<input type="checkbox"/>	<input type="checkbox"/>
FEIJÃO TROPEIRO	<input type="checkbox"/>	<input type="checkbox"/>	<input type="checkbox"/>
CAIPORA	<input type="checkbox"/>	<input type="checkbox"/>	<input type="checkbox"/>

NOME: _____

ESCOLA: _____ TURMA: _____

DATA: IBIÚNA, 24 DE AGOSTO DE 2021 _____

DISCIPLINA: HISTÓRIA _____

VOCÊ CONHECE ALGUMA LENDA FOLCLÓRICA DA NOSSA CIDADE? CONTE-NOS.

NOME: _____

ESCOLA: _____ TURMA: _____

DATA: IBIÚNA, 25 DE AGOSTO DE 2021 _____

DISCIPLINA: LÍNGUA PORTUGUESA _____

PARLENDA

<p>Cadê o toucinho que estava aqui? O <input type="text"/> comeu.</p> 	<p>Cadê o gato? Fugiu para o <input type="text"/>.</p> 	<p>Cadê o mato? O <input type="text"/> queimou.</p> 
<p>Cadê o fogo? A <input type="text"/> apagou!</p> 	<p>Cadê a água? O <input type="text"/> bebeu.</p> 	<p>Cadê o bol? Foi buscar <input type="text"/>.</p> 
<p>Cadê o trigo? A <input type="text"/> ciscou.</p> 	<p>Cadê a galinha? Está botando <input type="text"/>.</p> 	<p>Cadê o ovo? O <input type="text"/> comeu.</p> 
<p>Cadê o padre? foi rezar a <input type="text"/>.</p> 	<p>Cadê a missa? está no <input type="text"/>.</p> 	<p>Cadê o altar? está na <input type="text"/>.</p> 

NOME: _____

ESCOLA: _____ TURMA: _____

DATA: IBIÚNA, 25 DE AGOSTO DE 2021 _____

DISCIPLINA: RECREAÇÃO _____

DESENHE O SEU PERSONAGEM FAVORITO DAS LENDAS FOLCLÓRICAS.

NOME: _____

ESCOLA: _____ TURMA: _____

DATA: IBIÚNA, 26 DE AGOSTO DE 2021

DISCIPLINA: LÍNGUA PORTUGUESA

FAÇA A LEITURA:



A

A ANA BANANA
TÃO BACANA
NAMORA E GAMA
TODA SEMANA.
A SEMANA QUE A ANA
NÃO GAMA
VIRA UM DRAMA.



D

AOS DOMINGOS
DEU DOMINGOS
DEIXA AS DÍVIDAS,
DEIXA AS DÚVIDAS
E SÓ DE DIVERTE
COM DADOS
E DOMINÓ.



B

UM BODE BRAVO
É UMA BARRA!
E O BODE BERRA
E O BODE BABA
NA BARBA.



E

ENTRAR COM UM ELEFANTE
-MESMO ELEGANTE-
NUM EDIFÍCIO
É FÁCIL OU DIFÍCIL?
MAS EM ESBOÇO
UM ELEFANTE
-MESMO ELEGANTE-
CABE ATÉ EM BOLSO.



C

A CARA DA CORA
QUANDO CORA
DEIXA CLARO
QUE MAIS CLARA
DO QUE A CARA
DA CORA
SÓ A CARA
DA CLARA CLARA.



F

A FLORA DO SEU FLORIPES
FABRICA FLORES FABULOSAS
E FAZ FORTUNA
VENDENDO FLORES,
VENDENDO ROSAS, NA FEIRA
DAS SEXTAS-FEIRAS.

NOME: _____

ESCOLA: _____ TURMA: _____

DATA: IBIÚNA, 26 DE AGOSTO DE 2021

DISCIPLINA: LÍNGUA PORTUGUESA

FAÇA A LEITURA:



P

O PADRE PEDRO
PEGA O PRATO
E PAPA QUE PAPA
E QUANDO O PADRE PEDRO
PAPA, NÃO PÀRA
NEM PRO PAPA.
E DIZEM QUE PRAGA
DO PADRE PEDRO
PEGA E PREGA.
MAS QUEM PEGA
A PRAGA
DO PADRE PEDRO
NO PREGO E PREGA,
A PRAGA NÃO PEGA.



Q

O QUERO-QUERO QUER
PRO QUATI
O QUE O QUATI QUER
PRA TI.



R

O RATO ROEU
A RAPADURA
E SE ARRENDEU
E DIZ QUE SÓ RAPA AGORA
SE FOR RAPAMOLE.



S

O SAPO SABICHÃO
SÓ SAI DO BREJO
E SOBE EM SAPATO
SE A SUCURI SAI DE SI
E SONHA COM SOPA DE SAPO.



T

AO TOPAREM
TRÊS TIGRES TAGARELAS,
TRÊS TATUS
FICARAM TÃO ATARANTADOS
QUE TOCARAM TERRA
NA PRÓPRIA TOCA.



U

O URUBU OLHOU FUNDO
PRO LADO DO TATU
E O TATU NÃO ATUROU
E QUEBROU O PAU:
_ATÉ TU, SEU URUBU,
QUER A PELE DO TATU?



V

VOVÔ, DE TANTO VAI-E-DEM
DE TANTO VEM-E-VAI,
VAI CASAR COM UMA VIÚVA,
UMA UVA,
NO INVERNO QUE VAI
OU NO VERÃO QUE VEM



X

O X DO PROBLEMA
PRO BANDIDO
É FAZER XIXI
NA XÍCARA

NOME: _____

ESCOLA: _____ TURMA: _____

DATA: IBIÚNA, 27 DE AGOSTO DE 2021 _____

DISCIPLINA: MATEMÁTICA _____

2 - O SACI PLANTOU 24 MUDINHAS DE PLANTAS, MAS SÓ 12 NASCERAM. QUANTAS MUDINHAS DE PLANTAS DEIXARAM DE NASCER?



RESPOSTA: _____

3 - O SACI PERERÊ COLHEU DE 1 DÚZIA DE LARANJAS, 1 DEZENA DE MAÇÃS. QUANTAS FRUTAS O SACI COLHEU AO TODO?



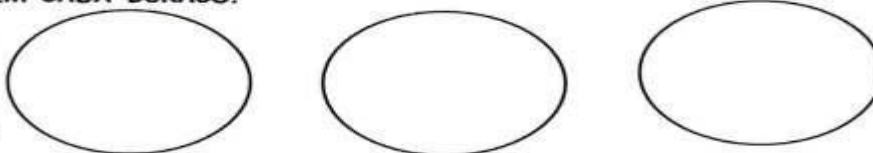
RESPOSTA: _____

4 - NUM SÍTIO TINHA 3 DEZENAS DE LARANJAS. O SACI ESCONDEU MEIA DEZENA DAS LARANJAS. QUANTAS LARANJAS FICARAM NESTE SÍTIO?



RESPOSTA: _____

5 - OS LOBISOMENS PODEM PARECER ASSUSTADORES, MAS O LOBISOMEM LOURIVAL GOSTA MESMO É DE COLETAR OSSINHOS NA LUA CHEIA. DESTA VEZ, ELE CONSEGUIU JUNTAR 27 OSSINHOS E QUER ENTERRÁ-LOS IGUALMENTE EM 3 BURACOS QUE CAVOU. QUANTOS OSSINHOS SERÃO COLOCADOS EM CADA BURACO?



RESPOSTA: _____

6 - UMA MULA-SEM-CABEÇA TEM 4 PATAS. IMAGINE UMA REUNIÃO COM 9 MULAS. QUANTAS PATAS HAVERIA AO TODO NESSA REUNIÃO?



RESPOSTA: _____

NOME: _____

ESCOLA: _____ TURMA: _____

DATA: IBIÚNA, 27 DE AGOSTO DE 2021 _____

DISCIPLINA: CIÊNCIAS _____



O **solo**, também chamado **terra**, tem grande importância na vida de todos os seres vivos do nosso planeta, assim como o ar, a água, o fogo e o vento. É do **solo** que retiramos parte dos nossos alimentos e que sobre ele, na maioria das vezes, construímos as nossas casas.

1) Complete as frases de maneira que fiquem corretas.

O _____ é a parte da crosta terrestre onde nascem e _____ diversas plantas, onde vivem as _____ e muitos outros _____.

(pessoas – animais – solo – crescem)

2) Marque V para alternativas verdadeiras e F para as falsas.

() O solo também é chamado de terra ou chão.

() O solo é formado de pequeninos pedaços de rochas e restos de plantas e animais.

() na superfície terrestre podemos encontrar apenas um tipo de solo.

() na superfície terrestre podemos encontrar diversos tipos de solo.

REFERÊNCIAS

acessaber.com.br

aprendinarede.com.br

<https://educacaoetransformacaooficial.blogspot.com>.

miriamveiga.com.br

misturadealegria.blogspot.com

notebookdaprof.blogspot.com

br.pinterest.com

pt.slideshare.net

revistazunai.com.br

www.smartkids.com.br

www.soescola.com