



E.M. "BAIRRO MANUEL CLEMENTE"

PROFESSORA: ANTONIA

1º ANO- A

ALUNO (A) \_\_\_\_\_

ATIVIDADES DO PERÍODO 10/08 a 27/08/2021

9ª APOSTILA



ROTEIRO E REFERÊNCIAS ANEXOS

**Roteiro de atividades**

<b>DIA</b>	<b>DESCRIÇÃO</b>	<b>PÁGINA</b>
	CAPA – TARCILA DO AMARAL	01
	ROTEIRO DE ATIVIDADES	02
09/08	BIOGRAFIA –TARCILA DO AMARAL	03
09/08	LEITURA E QUESTÕES SOBRE A ARTISTA	04
09/08	COMPLETAR A SEQUÊNCIA NUMÉRICA	05
10/08	COMPLETAR O ALFABETO	06
10/08	1-PINTAR SOMENTE A RESPOSTA CERTA .2FAZER AS ADIÇÕES COMO O MODELO.	07
10/08	HOMENAGEM DIA DOS PAIS.	08
11/08	TEXTO E INTERPRETAÇÃO :A LEOA	09
11/08	SITUAÇÃO PROBLEMAS,SOMANDO	10
12/08	1-FAMÍLIA SILÁBICA DO L.2COPIAR AS PALAVRAS NAS COLUNAS .3-ORGANIZAR E FORMAR A FRASE.	11
12/08	NÚMERO E NUMERAL,COMPLETE O GRÁFICO DE ACORDO COM A TABELA.	12
13/08	COMPLETE COM A FAMÍLIA SILÁBICA DO L.	13
13/08	NÚMEROS ORDINAIS.	14
14/08	PINTAR OS DESENHOS DE ACORDO COM A LEGENDA DAS SÍLABAS.	15
14/08	TREINANDO OS NUMERAIS PONTILHADOS DE 1 A 30.	16
16/08	COMPLETAR AS PALAVRAS COM A FAMÍLIA SILÁBICA DO L.	17
16/08	OBSERVE O QUADRO NUMÉRICO E COMPLETE O QUADRO DAS SEQUENCIAS ABAIXO.	18
17/08	LIGAR AS FIGURAS AS SÍLABAS INICIAIS.	19
17/08	OBSERVE O DESENHO E REGISTRE A QUANTIDADE DE CADA UM.	20
18/08	CRUZADINHA LEGAL DO L.	21
18/08	COMPLETE COM ANTES,ENTRE E DEPOIS.	22
19/08	OBSERVE A FIGURA E CIRCULE O NOME DE CADA UM.	23
19/08	FIGURAS GEOMÉTRICAS.	24
20/08	COMPLETE O NOME DE CADA MODALIDADES DA GINÁSTICA ARTÍSTICA.	25
20/08	SITUAÇÃO PROBLEMA,RESPONDA AS QUESTÕES.	26
20/08	JOGO DA MEMÓRIA –OLIMPÍADAS,RECORTE E BRINQUE.	27
23/08	RECORTAR E COLAR O NOME DOS PERSONAGENS FOLCLÓRICOS.	28
23/08	CONTE E REGISTRE A QUANTIDADE DOS PERSONAGENS FOLCLÓRICOS	29
23/08	FOLCLORE BRASILEIRO,PINTE OS PERSONAGENS.	30
24/08	LEIA E COPIE O TEXTO DO SACI	31
24/08	SITUAÇÃO PROBLEMAS	32
25/08	PEQUENO TEXTO DA LETRA L,RESPONDA O QUADRO ABAIXO CONFORME MODELO.	33
25/08	NÚMEROS ORDINAIS,COMPLETE AS QUESTÕES ABAIXO.	34
26/08	CIRCULE A PALAVRA DE ACORDO COM O NOME DE CADA FIGURA.	35
26/08	LIGAR NÚMERO AOS NOMES.	36
27/08	MARCAR UM X NO NOME DE CADA FIGURA E UNIR AS SÍLABAS E FORMAR AS PALAVRAS.	37
27/08	MEDIDAS DE CAPACIDADE,PINTAR E ESCREVER O NOME DOS PRODUTOS USADOS EM CASA.	38



E.M. "BAIRRO MANUEL CLEMENTE".

IBIÚNA, 09 DE AGOSTO DE 2021.

PROFESSORA : ANTONIA

1º ANO A

ALUNO(A): \_\_\_\_\_

## LÍNGUA PORTUGUESA/HISTÓRIA

### Tarsila do Amaral



Retrato de Tarsila, ca. 1925

<b>Nascimento</b>	1 de setembro de 1886 Capivari, SP
<b>Morte</b>	17 de janeiro de 1973 (86 anos) São Paulo, SP
<b>Nacionalidade</b>	Brasileira
<b>Ocupação</b>	Pintora
<b>Magnum opus</b>	<i>A Negra; Abaporu; Antropofagia; Operários</i>
<b>Movimento estético</b>	Modernismo brasileiro

<https://1.bp.blogspot.com/-et7PjebZG8I/VDZwWNjCcil/AAAAAAAsdc/CMLrQ1ap5so/s1600/chinelo%2Bhavaianas%2Btarsila%2Bdo%2Bamaral.png>



E.M. "BAIRRO MANUEL CLEMENTE".


IBIÚNA, 09 DE AGOSTO DE 2021.

PROFESSORA : ANTONIA

1º ANO A

ALUNO(A): \_\_\_\_\_

## ARTE



**Arte de Tarsila do Amaral**

Simone Helen Drummond

**Abaporu**– Este é o quadro mais importante já produzido no Brasil. Tarsila pintou um quadro para dar de presente para o escritor Oswald de Andrade, seu marido na época.

Quando viu a tela, assustou-se e chamou seu amigo, o também escritor Raul Bopp. Ficaram olhando aquela figura estranha e acharam que ela representava algo de excepcional. Tarsila lembrou-se então de seu dicionário tupi-guarani e batizaram o quadro como Abaporu (ohomemquecome). Foi aí que Oswald escreveu o manifesto antropófago e criaram o movimento antropofágico, com a intenção de "deglutir" a cultura europeia e transformá-la em algo bem brasileiro.

Este movimento, apesar de radical, foi muito importante para arte brasileira e significou uma síntese do movimento modernista brasileiro, que queria modernizar nossa cultura, mas de um modo bem brasileiro.

*O "Abaporu" foi a tela mais cara vendida até hoje no Brasil, alcançando o valor de US\$1.500.000. Foi comprada pelo colecionador argentino Eduardo Constantini*

1) Quem foi e qual era a nacionalidade da artista que criou essa obra?

\_\_\_\_\_

2) Que nome foi dado a esta obra e qual o significado dele?

\_\_\_\_\_

3) Quem Tarsila do Amaral presenteou com esta tela?

\_\_\_\_\_

L



E.M. "BAIRRO MANUEL CLEMENTE".

IBIÚNA, 09 DE AGOSTO DE 2021.

PROFESSORA : ANTONIA

1º ANO A

ALUNO(A): \_\_\_\_\_

## MATEMÁTICA

### Atividade

I-COMPLETE A SEQUÊNCIA NUMÉRICA:





E.M. "BAIRRO MANUEL CLEMENTE".

IBIÚNA, 10 DE AGOSTO DE 2021.

PROFESSORA : ANTONIA

1º ANO A

ALUNO(A): \_\_\_\_\_

## LÍNGUA PORTUGUESA



# ALFABETO

1 - CIRCULE NO ALFABETO ABAIXO, AS LETRAS QUE FORMAM O SEU NOME.

A - B - C - D - E - F - G - H - I  
J - K - L - M - N - O - P - Q - R  
S - T - U - V - W - X - Y - Z

2 - COMPLETE A SEQUÊNCIA ALFABÉTICA:

A	→		→		→		→	
	→		→		→		→	
	→		→		→		→	
	→		→		→		→	
	→		→		→		→	



3 - PINTE COM A COR LARANJA, AS VOGAIS E COM A COR AMARELA, AS CONSOANTES



E.M. "BAIRRO MANUEL CLEMENTE".

IBIÚNA, 10 DE AGOSTO DE 2021.

PROFESSORA : ANTONIA

1º ANO A

ALUNO(A): \_\_\_\_\_

## MATEMÁTICA



### FATOS VARIADOS

1) PINTE SOMENTE O QUADRO COM A RESPOSTA CERTA.

FATOS	RESPOSTAS		
$2 + 3 =$	5	4	3
$2 + 2 =$	3	4	5
$4 + 1 =$	4	2	5
$0 + 5 =$	5	4	0
$3 + 1 =$	3	5	4
$1 + 2 =$	2	5	3




2) OBSERVE AS PEÇAS DO DOMINÓ E FAÇA AS ADIÇÕES NA FORMA HORIZONTAL. VEJA O MODELO.



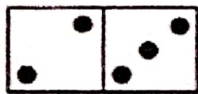
$$0 + 3 = 3$$




$$\dots + \dots = \dots$$




$$\dots + \dots = \dots$$



$$\dots + \dots = \dots$$




$$\dots + \dots = \dots$$



$$\dots + \dots = \dots$$



$$\dots + \dots = \dots$$



$$\dots + \dots = \dots$$





E.M. "BAIRRO MANUEL CLEMENTE".


IBIÚNA, 10 DE AGOSTO DE 2021.

PROFESSORA : ANTONIA

1º ANO A

ALUNO(A): \_\_\_\_\_

*Pai*  
como é grande o meu  
*amor*  
por você



<https://i.pinimg.com/originals/fc/0c/1d/fc0c1d85ae9360941b0249d06e4a62a4.png>





E.M. "BAIRRO MANUEL CLEMENTE".

IBIÚNA, 11 DE AGOSTO DE 2021.

PROFESSORA : ANTONIA

1º ANO A

ALUNO(A): \_\_\_\_\_

## LÍNGUA PORTUGUESA

### TEXTO E INTERPRETAÇÃO.

#### A LEOA

ESTES SÃO LICA E LEÔNCIO.

LICA É UMA LINDA  
LEOA.

LICA ESTÁ TRISTE  
POR QUE NÃO TEM JUBA  
COMO SEU AMIGO  
LEÔNCIO.

LEÔNCIO É UM  
VALENTE LEÃO.

LICA E LEÔNCIO VIVEM JUNTOS NA SELVA.



- A LEOA SE CHAMA: \_\_\_\_\_

- O LEÃO SE CHAMA: \_\_\_\_\_

- LICA ESTÁ TRISTE POR QUE NÃO TEM: \_\_\_\_\_

- OS LEÕES VIVEM NA: \_\_\_\_\_

- O QUE LEÔNCIO É DE LICA? \_\_\_\_\_



E.M. "BAIRRO MANUEL CLEMENTE".

IBIÚNA, 11 DE AGOSTO DE 2021.

PROFESSORA : ANTONIA


1º ANO A

ALUNO(A): \_\_\_\_\_


MATEMÁTICA

## PROBLEMINHAS


NUMA FAZENDA HAVIA 8 VAQUINHAS E 3 BOIS. QUANTOS ANIMAIS A FAZENDA TINHA NO TOTAL?



O AQUÁRIO DE ALICE POSSUI 5 PEIXINHOS DOURADOS E 4 PEIXES PALHAÇO. QUANTOS PEIXES NO TOTAL ALICE TEM?



PEDRO TEM 7 CARRINHOS E FÁBIO TEM 6. JUNTOS ELES TEM QUANTOS CARRINHOS?



relak bloxsbnt.com



E.M. "BAIRRO MANUEL CLEMENTE".

IBIÚNA, 12 DE AGOSTO DE 2021.

PROFESSORA : ANTONIA

1º ANO A

ALUNO(A): \_\_\_\_\_

## LÍNGUA PORTUGUESA

### FAMÍLIA SILÁBICA L

1- JUNTE A LETRA L ÀS VOGAIS E FORME SÍLABAS.

Diagram illustrating the formation of syllables by combining the letter L with the vowels A, E, I, O, and U. Each combination is placed in a box for the student to write.

2- COPIE AS PALAVRAS NAS COLUNAS CORRETAS.

LATA    MALETA    MALA    LIMÃO    VALÃO    LEÃO  
PALITO    BALÃO    LOJA    LUVA    BOLO    LUAR

LA	LE	LI	LO	LU	LÃO

3- ORGANIZE AS PALAVRAS E FORME UMA FRASE.

COMPROU NA LUANA BOLO LOJA.

\_\_\_\_\_



E.M. "BAIRRO MANUEL CLEMENTE".

IBIÚNA, 12 DE AGOSTO DE 2021.

PROFESSORA : ANTONIA

1º ANO A

ALUNO(A): \_\_\_\_\_

## MATEMÁTICA


# Número e Numeral



**Número** é a idéia de uma quantidade.  
**Numeral** é a representação dessa idéia.



Observe o gráfico de brinquedos de Rafael. Pinte a quantidade, observando a tabela ao lado.



- ◆ Qual brinquedo ele tem em menor quantidade? \_\_\_\_\_
- ◆ Qual tem em maior quantidade? \_\_\_\_\_
- ◆ Qual é a diferença da quantidade de bolas e petecas? \_\_\_\_\_



E.M. "BAIRRO MANUEL CLEMENTE".

IBIÚNA, 13 DE AGOSTO DE 2021.

PROFESSORA : ANTONIA

1º ANO A

ALUNO(A): \_\_\_\_\_

## LÍNGUA PORTUGUESA

# LINGUAGEM

FAMÍLIA SILÁBICA

L

COMPLETE COM:

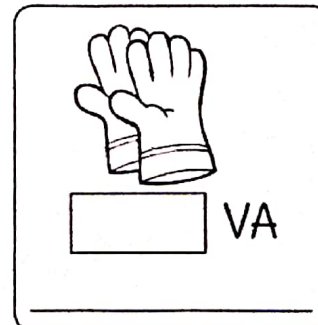
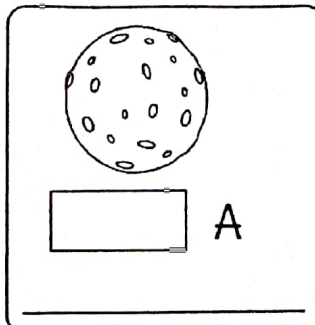





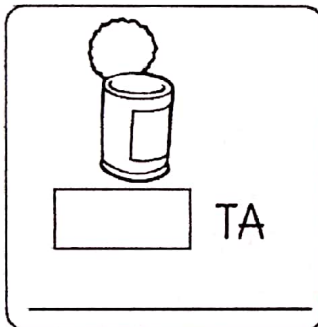
LA

LE

LI

LO

LU





E.M. "BAIRRO MANUEL CLEMENTE".

IBIÚNA, 13 DE AGOSTO DE 2021.

PROFESSORA : ANTONIA

1º ANO A

ALUNO(A): \_\_\_\_\_

## MATEMÁTICA


### NÚMEROS ORDINAIS

PARA INDICAR ORDEM, POSIÇÃO OU LUGAR, UTILIZAMOS OS NÚMEROS ORDINAIS.

OS NÚMEROS ORDINAIS ATÉ O 10º SÃO:



INDIQUE COM O NUMERAL ORDINAL A POSIÇÃO QUE CADA DESENHO SE ENCONTRA NA SEQUÊNCIA.



AGORA COMPLETE.

- A) A ESTRELA É O \_\_\_\_\_ ELEMENTO DA SEQUÊNCIA.
- B) O PINGUIM É \_\_\_\_\_ ELEMENTO DA SEQUÊNCIA.
- C) A \_\_\_\_\_ É O 4º ELEMENTO DA SEQUÊNCIA.
- D) O 5º ELEMENTO DA SEQUÊNCIA É A \_\_\_\_\_.
- E) A OVELHA É O \_\_\_\_\_ ELEMENTO DA SEQUÊNCIA.



E.M. "BAIRRO MANUEL CLEMENTE".

IBIÚNA, 14 DE AGOSTO DE 2021.

PROFESSORA : ANTONIA

1º ANO A

ALUNO(A): \_\_\_\_\_

LÍNGUA PORTUGUESA

# FAMÍLIA SILÁBICA

LA LE LI LO LU

1-PINTE CADA DESENHO DE ACORDO COM A COR INDICADA PELA LEGENDA DE SÍLABAS.

 LA AZUL	 LULA	 LEÃO	 LIXO	 LÁPIS
 LE VERDE	 LOBO	 LAGO	 LUA	 LEITE
 LI VERMELHO	 LAGARTIXA	 LIXA	 LOUSA	 LESMA
 LO AMARELO	 LEOPARDO	 LÍNGUA	 LUA	 LARANJA
 LU LILÁS	 LUPA	 LONTRA	 LANTERNA	 LIMÃO



E.M. "BAIRRO MANUEL CLEMENTE".

IBIÚNA, 14 DE AGOSTO DE 2021.

PROFESSORA : ANTONIA

1º ANO A

ALUNO(A): \_\_\_\_\_

## MATEMÁTICA

NUMERAIS DE 1 A 30 PONTILHADOS PARA TREINAR.



numerais 1 a 30



1	2	3	4	5	6
7	8	9	10	11	12
13	14	15	16	17	18
19	20	21	22	23	24
25	26	27	28	29	30





E.M. "BAIRRO MANUEL CLEMENTE".

IBIÚNA, 16 DE AGOSTO DE 2021.

PROFESSORA : ANTONIA

1º ANO A


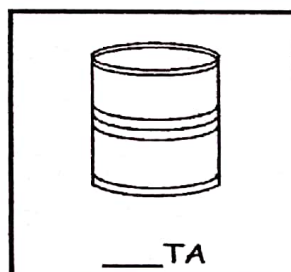

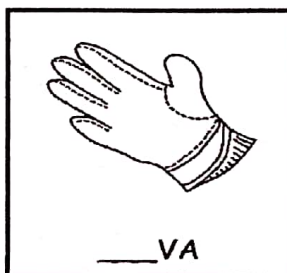



ALUNO(A): \_\_\_\_\_

## LÍNGUA PORTUGUESA



VAMOS COMPLETAR AS PALAVRAS:

LA - LE - LI - LO - LU





E.M. "BAIRRO MANUEL CLEMENTE".

IBIÚNA, 16 DE AGOSTO DE 2021.

PROFESSORA : ANTONIA

1º ANO A

ALUNO(A): \_\_\_\_\_

## MATEMÁTICA

### 1. VEJA O QUADRO NUMÉRICO.

1	2	3	4	5	6	7	8	9	10
11	12	13	14	15	16	17	18	19	20
21	22	23	24	25	26	27	28	29	30
31	32	33	34	35	36	37	38	39	40
41	42	43	44	45	46	47	48	49	50

OBSERVANDO O QUADRO NUMÉRICO COMPLETE AS SEQUÊNCIAS.

21						27			30
----	--	--	--	--	--	----	--	--	----

31				35					40
----	--	--	--	----	--	--	--	--	----

41		43							50
----	--	----	--	--	--	--	--	--	----

TENTE ESTA:

51				55					60
----	--	--	--	----	--	--	--	--	----



E.M. "BAIRRO MANUEL CLEMENTE".

IBIÚNA, 17 DE AGOSTO DE 2021.

PROFESSORA : ANTONIA

1º ANO A

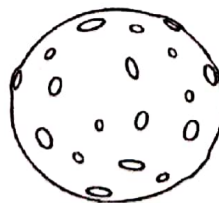



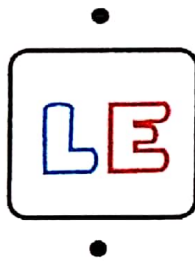

ALUNO(A): \_\_\_\_\_

LÍNGUA PORTUGUESA

# LINGUAGEM

FAMÍLIA SILÁBICA  
L

LIGUE:





E.M. "BAIRRO MANUEL CLEMENTE".

IBIÚNA, 17 DE AGOSTO DE 2021.


PROFESSORA : ANTONIA

1º ANO A

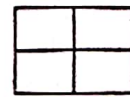
ALUNO(A): \_\_\_\_\_

## MATEMÁTICA

1) OBSERVE A CASINHA DOS PORQUINHOS E, DEPOIS, CONTE OS ELEMENTOS QUE APARECEM NA CENA.



2) ESCREVA, ABAIXO, O NUMERAL QUE CORRESPONDE A CADA QUANTIDADE.



[http://3.bp.blogspot.com/-](http://3.bp.blogspot.com/-AK5pnjWv12A/UI0pahKS2JI/AAAAAAAAEww/H7qdWzEIsng/s1600/Atividades+matematica+alfabetizaca)

[AK5pnjWv12A/UI0pahKS2JI/AAAAAAAAEww/H7qdWzEIsng/s1600/Atividades+matematica+alfabetizaca](http://3.bp.blogspot.com/-AK5pnjWv12A/UI0pahKS2JI/AAAAAAAAEww/H7qdWzEIsng/s1600/Atividades+matematica+alfabetizaca)  
o+1.jpg



E.M. "BAIRRO MANUEL CLEMENTE".

IBIÚNA, 18 DE AGOSTO DE 2021.

PROFESSORA : ANTONIA

1º ANO A

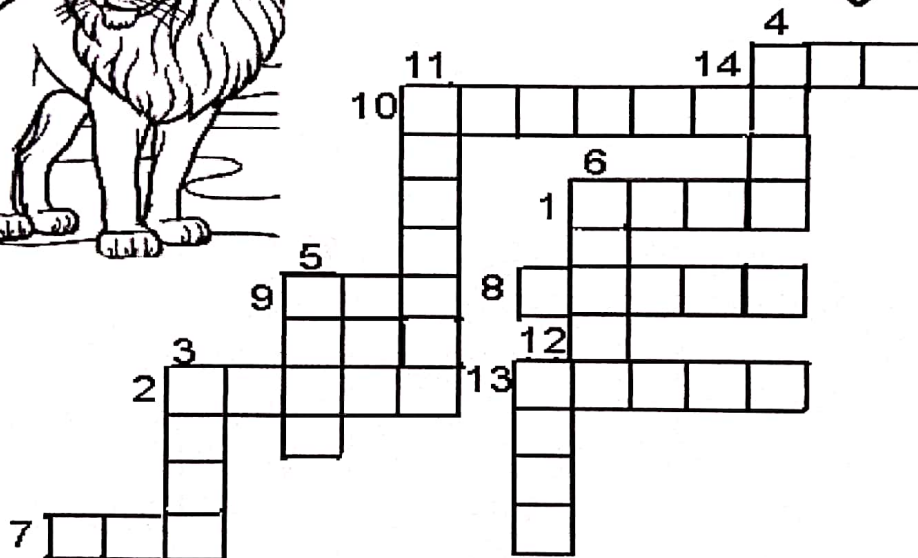

ALUNO(A): \_\_\_\_\_

## LÍNGUA PORTUGUESA



*Mistura de Alegria*

**CRUZADINHA LEGAL**



- |          |             |             |
|----------|-------------|-------------|
| 1- LEÃO  | 6- LEITE    | 11- LAGARTO |
| 2- LIMÃO | 7- LUA      | 12- LUTA    |
| 3- LATA  | 8- LIVRO    | 13- LENHA   |
| 4- LAGO  | 9- LAR      | 14- LEI     |
| 5- LAMA  | 10- LARANJA |             |

[www.misturadealegria.blogspot.com.br](http://www.misturadealegria.blogspot.com.br)

Adiléa



E.M. "BAIRRO MANUEL CLEMENTE".

IBIÚNA, 18 DE AGOSTO DE 2021.

PROFESSORA : ANTONIA

1º ANO A




ALUNO(A): \_\_\_\_\_

MATEMÁTICA

## MATEMÁTICA

– Complete de acordo com o indicado em cada coluna.

ANTES	ENTRE	DEPOIS
<input type="text"/> 40	10 <input type="text"/> 12	20 <input type="text"/>
<input type="text"/> 12	19 <input type="text"/> 21	13 <input type="text"/>
<input type="text"/> 32	51 <input type="text"/> 53	41 <input type="text"/>
<input type="text"/> 51	9 <input type="text"/> 11	30 <input type="text"/>
<input type="text"/> 19	60 <input type="text"/> 62	17 <input type="text"/>
<input type="text"/> 23	59 <input type="text"/> 61	59 <input type="text"/>



E.M. "BAIRRO MANUEL CLEMENTE".

IBIÚNA, 19 DE AGOSTO DE 2021.

PROFESSORA : ANTONIA

1º ANO A

ALUNO(A): \_\_\_\_\_

LÍNGUA PORTUGUESA

# ATIVIDADE LEGAL

# L

CIRCULE A PALAVRA DE ACORDO COM O NOME DE CADA FIGURA:

	LANTERNA LÂMPADA LARANJA		LIXEIRA LIXA LATA
	LEITE LEITÃO LEÃO		LEÃO LEITE LEVE
	LARANJA LAVANDA LAMA		LUXO LUA LUA
	LIMA LAVA LATA		LÁPIS LARANJA LINHA
	LEÃO LIMÃO LEITÃO		LUTA LAVA LUVA



E.M. "BAIRRO MANUEL CLEMENTE".

IBIÚNA, 19 DE AGOSTO DE 2021.

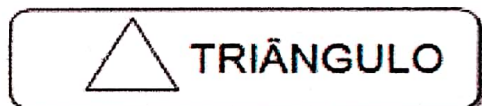
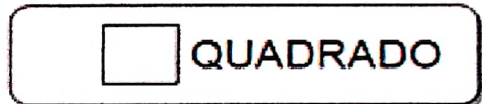

PROFESSORA : ANTONIA

1º ANO A

ALUNO(A): \_\_\_\_\_

### MATEMÁTICA

- **PINTE O DESENHO ABAIXO, SEGUINDO AS ORIENTAÇÕES:**



- **PINTE A QUANTIDADE DE FORMAS GEOMÉTRICAS EXISTENTES NA IMAGEM ACIMA:**


RETÂNGULO S

QUADRADOS

TRIÂNGULO

CÍRCULO

- **CONTINUE A SEQUÊNCIA:**







E.M. "BAIRRO MANUEL CLEMENTE".

IBIÚNA, 20 DE AGOSTO DE 2021.

PROFESSORA : ANTONIA

1º ANO A





ALUNO(A): \_\_\_\_\_




## LÍNGUA PORTUGUESA

# GINÁSTICA ARTÍSTICA

"PULAR, VOAR... TUDO COM GRANDE BELEZA"

VAMOS COMPLETAR O NOME DAS MODALIDADES ABAIXO.  
COLOCANDO AS LETRAS QUE FALTAM.

			
__RGOLAS	__ARRA __IXA	__AVALO __OM __LÇA	__OLO

		
__ARRAS __SSIMÉTRICAS	__RAVE	__ARRAS __ARALELAS



E.M. "BAIRRO MANUEL CLEMENTE".

IBIÚNA, 20 DE AGOSTO DE 2021.

PROFESSORA : ANTONIA

1º ANO A

ALUNO(A): \_\_\_\_\_

MATEMÁTICA

# PROBLEMINHA



1- OBSERVE A CENA E RESPONDA COM ATENÇÃO:

♡ QUANTAS CRIANÇAS BRINCANDO?

♡ QUANTAS SÃO MENINOS?

♡ QUANTAS SÃO MENINAS?

♡ QUANTAS BORBOLETAS?

♡ QUANTOS BALÕES A MENINA  
ESTÁ SEGURANDO?

♡ QUANTAS FLORES?



E.M. "BAIRRO MANUEL CLEMENTE".

IBIÚNA, 20 DE AGOSTO DE 2021.


PROFESSORA : ANTONIA

1º ANO A

ALUNO(A): \_\_\_\_\_

ARTES

# Jogo da memória Olimpíadas





E.M. "BAIRRO MANUEL CLEMENTE".

IBIÚNA, 23 DE AGOSTO DE 2021.

PROFESSORA : ANTONIA

1º ANO A

ALUNO(A): \_\_\_\_\_

## Língua Portuguesa

### ATIVIDADE

QUAL É O NOME DO PERSONAGEM?



MULA-SEM-CABEÇA

IARA

BOITATÁ

BOTO

SACI

CURUPIRA

CUCA

LOBISOMEM

**RECORTAR E COLAR O NOME DOS PERSONAGENS**



E.M. "BAIRRO MANUEL CLEMENTE".

IBIÚNA, 23 DE AGOSTO DE 2021.

PROFESSORA : ANTONIA


1º ANO A






ALUNO(A): \_\_\_\_\_

## MATEMÁTICA

### FOLCLORE BRASILEIRO VAMOS CONTAR...

1 2- 3- 4 -5 -6 -7 -8





E.M. "BAIRRO MANUEL CLEMENTE".

IBIÚNA, 23 DE AGOSTO DE 2021.

PROFESSORA : ANTONIA

1º ANO A

ALUNO(A): \_\_\_\_\_

## HISTÓRIA


### DIA DO FOLCLORE – 22 DE AGOSTO

NO DIA 22 DE AGOSTO COMEMORAMOS O FOLCLORE BRASILEIRO. FOLCLORE QUER DIZER COSTUMES DE UM POVO: FESTAS, DANÇAS, MÚSICAS, VESTIMENTAS, JOGOS, HISTÓRIAS, LENDAS, BRINCADEIRAS.

OBSERVE ESTES PERSONAGENS DO NOSSO FOLCLORE E PINTE-OS.



IARA



MULA-SEM-CABEÇA



SACI-PERERÊ



NEGRINHO DO PASTOREIRO



CURUPIRA



E.M. "BAIRRO MANUEL CLEMENTE".

IBIÚNA, 24 DE AGOSTO DE 2021.

PROFESSORA : ANTONIA

1º ANO A

ALUNO(A): \_\_\_\_\_

LÍNGUA PORTUGUESA

**LEIA E COPIE: O SACI**  
**O SACI VIVE NA MATA.**

\_\_\_\_\_

**ELE PULA NUM PÉ SÓ.**

\_\_\_\_\_

**PÓ - RÓ - RÓ - PÓ - PÓ!**

\_\_\_\_\_

**SUA ROUPA É VERMELHINHA,**

\_\_\_\_\_

**FUMA CACHIMBO,**

\_\_\_\_\_

**ELE É O MEU XODÓ.**

\_\_\_\_\_

**ELE É XERETA**

\_\_\_\_\_

**E USA GORRINHO,**

\_\_\_\_\_

**FAZENDO CARETA**

\_\_\_\_\_

**E DANDO PULINHO.**

\_\_\_\_\_





E.M. "BAIRRO MANUEL CLEMENTE".

IBIÚNA, 24 DE AGOSTO DE 2021.

PROFESSORA : ANTONIA

1º ANO A


ALUNO(A): \_\_\_\_\_

MATEMÁTICA

## PROBLEMINHAS


☀️ PINTA 2 PEIXINHOS DE AZUL E 3 PEIXINHOS DE AMARELO.

☀️ QUANTOS PEIXINHOS FICARAM SEM PINTAR? ○



☀️ PINTA 4 MAÇÃS DE VERDE E 5 MAÇÃS DE VERMELHO

☀️ QUANTAS MAÇÃS FICARAM SEM PINTAR? ○



[https://1.bp.blogspot.com/-](https://1.bp.blogspot.com/-vHg4Dkm14Cs/XbIDtA2muNI/AAAAAAAAAmiw/55H_CAYjGgwEOoT97dTheQJztv8oaHF_gCNcBGAsYHQ/s1600/PROBLEMINHS.png)

[vHg4Dkm14Cs/XbIDtA2muNI/AAAAAAAAAmiw/55H\\_CAYjGgwEOoT97dTheQJztv8oaHF\\_gCNcBGAsYHQ/s1600/PROBLEMINHS.png](https://1.bp.blogspot.com/-vHg4Dkm14Cs/XbIDtA2muNI/AAAAAAAAAmiw/55H_CAYjGgwEOoT97dTheQJztv8oaHF_gCNcBGAsYHQ/s1600/PROBLEMINHS.png)





E.M. "BAIRRO MANUEL CLEMENTE".

IBIÚNA, 25 DE AGOSTO DE 2021.

PROFESSORA : ANTONIA

1º ANO A


ALUNO(A): \_\_\_\_\_

## LÍNGUA PORTUGUESA

TEXTO COM A LETRA L, FAÇA O QUE SE PEDE:



TEM NA LATA TEM NO LAGO  
NA LARANJA E NO LIMÃO  
TEM NOS LÁBIOS DA LUCINHA  
NO LAGARTO E NO LEITÃO



## ATIVIDADE

CIRCULE NO TEXTO TODAS AS LETRAS L:  
VAMOS CONTAR?

NOME	NÚMERO DE LETRAS	PRIMEIRA LETRA	ÚLTIMA LETRA
LATA	4	L	A
LEITÃO			
LÁBIOS			
LAGARTA			
LARANJA			



E.M. "BAIRRO MANUEL CLEMENTE".

IBIÚNA, 25 DE AGOSTO DE 2021.

PROFESSORA : ANTONIA


1º ANO A

ALUNO(A): \_\_\_\_\_

## MATEMÁTICA

### 1. OBSERVE OS NOMES DOS NÚMEROS.


30 - TRINTA  
31 - TRINTA E UM  
32 - TRINTA E DOIS  
33 - TRINTA E TRÊS  
34 - TRINTA E QUATRO  
35 - TRINTA E CINCO



36 - TRINTA E SEIS  
37 - TRINTA E SETE  
38 - TRINTA E OITO  
39 - TRINTA E NOVE  
40 - QUARENTA

### 2. ESCREVA OS NOMES DOS NÚMEROS.

35 \_\_\_\_\_  
31 \_\_\_\_\_  
38 \_\_\_\_\_  
35 \_\_\_\_\_  
30 \_\_\_\_\_  
40 \_\_\_\_\_



### 3. ESCREVA O SUCESSOR E ANTECESSOR DOS NÚMEROS:

\_\_\_\_ 32 \_\_\_\_    \_\_\_\_ 37 \_\_\_\_    \_\_\_\_ 34 \_\_\_\_    \_\_\_\_ 38 \_\_\_\_

### 4. CALCULE:

$30 + 2 =$  \_\_\_\_\_     $30 + 6 =$  \_\_\_\_\_     $30 + 9 =$  \_\_\_\_\_  
 $30 + 7 =$  \_\_\_\_\_     $30 + 8 =$  \_\_\_\_\_     $30 + 3 =$  \_\_\_\_\_

### 5. ESCREVA OS NÚMEROS DE 30 A 40.

\_\_\_\_\_  
\_\_\_\_\_



E.M. "BAIRRO MANUEL CLEMENTE".

IBIÚNA, 26 DE AGOSTO DE 2021.

PROFESSORA : ANTONIA

1º ANO A

ALUNO(A): \_\_\_\_\_

## LÍNGUA PORTUGUESA

### ATIVIDADE

1. CIRCULE A PALAVRA DE ACORDO COM O NOME DE CADA FIGURA.

### LETRA L

	LEÃO LIMÃO LEITÃO		LUTA LAVA LUVA
	LIMA LAVA LATA		LÁPIS LARANJA LINHA
	LARANJA LAVANDA LAMA		LUXO LUVA LUA
	LEITE LEITÃO LEÃO		LEÃO LEITE LEVE
	LANTERNA LÂMPADA LARANJA		LIXEIRA LIXA LATA

[https://3.bp.blogspot.com/-shmEd67Ordw/W7YTO\\_og9jI/AAAAAAAAACNfi/-ArOVTPOJVMsnXrP1t3Sy9lJaOChPtVowCLcBGAs/s1600/sequencia-alfabetica-para-ditado-da-letra-l-imprimir-atividade.jpg](https://3.bp.blogspot.com/-shmEd67Ordw/W7YTO_og9jI/AAAAAAAAACNfi/-ArOVTPOJVMsnXrP1t3Sy9lJaOChPtVowCLcBGAs/s1600/sequencia-alfabetica-para-ditado-da-letra-l-imprimir-atividade.jpg)



E.M. "BAIRRO MANUEL CLEMENTE".

IBIÚNA, 26 DE AGOSTO DE 2021.

PROFESSORA : ANTONIA

1º ANO A

ALUNO(A): \_\_\_\_\_

## MATEMÁTICA

LIGUE NÚMERO AO NOME DE CADA UM.

10 \*

● TREZE

11 \*

● QUINZE

12 \*

● QUATORZE

13 \*

● DEZ

14 \*

● DEZESSETE

15 \*

● ONZE

16 \*

● DEZENOVE

17 \*

● DOZE

18 \*

● DEZESSEIS

19 \*

● DEZOITO



E.M. "BAIRRO MANUEL CLEMENTE".

IBIÚNA, 27 DE AGOSTO DE 2021.

PROFESSORA : ANTONIA

1º ANO A

ALUNO(A): \_\_\_\_\_

## LÍNGUA PORTUGUESA

**MARQUE X NO NOME DE CADA FIGURA ABAIXO:**





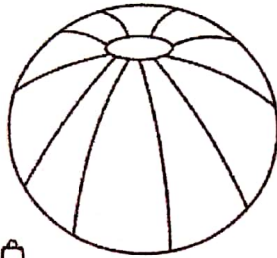
LA

LE

LI

LO

LU



**UNA AS SÍLABAS E FORME PALAVRAS:**

CO —  
AU — (LA) —  
PU — \_\_\_\_\_

DE —  
VA — (LE) —  
BU — \_\_\_\_\_

CA —  
BO — (LO) —  
CO — \_\_\_\_\_



E.M. "BAIRRO MANUEL CLEMENTE".

IBIÚNA, 27 DE AGOSTO DE 2021.

PROFESSORA : ANTONIA

1º ANO A

ALUNO(A): \_\_\_\_\_

## MATEMÁTICA

### MEDIDA DE CAPACIDADE



1 Pinte os produtos que são vendidos aos litros.



2 Escreva nomes de produtos líquidos usados em sua casa.

