



E.M. "Benedite Luiz Braga"



Nome da aluna



Prof^a Juliana



5^a A – 2.021



Período: 09 a 27/08



Apostila 9



Devolução da apostila 9:
30/08 (segunda-feira)



Cronograma para a realização da apostila 9:

Dia:	Páginas:
09/08/2.021 (segunda-feira)	3.
10/08/2.021 (terça-feira)	4.
11/08/2.021 (quarta-feira)	5.
12/08/2.021 (quinta-feira)	6, 7 e 8.
13/08/2.021 (sexta-feira)	9.
14/08/2.021 (sábado letivo)	10.
16/08/2.021 (segunda-feira)	11 e 12.
17/08/2.021 (terça-feira)	13 e 14.
18/08/2.021 (quarta-feira)	15 e 16.
19/08/2.021 (quinta-feira)	17, 18 e 19.
20/08/2.021 (sexta-feira)	20 e 21.
23/08/2.021 (segunda-feira)	22 e 23.
24/08/2.021 (terça-feira)	24 e 25.
25/08/2.021 (quarta-feira)	26 e 27.
26/08/2.021 (quinta-feira)	28 e 29..
27/08/2.021 (sexta-feira)	30 e 31.

E.M. "Benedite Luiz Braga"

Ibiúma, 09 de agosto de 2.021.

Hoje é segunda-feira, o 2^o dia da semana.

Professora Juliana.

Meu nome é: _____

Língua Portuguesa

Gênero textual : texto informativo, adivinhas e lendas.

FOLCLORE

Folclore é o conjunto de costumes (festas juninas, dançar quadrilha), superstições (achar que trevo de quatro folhas dá sorte, não passar embaixo de escada), manifestações da literatura e da arte em geral (lendas, adivinhas, parlendas, provérbios, rimas, cantigas, danças), preservados por um povo através da tradição oral.

No Brasil comemoramos o folclore no dia 22 de agosto.

Quem nunca ouviu falar da Cuca que vem pegar a criança que não quer dormir e não brincou de esconde-esconde?

Tudo isso é folclore.



Trabalhando o texto:

1) Quantos parágrafos tem o texto?

2) Quantas palavras tem o último parágrafo?

3) Em que dia comemora-se o folclore?

4) Complete com a quantidade que se pede :

	Sílabas	Letras	Consoantes	Vogais	Sílaba final
FOLCLORE					
COSTUMES					
LENDAS					
ADIVINHAS					

E.M. "Benedito Luiz Braga"

Ibiúma, 10 de agosto de 2021.

Hoje é terça-feira, o 3^o dia da semana.

Professora Juliana.

Meu nome é: _____

5) Ligue os personagens às suas características.



Sai das profundezas d'água e senta-se em uma pedra.



Foi açoitado e preso em cima de um formigueiro.



Prepara armadilhas para os caçadores usando os seus pés.



Ela perseguia a lua querendo ser transformada em uma estrela.

6) Leia as adivinhas e ligue à resposta correta.

- | | | |
|--|---|------------------|
| O QUE É QUE É SURDO E MUDO, MAS CONTA TUDO? | • | • O GUARDA-CHUVA |
| O QUE É O QUE É FEITO PARA ANDAR E NÃO ANDA? | • | • O PIOLHO |
| O QUE É O QUE É QUE SOBE QUANDO A CHUVA DESCE? | • | • O GELO |
| QUAL A ÚNICA PEDRA QUE FICA EM CIMA DA ÁGUA? | • | • O SEGREDO |
| O QUE É O QUE É QUE ANDA COM OS PÉS NA CABEÇA? | • | • O CÉU DA BOCA |
| QUAL É O CÉU QUE NÃO POSSUI ESTRELAS? | • | • O LIVRO |
| O QUE É QUE QUEBRA QUANDO SE FALA? | • | • A RUA |

7) Pesquise e escreva uma adivinha bem legal.

E.M. "Benedite Luiz Braga"

Ibiúma, 11 de agosto de 2.021.

Hoje é quarta-feira, o 4^o dia da semana.

Professora Juliana.

Meu nome é: _____

8) Procure no caça-palavras os nomes dos cinco personagens do folclore brasileiro.

B	T	M	L	A	-	S	E	M	-	C	A	B	E	Ç	A	
O	A	H	G	P	B	W	E	R	T	X	A	K	Q	X	Y	K
T	H	G	H	U	C	D	H	K	N	O	R	S	T	V	X	Z
O	K	X	A	S	E	R	E	I	A	I	A	R	A	B	C	
Ç	J	V	T	F	S	A	C	G	I	K	M	X	T	J	U	
R	U	E	B	I	G	V	A	D	I	U	T	A	O	Á	Ç	Ã
O	I	P	N	A	B	O	I	T	A	T	Á	J	A	A	A	K
S	K	Y	I	Y	H	Z	F	A	J	E	R	S	A	A	A	L
A	G	H	Y	J	I	Y	N	V	O	A	S	I	S	É	O	M
H	L	Ç	X	F	V	S	D	P	U	G	Q	W	Ç	O	Ç	N
B	S	A	C	I	-	P	E	R	E	R	Ê	G	A	T	N	O



9) Copie em ordem alfabética os nomes que você encontrou no caça-palavras acima.

10) Observe o quadro abaixo e classifique os substantivos próprios em masculino e feminino.

CUCA	BOTO	LOBISOMEM	CURUPIRA
SACI	BOITATÁ	IARA	VITÓRIA-RÉGIA

MASCULINO

FEMININO

E.M. "Benedite Luiz Braga"

Ibiúma, 12 de agosto de 2.021.

Hoje é quinta-feira, o 5^o dia da semana.

Professora Juliana.

Meu nome é: _____

MATEMÁTICA

1) Cada personagem folclórico representa um numeral.

Os numerais são 13, 125, 37, 20, 24



⇒ é o menor deles _____



⇒ está entre o 36 e o 38 _____



⇒ está depois do 124 _____



⇒ eu sou o dobro de 10 _____




⇒ eu correspondo à 2 dúzias _____



2) Agora que sabemos o numeral de cada personagem acima, vamos resolver essas adições.



_____ + _____ = _____



_____ + _____ = _____

3) Vamos ver se você já está craque na tabuada do 2, ligando o resultado correspondente:

2x5

2x8

2x4

2x10

2x6

8

10

16

12

20

4) Vamos completar a tabela de números a partir de 150 até 200.

150									
160									
170									
180									
190									

5) Escreva por extenso o nome das dezenas exatas.

150 _____
160 _____
170 _____
180 _____
190 _____



6) Antecessor e sucessor.

_____ 154 _____ _____ 161 _____
_____ 177 _____ _____ 183 _____
_____ 190 _____ _____ 198 _____

7) Coloque o sinal de > ou <.

150 _____ 155 166 _____ 165
188 _____ 178 199 _____ 174

8) Vamos decompor os números.

152 _____ centena, _____ dezenas e _____ unidades.
176 _____ centena, _____ dezenas e _____ unidades

9) Coloque os números em ordem decrescente, ou seja do maior para o menor.

180	154	177	199	184
-----	-----	-----	-----	-----

E.M. "Benedito Luiz Braga"



Ibiúma, 13 de agosto de 2.021.

Hoje é sexta-feira, o 6^o dia da semana.

Professora Juliana.

Meu nome é: _____

Observe a segunda imagem e verifique as 7 diferenças comparada a primeira imagem, complete o que falta e pinte igualmente:



11) Situações – problemas.

O Saci tinha 78 gorros, ele perdeu em suas andanças 35 gorros, com quantos gorros o Saci ainda ficou?

R: _____

Lara tinha 46 colares em sua caixinha de joias e ganhou de sua amiga Ariel 25 colares. Quantos colares Lara tem agora?



R: _____

Em um certo galinheiro havia 180 galinhas, o artesão do Saci resolveu pegar 1 dezena. Quantas galinhas restaram no galinheiro?

R: _____

12) Ilustre a historinha seguindo as dicas do texto.

Numa linda floresta vivia **1** Curupira e nesta floresta havia **1 dúzia** de árvores, **meia dúzia** de flores, **2** macacos e **5** pássaros voando no céu. Um dia apareceu **1** amiguinho novo e o Curupira ficou muito feliz.

Quem será esse amiguinho?

E.M. "Benedito Luiz Braga"

Ibiúma, 14 de agosto de 2.021.

Hoje é sábado, o 7^o dia da semana.

Professora Juliana.

Meu nome é: _____

Geografia

O folclore é muito rico em seus costumes e tradições, vamos conhecer uma festa que acontece nas regiões do Nordeste, Piauí e Maranhão.

Bumba-meu-boi

Os estados do Maranhão e do Piauí estão localizados na região do Nordeste e são cobertos pela Floresta Amazônica, com relevos de montanhas. O clima é tropical, nem muito calor e nem muito frio.

O bumba-meu-boi é uma folia de todo o Brasil, aparece em várias localidades com nomes diferentes, como bumba-meu-boi, boi-do-Maranhão e boi-do-Piauí.

A dança folclórica do bumba meu boi é um dos traços culturais marcantes na cultura brasileira principalmente na região Nordeste. A dança surgiu no século XVIII, como uma forma de crítica à situação social dos negros e índios, combina elementos de comédia, drama, sátira, tentando demonstrar a fragilidade do homem.

Trabalhando o texto:

1) Nome do nosso país?

2) Nome dos estados que aparecem no texto?

3) Como é o clima do estado do Maranhão?

4) Você sabe o nome do estado em que você mora?

4) Retire do texto:

a) nome de um animal _____

b) nome de uma dança _____

c) um substantivo próprio. _____

d) uma palavra que tenha 3 sílabas _____

e) uma palavra que tenha M antes de P e B _____

f) os diferentes nomes do bois _____,

_____, _____



E.M. "Benedito Luiz Braga"

Ibiúma, 16 de agosto de 2021.

Hoje é segunda-feira, o 2^o dia da semana.

Professora Juliana.

Meu nome é: _____

5) CAÇA PALAVRAS: LEIA OS NOMES DE ALGUNS ESTADOS DO BRASIL ONDE ACONTECE A FESTA INSPIRADA NO "BUMBA MEU BOI":



Cantiga folclórica, cante e complete?

Boi da cara preta

Boi, boi, boi,
Boi da cara preta.
Pega esse menina
Que tem medo de _____ !

Boi do Piauí

Boi, boi, boi,
Boi do Piauí
Pega esse menino,
Que não gosta de _____ !

Boi do Maranhão

Boi, boi, boi,
Boi do Maranhão.
Pega esse menino,
Que não come _____ !



LÍNGUA PORTUGUESA

1) Leia a lenda com muita atenção e responda as atividades.

CURUPIRA

Curupira é um anão, de cabelo vermelho de pés virados para trás. Ele faz parte das lendas do folclore brasileiro, protege as matas e os bichos dos caçadores.

Como seus pés virados para trás, ele consegue enganar alguém que pretende segui-lo olhando para suas pegadas, eles ficam perdidos no meio da floresta e desaparecerem.



1) Segundo a lenda, quem o Curupira gosta de proteger?

2) Segundo a lenda, como é a aparência do Curupira?

3) Como o Curupira engana os caçadores?

4) Copie do texto as palavras que apresentam o som do R (fraco/brando).

5) Quantos parágrafos tem o texto?

a) Qual é o dobro desse número? _____

b) Qual é o triplo desse número? _____

E.M. "Benedito Luiz Braga"

Ibiúma, 17 de agosto de 2.021.

Hoje é terça-feira, o 3^o dia da semana.

Professora Juliana.

Meu nome é: _____

6) Marque um x na respostas correta. Podemos dizer que o texto acima citado é:

- () texto informativo. () Uma lenda.
() texto em quadrinhos. () Uma fábula.

7) Vamos brincar de ser do contra, para cada palavra destacada dê um **Antônimo**, isto é, uma palavra do sentido **contrário**.

bom _____ pequeno _____
lindo _____ curto _____
perto _____ verdadeiro _____

6) Agora escreva os **Sinônimos**, isto é que tem o mesmo sentido.

malvado - _____ esperto - _____
irritado - _____ feliz - _____
zangado - _____ escutar - _____

7) Pesquise palavras que tenham as sílabas CR e CL e escreva abaixo:

CR	CL

E.M. "Benedito Luiz Braga"

Ibiúma, 18 de agosto de 2.021.

Hoje é quarta-feira, o 4^o dia da semana.

Professora Juliana.

Meu nome é: _____

Matemática

Medidas de tempo dias da semana, meses do ano e sequência numérica.

Sete dias a semana tem

Quando um acaba o outro logo vem:

DOMINGO, SEGUNDA-FEIRA, TERÇA-FEIRA,

QUARTA-FEIRA, QUINTA-FEIRA

SEXTA-FEIRA, SÁBADO também.

Cantamos felizes a canção do dia.

Hoje é _____ dia de alegria.

Sejamos bem felizes !!!

- 1) Quantos dias tem 1 semana ? _____
- 2) Que dia da semana é hoje? _____
- 3) Que dia da semana será amanhã? _____
- 4) Que dia da semana foi ontem? _____
- 5) Pinte de amarelo na parlenda os dias da semana em que você tem aula.
- 6) Pinte de vermelho o 1^o dia da semana.
- 7) Que dia da semana você mais gosta? _____
- 8) Qual é o 5^o dia da semana? _____


9) Escreva qual dia da semana vem antes de :

_____	domingo
_____	sábado
_____	quinta-feira

10) O que é o que é ?

São 5 irmãos que tem o mesmo sobrenome e 2, não.

11) Utilizando os números ordinais enumere os meses do ano e depois copie em ordem a partir do 1º mês.



12) Complete a tabela com números de 200 até 250.

200									
210									
220									
230									
240									

13) Pinte na tabela os números ímpares.

14) Escreva o antecessor e sucessor dos números.

_____ 222 _____ _____ 220 _____

_____ 202 _____ _____ 231 _____

_____ 210 _____ _____ 245 _____

_____ 215 _____ _____ 239 _____

15) Coloque em ordem crescente os números do quadro abaixo:

240	233	200	201	211
-----	-----	-----	-----	-----

E.M. " Benedito Luiz Braga"

Ibiúma, 19 de agosto de 2.021.

Hoje é quinta-feira, o 5^o dia da semana.

Professora Juliana.

Meu nome é: _____

16) Escreva por extenso os nomes dos números.

200 _____

201 _____

202 _____

203 _____

204 _____

205 _____

206 _____

207 _____

208 _____

209 _____

17) Adições com reserva para praticar.

66	47	38	129	113
<u>+ 25</u>	<u>+ 37</u>	<u>+ 55</u>	<u>+ 123</u>	<u>+ 59</u>

18) Davi tem uma coleção de 222 cartinhas , mas ele resolveu dar para seu melhor amigo 100 cartinhas. Com quantas cartinhas Davi ficou?

R: _____

19) Gabriela tem em seu quarto 138 bichinhos de pelúcia, 25 bonecas Barbie. Quantos brinquedos Gabriela tem ao todo?

R: _____

História

OS DIAS PASSAM


São sete os dias da semana: domingo, segunda-feira, terça-feira, quarta-feira, quinta-feira, sexta-feira e sábado.

Em geral as pessoas trabalham durante a semana. No fim de semana, muita gente trabalha também, mas a maior parte das pessoas descansam.

Muitas pessoas aproveitam o descanso de domingo para fazer atividades ao ar livre.

Assim como há muitas maneiras de aproveitar o domingo, há também maneiras diferentes de retratar esse dia.

Observe abaixo as imagens 1 e 2. Leia as legendas.



► UMA TARDE DE DOMINGO NA ILHA DE GRANDE JATTE, DE GEORGES SEURAT, ÓLEO SOBRE TELA (205 CM X 305 CM), 1885. JATTE É UMA ILHA NO RIO SENA, NAS PROXIMIDADES DE PARIS, NA FRANÇA.



► PESSOAS PASSAM A TARDE NO PONTÃO DO LAGO SUL, ÀS MARGENS DO LAGO PARANOÁ. BRASÍLIA, DISTRITO FEDERAL, 2016.

1) Responda.

a) Quando a pintura (imagem 1) foi feita?

b) Quando a fotografia (imagem 2) foi feita?


2) Qual imagem chamou mais a sua atenção? Por quê?

3) Quais são as semelhanças e as diferenças entre essas duas imagens?

SEMELHANÇAS

DIFERENÇAS

4) O que você e sua família costuma fazer aos domingos? Escreva abaixo e ilustre.



E.M. "Benedito Luiz Braga"

Ibiúma, 20 de agosto de 2.021.

Hoje é sexta-feira, o 6^o dia da semana.

Professora Juliana.

Meu nome é: _____

Língua Portuguesa

Gênero textual Parlenda e ortografia M antes de P e B

Parlendas são versos infantis com rimas, criados para as mais diferentes finalidades, entre elas divertir, acalmar, ajudar a decorar números ou escolher quem deve iniciar uma brincadeira.



Hoje é domingo

Pede cachimbo

Cachimbo é de barro

Bate no jarro

O jarro é fino

Bate no sino

O sino é de ouro

Bate no touro

O touro é valente

Chifra a gente

A gente é fraco

Cai no buraco

O buraco é fundo

Acabou – se o mundo.



1) Copie da parlenda os pares de palavras que estão rimando.

2) Circule na parlenda as palavras que tem o M antes de P e B e copie elas abaixo

3) Retire da parlenda o que se pede:

1 dia da semana _____ 1 animal _____

1 objeto que guarda água _____

3) Passe as frases trocando as palavras destacadas por um Antônimo (contrário).

O touro é valente. O touro é _____

A gente é fraco. A _____

O buraco é fundo. _____

4) Usando M ou N.

vale ____ te

ca ____ tiga

bo ____ ba

cachi ____ bo

po ____ ba

cria ____ ças

ge ____ te

ca ____ po

le ____ das

parle ____ da

bri ____ cadeiras

ta ____ pa

5) Agora copie as palavras acima :

M

N

6) Forme frases usando as palavras :

pomba - lenda - criança

E.M. "Benedito Luiz Braga"

Ibiúma, 23 de agosto de 2.021.

Hoje é segunda-feira, o 2^o dia da semana.

Professora Juliana.

Meu nome é: _____

7) Escolha adjetivos (qualidades) engraçados para as palavras abaixo:

gente _____ criança _____

bombom _____ cachimbo _____

8) Observe e tente ler essa parlenda:

Acasinhadavovó

Cercadinhadecipó

Ocaféestádemorando

Comcertezanãotempó.

9) Copie a parlenda separando as palavras corretamente.

10) Esse texto é uma:

() lenda

() história em quadrinhos

() parlenda

11) Quantas palavras tem essa parlenda?

() 15

() 16

() 17

12) De quem era a casinha?

13) Qual bebida aparece no texto?

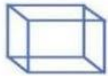


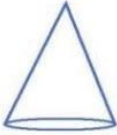

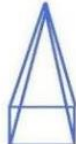
14) Passe as frases afirmativas para negativas.

a) A casinha da vovó.

b) O café está demorando.

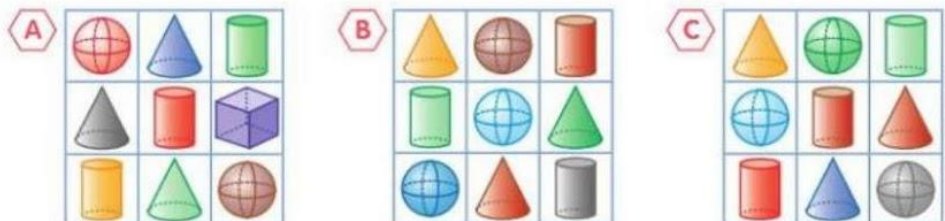
MATEMÁTICA

1) Observe a imagem e responda.

Sólidos Geométricos		
 CUBO	 ESFERA	 PARALELEPÍPEDO
 CONE	 CILINDRO	 PIRÂMIDE

- a) Que podem rolar: _____
- b) Que não rolam: _____
- c) Que tem o formato do goro do saci pererê: _____
- d) Que tem o formato de uma moeda: _____
- e) Escreva o nome de algum objeto que lembra a esfera _____

2) Observe os quadros **A**, **B** e **C**.



- a) Qual desses quadros tem 1 esfera, 1 cone e 1 cilindro em todas as linhas e em todas as colunas? _____
- b) Qual desses quadros tem apenas 2 esferas? _____

E.M. "Benedito Luiz Braga"

Ibiúma, 24 de agosto de 2.021.

Hoje é terça-feira, o 3^o dia da semana.

Professora Juliana.

Meu nome é: _____

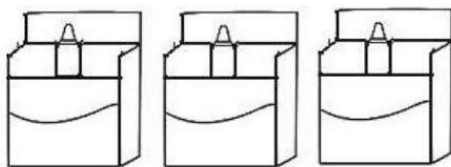
3) Com a ajuda de um adulto, monte os sólidos geométricos com o material que foi junto a sua apostila.

a) Pinte da mesma cor o desenho dos objetos que têm formas parecidas.



4) Observe e complete.

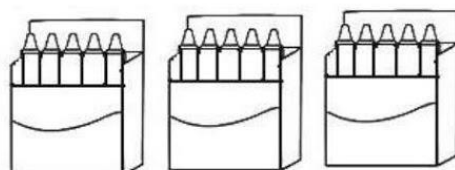
a)



Eu tenho _____ caixas e _____ lápis em cada uma.

Portanto, _____ x _____ = _____

d)



Eu tenho _____ caixas e _____ lápis em cada uma.

Portanto, _____ x _____ = _____

5) O Saci pererê perdeu seu gorro vermelho de formato de cone, o Curupira sabendo disso comprou o triplo de 3 para seu amigo Saci. Desenhe quantos gorros o Saci tem agora.

R: _____

6) Na floresta onde mora o Curupira existem 150 animais. Um caçador sabendo disso roubou 100. Quantos animais restaram?

R: _____

7) O Curupira e o Saci gostam de ler as historinhas de gibis, o Curupira tem 170 gibis e o Saci tem 30. Quantos gibis eles tem juntos?

R: _____

8) Siga o exemplo abaixo:

$0+0+0= 0$ é o mesmo que $3 \times 0=0$ _____

$1+1+1= 3$ é o mesmo que $3 \times 1=3$ _____

$2+2+2 =$ _____ é o mesmo que _____

$3+3+3=$ _____ é o mesmo que _____

$4+4+4=$ _____ é o mesmo que _____

$5+5+5=$ _____ é o mesmo que _____

$6+6+6=$ _____ é o mesmo que _____

$7+7+7=$ _____ é o mesmo que _____

$8+8+8=$ _____ é o mesmo que _____

$9+9+9=$ _____ é o mesmo que _____

$10+10+10=$ _____ é o mesmo que _____

E.M. "Benedito Luiz Braga"

Ibiúma, 25 de agosto de 2.021.

Hoje é quarta-feira, o 4^o dia da semana.

Professora Juliana.

Meu nome é: _____

CIÊNCIAS

Parlenda

O tempo perguntou pro tempo.
Quanto tempo o tempo tem?
O tempo respondeu pro tempo.
Que o tempo tem tanto tempo,
Quanto o tempo tem.



Chuva e sol,
Casamento de espanhol.
Sol e chuva,
Casamento de viúva.

1) Leia o texto e responda.

Alice acorda às 6:00 da manhã para tomar seu café, o termômetro registra 17 graus.

Ao meio dia os termômetros marcam 28 graus, já é hora de se arrumar para ir na escola.

Quando Alice sai da escola os termômetros marcam 22 graus. Às 6:00 horas da tarde os termômetros marcam 21 graus, chuva forte. Na hora de dormir são 9:00 da noite os termômetros registram 19 graus.



2) Como estava a temperatura:





- a) ao meio dia ? _____
- b) às 6:00 da tarde _____
- c) às 9:00 da noite _____




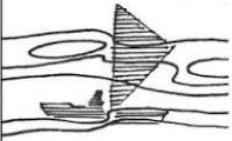
3) Segundo o texto:

a) qual foi a temperatura mais fria? _____

b) e qual foi a temperatura mais quente ? _____

4) O que significam esses símbolos usados para indicar a previsão do tempo?


a) 	b) 	c) 	d) 

e) 	f) 	g) 	h) 

2) Faça de conta que você é um profissional e vai falar sobre o tempo de sua cidade. Escreva no balão abaixo.



lara está cantando e seu canto enfeitiçou o jovem índio. Para fugir ele deve encontrar o caminho que o faça retornar para a sua oca. Você pode ajudá-lo marcando de lápis colorido o caminho que ele deve percorrer?



E.M. " Benedito Luiz Braga"

Ibiúma, 27 de agosto de 2.021.

Hoje é sexta-feira, o 6^o dia da semana.

Professora Juliana.

Meu nome é: _____

ANALISANDO

A professora Priscila realizou diversas brincadeiras folclóricas com seus alunos. Após as brincadeiras fez uma pesquisa para saber qual brincadeira cada criança preferiu. O resultado está expresso no gráfico abaixo.

10				
09				
08				
07				
06				
05				
04				
03				
02				
01				
	Pula corda	Pega-pega	Corrida de sacos	Esconde-esconde

Analise o gráfico e leia as sentenças, coloque (V) para verdadeiro e (F) para falso:

- () **Corrida de sacos** foi a brincadeira que menos recebeu votos;
- () 21 alunos participaram da pesquisa;
- () Não há brincadeiras que receberam a mesma quantidade de votos;
- () **Esconde-esconde** recebeu mais votos que **Pega-pega**;
- () **Pega-pega** foi a brincadeira que menos recebeu votos;
- () Se juntarmos os votos da **corrida de sacos** e **pula corda** teremos o total de 13 votos.

Preencha as lacunas do texto com base nas informações do gráfico trabalhado na atividade anterior:

_____ foi a brincadeira que mais recebeu votos na sala da professora Priscila. Ao final da votação a turma conferiu que nenhuma brincadeira recebeu menos votos que a _____-_____. Também constataram que por 3 votos a mais a brincadeira de _____ foi mais bem votada que a _____-_____.

Após a análise dos votos a classificação das brincadeiras foi a seguinte:

1º Lugar: _____

2º Lugar: _____

3º Lugar: _____

4º Lugar: _____



REFERÊNCIAS:

- *Imagens do Pinterest;
- *Facebook: Prô Carina;
- *Instagram: @maximizeeevolucão.