

EM "UBIRAJARA PEDROSO DOMINGUES"

CADERNO DE ATIVIDADES N. 09

3. ANO A - PERÍODO DA MANHÃ

PROFESSORA VANIA FIUZA



APOSTILA REFERENTE AOS DIAS:

✦ 09, 10, 11, 12, 13, 14, 16, 17, 18, 19, 20, 23, 24, 25, 26 e 27/08.

DEVOLVER EM: 30/08/21

ALUNO:

HISTÓRIA DAS OLIMPÍADAS

O GRAU MAIS ALTO DAS COMPETIÇÕES ESPORTIVAS SÃO AS OLIMPÍADAS, QUE ACONTECEM A CADA QUATRO ANOS.

EM 2004, ESSE GRANDE EVENTO FOI SEDIADO NA CIDADE GREGA DE ATENAS. E POR QUE ISSO É INTERESSANTE?

PORQUE A GRÉCIA É O BERÇO DOS JOGOS. NA IDADE ANTIGA, POR VOLTA DE 776 ANTES DE CRISTO, AS CIDADES-ESTADO GREGAS SE REUNIAM PARA COMPETIR, SEMPRE NO VILAREJO DE OLÍMPIA.

DURANTE AS OLIMPÍADAS, AS PESSOAS ATÉ FAZIAM AS PAZES, DANDO UMA TRÉGUA ÀS GUERRAS. UMA DAS FINALIDADES DOS JOGOS ERA HOMENAGEAR ZEUS, A MAIOR DIVINDADE DO OLIMPO. AS VITÓRIAS NAS COMPETIÇÕES RENDIAM HONRAS E GLÓRIAS AOS ATLETAS E ÀS CIDADES.


NO ENTANTO, COM A INVASÃO ROMANA, OS JOGOS ENTRARAM EM DECADÊNCIA E, EM 394 DEPOIS DE CRISTO, DEIXARAM DE SER DISPUTADOS. ASSIM, A CELEBRAÇÃO OLÍMPICA FICOU SEM SER REALIZADA POR 1500 ANOS!

E SÓ EM 1894, GRAÇAS AOS ESFORÇOS DO ESPORTISTA FRANCÊS BARÃO PIERRE DE COUBERTIN, A IDEIA DE SE FAZER UMA COMPETIÇÃO ESPORTIVA INTERNACIONAL FOI RETOMADA. PARA ORGANIZAR AS OLIMPÍADAS, FOI CRIADO, ENTÃO, NO MESMO ANO, O COMITÊ OLÍMPICO INTERNACIONAL (COI). EM 1896, A PRIMEIRA EDIÇÃO DOS JOGOS DA ERA MODERNA FOI EM ATENAS.

PINTE NO TEXTO A FRASE QUE FALA SOBRE UMA DAS FINALIDADES DOS JOGOS OLÍMPICOS.




OS ANÉIS OLÍMPICOS



OS AROS - NAS CORES AZUL, AMARELO, PRETO, VERDE E VERMELHO, INTERLIGADOS SOBRE UM FUNDO BRANCO, OS AROS OLÍMPICOS FORAM IDEALIZADOS EM 1914, PELO BARÃO PIERRE DE COUBERTIN. OS AROS REPRESENTAM A UNIÃO DOS CINCO CONTINENTES E PELO MENOS UMA DE SUAS CINCO CORES, ESTÁ PRESENTE NA BANDEIRA DE CADA UM DOS COMITÊS OLÍMPICOS NACIONAIS VINCULADOS AO COI. É A PRINCIPAL REPRESENTAÇÃO GRÁFICA DOS JOGOS OLÍMPICOS E A MARCA DO PRÓPRIO COMITÊ OLÍMPICO INTERNACIONAL.

O SÍMBOLO DO COMITÊ OLÍMPICO BRASILEIRO UNE OS AROS OLÍMPICOS A UMA REPRESENTAÇÃO DA BANDEIRA NACIONAL DO BRASIL.

Pinte com as cores certas:



ANÉIS OLÍMPICOS

SÃO CINCO ANÉIS DE CORES DIFERENTES:
(AZUL, VERMELHO, PRETO, AMARELO E VERDE)

LIGUE DE ACORDO COM A COR QUE
REPRESENTA CADA CONTINENTE

AMARELO

AMÉRICA

VERDE

ÁSIA

PRETO

EUROPA

VERMELHO


ÁFRICA

AZUL

OCEANIA



JOGOS OLÍMPICOS DA ERA MODERNA



NO ANO 1896, OS JOGOS OLÍMPICOS SÃO RETOMADOS EM ATENAS, POR INICIATIVA DO FRANCÊS PIERRE DE FREDY, CONHECIDO COM O BARÃO DE COUBERTIN. NESTA PRIMEIRA OLIMPÍADA DA ERA MODERNA, PARTICIPAM 285 ATLETAS DE 13 PAÍSES, DISPUTANDO PROVAS DE ATLETISMO, ESGRIMA, LUTA LIVRE, GINÁSTICA, HALTEROFILISMO, CICLISMO, NATAÇÃO E TÊNIS. OS VENCEDORES DAS PROVAS FORAM PREMIADOS COM MEDALHAS DE OURO E UM RAMO DE OLIVEIRA.

CIRCULE NO TEXTO O NOME DOS ESPORTES.



CAÇA PALAVRAS

ESPORTES OLIMPICOS

ENCONTRE AS PALAVRAS ESCRITAS ABAIXO E CONHEÇA
ALGUMAS MODALIDADES DE ESPORTE DAS OLIMPIADAS.

A N M N A T T Ê N I S C
T H A W F U T E B O L A
T A W T E I I B C E H N
R R E E A H I P I S M O
E M I K S Ç R E C R D A
M A S A W G Ã O L A S G
O F A O T O R O I A R E
J U D Ô O L N I S E U M
S N O J A F O D M R G D
E C T E A E R N O A B F
H A N D E B O L B N Y U
T E B A S Q U E T E I A

BASQUETE
CANOAGEM
CICLISMO

ESGRIMA
FUTEBOL
GOLFE

HANDEBOL
HIPISMO
JUDÔ

NATAÇÃO
REMO
RUGBY

TAEKWONDO
TRIATLO
TÊNIS

<https://suburbanodigital.blogspot.com/>

LIGUE AS BOLAS AOS SEUS ESPORTES



FUTEBOL



GOLF



TÊNIS



BASQUETE



HANDBOL

MIRAITOWA E SOMEITY




MIRAITOWA É A MASCOTE OFICIAL DOS JOGOS OLÍMPICOS DE VERÃO.

SOMEITY É A MASCOTE OFICIAL DOS JOGOS PARALÍMPICOS DE VERÃO;

MIRAITOWA É NOMEADO DAS PALAVRAS JAPONESAS "FUTURO" E "ETERNIDADE" E SOMEITY É NOMEADO DE SOMEYOSHINO, UM TIPO DE FLOR. O NOME DE SOMEITY TAMBÉM FAZ REFERÊNCIA À FRASE EM INGLÊS "TÃO PODEROSO".



PINTE OS MASCOTES DAS OLIMPIADAS:



<https://suportegeografico77.blogspot.com/>

ATIVIDADE

VAMOS ESCREVER O NOME DAS FIGURAS QUE FAZEM PARTE DAS OLIMPIADAS:



ESPORTES OLÍMPICOS

2



8



3



9



10



5




6



7



1




ESCREVA OS NOMES DOS ESPORTES





AULA DE NATAÇÃO



João Pedro e seu irmão Simão estão na aula de natação.

O clube que eles frequentam fica perto da casa deles, em frente à fábrica de botões.

Salomão é o professor. Ele nada tão bem como um tubarão.

Os meninos vestem seus calções e pulam na piscina. Salomão sempre elogia:

— Parabéns, crianças! Continuem assim que em breve serão campeões de natação.

Os meninos olham para ele com entusiasmo e satisfação.

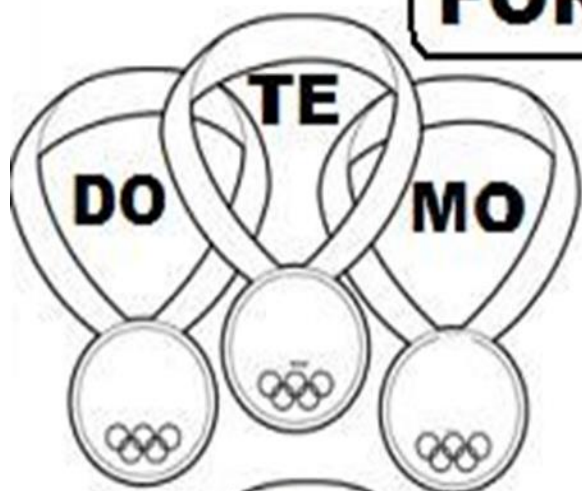
Graça Batituci

1) Qual é o título do texto?

2) Quais são os nomes das crianças do texto?

3) Qual é o nome do professor de natação?

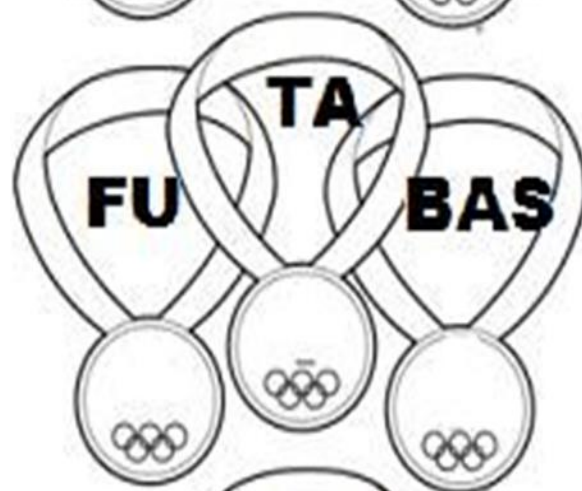
FORME PALAVRAS



1-

2.....

3.....



4.....

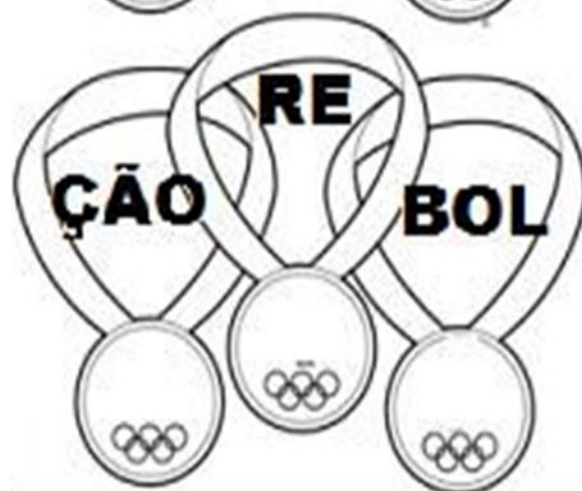
5.....



6.....

7.....

8.....



9.....

10.....

COMPLETE AS PALAVRAS COM AS VOGAIS



H__QU__



K__R__T__



G__N__ST__C__



R__M__



T__R__

SEPARE AS SÍLABAS DAS PALAVRAS
RELACIONADAS AOS JOGOS OLÍMPICOS:

FUTEBOL

=

FLECHA

=

FRANÇA

=

FAIXA

=

FOGO

=

FITAS

=





O QUE TEM NAS OLIMPIADAS COM AS LETRAS:

A	
B	
C	
D	
E	
H	
I	
J	
K	
L	
M	

VOLEI DE PRAIA



"IR BUSCAR UMA BOLA LONGE, SEM DEIXÁ-LA CAIR."

VAMOS DESCOBRIR AS 7 DIFERENÇAS!!

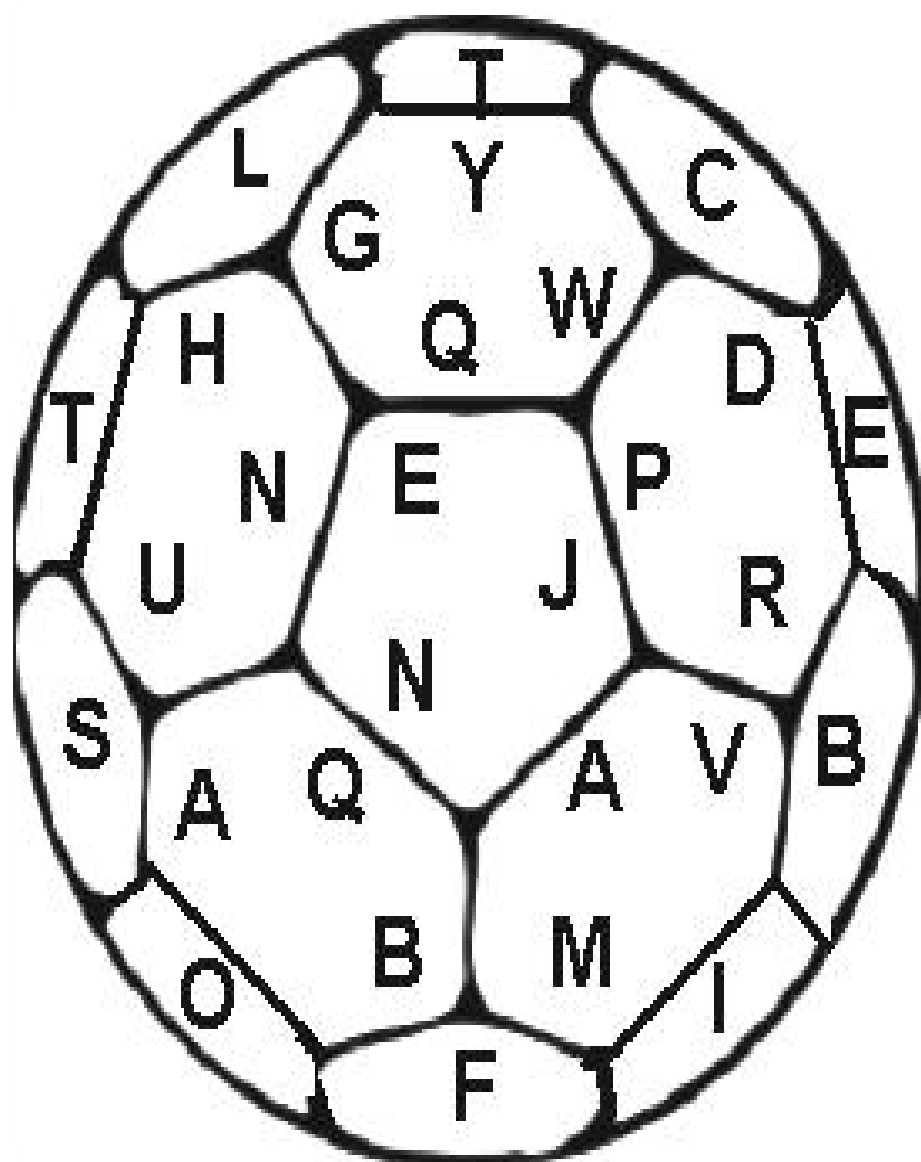


<https://br.pinterest.com/pin/61502351152290464/>

AUTODITADO DAS OLIMPÍADAS



Escreva nomes de esportes



1- _____

4- _____

2- _____

5- _____

3- _____

6- _____


CAÇA PALAVRAS

M	E	D	A	L	H	A	S	W	Q	A	T	S
F	Q	B	N	M	C	D	A	E	R	U	O	X
G	K	Ç	J	O	G	O	S	T	I	O	C	Z
J	H	Y	R	T	V	I	E	O	K	P	H	C
T	O	R	C	I	D	A	G	D	A	Z	A	V

ESCREVA AQUI AS PALAVRAS QUE
VOCÊ ENCONTROU!

**SE VOCE PRECISASSE ESCOLHER UM ESPORTE
PARA TREINAR PARA AS OLIMPIADAS, QUAL
ESPORTE ESCOLHERIA?**

FAÇA UM DESENHO:



AGORA ESCREVA O NOME DESTES ESPORTE:



PINTE AS LETRAS DA PALAVRA QUE SE
PEDE E ESCREVA ABAIXO

NAS OLIMPIADAS TORCEMOS PELO

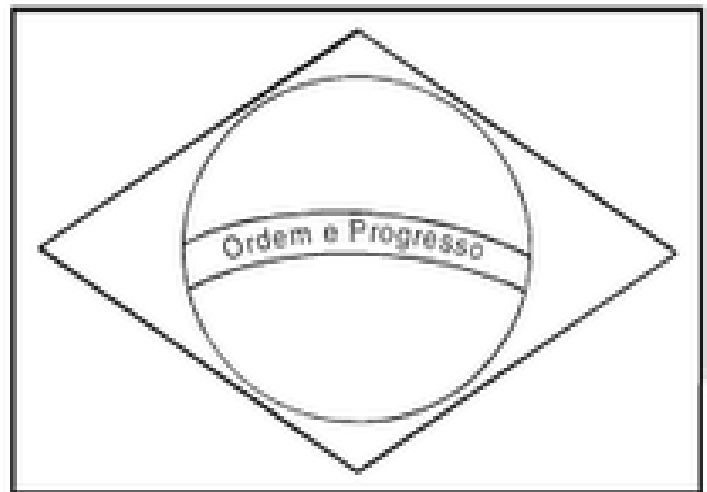
R B S N R I L V D

ESTA É A BANDEIRA DO BRASIL:



ESCREVA OS NOMES DAS CORES DA BANDEIRA





ESSA É A BANDEIRA DO

AS CORES DA BANDEIRA SÃO:

QUANTAS CORES SÃO?

O QUE ESTÁ ESCRITO NA BANDEIRA?

RESOLVA AS ADIÇÕES:

$$\begin{array}{c} \text{2} \\ \text{+} \\ \text{4} \\ \text{=} \end{array} \quad \square$$

$$\begin{array}{c} \text{8} \\ \text{+} \\ \text{8} \\ \text{=} \end{array} \quad \square$$

$$\begin{array}{c} \text{10} \\ \text{+} \\ \text{7} \\ \text{=} \end{array} \quad \square$$

$$\begin{array}{c} \text{11} \\ \text{+} \\ \text{12} \\ \text{=} \end{array} \quad \square$$

ADIÇÃO

$$\begin{array}{r} 23 \\ + 45 \\ \hline \end{array}$$

$$\begin{array}{r} 73 \\ + 24 \\ \hline \end{array}$$

$$\begin{array}{r} 52 \\ + 34 \\ \hline \end{array}$$

$$\begin{array}{r} 46 \\ + 13 \\ \hline \end{array}$$

$$\begin{array}{r} 39 \\ + 50 \\ \hline \end{array}$$

$$\begin{array}{r} 65 \\ + 32 \\ \hline \end{array}$$

$$\begin{array}{r} 15 \\ + 31 \\ \hline \end{array}$$

$$\begin{array}{r} 24 \\ + 24 \\ \hline \end{array}$$

$$\begin{array}{r} 82 \\ + 13 \\ \hline \end{array}$$

$$\begin{array}{r} 41 \\ + 36 \\ \hline \end{array}$$

$$\begin{array}{r} 53 \\ + 23 \\ \hline \end{array}$$

$$\begin{array}{r} 74 \\ + 12 \\ \hline \end{array}$$



ESCREVA OS NÚMEROS QUE ESTÃO FALTANDO:

0	1	2			5				9
10	11			14				18	
20	21	22			25				29
30		32					37		
40	41			44				48	
50		52				56			
60			63		65				
70	71						77	78	
80		82							89
90	91								99



RESOLVA AS SUBTRAÇÕES:



$$\begin{array}{|c|} \hline \\ \hline \end{array} - \begin{array}{|c|} \hline \\ \hline \end{array} = \begin{array}{|c|} \hline \\ \hline \end{array}$$

12 — 5

$$\begin{array}{|c|} \hline \\ \hline \end{array} - \begin{array}{|c|} \hline \\ \hline \end{array} = \begin{array}{|c|} \hline \\ \hline \end{array}$$

16 — 9

$$\begin{array}{|c|} \hline \\ \hline \end{array} - \begin{array}{|c|} \hline \\ \hline \end{array} = \begin{array}{|c|} \hline \\ \hline \end{array}$$

22 — 4

$$\begin{array}{|c|} \hline \\ \hline \end{array} - \begin{array}{|c|} \hline \\ \hline \end{array} = \begin{array}{|c|} \hline \\ \hline \end{array}$$

16 — 6

PINTE A QUANTIDADE INDICADA EM CADA TABELA










Números ordinais

LEIA COM ATENÇÃO:

OS MENINOS DA TURMA DE 2º ANO DA TIA MÔNICA FORAM ASSISTIR AO JOGO DE FUTEBOL. ELES COMBINARAM QUE O PRIMEIRO QUE CHEGASSE AO LOCAL COMPRARIA OS INGRESSOS PARA TODOS.



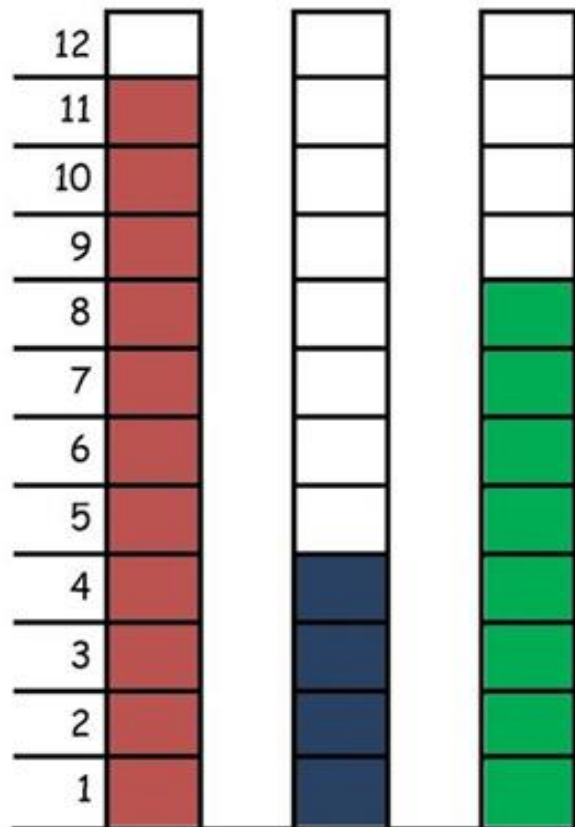
1. QUANTOS MENINOS ESTÃO NA FILA?
2. QUEM FOI O PRIMEIRO A CHEGAR?
3. QUANTOS INGRESSOS ELE TEVE QUE COMPRAR?
4. QUEM FOI O ÚLTIMO A CHEGAR?
5. QUEM FOI O SEGUNDO A CHEGAR?
6. QUEM OCUPA O 8º LUGAR NA FILA?
7. QUAL A POSIÇÃO DO ENZO NA FILA?



A PARTIDA DE FUTEBOL

PAPAI CEBOLA, O CEBOLINHA E O VOVÔ JOGARAM UMA PARTIDA DE FUTEBOL.

VEJA A QUANTIDADE DE GOLS QUE CADA UM MARCOU:



1-QUEM MARCOU MAIS GOLS ? _____

2-QUEM MARCOU MENOS GOLS ? _____

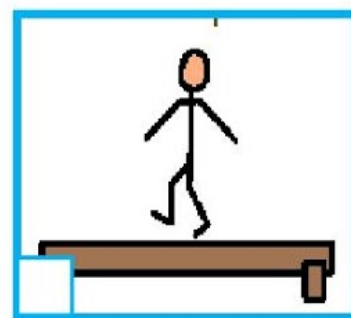

3-QUAL FOI O TOTAL DE GOLS DESSA PARTIDA ? _____

4-REGISTRE NA TABELA A QUANTIDADE DE GOLS DE CADA UM, REPRESENTANDO COM NÚMEROS E DESENHOS:


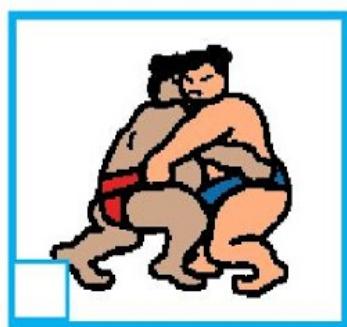
PAPAI		
VOVÔ		
CEBOLINHA		

OBSERVE AS IMAGENS E COLOQUE UM X NA RESPOSTA MAIS ADEQUADA À FIGURA:


A) PESSOAS SE EQUILIBRANDO:



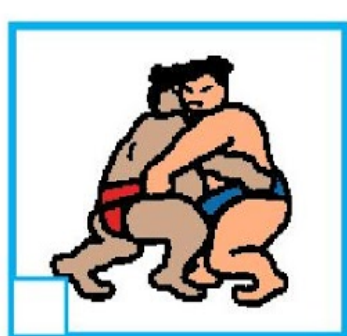

B) PESSOAS PRATICANDO FORÇA:



C) PESSOAS EXERCITANDO A VELOCIDADE:



D) PESSOAS QUE PERMANECEM MAIOR TEMPO NA MESMA ATIVIDADE:



DESAFIO

COLOQUE OS NÚMEROS DE 1 A 9 NAS LINHAS DE MODO QUE A SOMA EM CADA CÍRCULO SEJA 14. JÁ EXISTEM TRÊS NÚMEROS ADICIONADOS

