

MINHAS ATIVIDADES

09 DE AGOSTO A 27 DE AGOSTO/2021



ESCOLA: E.M. "PROFª SANDRA REGINA RODRIGUES DA SILVA

NOME: _____

TURMA: 2º ANO B — PROFª CHRIS

CRONOGRAMA – PROFESSORA CHRIS / 2º ANO B

09 DE AGOSTO A 27 DE AGOSTO/2021

PARA MELHOR ACOMPANHAMENTO DAS ATIVIDADES, SEGUIR UM CRONOGRAMA QUE AUXILIARÁ O ALUNO NO DIA A DIA, CADA ATIVIDADE REALIZADA MARQUE UM X E ACOMPANHE SEU RENDIMENTO. LEMBRAMOS QUE AS ATIVIDADES DEVEM SER REALIZADAS DIARIAMENTE, PARA NÃO SOBRECARRGAR O ALUNO.

DIA	1ª SEMANA 09/08 A 14/08	OK
09/08	• LÍNGUA PORTUGUESA	
	• LÍNGUA PORTUGUESA	
10/08	• MATEMÁTICA	
	• MATEMÁTICA	
11/08	• LÍNGUA PORTUGUESA	
	• MATEMÁTICA	
12/08	• MATEMÁTICA	
	• LINGUA PORTUGUESA	
13/08	• CIENCIAS	
	• ARTES	
14/08	• GEOGRAFIA	
	• HISTORIA	
DIA	2ª SEMANA 16/08 A 20/08	
16/08	• LÍNGUA PORTUGUESA	
	• LÍNGUA PORTUGUESA	
17/08	• MATEMÁTICA	
	• MATEMÁTICA	
18/08	• MATEMÁTICA	
	• LINGUA PORTUGUESA	

19/08	• LINGUA PORTUGUESA	
	• MATEMÁTICA	
20/08	• GEOGRAFIA	
	• HISTORIA	
DIA	3ª SEMANA 23/08 A 27/08	OK
23/08	• LÍNGUA PORTUGUESA	
	• LÍNGUA PORTUGUESA	
24/08	• MATEMÁTICA	
	• MATEMÁTICA	
25/08	• MATEMÁTICA	
	• LINGUA PORTUGUESA	
26/08	• MATEMÁTICA	
	• LINGUA PORTUGUESA	
27/08	• CIENCIAS	
	• ARTES	

AVALIAÇÃO DAS ATIVIDADES

ESSA É UMA FICHA DE AUTOAVALIAÇÃO DAS ATIVIDADES DA APOSTILA. VOCÊ DEVE PINTAR DE ACORDO COM O NÍVEL DE DIFICULDADE QUE VOCÊ TEVE PARA REALIZAR AS ATIVIDADES. PEÇA AJUDA DE UM ADULTO PARA ESSA AVALIAÇÃO.

- SE VOCÊ NÃO TEVE DIFICULDADE PARA REALIZAR A ATIVIDADE VOCÊ DEVE PINTAR O QUADRINHO DE **VERDE**;
- SE VOCÊ TEVE UM POUCO DE DIFICULDADE PARA REALIZAR ALGUMA ATIVIDADE, VOCÊ DEVE PINTAR O QUADRINHO DE **AMARELO**;
- SE VOCÊ TEVE MUITA DIFICULDADE PARA REALIZAR ALGUMA ATIVIDADE, PINTE O QUADRINHO DE **VERMELHO**;
- SE VOCÊ DEIXOU DE REALIZAR ALGUMA ATIVIDADE, PINTE O QUADRINHO DE **CINZA**;

ATIVIDADE/DATA		ATIVIDADE/DATA	
LINGUA PORTUGUESA – 09/08		MATEMATICA – 18/08	
LINGUA PORTUGUESA – 09/08		LINGUA PORTUGUESA – 18/08	
MATEMATICA – 10/08		MATEMATICA – 19/08	
MATEMATICA – 10/08		LINGUA PORTUGUESA – 19/08	
LINGUA PORTUGUESA – 11/08		CIENCIAS – 20/08	
MATEMATICA – 11/08		ARTES – 20/08	
MATEMATICA – 12/08		LINGUA PORTUGUESA – 23/08	
LINGUA PORTUGUESA – 12/08		LINGUA PORTUGUESA – 23/08	
CIENCIAS – 13/08		MATEMATICA – 24/08	
ARTES – 13/08		MATEMATICA – 24/08	
GEOGRAFIA – 14/08		LINGUA PORTUGUESA – 25/08	
HISTORIA – 14/08		MATEMATICA – 25/08	
LINGUA PORTUGUESA – 16/08		MATEMATICA – 26/08	
LINGUA PORTUGUESA – 16/08		LINGUA PORTUGUESA – 26/08	
MATEMATICA – 17/08		CIENCIAS – 27/08	
MATEMATICA – 17/08		ARTES – 27/08	

NOME: _____

DATA: 09/08/2021

LINGUA PORTUGUESA

(LEITURA E ESCRITA)

FOLCLORE BRASILEIRO

FOLCLORE É O QUE CONHECEMOS COMO **MANIFESTAÇÕES DA CULTURA POPULAR** QUE ACONTECEM E QUE FORMAM A **IDENTIDADE SOCIAL DE UM POVO**. O FOLCLORE É REPRODUZIDO TANTO INDIVIDUALMENTE QUANTO COLETIVAMENTE, BEM COMO **É TRANSMITIDO DE GERAÇÃO PARA GERAÇÃO**.

O BRASIL, ASSIM COMO TODA NAÇÃO, POSSUI OS **ELEMENTOS BÁSICOS QUE DERAM FORMULAÇÃO A SEU FOLCLORE**.

ASSIM, **NA CULTURA BRASILEIRA, EXISTEM CRENDICES, SABERES, MITOS, LENDAS, FESTAS, DANÇAS ETC.**, QUE FAZEM PARTE DO QUE É DEFINIDO COMO FOLCLORE BRASILEIRO. AS **RAÍZES DE NOSSO FOLCLORE** ESTÃO FINCADAS NA **CULTURA EUROPEIA**, SOBRETUDO A PORTUGUESA, NA **CULTURA AFRICANA** E NA **CULTURA INDÍGENA**.

DO FOLCLORE BRASILEIRO SÃO MUITO CONHECIDAS AS LENDAS DE PERSONAGENS, COMO O **SACI-PERERÊ, A IARA, O BOTO COR DE ROSA, O CURUPIRA, A MULA SEM CABEÇA**, ENTRE OUTROS.



NOME: _____ DATA: 09/08/2021

LINGUA PORTUGUESA

(LEITURA E INTERPRETACAO)

👉 LEIA O TEXTO E REPONDA ÀS QUESTÕES ABAIXO E ASSINALE AS ALTERNATIVAS CORRETAS:

👉 DE ACORDO COM O TEXTO O QUE É FOLCLORE?

() MANIFESTAÇÃO DA CULTURA POPULAR

() CONJUNTO DE OBRAS DE ARTE

() LEMBRANÇAS DO PASSADO

() COLEÇÃO DE LIVROS

👉 COMPLETE A FRASE DE ACORDO COM O TEXTO:

“ ASSIM, NA CULTURA BRASILEIRA EXISTEM ...”:

👉 QUAIS SÃO AS RAIZES DO NOSSO FOLCLORE?

() CULTURA EUROPÉIA, AFRICANA E INDÍGENA

() CULTURA JAPONESA, CHINESA E COREANA

() CULTURA NORTE AMERICANA

() CULTURA EGÍPCIA E ARABE

👉 QUAIS SÃO AS LENDAS MAIS CONHECIDAS DO FOLCLORE BRASILEIRO CITADAS NO TEXTO:



NOME: _____

DATA: 09/08/2021

LINGUA PORTUGUESA

(LEITURA E ESCRITA)

AUTODITADO



OBSERVE AS IMAGENS E RECORTE E COLE OS NOMES DOS PERSONAGENS DO FOLCLORE:



IARA	LOBISOMEM	SACI
CURUPIRA	CUCA	BOITATA

NOME: _____ DATA: 10/08/2021

MATEMÁTICA

(CALENDÁRIO)

👉 OBSERVE O CALENDÁRIO DO MÊS DE AGOSTO:

AGOSTO 2021



D	S	T	Q	Q	S	S
						1
2	3	4	5	6	7	8
9	10	11	12	13	14	15
16	17	18	19	20	21	22
23	24	25	26	27	28	29
30	31					

D-DOMINGO	S- SEGUNDA	T- TERÇA	Q- QUARTA	Q- QUINTA	S – SEXTA	S- SABADO
------------------	-------------------	-----------------	------------------	------------------	------------------	------------------

👉 EM QUE DIA DA SEMANA CAIU O DIA 1º DE AGOSTO? _____

👉 EM QUAL DA SEMANA ACABA O MÊS DE AGOSTO? _____

👉 QUANTAS SEMANAS INTEIRAS TEM O MÊS DE AGOSTO? _____

👉 QUANTOS DIAS TEM O MÊS DE AGOSTO? _____

👉 OS DIAS 2, 9, 16, 23 E 30 CAEM EM QUE DIA DA SEMANA? _____

👉 QUANTOS SÁBADOS TEM O MÊS DE AGOSTO? _____

NOME: _____ DATA: 10/08/2021









MATEMÁTICA

(NÚMEROS)

👉 OBSERVE O QUADRO NUMÉRICO DA CUCA, PRESTE BEM ATENÇÃO:

	0	1	2	3	4	5	6	7	8
	9	10	11	12	13	14	15	16	17
	18	19	20	21	22	23	24	25	26

👉 PINTE OS NÚMEROS DE ACORDO COM A LEGENDA:

	O NÚMERO QUE ESTÁ ENTRE O 13 E O 15
	OS NÚMEROS QUE TEM DOIS ALGARISMOS IGUAIS
	UMA DEZENA
	O NÚMERO QUE ANTECEDE (VEM ANTES) O 20
	O NÚMERO DEZESSETE
	O NÚMERO QUE SUCEDA (VEM DEPOIS) O 9
	OS NÚMEROS QUE ESTÃO ENTRE O 2 E O 9
	O NÚMERO VINTE E UM

LINGUA PORTUGUESA

(LEITURA E ESCRITA)

👉 OBSERVE AS PALAVRAS DENTRO DO GORRO DO SACI E PINTE A 1ª SILABA DE CADA PALAVRA:



👉 AGORA ESCREVA EM ORDEM ALFABÉTICA AS PALVRS DO QUADRO ACIMA:

1ª	
2ª	
3ª	
4ª	
5ª	
6ª	
7ª	
8ª	
9ª	
10ª	
11ª	
12ª	




MATEMATICA

(SITUAÇÕES PROBLEMA)

👋 VAMOS RESOLVER ALGUNS PROBLEMINHAS:

👋 IARA TEM UM AQUARIO QUE TEM **5** PEIXES DOURADOS E **4** PEIXES COLORIDOS. QUANTOS PEIXES NO TOTAL IARA TEM?



👋 QUANTOS PEIXINHOS IARA TEM NO TOTAL?

👋 ELA TEM _____ PEIXINHOS NO TOTAL.

👋 SACI TEM **18** PEDRINHAS. ELE DEU **5** PARA O CURUPIRA. COM QUANTAS PEDRINHAS O SACI FICOU?



👋 COM QUANTAS PEDRINHA O SACI FICOU?

👋 ELE FICOU COM _____ PEDRINHAS.

NOME: _____ DATA: 12/08/2021

LINGUA PORTUGUESA

(LEITURA E ESCRITA)

👉 COMPLETE OS ESPACINHOS DO TEXTO COM AS PALAVRAS ADEQUADAS:

A LENDA DO LOBISOMEM

SEGUNDO A CRENÇA POPULAR, O _____, É O ÚLTIMO DOS _____ FILHOS DE UM CASAL. PARA EVITAR A SINA, É PRECISO QUE O IRMÃO MAIS VELHO BATIZE O MAIS NOVO.

DIZEM QUE AOS _____ ANOS, NUMA _____ À NOITE, ELE SAI E CHEGANDO A UMA _____ ONDE UM JUMENTO SE ESFREGOU NA TERRA, COMEÇAM SEU TORMENTO.

ELE APARECE EM FORMA DE UM _____ GRANDE, OU _____ QUE ATACA AS PESSOAS NAS NOITES DE _____ CHEIA.

SUA PRESENÇA NAS SOLITÁRIAS CAMINHADAS NOTURNAS É PRESENTIDA PELOS _____ QUE, LATINDO, O PERSEGUEM ATÉ DESAPARECER. SEUS _____ SÃO GRANDES, TEM PELOS POR TODO O CORPO, INCLUSIVE NO _____, OS OLHOS SÃO _____ E AS _____ COMPRIDAS.

ENCRUZILHADA	CÃES	TREZE	QUINTA-FEIRA	VERMELHOS
LUA	SETE	CACHORRO	UNHAS	LOBISOMEM
DENTES	LOBO	ROSTO		



NOME: _____

DATA: 12/08/2021




MATEMÁTICA

(GEOMETRIA)

👉 VAMOS USAR AS FIGURAS GEOMÉTRICAS PARA MONTAR UM SACI RECORTE E COLE AS FIGURAS GEOMETRICAS:

	TRIÂNGULOS (GORRO)
	RETÂNGULO (CACHIMBO)
	QUADRADO (CACHIMBO)
	CIRCULO (ROSTO)

👉 RECOORTE AS FIGURAS ABAIXO:




NOME: _____ DATA: 12/08/2021

MATEMATICA

(GEOMETRIA)

 COLE AQUI O SEU SACI, FAÇA UM CORPINHO PRA ELE E DESENHE UM CENÁRIO BONITO




NOME: _____ DATA: 13/08/2021

CIENCIAS

(MATERIA E ENERGIA)

👉 NAS AULAS DESSA APOSTILA, COMEÇAREMOS A APRENDER SOBRE UM TEMA NOVO. SOBRE O MOVIMENTO DO SOL AO LONGO DOS DIAS, VAMOS LÁ?!

👉 OBSERVE A POSIÇÃO DO SOL E AS SOMBRAS DAS ÁRVORES NO INÍCIO DO DIA.



👉 AO LONGO DA MANHÃ, ATÉ ANTES DO MEIO-DIA, O QUE ACONTECERÁ COM AS SOMBRAS DESSAS ÁRVORES?

1. () DESAPARECERÃO.
2. () PERMANECERÃO IGUAIS.
3. () DIMINUIRÃO DE TAMANHO.
4. () AUMENTARÃO DE TAMANHO.

NOME: _____

DATA: 13/08/2021

ARTES

(ATIVIDADE COM SUCATA)

☞ DIZ A LENDA QUE É POSSIVEL CAPTURAR O SACI DENTRO DE UMA GARRAFA, VAMOS TENTAR?!

☞ VOCÊ VAI PRECISAR DE:

- UMA GARRAFA PET
- UM MOLDE DE SACI



☞ COMO FAZER:

- PINTE O SACI, RECORTE, FAÇA UM PEQUENO FURINHO NO GORRO DELE, AMARRE UMA LINHA, PRENDA NA TAMPA DA GARRAFA E COLOQUE O SACI LÁ DENTRO, E PRONTINHO, VOCÊ CAÇOU SEU SACI!




NOME: _____ DATA: 14/08/2021

GEOGRAFIA

(LOCALIZAÇÃO ESPACIAL)

☞ NAS ATIVIDADES A SEGUIR VAMOS OBSERVAR A POSIÇÃO DOS OBJETOS EM CADA IMAGEM

☞ OBSERVE A IMAGEM ABAIXO:



☞ MARQUE COM UM X A ALTERNATIVA CORRETA.

- A)** A JANELA COM CORTINA AZUL ESTÁ À ESQUERDA DA JANELA COM UM VASO.
- B)** A JANELA COM UM VASO ESTÁ À ESQUERDA DA JANELA FECHADA.
- C)** A JANELA FECHADA ESTÁ EMBAIXO DA JANELA COM UM VASO.
- D)** A JANELA COM UM VASO ESTÁ EM CIMA DA JANELA COM CORTINA AZUL

NOME: _____

DATA: 14/08/2021

HISTORIA

(PASSAGEM DO TEMPO)

👉 OBSERVE AS IMAGENS A SEGUIR E DEPOIS FAÇA O QUE SE PEDE.

IMAGEM 1




IMAGEM 2



IMAGEM 3



IMAGEM 4



👉 OS OBJETOS USADOS EM CASA OU NO TRABALHO MOSTRAM COMO É O MODO DE VIDA DAS PESSOAS.

👉 QUAL DESSAS IMAGENS MOSTRA UM OBJETO QUE SE USAVA HÁ CEM ANOS?

👉 MARQUE COM UM X A RESPOSTA CORRETA:

- A) IMAGEM 1.
- B) IMAGEM 2.
- C) IMAGEM 3.
- D) IMAGEM 4.


NOME: _____

DATA: 16/08/2021

LINGUA PORTUGUESA

(LEITURA E INTERPRETAÇÃO)

👉 OBSERVE A IMAGEM DA VOVÓ CONTANDO HISTÓRIAS PARA A TURMINHA E RESPONDA:



👉 QUAIS PERSONAGENS DO FOLCLORE SÃO VISTOS NA IMAGEM?

--	--	--	--	--

👉 A EXPRESSÃO DAS CRIANÇAS FAZ PENSAR QUE A HISTÓRIA SEJA DE QUE GÊNERO:

() TERROR () ROMANCE () COMÉDIA () DRAMA

👉 QUANTAS CRIANÇAS ESTÃO OUVINDO A HISTÓRIA DA VOVÓ?

👉 A VOVÓ CONTA A HISTÓRIA COM O MESMO SENTIMENTO DAS CRIANÇAS?

() NÃO, ELA PARECE ESTAR CALMA

() SIM, ELA PARECE APAVORADA.

NOME: _____

DATA: 16/08/2021

LINGUA PORTUGUESA

(LEITURA E ESCRITA)

👋 JÁ ESCRREVEMOS BASTANTE OS NOMES DOS PERSONAGENS DO FOLCLORE, NESSA ATIVIDADE FAREMOS UM POUCO DIFERENTE.

👋 COMPLETE O QUADRO ABAIXO DE ACORDO COM O QUE SE PEDE:

	NOME DO PERSONAGEM	NUMERO DE VOGAIS	NUMERO DE LETRAS	NUMERO DE SILABAS
				
				
				
				
				
				

NOME: _____ DATA: 17/08/2021


MATEMÁTICA

(GRÁFICOS E TABELAS)

A PROFESSORA DO 2º ANO FEZ UMA PESQUISA PARA SABER QUAL PERSONAGEM DO FOLCLORE SEUS ALUNOS MAIS GOSTAM. OBSERVE A TABELA ABAIXO COM OS VOTOS:



PINTE O GRÁFICO ABAIXO DE ACORDO COM A QUANTIDADE DE VOTOS. NÃO SE ESQUEÇA DE PINTAR DE BAIXO PARA CIMA OK?!



AGORA RESPONDA:

QUANTAS CRIANÇAS VOTARAM? _____

QUAL PERSONAGEM MAIS VOTADO? _____

QUAL É O SEU PERSONAGEM FAVORITO? _____

NOME: _____

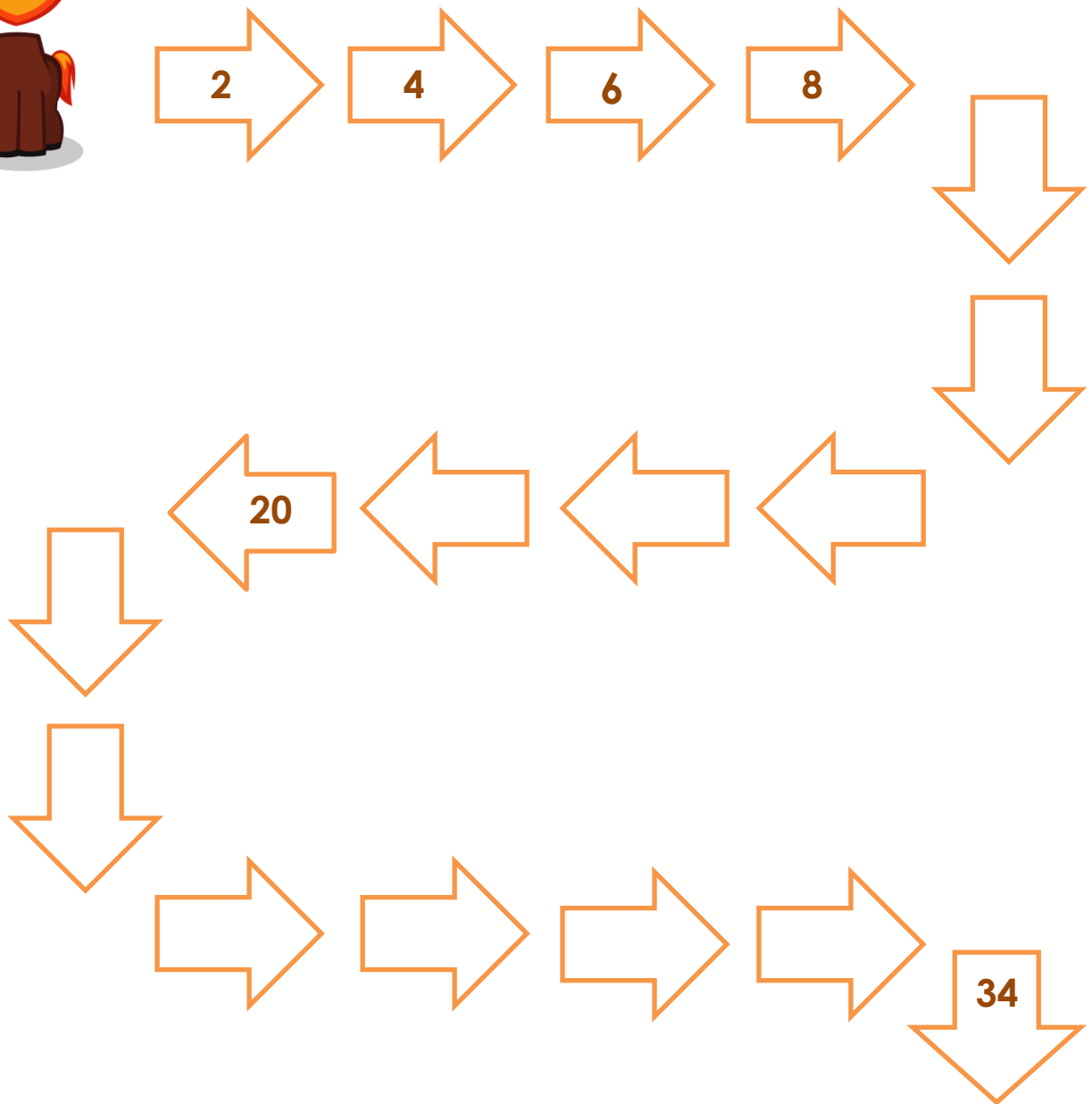
DATA: 17/08/2021

MATEMÁTICA

(NÚMEROS)

👉 VAMOS AJUDAR A MULA-SEM-CABEÇA A ENCONTRAR O CAMINHO DA FLORESTA?!

👉 SIGA AS SETAS E COMPLETE A SEQUÊNCIA NUMÉRICA CONTANDO **DE 2 EM 2:**



NOME: _____

DATA: 18/08/2021

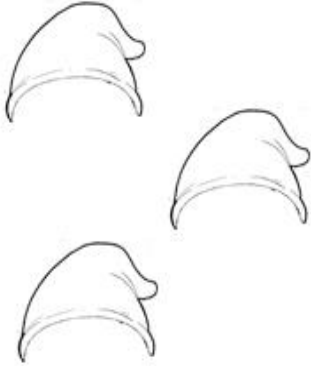
MATEMÁTICA

(NÚMEROS)




COMPLETE A QUANTIDADE DESENHANDO OS OBJETOS DE CADA QUADRINHO:

1 DEZENA DE GORROS:



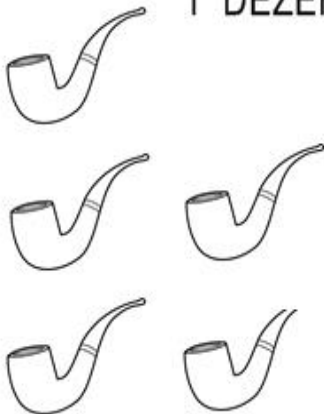
NÚMERO

1 DÚZIA DE ESPELHOS:



NÚMERO

1 DEZENA E 5 UNIDADES DE CACHIMBO:



NÚMERO

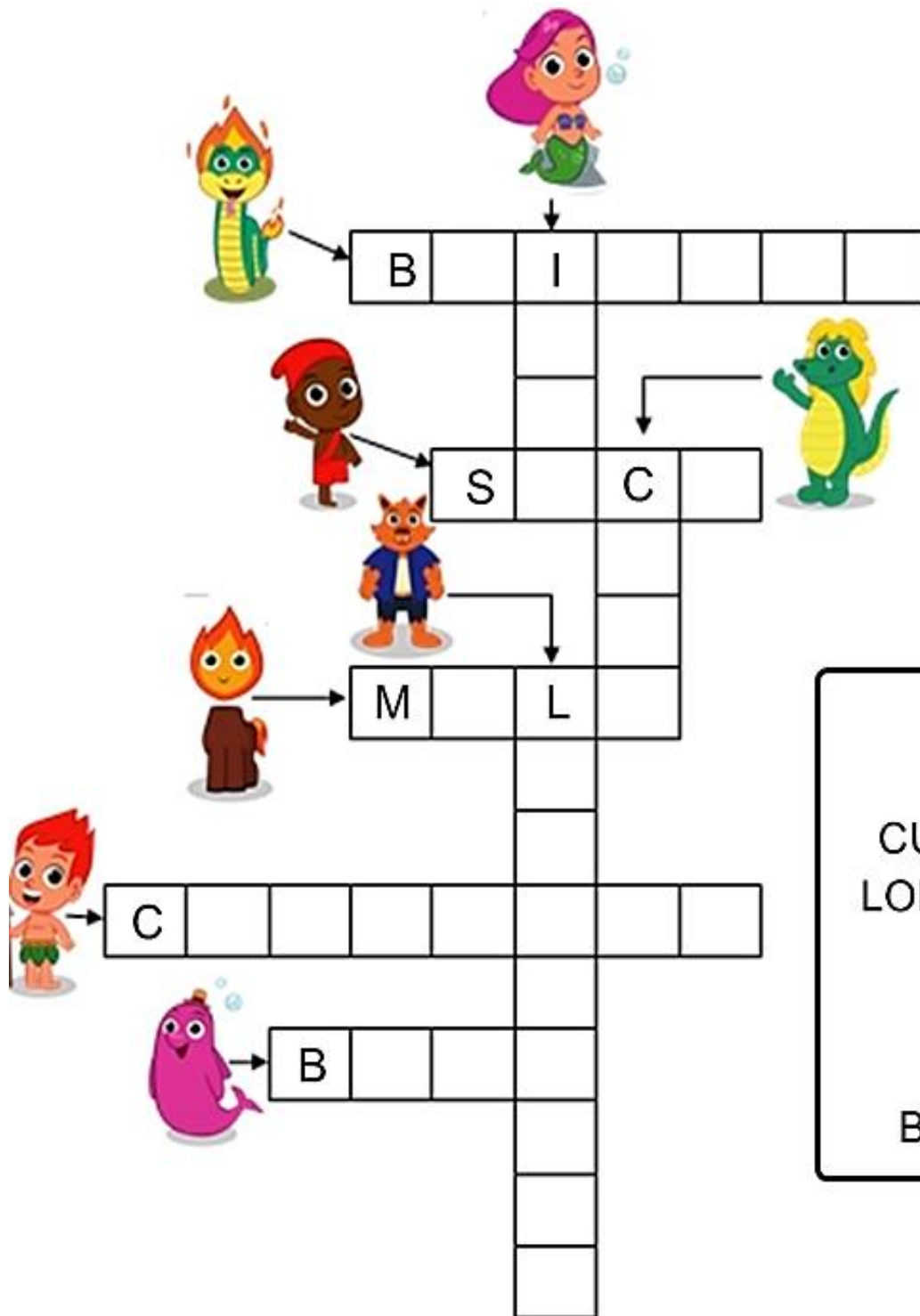
NOME: _____

DATA: 18/08/2021

LINGUA PORTUGUESA

(LEITURA E ESCRITA)

☞ COMPLETE A CRUZADINHA COM OS NOMES DOS PERSONAGENS DO FOLCLORE BRASILEIRO:



- BOTO
- MULA
- CURUPIRA
- LOBISOMEM
- CUCA
- SACI
- IARA
- BOITATÁ

NOME: _____ DATA: 19/08/2021

LINGUA PORTUGUESA

(LEITURA E ESCRITA)

👋 AGORA FAREMOS UM CAÇA PALAVRAS DO FOLCLORE, PORÉM TEMOS UM DESAFIO DIFERENTE, AS PALAVRAS QUE VOCÊ ENCONTRAR, VÃO COMPLETAR UMA LENDA FOLCLÓRICA, VAMOS LÁ?!

MULA-SEM-CABECA

DIZEM QUE A _____ SAI A _____

ATROPELANDO A TODOS QUE ENCONTRA PELA _____ E SÓ PARA DEPOIS DE ATRAVESSAR 7 _____.

QUANDO ESTÁ _____, O _____ SE DESFAZ E A MULA-SEM-CABEÇA VOLTA À FORMA ORIGINAL DE MULHER, ATÉ A PRÓXIMA NOITE DE _____ COM _____ CHEIA.

A	Q	W	F	W	R	L	U	A	T	Y	U	C
M	A	P	R	Z	X	C	V	B	N	M	J	I
A	S	L	E	Q	W	E	R	E	T	G	V	D
N	D	O	N	A	S	Z	X	C	V	A	D	A
H	F	K	T	S	E	E	R	T	F	L	V	D
E	G	M	E	D	R	R	Y	I	C	O	G	E
C	C	J	R	F	G	D	H	P	B	P	T	S
E	X	H	T	G	M	D	X	V	N	E	E	P
N	D	S	E	X	T	A	F	E	I	R	A	O
D	T	H	E	N	C	A	N	T	O	B	S	K
O	H	B	U	A	S	D	F	G	H	V	Z	I
M	U	L	A	S	E	M	C	A	B	E	Ç	A

*MULA-SEM-CABEÇA; GALOPE; FRENTE; CIDADES; AMANHECENDO; ENCANTO; SEXTA-FEIRA; LUA


NOME: _____

DATA: 20/08/2021

MATEMÁTICA

(NÚMEROS)

 NUMERE OS GORRINHOS DO SACI :



 QUANTOS GORROS TEM AO TODO?

 QUANTOS GORROS FALTAM PARA CHEGAR NO 50?

 JUNTE OS GORRINHOS DE 2 EM 2, E ESCREVA ABAIXO QUANTOS PARES VOCÊ FORMOU:

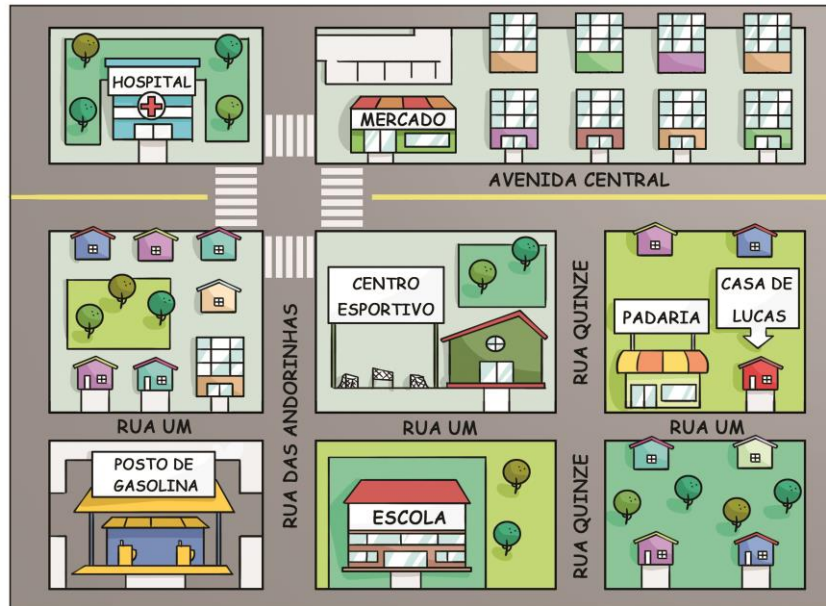
NOME: _____

DATA: 20/08/2021

GEOGRAFIA

(LOCALIZAÇÃO ESPACIAL)

👉 OBSERVE COM ATENÇÃO A IMAGEM ABAIXO, QUE REPRESENTA PARTE DO BAIRRO ONDE LUCAS MORA.



👉 MARQUE COM UM X A ALTERNATIVA QUE MOSTRA AS PALAVRAS QUE COMPLETAM CORRETAMENTE AS FRASES A SEGUIR.

- A CASA DE LUCAS ESTÁ _____ DO HOSPITAL.

LONGE	PERTO
-------	-------

- O POSTO DE GASOLINA ESTÁ À _____ DA ESCOLA.

DIREITA	ESQUERDA
---------	----------

- A ESCOLA ESTÁ _____ DA CASA DE LUCAS.

PERTO	LONGE
-------	-------

NOME: _____

DATA: 20/08/2021

HISTORIA

(COMUNIDADE E SEUS REGISTROS)

👉 OBSERVE A PINTURA DE IVAN CRUZ (2006) E ENCONTRE NO CAÇA-PALAVRAS AS BRINCADEIRAS FOLCLÓRICAS QUE ELE DESENHOU:



Q	W	P	I	Ã	O	R	R
C	O	R	D	A	H	G	O
P	Z	X	C	V	B	B	D
I	B	O	N	E	C	A	A
P	Q	W	E	R	T	Y	R
A	C	B	A	L	Ã	O	O
A	S	D	F	G	H	J	D
B	A	M	B	O	L	Ê	A

👉 ESCREVA AQUI A SUA BRINCADEIRA OU BRINQUEDO PREFERIDO:

NOME: _____

DATA: 23/08/2021

LINGUA PORTUGUESA

(LEITURA E ESCRITA)

☞ FAZEM PARTE DO NOSSO FOLCLORE AS BRINCADEIRAS E BRINQUEDOS POPULARES.

☞ LEIA AS FRASES E PINTE A QUE ESTÁ DE ACORDO COM A CENA RETRATADA NO DESENHO:



AS CRIANÇAS BRINCAM DE PETECA.

AS CRIANÇAS BRINCAM DE SOLTAR PIPA.



OS MENINOS JOGAM PIÃO.

OS MENINOS JOGAM BOLA.



AS CRIANÇAS BRINCAM DE ESTÁTUA.

AS CRIANÇAS BRINCAM DE CABRA-CEGA.

NOME: _____

DATA: 23/08/2021

LINGUA PORTUGUESA

(LEITURA E ESCRITA)

👉 OBSERVE OS DESENHOS E ESCREVA O NOME DE CADA BRINCADEIRA DE ACOORDO COM O BANCO DE PALAVRAS:



CABO DE GUERRA

BONECA

PETECA

PIPA

PULA CORDA


AMARELINHA

MATEMÁTICA

(NÚMEROS)

👉 AMARELINHA É UMA BRINCADEIRA POPULAR MUITO FAMOSA, VOCÊ JÁ BRINCOU?!

👉 OBSERVE A AMARELINHA ABAIXO, DUAS CRIANÇAS ESTAVAM BRINCANDO E ESQUECERAM DE COMPLETAR COM OS NÚMEROS, VAMOS COMPLETAR?



👉 AGORA ESCREVA ABAIXO O NOME DOS NÚMEROS QUE VOCÊ COMPLETOU NA AMARELINHA:

1- _____

6- _____

2- _____

7- _____

3- _____

8- _____

4- _____

9- _____

5- _____


10- _____

NOME: _____

DATA: 24/08/2021

MATEMÁTICA

(SITUAÇÕES PROBLEMAS)

 VAMOS RESOLVER OS PROBLEMINHAS ABAIXO SE PRECISAR VOCÊ PODE DESENHAR PARA FACILITAR AS CONTINHAS:

DONA CUCA MUITO ESPERTA
ENCHEU SEU CALDEIRÃO
11 ARANHAS E 12 SAPOS
PARA FAZER UMA POÇÃO!
QUANTOS ANIMAIS NO
CALDEIRÃO?

D	U



DESENHO:

O LEVADO DO SACI
MUITOS GORROS FOI COMPRAR
NA SEGUNDA FORAM 13
15 NA SEXTA PRA GUARDAR?
QUANTOS GORROS A SOMAR?

D	U



DESENHO:

NOME: _____

DATA: 25/08/2021

MATEMATICA

(NUMEROS)

👋 OBSERVE AS CRIANÇAS BRINCANDO DE "CIRANDA-CIRANDINHA". NA RODA HÁ 15 CRIANÇAS BRINCANDO:



👋 AGORA RESPONDA:

👋 QUANTOS PARES VOCÊ CONSEGUE FORMAR COM ESSA QUANTIDADE DE CRIANÇAS?

👋 DEPOIS DE FORMAR OS PARES, SOBROU ALGUMA CRIANÇA? SE SIM, QUANTAS?

👋 VOCÊ ACHA QUE O 15 É UM NÚMERO PAR OU ÍMPAR?

PAR	ÍMPAR
------------	--------------

👋 SE CHEGAREM MAIS 5 CRIANÇAS NA RODA QUANTAS CRIANÇAS TERÃO AO TOTAL?


20	30	16	18
-----------	-----------	-----------	-----------


NOME: _____


DATA: 25/08/2021

LINGUA PORTUGUESA

(LEITURA E ESCRITA)

 OS **DITADOS POPULARES** FAZEM PARTE DO NOSSO FOLCLORE E DO NOSSO COTIDIANO.

 VOCÊ JÁ DEVE TER OUVIDO ALGUÉM FALAR ALGUM DITADO POPULAR COMO **“ESTÁ PENSANDO NA MORTE DA BEZERRA”** OU **“ MAIS VALE UM PÁSSARO NA MÃO DO QUE DOIS VOANDO”**.

 VAMOS CONHECER MAIS ALGUNS, MAS ANTES VOCÊ DEVE COLOCÁ-LOS EM ORDEM.

 **ADIANTA/ NÃO/ LEITE/ DERRAMADO./ PELO / CHORAR**

 **SÓ/ UMA/ VERÃO./ ANDORINHA/ FAZ/ NÃO**

 **ESPANTA./ QUEM/ MALES/ CANTA/ SEUS**

 **SEGURO/ O/ VELHO./ DE/ MORREU**

NOME: _____

DATA: 26/08/2021

LINGUA PORTUGUESA

(LEITURA E ESCRITA)



VAMOS DECIFRAR AS ADIVINHAS ABAIXO, ESCREVER A RESPOSTA E DEPOIS DESENHAR. CAPRICHE!

MIL TRAVESSURAS POR DIA
É UM MENINO LEVADO
GORRO VERMELHO NA CABEÇA
PERALTA, MAS NÃO É MALVADO!

CANTA E ENCANTA PESCADORES
MUITO BELA, MEIGA E VAIDOSA
ZELA PELOS RIOS E MARES
METADE PEIXE, MAS GRACIOSA!

AMIGO DOS ANIMAIS
DAS MATAS VIVE A CUIDAR
MESMO COM PÉS VIRADOS
NÃO DEIXA NINGUÉM CAÇAR!







NOME: _____

DATA: 26/08/2021

MATEMÁTICA

(GRÁFICOS E TABELAS)

👉 OBSERVE A TABELA ABAIXO COM AS COORDENADAS PARA ACHAR OS BRINQUEDOS:

4				
3				
2				
1				
	A	B	C	D

👉 ESCREVA ABAIXO O NOME DO BRINQUEDO DE ACORDO COM AS COORDENADAS:

A1: _____

B2: _____

C3: _____

D4: _____

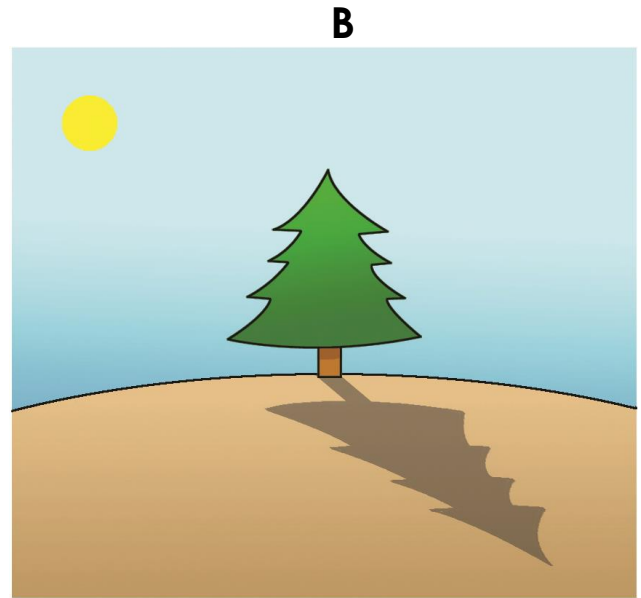
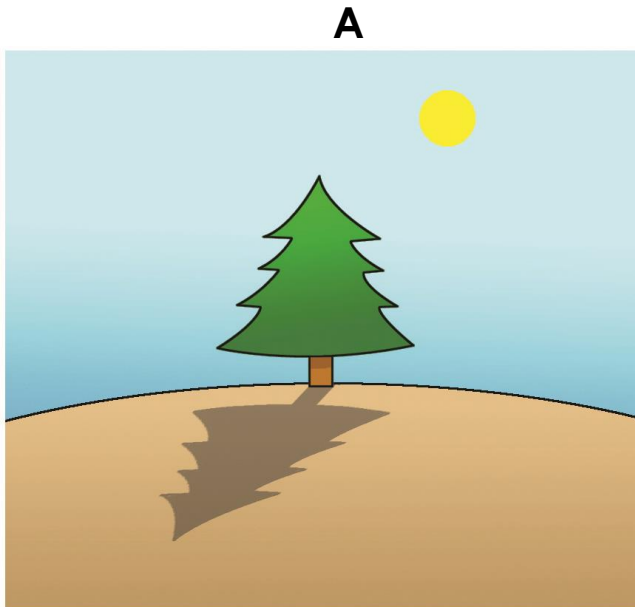
👉 AGORA É SUA VEZ FAÇA O DESENHO DE UMA BOLA NA COORDENADA **A4**

NOME: _____

DATA: 27/08/2021

CIÊNCIAS
(MATERIA E ENERGIA)

👉 OBSERVE AS IMAGENS DE UMA ÁRVORE EM DIFERENTES HORÁRIOS DO DIA.



👉 AS IMAGENS REVELAM QUE, DURANTE O DIA, AS SOMBRAS:

👉 () NÃO SE ALTERAM.

👉 () MUDAM DE POSIÇÃO E DE TAMANHO.

👉 () AUMENTAM ATÉ O MEIO-DIA.

👉 () MUDAM DE FORMATO, MAS NÃO DE POSIÇÃO.


NOME: _____

DATA: 27/08/2021

ARTES

(RELEITURA)

- 👉 OBSERVE A PINTURA DE TARSILA DO AMARAL "A CUCA" PINTADA EM 1922.
- 👉 OBSERVE AS CORES E AS FORMAS QUE PINTORA USOU PARA CONSTRUIR ESSA IMAGEM, DEPOIS TENHA TENTE REPRODUZIR A PINTURA DESSA OBRA DE ARTE!



ANEXO 1

“NO MUNDO DA LEITURA”



NOME: _____

NOME DO LIVRO: _____

NOME DO AUTOR(A) DO LIVRO: _____

DATA: ___/___/___

DESENHE A PARTE DO LIVRO QUE VOCE MAIS GOSTOU

PINTE A CARINHA DE ACORDO COM O QUE VOCÊ ACHOU DO LIVRO



ANEXO II

LIVRO UTILIZADO

CURUPIRA, BRINCA COMIGO – LÔ CARVALHO



[CURUPIRA BRINCA COMIGO.pdf](#)

REFERENCIAS

- ◆ IMAGENS UTILIZADAS DO GOOGLE:

https://www.google.com/search?q=GOOGLE&rlz=1C1SQJL_enBR882BR882&oq=GOOGLE&aqs=chrome..69i57j69i59j69i60l4j69i65l2.1452j0j9&sourceid=chrome&ie=UTF-8

- ◆ LIVRO UTILIZADO PARA O PROJETO “NO MUNDO DA LEITURA” DISPONIVEL EM:

[CURUPIRA BRINCA COMIGO.pdf](#)

- ◆ ATIVIDADES ADAPTADAS COM BASE NO LIVRO “APRENDER SEMPRE” – VOL. 1